

المادة : رياضيات
التاريخ : 2018 / 5 / 7

الموضوع : المساحة
ورقة عمل رقم (3)
المعلمة : نها قلعه جي



العام الدراسي 2017-2018
الفصل الدراسي الثالث

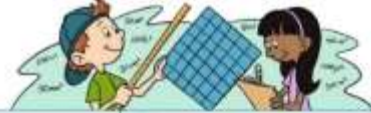
دولة الإمارات العربية المتحدة

دائرة التعليم والمعرفة

الإسم :
الصف: الثاني، الشعبة:

مؤشرات الأداء : أن يعد المربعات لوصف المساحة .

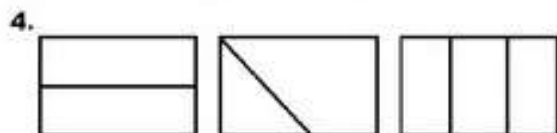
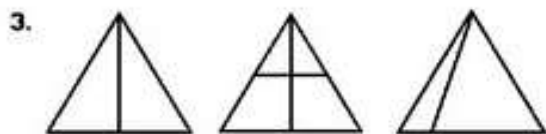
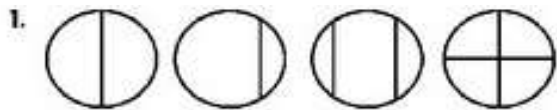
السؤال الأول : أعد المربعات لوصف المساحة :



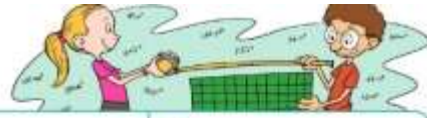
1	2	3	4
_____	_____	_____	_____
5	6	7	8
_____	_____	_____	_____

www.almanahj.com

السؤال الثاني : أحوط الأجزاء المتساوية :



السؤال الثالث: أقسم الأشكال لإيجاد المساحة:



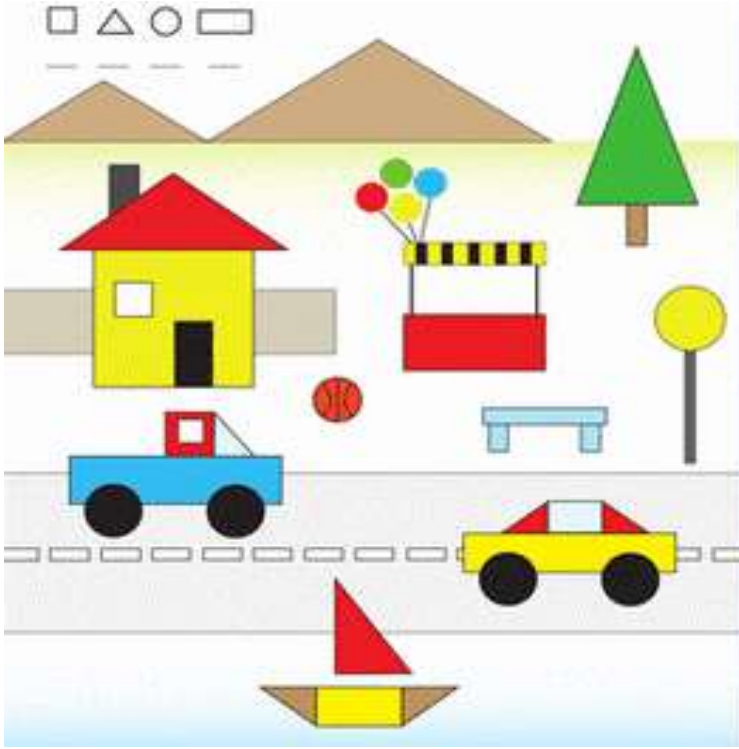
1 3 2 _____	2 5 5 = _____	3 3 9 = _____	4 8 2 = _____
5 6 3 _____	6 4 6 = _____	7 10 10 = _____	8 10 5 = _____

السؤال الرابع: أصف الأجزاء المتساوية:

1 	2 	3
4 	5 	6
7 	8 	9

السؤال الخامس: أقسم الأشكال إلى أجزاء متساوية:

السؤال السادس: أكتشف عدد المستطيلات والدوائر والمثلثات والمربعات



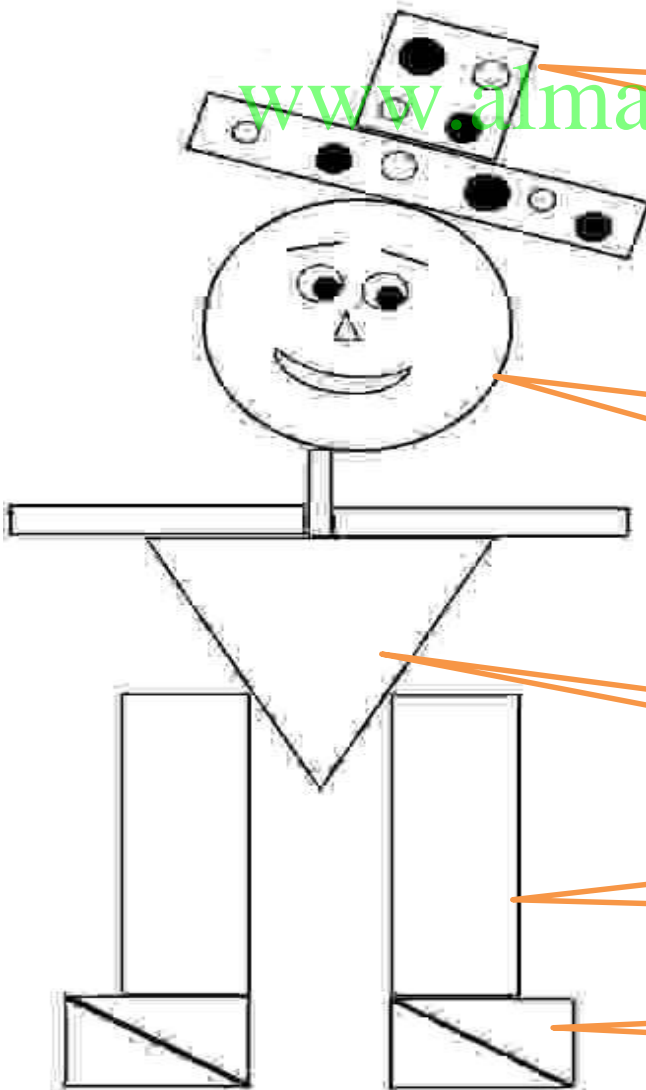
.....

.....

.....

.....

السؤال السابع:



قبعتي فيها
دوائر.....
مستطيلات.....
مربعات.....

وجهي فيه
دوائر.....
مستطيلات.....
مربعات.....
مثلثات

جسمي
فيه.....

أرجلي
فيها.....

أقدامي فيها.....