

يمكنك الحصول على جميع الملفات من أوراق عمل وامتحانات ومذكرات وملخصات لجميع الصفوف وجميع المواد الخاصة بالمنهاج الإماراتي من خلال الرابط التالي

<https://www.almanahj.com>

كما يمكنك الحصول على جميع الملفات لجميع الفصول عبر تحميل تطبيق المناهج من خلال الرابط التالي:

<https://play.google.com/store/apps/details?id=com.almanahj.UAEapplication>

يمكنك الحصول على جميع الروابط الخاصة بمجموعات المناهج الإماراتية على مواقع التواصل الاجتماعي واتساب وفيسبوك وتلغرام من خلال الدخول على الرابط التالي:

<http://t.me/almanahj>



اسمي الجميل :
شعبة :

أوراق عمل: الوحدة 9 (تغيرات الطقس)

إنسخ رابط القناة في
تليغرام
t.me/MB6MB

السؤال الأول / وصل بين الطقس ومفهومه:

هو الغلاف الجوي المتساقط

حالة الجو في مكان معين خلال يوم أو عدة أيام

يحدد الحيز الذي يحتله جسم ما .

الطقس

السؤال الأول / اكمل الفراغ :

..... هو حالة الجو في مكان معين خلال يوم أو عدة أيام.

السؤال الأول/ عندما يصف أحمد حالة الجو في يوم الاختبار فإنه يتحدث عن :

المادة

الطقس

الكثف

الضغط

السؤال الأول / اكتب مفهوماً صحيحاً للطقس و

الطقس هو :

السؤال الأول/ اكمل الفراغ التالي بكلمة مناسبة :

..... هو مفهوم الجو في مكان معين من خلال يوم أو عدة أيام

السؤال الأول/ اكتب المفهوم العلمي الدال على العبارة التالية:

حالة الجو في مكان معين خلال يوم أو عدة أيام. (.....)

السؤال الأول/ أكمل الفراغ التالي ؟

الطقس هو حالة في معين خلال يوم أو عدة أيام .

السؤال الأول/ ضع دائرة حول الإجابة الصحيحة

حالة الجو في مكان معين خلال يوم أو عدة أيام مفهوم ل.....

ب - المطول

أ - الضغط الجوي

د - الغلاف الجوي

ج - الطقس

السؤال الأول / (ورد في النشرة الجوية أن حالة الجو مشمس لهذا اليوم)
هذا المفهوم يدل على :

الرياح

الطقس

الضغط الجوي

السؤال الأول/ ضع دائرة حول الإجابة الصحيحة:

هو حالة الجو في مكان معين خلال يوم أو عدة أيام.

١ - الطقس

٢ - الحرارة

٣ - الغيمة

السؤال الأول/ وصل بين الطقس ومفهومه:

هو الغلاف الجوي المتساقط

حالة الجو في مكان معين خلال يوم أو عدة أيام

يحدد الحيز الذي يحتله جسم ما .

الطقس

السؤال الثاني / صل بين العمود الاول وما يناسبه من العمود الثاني:

الجبال

الرياح

الهطول

الضوء

من العناصر التي تحدد حالة الطقس

السؤال الثاني / لون العناصر التي تحدد حالة الطقس خلال اليوم ؟

موج
البحر

درجة
الحرارة

ظهور
القمر

الهطول

شروق
الشمس

الرياح

السؤال الثاني / اختر من المجموعات التالية العناصر التي تحدد حالة الطقس بوضع دائرة حول الإجابة الصحيحة :

١. (الرياح - الضغط - المطر)
٢. (السحب - المناخ - المطر)
٣. (الرياح - العواصف - البحر)

السؤال الثاني / اكمل العناصر التي تحدد حالة الطقس خلال يوم :

درجة الحرارة

السؤال الثاني / صل العبارة بالعناصر المؤثرة فيها:

الرياح

العناصر التي تحدد حالة الطقس

الحرارة




النبات

الجبال

الضغط الجوي

* اكتب الكلمة المناسبة التي تدل علي كل صورة:

[البارومتر - مقياس المطر - دوارة الرياح - مقياس درجة الحرارة]



() () () ()

* ضع رقم المصطلح أمام التعريف المناسب :

- 1 الهطول () مقياس مدي سخونة الجسم أو برودته .
- 2 الغلاف الجوي () الهواء المتحرك .
- 3 درجة الحرارة () غطاء من الغازات ودقائق الأتربة التي تحيط بالأرض .
- 4 الضغط الجوي () الماء الذي يسقط علي الأرض من الغلاف الجوي .
- 5 الرياح () وزن الهواء الذي يضغط علي الأرض .

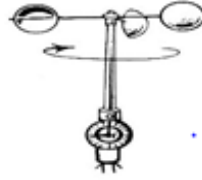
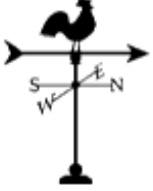


الصف : الثالث ()

العالم الصغير :

الوحدة التاسعة : تغيرات الطقس
الدرس : الطقس

السؤال الأول : صل بين الأداة و استخدامها



يستخدم لقياس
سرعة تحرك
الهواء






يستخدم لقياس
كمية الهطول

يستخدم للإشارة
لقياس ضغط الهواء

يستخدم لقياس
درجة الحرارة

يستخدم للإشارة إلى
اتجاه الرياح

السؤال الثاني : أكتب في الدوائر عناصر الطقس



السؤال الثالث : اكتب الناقص

أنواع السحب

1- الطبقيّة

----- 2

----- 3

أنواع الطقس القاسي

----- 1

----- 2

3- أعاصير بحرية