


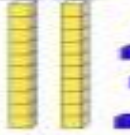
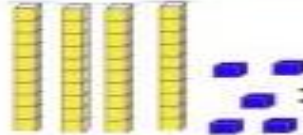


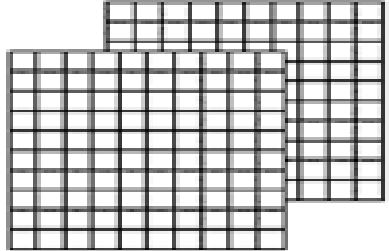
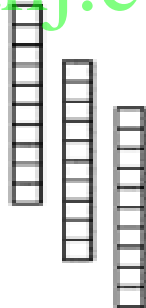




مراجعة الوحدة 5

انظر الشكل ثم اكتب كما في المثال التالي :

 = 10	 = 1	 = 34
 = _____	 = _____	
 = _____	 = _____	

انظر الشكل ثم اكتب العدد:




مئات	عشرات	آحاد

مراجعة الوحدة 5

ضع دائرة على الشكل الذي يحدده الرقم


1. 346




2. 273



3. 146



4. 433



مراجعة الوحدة 5

اكتب العدد

العدد هو:

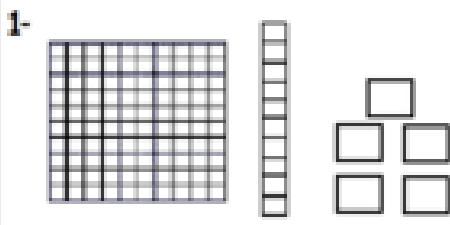
www.almanahj.com

اكتب العدد

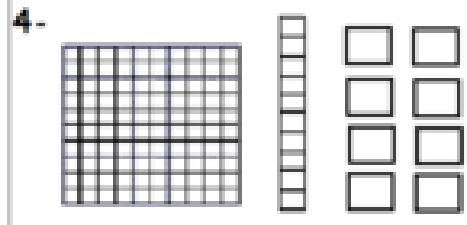
العدد هو:



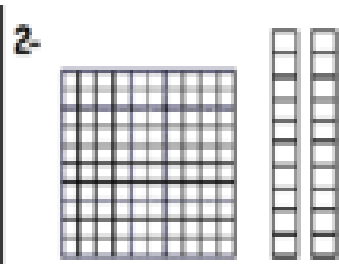
اكتب عدد المئات والعشرات والآحاد



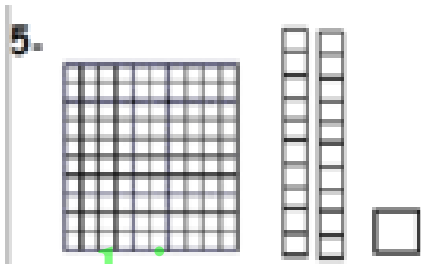
مئات ----- عشرات ----- آحاد -----



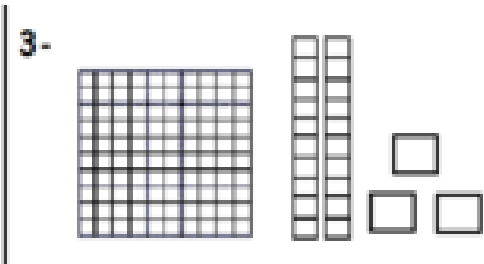
مئات ----- عشرات ----- آحاد -----



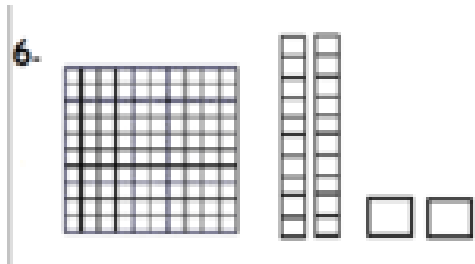
مئات ----- عشرات ----- آحاد -----



مئات ----- عشرات ----- آحاد -----


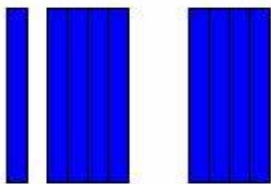


مئات ----- عشرات ----- آحاد -----



مئات ----- عشرات ----- آحاد -----

اكتب العدد



مراجعة الوحدة 5

انظر للمئات ثم اكتب العدد ثم اكتبه بالحروف









www.almanahj.com



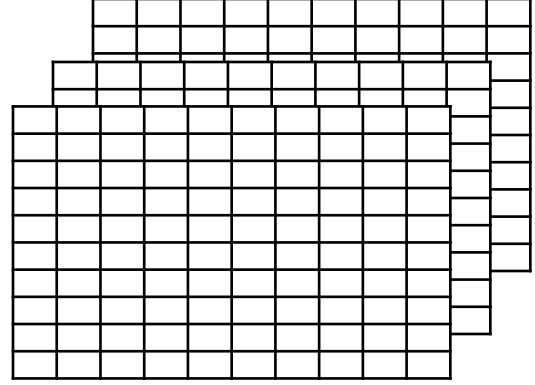







مراجعة الوحدة 5

اكتب عدد المئات والعشرات والآحاد




----- مئات = ----- عشرات = ----- آحاد

www.almanahj.com



----- مئات = ----- عشرات = ----- آحاد

----- مئات = ----- عشرات = ----- آحاد



مراجعة الوحدة 5

اكتب عدد المئات والعشرات والآحاد

$$\text{آحاد} \text{-----} = 300$$

$$\text{عشرات} \text{-----} = 600$$

$$\text{عشرات} \text{-----} = 900$$

$$\text{مئات} \text{-----} = 700$$

لدى هند 8 أكياس ويوجد بكل كيس 100 حبة خرز . كم عدد مئات حبات الخرز التي لدى هند ؟

مئات -----

www.almanahj.com

710

حوظ حول الرقم الذي يمثل المئات

561

حوظ حول الرقم الذي يمثل العشرات

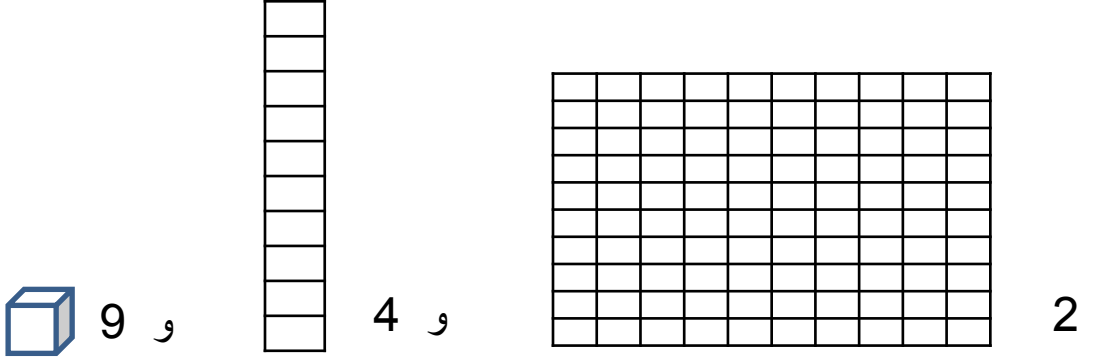
ضع خطأً على الآحاد وخطأً مزدوجاً على العشرات وحوظ حول الرقم الذي يمثل المئات

283

مراجعة الوحدة 5

اكتب عدد المئات والعشرات والآحاد ثم اكتب العدد:

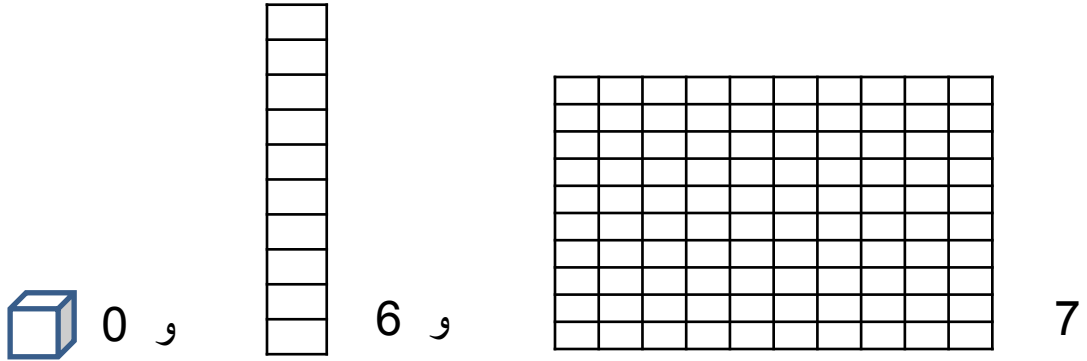
و 9 و 4 و 2



المئات	العشرات	الآحاد

www.almanahj.com

و 0 و 6 و 7



المئات	العشرات	الآحاد

مراجعة الوحدة 5

اكتب عدد المئات والعشرات والآحاد

876 = _____ مئات ، _____ عشرات ، _____ آحاد

463 = _____ مئات ، _____ عشرات ، _____ آحاد

105 = _____ مئات ، _____ عشرات ، _____ آحاد

يوجد 3 مئات و 1 آحاد وعدد العشرات هو الرقم الواقع بين عدد الآحاد و عدد
المئات . فما العدد ؟

www.almanahj.com

كتب أحمد ملخص عن حالة الطقس وبلغ عدد الصفحات التي لديه 1 مئات و 4
عشرات و 6 آحاد . كم عدد صفحات الملخص الذي كتبه ؟

اختر الإجابة الصحيحة :

يحتوي عدد على 7 عشرات و 3 آحاد و 9 مئات
ما هذا العدد ؟

739



937



973



397



مراجعة الوحدة 5

اكتب العدد بالصيغة الموسعة

5 مئات و 0 عشرات و 3 آحاد

$$\underline{\hspace{2cm}} + \underline{\hspace{2cm}} + \underline{\hspace{2cm}} = \underline{\hspace{2cm}}$$

7 مئات و 1 عشرات و 6 آحاد

$$\underline{\hspace{2cm}} + \underline{\hspace{2cm}} + \underline{\hspace{2cm}} = \underline{\hspace{2cm}}$$

www.almanahj.com

$$723 = \underline{\hspace{2cm}} + \underline{\hspace{2cm}} + \underline{\hspace{2cm}}$$

$$691 = \underline{\hspace{2cm}} + \underline{\hspace{2cm}} + \underline{\hspace{2cm}}$$

حوظ حول قيمة الرقم الذي تحته خط

698

900

90

9

568

800

80

8

مراجعة الوحدة 5

اقرأ العدد ثم اكتب العدد :

خمسمائة وعشرة

أربعمائة و عشرون

أربعمائة وأربعة وسبعون

www.almanahj.com

مئتان وستة وثمانون

ألف

خمسون

تسعة عشر

ستمائة و ثلاثة عشر

مراجعة الوحدة 5

اقرأ العدد ثم اكتب العدد بالحروف :

432

561

918

231

www.almanahj.com

اكتب الأعداد الناقصة ، ثم اكتب نمط العدد

400 , 410 , _____ , 430 , _____

النمط هو _____

755 , _____ , 555 , 455 , _____

النمط هو _____

200 , 300 , 400 , _____ , _____

النمط هو _____

134 , _____ , _____ , 164 , 174

النمط هو _____

مراجعة الوحدة 5

اختر الإجابة الصحيحة

حدد نمط الأعداد الذي يمثل العد بمقدار 10 تنازلياً :

710 , 720 , 730 , 740



300 , 400 , 500 , 600



260 , 250 , 240 . 230




455 , 460 , 465 , 470



قارن بين الأعداد ثم اكتب > أو < أو =

661




665

321




345

754




754

990




900

512




519

410




410

414



441

509



505

مراجعة الوحدة 6

اجمع :

$$\begin{array}{r} 200 \\ + 300 \\ \hline \end{array}$$

$$\begin{array}{r} 500 \\ + 200 \\ \hline \end{array}$$

$$\begin{array}{r} 600 \\ + 300 \\ \hline \end{array}$$

$$\begin{array}{r} 134 \\ + 470 \\ \hline \end{array}$$

$$\begin{array}{r} 543 \\ + 260 \\ \hline \end{array}$$

$$\begin{array}{r} 207 \\ + 22 \\ \hline \end{array}$$

أعد كتابة المسائل . اجمع

$$456 + 271$$

$$245 + 355$$

$$550 + 190$$

+ _____

+ _____

+ _____

جمع أحمد 210 طابع بريدي . وجمع علي 100 طابع . فكم عدد الطوابع التي
جمعاها إجمالاً ؟

طابع بريدي -----



مراجعة الوحدة 6

أعدت شيخة 135 قطة من الحلوى وأعدت فاطمة 166 قطعة من الحلوى .
فكم عدد قطع الحلوى التي أعدتها كل من شيخة وفاطمة إجمالاً؟

قطعة حلوى -----

كون مئة لإجراء عملية جمع :

$$234 + 99$$

$$\text{-----} + \text{-----} + 99$$

$$233 + \text{-----} = \text{-----}$$

$$234 + 99 = \text{-----} \text{ إذاً}$$

$$75 + 195$$

$$\text{-----} + \text{-----} + 195$$

$$70 + \text{-----} = \text{-----}$$

$$75 + 195 = \text{-----} \text{ إذاً}$$

أوجد حاصل الجمع

$$600 + 100 = \text{-----}$$

800



700



7



80



مراجعة الوحدة 6

أوجد الحد الجمعي الناقص

$387 + \text{-----} = 457$

$\text{-----} + 10 = 569$

$102 + \text{-----} = 112$

$\text{-----} + 100 = 832$

أوجد ناتج الجمع

$326 + 100 = \text{-----}$

426



525



320



436



www.almanahj.com

اجمع :

مئات	عشرات	آحاد
	<input type="text"/>	
3	4	6
+	2	4

مئات	عشرات	آحاد
	<input type="text"/>	
1	2	9
+	7	5

اجمع :

	3	2	8
+	4	9	1
<hr/>			

$$\begin{array}{r} 390 \\ + 133 \\ \hline \end{array}$$

$$\begin{array}{r} 100 \\ + 600 \\ \hline \end{array}$$

$$\begin{array}{r} 765 \\ + 20 \\ \hline \end{array}$$

$$\begin{array}{r} 190 \\ + 143 \\ \hline \end{array}$$

www.almanahj.com

$$727 + 200 = \underline{\hspace{2cm}}$$

$$523 + 10 = \underline{\hspace{2cm}}$$

$$300 + 0 = \underline{\hspace{2cm}}$$

$$500 + 300 = \underline{\hspace{2cm}}$$

أوجد الحد الجمعي الناقص :

$$345 + \underline{\hspace{2cm}} = 359$$

$$789 + \underline{\hspace{2cm}} = 853$$

مراجعة الوحدة 6

عدت مريم 328 كرة صغيرة . وعدت هند عدداً أكبر من الكرات الصغيرة التي عدتها مريم بمقدار 100 كرة صغيرة . كم عدد الكرات الصغيرة التي عدتها هند ؟

100



428



128



228



يجب على فهد قراءة أربع كتب بإجمالي 600 صفحة . ما الكتب الأربعة التي يجب عليه قراءتها ؟

الصفحات	الكتاب
180	1
130	2
135	3
100	4
155	5

الكتب رقم _____ و _____ و _____ و _____

أعد كتابة المسائل . اجمع

$$653 + 123$$

$$+$$

$$433 + 272$$

$$+$$

فك المئات للطرح :

$$500 - 98$$



$$\underline{\hspace{2cm}} - 98 = \underline{\hspace{2cm}}$$

$$\underline{\hspace{2cm}} + \underline{\hspace{2cm}} = \underline{\hspace{2cm}}$$

$$500 - 98 = \text{إذاً} \text{-----}$$

$$324 - 96$$



$$\underline{\hspace{2cm}} - 96 = \underline{\hspace{2cm}}$$

$$\underline{\hspace{2cm}} + \underline{\hspace{2cm}} = \underline{\hspace{2cm}}$$

$$324 - 96 = \text{إذاً} \text{-----}$$

www.almanahj.com

كان في مسرح المدرسة 372 طالباً . غادر 99 طالباً . فكم عدد الطلاب الذين لا يزالون في المسرح ؟

طالباً _____

كيف يمكنك تفكيك 244 لحل 244 - 95

244 و 100



144 و 95



144 و 100



200 و 44



اطرح

$$\begin{array}{r} 593 \\ + 200 \\ \hline \end{array}$$

$$\begin{array}{r} 642 \\ - 10 \\ \hline \end{array}$$

$$\begin{array}{r} 786 \\ - 100 \\ \hline \end{array}$$

$$587 - \underline{\quad\quad\quad} = 387$$

$$954 - \underline{\quad\quad\quad} = 942$$

$$800 - 500 = \underline{\quad\quad\quad} \quad 900 - 300 = \underline{\quad\quad\quad}$$

www.almanahj.com

أوجد ناتج $400 - 400$

900

800

0

100

أوجد ناتج $700 - 200$

200

500

300

400

مراجعة الوحدة 7

أعد كتابة المسألة . ا طرح .

$$764 - 214$$

$$831 - 548$$

ا طرح

$$\begin{array}{r} 346 \\ + 179 \\ \hline \end{array}$$

$$\begin{array}{r} 887 \\ - 399 \\ \hline \end{array}$$

$$\begin{array}{r} 202 \\ - 134 \\ \hline \end{array}$$

جمعت هدى 524 درهم واشترت لعبة . والآن أصبح لديها 315 درهم . فكم عدد الدراهم المتبقية لدى هدى ؟

درهم _____

يوجد 236 حافلة مدرسة في موقف الحافلات ثم تحركت حافلات المدرسة وظلت 98 حافلة في الموقف كم عدد الحافلات المتحركة

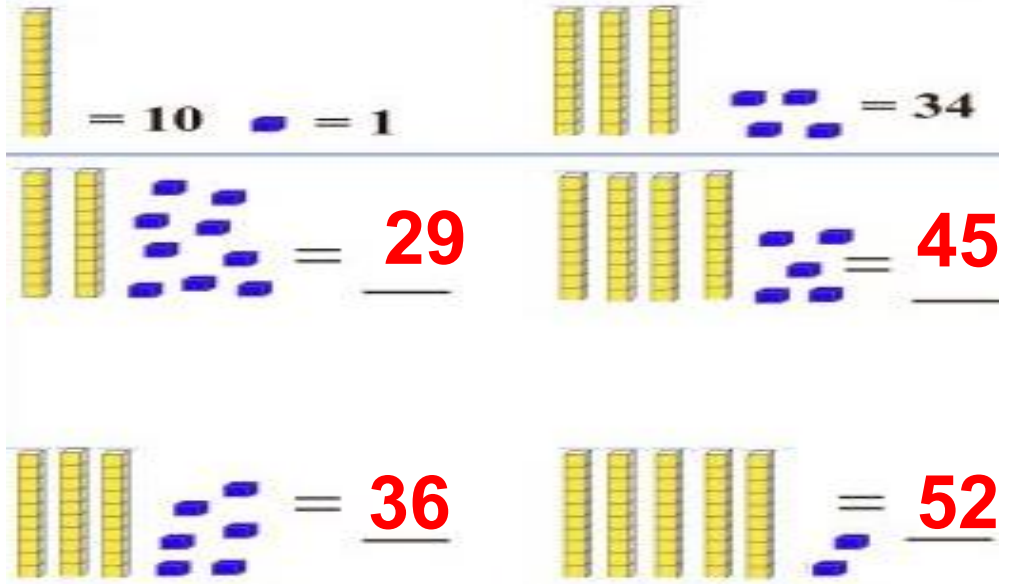
139

137

136


138

انظر الشكل ثم اكتب كما في المثال التالي :



انظر الشكل ثم اكتب العدد:


28	30	3




مئات	عشرات	آحاد
3	4	8

ضع دائرة على الشكل الذي يحدده الرقم


1. 346




2. 273



3. 146



4. 433



اكتب العدد

العدد هو :

565

www.almanahj.com

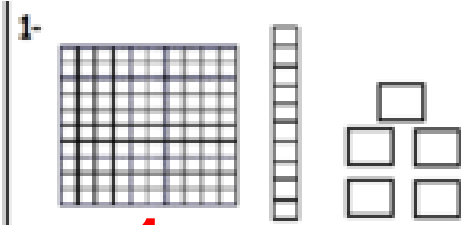
اكتب العدد

العدد هو :

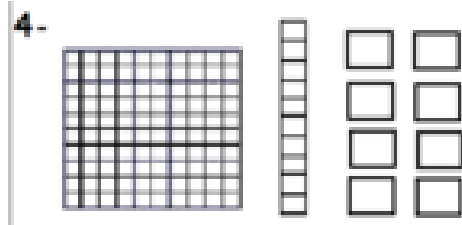
999



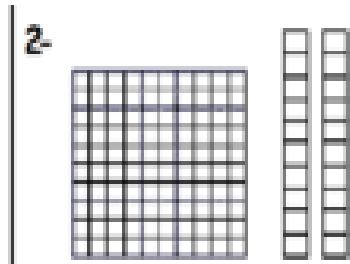
اكتب عدد المئات والعشرات والآحاد



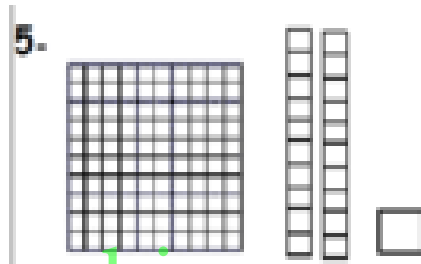
1 --- مئات
1 --- عشرات
5 --- آحاد



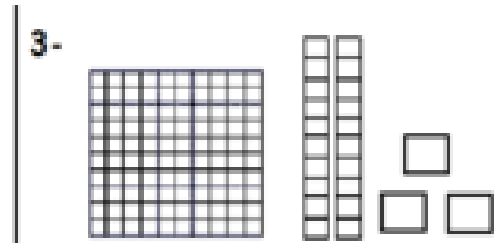
1 --- مئات
1 --- عشرات
8 --- آحاد



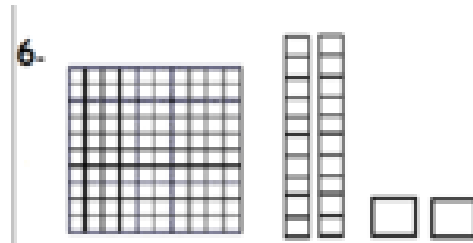
1 --- مئات
20 --- عشرات
0 --- آحاد



1 --- مئات
2 --- عشرات
1 --- آحاد

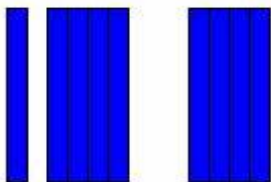



1 --- مئات
2 --- عشرات
3 --- آحاد




1 --- مئات
2 --- عشرات
2 --- آحاد

اكتب العدد




191



87

انظر للمئات ثم اكتب العدد ثم اكتبه بالحروف



800

ثمانمائة



500

خمسمائة



900


تسعمائة

www.almanahj.com



700

سبعمائة




600

ستمائة



300

ثلاثمائة



200

مئتان

اكتب عدد المئات والعشرات والآحاد

3 --- مئات = 30 --- عشرات = 300 --- آحاد

www.almanahj.com

5 --- مئات = 50 --- عشرات = 500 --- آحاد

1 --- مئات = 10 --- عشرات = 100 --- آحاد

اكتب عدد المئات والعشرات والآحاد

$$\text{آحاد } \underline{\underline{300}} = 300$$

$$\text{عشرات } \underline{\underline{60}} = 600$$

$$\text{عشرات } \underline{\underline{90}} = 900$$

$$\text{مئات } \underline{\underline{7}} = 700$$

لدى هند 8 أكياس ويوجد بكل كيس 100 حبة خرز . كم عدد مئات حبات الخرز التي لدى هند ؟

$$\text{مئات } \underline{\underline{800}}$$

www.almanahj.com

710

حوط حول الرقم الذي يمثل المئات

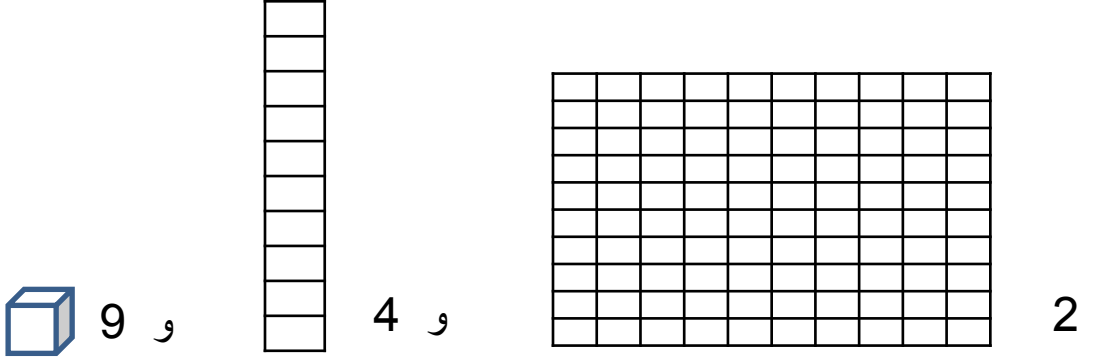
561

حوط حول الرقم الذي يمثل العشرات

ضع خطأً على الآحاد وخطأً مزدوجاً على العشرات وحوط حول الرقم الذي يمثل المئات

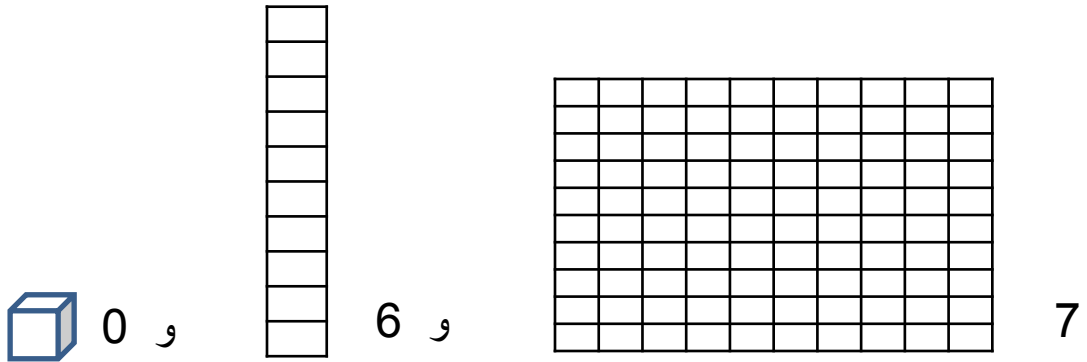
283

اكتب عدد المئات والعشرات والآحاد ثم اكتب العدد:



المئات	العشرات	الآحاد
2	4	9

249



المئات	العشرات	الآحاد
7	6	0

760

اكتب عدد المئات والعشرات والآحاد

876 = 8 مئات ، 7 عشرات ، 6 آحاد

463 = 4 مئات ، 6 عشرات ، 3 آحاد

105 = 1 مئات ، 0 عشرات ، 5 آحاد

يوجد 3 مئات و 1 آحاد وعدد العشرات هو الرقم الواقع بين عدد الآحاد و عدد
المئات . فما العدد ؟

2 عشرات 321
www.almanahj.com

كتب أحمد ملخص عن حالة الطقس وبلغ عدد الصفحات التي لديه 1 مئات و 4
عشرات و 6 آحاد . كم عدد صفحات الملخص الذي كتبه ؟

146

اختر الإجابة الصحيحة :

يحتوي عدد على 7 عشرات و 3 آحاد و 9 مئات
ما هذا العدد ؟

739



937



973



397



اكتب العدد بالصيغة الموسعة

5 مئات و 0 عشرات و 3 آحاد

$$\underline{500} + \underline{0} + \underline{3} = \underline{503}$$

7 مئات و 1 عشرات و 6 آحاد

$$\underline{700} + \underline{10} + \underline{6} = \underline{716}$$

www.almanahj.com

$$723 = \underline{700} + \underline{20} + \underline{3}$$

$$691 = \underline{600} + \underline{90} + \underline{1}$$

حوظ حول قيمة الرقم الذي تحته خط

698

900

90

9

568

800

80

8

اقرأ العدد ثم اكتب العدد :

خمسمائة وعشرة

510

أربعمائة و عشرون

420

أربعمائة وأربعة وسبعون

474

مئتان وستة وثمانون

286

ألف

1000

خمسون

50

تسعة عشر

19

ستمائة و ثلاثة عشر

613

اقرأ العدد ثم اكتب العدد بالحروف :

432 أربعمائة واثنان وثلاثون

561 خمسمائة وواحد وستون

918 تسعمائة وثمانية عشر

231 مئتان وواحد وثلاثون

www.almanahj.com

اكتب الأعداد الناقصة ، ثم اكتب نمط العدد

400 , 410 , 420 , 430 , 440

10 تصاعدياً النمط هو

755 , 655 , 555 , 455 , 355

100 تنازلياً النمط هو

200 , 300 , 400 , 500 , 600

100 تصاعدياً النمط هو

135 , 140 , 145 , 150 , 155

5 تصاعدياً النمط هو

اختر الإجابة الصحيحة
حدد نمط الأعداد الذي يمثل العد بمقدار 10 تنازلياً :

710 , 720 , 730 , 740



300 , 400 , 500 , 600



260 , 250 , 240 . 230

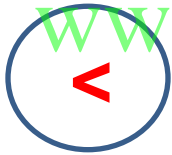


455 , 460 , 465 , 470



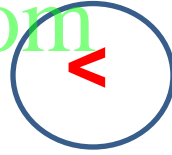
قارن بين الأعداد ثم اكتب > أو < أو =

661



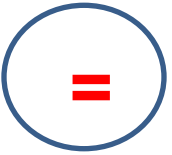
665

321




345

754




754

990



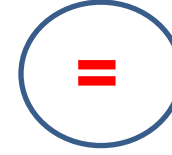
900

512




519

410




410

414



441

509



505

اجمع :

$$\begin{array}{r} 200 \\ + 300 \\ \hline 500 \end{array}$$

$$\begin{array}{r} 500 \\ + 200 \\ \hline 700 \end{array}$$

$$\begin{array}{r} 600 \\ + 300 \\ \hline 900 \end{array}$$

$$\begin{array}{r} 134 \\ + 470 \\ \hline 604 \end{array}$$

$$\begin{array}{r} 543 \\ + 260 \\ \hline 803 \end{array}$$

$$\begin{array}{r} 207 \\ + 22 \\ \hline 229 \end{array}$$

أعد كتابة المسائل . اجمع

$$456 + 271$$

$$\begin{array}{r} 456 \\ + 271 \\ \hline 727 \end{array}$$

www.almanahj.com

$$245 + 355$$

$$\begin{array}{r} 245 \\ + 355 \\ \hline 600 \end{array}$$

$$550 + 190$$

$$\begin{array}{r} 550 \\ + 190 \\ \hline 740 \end{array}$$

جمع أحمد 210 طابع بريدي . وجمع علي 100 طابع . فكم عدد الطوابع التي جمعها إجمالاً ؟

$$210 + 100 = 310$$

طابع بريدي ----- **310**



أعدت شيخة 135 قطة من الحلوى وأعدت فاطمة 166 قطعة من الحلوى .
فكم عدد قطع الحلوى التي أعدتها كل من شيخة وفاطمة إجمالاً؟

قطعة حلوى **301**

$$\begin{array}{r} 11 \\ 135 \\ + 166 \\ \hline 301 \end{array}$$

كون مئة لإجراء عملية جمع :

$$\begin{array}{r} 234 + 99 \\ \swarrow \quad \searrow \\ 233 + \underline{1} + 99 \\ \hline 233 + \underline{100} = \underline{333} \end{array}$$

$$234 + 99 = \underline{333} \text{ إذاً}$$

$$\begin{array}{r} 75 + 195 \\ \swarrow \quad \searrow \\ \underline{70} + \underline{5} + 195 \\ \hline 70 + \underline{200} = \underline{270} \end{array}$$

$$75 + 195 = \underline{270} \text{ إذاً}$$


أوجد حاصل الجمع

$$600 + 100 = \text{-----}$$

800



700



7



80



أوجد الحد الجمعي الناقص

$$387 + \underline{\quad 70 \quad} = 457$$

$$\underline{\quad 559 \quad} + 10 = 569$$


$$102 + \underline{\quad 10 \quad} = 112$$

$$\underline{\quad 732 \quad} + 100 = 832$$

أوجد ناتج الجمع

$$326 + 100 = \text{-----}$$

426



525



320



436



www.almanahj.com

اجمع :

مئات	عشرات	آحاد
	1	
3	4	6
2	4	7
5	9	3

مئات	عشرات	آحاد
	1	
1	2	9
7	5	1
8	8	0

اجمع :

	1		
	3	2	8
+	4	9	1
<hr/>			
	8	1	7

$$\begin{array}{r} 1 \\ 390 \\ + 133 \\ \hline 523 \end{array}$$

$\begin{array}{r} 100 \\ + 600 \\ \hline 700 \end{array}$	$\begin{array}{r} 765 \\ + 20 \\ \hline 785 \end{array}$	$\begin{array}{r} 1 \\ 190 \\ + 143 \\ \hline 333 \end{array}$
---	--	--

$$727 + 200 = \underline{927} \quad 523 + 10 = \underline{533}$$

$$300 + 0 = \underline{300} \quad 500 + 300 = \underline{800}$$

أوجد الحد الجمعي الناقص :

$$345 + \underline{14} = 359 \quad 789 + \underline{64} = 853$$

عدت مريم 328 كرة صغيرة . وعدت هند عدداً أكبر من الكرات الصغيرة التي عدتها مريم بمقدار 100 كرة صغيرة . كم عدد الكرات الصغيرة التي عدتها هند ؟

100



428



128



228



يجب على فهد قراءة أربع كتب بإجمالي 600 صفحة . ما الكتب الأربعة التي يجب عليه قراءتها ؟

الصفحات	الكتاب
180	1
130	2
135	3
100	4
155	5

الكتب رقم 1 و 2 و 3 و 5

أعد كتابة المسائل . اجمع

$$653 + 123$$

653

$$+ \quad \underline{\underline{123}}$$

776

$$433 + 272$$

433

$$+ \quad \underline{\underline{272}}$$

705

فك المئات للطرح :

$$\begin{array}{r} 500 - 98 \\ \swarrow \searrow \\ \underline{400} \quad \underline{100} \\ \underline{100} - 98 = \underline{2} \\ \underline{400} + \underline{2} = \underline{402} \\ 500 - 98 = \underline{402} \quad \text{إذا} \end{array}$$

$$\begin{array}{r} 324 - 96 \\ \swarrow \searrow \\ \underline{224} \quad \underline{100} \\ \underline{100} - 96 = \underline{4} \\ \underline{224} + \underline{4} = \underline{228} \\ 324 - 96 = \underline{228} \quad \text{إذا} \end{array}$$

www.almanahj.com

كان في مسرح المدرسة 372 طالباً . غادر 99 طالباً . فكم عدد الطلاب الذين لا يزالون في المسرح ؟

$$372 - 99 = 273$$

طالباً 273

كيف يمكنك تفكيك 244 لحل 244 - 95


244 و 100



144 و 95



144 و 100



200 و 44



اطرح

$$\begin{array}{r} 593 \\ + 200 \\ \hline 793 \end{array}$$

$$\begin{array}{r} 642 \\ - 10 \\ \hline 632 \end{array}$$

$$\begin{array}{r} 786 \\ - 100 \\ \hline 686 \end{array}$$

$$587 - \underline{200} = 387$$

$$954 - \underline{12} = 942$$

$$800 - 500 = \underline{300} \quad 900 - 300 = \underline{600}$$

www.almanahj.com

أوجد ناتج $400 - 400$

900

800

0

100

أوجد ناتج $700 - 200$

200

500

300

400

أعد كتابة المسألة . ا طرح .

$$764 - 214$$

7	6	4
2	1	4
5	7	0

$$831 - 548$$

7	12	11
8	3	1
5	4	8
2	8	2

ا طرح

$$\begin{array}{r} 346 \\ - 179 \\ \hline 167 \end{array}$$

$$\begin{array}{r} 887 \\ - 399 \\ \hline 488 \end{array}$$

$$\begin{array}{r} 202 \\ - 134 \\ \hline 068 \end{array}$$

جمعت هدى 524 درهم واشترت لعبة . والآن أصبح لديها 315 درهم . فكم عدد الدراهم المتبقية لدى هدى ؟

$$\text{درهم } \underline{209}$$

$$524 - 315 = 209$$

يوجد 236 حافلة مدرسة في موقف الحافلات ثم تحركت حافلات المدرسة وظلت 98 حافلة في الموقف كم عدد الحافلات المتحركة

$$236 - 98 = 138$$

139



137



136



138

