

الاسم: _____ الصف: الأول الأساسي / _____

استكشاف المادة

1- حوِّط الكلمة المفردة المناسبة، الشجرة والقلم والماء هي:

مادّة أشياء غير حيّة سوائل

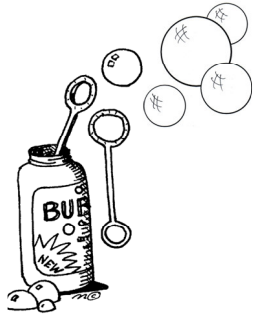
2- ضع إشارة (×) تحت الصّورة التي يوجد بها سائل:




3- ضع إشارة (×) تحت الجسم الأكبر حجماً:



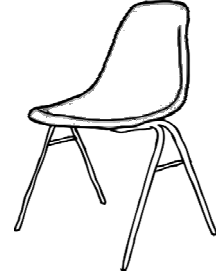
4- لوّن صورة الجسم الذي لا يتغيّر شكله:



غاز




سائل



صلب

5- لوّن صورة الجسم الذي يتغيّر شكله ليملاً كلّ الوعاء:



غاز



سائل



صلب

6- صنّف هذه الأشياء في مجموعتين بحسب الحجم وحوّط كلّ مجموعة:

