

حوظ إجابتك



ماذا يأكل هذا الحيوان لوحيش

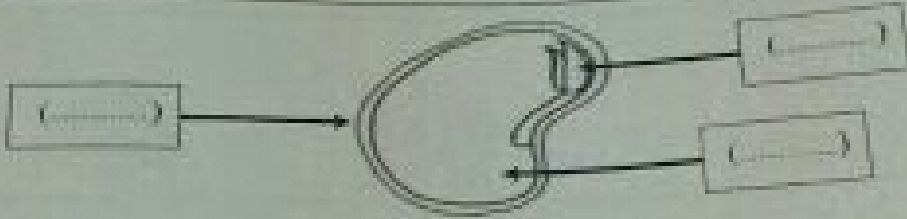


خاصية: أكتب الرقم الصحيح لأجزاء البذرة في مكانها المناسب.

3- البذرة الصغيرة

2- غطاء البذرة

1- غطاء البذرة



السؤال الثاني

حوظ الإجابة الصحيحة

25

1- جزء النبات الذي يصنع البذور هو



2- كائن غير حي



3- حيوان من الزواحف




السؤال الثاني

21

أولاً:

اكتب العدد في



10

ثانياً:



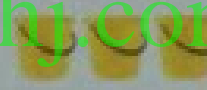


ضع دائرة حول الاختيار الصحيح للعبارة في الجدول الآتي:

الاختيارات		العبارة	
خطأ	صواب	الرمز المستخدم في الجمع هو —	(7)
خطأ	صواب	$6 + 3 = 9$	(8)
خطأ	صواب	$4 - 0 = 0$	(9)
خطأ	صواب	عدد عناصر المجموعة  ثلاثة	(10)
خطأ	صواب	جملة الطرح العددية  -	(11)
خطأ	صواب	هي: $5 - 4 = 1$	


السؤال الأول

ضع دائرة حول رمز الإجابة الصحيحة فيما يأتي :

1) عدد العناصر في المجموعة هو :    
 a) 5   
 b) 6   
 c) 7   
 d) 8

2) مجموعة أكبر عددًا من مجموعة :    
 a)    
 b)    
 c)    
 d) 

3) الجملة العددية التي تعبر عن هي :    
 a)  $0 + 6 = 6$    
 b)  $3 + 3 = 6$    
 c)  $1 + 5 = 6$    
 d)  $4 + 2 = 6$

4) الجملة العددية التي تعبر عن هي :    
 a)  $\frac{5}{2} + \frac{2}{7}$    
 b)  $\frac{7}{5} - \frac{5}{2}$    
 c)  $\frac{2}{7} + \frac{5}{7}$    
 d)  $\frac{7}{5} - \frac{2}{5}$

السؤال 12


15

12) اكتب جملة جمع مناسبة

13) اكتب الجزء الناقص من العدد 10

الجزء الناقص	3
العدد	10

$$3 + \square = 10$$



إجابة:

14) في بيت محمد 5 قطط وفي بيت حسن 3 قطط . كم عدد القطط الموجودة عندهما أجمالاً ؟



إجابة:

15) في حفلة عيد ميلاد حصة كان هناك 7 بالونات . أخذت 5 من البالونات إلى صديقاتها . كم عدد البالونات المتبقية لديها ؟



$$\underline{\quad} - \underline{\quad} = \underline{\quad}$$
$$\underline{\quad} + \underline{\quad} = \underline{\quad}$$

انتهت الأسئلة بالتوفيق والنجاح

السؤال الأول

24

- 1. وضع إشارة (✓) أمام العبارات الصحيحة وإشارة (✗) أمام العبارات الخاطئة فيما يلي:
  - (.....) الكائنات الحية تنمو وتتغير.
  - (.....) تحتاج النباتات إلى الماء فقط.
  - (.....) أشجار الخروب حارة.
  - (.....) عندما يفيض المطر الصخر من التربة يستطيع الطيور.
  - (.....) الطاولة والكروسي من الكائنات الحية.

2. رتب مراحل نمو الضفدع بكتابة الأرقام 1، 2، 3، 4 في مكانها المناسب:

www.almanahj.com



3. صل بخط مستقيم بين الحيوانات والمجموعة التي ينتمي إليها.



العشرات      الثدييات      الزواحف      اليرماليات      الأسماك