

منطقة رأس الخيمة التعليمية

مدرسة بلاط الشهداء

للتعليم الأساسي ح/2 للبنين

تمارين مراجعة في مادة
الرياضيات
لـلـصـف التاسع
(على مقرر الفصل الدراسي الثالث)
www.almanahj.com

الاسم: الشعبة:

إعداد / جماعة الرياضيات

2016 – 2017 م

تمارين مراجعة على مقرر
الوحدة (9) والوحدة (10)

الاسم:

السؤال الأول: اختر الإجابة الصحيحة فيما يلي :-

1/ متوسط الانحراف المطلق للبيانات { 12 , 13 , 8 , 7 , 10 } يساوي

- a) 2 b) 8 c) 10 d) 50

2/ التباين لمجموعة البيانات { 2 , 4 , 3 , 4 , 4 , 3 , 2 } (لأقرب جزء من عشرة) يساوي

- a) 0.5 b) 0.6 c) 0.7 d) 0.8



3/ في الشكل المقابل طول RS يساوي

- a) 1.6 cm b) 2.4 cm c) 4 cm d) 5.6 cm



4/ باستخدام خط الأعداد المقابل BE تساوي

- a) - 6 b) 2 c) 4 d) 8

5/ إذا انخفضت درجة الحرارة على مقياس حرارة من قراءة تبلغ 10° إلى 8° - فإن نقطة المنتصف لدرجتي الحرارة هاتين هي

- a) 1 b) 2 c) 9 d) - 18

6/ إذا كانت K (- 1 , 2) هي نقطة منتصف WS و S لها الإحداثيان (3 , - 5) فإن إحداثي W هو

- a) (- 3 , 1.5) b) (- 6 , 5) c) (- 5 , 9) d) (9 , - 5)

السؤال الثاني : أجب عن الأسئلة التالية :-

1/ يقوم محمود باستبيان بين زملائه ليعرف عدد الآلات الكهربائية التي يمتلكها كل شخص في منزله أوجد الانحراف المعياري لبيانات هذا الاستبيان { 7 , 4 , 6 , 5 , 3 , 2 , 3 } وفسره .

.....

.....

.....

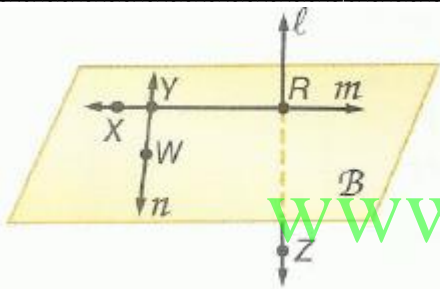
.....

.....

.....

.....

.....

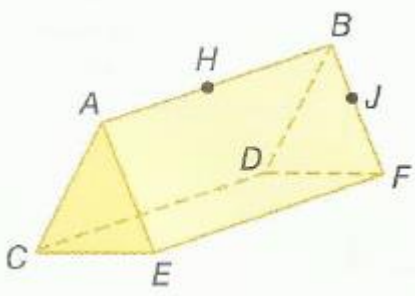


2/ استخدم الشكل لتسمية كل مما يلي.

1. مستقيم يحتوي على النقطة X
2. مستقيم يحتوي على النقطة Z
3. مستوى يحتوي على النقطتين R و W

www.almanahj.com

3/ استخدم الشكل في الإجابة عما يلي :



1. كم عدد المستويات الموضحة في الشكل؟
2. اذكر ثلاث نقاط ليست على استقامة واحدة.
3. هل النقاط A و H و J و D تقع في مستوى واحد؟ اشرح.
4. هل النقاط B و D و F تقع في مستوى واحد؟ اشرح.

.....

.....

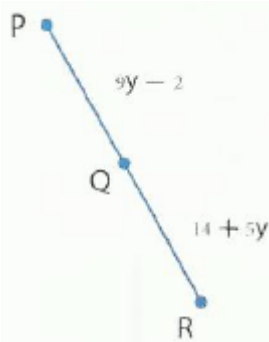
.....

.....

.....

14/ أوجد طول \overline{CD} باستخدام كل مسطرة.





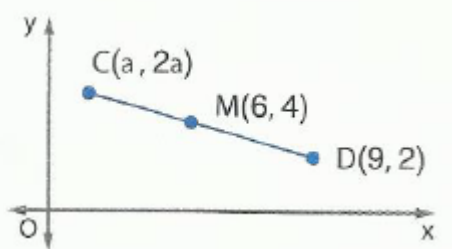
15 أوجد قياس \overline{PQ} إذا كانت Q هي نقطة منتصف \overline{PR} .

.....

.....

.....

.....



16 النقطة M هي نقطة منتصف \overline{CD} فما قيمة a في الشكل؟

.....

.....

.....

17 أوجد طول القطعة المستقيمة ونقطة منتصفها إذا كان نقطتي طرفيها هما $(2, 3)$ و $(6, 6)$

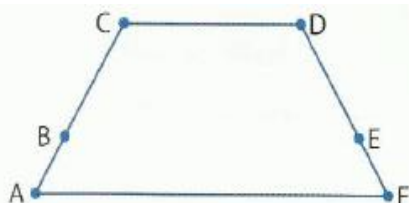
.....

.....

.....

.....

www.almanahj.com



18 انسخ البرهان مع إكماله.

المُعطى: $\overline{AB} \cong \overline{FE}, \overline{BC} \cong \overline{ED}$

المطلوب: $\overline{AC} \cong \overline{FD}$

البرهان:

المبررات	العبارات
a.	a. $\overline{AB} \cong \overline{FE}, \overline{BC} \cong \overline{ED}$
b.	b.
c.	c. $AB + BC = FE + ED$
d.	d.
e.	e. $AC = FD$
f.	f. $\overline{AC} \cong \overline{FD}$

9 / اثبت ما يلي :

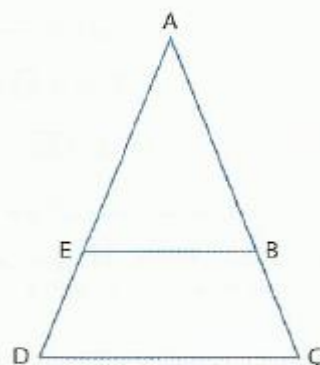


1. المُعطى: $\overline{JK} \cong \overline{LM}$

المطلوب: $\overline{JL} \cong \overline{KM}$

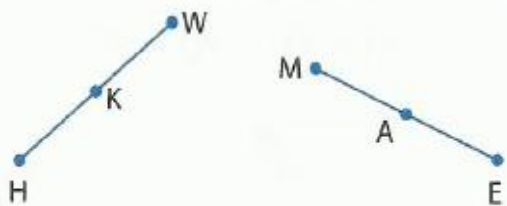
2. إذا كانت $\overline{AC} \cong \overline{AD}$ و $\overline{ED} \cong \overline{BC}$

إذا $\overline{AE} \cong \overline{AB}$



www.almanahj.com

10 / انسخ البرهان مع إكماله.



المُعطى: النقطة K هي نقطة منتصف \overline{HW}

والنقطة A هي نقطة منتصف \overline{ME}

$$\overline{HW} \cong \overline{ME}$$

المطلوب: $\overline{HK} \cong \overline{MA}$

المبررات	العبارات
a. المُعطى	a.
b.	b. $HK = KW, MA = AE$
c.	c. $HW = ME$
d. مسلّمة جمع القطع المستقيمة	d.
e.	e. $HK + KW = MA + AE$
f.	f. $HK + HK = MA + MA$
g. حوّل لأبسط صورة.	g.
h. خاصية القسمة في المعادلة	h.
i.	i. $\overline{HK} \cong \overline{MA}$

انتهت التمارين .. تمنياتي بالنجاح والتوفيق.

المادة: رياضيات

منطقة رأس الخيمة التعليمية

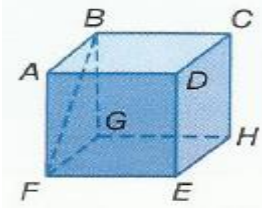
الصف: التاسع (.....)

مدرسة بلاط الشهداء للتعليم الأساسي بنين ح/2

تمارين مراجعة على مقرر
الوحدة (11)

الاسم :

السؤال الأول : اختر الإجابة الصحيحة فيما يلي :-



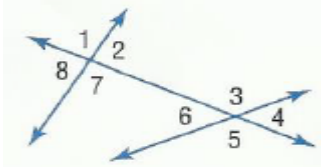
1/ قطعة مستقيمة متخالفة مع \overleftrightarrow{BC}

b) \overline{AD}

b) \overline{CH}

c) \overline{BG}

d) \overline{FE}



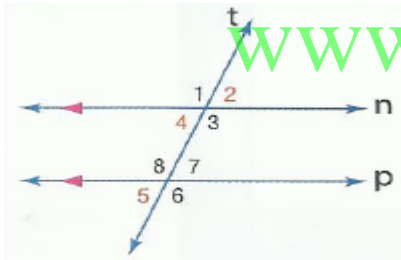
2/ تصنف الزاويتين 6 , 8 على أنهما

a) متناظرتان

b) متبادلتان داخلياً

c) متبادلتان خارجياً

d) زوايا داخلية متتالية




3/ في الشكل المقابل $m\angle 8 = 105$ فإن قياس $\angle 2$ تساوي

a) 65°

b) 75°

c) 95°

d) 105°



4/ ميل المستقيم في الشكل المقابل يساوي

a) 0

b) 1

c) -1

d) غير محدد

5/ معادلة المستقيم المار بالنقطتين (5 , 4) و (-2 , 4) هي

a) $Y = 0$

b) $Y = -2$

c) $Y = 4$

d) $Y = 5$

6/ ميل المستقيم الذي معادلته $Y - 3X = 5$ يساوي

a) 0

b) 3

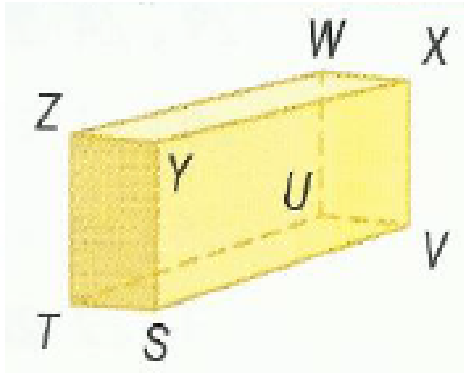
c) -3

d) 5

السؤال الثاني : أجب عن الأسئلة التالية :-

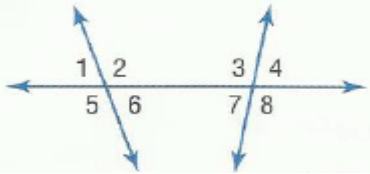
1/ ارجع إلى الشكل في اليسار لتحديد كل مما يلي.

1. مستوى متوازٍ مع المستوى ZWX



2. قطعة مستقيمة متخالفة مع \overline{TS} التي تضم النقطة W

3. كل القطع المستقيمة المتوازية مع \overline{SV}

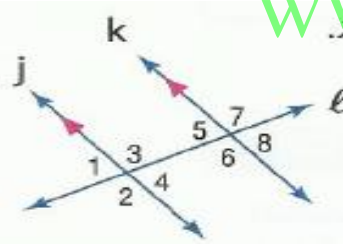


2/ صنف العلاقة بين كل زوج من الزوايا باعتبارها زوايا داخلية متبادلة أو زوايا خارجية متبادلة أو زوايا متناظرة أو زوايا داخلية متتالية.

$\angle 1$ و $\angle 8$ $\angle 2$ و $\angle 4$

$\angle 3$ و $\angle 6$ $\angle 6$ و $\angle 7$

www.almanahj.com




3/ إذا كان $m\angle 2 = 4x + 7$ و $m\angle 7 = 5x - 13$ فأوجد x .
و أوجد y إذا كان $m\angle 5 = 68$ و $m\angle 3 = 3y - 2$

4/ اذكر ما إذا كان \overrightarrow{WX} و \overrightarrow{YZ} متوازيين أم متعامدين أم ليس أي منهما.

$W(-7, 6), X(-6, 9), Y(6, 3), Z(3, -6)$

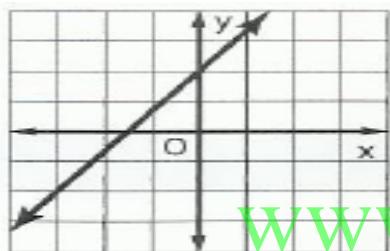
15 ارسم تمثيلاً بيانياً للمستقيم الذي يمر بالنقطة $A(-3, 0)$ ويتعامد على \overleftrightarrow{CD} مع $C(-2, -3)$ و $D(2, 0)$.



.....

16 اكتب معادلة لمستقيم يحتوي على $(-8, 12)$ عمودي على المستقيم المار بالنقطتين $(3, 2)$ و $(-7, 4)$.

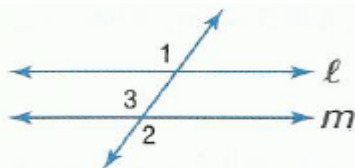
.....



17 اكتب معادلة المستقيم المقابل :

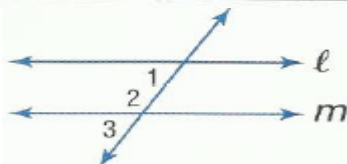
.....

www.almanahj.com



18 أكمل البرهان :
 المعطيات: $\angle 1 \cong \angle 2$
 المطلوب: $l \parallel m$

المبررات	العبارات
a. المعطيات	a. $\angle 1 \cong \angle 2$
b. _____ ؟	b. $\angle 2 \cong \angle 3$
c. خاصية التعدي	c. $\angle 1 \cong \angle 3$
d. _____ ؟	d. _____ ؟



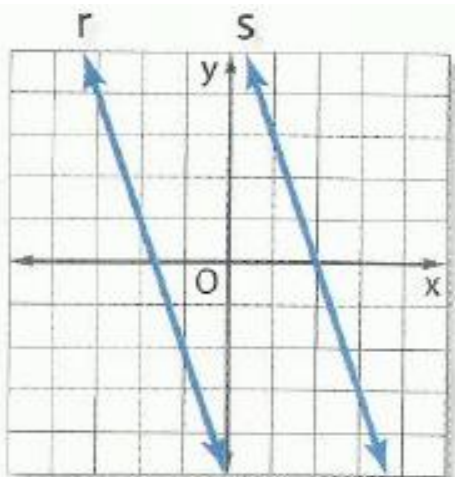
المعطيات: $\angle 1$ و $\angle 2$ متكاملتان.
 المطلوب: $l \parallel m$

المبررات	العبارات
a. المعطيات	a. _____ ؟
b. _____ ؟	b. $\angle 2$ و $\angle 3$ يكوّنان زوجاً خطياً.
c. _____ ؟	c. _____ ؟
d. _____ ؟	d. $\angle 1 \cong \angle 3$
e. _____ ؟	e. $l \parallel m$

9/ المستقيم K يحتوي على النقطتين (1, 2) و (5, 4) فأنشئ خطاً عمودياً على K ويمر عبر P (1, 7) ثم أوجد المسافة بين المستقيم K والنقطة P

www.almanahj.com

10/ أوجد المسافة بين المستقيمين المتوازيين r و S اللذين معادلتها هما $Y = -3X + 6$ و $Y = -3X - 5$ على الترتيب



انتهت التمارين .. تمنياتي بالنجاح والتوفيق.

المادة: رياضيات

منطقة رأس الخيمة التعليمية

الصف: التاسع (.....)

مدرسة بلاط الشهداء للتعليم الأساسي بنين ح/2

تمارين مراجعة على مقرر
الوحدة (12)

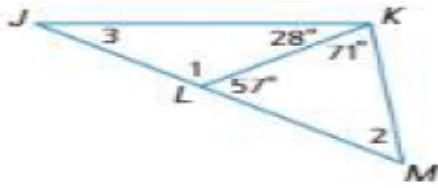
الاسم :

السؤال الأول : اختر الإجابة الصحيحة فيما يلي :-



1/ يصنف المثلث المقابل على أنه :

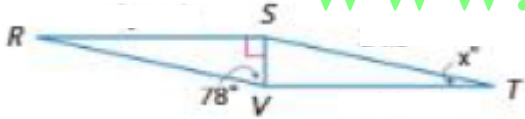
- a) حاد الزاوية b) متساوي الزوايا c) منفرج الزاوية d) قائم الزاوية



2/ قياس الزاوية رقم 3 هي :

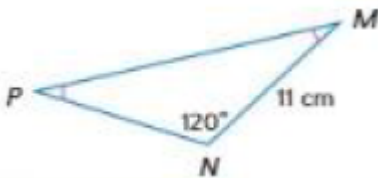
- a) 28 ° b) 29 ° c) 52 ° d) 123 °

www.almanahj.com



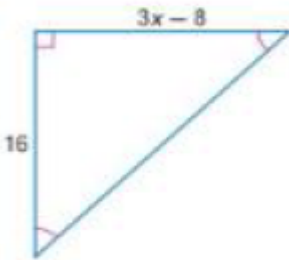
3/ في الرسم التخطيطي $\triangle RSV \cong \triangle TVS$ قيمة X تساوي

- a) 12 ° b) 24 ° c) 78 ° d) 90 °



4/ قياس الزاوية M تساوي

- a) 120 ° b) 60 ° c) 30 ° d) 20 °

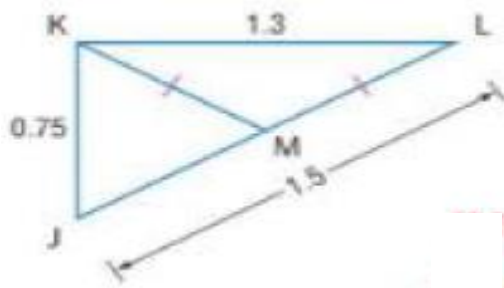


5/ قيمة X في الشكل المقابل تساوي

- a) 16 b) 11 c) 8 d) 3

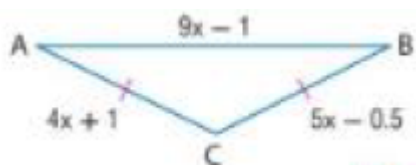
السؤال الثاني : أجب عن الأسئلة التالية :-

1/ إذا كانت النقطة M هي نقطة المنتصف في \overline{KL} ، فضع تصنيفاً للمثلث $\triangle JKM$ باعتباره متساوي الأضلاع، أو متساوي الساقين، أو مختلف الأضلاع. اشرح تبريرك.



.....

2/ أوجد قياسات أضلاع المثلث متساوي الساقين ABC



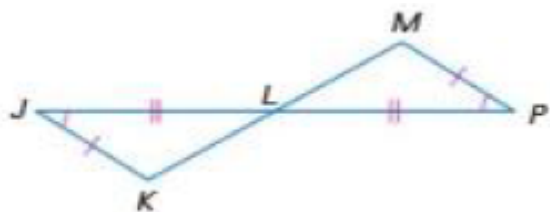
.....

www.almanahj.com

ملخص حالات تطابق المثلثات

<p>تطابق زوجين من الزوايا المتناظرة والضلعين المتناظرين غير المحصورين.</p>	<p>تطابق زوجين من الزوايا المتناظرة والضلعين المحصورين بينهما.</p>	<p>تطابق زوجين من الأضلاع المتناظرة والزواويتين المحصورتين بينهما.</p>	<p>تطابق ثلاثة أزواج من الأضلاع المتناظرة.</p>
--	--	--	--

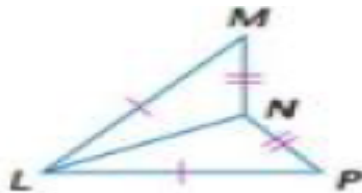
3/ اكتب برهاناً من عمودين



المعطيات: $\angle J \cong \angle P$, $\overline{JK} \cong \overline{PM}$, \overline{KM} تنصف \overline{JP} و $\overline{JL} \cong \overline{PL}$

المطلوب: $\triangle JLK \cong \triangle PLM$

.....



14 اكتب برهاناً حرراً

المعطيات: $MN \cong PN, LM \cong LP$

المطلوب: $\angle LNM \cong \angle LNP$

.....

.....

.....



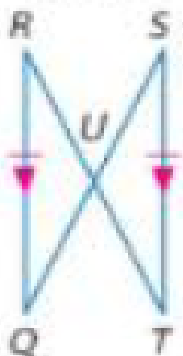
15 تبدو أجنحة الطيران الشراعي الموضحة

كمثلثات متطابقة. إذا كان $\overline{FG} \cong \overline{GH}$ و \overline{JG} تنصف $\angle FGH$, فأثبت أن $\triangle FGJ \cong \triangle HGF$

.....

.....

www.almanahj.com



16 اكتب برهاناً تسلسلياً.

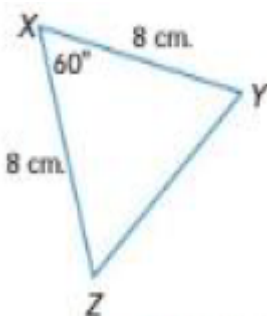
المعطيات: $\overline{RQ} \parallel \overline{ST}$ و $\overline{RQ} \cong \overline{ST}$

المطلوب: $\triangle RUQ \cong \triangle TUS$

.....

.....

.....



17 في الشكل المقابل أوجد :

قياس الزاوية Y

طول الضلع YZ

نوع المثلث XYZ من حيث الزوايا والأضلاع

.....

.....

.....

انتهت التمارين .. تمنياتي بالنجاح والتوفيق.

تمارين مراجعة على مقرر الوحدة (13)

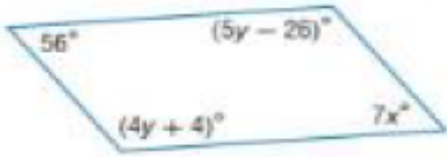
الاسم:

السؤال الأول: اختر الإجابة الصحيحة فيما يلي :-



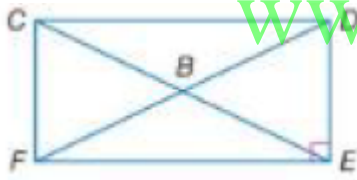
1/ قيمة X في متوازي الأضلاع المقابل هي

- a) 3 b) 29 c) 31 d) 124



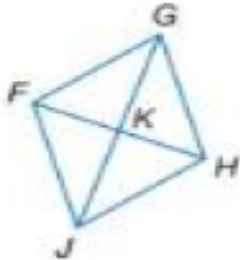
2/ قيمة X و Y بحيث يكون الشكل المقابل متوازي أضلاع :

- a) $X = 8, Y = 22$ b) $X = 8, Y = 30$ c) $X = 49, Y = 22$ d) $X = 63, Y = 15$



3/ في المستطيل المقابل $BD = 3 \text{ cm}$ فإن طول CE يساوي

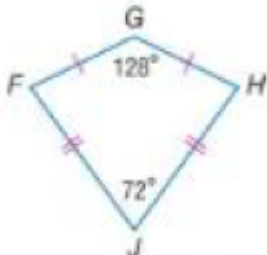
- a) 3 cm b) 6 cm c) 9 cm d) 12 cm



4/ تتقاطع أقطار المعين $FGHJ$ عند النقطة K

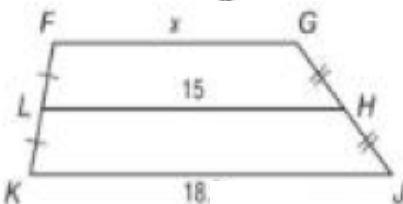
إذا كان $FK = 5 \text{ cm}$, $FG = 13 \text{ cm}$ فإن طول KJ يساوي

- a) 3 cm b) 6 cm c) 9 cm d) 12 cm



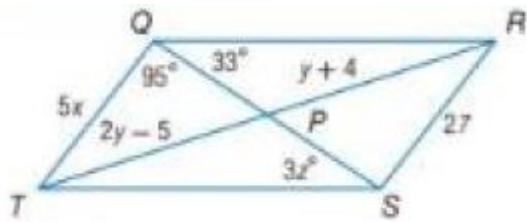
5/ إذا كان $FGHJ$ طائرة ورقية فإن $m\angle GFJ$ يساوي

- a) 72 b) 80 c) 128 d) 160



6/ إذا كان LH هو منتصف ساقي شبه المنحرف $FGJK$ فإن قيمة X تساوي

- a) 11 b) 12 c) 15 d) 18



السؤال الثاني : أجب عن الأسئلة التالية :-

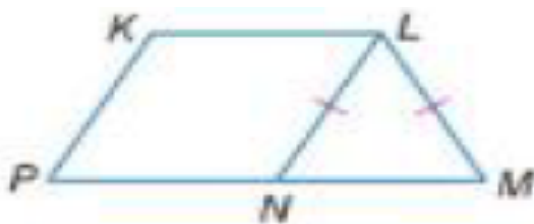
1/ إذا كان QRST عبارة عن متوازي أضلاع

فأوجد قيمة المتغيرات X , Y , Z

2/ حدد إحداثيات نقطة تقاطع القطرين في متوازي الأضلاع FGHI الذي رؤوسه

F(-2, 4) و G(3, 5) و H(2, -3) و J(-3, -4)

www.almanahj.com



3/ اكتب برهاناً من عمودين

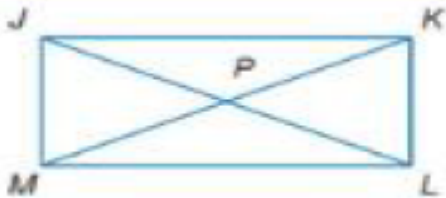
المعطيات: $\triangle LMN$ مثلث متساوي الساقين.

KLNP متوازي أضلاع.

المطلوب: $\angle KPN$ متكاملة مع $\angle LMN$

14 حدد ما إذا كان الشكل الرباعي متوازي أضلاع أم لا .. علل إجابتك باستخدام القانون المذكور
(A) $A(3, 3)$, $B(8, 2)$, $C(6, -1)$, $D(1, 0)$: قانون المسافة

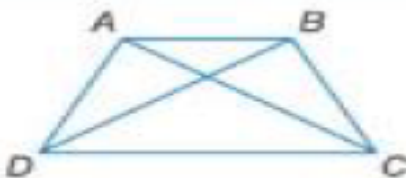
(B) $V(10, 4)$, $W(15, 3)$, $X(13, 0)$, $Y(8, 1)$: قانون الميل



15 الشكل الرباعي JKLM عبارة عن مستطيل
إذا كان $JP = 3Y - 5$ وكان $MK = 5Y + 1$ فأوجد Y

www.almanahj.com

16 بمعلومية $J(5, 0)$ و $K(8, -11)$ و $L(-3, -14)$ و $M(-6, -3)$ ، حدد ما إذا كان متوازي الأضلاع
JKLM عبارة عن معين، أم مستطيل، أم مربع. اذكر جميع ما ينطبق. اشرح.



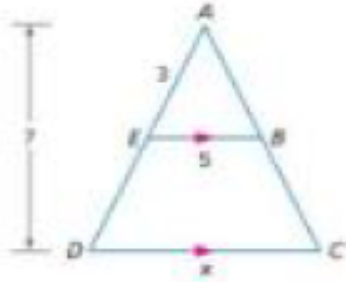
17 ABCD شبه منحرف متساوي الساقين ، برهن أن $\overline{AC} \cong \overline{BD}$

انتهت التمارين .. تمنياتي بالنجاح والتوفيق.

تمارين مراجعة على مقرر
الوحدة (14) والوحدة (15)

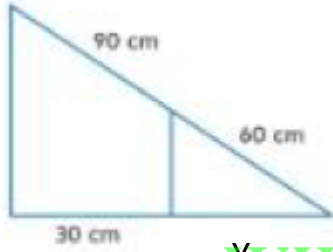
الاسم:

السؤال الأول: اختر الإجابة الصحيحة فيما يلي :-



1/ قيمة x في الشكل المقابل (لأقرب وحدة) تساوي

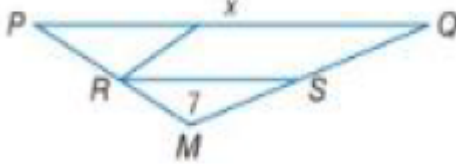
- a) 5 b) 29 c) 11 d) 12



2/ قيمة y في الشكل المقابل تساوي

- a) 10 b) 20 c) 30 d) 60

www.almanahj.com

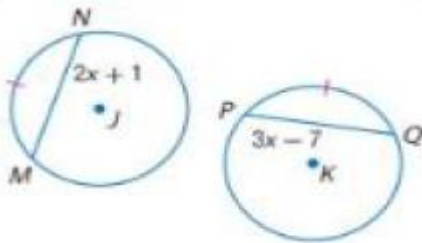


3/ إذا كان \overline{RS} هو منتصف ساق $\triangle MPQ$ ، فإن قيمة x تساوي

- a) 3.5 b) 7 c) 14 d) 21

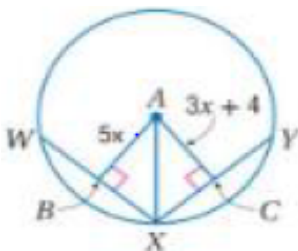
4/ دائرة طول نصف قطرها 5 cm فإن محيطها يساوي

- a) 3.14 cm b) 31.4 cm c) 15.7 cm d) 78.5 cm



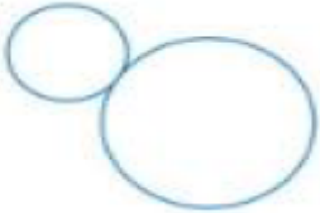
5/ طول PQ في الشكل المقابل يساوي

- a) 8 b) 11 c) 17 d) 24



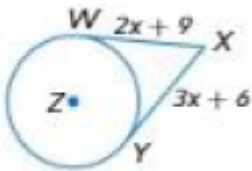
6/ إذا كان في الدائرة $\odot A$ ، لديك $XY = XW = 25$ فإن طول AB يساوي

- a) 2 b) 5 c) 6 d) 10



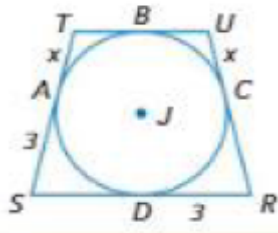
7/ عدد المماسات المشتركة للدائرتين المقابلتين يساوي

- a) 1 b) 2 c) 3 d) 4



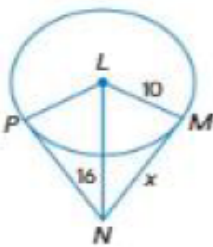
8/ طول المماس XY في الشكل المقابل يساوي

- a) 2 b) 3 c) 12 d) 15



9/ إذا كان محيط الشكل الرباعي RSTU يساوي 20 cm فإن قيمة X تساوي

- a) 2 b) 3 c) 4 d) 6



10/ قيمة X في الشكل المقابل تساوي

- a) 10 b) 16 c) 24 d) 26

11/ الدائرة التي معادلتها $X^2 + Y^2 - 9 = 0$ طول قطرها يساوي

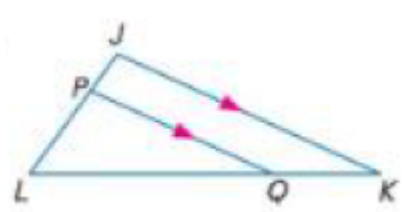
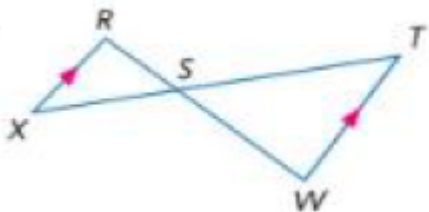
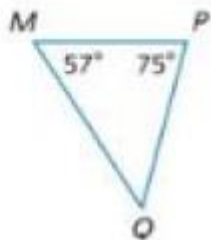
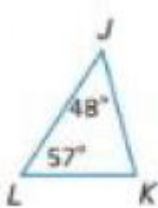
- a) 2 b) 3 c) 6 d) 9

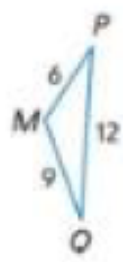
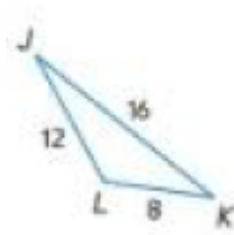
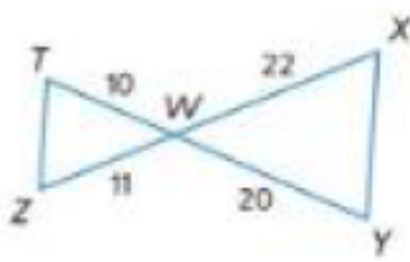
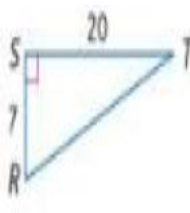
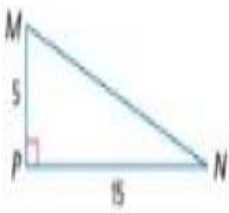
12/ الدائرة التي معادلتها $(X - 5)^2 + (Y + 3)^2 = 4$ مركزها هو

- a) (- 5 , 3) b) (- 5 , - 3) c) (5 , 3) d) (5 , - 3)

السؤال الثاني : أجب عن الأسئلة التالية :-

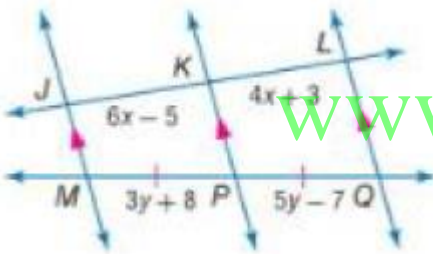
1/ حدد ما إذا كان المثلثان متشابهين وإذا كانا كذلك فاكتب عبارة تشابه واشرح استنتاجك





12/ عندما وقفت مريم البالغ طولها 159 cm بجوار سارية العلم بلغ طول ظلها 57.5 cm وكان طول ظل سارية العلم هو 172.5 cm فما طول سارية العلم ؟

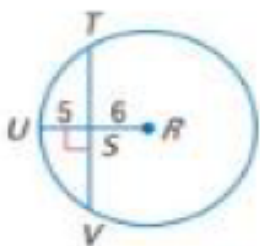
13/ في الشكل المقابل أوجد قيمة X و Y

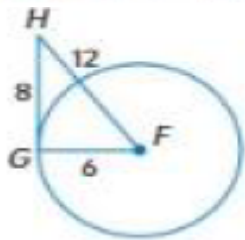


www.almanahj.com

14/ مثلث قائم الزاوية محاط بدائرة وساقاه طولهما 4 أمتار و 3 أمتار ، أوجد محيط الدائرة .

15/ في الدائرة O. أوجد TV. قرب إلى أقرب جزء من مئة.

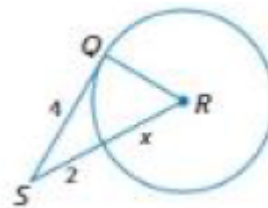
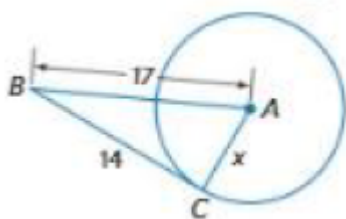




16 حدّد ما إذا كان \overline{GH} مماسًا للدائرة $\odot F$. دّر إجابتك.

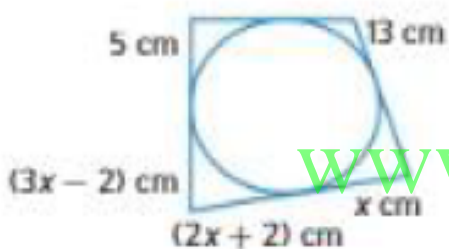
.....

17 أوجد قيمة x وافترض أن القطع المستقيمة التي يبدو أنها مماسات هي مماسات بالفعل .



.....

18 في الشكل المقابل أوجد قيمة x ثم أوجد المحيط .



www.almanahj.com

.....

9/ اكتب معادلة الدائرة التي مركزها $(-1, 4)$ وطول قطرها يساوي 8 cm

.....

10/ اكتب معادلة الدائرة التي يقع مركزها عند النقطة $(4, -2)$ وتمر بالنقطة $(7, -6)$

.....

11/ معادلة الدائرة هي $X^2 + Y^2 - 8X + 2Y = -8$ اذكر إحداثيات المركز وقياس نصف القطر.

.....

انتهت التمارين .. تمنياتي بالنجاح والتوفيق.