

الدراسات الاجتماعية والتربية الوطنية

الصف الرابع

www.almanahj.com



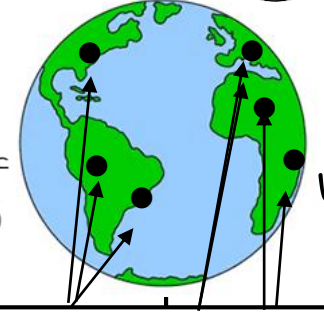
إعداد المعلمة : خديجة محمد علي
مدرسة : أحمد بن ماجد

الوحدة الأولى: أعرف بلادي (خطوط طول ودوائر العرض) الاسم : الصف الرابع : (.....)

أولا (الموقع النسبي)



أكمل
الخطوط
الذي
أعماك بها
يناسب



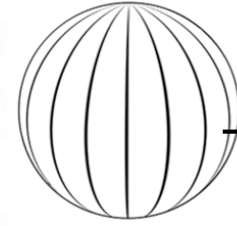
اكتب مدلولات الأرقام :

1. قارة 2. قارة
3. قارة 4. قارة
5. قارة 6. المحيط
7. المحيط 8. المحيط

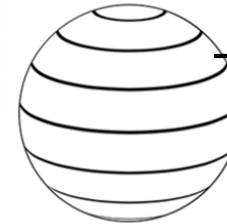
الموقع الجغرافي

الموقع الفلكي

موقع المكان بالنسبة




خطوط



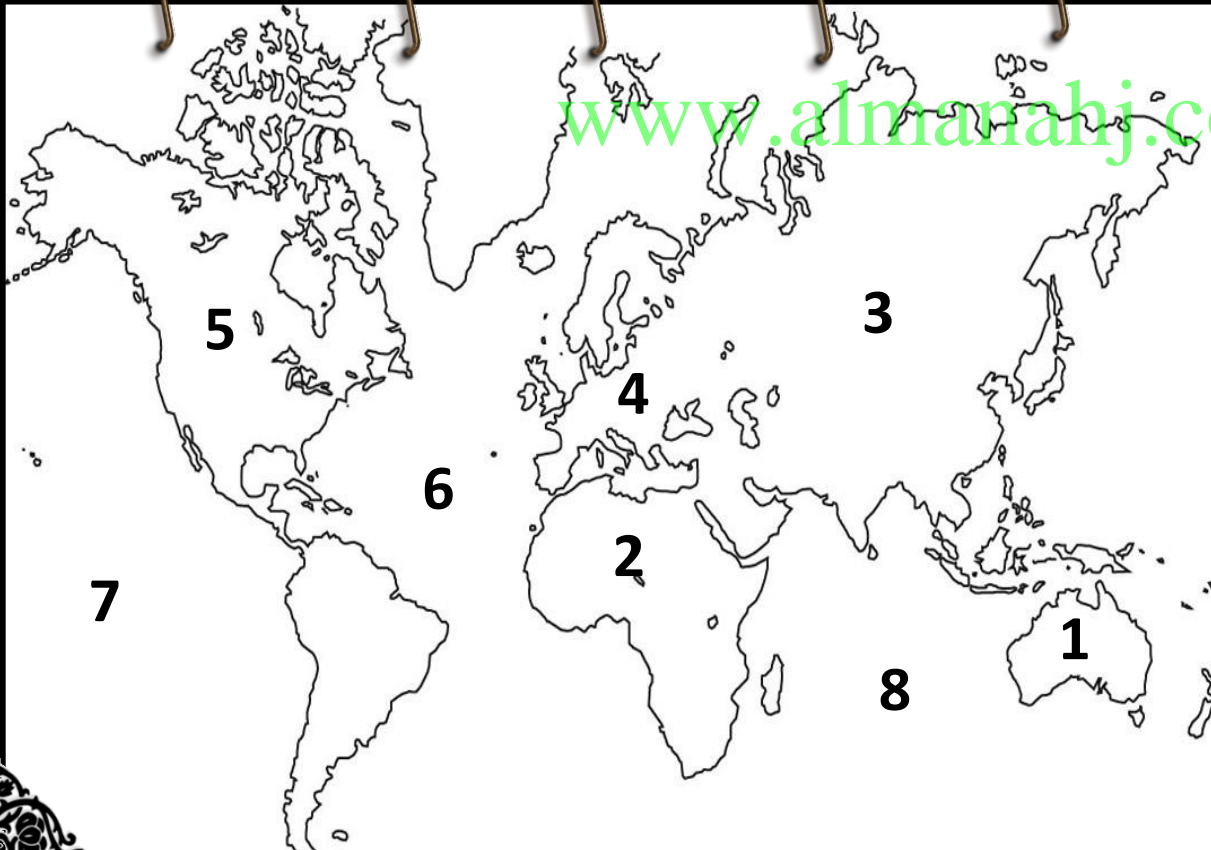
دوائر

الموقع النسبي

موقع المكان بالنسبة



www.almanahj.com





تانيا وثالثا (الموقع الفلكي خطوط الطول ودوائر العرض)



أضع الكلمات المساعدة أمام الجمل الآتية :

خطوط الطول - الموقع الفلكي - دوائر العرض

موقع المكان بالنسبة لخطوط الطول ودوائر العرض

خطوط طولية وهمية ترسم على الخرائط على شكل أنصاف دوائر تقسم

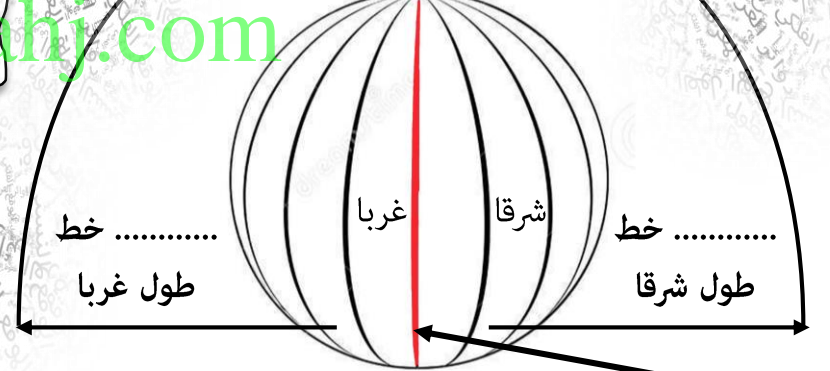
العالم إلى قسمين متساويين شرقا وغربا

خطوط وهمية ترسم على الخرائط على شكل دوائر تامة الاستدارة تقسم

العالم إلى قسمين متساويين شمالا وجنوبا

يبلغ عدد خطوط الطول

خطا



خط يقسم العالم إلى قسمين متساويين (شرقي وغربي) هو خط

وهو خط الطول الرئيسي درجته تساوي

ما هي أهمية خطوط الطول ?

.....

.....

.....

يبلغ عدد دوائر العرض
دائرة عرض



دائرة العرض الرئيسة وتقسّم العالم إلى

نصفيين متساويين (شمالي وجنوبي)

هو خط

ودرجته

تساوي

ما هي أهمية دوائر العرض ?

.....

.....

.....

.....

.....

.....

.....

.....

.....

.....

.....

شمالا

شمالا

جنوبا

جنوبا

القطب الشمالي 90° شمالا

66.5° شمالا

23.5° شمالا

0° الاستواء

23.5° جنوبا

66.5° جنوبا

القطب الجنوبي 90° جنوبا

أضع علامة (✓) أمام

العبارة الصحيحة

وعلامة (x) أمام العبارة

غير الصحيحة فيما يلي :

- يقع مدار السرطان في نصف الكرة الجنوبي ()
- يمر خط الاستواء عند دائرة عرض الصفر ()
- مدار الجدي يقع عند دائرة عرض 23.5° شمالا ()
- يقسم خط الاستواء العالم إلى قسمين متساويين شرقا وغربا ()
- تعرف دائرة العرض الرئيسة بخط الاستواء ()

الوحدة الأولى: أعرف بلادي

موقع بلادي

أولاً «الموقع الفلكي لدولة الإمارات العربية المتحدة»

أكمل

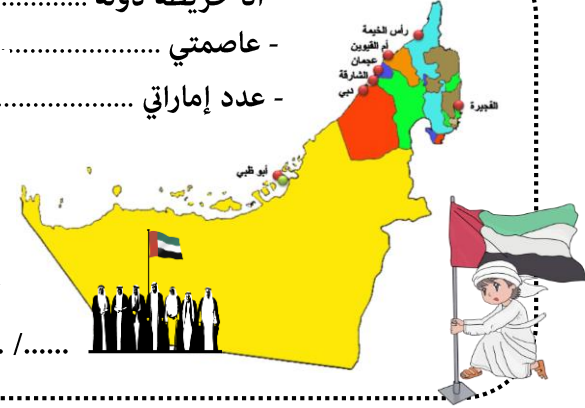
- أنا خريطة دولة
- عاصمتي
- عدد إماراتي

- تبلغ مساحتي

2 كم

تأسست في

م..... /..... /.....



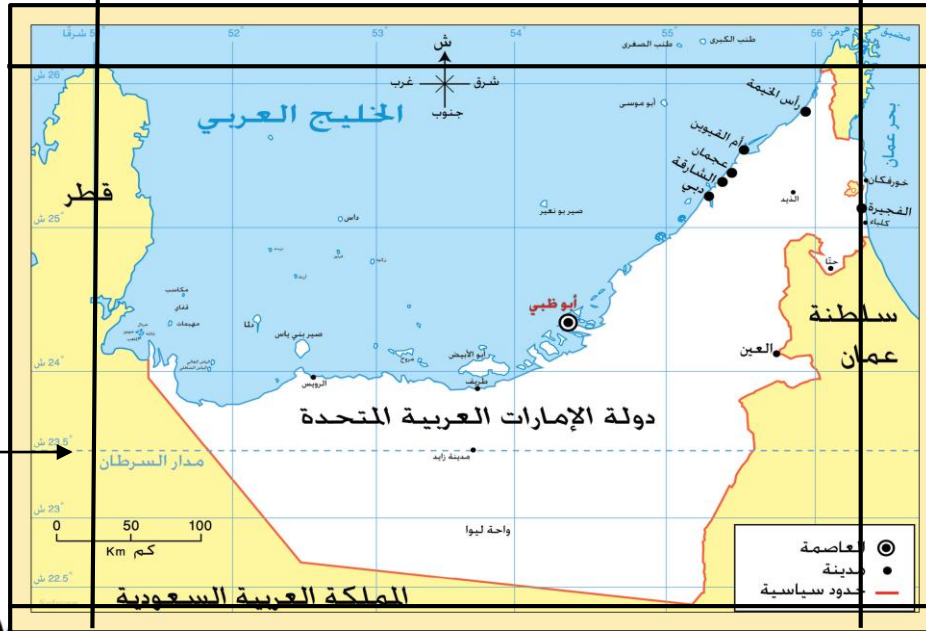
- حاكم الدولة صاحب السمو الشيخ

أقرأ خريطة الإمارات ثم أستكمل الآتي

www.almanahj.com

تقع دولة الإمارات بين خطي طول :

.....درجة شرق خط جرينتشدرجة شرق خط جرينتش



تقع دولة الإمارات بين دائرتي عرض :

خط الاستواء.....درجة شمال

خط الاستواء.....درجة شمال

أضع علامة (✓) أمام العبارة الصحيحة وعلامة (x) أمام العبارة غير الصحيحة فيما يلي :

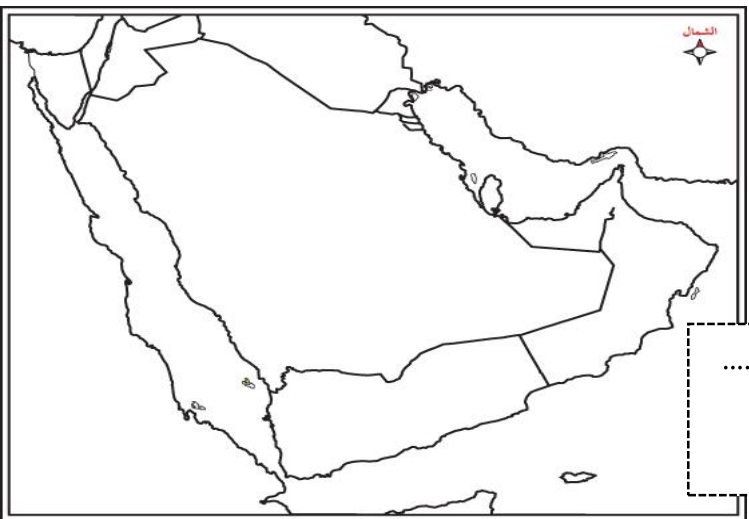
- يبلغ عدد دوائر العرض التي تقع عليها دولة الإمارات 4.5 دائرة عرضية ()
- اللغة الرسمية لدولة الإمارات اللغة العربية ()
- يمر مدار السرطان في الأجزاء الشمالية من الدولة ()
-

ثانيا « الموقع النسبي لدولة الإمارات العربية المتحدة »



تقع دولة الإمارات في الوطن العربي
لون دولة الإمارات على الخريطة.

- تقع دولة الإمارات في العالم القديم.
- قارات العالم القديم هي و و
- تقع دولة الإمارات في جنوب غرب قارة
- حوط دولة الإمارات على الخريطة
- اكتب المحيطات التالية على الخريطة :
(المحيط الهادي - المحيط الهندي - المحيط الأطلسي - المحيط المتجمد الشمال)



تقع دولة الإمارات في الجهة
من شبه الجزيرة العربية
لون الإمارات على الخريطة



الوحدة الأولى: أعرف بلادي

موقع بلادي

ثانياً «الموقع النسبي لدولة الإمارات العربية المتحدة»



الاسم: الصف الرابع: (.....)

اكتب المفهوم المناسب فيما يلي:



منطقة من اليابس محاطة
بالماء من ثلاث جهات

خطوط حددها الإنسان ورسمت حتى تفصل بين حدود
دولة ودولة أخرى، وتُمارس فيها دولة سيادتها

لسان كبير من الماء محاط
باليابس من ثلاث جهات



يابسة تحيط بها المياه من
جميع الجهات



جهة

دولة

جهة

جهة

اقرأ خريطة الإمارات ثم
أستكمل الآتي



بحر

جهة

دولة

أكمل

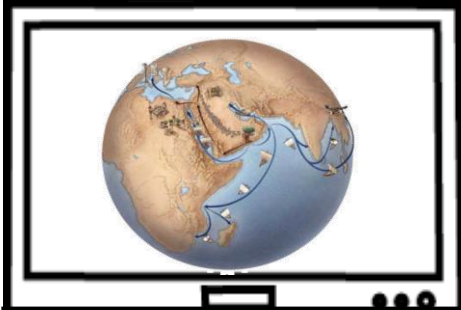
- تقع دولة الإمارات في قارة في جهة
- تطل دولة الإمارات من الشرق على بحر
- تحيط مياه الخليج العربي بدولة الإمارات من جهة
- دولتين تشتركان مع دولة الإمارات بالحدود البرية من جهة الشرق و..... من جهة الجنوب والغرب.
- دائرة العرض الرئيسة التي تمر بدولتنا الحبيبة
- تقع دولة الإمارات في جهة لشبة الجزيرة العربية وجهة من الوطن العربي

ثالثا «أهمية موقع بلادي»

استخلص أهمية الموقع الجغرافي بناء على الصور التالية



الأهمية



الأهمية



الأهمية

اكتب المفهوم المناسب فيما يلي:

كل جهد قام به الإنسان لتحسين ظروف حياته

ما هي الأهمية الاقتصادية للموقع الجغرافي

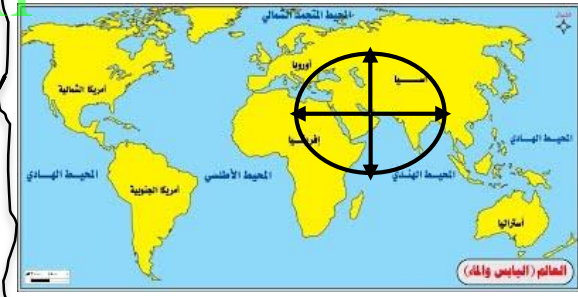
لدولة الإمارات العربية المتحدة؟

- 1.....
- 2.....
- 3.....

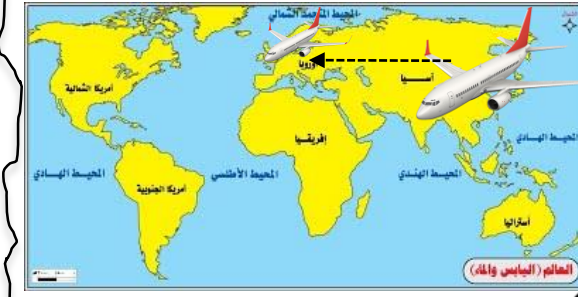
ما المقصود ب:

استيراد السلع وإعادة تصديرها إلى دول العالم

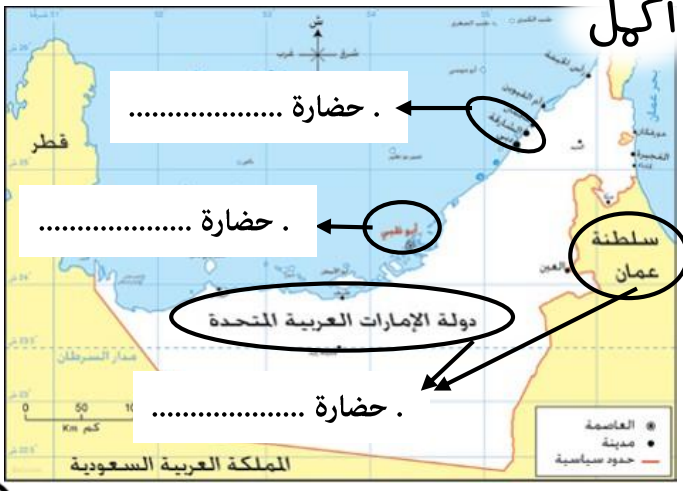
(.....)



حلقة بين الشمال والجنوب والشرق والغرب



معبرا لرحلات بين..... و.....



أهم

حضارة

حضارة

سلطنة عمان

دولة الإمارات العربية المتحدة

حضارة

العاصمة
مدينة
حدود سياسية

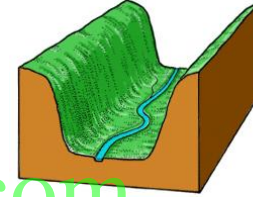
المملكة العربية السعودية

من أنا



كثَلَةٌ صَخْمَةٌ مِنَ الصَّخُورِ الْمُرْتَفَعَةِ
عَنْ سَطْحِ الْأَرْضِ ذَاتَ قِمَمٍ تَتَمَيَّزُ
بِالْحِدَّةِ وَالْإِرْتِفَاعِ

من أنا



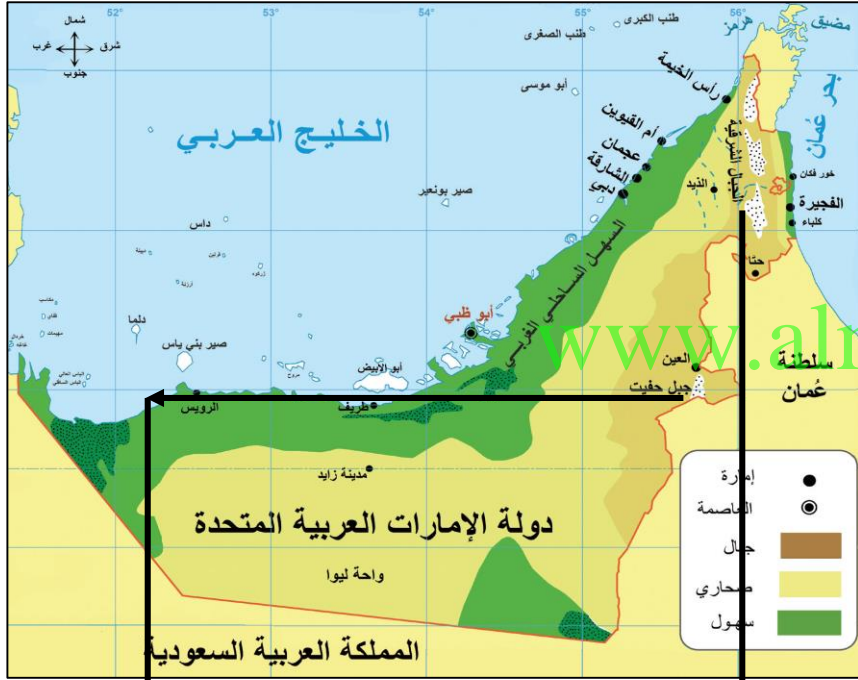
هِيَ أَرْضٌ طَوِيلَةٌ مُنْخَفِضَةٌ
تَحِيطُهَا أَرْضٌ مُرْتَفَعَةٌ مِنْ
الْجَوَانِبِ

صعود
الجبل
يكسب
الإنسان
صفة

الاسم : الصف الرابع : (.....)

أعمل فيما يلي :

تقع الجبال في دولة الإمارات في الجهة
أعلى قمة جبلية في دولة الإمارات هي قمة جبل
ضع دائرة على الخريطة بالمكان الذي توجد به أعلى قمة جبلية في الإمارات



تنقسم الجبال في دولة الإمارات إلى قسمين

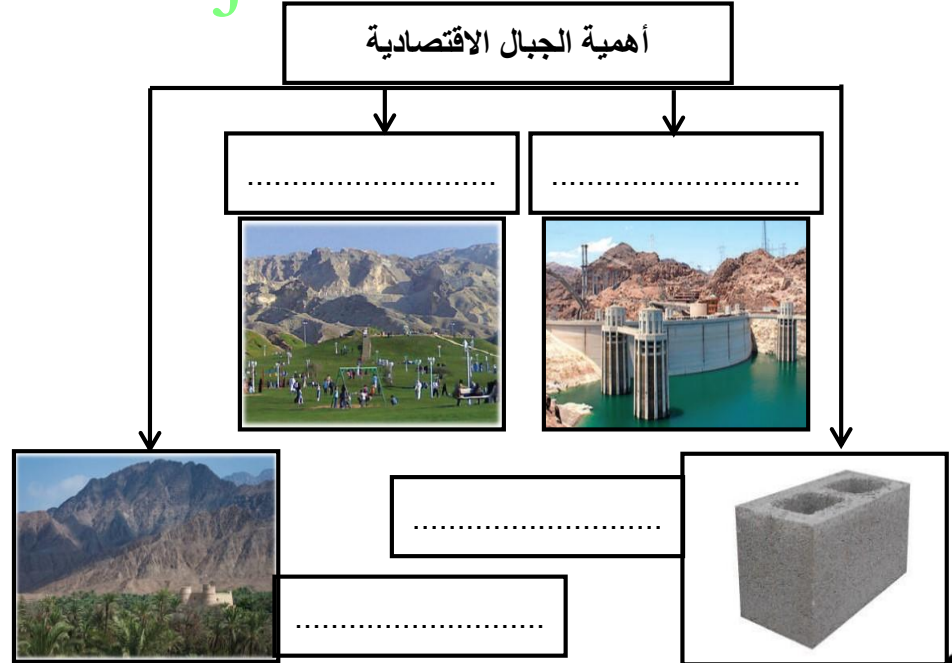
القسم

القسم

اختر الإجابة الصحيحة فيما يلي :

يقع جبل حفيت في مدينة :
(كلباء - العين - خورفكان)

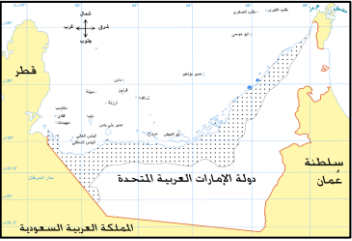
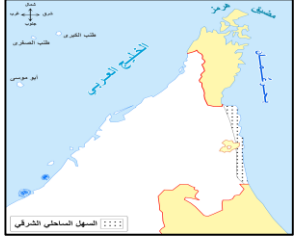
أهمية الجبال الاقتصادية






وهذه السهول مطله على

وتنقسم السهول الساحلية إلى قسمين

أنا السهل الساحلي	أنا السهل الساحلي	أوجه المقارنه
		
.....	
على الخريطة	على الخريطة	لون
قصير - طويل	قصير - طويل	اختار الاجابة الصحيحة
واسع - ضيق	واسع - ضيق	اختار الاجابة الصحيحة
.....و.....و.....	من أشهر المدن
.....و.....و.....	

الأهمية الاقتصادية للسهول الساحلية :




ثانيا «السهول» السهول الساحلية



أرض منبسطة قليلة الارتفاع

وتنقسم في دولة الإمارات إلى قسمين



العمل فيما يلي

ترتبط بالسهول الساحلية بعض
الظواهر الطبيعية مثل

.....
.....
.....



الاسم : الصف الرابع : (.....)



من خلال الخريطة التي أمامك استكمل التالي :

- من الجزر الإماراتية المحتملة
- الدولة التي احتلت الجزر الإماراتية الثلاث هي
- سنة الاحتلال

من أنا

جزء من اليابس تحيط بها
المياه من جميع الجهات



أهمية الجزر الاقتصادية

..... مثل جزيرة.....



..... مثل جزيرة.....



..... مثل جزيرة.....



من أنا
أماكن تخصص لحماية الأنواع
الحيوانية والنباتية المهددة بالانقراض

.....

الاسم: الصف الرابع: <.....>



أرض منخفضة في الصحراء تكثر فيها
المياه والزراعة؟ فمن أنا؟



حوض الواحات الموجودة في دولة الإمارات:



أرض تنبض
بالحياة من أقوال
الشيخ

علمتني الصحراء
أن نصبر طويلاً
حتى ينبت الخبز
من أقوال الشيخ

من أنا

أرض جافة قليلة المطر
ولوني على الخريطة أصفر
فمن أنا؟؟

اختر الإجابة الصحيحة فيما يلي:

أمطاري:

(نادرة - غزيرة)

نباتاتي:

(قليلة - كثيرة)

حرارتي صيفاً:


(مرتفعة - منخفضة)

سكاني:

(قليل - كثير)




أنا صحراء



الأهمية الاقتصادية للصحراء

استخراج



أولا <مناخ بلادي >

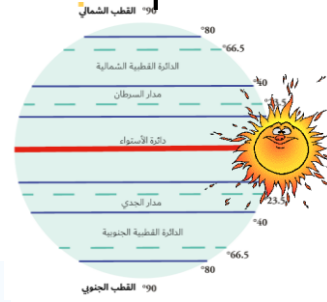
العوامل المؤثرة في مناخ بلادي



.....



.....



.....



حوظ

أيها أكثر برودة وأصطارا:

المناطق القريبة من البحار

المناطق الداخلية



عند قمة الجبل تكون درجات الحرارة

درجة الحرارة

الجبل

عند قاعدة الجبل تكون درجات الحرارة

كون تعيها من خلال الصورة التي أمامك

.....

قارن بين فصلي الشتاء والصيف في دولة الإمارات بناء على الجدول

فصل الشتاء	فصل الصيف	وجه المقارنة
		درجة الحرارة
		الأمطار


أصل

- تقع دولة الإمارات في المنطقة الجافة ويسود فيها إقليم المناخ
- يمر مدار السرطان في الجزء من الإمارات
- حالة الجو خلال شهر أو فصل أو سنة هو




تنقسم النباتات إلى نوعين رئيسيين هما

النباتات نباتات تنمو مباشرة بعد سقوط الأمطار مثل



النباتات نباتات التي تنمو طول العام دون تدخل الإنسان مثل



www.almanahj.com

علل أو فسر؟؟ تنوع الثروة البرية في دولة الإمارات؟؟



1 تنوع 2 موارد 3 تنوع 4 تنوع

ضع الكلمات التالية في مكانها المناسب :

(الصفر - البيئة الوطني - الغاف - الكما)

- فطر بري موسمي ينمو بعد سقوط الأمطار.....
- من أكثر الأشجار التي تتحمل درجات الحرارة والملوحة وتقلبات الجو شجرة
- طائر بري جميل المنظر عذب الصوت يمنع صيده منعا باتا.....
- تحتفل دولة الإمارات سنويا في 4 من فبراير بيوم

فسر؟؟.. أهمية النباتات الصخرافية؟؟



1




2





من سيات الأسرة الهتدة قديما في الإمارات



هو رب الأسرة

..... والترايط بين أفراد الأسرة

www.almanahj.com

تنعم الأسرة با.....

اختر صورة نها الأسرة قديما



- وتسمى بالأسرة :
والتي تتكون من ثلاث أجيل أو أكثر

أعم أعمال المرأة قديما في دولة الإمارات



ضع الكلمات التالية في مكانها المناسب :

(الأسرة - المطوعة - الابار - الأجداد)

المياة التحتية التي تنساب تحت سطح الأرض بعد سقوط الأمطار.....

الخلية الأساسية لبناء المجتمع هي


الملتقى الرئيس لأفراد الأسرة كافة كبارا وصغارا ورجالا ونساء هو بيت

المعلمة التي كانت تقوم بعملية التدريس قديما

الحرف الإماراتية القديمة ،، أنواع التعليم في بلادي قديما

أكل فيها يلي :

الصفوف الدراسية قديما في دولة الإمارات العربية المتحدة تسمى
والذي يعلمهم يسمى ، ومن صفاته وكان
يعلمهم :



وزع الحرف التالية في البيئة المناسبة فيها يلي :

صيد السمك - الرعي - الزراعة - الغوص على اللؤلؤ

البيئات الداخلية	البيئات الساحلية

من الذي أهتم بإنشاء المدارس قديما ؟

www.almanahj.com

هوط ،، الإمارة التي ظهرت فيها اول مدرسة شبه نظامية ؟



ما اسم أول مدرسة شبه نظامية ؟

.....

.....

من الذي أسس هذه المدرسة ؟

.....

سنة كم تأسست ؟

.....



مدرسة شبه نظامية تأسست في عام 1912

مدرسة.....

على يد التاجر.....

وظهرت هذه المدرسة في إمارة

.....

من خلال الفقرة التي أمامك أجب على الأسئلة التالية:



تُعَدُّ القَبِيلَةُ الوَحْدَةُ السِّيَاسِيَّةُ عِنْدَ العَرَبِ. ذَلِكَ أَنَّ القَبِيلَةَ هِيَ مَجْمُوعَةٌ مِنَ النَّاسِ يَنْتَمُونَ إِلَى أَصْلٍ وَاحِدٍ مُشْتَرِكٍ تَجْمَعُهُمْ رَابِطَةُ الدَّمِّ، الَّذِي يَنْقُلُ الصِّفَاتِ الوَرِاثِيَّةَ فِيمَا بَيْنَهُمْ لَقَدْ تَكَوَّنَ مَجْتَمَعُ الإِمَارَاتِ مِنْذُ سِنِينَ طَوِيلَةٍ مِنْ قَبَائِلٍ عَرَبِيَّةٍ أَصِيلَةٍ تَنْتَمِي إِلَى قَبَائِلِ قَحْطَانِيَّةٍ وَعَدْنَانِيَّةٍ، وَقَدَّتْ مِنْ شِبْهِ الجزيرة العَرَبِيَّةِ. فالرَّسُولُ صَلَّى اللهُ عَلَيْهِ وَسَلَّمَ يَنْتَمِي إِلَى قَبِيلَةِ قُرَيْشٍ وَيَرْجِعُ نَسَبَهُ إِلَى عَدْنَانَ، وَهِيَ قَبِيلَةٌ عَرِيقَةٌ النَّسَبِ وَالشَّرْفِ، وَقَدَّ كَانَتْ القَبَائِلُ هِيَ الحَجَرُ الأَسَاسِي فِي تَكَوُّنِ مَجْتَمَعِ شِبْهِ الجزيرة العَرَبِيَّةِ

- الوحدة السياسية عند العرب

- ترجع أصول سكان الإمارات إلى قبائل و

- ينتمي الرسول صلى الله عليه وسلم إلى قبيلة

- مجموعة من الناس ينتمون إلى أصل واحد.....

- استقرت بعض القبائل على الساحل للخليج العربي



وهو المعاهدة على التعاون ومد يد العون



أكل



حلف
بزعامة
نوع القوة
مقرهم

حلف بزعامة

نوع قوة مقرهم



www.almanahj.com

ضع أسماء القبائل في مكانها المناسب :

القواسم - النعيم - آل علي - الشرقيين - بني ياس - البوفلاسة

الإمارة	اسم القبيلة
أبوظبي	
دبي	
الشارقة ورأس الخيمة	
عجمان	
أم القيوين	
الفجيرة	

ثانياً < رجال هلدنم التاريخ >



أكمل

أول من نادى إلى فكرة الاتحاد

بين الإمارات هو الشيخ

سنة ميلادي

تولى الحكم وهو في سن

نشأ محباً

من ألقبه

من صفاته

لماذا لم ترى فكرته في
الاتحاد طريقها إلى النور؟



لون المعلم الذي أمامك وكتب

اسمه

من الذي بنى هذا المعلم؟؟؟

اكتب من أهم إنجازاته



www.almanahj.com

اشتهر بسيفه المسمى



أستكمل المخطط الزمني التالي



18 فبراير م

اجتماع

كان بين إمارتي

..... و

بقيادة



.....

أعلنا عن قيام اتحاد

.....

والرصيد بـ

تلة كبيرة من الرمال

.....



25 فبراير م

اجتماع

عقد هذا الاجتماع في

.....

وضم هذا الاجتماع حكام الإمارات

وحاكمي

و

يسمى هذا الشعار

بـ



18 يوليو م

اجتماع



..... م

اجتماع

وُلِدَ الشَّيْخُ زَايِدُ بْنُ سُلْطَانَ آلِ نَهْيَانَ فِي قَصْرِ الْحَصْنِ بِإِمَارَةِ أَبُو ظَبْيِ عام 1918 م، وَهُوَ الابْنُ الْأَصْغَرُ بَيْنَ أَرْبَعَةِ أَبْنَاءِ لِلشَّيْخِ سُلْطَانَ بْنِ زَايِدِ آلِ نَهْيَانَ -رَحِمَهُ اللهُ- حَاكِمِ إِمَارَةِ أَبُو ظَبْيِ. وَأَنْتَقَلَ الشَّيْخُ زَايِدُ إِلَى مَنْطِقَةِ الْعَيْنِ بَعْدَ وَفَاةِ وَالِدِهِ حَيْثُ نَشَأَ بِهَا وَتَلَقَّى تَعْلِيمَهُ عَلَى يَدِ الْمُطَوِّعِ، فَحَفِظَ الْقُرْآنَ الْكَرِيمَ وَنَشَأَ عَلَى الْعَادَاتِ وَالتَّقَالِيدِ الْعَرَبِيَّةِ الْأَصِيلَةِ، فَشَبَّ عَلَى حُبِّ الْعُرُوبَةِ وَالاعتزازِ بِهَا وَالْحِفَاظِ عَلَى تَقَالِيدِ وَعَادَاتِ الشَّعْبِ الْإِمَارَاتِيِّ.

من خلال الفقرة التي أمامك أجب على الأسئلة التالية:

- ولد الشيخ زايد في قصر بإمارة.....

عام.....

- تربيته بين أخوته.....

- انتقل الشيخ زايد بعد وفاة والده إلى منطقة

- تلقى الشيخ زايد تعليمه على يد

- الصفات التي اكتسبها وشب عليها و

.....

ركائز من بلادي

أولاد الحكومة > ثانياً دستور >

أكل

لكل دولة

لكل دولة

الهيكل التنظيمي في دولة الإمارات:

5

3

1



المحاكم بمختلف درجاتها



مجلس



نائبه هو الشيخ



رئيس الاتحاد هو الشيخ

4

العجلس الوطني



يتكون من عضوا
يمثلون الإمارات السبع

2

العجلس



أعلى سلطة اتحادية
تتكون من
الإمارات

من مهام الحكومة؟

من القيم الوطنية؟

.....
.....
.....
.....

.....
.....
.....
.....



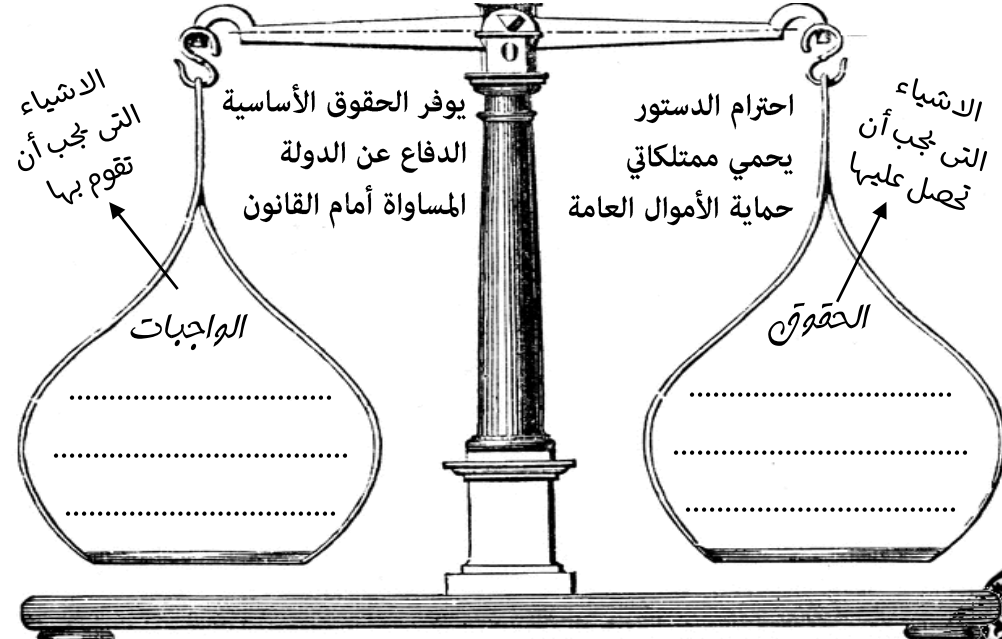
من أنا؟

وهي السلطة التي تتول إدارة شؤون البلاد وتنظم العلاقة بين أفراد المجتمع:

من أنا؟

مجموعة من القواعد والقوانين تنظم الحكم في الدولة وتبين حقوق كل فرد وواجباته.

صنف الكلمات التالية وفق معطيات التي أمامك:



ركائز من بلادي

الاسم: الصف الرابع: < >
ثالثا < شهداء الوطن >



ها استكشف سيرتي الذاتية

أول شهيد إماراتي

كان يعمل في مركز

التابع لجزيرة

الجزيرة تابعة لإمارة

الدولة التي احتلت هذه الجزيرة

من صفات الشهيد



تم تشكيل جيش من قوات التحالف العربي بقيادة كل من

سمي هذا التحالف ب (.....)
لماذا سميت بهذا الاسم؟

لدلالة على

من أسباب مشاركة دولة الإمارات العربية
المتحدة في عاصفة الحزم؟

1

2

أكل

عدد الجزر الإماراتية الثلاث المحتملة:

-
-
-
- فسر؟؟؟ احتلال إيران للجزر الثلاث:
-
-



من مبادرات التي قامت بها دولة الإمارات العربية
المتحدة لتكريم الشهداء؟

1

2

3

4

مشاركة الحكام
وأولياء العهود في دولة
الإمارات لتشيع الشهداء
وتقديم واجب العزاء
دلالة على مفهوم
(.....)

رحلة المعرفة (خطوط طول دوائر العرض)

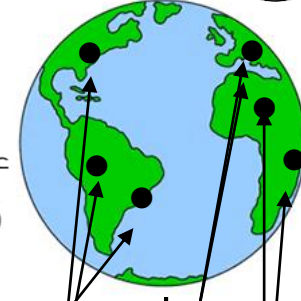
الوحدة الأولى: أعرف بلادي

الاسم : الصف الرابع : (.....)

أولا (الموقع النسبي)



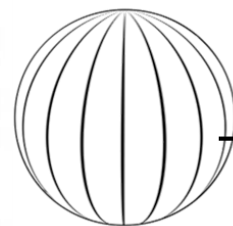
أكمل
الخطوط
الذي
أمامك
بها
يناسب



الموقع الجغرافي

الموقع الفلكي

موقع المكان بالنسبة



خطوط ... **الطول** ...



دوائر ... **العرض** ...

الموقع النسبي

موقع المكان بالنسبة



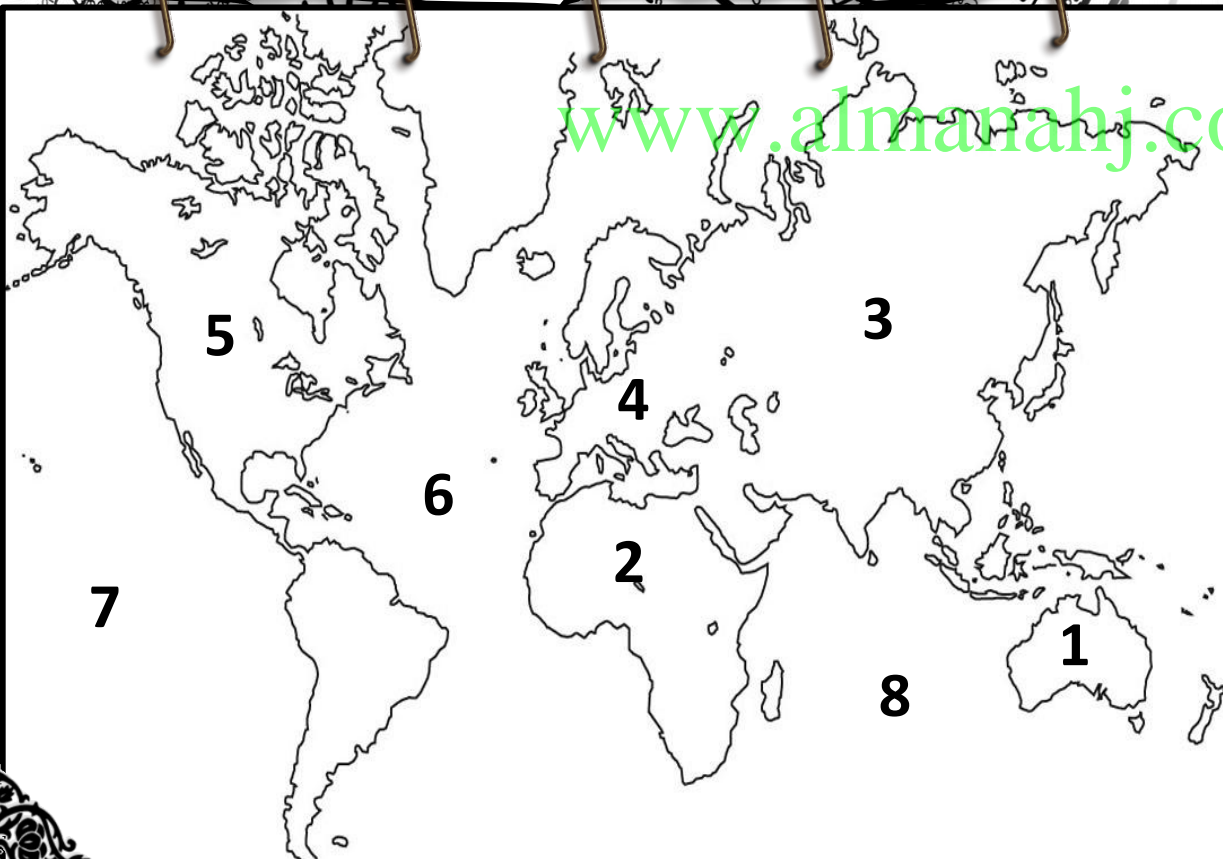
للبياسة



الماء

اكتب مدلولات الأرقام :

1. قارة **استراليا**
2. قارة **أفريقيا**
3. قارة **آسيا**
4. قارة **أوروبا**
5. قارة **أمريكا الشمالية**
6. المحيط **الأطلسي**
7. المحيط **الهادي**
8. المحيط **الهندي**



www.almanahj.com

الوحدة الأولى: أعرف بلادي (رحلة المعرفة) خطوط طول ودوائر العرض الاسم : الصف الرابع : (.....)



ثانيا وثالثا (الموقع الفلكي خطوط الطول ودوائر العرض)



يبلغ عدد دوائر العرض
..... دائرة عرض 180



دائرة العرض الرئيسة وتقسّم العالم إلى
نصفين متساويين (شمالي وجنوبي)
هو خط الاستواء ودرجته
تساوي صفر



ما هي أهمية دوائر العرض ؟

تحديد المواقع الجغرافية

تعرف على المناخ والنبات الطبيعي

www.almanahj.com

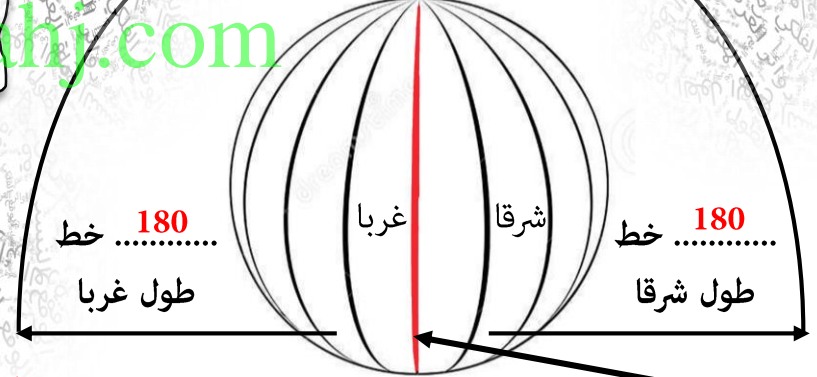
أضع الكلمات المساعدة أمام الجمل الآتية :

خطوط الطول - الموقع الفلكي - دوائر العرض

موقع المكان بالنسبة لخطوط الطول ودوائر العرض **الموقع الفلكي**
خطوط طولية وهمية ترسم على الخرائط على شكل أنصاف دوائر تقسم
العالم إلى قسمين متساويين شرقا وغربا **خطوط الطول**
خطوط وهمية ترسم على الخرائط على شكل دوائر تامة الاستدارة تقسم
العالم إلى قسمين متساويين شمالا وجنوبا **دوائر العرض**

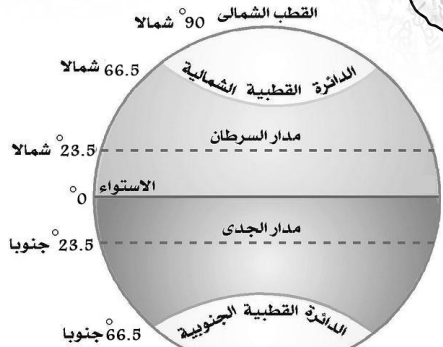
يبلغ عدد خطوط الطول

..... 360 خطا



خط يقسم العالم إلى قسمين متساويين (شرقي وغربي) هو خط **جرينتش**
وهو خط الطول الرئيسي درجته تساوي **صفر**

أضع علامة (✓) أمام
العبارة الصحيحة
وعلمة (✗) أمام العبارة
غير الصحيحة فيما يلي :



- يقع مدار السرطان في نصف الكرة الجنوبي (✗)
- يمر خط الاستواء عند دائرة عرض الصفر (✓)
- مدار الجدي يقع عند دائرة عرض 23.5 شمالا (✗)
- يقسم خط الاستواء العالم إلى قسمين متساويين شرقا وغربا (✗)
- تعرف دائرة العرض الرئيسة بخط الاستواء (✓)

ما هي أهمية خطوط الطول ؟

تحديد المواقع الجغرافية

تحديد الزمن

الوحدة الأولى: أعرف بلادي

موقع بلادي

أولاً «الموقع الفلكي لدولة الإمارات العربية المتحدة»

أكمل

- أنا خريطة دولة **الإمارات العربية المتحدة**
- عاصمتي **أبوظبي**
- عدد إماراتي **7**

- تبلغ مساحتي **83.600 كم²**

تأسست في **2 / ديسمبر / 1971 م**



الاسم: الصف الرابع: (.....)



- حاكم الدولة صاحب السمو

الشيخ خليفة بن زايد آل نهيان

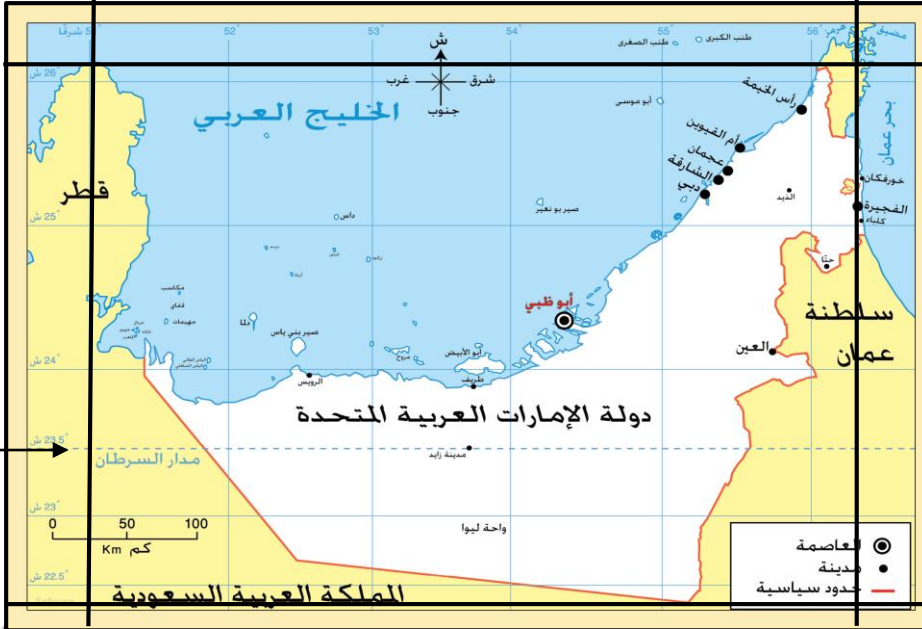


أقرأ خريطة الإمارات ثم أستكمل الآتي

دائرة عرض تمر بدولة الإمارات **مدار السرطان**.....

تقع دولة الإمارات بين خطي طول :

56.5 درجة شرق خط جرينتش **51** درجة شرق خط جرينتش



تقع دولة الإمارات بين دائرتي عرض :
26.5 درجة شمال
خط الاستواء
22 درجة شمال
خط الاستواء

أضع علامة (✓) أمام العبارة الصحيحة وعلامة (x) أمام العبارة غير الصحيحة فيما يلي :

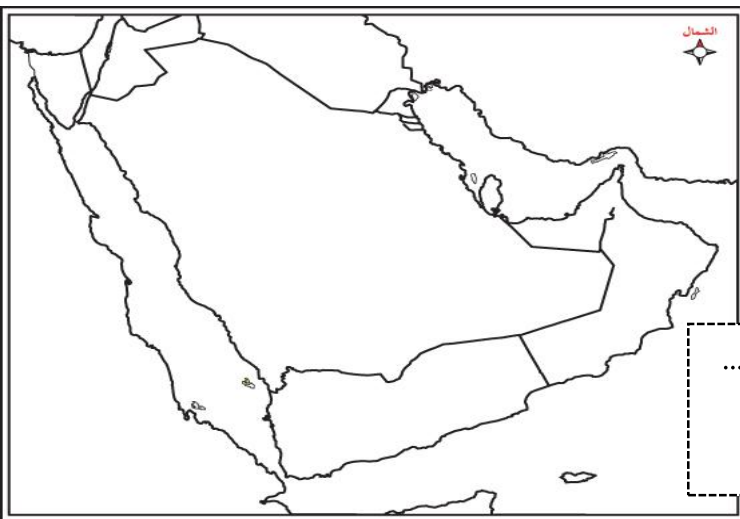
- يبلغ عدد دوائر العرض التي تقع عليها دولة الإمارات 4.5 دائرة عرضية (✓)
- اللغة الرسمية لدولة الإمارات اللغة العربية (✓)
- يمر مدار السرطان في الأجزاء الشمالية من الدولة (x)

ثانيا « الموقع النسبي لدولة الإمارات العربية المتحدة »



تقع دولة الإمارات في**شرق**..... الوطن العربي
لون دولة الإمارات على الخريطة.

- تقع دولة الإمارات في **قلب** **أو وسط** العالم القديم.
- قارات العالم القديم هي **آسيا** و **أفريقيا** و **أوروبا**
- تقع دولة الإمارات في جنوب غرب قارة **آسيا**
- حوط دولة الإمارات على الخريطة
- اكتب المحيطات التالية على الخريطة :
(المحيط الهادي - المحيط الهندي - المحيط الأطلسي - المحيط المتجمد الشمالي)



أقرأ خريطة ثم أستكمل الآتي
تقع دولة الإمارات في الجهة **الشرقية**
من شبه الجزيرة العربية
لون الإمارات على الخريطة



الوحدة الأولى: أعرف بلادي

موقع بلادي

ثانياً «الموقع النسبي لدولة الإمارات العربية المتحدة»

الخليج. **الخليج العربي**.....

جهة

.....**شمال**.....

إقرأ خريطة الإمارات ثم
أستكمل الآتي

الاسم: الصف الرابع: (.....)



اكتب المفهوم المناسب فيما يلي:



منطقة من اليابس محاطة
بالماء من ثلاث جهات
شبة الجزيرة



عام
زايد
2018



بحر...**عمان**.....

جهة
شمال

دولة **السعودية**.....

جهة
الغرب

دولة **السعودية**.....

خطوط حددها الإنسان ورسمت حتى تفصل بين حدود
دولة ودولة أخرى، وتمارس فيها دولة سيادتها
الحدود السياسية.....

جهة

.....**الجنوب**.....

دولة **السعودية**.....

أكمل

لسان كبير من الماء محاط
باليابس من ثلاث جهات
الخليج



يابسة تحيط بها المياه من
جميع الجهات
الجزيرة.....

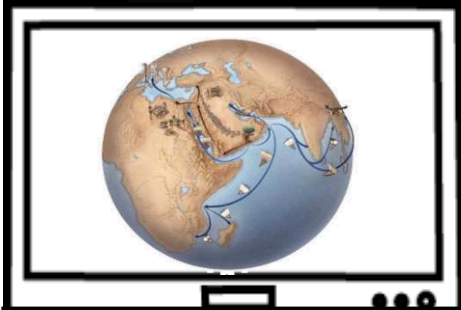
- تقع دولة الإمارات في قارة **آسيا**..... في جهة **الجنوب الغربي**.....
- تطل دولة الإمارات من الشرق على بحر **عمان**.....
- تحيط مياه الخليج العربي بدولة الإمارات من جهة **الشمال**.....
- دولتين تشتركان مع دولة الإمارات بالحدود البرية **عمان**..... من جهة الشرق و..... **السعودية**..... من جهة الجنوب والغرب.
- دائرة العرض الرئيسة التي تمر بدولتنا الحبيبة **مدار السرطان**.....
- تقع دولة الإمارات في جهة **الشرق**..... لشبة الجزيرة العربية وجهة **الشرق**..... من الوطن العربي

ثالثا « أهمية موقع بلادي »

استخلص أهمية الموقع الجغرافي بناء على الصور التالية



الأهمية **التاريخية**



الأهمية **الاقتصادية**



الأهمية **الاستراتيجية**

اكتب المفهوم المناسب فيما يلي :

الحضارة كل جهد قام به الإنسان لتحسين ظروف حياته

ما هي الأهمية الاقتصادية للموقع الجغرافي

لدولة الإمارات العربية المتحدة ؟

- 1 **ازدهرت طرق التجارة البرية والبحرية**
- 2 **نشطت تجارة الترانزيت**
- 3 **البجار مصدر للرزق**

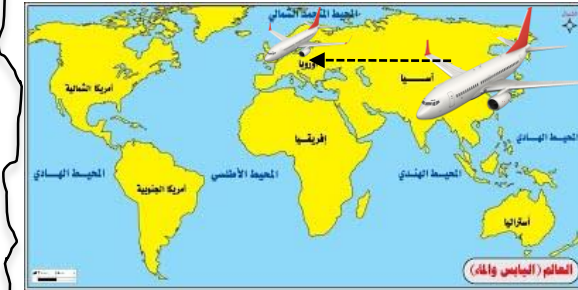
ما المقصود ب :

استيراد السلع وإعادة تصديرها إلى دول العالم

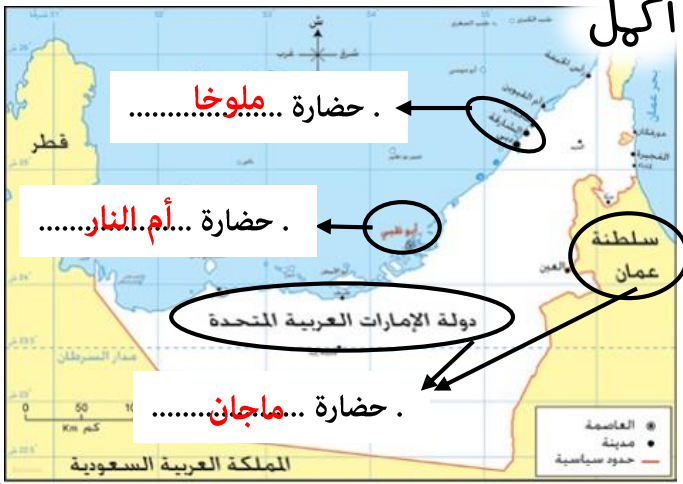
تجارة الترانزيت



حلقة **وصل** بين الشمال والجنوب والشرق والغرب



معبرا لرحلات **الجوية** بين **آسيا** و **أوروبا**

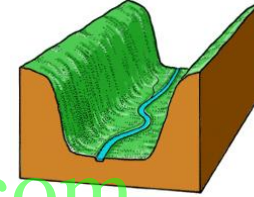




كثلة صخمة من الصخور المرتفعة
عن سطح الأرض ذات قمم تتميز
بالحدة والارتفاع

الجبال

من أنا



هي أراض طويلة منخفضة
تحيطها أراض مرتفعة من
الجوانب

السودي

أهمية الجبال الاقتصادية

ازدهار السياحة



تخزين مياه الأمطار



تزداد مواد البناء



انتشار الزراعة



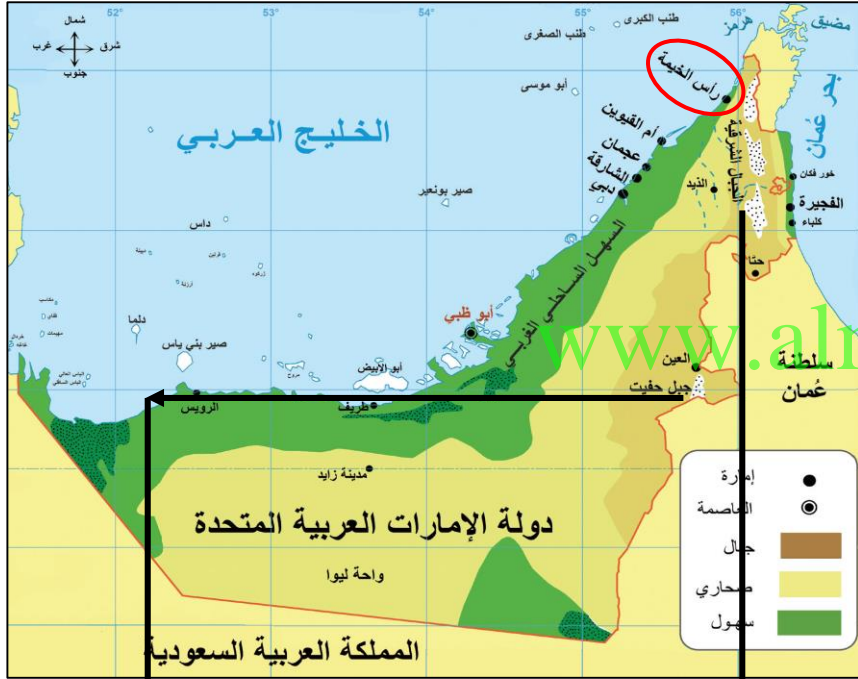
الصبر
الصمود
الثبات
التحدي
تقبل أي إجابة صحيحة

أعمل فيما يلي:

الاسم: الصف الرابع: (.....)



تقع الجبال في دولة الإمارات في الجهة الشرقية
أعلى قمة جبلية في دولة الإمارات هي قمة جبل جيسن
ضع دائرة على الخريطة بالمكان الذي توجد به أعلى قمة جبلية في الإمارات



تنقسم الجبال في دولة الإمارات إلى قسمين

القسم الجنوبي

القسم الشمالي

اختار الإجابة الصحيحة فيما يلي:

يقع جبل حفيت في مدينة :
(كلباء - العين - خورفكان)



وهذه السهول مطله على **البحر**

وتنقسم السهول الساحلية إلى قسمين

أوجه المقارنه	
<p>أنا السهل الساحلي الغربي</p>	<p>أنا السهل الساحلي الشرقي</p>
على الخريطة	على الخريطة
قصير - طويل	قصير - طويل
واسع - ضيق	واسع - ضيق
..... دبي عجمان و..... الشارقة الفجيرة و..... دبا خورفكان و..... وكلبا
من أشهر المدن	

الأهمية الاقتصادية للسهول الساحلية :

..... ممارسة الهوايات البحرية التجارة السياحة الصيد البحري

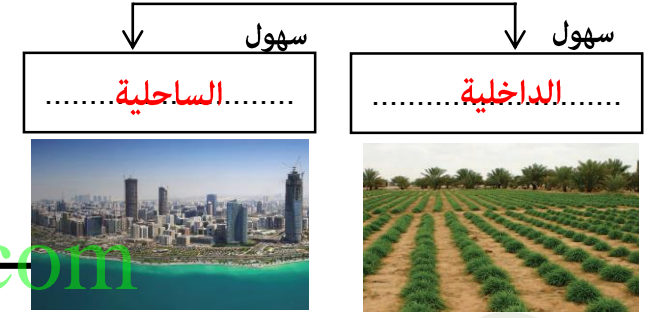
ثانيا « السهول » السهول الساحلية



أرض منبسطة قليلة الارتفاع

..... **السهول**

وتنقسم في دولة الإمارات إلى قسمين



أعمل فيما يلي

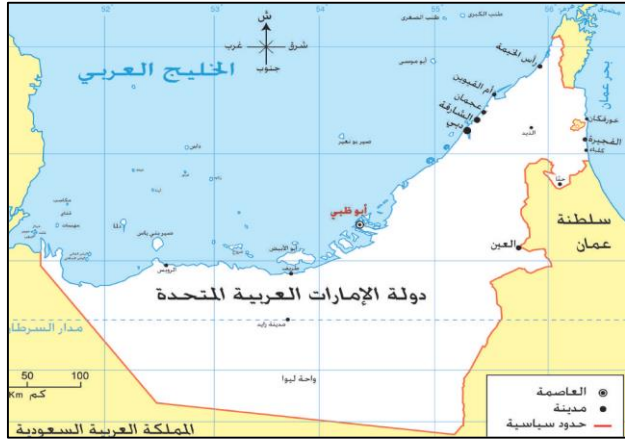
ترتبط بالسهول الساحلية بعض
الظواهر الطبيعية مثل
..... **الأخوار**

..... **السبخات**

..... **الجزر**



الاسم : الصف الرابع : (.....)



من خلال الخريطة التي أمامك استكمل التالي :

- من الجزر الإماراتية المحتملة **طنيب الكبرى**... **طنيب الصغرى** **أبوموسى**
- الدولة التي احتلت الجزر الإماراتية الثلاث هي **إيران**.....
- سنة الاحتلال **1971**.....

من أنا

جزء من اليابس تحيط بها
المياه من جميع الجهات
..... **الجزيرة**



أهمية الجزر الاقتصادية

موانئ... **تصدير النفط**... مثل جزيرة **داس**.....



محميات طبيعية... مثل جزيرة **صير بني ياس**.....

مناطق سكنية... مثل جزيرة **دلم**.....



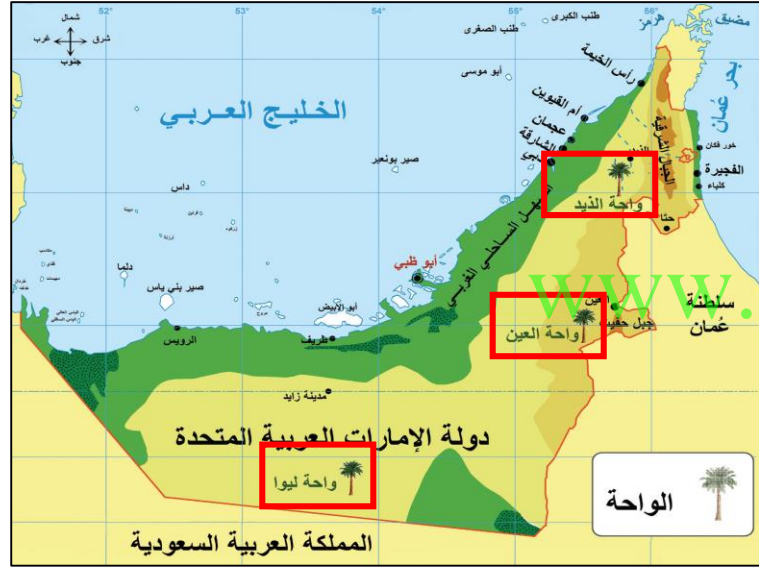
من أنا
أماكن تخصص لحماية الأنواع
الحيوانية والنباتية المهددة بالانقراض
..... **محميات طبيعية**



أرض منخفضة في الصحراء تكثر فيها المياه والزراعة؟ فمن أنا؟

.....**السواحة**.....

حوض الواحات الموجودة في دولة الإمارات:



أرض تنبض بالحياة من أقوال الشيخ

.....**خليفة**.....

علمتني الصحراء أن نصبر طويلاً حتى ينبت الخبز من أقوال الشيخ

.....**زايد**.....

من أنا



أرض جافة قليلة المطر ولوني على الخريطة أصفر

فمن أنا؟؟
.....**الصحراء**.....

أنا صحراء اختار الإجابة الصحيحة فيما يلي:

أمطاري:

(نادرة - غزيرة)

نباتاتي:


(قليلة - كثيرة)

حرارتي صيفاً:

(مرتفعة - منخفضة)

سكاني:

(قليل - كثير)




الأهمية الاقتصادية للصحراء

استخراج **النفط**....

الزراعة في الواحات....

تربية الأغنام.....

سباق الهجن.....



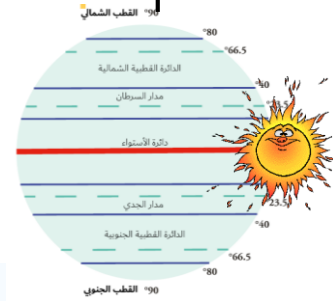
أولا <مناخ بلادي >



العوامل المؤثرة في مناخ بلادي



.....عامل الارتفاع.....




.....مرون مدار السرطان.....



.....إشراف الدولة على مسطحات مائية.....

درجة الحرارة



الجبل



عند قمة الجبل تكون درجات الحرارةمنخفضة.....



.....عند قاعدة الجبل تكون درجات الحرارة ..مرتفعة.....

كون تعيها من خلال الصورة التي أمامك

.....كل ما ارتفعنا فوق الجبال تنخفض درجات الحرارة.....

أبيها أكثر برودة وأصطارا:

المناطق القريبة من البحار

المناطق الداخلية

قارن بين فصلي الشتاء والصيف في دولة الإمارات بناء على الجدول

وجه المقارنة	فصل الصيف	فصل الشتاء
درجة الحرارة	مرتفعة	منخفضة
الأمطار	جاف	ممطر

تقع دولة الإمارات في المنطقة **الميدارية** الجافة ويسود فيها إقليم المناخ ...**صحراوي جاري**.....

يمر مدار السرطان في الجزء**الجنوبي**..... من الإمارات

حالة الجو خلال شهر أو فصل أو سنة هو**المناخ**.....

أصل

الوحدة الأولى: أعرف بلادي المناخ والحياة الطبيعية في بلادي

ثانياً «الحياة الطبيعية النباتية والحيوانية»



الاسم: الصف الرابع: (.....)



تنقسم النباتات إلى نوعين رئيسيين هما

النباتات**الحولية**..... نباتات تنمو مباشرة بعد سقوط الأمطار مثل

النباتات **المعمرة**..... نباتات التي تنمو طول العام دون تدخل الإنسان مثل



الكما "الفقع".....

الخبيز.....

الحميض.....

السمر.....

الغاف.....

البيسر.....

علل أو فسر؟؟ تنوع الثروة البرية في دولة الإمارات؟؟



1 تنوع **المناخ** 2 موارد **المياه** 3 تنوع **النبات الطبيعي** 4 تنوع **التضاريس**

فسر؟؟.. أهمية النباتات الصخرافية؟؟

1 **رعي الحيوان**.....



2 **صناعة الأدوية**.....



3 **الحصول على الخشب للوقود**


ضع الكلمات التالية في مكانها المناسب:

(الصفر - البيئة الوطني - الغاف - الكما)

- فطر بري موسمي ينمو بعد سقوط الأمطار.....**الكما**.....
- من أكثر الأشجار التي تتحمل درجات الحرارة والملوحة وتقلبات الجو شجرة.....**الغاف**.....
- طائر بري جميل المنظر عذب الصوت يمنع صيده منعاً باتاً.....**الصفر**.....
- تحتفل دولة الإمارات سنوياً في 4 من فبراير بيوم.....**البيئة الوطني**.....



من سمات الأسرة الممتدة قديما في الإمارات



.....**الجد**..... هو رب الأسرة

.....**التعاون والتكافل**..... والترابط بين أفراد الأسرة

.....**بالاستقرار**..... تنعم الأسرة با

اختر صورة نها الأسرة قديما



- وتسمى بالأسرة :**الممتدة**.....
والتي تتكون من ثلاث أجيال أو أكثر

www.almanahj.com

أهم أعمال المرأة قديما في دولة الإمارات



.....**طحن الحبوب**.....



.....**تربية الأبناء**.....



.....**تعليم الأبناء القرآن الكريم**.....



.....**جلب الماء من الأبار**.....

ضع الكلمات التالية في مكانها المناسب :

(الأسرة - المطوعة - الابار - الأجداد)

المياه التحتية التي تنساب تحت سطح الأرض بعد سقوط الأمطار.....**الأبار**.....

الخلية الأساسية لبناء المجتمع هي**الأسرة**.....

الملتقى الرئيس لأفراد الأسرة كافة كبارا وصغارا ورجالا ونساء هو بيت**الأجداد**.....

المعلمة التي كانت تقوم بعملية التدريس قديما**المطوعة**.....

الحرف الإماراتية القديمة ،، أنواع التعليم في بلادي قديما

أكل فيها يلي :

وزع الحرف التالية في البيئة المناسبة فيها يلي :

صيد السمك - الرعي - الزراعة - الغوص على اللؤلؤ

البيئات الداخلية	البيئات الساحلية
الرعي	صيد السمك
الزراعة	الغوص على اللؤلؤ

الصفوف الدراسية قديما في دولة الإمارات العربية المتحدة تسمى **الكتاتيب**
والذي يعلمهم يسمى **المطوع** ، ومن صفاته **حكيمها** وكان يعلمهم :



..... **القرآن الكريم** **الحديث الشريف** **الكتابة والقراءة**

www.almanahj.com

من الذي أهتم بإنشاء المدارس قديما ؟

..... **تجار اللؤلؤ**

هوط ،، الإمارة التي ظهرت فيها اول مدرسة شبه نظامية ؟



ما اسم أول مدرسة شبه نظامية ؟

..... **التيمية الأحمدية**



من الذي أسس هذه المدرسة ؟

..... **الشيخ علي بن محمد المحمود التميمي**

سنة كم تأسست ؟

..... **1906**



مدرسة شبه نظامية تأسست في عام 1912

..... **ابن خلف**

على يد التاجر **خلف بن عبدالله العتيبة**

وظهرت هذه المدرسة في إمارة

..... **أبوظبي**

من خلال الفقرة التي أمامك أجب على الأسئلة التالية:



تُعَدُّ القَبِيلَةُ الوَحْدَةُ السِّيَاسِيَّةُ عِنْدَ العَرَبِ. ذَلِكَ أَنَّ القَبِيلَةَ هِيَ مَجْمُوعَةٌ مِنَ النَّاسِ يَنْتَمُونَ إِلَى أَصْلٍ وَاحِدٍ مُشْتَرِكٍ تَجْمَعُهُمْ رَابِطَةُ الدَّمِّ، الَّذِي يَنْقُلُ الصِّفَاتُ الوَرِاثِيَّةَ فِيمَا بَيْنَهُمْ لَقَدْ تَكَوَّنَ مَجْتَمَعُ الإِمَارَاتِ مِنْذُ سِنِينَ طَوِيلَةٍ مِنْ قَبَائِلٍ عَرَبِيَّةٍ أَصِيلَةٍ تَنْتَمِي إِلَى قَبَائِلٍ قَحْطَانِيَّةٍ وَعَدْنَانِيَّةٍ، وَقَدَّتْ مِنْ شِبهِ الجزيرة العَرَبِيَّةِ. فَالرَّسُولُ صَلَّى اللهُ عَلَيْهِ وَسَلَّمَ يَنْتَمِي إِلَى قَبِيلَةِ قُرَيْشٍ وَيَرْجِعُ نَسَبَهُ إِلَى عَدْنَانَ، وَهِيَ قَبِيلَةٌ عَرِيقَةُ النِّسَبِ وَالشَّرْفِ، وَقَدْ كَانَتْ القَبَائِلُ هِيَ الحَجَرُ الأَسَاسِي فِي تَكَوُّنِ مَجْتَمَعِ شِبهِ الجزيرة العَرَبِيَّةِ

- الوحدة السياسية عند العرب **القَبِيلَةُ**
- ترجع أصول سكان الإمارات إلى قبائل..... **عَدْنَانِيَّةٍ** و..... **قَحْطَانِيَّةٍ**
- ينتمي الرسول صلى الله عليه وسلم إلى قبيلة..... **قُرَيْشٍ**
- مجموعة من الناس ينتمون إلى أصل واحد..... **القَبِيلَةُ**

استقرت بعض القبائل على الساحل **الشرقي**..... للخليج العربي



الحلاف (الأحلاف)

وهو المعاهدة على التعاون ومد يد العون



أكل

حلف **بني ياس** بزعامة **آل نهيان**

نوع قوة **برية** مقرهم **الظفرة** و**أبو ظبي**



حلف **القواسم**
 بزعامة **القواسم**
 نوع القوة **بحرية**
 مقرهم **رأس الخيمة**

ضع أسماء القبائل في مكانها المناسب :

القواسم - النعيم - آل علي - الشرقيين - بني ياس - البوفلاسة

الإمارة	اسم القبيلة
أبو ظبي	بني ياس
دبي	البوفلاسة
الشارقة ورأس الخيمة	القواسم
عجمان	النعيم
أم القيوين	آل علي
الفجيرة	الشرقيين

ثانياً < رجال هلدنم التاريخ >



أكمل

أول من نادى إلى فكرة الاتحاد

بين الإمارات هو الشيخ

زايد بن خليفة آل نهيان.

سنة ميلادي
1837 م

لون المعلم الذي أمامك وكتب

اسمه قصر الحصن



من الذي بنى هذا المعلم؟؟؟

الشيخ ذياب بن عيسى آل نهيان

تولى الحكم وهو في سن
العشرين



تولى حكم إمارة
أبوظبي

www.almanahj.com

من صفاته

الشجاعة

الفروسية

المحنكة السياسية

من ألقابه
زايد الأول

نشأ محبا
للأدب والشعر

اشتهر بسيفه المسمى
الغمامة

لماذا لم ترى فكرته في
الاتحاد طريقها إلى النور ؟

لأن بريطانيا وقفت

ضد فكرته

اكتب من أهم إنجازاته



نشر الأمن والأمان



بنى قلعة الجاهلي



اهتم بالزراعة وبناء الأفلاج



أستكمل المخطط الزمني التالي



18 فبراير 1968م

اجتماع **عرقوب السديرة**

كان بين إمارتي

أبو ظبي و **دبي**

بقيادة



الشيخ راشد



الشيخ زايد

أعلنا عن قيام اتحاد

ثنائي

والمقصود بـ

تلة كبيرة من الرمال

العرقوب



25 فبراير 1968م

اجتماع **دبي الأول**

عقد هذا الاجتماع في

دبي

وضم هذا الاجتماع حكام الإمارات

السبع

وحاكمي **قطر**

و **البحرين**

يسمى هذا الشعار

بـ **روح الاتحاد**



18 يوليو 1971م

اجتماع **دبي الثاني**



2 / **ديسمبر** / 1971م

اجتماع **إعلان الاتحاد**

وُلِدَ الشَّيْخُ زَايِدُ بْنُ سُلْطَانَ آلِ نَهْيَانَ فِي قَصْرِ الْحِصْنِ بِإِمَارَةِ أَبُو ظَبْيِ عَامَ 1918 م، وَهُوَ الابْنُ الْأَصْغَرُ بَيْنَ أَرْبَعَةِ أَبْنَاءِ الشَّيْخِ سُلْطَانَ بْنِ زَايِدِ آلِ نَهْيَانَ -رَحِمَهُ اللَّهُ- حَاكِمِ إِمَارَةِ أَبُو ظَبْيِ. وَأَنْتَقَلَ الشَّيْخُ زَايِدُ إِلَى مَنطِقَةِ الْعَيْنِ بَعْدَ وَفَاةِ وَالِدِهِ حَيْثُ نَشَأَ بِهَا وَتَلَقَّى تَعْلِيمَهُ عَلَى يَدِ الْمُطَوِّعِ، فَحَفِظَ الْقُرْآنَ الْكَرِيمَ وَنَشَأَ عَلَى الْعَادَاتِ وَالتَّقَالِيدِ الْعَرَبِيَّةِ الْأَصِيلَةِ، فَشَبَّ عَلَى حُبِّ الْعَرُوبَةِ وَالاعْتِزَالِ بِهَا وَالْحِفَاظِ عَلَى تَقَالِيدِ وَعَادَاتِ الشَّعْبِ الْإِمَارَاتِيِّ.

من خلال الفقرة التي أمامك أجب على الأسئلة التالية:

ولد الشيخ زايد في قصر **الحصن** بإمارة **أبو ظبي**

عام **1918م**.

ترتيبه بين أخوته.....**4**

انتقل الشيخ زايد بعد وفاة والده إلى منطقة **العين**

تلقى الشيخ زايد تعليمه على يد **المطوع**

الصفات التي اكتسبها وشب عليها..... **حب العروبة** و

الحفاظ على العادات والتقاليد

ركائز من بلادي

أولاً « الحكومة » ثانياً « دستور »

أكمل

لكل دولة

لكل دولة

.....
دستور

.....
حكومة

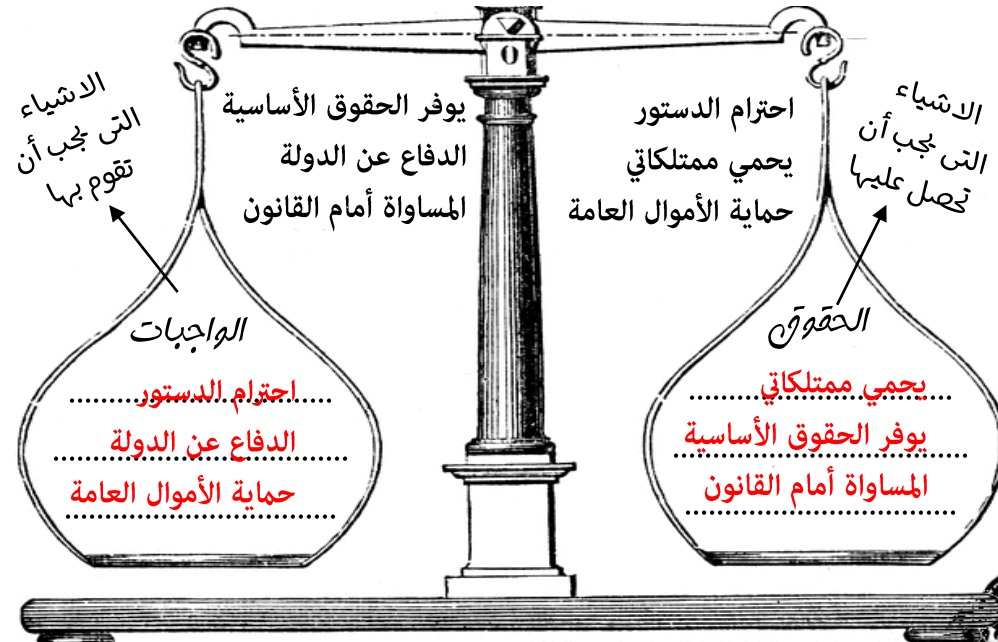
من أنا؟

وهي السلطة التي تتول إدارة شؤون البلاد وتنظم العلاقة بين أفراد المجتمع :
حكومة

من أنا؟

مجموعة من القواعد والقوانين تنظم الحكم في الدولة وتبين حقوق كل فرد وواجباته.
دستور

صنف الكلمات التالية وفق معطيات التي أمامك :



الهيكل التنظيمي في دولة الإمارات:



من مهام الحكومة؟

- الدفاع عن الدولة
- وضع القوانين
- تطوير البلاد

من القيم الوطنية؟

- الحب - الولاء
- الاعتزاز - الانتماء
- احترام القادرة واحترام الدستور

ركائز من بلادي

تالنا < شهداء الوطن > الاسم : الصف الرابع : < >



ها استكشف سيرتي الذاتية

أول شهيد إماراتي

..... **سالم سهيل خميس**

كان يعمل في مركز

..... **الشرطة**

التابع لجزيرة

..... **طنب الكبرى**

الجزيرة تابعة لإمارة

..... **رأس الخيمة**

الدولة التي احتلت هذه الجزيرة

..... **إيران**

من صفات الشهيد

..... **الشجاعة**

طنب الكبرى

أكل فيها يلي؟

تم تشكل جيش من قوات التحالف العربي بقيادة كل من



..... **السعودية**

..... **الإمارات**

سمي هذا التحالف ب (..... **عاصفة الحزم**)

لماذا سميت بهذا الاسم؟

لدلالة على **قوتها وسرعتها**

من أسباب مشاركة دولة الإمارات العربية

المتحدة في عاصفة الحزم؟

- 1..... **الحرص على أمن الخليج واستقراره**
- 2..... **العمل على عودة الاستقرار لليمن**

أكل

عدد الجزر الإماراتية الثلاث المحتملة :

- **طنب الكبرى**
- **طنب الصغرى**
- **أبوموسى**
- فسر؟؟؟ احتلال إيران للجزر الثلاث :
- **موقعها المتميز**
- **طمعاً بثرواتها**



من مبادرات التي قامت بها دولة الإمارات العربية

المتحدة لتكريم الشهداء وأسر الشهداء؟

- 1..... **تخصيص يوماً للشهيد (30 نوفمبر)**
- 2..... **إطلاق أسماء الشهداء على الشوارع والمساجد والمدارس**
- 3..... **مشروع إرشيف الشهداء**
- 4..... **إنشاء (واحة الكرامة)**

مشاركة الحكام

وأولياء العهود في دولة

الإمارات لتشجيع الشهداء

وتقديم واجب العزاء

دلالة على مفهوم

..... **البيت متوجد**

اكتب مدلولات الأرقام :

.....قارة.1

.....قارة.2

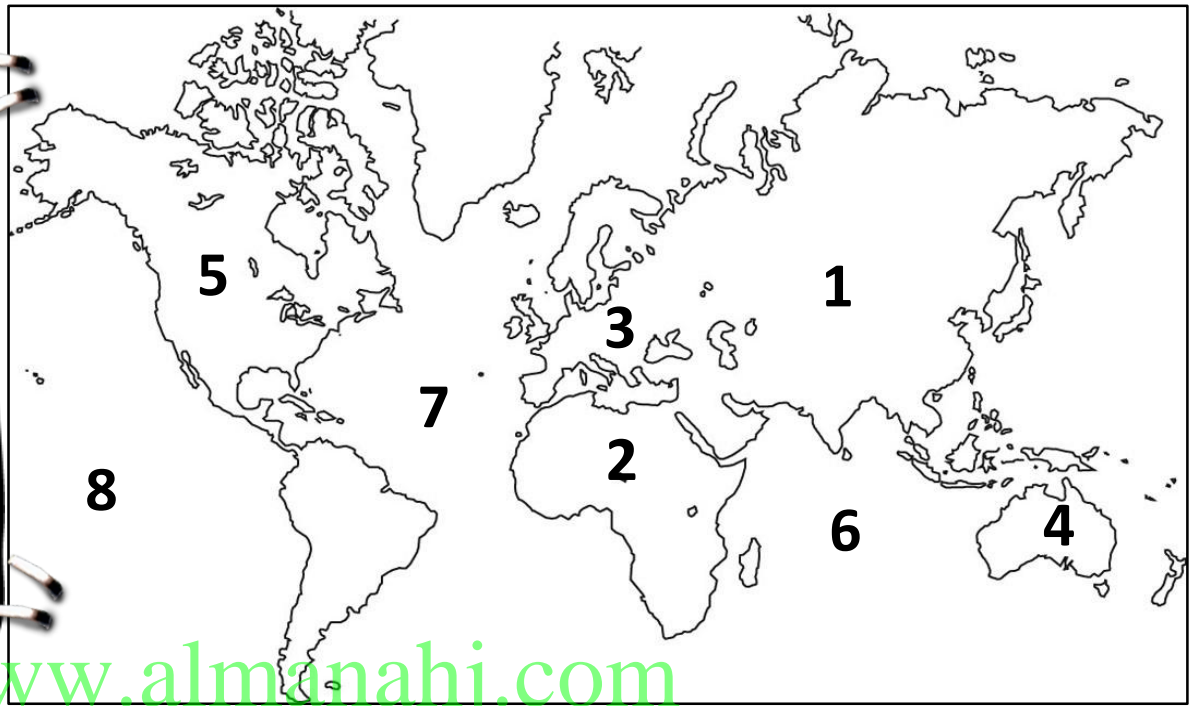
.....قارة.3

.....قارة.4

.....قارة.5

.....المحيط.6

.....المحيط.7



اكتب مدلولات الأرقام :

.....قارة.1

.....قارة.2

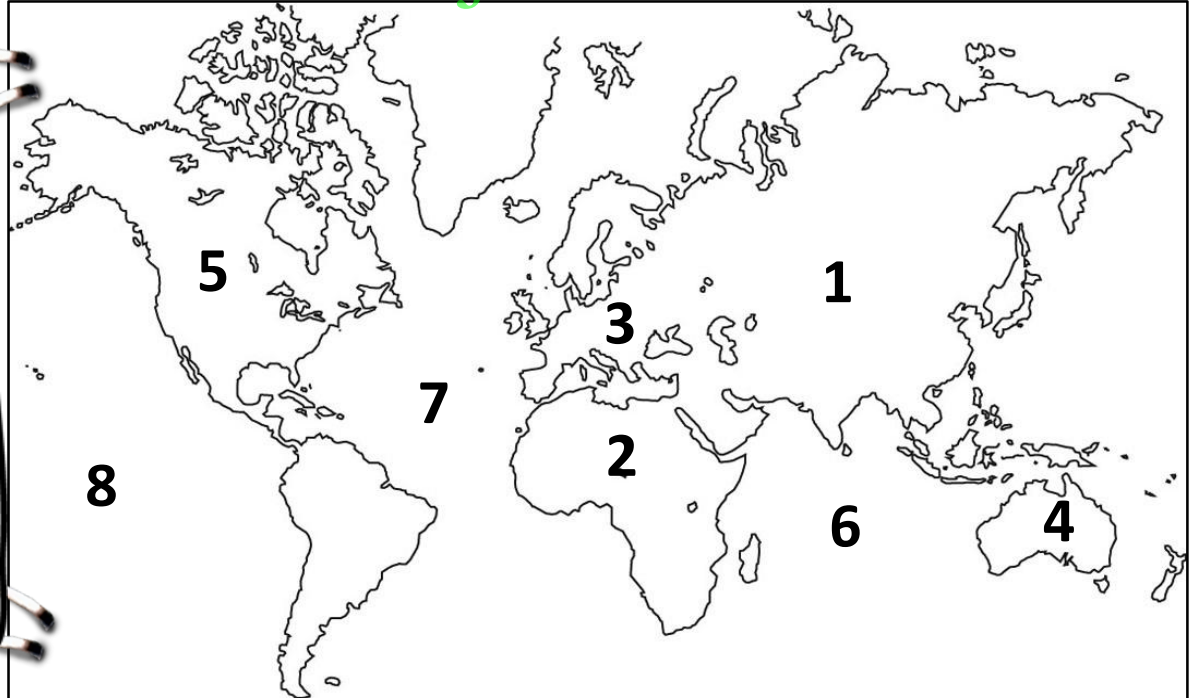
.....قارة.3

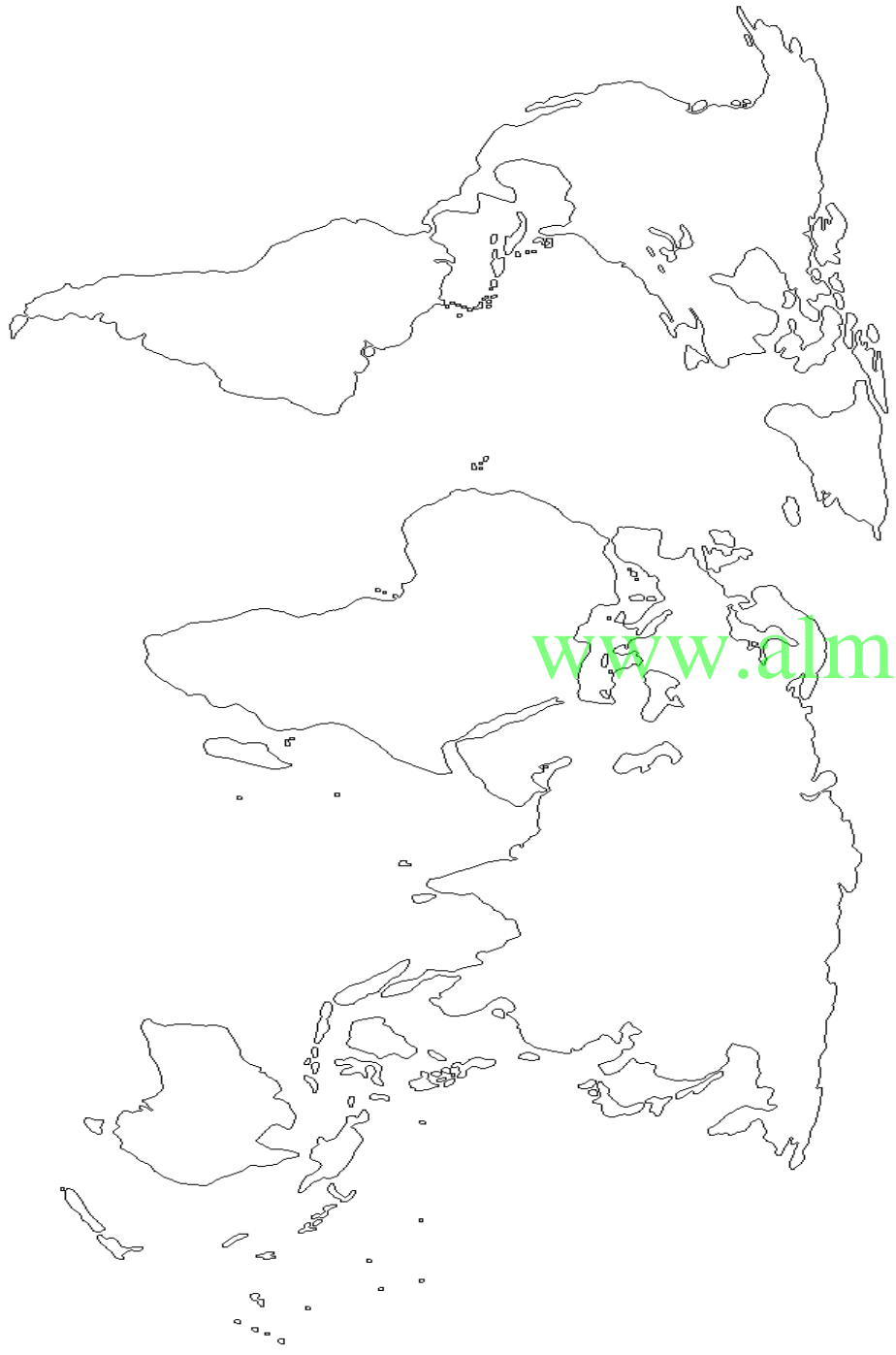
.....قارة.4

.....قارة.5

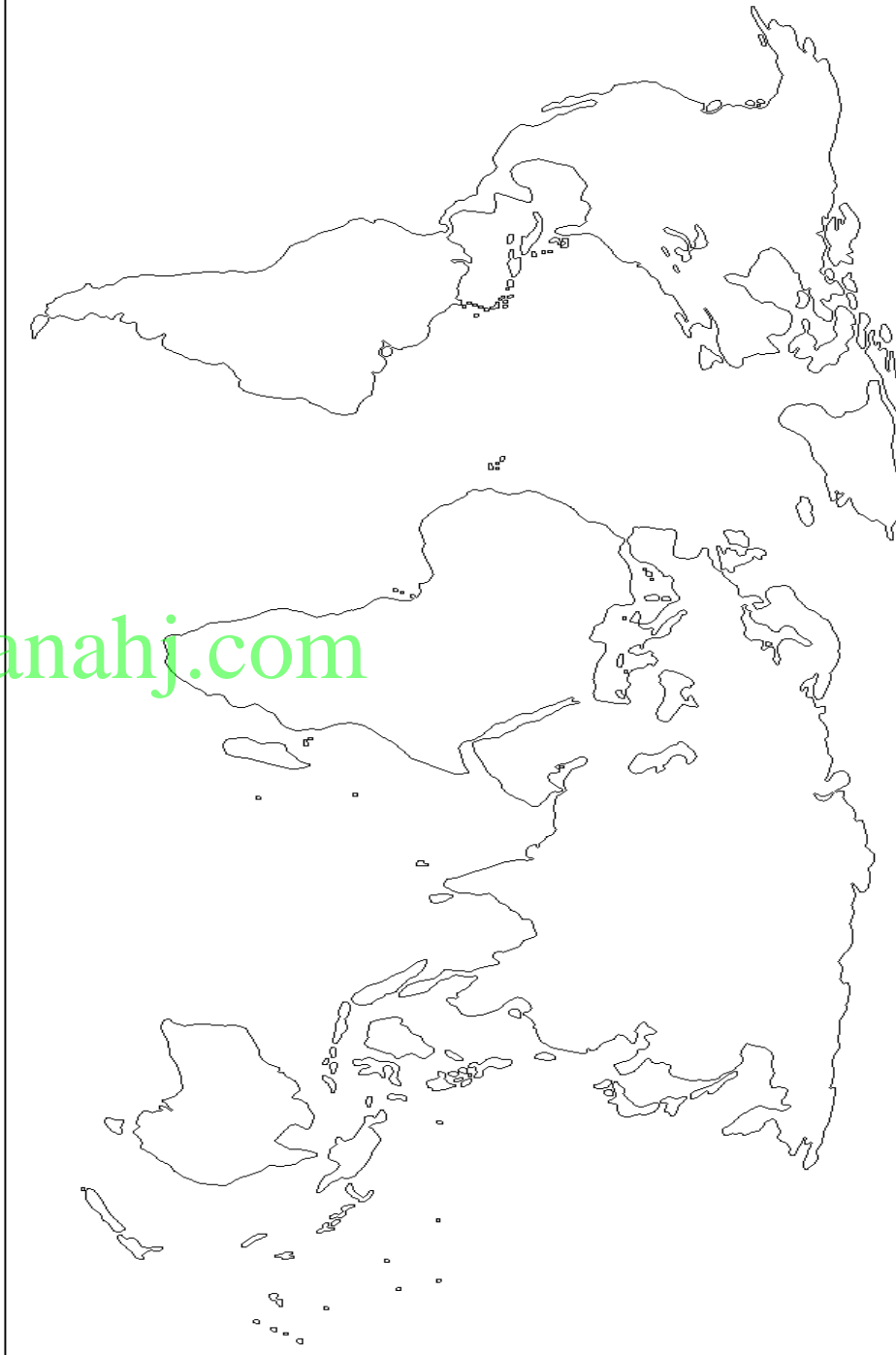
.....المحيط.6

.....المحيط.7

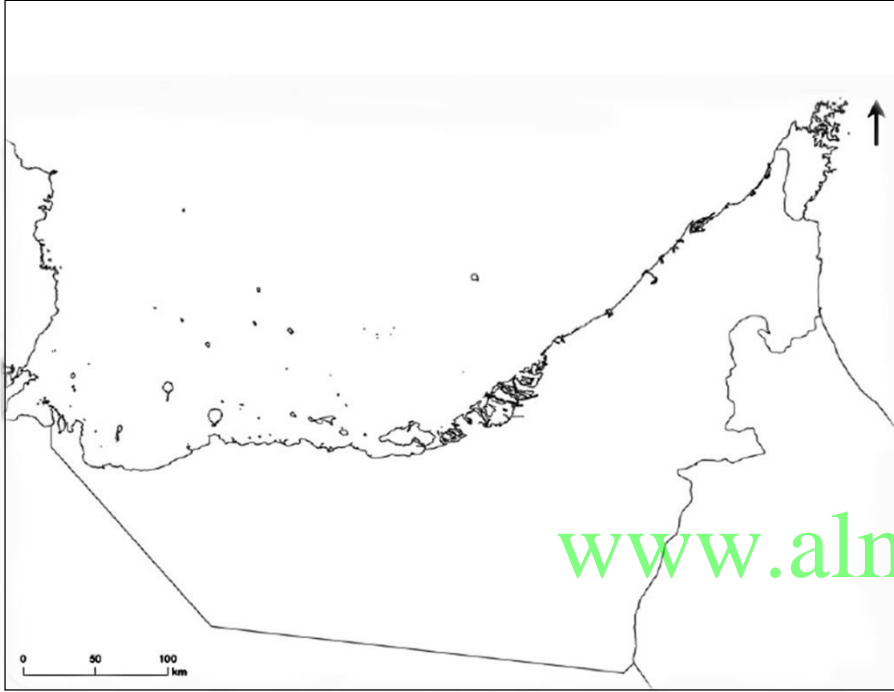




www.almanahj.com

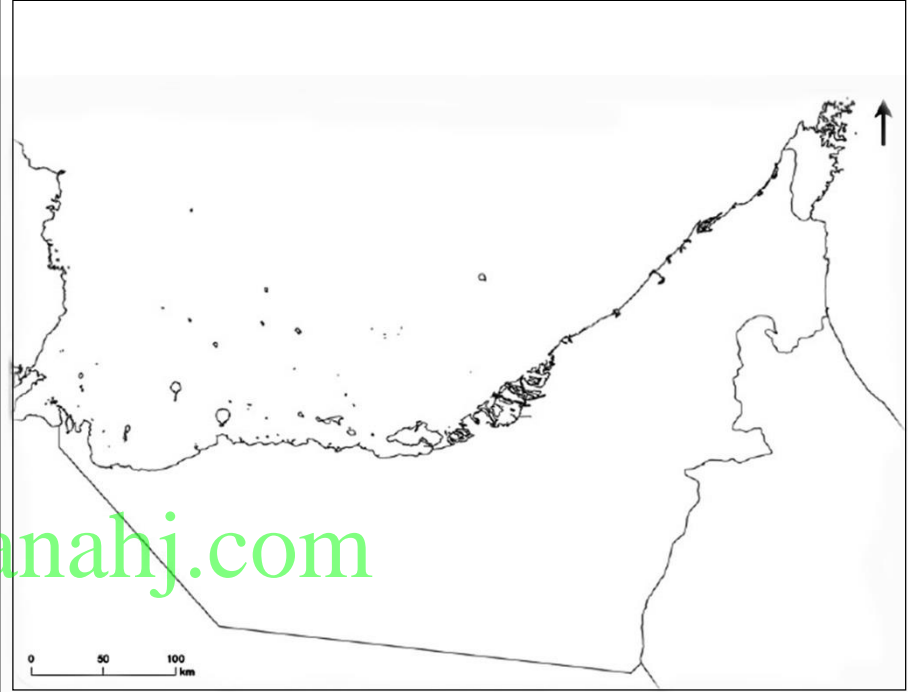


الاسم : الصف الرابع : < >



www.almanahj.com

الاسم : الصف الرابع : < >



www.almanahj.com

في الخريطة الصماء التي أمامك اكتب عليها
الدول المجاورة والمسطحات المائية
ودائرة العرض الرئيسية
ثم لون الخريطة

في الخريطة الصماء التي أمامك اكتب عليها
الدول المجاورة والمسطحات المائية
ودائرة العرض الرئيسية
ثم لون الخريطة

تدريبات

الوقع النسبي

الاسم :
الصف الرابع : < >

تبلغ مساحة الإمارات

كم²

تم إعلان قيام
دولة الإمارات في
.....



تقع دولة الإمارات في قارة

حوط دولة الإمارات على الخريطة

دائرة العرض الرئيسة التي تمر بدولة الإمارات

www.almanahj.com



تقع دولة الإمارات في الوطن العربي
لون دولة الإمارات على الخريطة



تقع دولة الإمارات في الجهة من شبه الجزيرة العربية
لون الإمارات على الخريطة