


دورة الماء وتحديد مكان التبخر والتكثيف فقط



1 التبخر 2 التكثيف

صلي صورة الطقس للكلمة التي تدل عليه 




مشمس



عاصف



ممطر

ضعي دائرة على الشيء المطلوب في المربع 



طقس
حار



طقس
ثلجي



www.almanahj.com

سحاب
القرع



ماذا يحدث
في الربيع؟



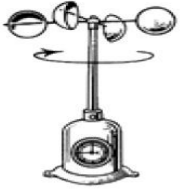
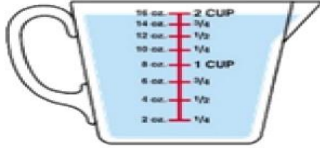


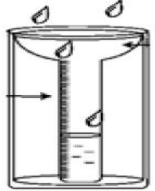


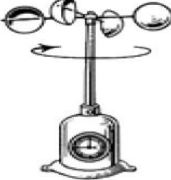

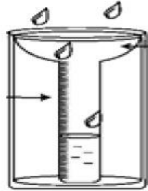


مطر



ماذا يحدث
في الخريف؟

ضعي دائرة على الأداة المناسبة.



			سرعة الرياح
			كمية المطر
			درجة الحرارة
			اتجاه الرياح

www.almanahj.com

صِلي الكلمات إلى الصورة المناسبة.



ثلجي



ممطر


غائم

مشمس


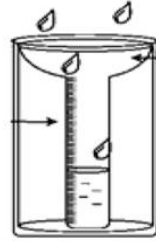



رسم أنواع السحب الثلاث (ركامية وريشية والمزن)

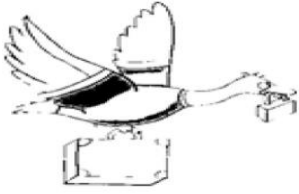


أكتبِي الرقم أسفل 

1 مقياس الرياح 2 الترمومتر 3 دوارة الرياح 4 مقياس المطر



صلي الكلمات للصور المناسبة . 



www.almanahj.com



الربيع



الصيف



الخريف



الشتاء



التميز بين الفصول وأهم الملابس التي نرتديها

فَصْلُ الشِّتَاءِ




فَصْلُ الصَّيْفِ

www.almanahj.com



فَصْلُ الخَرِيفِ



فَصْلُ الرَّبِيعِ

