



النموذج التدريبي لمادة الرياضيات الفصل الدراسي الثالث الصف الثاني

www.almanahj.com

إدارة التقييم والامتحانات

2017
1438



تهيئة الطلاب لتطبيق الامتحانات

الهدف



إرشادات

www.almanahj.com

1. الاطلاع على النماذج التدريبية مسبقاً .
2. إمكانية توليد نماذج تدريبية على نمط النماذج المرفقة .
3. توظيف جهاز العرض في التدريب .
4. تنفيذ المفردات التدريبية بصورة فردية أو جماعية .
5. إنجاز التدريب ضمن الوقت المخصص قبل بداية الامتحان .



المفردات التدريبية :



(1) اكتب الوقت الظاهر في



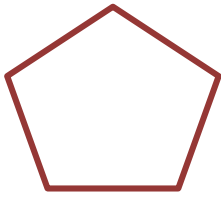
(2) حدد وقت نوم عائشة

9 : 40 AM

8 : 15 AM

8 : 15 PM

www.almanahj.com



(3) اكتب اسم الشكل أدناه . وعدد الأضلاع والزوايا .



(4) صف الأجزاء المتساوية في الشكل

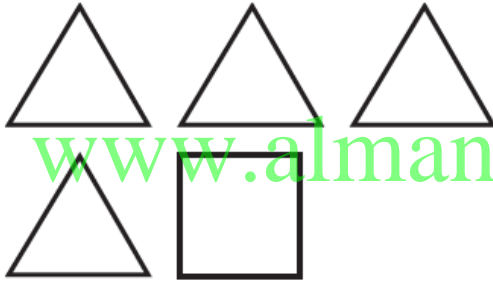




تابع المفردات التدريبية:



(5) كم عدد المربعات التي تكون المستطيل؟



(6) حدد الشكل الذي تكوّنه الأوجه

www.almanahj.com



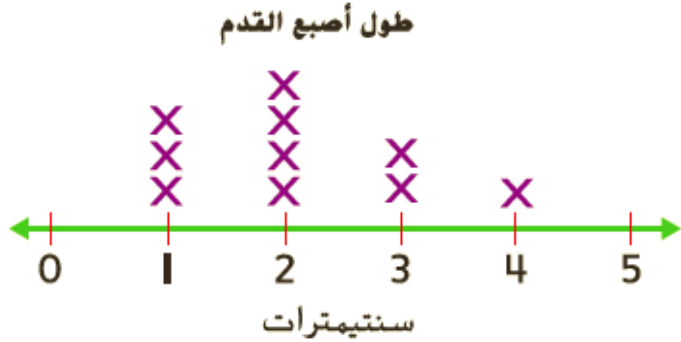
(7) 25 سنتيمترًا + 75 سنتيمترًا =

متراً



تابع المفردات التدريبية:

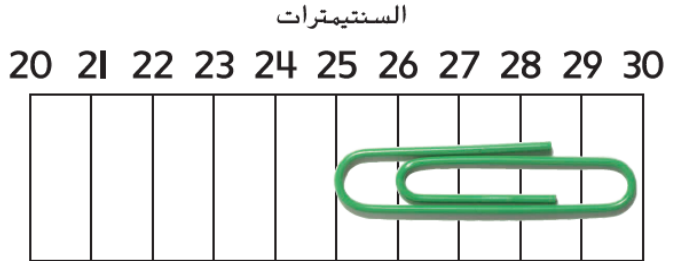
(8) كم يبلغ طول معظم أصابع الأقدام في التمثيل البياني بالنقاط المجمعة أدناه ؟



طول معظم أصابع الأقدام _____

www.almanahj.com

(9) كم يبلغ طول المشبك بالسنتيمترات ؟



طول المشبك _____

(10) عدّ لإيجاد قيمة العملات.






_____ فلسات، _____ فلسًا، _____ فلسًا، _____ فلسًا، _____ فلسًا، _____ فلسًا = _____ فلسًا

انتهى التدريب

بالتوفيق والنجاح



إجابة المفردات التدريبية:

الإجابة	رقم المفردة
	1
8:15 PM	2
خماسي الأضلاع. 5 أضلاع، 5 زوايا	3
أثلاث	4
12 مربع	5
www.almanahj.com 	6
1 مترًا	7
2 سنتيمتر	8
5 سنتيمترات	9
 10 فلسات، 15 فلسًا، 20 فلسًا، 21 فلسًا، 22 فلسًا، 23 فلسًا = 23 فلسًا	10

انتهت الإجابة