

يمكنك الحصول على جميع الملفات من أوراق عمل وامتحانات ومذكرات وملخصات لجميع الصفوف وجميع المواد الخاصة بالمنهاج الإماراتي من خلال الرابط التالي

<https://www.almanahj.com>

كما يمكنك الحصول على جميع الملفات لجميع الفصول عبر تحميل تطبيق المناهج من خلال الرابط التالي:

<https://play.google.com/store/apps/details?id=com.almanahj.UAEapplication>

يمكنك الحصول على جميع الروابط الخاصة بمجموعات المناهج الإماراتية على مواقع التواصل الاجتماعي واتساب وفيسبوك وتلغرام من خلال الدخول على الرابط التالي:

<http://t.me/almanahj>



مذكرة صف سادس الترم الثاني للعام الدراسي 2018 / 2019 (ندا ماهر)

اسم الطالب

الصف

الشعبة

التاريخ

2019 /...../.....



Al  
M  
a  
n  
a  
r  
a  
P  
r  
i  
v  
a  
t  
e  
S  
c  
h  
o  
o  
l

م  
ذ  
ر  
س  
د  
ة  
ال  
ن  
ار  
ة  
ال  
ش  
ا  
م  
خ  
ة

سادس اجتماعيات  
الترم الثاني  
الندا ماهر



## ورقة عمل دراسات اجتماعية للعام الدراسي 2018 / 2019 . (ندا ماهر) .

اسم الطالب	.....	الصف و الشعبة	اليوم.....	تاريخ	/...../.....
------------	-------	---------------	------------	-------	--------------

### قارة اسيا

#### الموقع الفلكي والجغرافي لقارة آسيا

- تمتد من دائرة عرض 10 جنوبا حتى 81 شمالا (90 درجة عرضية تقريبا ) وتقع شمال دائرة الأستواء .
- تمر بها الدائرة القطبية الشمالية ومدار السرطان وخط الاستواء. تمتد من خط طول 36 شرقا حتى 170 غربا .
- تحاط بالمياه من ثلاث اتجاهات . يفصلها عن قارة أوروبا غربا جبال الأورال .
- يفصلها عن افريقيا شبه جزيرة سيناء والبحر الأحمر ومضيق باب المندب .
- يوجد بها أكبر بحر داخلي في العالم (بحر قزوين ) . تتميز بكثرة الجزر القريبة من سواحلها (جزر اليابان - جزر الفلبين ) .
- توجد بها أشباه جزر كثيرة (شبه الجزيرة العربية - شبه جزيرة الملايو) . بها أكبر دول العالم مساحة وسكانا (الصين) .
- بها دول من اصغر دول العالم ( سنغافورة البحرين )



المنارة  
الخاصة  
بشامكة

#### الاهداف

- أن يتعرف الطلاب على خصائص قارة اسيا .
- ان يحدد الطلاب أهم تضاريس في قارة أسيا .
- ان يستنتج الطلاب العوامل المؤثرة في قارة أسيا .

Al Manara Private School (A)



## قارة اسيا طبيعيا"

السؤال الأول:

قارة اسيا	
مساحتها	
الموقع الفلكي	
عدد دوائر العرض التي تمتد عليها	

التضاريس في قارة اسيا			
الهضاب	الصحاري	السهول الساحلية	الجبال
		سواحل البحر الأبيض المتوسط	هلايا
	صحراء ثار		
ارمينيا			

السؤال الثاني: قارني بين اقليم البحر الأبيض المتوسط والاقليم الاستوائي من حيث :

الاقليم الاستوائي	أقليم البحر الأبيض المتوسط	اوجه المقارنة
		موسم سقوط الأمطار
		دول يمثل بها
		نوع النبات الطبيعي

السؤال الثالث: ما هي العوامل المؤثرة في مناخ قارة اسيا :

- 1-.....
- 2-.....
- 3-.....



السؤال الرابع: ما هي أهم خصائص قارة آسيا؟

-1

-2

-3

السؤال الخامس: اكمل الفراغات الآتية:

-1 أعلى قمة جبلية في العالم هي .....

-2 تنخفض درجة حرارة في قارة آسيا كلما اتجهنا .....

-3 تهب على أجزاء من القارة الآسيوية رياح محلية مثل السموم و.....

-4 يسود الإقليم الموسمي في جنوب اسيا و.....

-5 هضبة .....تعد من أعلى وأوسع هضاب العالم

السؤال السادس: فسري كل من

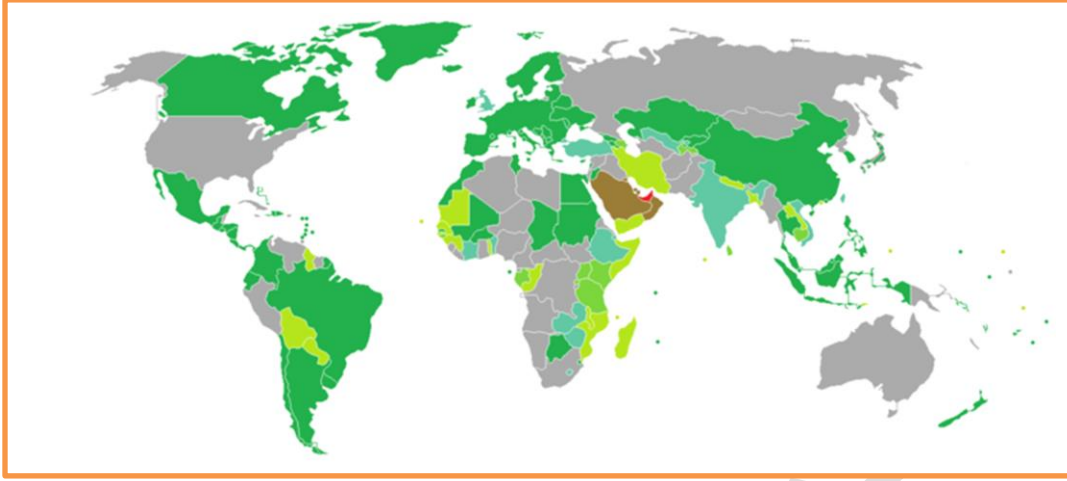
-1 تنوع الأقاليم المناخية والنباتية في قارة آسيا

.....-2

-2 تارنمو الغابات الكثيفة في المناطق الاستوائية

.....-2

## اسيا بشريا



الأهداف

- ان يتعرف الطالب على الخصائص (البشرية) لقارات العالم القديم
- ان يستنج الطالبة الأنشطة الاقتصادية لسكان اسيا

السؤال الأول: استكملي الجدول التالي:

العوامل المؤثرة في توزيع السكان	
العوامل البشرية	العوامل الطبيعية

المحاصيل الزراعية في قارة اسيا	
الدول المنتجة	المحصول
	القمح
	المطاط الطبيعي

مصادر الطاقة في قارة آسيا	
مصدر الطاقة	نسبة الإنتاج
النفط	
الفحم الحجري	

السؤال الثاني: اهتمت دولة الإمارات العربية المتحدة بتطوير قطاع الطاقة المتجددة من خلال:

1- مدينة مصدر

2- .....

3- .....

4- .....

السؤال الثالث: فسري كل من:

1- انخفاض الكثافة السكانية في شمال قارة اسيا.

2- ضعف التجارة بين الدول الآسيوية.

3- تفوق الصين في الإنتاج السمكي العالمي.

السؤال الرابع: ما هي أهم الصناعات في قارة اسيا وما هي أهم الدول الصناعية في قارة اسيا؟

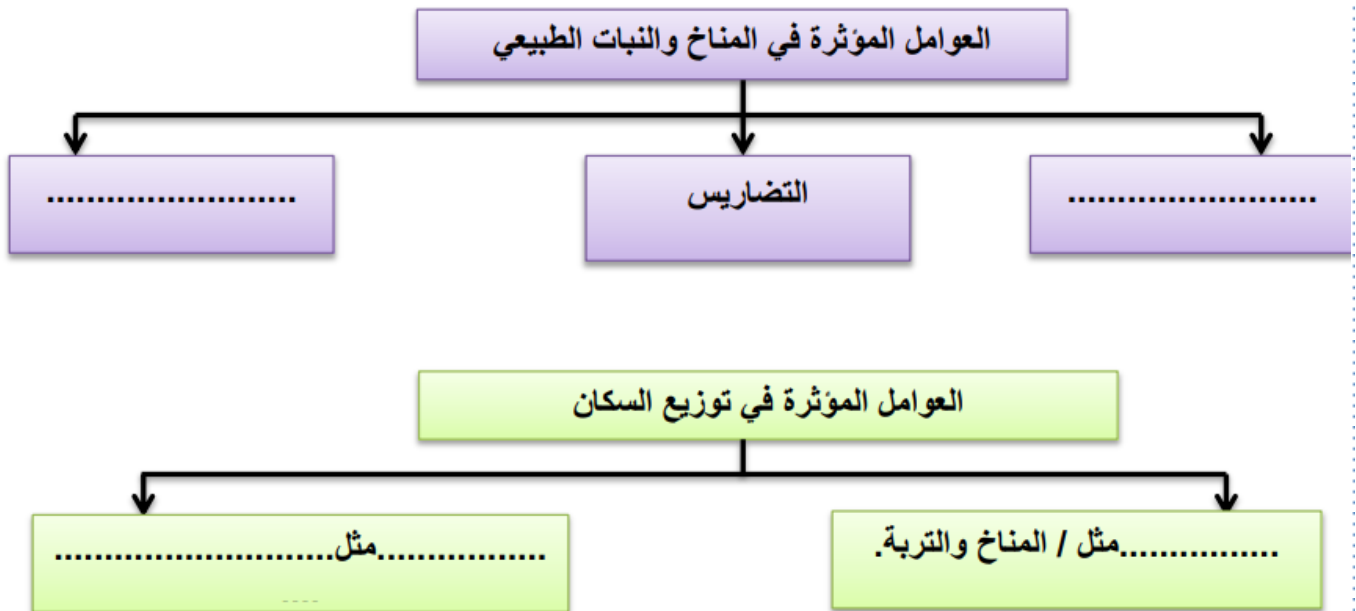
# آسيا

## السؤال الأول

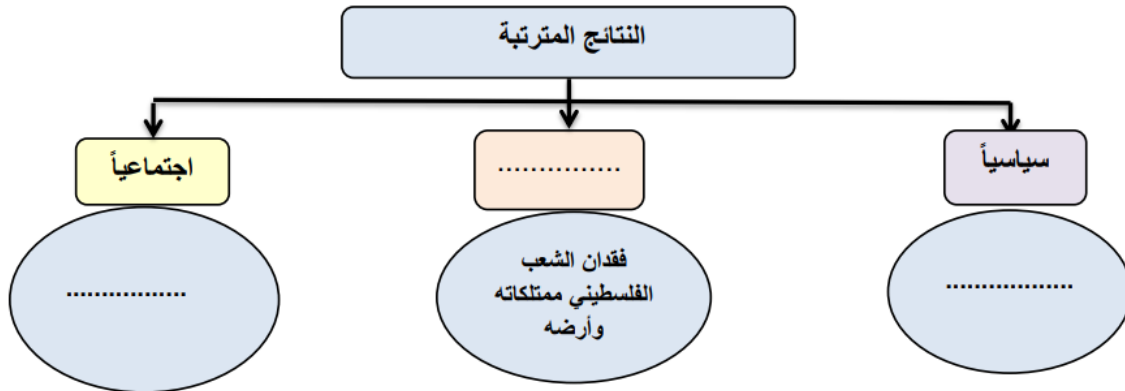
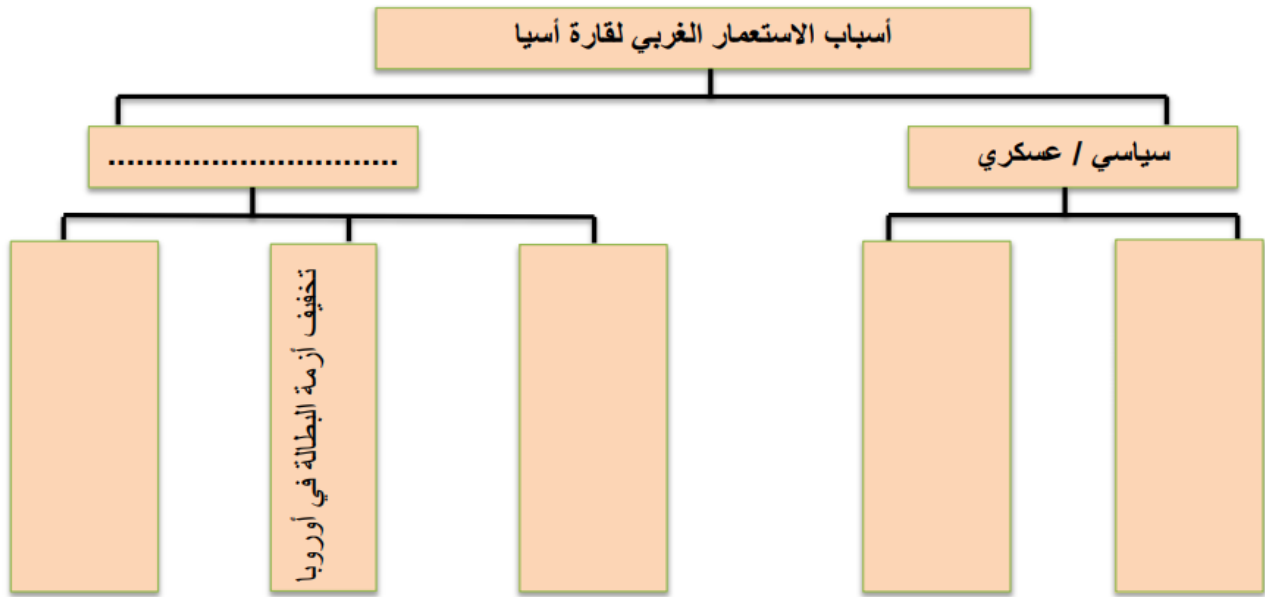
أولاً : اكتب (اسم المفهوم/ المصطلح) الموجود بين القوسين أمام كل تعريف يناسبه حسب معطيات الجدول :

شبه الجزيرة	سهول فيضية	الإقليم	آسيا	الكثافة العامة	الكشوف الجغرافية
م	التعريف	المفهوم أو المصطلح			
1.	الأرض المشمسة ذات الجو المعتدل الجميل	.....			
2.	إحدى أشكال السطح الجغرافية، وهي امتداد لليابسة محاطة بالماء من ثلاث جهات.	.....			
3.	عبارة عن رقعة من الأرض تتسم بخصائص معينة تميزها عما يجاورها من أقاليم أخرى.	.....			
4.	المجموع الكلي لعدد السكان مقسوماً على إجمالي المساحة الكلية للقارة أو الدولة.	.....			
5.	محاولات الدول الأوربية الكشف عن مناطق جديدة على سطح الأرض رغبة منها في التوسع واستغلال الثروات الاقتصادية.	.....			
6.	تكونت بفعل فيضانات الأنهار مثل دجلة والفرات والسند.	.....			

ثانياً : أتم بناء المخططات الذهنية الآتية بما يناسب :







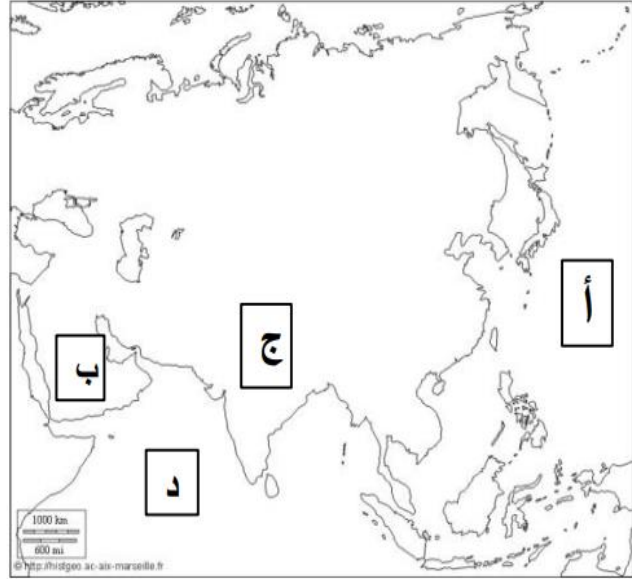
**السؤال الثاني**

أولاً :- سجل في الفراغ الصفة المشتركة التي تجمع بين الكلمات الواردة في الجدول

الثورات المسلحة	النضال السياسي

## ثانياً : لاحظ خريطة آسيا ثم اكتب مدلولات الأحرف الموضحة عليها:

- أ- مسطح مائي .....
- ب - هضبة .....
- ج - هضبة .....
- د - مسطح مائي .....



## ثالثاً : قدم تفسير لكل مما يلي:

١- تنوع مظاهر السطح بقارة آسيا؟

.....

٢- محدودية التجارة الداخلية بين دول قارة آسيا؟

.....

٣- انخفاض درجات الحرارة في الشتاء في وسط قارة آسيا وعلى أطرافها الشمالية؟

.....

٤- ترتفع الحرارة وسط وجنوب آسيا ؟

.....

(A)

**ثالثاً : استكمل المقارنة بين الأقاليم المناخية وفق معطيات الجدول:**

الإقليم	الحرارة	الأمطار	النبات الطبيعي
الاستوائي			
الموسمي			
الصحراوي			
البحر المتوسط			

**أولاً : اقرأ النص ثم أجب :**

" إن القضية الفلسطينية هي قضيتنا ، ومعاناة الشعب الفلسطيني هي معاناتنا"

صاحب السمو الشيخ خليفة بن زايد آل نهيان

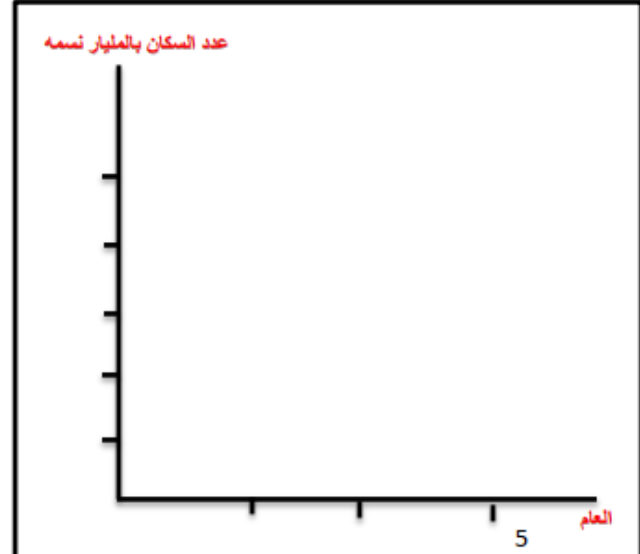
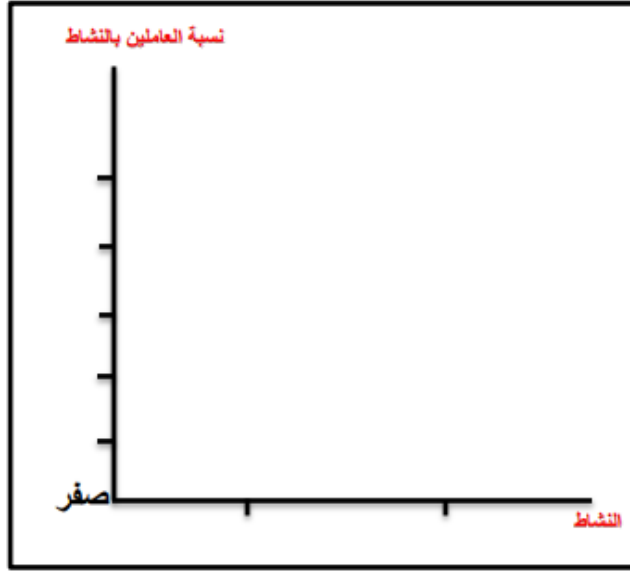
في ضوء العبارة السابقة وضح مظاهر دعم الإمارات للقضية الفلسطينية.

- .....\*
- .....\*
- .....\*
- .....\*

ثانياً : مثل بطريقة الأعمدة حسب معطيات كل جدول :

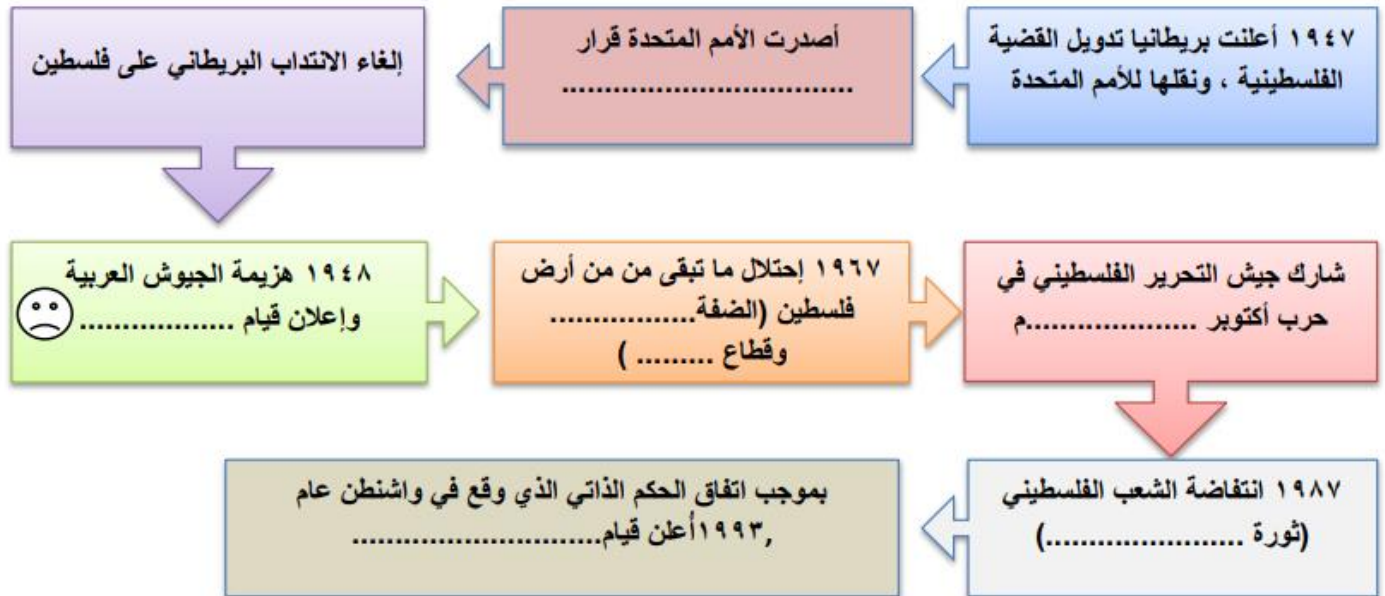
نسبة العاملين بها	الأنشطة البشرية
47%	الزراعة
10%	الصناعة

العام	عدد سكان آسيا (مليار نسمة)
2016	4.4
1995	3.4
1975	2.4



IV

ثالثاً: تتبع أبرز تطورات القضية الفلسطينية :



V

## ملخص الدرس قارة آسيا الدراسات الاجتماعية 1

اكمل

آسيا تسمية قديمة جدا ومعناها ..... وتقدر مساحتها بحوالي -  
..... مليون كم ، فهي تمتد بين

خطي طول ..... شرقا ، وبين دائرتي عرض ..... جنوبا الى ..... شمالا  
: تشرف قارة آسيا على مسطحات مائية مهمة ، من أبرزها -

1 ..... 2 ..... 3

4 .....  
اعلى قمة جبل في العالم هي قمة ..... وارتفاعها -  
..... مترا

: عدد أهمية قارة آسيا -

1 ..... 2

3 ..... 4

: من اشكال التضاريس -

1 ..... 2 ..... 3

: تنقسم السهول الى قسمين -

1 ..... 2

: من العوامل المؤثرة في المناخ والنبات الطبيعي -

1 ..... 2

3 ..... 4

من الاقاليم المناخية في قارة آسيا ؟ -

1 ..... 2 ..... 3

4 .....  
من العوامل المؤثرة في توزيع السكان ؟ -

1 ..... 2



بلغ عدد سكان قارة آسيا عام 2016 مليون نسمة  
عدد أنشطة البشرية في قارة آسيا ؟ -

1 ..... 2 ..... 3 ..... 4

عدد اهم المحاصيل الزراعية في قارة آسيا ؟ -

1 ..... 2 ..... 3 ..... 4

من اهم الصناعات في قارة آسيا ؟ -

1 ..... 2 ..... 3 ..... 4

من الصادرات

1 ..... 2 ..... 3 ..... 4

من الدول الاستعمارية ؟ -

1 ..... 2 ..... 3 ..... 4

ماهي اسباب الاستعمار السياسية والعسكرية ؟ -

1 ..... 2 ..... 3 ..... 4

: من اسباب الاستعمار الاقتصادية الاجتماعية -

1 ..... 2 ..... 3 ..... 4

: ماهي قضية فلسطين -

1 ..... 2 ..... 3 ..... 4

ماهي مظاهر دعم للقضية الفلسطينية ؟ -

1 ..... 2 ..... 3 ..... 4

# الهند

## السؤال الأول

أولاً : اكتب ( اسم المفهوم/ المصطلح) الموجود بين القوسين أمام كل تعريف يناسبه حسب معطيات الجدول :

الدخل الفردي	الناتج المحلي الإجمالي	الأنشطة البشرية	الشرق الأوسط	الانفجار السكاني
--------------	------------------------	-----------------	--------------	------------------

م	التعريف	المفهوم أو المصطلح
١.	هي الأنشطة التي يقوم بها الإنسان في المجالات الاقتصادية المختلفة كالزراعة والرعي والصناعة.	.....
٢.	إجمالي ما يحصل عليه الإنسان من عمله الذي يعمل فيه أو من أي مصدر آخر ليستطيع أداء واجباته ومسؤولياته والحصول على احتياجاته.	.....
٣.	زيادة أعداد السكان الكبيرة بالمقارنة مع الموارد المتاحة	.....
٤.	منطقة جغرافية تشمل بلدان غرب آسيا ومصر وتطل على البحر الأحمر والخليج العربي والبحر المتوسط.	.....

ثانياً : ضع دائرة حول الإجابة الصحيحة التي تلي كل عبارة فيما يأتي:

١. تقع جمهورية الهند.....قارة آسيا.

أ. جنوب. ب. غرب. ج. شرق.

٢- خضعت الهند للإحتلال .....

أ- البرتغالي . ب- البريطاني. ج- الفرنسي.

٣- يتميز مناخ جمهورية الهند بأنه.....

أ. صحراوي. ب- استوائي. ج- موسمي.

ol  
(A)

مخ  
ة

٤- تهب على الهند رياح موسمية جنوبية غربية قادمة من المسطحات المائية في فصل .....

أ. الصيف. ب. الشتاء. ج. الربيع.

٥- قُدر عدد سكان الهند بنحو ..... نسمة.

أ. مليار وثلاثمئة وأربع وعشرون مليون. ب. مليون وثلاثمئة وأربع وعشرون ألف.  
ج. ثلاثمئة وخمسة وعشرون مليون.

٦- يمثل سكان الهند ..... من سكان العالم:

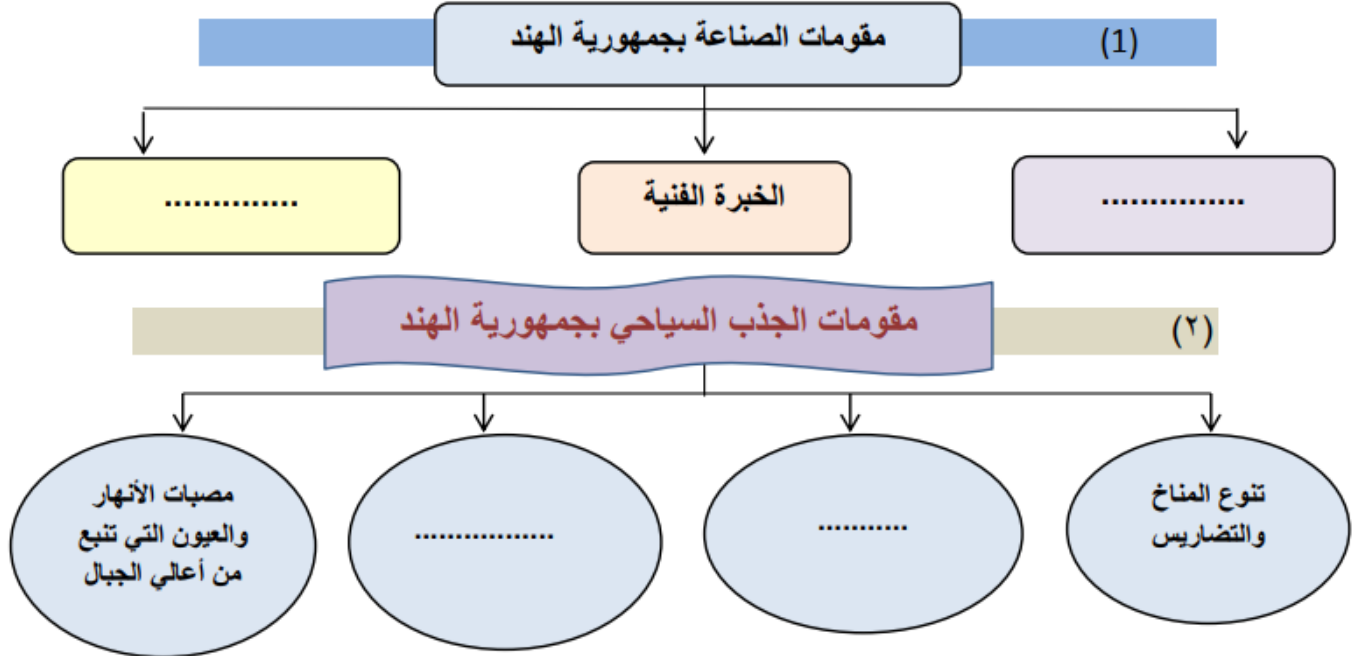
أ. ١٩%. ب. ١٧%. ج. ١٥%

٧- أسرع القطاعات الاقتصادية نمواً بالهند هي .....

أ. الصناعة. ب. الزراعة. ج. تكنولوجيا المعلومات

### السؤال الثاني

**أولاً : أتم بناء المخططات الذهنية الآتية بما يناسب**



(A)



### أهم مجالات التعاون بين الهند ودولة الإمارات

٣-



### ثانياً :- صنف المسميات التي بين القوسين وفق الجدول الآتي :

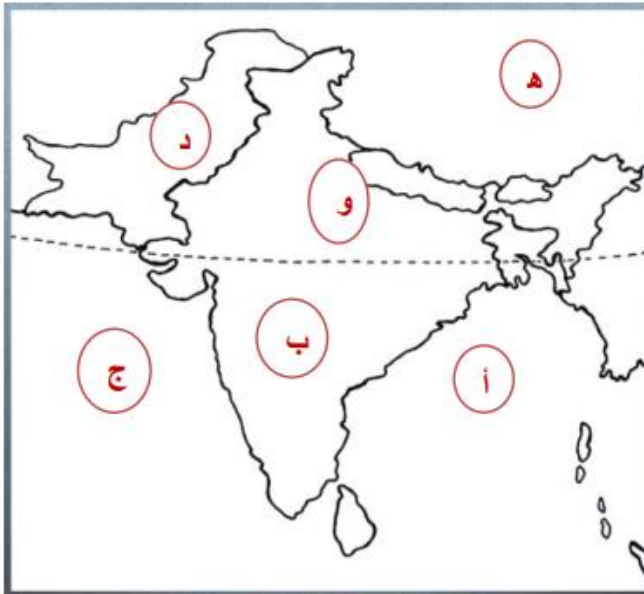
( النفط الخام – المنسوجات – المنتجات الزراعية – المجوهرات – الآلات – الأسمدة الكيماوية )

أهم الصادرات بالهند	أهم الواردات بالهند

a  
Dr

ة

### السؤال الثالث



أولاً : ألاحظ خريطة الهند ثم اكتب  
مدلولات الأحرف الموضحة عليها:

- أ- مسطح مائي .....
- ب - هضبة .....
- ج - مسطح مائي .....
- د - دولة .....
- هـ - دولة .....
- و- سهول .....

Dr  
(A)

مح  
ة



## ثانياً : قدم تفسير لكل مما يلي:

١- لجوء الهند لاستيراد مصادر الطاقة والمعادن رغم وفرتها؟

.....

٢- سقوط الأمطار الغزيرة على الهند في فصل الصيف؟

.....

٣- أثر جبال الهيمالايا مناخياً على جمهورية الهند؟

.....

٤- سهولة اتصال الهند بقارة أفريقيا؟

.....

٥- تتميز سهول هندوستان بالازدحام البشري ؟

.....

٦- استخدام بعض الحيوانات في تنشيط السياحة بالهند ؟

.....

٧ - يسود الجفاف معظم أراضي الهند في الشتاء؟

.....

٨- تعاني الهند من انخفاض الدخل السنوي للفرد رغم النمو الاقتصادي فيها؟

.....

٩- وجود ثروة حيوانية ضخمة بالهند ؟

.....

## ثالثاً : استكمل الجداول التالية حسب المعطيات:

المشكلة	أسباب المشكلة	النتائج	حلول مقترحة
الانفجار السكاني بالهند			

هضبة الدكن	سهول هندوستان	جبال الهيماليا	وجه المقارنة
			<u>الموقع</u>
			<u>المميزات</u>

فصل الشتاء	فصل الصيف	وجه المقارنة
		<u>الحرارة</u>
		<u>الأمطار</u>
		<u>الرياح الموسمية</u>

-- أكتب ما يدل على العلاقات الوثيقة والروابط المشتركة بين دولة الإمارات العربية المتحدة وجمهورية الهند.

.....  
.....

**\* املأ الفراغ في العبارات التالية بما يناسب:**

- ١- تبلغ مساحة جمهورية الهند ..... كم<sup>٢</sup>
- ٢- من أشهر المعالم السياحية في الهند تاج ..... ومنطقة ..... والقلعة .....
- ٣- بدأت العلاقات الإماراتية الهندية بزيارة الشيخ ..... للهند.



٤- تتركز الاستثمارات الإماراتية في الهند في قطاعات رئيسة مثل ..... و.....

٥- تتعدد المحاصيل الزراعية في الهند حيث تزرع نصف أراضيها ب.....  
٦- من مصادر الطاقة الغير تقليدية بالهند طاقة الرياح و..... و.....

**\* اكتب نتيجة تترتب على:**

الكثافة السكانية والازدحام في الهند؟

.....  
.....

## ملخص الدرس جمهورية الهند الدراسات الاجتماعية

### الموقع الجغرافي

: اكمل

- تقع جمهورية الهند في .....قارة.....
- : الموقع الجغرافي لجمهورية الهند -
  - مسطح مائي من جهة الغرب -
  - مسطح مائي من جهة الشرق-
  - دولة من جهة الشمال الغربي-
  - ..دولتان من جهة الشمال .....و.....-
  - ..... دولة من جهة الشرق-
  - .....مسطح مائي من جهة الجنوب-
  - ..... تبلغ مساحة الهند حوالي -
  - خضعت الهند للاستعمار البريطاني ما يقارب ..... عام -



## التضاريس

- الجبال الشمالية تعرف بجبال ..... -  
: من اهمية جبال الهيمالايا -

1.....

2.....

- سهول الهند الشمالية وتعرف باسم..... -  
: من مميزات سهول الهند الشمالية -

1.....

2.....

3.....

## المناخ

- يتميز مناخ جمهورية الهند بأقليم..... -  
من خصائص الاقليم الموسمي..... -  
: مزايا المناخ في فصل الصيف -

1.....

2.....

- : مزايا المناخ في فصل الشتاء -

1.....

- : بم تفسر سقوط الامطار صيفا على جمهورية الهند -

.....

## الملامح البشرية

- تحتل جمهورية الهند المرتبة..... -  
قدر عدد سكان جمهورية الهند في -  
عام 2016..... ويمثلون ما نسبته

. من سكان العالم .....%.....



: من المشاكل الاقتصادية الاجتماعية التي تعاني بها الهند -

1 .....

2 .....

3 .....

: من ابرز الانشطة الاقتصادية التي يمارسها السكان في الهند -

1 .....2 .....

3 .....4 .....

5 .....

: من اهم الصادرات -

1 .....2 .....

3 .....4 .....

5 .....

: من اهم الواردات -

1 .....2 .....

3 .....4 .....

5 .....

: تتركز الاستثمارات الاماراتية في الهند في قطاعات رئيسة هي -

1 .....2 .....

3 .....4 .....

5 .....6 .....

Al  
M  
a  
n  
a  
r  
a  
P  
r  
i  
v  
a  
t  
e  
s  
c  
h  
o  
o  
l  
(A

ماهر

رؤية  
رسالة  
المدرسة  
المدرسة  
أداء  
مؤسسي  
متطور  
يضمن  
الجودة  
في  
المخرج  
ويحقق  
الشراكة  
في  
المجتمع  
المحلي  
ليؤهل  
جيلاً  
يملك  
المعارف  
والمهارات  
والقيم،  
وينتمي  
للوطن



## مراجعة عامة لمادة الدراسات الاجتماعية للسف السادس

Al  
M  
a  
n  
a  
r  
a  
P  
r  
i  
v  
a  
t  
e  
S  
c  
h  
o  
o  
l  
(A

معنى كلمة اسيا	الأرض المشمسة	الأرض المظلمة	مشرق الشمس	مغرب الشمس
تشرف قارة اسيا من جهة الشمال على المحيط الأطلسي	الهادي	المتوسط	المتجمد الشمالي	
تطل قارة اسيا من جهة الشرق على المحيط الأطلسي	الهادي	المتوسط	المتجمد الشمالي	
تطل قارة اسيا من جهة الجنوب الهندي	الهادي	الأطلسي	المتجمد الشمالي	
المسطح المائي الذي يفصل قارة اسيا عن افريقيا هو -	البحر المتوسط	البحر الأحمر	بحر اليابان	الخليج العربي
اكبر قارات العالم مساحة و سكان -	أوروبا	أمريكا	افريقيا	اسيا
تنوع مظاهر السطح في قارة اسيا فهي تظم اعلى قمة جبلية في العالم -	جبال اطلس	جبال الأحجار	الهملايا	جبال هندكوش
اكثر جهات العالم انخفاضا هي	البحر الميت	البحر الأحمر	بحر عمان	بحر اليابان
اعلى قمة جبلية في سلسلة جبال الهملايا	عسير	حجاز	طوروس	افريست



اعلى و أوسع هضاب العالم هي-  
افريقيا الشماليه هضبة التبت هضبة الدكن هضبة اليونان

هي احدى اشكال السطح الجغرافية و هي امتداد لليابسه محاطة بالماء من ثلاث جهات-  
شبة الجزيرة جزيرة هضبة جبل

سهول تكونت بفعل فيضانات الأنهار-

ساحلية فيضيه وديان خليج

منطقة منخفضة مستوية السطح بالقرب من البحار و المحيطات هي سهول-  
ساحلية فيضيه وديان خليج

توجد صحراء ثار في  
السودان السعودية الهند بنجلاديش

توجد صحراء جوبي في-

منغوليا الصين اليابان الهند

تنتشر الصحاري الجليدية في قارة اسيا في جهة-

جنوب شرق غرب شمال

إقليم يمتاز بإرتفاع درجات الحرارة و امطار طول العام-،  
الاستوائي الموسمي الصحراوي اقليم البحر المتوسط

إقليم يمتاز بدرجات الحرارة المرتفعة والامطار الغزيرة صيفا-  
الاستوائي الموسمي الصحراوي اقليم البحر المتوسط

إقليم يمتاز بحرارة مرتفعة و امطاره نادرة-  
الاستوائي الموسمي الصحراوي اقليم البحر المتوسط





إقليم حار و جاف صيفا دافا ممطر شتاء-  
الاستوائي الموسمي الصحراوي اقليم البحر المتوسط

من العوامل الطبيعية المؤثرة في توزيع السكان في اسيا-  
المناخ الموصلات الحرفة الحروب

من العوامل البشرية المؤثره في توزيع السكان في اسيا-  
المواصلات الموقع المناخ التضاريس

يعمل سكان قارة اسيا في الزراعة بحوالي-  
%50 %80 %20 %47

من المهن القديمه التي مارسها السكان نتيجة توفر مساحات واسعه 24-  
الصناعة التجارة الرعي السياحة

ترتفع الصناعة في قارة اسيا في بعض الدول مثل-  
اليابان النيبال مصر كوريا

مثل 1% تنخفض الصناعة في قارة اسيا في بعض الدول الى اقل من -  
اليابان النيبال مصر كوريا

تعتبر التجارة الداخلية بين دول قارة اسيا-  
مرتفعه قليله مرتفعه جدا متوسطه

من اهم واردات الدول الاسيويه-  
الملابس الحبوب التوابل الخامات المعدنيه

من اهم الصادرات الدول الاسيويه-  
القطن الصوف الخامات المعدنيه المطاط

مركب كيميائي من اصل عضوي نتج عن ترسب بقايا الكائنات الحيه  
المطاط القطن النفط الحديد

من الأسباب السياسية لاستعمار اسيا-

- كسب أسواق جديدة
- تخفيف ازمة البطالة
- البحث عن قواعد عسكرية
- استغلال الثروات

تعرضت دولة الامارات الى الاستعمار-  
البريطاني الفرنسي

الروسي الإيطالي

محاولات الدول الأوروبية للكشف عن مناطق جديدة رغبة منها في التوسع و استغلال الثروات-  
الكشوف السياسي - الكشوف التاريخية - الكشوف الاقتصادية - الكشوف الجغرافية

موقف الامارات من القضية الفلسطينية-

المطالبة بتحرير القدس الانحياز الرضوخ الحياد

ان صاحب السمو الشيخ زايد بن سلطان ال نهيان يمثل الضمير الحي للامه العربيه من قائل هذي  
العبارة

- الزعيم الفلسطيني الراحل ياسر عرفات
- الزعيم محمد السيسي
- الزعيم جمال عبدالناصر
- الملك سلمان بن عبد العزيز

عدد السكان مقسوم على مساحة الدولة

الإقليم الكثافة السكانية تنوع التضاريس الكشوف الجغرافية

رقعة من الأرض تتسم بخصائص معينه تميزها عما يجاورها

الإقليم الكثافة السكانيه تنوع التضاريس الكشوف الجغرافية

انه لا سلام ولا امن بدون عودة القدس ) من قائل هذه العبارة

- الشيخ محمد بن راشد حفظة الله
- الشيخ محمد بن زايد حفظه الله
- الشيخ زايد بن سلطان رحمه الله
- الزعيم ياسر عرفات

## الدرس الثاني جمهورية الهند

تقع جمهورية الهند بنسبة لقارة اسيا

شرق	جنوب	غرب	شمال
30	29	27	25

احسبي عدد دوائر العرض لجمهورية الهند حيث تقع بين دائرتي عرض 37-8-

خضعت الهند للاستعمار-

فرنسي	بريطاني	هولندي	إيطالي
-------	---------	--------	--------

خضعت الهند لتاج البريطاني ما يقارب من

عام 200	عام 100	عام 150	عام 50
---------	---------	---------	--------

شكلت حاجز طبيعي بين الهند و الصين-

جبال هندستان	جبال الحجاز	جبال الهيمالايا	جبال اطلس
--------------	-------------	-----------------	-----------

تحمي جبال الهمالايا الهند من

- رياح وسط اسيا الباردة
- رياح جنوب اسيا الباردة
- رياح وسط اسيا الحارة
- رياح جنوب اسيا الحارة

سهول تقع جنوب الهمالايا تمتاز بالازدحام البشري و من اهم مدنها دلهي  
الجبال الشماليه هضبة الدكن سهول الهند الشرقيه سهول الهند الشماليه

يتميز مناخ جمهورية الهند بأنه

استوائي	صحراوي	مداري	موسمي
---------	--------	-------	-------

تحتل جمهورية الهند المرتبه..... من حيث عدد السكان و الكثافه في العالم  
الثانيه الاولى الخامسه العاشرة

عاصمة الهند هي

مومباي	كلكتا	نيودلهي	حيدرآباد
--------	-------	---------	----------

يتميز مستوى دخل الفرد السنوي في الهند ب-  
الارتفاع الانخفاض متوسط عالي جدا

يعني زيادة اعداد السكان الكبيرة بالمقارنة مع الموارد المتاحة  
الانفجار السكاني المستوى السكاني الكثافة السكانية المنطقة السكانية

يحتل الاقتصاد الهندي من حيث تبادل العملات  
العاشرة الأولى الرابعه الثانيه

من أهم واردات الهند من الخارج-  
الفحم النفط الحديد الكروم

من أشهر المعالم السياحية في الهند  
الاهرامات برج ايفل الحدائق المعلقة تاج محل

من أسباب الانفجار السكاني في الهند  
الزواج المبكر الزواج المتأخر النمو الاقتصادي توفر الخدمات

منطقة جغرافية تشمل بلدان غرب اسيا ومصر  
الشرق الأوسط الشرق الاقصى شمال اسيا غرب اسيا

من الآثار السلبية للكثافة السكانية

- ارتفاع مستوى الدخل
- انخفاض مستوى الدخل
- قلة البطالة
- توفر الموارد

الأنشطة التي يقوم بها الانسان في المجالات الاقتصادية المختلفة  
الأنشطة التجارية الأنشطة الاقتصادية الأنشطة السياسية الأنشطة البشرية

هو اجمالي ما يحصل عليه الانسان من عملة  
الناتج المحلي  
الدخل المحلي  
الدخل الفردي  
الناتج الفردي

هو مؤشر اقتصادي يقيس القيمة النقدية لاجمالي السلع التي انتجت داخل الدولة  
الناتج المحلي  
الدخل المحلي  
الدخل الفردي  
الناتج الفردي

## الدرس الثالث جمهورية الصين الشعبية

جمهورية الصين الشعبية في الجزء..... من نصف الكرة الأرضية الشرقي  
شمالي  
شرقي  
غربي  
جنوبي

تعتبر الصين من الدول الكبيرة من حيث المساحة حيث تحتل المرتبة  
الثالثة  
الأولى  
الثانية  
الرابعة

كم دولة تحد الصين من مختلف الجهات

10 7 12 5

الوقت في الصين بين مناطقها حيث يزيد فرق التوقيت عن

4 5 3 1

تشكل السلاسل الجبلية من مساحة الصين

32 35 33 34

تشكل الهضاب من مساحة الصين

34 32 33 37

اعظم هضاب العالم مساحة و اكثرها ارتفاعا هي هضبة

الدكن  
التبت  
نجد  
اقريقيا الشمالية

اللغة الرسمية في الصين هي

العربية  
الهندي  
هان  
اوردو



تبنّت الحكومة الصينية سياسة الطفل الواحد من ما أدى الى-  
الزياد السكانيه قلة الزيادة السكانيه الانفجار السكاني الكثافه السكانيه

المحصول الرئيسي في الصين هو  
الأرز الشعير

الذرة القمح

من اهم المحاصيل النقدية في الصين  
المطاط الفواكة

جوز الهند القطن

تحتل الصين المرتبة الأولى في انتاج  
الأغنام الابقار

الأسماك الخيول

اكبر موطن للحريز الطبيعي في العالم هو جزيرة  
هون شو شانتوج

الهمليا الدكن

امر الشيخ زايد رحمه الله ببناء مركز في بكين لدراسة  
اللغة الانجليزية اللغة الصينية اللغة العربية

اللغة اليابانية

تعد دولة الامارات اكبر سوق للمنتجات ..... في منطقة الشرق الأوسط  
الهنديه الامريكه الصينيه اليابانيه

يسود الإقليم الموسمي في الصين في الجبهه  
الجنوب الشرق الغرب

الشمال

من اهم النباتات الطبيعیه في الإقليم الصيني  
الساج الخيزران

السنوبر الزان

دولة مجاورة لصين من جهه الشمال  
بكين منغوليا روسيا

الهند

عاصمة جمهورية الصين هي  
بكين منغوليا

الهند روسيا



تطل الصين من جهة الشرق على مسطح مائي هو -  
خليج الصين بحر الصين الشرقي بحر الصين الغربي

تشكل اعلى نسبة في مظاهر السطح في الصين هي  
الجبال السهول الهضاب الوديان

من الدول المجاوره لصين من جهة الجنوب  
منغوليا فيتنام أفغانستان روسيا

مجموع عدد دوائر العرض التي تمتد عليها الصين هي حيث تقع بين دائرتي عرض 53-18  
35 34 53 43

من اهم الاحواض النهريه في جمهورية الصين  
التبت سهل الصين ختكان هوانجو

من مظاهر تطور العلاقات الاماراتيه الصينيه  
توقف الزيارات قلة الزيارات تبادل الزيارات

## الدرس الرابع جمهورية كوريا الجنوبيه

تم احتلال شبة الجزيرة الكوريه-  
روسيا الصين اليابان أمريكا

تحررت كوريا اثناء الحرب العالميه  
الثانيه الاولى الثالثه الرابعه

تم التوصل الى السلام الدائم بين الكوريتين في عام  
2005 2008 2000 2007

تجاور جمهورية كولايه من الشرق  
الصين كوريا الشماليه اليابان الهند

تشرف جمهورية كوريا على مسطحين مائيين هما بحر اليابان و-  
البحر الأحمر البحر الأسود البحر الأصفر البحر الجنوبي

تشرف جمهوريه كوريا من الجنوب على مضيق  
هرمز كوريا باب المندب جبل طارق

تتبع جمهورية كوريا جزيرة  
هون شو شي جو ناكتونق هلسان

تقع في المنطقة الشرقية و الوسطى من جمهورية كوريا و تغطيها الغابات  
السهول الجزر الهضاب الجبال

تشكل 30% من مساحة كوريا و تمتد على طول الساحل الغربي  
السهول الجزر الهضاب الجبال

و معظمها صغيرة المساحة 3000 يزيد عددها عن  
السهول الجزر الهضاب الجبال

اعلى قمة جبال في كوريا  
هلسان ناكتونق شي جو سيؤول

عاصمة كوريا الجنوبيه هي  
هلسان ناكتونق شي جو سيؤول

المحصول الزراعي الأول في كوريا الجنوبيه هو  
الشعير الذره الأرز الزيتون

من اهم المشكلات الاقتصادية في كوريا الجنوبيه  
انخفاض أجور العمال / ارتفاع التسويق / قلة المنافسة / نقص مصادر الطاقه

من القطاعات الحيويه في كوريا الجنوبيه التي تمزج ما بين الماضي و الحاضر  
الاقتصاد الزراعه التجارة السياحة





تطورت العلاقات الثنائية بين دولة الامارات و كوريا في عدت مجالات منها-  
توسيع الشراكة      تقليل الشراكة      توقف الشراكة

من ابرز مجالات التعاون بين دولة الامارات وجمهورية كوريا في مجال الطاقة-  
مدينة مصدر      الطاقة الرياح      مشروع براكه      الطاقة الشمسية

-  
تجاوز جمهورية كوريا من جهة الشمال  
اليابان      الصين      روسيا      كوريا الشمالية

-  
اثناء الحرب العالمية الثانية قسمت كوريا الى  
شماليه جنوبيه      غربيه شرقيه      غربيه جنوبيه

-  
تسقط الامطار الغزيره في كوريا الشماليه في فصل  
الصيف      الشتاء      الخريف      الربيع

-  
هو المحصول الذي يزرع من اجل الربح  
محصول الزراعي      الحبوب محصول نقدي      النباتات الطبيعیه

-  
جماعه تربطها اوصر القرابة و الأصل لغه ودين وسط شعب يفوقها عددا  
السكان      الاغلبيه      الأقليات      الأنماط

## الدرس الأول زايد ..... حضارة وإنجاز

ولد الشيخ زايد رحمة الله في قلعة-  
المويجعي      الحصن      القلعه      الهيلي

-  
توجد قلعة الحصن في اماره-  
دبي      الفجيرة      ابوظبي      الشارقة

-  
سمي الشيخ زايد رحمة الله على اسم  
جدة      عمه      خالة      والدة



اتقن الشيخ زايد هذه الرياضة وقد علمته الدقة والثقة-  
الصيد بالصقور ركوب الخيل ركوب الهجن الرماية

تحقق حلم الاتحاد في الثاني من ديسمبر عام  
1970 1971 1972 1973

اتفق معه المغفور له بإذن الله الشيخ زايد بن سلطان على تأسيس مجلس التعاون  
جمال عبد الناصر الشيخ جابر الصباح الشيخ حمد بن خليفة

أقيم اول مؤتمر قمة لقادة مجلس التعاون في  
الكويت الرياض ابوظبي المنامة

الركيزة الأولى التي اهتم بها الشيخ زايد بن سلطان رحمة الله في قيام الدولة هي  
القانون الخدمات الانسان الحكومه

اول جامعة في دولة الامارات العربية المتحدة هي  
جامعة الشيخ زايد رحمة الله •  
جامعة الامارات العربية المتحدة •  
كليات التقنية •  
جامعة خليفة •

توحيد 1976 شهد عام  
القوات المسلحة القوات البرية القوات البحرية القوات الجوية

من الفوائد المكتسبة من الرياضات هي  
ركوب الخيل الصيد بالصقور التجديف الصبر والتحمل

منطقة تتميز ببيئه خاصة فيها حيوانات وطيور ونباتات ذات قيمة جمالية  
الحديقة العامة المحمية الطبيعية الغابات التراث المادي

## الدرس الثاني: موروث بلادي

- هو التراث الملموس الذي يشمل المباني والمعالم التراثية-  
التراث المادي التراث المعنوي التراث الفكري التراث الاقتصادي
- التراث الذي يشتمل على الشعر والادب واعمال المسرح واللغات-  
التراث المادي التراث المعنوي التراث الفكري التراث الاقتصادي
- الاحاديث والروايات التي انتشرت في جميع أوساط المجتمع الاماراتي وتعتمد على الخيال  
القصة الحكاية الخرافيف الاساطير
- هو خلاصة ما خلفتة الأجيال السالفة للأجيال الحالية  
الورث الموروث القصص الحكايات
- من حرف البيئة الساحلية في دولة الامارات العربية المتحدة  
تربة الحيوانات الغزل النسيج الغوص
- من حرف البيئة الصحراوية في دولة الامارات العربية المتحدة  
الحداثة الغزل النجارة الغوص
- من حرف البيئة الجبلية في دولة الامارات العربية المتحدة  
تربة الحيوانات الغزل صناعة الفخار الغوص
- من ملابس النساء الشعبية في دولتنا الغالية  
العنزة العقال البشت الوقاية
- من ملابس الرجال في دولة الامارات العربية المتحدة  
العباءة البرقع البشت الوقاية
- هي ما يتناقلة الفخلف عن السلف كاسلوب الأعياد والمناسبات  
الفنون الشعبية العادات والتقاليد الامثال الشعبية



هم الزوار من خارج البلدة-  
الاهل الأقارب العطار الخطار

تقديم الطعام والسراب للضيوف يسمى قديما ب  
الاكل الإفطار الفوالة الضيافة  
تقدم القهوة في فناجين وتمسك باليد-

اليمنى اليسرى  
أطلقت وزارة التربية والتعليم مبادرة لاكتشاف المواهب هي-  
مواهب مواكب روائع بدائع

## الدرس الثالث: المدرسة الاماراتية

مدرسة تتميز ببيئة تعليمية فائقة الجودة ومزودة باعلى أدوات التقانة-  
المدرسة العربية المدرسة الخليجية المدرسة الإماراتية

من اهداف المدرسة الإماراتية  
تعزيز الهوية الوطنية  
تكرار المناهج منع الشراكة المجتمعية

ساد نظام المطاوعة في أي مرحلة من مراحل التعليم في الامارات  
التعليم النظامي التعليم ما قبل النظامي  
التعليم شبه النظامي

اعتمد التعليم شبه النظامي في تطويره وفتح مدارس على  
تجار اللؤلؤ المطاوعة المعلمين الحكومة

من ملامح التعليم النظامي بعد قيام الاتحاد  
شبه حكومي حكومي  
خاص متطور خاص

توجد المدرسة القاسمية في اماره  
ابوظبي دبي عجمان الشارقة

اول مدرسة نظامية في دولة الامارات العربية المتحدة  
القاسمية الاحمدية التيمية بن عتيبة

