

# الوحدة 9

## الخواص والمعادلات

### 3 تطبيق عملي: ضرب ثلاثة عوامل

2, 3, 4, 6

**الهدف:** استكشاف كيفية إيجاد ناتج ضرب ثلاثة عوامل.

### 2 خاصية التوزيع

1, 2, 3, 6, 7

**الهدف:** تطبيق خاصية التوزيع في الضرب لإيجاد ناتج الضرب.

### 1 تطبيق عملي: التفكير للضرب

2, 3, 7

**الهدف:** استكشاف كيفية تفكير العوامل للضرب.

وتيرة التقدم  
المقترحة

تقديم الدروس 11 يومًا

مراجعة/تقويم 1 يومًا

الإجمالي\* 13 يومًا

\* بتصنّف وقتًا  
إضافيًا لتدارك الخطأ  
والتمايز.

المفردات

الإستراتيجية التعليمية  
للتحصيل اللغوي

المواد



الدرس

ورق مربعات، أقلام تلوين أو أقلام تحديد،  
مكعبات ملونة

الدرس

قطع العد

تمثيل مسائل الرياضيات  
قطع العد

الدرس

قطع العد

خاصية التوزيع Distributive Property

LA مخطط مرقم

التقويم التكويني: بعد كل درس.

قريب من المستوى

- نشاط عملي
- التمرين الأساسي لإعادة التدريس، الدرس 2

ضمن المستوى

- نشاط عملي

أعلى من المستوى

- النشاط العملي
- تدريب الإثراء، الدرس 2

تقويم استيعاب  
الدرس

الاستجابة  
للتدخل  
التقويمي

## 4 خاصية التجميع

1, 2, 3, 6, 7

الهدف: تطبيق خاصية التجميع في الضرب لإيجاد نواتج الضرب.

## 5 كتابة التعبيرات

2, 3, 4, 6

الهدف: كتابة تعابير باستخدام العمليات الأربع.

المفردات

العمليات operations .التعبير expression

خاصية التجميع في الضرب Associative Property of Multiplication

الإستراتيجية التعليمية  
للتحصيل اللغوي

الكلمات الدلالية LA

رسم فن (Venn) التخطيطي LA

المواد



تمثيل مسائل الرياضيات  
قطع العد

تمثيل مسائل الرياضيات  
قطع العد

www.almanahj.com

الدرس  
قطع العد

الدرس  
قطع العد

تقويم استيعاب  
الدرس



التقويم التكويني: بعد كل درس.

التقويم التكويني: بعد كل درس.

الاستجابة  
للتدخل  
التقويي



قريب من المستوى  
• نشاط عملي  
• تدريب إعادة التدريس. الدرس 5  
ضمن المستوى  
• نشاط عملي  
أعلى من المستوى  
• نشاط عملي  
• تدريب الإثراء. الدرس 5

قريب من المستوى  
• نشاط عملي  
• التمرين الأساسي لإعادة التدريس. الدرس 4  
ضمن المستوى  
• نشاط عملي  
أعلى من المستوى  
• النشاط العملي  
• تدريب الإثراء. الدرس 4

• التقويم التكويني

التحقق من تقدمي، الاستفادة من التدريبات التقويمية.

# الوحدة 9

## الخواص والمعادلات

### 7 كتابة المعادلات

1, 2, 4, 6

**الهدف:** تمثيل المسائل الكلامية المكونة من خطوة واحدة وخطوتين باستخدام المعادلات مع متغير.

### 6 إيجاد قيم التعابير

2, 3, 4, 6, 7

**الهدف:** كتابة التعابير، ثم إيجاد قيمتها.

وقيرة التقدم  
المقترحة

تقديم الدروس 11 يوماً

مراجعة/تقويم 1 يوماً

الإجمالي\* 13 يوماً

\* يتضمن وقتاً  
إضافياً لتدارك الخطأ  
والتمايز.

المعادلة equation

LA العمل الجماعي/مراجعة ثنائية

إيجاد القيمة evaluate. المتغير variable

LA مخطط ارتكاز

المفردات

الإستراتيجية التعليمية  
للتحصيل اللغوي

تمثيل مسائل الرياضيات  
قطع العد

الدرس  
قطع العد

تمثيل مسائل الرياضيات  
قطع العد، حقيبة

الدرس  
قطع العد، حقيبة



المواد

التقويم التكويني: بعد كل درس.

التقويم التكويني: بعد كل درس.



تقويم استيعاب  
الدرس

قريب من المستوى

- نشاط عملي
- التمرين الأساسي لإعادة التدريس، الدرس 7

ضمن المستوى

- نشاط عملي

أعلى من المستوى

- النشاط العملي
- تدريب الإثراء، الدرس 7

قريب من المستوى

- نشاط عملي
- التمرين الأساسي لإعادة التدريس، الدرس 6

ضمن المستوى

- نشاط عملي

أعلى من المستوى

- النشاط العملي
- تدريب الإثراء، الدرس 6



الاستجابة للتدخل  
التقويمي

## 9 استقصاء حل المسائل: استخدام التفكير المنطقي

1, 2, 4, 5

**الهدف:** استخدام التفكير المنطقي لحل المسائل.

## 8 حل المسائل الكلامية المكونة من خطوتين

1, 3, 4, 5

**الهدف:** تمثيل المسائل الكلامية المكونة من خطوتين وحلها باستخدام المعادلات مع متغير.

المفردات



الإستراتيجية التعليمية  
للتحصيل اللغوي

المواد



تقويم استيعاب  
الدرس



الاستجابة  
للتدخل  
التقوي



LA تمثيلها بنفسك

LA المفردات الأساسية

تمثيل مسائل الرياضيات  
قطع العد

www.almanahj.com

الدرس  
قطع العد

الدرس  
قطع العد

التقويم التكويني: بعد كل درس.

التقويم التكويني: بعد كل درس.

قريب من المستوى

- نشاط عملي
- تدريب إعادة التدريس، الدرس 9

ضمن المستوى

- نشاط عملي

أعلى من المستوى

- النشاط العملي
- تدريب الإثراء، الدرس 9

قريب من المستوى

- نشاط عملي
- التمرين الأساسي لإعادة التدريس، الدرس 8

ضمن المستوى

- نشاط عملي

أعلى من المستوى

- نشاط عملي
- تدريب الإثراء، الدرس 8

التقويم الختامي

المراجعة • التفكير، الاستفادة من التدريبات التقويمية..



# ما مضمون الرياضيات في هذه الوحدة؟

## نقاط التقاطع

حيث يتقاطع

المحتوى

مع

ممارسات في الرياضيات 2

العمليات والتفكير الجبري

التفكير بطريقة تجريدية وكمية

تركز هذه الوحدة على العمليات والتفكير الجبري.

أثناء تدريس الجوانب المختلفة للخواص والمعادلات، احرص على التأكيد على القدرة على تمثيل العلاقات في المواقف المذكورة في المسائل باستخدام المعادلات من شأنه أن يساعد الطلاب على حل المسائل المجردة بسهولة أكبر.

ما الذي يُفترض بالطلاب أن يكونوا قادرين على فعله

ما الذي يُفترض بالطلاب فهمه

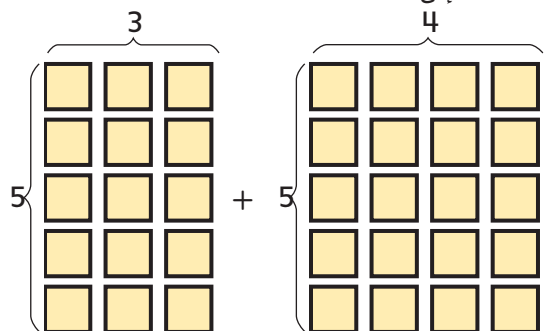
ما الذي يُفترض بطلابي أن يكونوا على علم به؟

## تفكيك العوامل

استخدم النماذج لإيجاد نواتج

الضرب مثل  $5 \times 7$ .

فكك 7 إلى 4 + 3.



استخدم الأقواس.  $5 \times 7 = (5 \times 3) + (5 \times 4)$

$$= 15 + 20$$

$$= 35$$

اضرب.

اجمع.

كيفية استخدام النماذج لتفكيك

العوامل وإيجاد نواتج الضرب.

• يمكن تفكيك الأعداد الكلية، لتسهيل العمل بها

• بعد تفكيك عدد، يمكن إيجاد ناتج ضرب كلا

الجزئين وجمعهما

في الصف السابق، استخدم الطلاب العمليات والتفكير الجبري والأعداد والعمليات في نظام عد العشرات في دراسة الخواص والمعادلات:

## خاصية التوزيع

استخدم خاصية التوزيع لضرب

عددين، مثل 5 و 9.

$$5 \times 9 = 5 \times (4 + 5)$$

اكتب 9 كما يلي.

$$4 + 5$$

$$= (5 \times 4) + (5 \times 5)$$

استخدم خاصية التوزيع.

$$= 20 + 25$$

اضرب.

$$= 45$$

اجمع.

كيفية استخدام خاصية التوزيع

لضرب عددين كليين.

• تجمع خاصية التوزيع بين عمليتي الضرب

والجمع

- ◀ **التركيز... تضييق النطاق... بفهم أعمق**
- ◀ **الترباط المنطقي... ربط عملية التعلّم داخل الوحدة... وبين الصفوف**
- ◀ **الدقة... السعي نحو توفير ثلاثة أوجه للتعليم بكثافة متساوية... الفهم التصوري، والمهارة والتمرس الإجرائيان، والتطبيق**

### ما الذي يُفترض بالطلاب فهمه

#### خاصية التجميع

كيفية استخدام خاصية التجميع في الضرب لضرب ثلاثة أعداد بشكل أكثر سهولة.

- تنص خاصية التجميع في الضرب على أن الطريقة التي تُجمَع وفقها الأعداد لا تتغير من ناتج الضرب
- تستخدم الأقواس لتجميع الأعداد عند الضرب
- قم بتجميع الأعداد التي تجدها أسهل في الضرب

### ما الذي يُفترض بالطلاب أن يكونوا قادرين على فعله

استخدم خاصية التجميع في الضرب لضرب ثلاثة أعداد مثل 4 و 2 و 3.

$$3 \times (2 \times 4)$$

استخدم الأقواس لمعرفة الأعداد التي ستقوم بضربها أولاً.

$$3 \times 8$$

اضرب 4 و 2 أولاً.

$$24$$

اضرب 8 و 3.

#### تعبير

كيفية إيجاد قيمة تعبير.

- المتغير هو حرف يرمز إلى كمية مجهولة في تعبير أو معادلة
- إيجاد قيمة تعبير، استبدل المتغير بعدد ثم أوجد قيمته

أوجد قيمة التعابير.

أوجد قيمة  $n - 3 \times 2$  إذا كانت  $n = 10$ .

استبدل  $n$  بالعدد 10 في التعبير.

$$10 - 3 \times 2$$

$$10 - 6$$

$$4$$

أولاً، اضرب 3 و 2.

ثم اطرح 6 من 10.

#### الجزرية

كيفية كتابة معادلة تمثل مسألة من الحياة اليومية.

- توضح المعادلة أن التعبيرين متساويان
- يمكن أن تشير الكلمات والعبارات إلى العمليات التي سيتم استخدامها في المعادلة
- عند إيجاد المجهول، قم بأداء العمليات الموجودة داخل الأقواس أولاً
- إذا لم تكن هناك أقواس، قم بأداء العمليات من اليسار لليمين، مع إجراء عمليات الضرب والقسمة أولاً

اكتب المعادلات لتمثيل الجمل مثل تلك الموضحة أدناه.

14 أغنية زائد ثلاث مرات  $n$  أغنية يساوي 23 أغنية.

**العمليات:** زائد تشير إلى الجمع

مرات تشير إلى الضرب

**المعادلة:**  $14 + 3 \times n = 23$

### ما الذي سيفعله الطلاب لاحقاً بتلك المهارات؟

بعد هذه الوحدة، سيتعلم الطلاب:

- استخدام المعادلات لحل مسائل القياس.

في الصف التالي، سيتعلم الطلاب:

- حل المسائل الكلامية المكونة من عدة خطوات من خلال كتابة المعادلات وحلها.

## ملاحظات المعلم

[www.almanahj.com](http://www.almanahj.com)

## الموضوع:

## هيا نعمل باستخدام الأدوات!

ترتبط جميع دروس الوحدة 9 بموضوع "هيا نعمل باستخدام الأدوات!" الذي يركز على المواد والأدوات اللازمة للبناء، مثل الكماشة والمسامير والزنبرك. وينعكس هذا في حل المسائل والتوضيحات المستخدمة في الوحدة.

### الاستفادة من السؤال الأساسي

بمجرد انتهاء الطلاب من هذه الوحدة، يجب أن يكونوا قادرين على الإجابة على السؤال "كيف يمكن استخدام الخواص والمعادلات لتجميع الأعداد؟" وفي كل درس، يعزز الطلاب من فهمهم لهذا السؤال من خلال الإجابة على أسئلة أبسط، وهي التي يشار إليها في التمارين المسماة باسم "الاستفادة من السؤال الأساسي". وفي نهاية الوحدة، يستخدم الطلاب خريطة مفاهيم لمساعدتهم في الإجابة على السؤال الأساسي.

## مشروع الوحدة

### ابتكر لعبة

- اطلب من الطلاب ابتكار لعبة رياضية، استنادًا إلى لعبة أو شكل مفضل. ويجب أن تتضمن اللعبة حل معادلات الجمع والطرح والضرب والقسمة.
- يعمل الطلاب في مجموعات لاتخاذ قرار بشأن نوع اللعبة والتصميم العام.
- يقومون بعمل لوحة للعبة، ووضع القواعد وكيفية الفوز، والتأكد من أن اللعبة توفر ممارسة حسابية.
- تلعب المجموعات بألعاب بعضهم البعض، ويقررون اللعبة المفضلة.

www.almanahj.com

### ممارسات في الرياضيات

1. فهم طبيعة المسائل والمثارة في حلها.
2. التفكير بطريقة تجريدية وكمية.
3. بناء فرضيات عملية والتعليق على طريقة استنتاج الآخرين.
4. استخدام نماذج الرياضيات.
5. استخدام الأدوات الملائمة بطريقة إستراتيجية.
6. مراعاة الدقة.
7. محاولة إيجاد البنية واستخدامها.
8. البحث عن التوافق في الاستنتاجات المتكررة والتعبير عن ذلك.

● = تم التركيز عليها في هذه الوحدة



## الوحدة 9 الخواص والمعادلات

### السؤال الأساسي

كيف يمكن استخدام الخواص والمعادلات لتجميع الأعداد؟

هيا نستخدم الأدوات!



## هل أنا مستعد؟

المهارة	التهارين
إيجاد المجهول باستخدام العمليات الأربعة	1-7
خواص الجمع	8
حل المسائل باستخدام الجمع والطرح	9-10

أمامك خياران لتقويم استيعاب الطلاب للمهارات اللازمة للنجاح في الوحدة؛ إما خيار مطبوع أو عبر الإنترنت. استخدم نتائج الطلاب لتحديد مستويات التوجيه المطلوبة لمساعدة الطلاب على الاستعداد للوحدة.

يحدد التقويم هل أنا مستعد؟ الوارد في بداية الوحدة ما إذا كان الطلاب يتمتعون بالمهارات الأساسية اللازمة لتحقيق النجاح في تعلم المهارات والمفاهيم الجديدة المعروضة في هذه الوحدة.

واستنادًا إلى نتائج عناصر التقويم هل أنا مستعد؟. استخدم خيارات التدريس المتميز الواردة في الصفحة التالية لتناول الاحتياجات الفردية قبل بدء الوحدة.

www.almanahj.com

### هل أنا مستعد؟

الاسم: \_\_\_\_\_

**الجبر أوجد المجهول في كل مما يلي.**

1.  $8 + \square = 11$   
المجهول هو 3.

4.  $\begin{array}{r} 15 \\ - \square \\ \hline 6 \end{array}$   
المجهول هو 9.

2.  $\square \times 5 = 20$   
المجهول هو 4.

5.  $\begin{array}{r} 9 \\ - \square \\ \hline 6 \end{array}$   
المجهول هو 3.

3.  $36 \div 6 = \square$   
المجهول هو 6.

6.  $\begin{array}{r} \square \\ 7 \overline{)42} \end{array}$   
المجهول هو 6.

7. استخدم الجملة العددية  $15 + 12 = 36$  لإيجاد عدد الكتب التي يقرأها أيوب في أغسطس.

شهر	عدد الكتب المقررة
يوليو	12
أغسطس	15
سبتمبر	□

المجهول هو 9 كتب.

8. حوِّط حول الخاصية المثلثة في  $6 + 5 = 5 + 6$ .  
خاصية التجميع في الجمع  
خاصية التبدل في الجمع  
خاصية المحايد الجمعي

9. باع عدنان شعبة واحدة أكثر من عبيد. وباعًا مئتي 15 شعبة. ارسـم صورة توضح كم عدد الشبـعات التي باعها كل منهما. راجع رسومات الطلاب.  
عدنان: 8 شـبـعات، عبيد: 7 شـبـعات

10. أنفقت مني 20 AED في متجر البقالة و 15 AED في محطة الوقود. كم أنفقت كإجمالي؟  
اكتب جملة عددية بها رمز يشير إلى المجهول. حل:  
**AED 35 = AED 20 + AED 15**

ظفل الـربيعات لتوضيح المسائل التي أجبت عنها إجابة صحيحة.

1

2

3

4

5

6

7

8

9

10

كيف أبلت؟

## أعلى من المستوى التوسّع

### العناصر التي تم الإخفاق فيها: 1 أو أقل

- كلّف الطلاب بإكمال الاختبار القبلي للوحدة لتحديد المهارات الموجودة في الوحدة التي يعرفها الطلاب مسبقاً.
- استخدم تدريب الرياضيات في المنزل: ورقة عمل "وقت اللعب" من وحدة سابقة.
- استخدم لعبة "مراجعة المفردات" من وحدة سابقة.

## ضمن المستوى 1

### العناصر التي تم الإخفاق فيها: 2 أو 3

- كلّف الطلاب بتصحيح العناصر التي أخفقوا فيها ووضّح لهم خطأهم الأصلي. قد ترغب في استخدام الأوراق التصويبية الخاصة بتقويم "هل أنا مستعد؟".
- كلّف الطلاب بإكمال الاختبار القبلي للوحدة لتحديد المهارات الموجودة في الوحدة التي يعرفها الطلاب مسبقاً.
- استخدم تدريب الرياضيات في المنزل: ورقة عمل "وقت اللعب" من وحدة سابقة.
- استخدم لعبة "مراجعة المفردات" من وحدة سابقة.

## قريب من المستوى 2: التدخل التقويبي الإستراتيجي

### العناصر التي تم الإخفاق فيها: 4 إلى 6

- استخدم الأوراق التدريبية للتقويم "هل أنا مستعد؟" لمراجعة المفاهيم التي أخفق فيها الطلاب في التقويم.
- استخدم أنشطة الاستجابة للتدخل التقويبي ضمن المستوى من الدرس 6 بالوحدة 1 والدرس 1 بالوحدة 2 لمساعدة الطلاب على مراجعة المفاهيم.

[www.almanahj.com](http://www.almanahj.com)

## كلمات في الرياضيات

### تكمّل الممارسات في الرياضيات

تؤكد الممارسات الرياضية 2 و 3 و 5 و 6 على أن معرفة المفردات الملائمة ومعانيها أمر أساسي في استيعاب المفاهيم واستخدامها بطريقة صحيحة في الاستنتاج الرياضي والتواصل وحل المسائل.

### مراجعة المفردات

- مصفوفة array
- تفكيك decompose
- علامة يساوي (=) equals sign
- حقيقة معلومة known fact
- مجهول unknown

### تكوين الروابط

اطلب من الطلاب شرح أو عرض ما يعرفونه عن مراجعة المفردات. على سبيل المثال، قد يوضحون كيفية حل المجهول. اسأل الطلاب عن عدد الخطوات المبينة في هذا المخطط الانسيابي. 4 خطوات  
اطلب منهم شرح كيفية قراءة المعلومات الواردة في هذا المخطط. الإجابة النموذجية: ابدأ بالفئة الأعلى. اقرأ من اليسار لليمين حتى تصل إلى الفئة السفلى.

## بطاقات المفردات

يظهر التعريف على ظهر البطاقة متبوعاً بنشاط قصير. ويقوي هذا النشاط من المعرفة بالكلمات والقراءة في مختلف أجزاء المحتوى، ويُسجل الطلاب إجاباتهم في المساحة الفارغة أسفل النشاط. راجع الجدول التالي لمعرفة الإجابة الخاصة بنشاط البطاقة.

بطاقة المفردات	إجابة النشاط
خاصية التجميع في الضرب	الإجابة النموذجية: $(4 \times 1) \times 3 = 4 \times (1 \times 3)$
خاصية التوزيع	الإجابة النموذجية: فكك 7 إلى $2 + 5$ . ثم استخدم حقائق معلومة.
المعادلة	الإجابة النموذجية: تتضمن المعادلة علامة يساوي.
إيجاد القيمة	الإجابة النموذجية: توضح الأقواس أي حاجة إلى الطرح أولاً.
التعبير	الإجابة النموذجية: يمكنني التعبير عن الكمية باستخدام الأعداد.
العمليات	الإجابة النموذجية: لإيجاد مجموع مجموعات متساوية
متغير	الإجابة النموذجية: يحتمل التغيير

www.almanahj.com

أفكار يمكن استخدامها أثناء هذا العمل الفردي

### بطاقات المفردات

كتابة أمثلة تساعدك في إيجاد قيمتها

المثال 1: اشرح التجميع في الضرب

المثال 2: اشرح المعادلة

المثال 3: اشرح العمليات

المثال 4: اشرح التعبير

المثال 5: اشرح المتغير

المثال 6: اشرح خاصية التوزيع

المثال 7: اشرح خاصية التجميع في الضرب

المثال 8: اشرح إيجاد قيمة

المثال 9: اشرح المعادلة

المثال 10: اشرح العمليات

المثال 11: اشرح التعبير

المثال 12: اشرح المتغير

الاسم: \_\_\_\_\_

### كلمات في الرياضيات

#### مراجعة المفردات

array مصفوفة decompose تحليل equals sign (=) علامة يساوي known fact حقيقة معلومة unknown مجهول

#### تكوين الروابط

حدد لكل قسم من المخطط الانسيابي الكلمة الصحيحة من قسم مراجعة المفردات.

علامة يساوي  
 $4 \times 7 =$   
المجهول

مصفوفة

تحليل

حقيقة معلومة  
 $2 \times 7 = 14$   
 $2 \times 7 = 14$







# الدرس 1

## تطبيق عملي

### التفكير للضرب



### هدف الدرس

أن يستكشف الطلاب كيفية تفكيك العوامل للضرب.

### مراجعة

#### مسألة اليوم

باع حسام 4 أضعاف ما باعه حمد من الكعك. وباع حمد نصف ما أعده من الكعك. وقد أعدّ حمد دستتين من الكعك. فكم عدد الكعك الذي باعه حسام؟ **4 دستات أو 48 قطعة كعك**

**التفكير بطريقتة تجريدية** كم عدد قطع الكعك الموجودة في **الدستة؟ 12**

كيف قمت بتحديد كمية الكعك التي باعها حسام؟ الإجابة النموذجية: أعلم أن حمد باع دسنة واحدة من الكعك لأنه باع نصف الدستتين اللتين أعدهما. وبما أن حسام باع 4 أضعاف ما باعه حمد، قمت بجمع  $12 + 12$  أعدهما. وبما أن حسام باع 4 أضعاف ما باعه حمد، قمت بجمع  $12 + 12$  لتساوي 48 قطعة كعك.

تتوفر مراجعة إضافية في نهاية الوحدة.

www.almanahj.com

**LA** بالنسبة لأنشطة الدعم اللغوي، اطلع على الإستراتيجية التعليمية للتحصيل اللغوي في الدرس التالي.

### التركيز

تمثيل مفهوم ضرب الأعداد الكلية باستخدام النماذج التالية: المجموعات متساوية الحجم، والمصفوفات، ونماذج المساحة، والتخطي بمقدار متساوٍ على خط الأعداد. فهم خواص العددين 0 و 1 في الضرب.

### ممارسات في الرياضيات

- 2 التفكير بطريقتة تجريدية وكمية.
- 3 بناء فرضيات عملية والتعليق على طريقة استنتاج الآخرين.
- 7 محاولة إيجاد البنية واستخدامها.

### الترباط المنطقي

#### الربط بالموضوعات الرئيسية

مرتبط بمجال التركيز المهم التالي: أ. تطوير فهم الضرب والقسمة وإستراتيجيات الضرب والقسمة في نطاق الأعداد حتى 100.

### الدقة

تزداد صعوبة التمارين مع تقدّم الدرس. ومع ذلك، قد يتباين تفكير الطلاب الفردي خلال العمليات الحسابية الموسّعة.

### مستويات الصعوبة

- المستوى 1 استيعاب المفاهيم
- المستوى 2 تطبيق المفاهيم
- التصميم: التجربة
- التمارين 1-2

# 2 التدريس

## التصميم

### ستحتاج إلى

- مربعات ملونة

قسّم الطلاب إلى مجموعات صغيرة. وأعط كل طالب 30 مربعًا ملونًا. اكتب  $4 \times 7$  على اللوحة.

استخدم بعضًا من المربعات الملونة لعمل مصفوفة  $4 \times 7$ . ارسم مصفوفة في المساحة المتوفرة في الكتب. وفكك العامل 7 من خلال فصل 7 أعمدة إلى 5 أعمدة + 2 من الأعمدة. ما ناتج  $4 \times 5$ ؟ 20 ما ناتج  $4 \times 2$ ؟ 8 ما ناتج  $20 + 8$ ؟ 28

وجه الطلاب خلال الجزء المتبقي من المثال. واطلب منهم ملء الأعداد الناقصة في كتبهم.

**3. برر** بناء فرضيات هل  $(4 \times 5) + (4 \times 2)$  الطريقة الوحيدة التي يمكن بها تفكيك

$4 \times 7$ ؟ لا برر إجابتك. الإجابة النموذجية: الطريقة الأخرى التي يمكن بها تفكيك  $4 \times 7$  هي  $(4 \times 3) + (4 \times 4)$ .

$4 \times 4 = 16$ ؛  $4 \times 3 = 12$ ؛  $16 + 12 = 28$ ؛  $4 \times 7 = 28$ .

## التجربة

اقرأ المثال بصوت عالٍ. واكتب  $6 \times 9$  على اللوحة. استخدم ورق المربعات المتوفر في كتابك لتحديد مصفوفة  $6 \times 9$ . ارسم خطًا عموديًا خلال المصفوفة لتفكيك العامل 9 إلى  $5 + 4$ . قم بتسمية حدي الجمع فوق كل قسم من المصفوفة. ما ناتج  $6 \times 5$ ؟ 30 ما ناتج  $6 \times 4$ ؟ 24 ما ناتج  $30 + 24$ ؟  $30 + 24 = 54$  وجه الطلاب خلال الجزء المتبقي من المثال. واطلب منهم ملء الأعداد الناقصة في كتبهم.

## التفسير

قم بحل التمارين 1-3 مع طلاب الصف الدراسي بشكل جماعي. وأجر مناقشة حول التمرين 1.

**3. برر** تحقق من مدى صحة الحل اطلب من الطلاب شرح عدد الطرق المختلفة التي يمكن بها تفكيك كلا العاملين لحل المسألة. وناقش كيف يظل ناتج الضرب هو نفسه دائمًا.

www.almanahj.com

### التجربة

قطعت غاية البرتقال إلى 9 شرائح لكل برتقالة. فكم عدد شرائح البرتقال الموجودة في 6 برتقالات؟

أوجد حاصل ضرب  $6 \times 9$ .

- حدد مصفوفة  $6 \times 9$  على ورقة مربعات.
- حل أحد العوامل. ارسم خطًا رأسيًا عبر المصفوفة لتحليل العامل 9 إلى  $5 + 4$ . اكتب الحدين أعلاه.
- أوجد حاصل ضرب كل جزء. اضرب. ثم اجمع النواتج.

$6 \times 9 = (6 \times 5) + (6 \times 4)$   
 $= 30 + 24$   
 $= 54$

إذًا،  $6 \times 9 = 54$  يوجد 54 شريحة برتقال.

### التفسير الإجابات النموذجية: 1-3

1. **ممارسات في البرر** البرر الاستنتاجات في المثال أعلاه. هل كان من الممكن تحليل 6 بدلًا من 9؟ اشرح. نعم. لن يغير العدد الذي فككته من حاصل الضرب.

2. كيف يساعد تحليل العامل في إيجاد حواصل الضرب؟ إنه يساعدني في تقسيم عدد كبير إلى أجزاء أصغر من الأسهل ضربها.

3. اشرح كيف يشابه استخدام إستراتيجية حفيظة معلومة مع تحليل عامل. تساعد هذه الإستراتيجية أيضًا في تقسيم عدد كبير إلى حقائق معلومة أصغر.

### تطبيق عملي

#### التفكيك للضرب

الاسم: \_\_\_\_\_

الدرس 1  
المسائل الأساسية  
كيف يمكن استخدام الخواص والمعادلات لتجميع الأعداد؟

عدد تفكيك عامل، أو تحليله، يصبح لديك أعداد أصغر من الأسهل ضربها.

### التصميم

أوجد حاصل ضرب  $4 \times 7$

- مثل  $4 \times 7$  استخدم البلاطات الملونة لإنشاء مصفوفة  $4 \times 7$ . ارسم المصفوفة.
- حل أحد العوامل. فكك العدد 7. أفضل 7 أعمدة إلى 5 أعمدة + عمودين.

$4 \times 7 = (4 \times 5) + (4 \times 2)$   
 $= 20 + 8$   
 $= 28$

إذًا،  $4 \times 7 = 28$

أوجد حواصل ضرب كل جزء. ثم اجمع.

الأوامر تساعدك في تجميع العوامل

# 3 التمرين والتطبيق

## التدريب

### ستحتاج إلى

- مربعات ملونة
- أقلام تلوين أو أقلام تحديد

اطلب من الطلاب إكمال التمارين الموجودة في صفحة التدريب في مجموعات ثنائية أو بشكل مستقل. وقد تحتاج إلى أن تطلب من طالب متطوع شرح كيفية إكمال واحد من التمارين، مع شرح كل خطوة.

**التمرين 5-4** سيحتاج الطلاب إلى الحصول على مربعات ملونة.

**التمرين 6** سيحتاج الطلاب إلى الحصول على أقلام ملونة أو أقلام تحديد.

## التطبيق

استخدم التمارين الموجودة في هذه الصفحة لتعزيز مهارات حل المسائل وكيفية فك العوامل عند الضرب. وقد ترغب في تقديم مربعات ملونة وورق مربعات وأقلام ملونة أو أقلام تحديد، إذا لزم الأمر.

### تمرين 1 استخدام البنية

**التمرين 10-8** اطلب من الطلاب تحديد العامل الذي قرروا فكه لحل كل مسألة كلامية، مع الصف بأكمله.

### تمرين 2 التفكير بطريقة تجريدية

**التمرين 11** ينبغي على الطلاب فهم الكميات والعلاقات من أجل فهم معانيها. هل هناك أكثر من جملة ضرب واحدة ممكنة توضح كيفية شراء ما مجموعه 81 دعامة؟ اشرح. الإجابة النموذجية: لا، جملة الضرب الوحيدة التي يمكن استخدامها للحصول على ناتج الضرب 81 هي  $9 \times 9$ .

## الاستفادة من السؤال الأساسي

يمنح التمرين كتابة نبذة الطلاب فرصة ليفكروا في موضوع ما، بحيث يتكّن لديهم الفهم المطلوب للإجابة على السؤال الأساسي للوحدة.

www.almanahj.com



### التطبيق

**ممارسات في الرياضيات** في تحديد البنية حل أحد العوامل. أوجد كل حاصل ضرب ثم اجمع.

8 اشترى السيد كمال 9 عبوات من الدعامة المعدنية لصناعة بعض أرفف الكتب. يوجد 8 دعامة في كل عبوة. فكم إجمالي عدد الدعامة التي اشترها السيد كمال؟

**72 دعامة**

9. تصنع فوزية 6 أزياء للحل المدرسي. تستخدم كل من الأزياء 9 أمتار من القماش. فما إجمالي ما ستحتاجه فوزية من القماش؟

**54 متراً**

10. يأكل كل حصان من الأحصنة الثمانية عدد التفاحات الموضح. فكم عدد التفاحات التي يأكلونها معاً؟

**32 تفاحة**



**11. ممارسات في الرياضيات** في الاستنتاج كيف يمكنك تغيير التمرين 8 حتى يشترى السيد كمال إجمالي 81 دعامة؟ قد يكون هناك 9 دعامة في كل صندوق بدلاً من 8. ثم يمكنك أن تجد  $9 \times 9 = 81$ .

**اكتب نبذة**

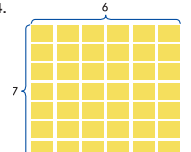
12. كيف نتج لك تحليل أحد العوامل جميع الأعداد على نحو مختلف؟ الإجابة النموذجية: يمكنك تفكيك أحد العوامل إلى حدين. وهذا يسمح بتجميع الأعداد بطرق مختلفة.

الاسم: \_\_\_\_\_

### التدريب نماذج عمليات التحليل: 4-7

استخدم بلاطات ملونة لصنع نموذج للمصفوفة. حلل أحد العوامل. ثم أوجد حاصل الضرب لكل جزء واجمع.

4.

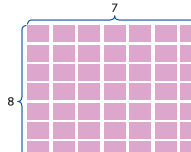


$$7 \times 6 = (7 \times 3) + (7 \times 3)$$

$$= 21 + 21$$

$$= 42$$

5.



$$8 \times 7 = (8 \times 4) + (8 \times 3)$$

$$= 32 + 24$$

$$= 56$$

6. حلل أحد العوامل. لون المصفوفة بلونين لتمثيل أعدادك. ثم أوجد حاصل الضرب لكل جزء واجمع.

$$7 \times 9 = (7 \times 5) + (7 \times 4)$$

$$= 35 + 28$$

$$= 63$$

7. حلل الحديقة بطريقة أخرى.

$$7 \times 9 = (7 \times 3) + (7 \times 6)$$

$$= 21 + 42$$

$$= 63$$

# 4 تلخيص الدرس

## التفكير والتوضيح

قسّم الطلاب إلى مجموعات صغيرة وأعط كل مجموعة عدة قطع من ورق المربعات. خصص لكل مجموعة مسألة ضرب مختلفة، مثل  $4 \times 8$ . واطلب منهم رسم مصفوفة لتمثيل ناتج الضرب. اطلب من كل مجموعة توضيح ثلاثة طرق مختلفة أو أكثر لتفكيك المصفوفة إلى مصفوفتين أصغر. ولكل طريقة، اطلب من الطلاب كتابة جملة عددية. راجع عمل الطلاب.

## واجباتي المنزلية

قم بتعيين الواجب المنزلي بعد إكمال الدرس بنجاح. يمكن للطلاب الذين يستوعبون المفاهيم تجاوز قسم **مساعد الواجب المنزلي**.

## حل المسائل

**استخدام البنية**

التمرين 5 ما العوامل التي قمت بتفكيكها لحل هذه المسألة الكلامية؟ اكتب الحل هنا.  $3 \times 9$ : الإجابة النموذجية:  $3 \times 9 = (3 \times 5) + (3 \times 4)$  مرة نوم  $15 + 12 = 27$

www.almanahj.com

حل أحد العوامل. أوجد كل حاصل ضرب. ثم اجمع. حل الحقيقة بالطريقة المختلفة أدناه. نماذج عمليات التحليل: 3, 4

$$3. \quad 8 \times 8 = (8 \times 5) + (8 \times 3) = 40 + 24 = 64$$

$$4. \quad 5 \times 7 = (5 \times 5) + (5 \times 2) = 25 + 10 = 35$$

طريقة أخرى:

$$8 \times 8 = (8 \times 4) + (8 \times 4) = 32 + 32 = 64$$

$$5 \times 7 = (5 \times 3) + (5 \times 4) = 15 + 20 = 35$$

### حل المسائل

حل أحد العوامل. أوجد كل حاصل ضرب. ثم اجمع.

5. **ممارسات في الرياضيات** تحديد البنية تمام أخت لمياء الرضية 3 مرات في اليوم. فكم عدد المرات التي تنامها في 9 أيام؟ **27 مرة**

6. نصل رهام إلى موقف الحافلات 5 دقائق مبكراً في كل صباح. فكم عدد الدقائق التي انتظرت خلالها في موقف الحافلات في 5 أيام؟ **25 دقيقة**

7. في كل إثنين وأربعاء وجمعة، يمشي السيد يوسف 2 كيلومتراً ويركض لمسافة 4 كيلومترات. ما إجمالي عدد الكيلومترات التي يمشيها ويركضها السيد يوسف في أسبوعين؟ **48 كيلومتراً**

الاسم: \_\_\_\_\_

## واجباتي المنزلية

### مساعد الواجب المنزلي

أوجد حاصل  $4 \times 9$ . أعد مصفوفة لتمثيل  $4 \times 9$ .

2. حل أحد العوامل. فكك 9 لتكوين 5 و 4.

$$4 \times 9 = (4 \times 5) + (4 \times 4) = 20 + 16 = 36$$

إذًا،  $4 \times 9 = 36$

### تمرين نماذج لعمليات التحليل: 1, 2

حل أحد العوامل. لون المصفوفة بلونين لتمثيل أعدادك. ثم أوجد حاصل الضرب لكل جزء واجمع.

1.

$$7 \times 7 = (7 \times 5) + (7 \times 2) = 35 + 14 = 49$$

2.

$$6 \times 8 = (6 \times 5) + (6 \times 3) = 30 + 18 = 48$$

# الدرس 2

## خاصية التوزيع

### الاستعداد

#### التركيز

مثّل مفهوم ضرب الأعداد الكلية باستخدام النماذج التالية: مجموعات متساوية الحجم، ومصفوفات، ونماذج المساحة، وفضات متساوية على خط الأعداد. افهم خواص 0 و 1 في الضرب.

#### العمليات الرياضية

- 1 فهم طبيعة المسائل والمثابرة في حلها.
- 2 التفكير بطريقة تجريدية وكمية.
- 3 بناء فرضيات عملية والتعليق على طريقة استنتاج الآخرين.
- 6 مراعاة الدقة.
- 7 محاولة إيجاد البنية واستخدامها.

#### التربط المنطقي

##### مرتبطة بالموضوعات الرئيسية

الربط بمجال التركيز المهم التالي: 1. تطوير فهم الضرب والقسمة وإستراتيجيات الضرب والقسمة في نطاق الأعداد حتى 100.

#### الدقة

تزداد صعوبة التمارين مع تقدّم الدرس. ومع ذلك، قد يتباين تفكير الطلاب الفردي خلال العمليات الحسابية الموسّعة.

#### مستويات الصعوبة

- المستوى 1 استيعاب المفاهيم
  - المستوى 2 تطبيق المفاهيم
  - المستوى 3 التوسّع في المفاهيم
- التمارين 1-2  
التمارين 3-10  
التمارين 11-15

#### هدف الدرس

أن يقوم الطلاب بتطبيق خاصية التوزيع في الضرب لإيجاد نواتج الضرب.

#### تنمية المفردات

#### المفردات الجديدة

#### خاصية التوزيع Distributive Property

#### النشاط

- اكتب كلمة خاصة على اللوحة. واطلب من الطلاب قراءة الدرس بسرعة لتحديد أين تم استخدام هذه الكلمة لأول مرة.
- اشرح للطلاب أنه مثل أي خاصية تعلموها، تُعد خاصية التوزيع قاعدة يمكنهم تطبيقها لمساعدتهم في الضرب.
- **التفكير بطريقة تجريدية كيف يمكن مقارنة خاصية التوزيع بما تعلمناه في الدرس السابق؟ الإجابة النموذجية: تُفكك خاصية التوزيع عددًا.**

#### الإستراتيجية التعليمية للتحصيل اللغوي

#### الدعم البياني: مخططًا مرقمًا

قبل الدرس، اطلب من الطلاب مراجعة بطاقات المفردات بحثًا عن خاصية التوزيع.

بمشاركات الطالب، ارسم مخططًا مرقمًا للفصل الدراسي يسرد الخطوات اللازمة لاستخدام خاصية التوزيع للضرب. وأسأل، **ما الخطوة الأولى؟ تفكيك أحد العوامل. ما الخطوة الثانية؟ تجميع العوامل بين قوسين.** واصل تشجيع الطلاب على التعرف على الخطوتين الثالثة والرابعة المتمثلتين في "ضرب كلتا المجموعتين من العوامل" و "جمع ناتج الضرب". ووجه الطلاب إلى نسخ المخطط في دفتر الرياضيات، واطلب منهم الرجوع إلى المخطط للتمارين 3-10.

## 2 الاستكشاف واستخدام النماذج

### مراجعة

#### مسألة اليوم

يوجد لدى البقال 4 صناديق بكل واحد 9 ثمرات من البرتقال. ويقوم بتعبئة 6 ثمرات من البرتقال في كل مرة. إذا قام ببيع جميع أكياس البرتقال، فسيربح AED 18. كم عدد الأكياس الموجودة لديه؟ 6 كم تكلفة كل كيس؟ AED 3

**2-4 التفكير بطريقة كمية** اكتب الجملة العددية المستخدمة في حل المسألة.  $36 = 4 \times 9$  حبة برتقال إجمالاً؛  $6 = 36 \div 6$  أكياس من البرتقال؛  $3 = 18 \div 6$  لكل كيس

#### تدريب سريع

استخدم هذا النشاط ليكون بمثابة مراجعة سريعة وتقوية للدرس السابق.



### تمثيل مسائل الرياضيات

الهدف: المهارة والتمرس الإجرائيان

المواد: قطع العد

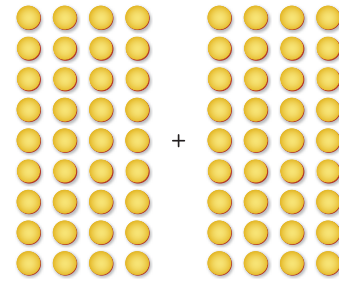
ذكر الطلاب بكيفية مضاعفة حقيقة معروفة لمساعدتهم في الضرب.

متى يمكنك استخدام هذه الإستراتيجية؟ الإجابة النموذجية: يمكنني مضاعفة حقيقة معروفة عندما يكون أحد العوامل عدد زوجي.

اطلب من الطلاب استخدام قطع العد لعمل مصفوفة توضح 9 صفوف من 8.

ما مسألة الضرب التي تمثلها المصفوفة؟  $9 \times 8$   
اطلب منهم فصل مصفوفة قطع العد إلى مصفوفتين بكل واحدة 9 صفوف من 4.

ينبغي على الطلاب تمثيل التالي.



كيف تعلم أن  $(9 \times 4) + (9 \times 4) = 9 \times 8$ ؟ الإجابة النموذجية: عدد قطع العد في المصفوفة الأولى لم يتغير عندما تم فصل المصفوفة إلى جزأين. لذلك 9 مجموعات من العدد 8 يجب أن تساوي 9 مجموعات من العدد 4 بالإضافة إلى 9 مجموعات من العدد 4.

## المفردات

اسأل الطلاب عما تشير إليه الأقواس في خاصية التوزيع. توضح الأقواس العوامل التي سيتم ضربها معًا.

## الرياضيات في الحياة اليومية

### مثال 1

اقرأ المثال وامض قدمًا في حلّ المسألة مع الطلاب. نعلم أن لدينا 8 مجموعات مفكات ويوجد بكل مجموعة 6 مفكات. فكيف يمكننا إيجاد إجمالي عدد المفكات؟ نحتاج إلى إيجاد  $8 \times 6$ . يمكن تفكيك واحد من العوامل. كلا العاملين زوجيان، لذلك يمكننا اختيار أي عامل منهما. لنقم باختيار العامل 6. تتمثل إحدى طرق تفكيك العدد 6 في استخدام  $5 + 1$ .

### مثال 2

بناء فرضيات ما الطرق الأخرى التي يمكن بها تفكيك العدد 6؟ الإجابة النموذجية:  $3 + 3$ ،  $2 + 4$  لماذا قد يكون تفكيك العدد 6 إلى  $5 + 1$  أسهل من هذه الطرق الأخرى؟ الإجابة النموذجية: من الأسهل الضرب في 5 و 1 عقليًا.

ما ناتج  $8 \times 5$ ؟ 40 وما ناتج  $8 \times 1$ ؟ 8 وما ناتج  $8 + 40$ ؟ 48 كم عدد المفكات الموجودة إجمالاً؟ 48 مفكًا



## مثال 2

اقرأ المثال وامض قدمًا في حلّ المسألة مع الطلاب. في هذا المثال، توجد 7 ألواح بكل واحد منها 7 مسامير. ونحتاج إلى إيجاد إجمالي عدد المسامير. اكتب  $7 \times 7 =$  على اللوحة. يمكنك تفكيك واحد من العددين 7 إلى  $5 + 2$ . تُستخدم الأقواس لتجميع العوامل. اكتب  $7 \times 5$  في المجموعة الأولى من الأقواس. واكتب  $7 \times 2$  في المجموعة الثانية من الأقواس. ما ناتج  $7 \times 5$ ؟ 35 وما ناتج  $7 \times 2$ ؟ 14 وما ناتج  $35 + 14$ ؟ 49 كم عدد المسامير التي استخدمتها هناك ووالدها معًا؟ 49 مساميرًا

### مثال 3

التفكير بطريقة كمية إذا تم تفكيك  $7 \times 7$  إلى  $(7 \times 4) + (7 \times 3)$ . فهل سيكون الحل ممتثلًا للحل الحالي أم مختلفًا عنه؟ اشرح. الإجابة النموذجية: سيكون الحل هو نفسه لأن  $(7 \times 4) + (7 \times 3)$  تساوي 49.

## تمرين موجّه

قم بحل التمارين الواردة تجب الجزء "تمرين موجّه" مع الطلاب.

## حديث في الرياضيات: محادثة تعاونية

مراعاة الدقة اشرح ما يعنيه تفكيك عدد. الإجابة النموذجية: فكك عددًا إلى أجزاء أصغر يسهل استخدامها.

www.almanahj.com

**مثال 2**

استخدم والد هناء 7 ألواح لبناء طاولة. فكم عدد المسامير المستخدمة إذا كان كل لوح يحتاج إلى 7 مسامير؟ أوجد حاصل ضرب  $7 \times 7$ . حلل عامل واحد. أحد الطرق هو تحليل 7 إلى  $5 + 2$ .

استخدم الأقواس لتجميع العوامل.

اضرب. اجمع.

$$7 \times 7 = (5 \times 7) + (2 \times 7)$$

$$= 35 + 14$$

$$= 49$$

إذا، استخدمت هناء ووالدها إجمالي 49 مساميرًا.

**نماذج عمليات التحليل: 1، 2**

تمرين موجّه

استخدم خاصية التوزيع لإيجاد كل حاصل ضرب.

1.  $8 \times 3 = (5 \times 3) + (3 \times 3)$

$$= 15 + 9$$

$$= 24$$

2.  $8 \times 8 = (3 \times 8) + (5 \times 8)$

$$= 24 + 40$$

$$= 64$$

اشرح ماذا يعني تحليل عدد.

الاسم

**الدرس 2**

السؤال الأساسي كيف يمكن استخدام الأقواس والمعادلات لتجميع الأعداد؟

## خاصية التوزيع

تتيح لك خاصية التوزيع تحليل عامل واحد. ثم يمكنك استخدام حقائق معلومة أصغر لإيجاد حواصل الضرب.

## الرياضيات في الحياة اليومية

**مثال 1**

بيعت متجر جديد للأجهزة مجموعات مفكات. في كل مجموعة 8 مفكات. فكم عدد المفكات الموجودة في 6 مجموعات؟ أوجد حاصل ضرب  $8 \times 6$ . حلل عامل واحد. أحد الطرق هو تحليل 6 إلى  $5 + 1$ .

تجميع العوامل باستخدام الأقواس.

اجمع.

$$8 \times 6 = (8 \times 5) + (8 \times 1)$$

$$= 40 + 8$$

$$= 48$$

إذا،  $8 \times 6 = 48$ . يوجد 48 مفك.



## تمارين ذاتية

**RtI** استنادًا إلى ملاحظتك، يمكنك اختيار تعيين التمارين كما هو موضح في المستويات أدناه:

- **قريب من المستوى** خصّص التمارين 3-6، 11، 14-15.
- **ضمن المستوى** خصّص التمارين 9-3 (الفردية)، 11-15.
- **أعلى من المستوى** خصّص التمارين 7-15.

### خطأ شائع!

**التمرين 11** قد يغفل الطلاب عن حقيقة أن المسألة تسأل عن الساعات على مدى خمسة أيام، بدلاً من 7 أيام. أشر إلى أن المسألة تسأل عن عدد الساعات الإجمالي من الأحد إلى الخميس، وأنهم يحتاجون إلى قراءة المسائل بعناية.

## حل المسائل

### استخدام البنية

**التمرين 11** كيف استخدمت خاصية التوزيع لتفكيك الجملة العددية لحل المسألة الكلامية؟ اشرح. الإجابة النموذجية: فكك  $5 \times 12$  إلى  $(6 \times 5) + (6 \times 5)$ ؛  $30 + 30 = 60$  ساعة.

### فهم طبيعة المسائل

**التمرين 14** كم بوصة في الباردة الواحدة؟ **36** بوصة بعد أن يقوم الطلاب بحل المسألة، اطلب منهم التحقق لمعرفة ما إذا كانت إجاباتهم منطقية من خلال عمل جدول أو تصميم رسم تخطيطي. أجر مناقشة مع الصف الدراسي حول كيفية توصل الطرق المختلفة إلى الحل الصحيح.

**LA** للحصول على دعم بلغات إضافية، استخدم أنشطة التدريس المتميز في الصفحة التالية.

### الاستفادة من السؤال الأساسي

**التمرين 15** يطلب من الطلاب أن يعتمدوا على استيعابهم للمفاهيم اللازمة للإجابة عن السؤال الأساسي للوحدة.

### التقويم التكويني

**التعريف** اطلب من الطلاب استخدام دفتر لتحديد معنى إحدى المفردات. عرّف "خاصية التوزيع" بكلمات من عندك. وقدم رسمًا لتمثيل المعنى. اطلب من الطلاب مشاركة المعنى الخاص بهم مع الصف الدراسي.

**RtI** انظر الصفحة التالية للاطلاع على خيارات التدريس المتميز.

www.almanahj.com

### حل المسائل

**11. ممارسات في الرياضيات** تحديد البنية يكون متجر التصليح مفتوحًا 12 ساعة كل يوم. فكم عدد الساعات التي تُفتح فيها من الأحد إلى الخميس؟

**60 ساعة**

**12.** يطلب أحد المطاعم 9 (دزينات) من البيض. توضح الصورة عدد البيضات التي كسرت أثناء الشحن من كل (دزينة). كم عدد البيضات غير المكسورة؟ (إرشاد: دزينة واحدة = 12.)

**63 بيضة**

**13.** في كل حوض أسماك 10 سمكات من سبك المهرج و6 سمكات من السمكة المنتفخة. يوجد 7 أحواض. فكم عدد الأسماك الموجودة فيها كلها؟

**112 سمكة**

**ممارسات في الرياضيات**

**14. فهم طبيعة المسائل** يوجد مساحة لـ 12 صندوقًا صغيرًا في كل حاوية وتتسع غرفة الشحن لـ 3 حاويات فكم عدد الصناديق الصغيرة التي يمكن وضعها في غرفتين؟

**72 صندوقًا**

**الاستفادة من السؤال الأساسي** كيف يتم استخدام الأقواس عند تجميع العوامل؟ الإجابة النموذجية: تستخدم الأقواس لتجميع العوامل معًا. وهي توضح أي عددين يُضربا أولاً.

### تمارين ذاتية

استخدم خاصية التوزيع لإيجاد كل حاصل ضرب.

3. $4 \times 6 = 24$	4. $6 \times 6 = 36$
5. $8 \times 9 = 72$	6. $10 \times 4 = 40$
7. $12 \times 4 = 48$	8. $11 \times 8 = 88$
9. $10 \times 10 = 100$	10. $12 \times 60 = 72$



أعلى من المستوى التوسيع

**نشاط عملي** المواد: رزمة من أوراق اللعب، مكعبات الأعداد

اطلب من الطلاب استخدام رزمة من أوراق اللعب. عيّن طالب واحدة على أنه اللاعب الموزع لأوراق اللعب واطلب من طالبين آخرين أن يكونا اللاعبين. اطلب من طالب واحد درجة واحد أو اثنين من مكعبات الأعداد. ووضح الرقم الذي يظهر على مكعب الأعداد عدد أوراق اللعب التي سيعطيها الموزع لكل لاعب. اطلب من الطالبين استخدام أوراق اللعب لكتابة مسألة مرتبطة بخاصية التوزيع. وبنغي عليهم مشاركة الجمل العددية مع أعضاء مجموعتهما.

ضمن المستوى المستوى 1

**نشاط عملي** المواد: بطاقات فهرسة (كل واحدة عليها جملة عددية مثل:  $3 \times 12$ ,  $11 \times 6$ ,  $10 \times 9$ )

أعط بطاقة فهرسة واحدة إلى مجموعة ثنائية من الطلاب. واطلب منهم كتابة الخطوات التي سيستخدمونها لإيجاد ناتج ضرب الجملة العددية ذهنيًا باستخدام خاصية التوزيع. وبنغي عليهم كتابة الخطوات على ظهر البطاقة. وبعد ذلك، بنغي عليهم تبادل البطاقات مع زملائهم والتحقق من عمل كل منهما.

قريب من المستوى المستوى 2: التدخل التوحيدي الإستراتيجي

**نشاط عملي** المواد: مكعبات الربط، دفاتر الرياضيات

اطلب من الطلاب كتابة تفكيك ومعناها في دفاتر الرياضيات الخاصة بهم. أعط الطلاب عددًا مكونًا من رقم واحد، مثل 9. واطلب منهم استخدام مكعبات الربط لتمثيل الرقم 9. ثم اطلب منهم توضيح العدد 9 بطريقة مختلفة، مثل 6 و 3. اطلب من الطلاب كتابة جميع الطرق التي يمكنهم بها تفكيك العدد 9. وكرر النشاط بأعداد مختلفة، حسبما يتسع الوقت.

LA الدعم المتميز للتحصيل اللغوي

المستوى الانتقالي قواعد التحدث للجمهور

حدد لكل طالب مسألة من التمارين 3-10. واطلب من كل طالب إعداد عرض تقديمي يشرح كيفية استخدام خاصية التوزيع لحل المسألة. أخبر الطلاب أن عروضهم ينبغي أن تشمل عرضًا مرئيًا، مثل مصفوفة أو قطع عدّ. تحدّ الطلاب أن يقوموا بكتابة مسألة كلامية من الحياة اليومية لدعم الجملة العددية.

مستوى التوسيع تكوين الروابط

اكتب  $( \quad \times 7 ) + ( \quad \times 7 ) = 9 \times 7$ . واسأل، ما الخطوة الأولى من خطوات استخدام خاصية التوزيع للضرب؟ **قم بتفكيك أحد العوامل.** واطلب من الطلاب اقتراح طرق مختلفة لتفكيك العدد 9. وأعد كتابة المعادلة بكل اقتراح جديد. ثم قم بحل المسألة، بمشاركة الطلاب، لإثبات أنه لا يهم كيف تم تفكيك العدد 9، لأن الإجابة هي نفسها. اكتب  $( \quad \times 5 ) + ( \quad \times 5 ) = 8 \times 5$  واطلب من الطلاب التكرار، وتفكيك العدد 8 بأكثر من طريقة واحدة.

المستوى الناشئ معنى الكلمة

اكتب  $( 8 \times 1 ) + ( 8 \times 5 ) = 8 \times 6$ . أشر إلى زوج من الأقواس وقُل، هذه أقواس. أشر بشكل عشوائي إلى زوج من الأعداد والرموز والأقواس في المعادلة واسأل، هل هذه أقواس؟ يجب الطلاب **نعم** أو لا. وأخيرًا، أشر مرة أخرى إلى زوج من الأقواس واسأل، ما هذه؟ **قوسان.**

## واجباتي المنزلية

قم بتعيين الواجب المنزلي بعد إكمال الدرس بنجاح. يمكن للطلاب الذين يستوعبون المفاهيم تجاوز قسم **مساعد الواجب المنزلي**.

## حل المسائل

7-4 استخدام البنية

التمرين 6 كيف ترتبط هذه المسألة بخاصية التوزيع؟ الإجابة النموذجية: سأقوم بتفكيك الجملة العددية  $12 \times 8$  إلى  $(6 \times 8) + (6 \times 8)$  للحصول على ما مجموعه  $48 + 48 = 96$  بيضة.

AL للحصول على دعم بلغات إضافية، استخدم أنشطة التدريس المتميز في الصفحة السابقة.

## مراجعة المفردات

اطلب من الطلاب إكمال التمرين 8 في خطوتين. أولاً، ينبغي عليهم تفكيك العامل. ثم، ينبغي عليهم استخدام خاصية التوزيع لإيجاد ناتج الضرب.

## تمرين على الاختبار

### تشخيص أخطاء الطلاب

قد تشير توجهات الصف نحو الإجابات الخاطئة إلى وجود أخطاء أو سوء فهم شائعين بين الطلاب.

A توضح  $2 \times 12$ ، وليس  $4 \times 12$

B صحيح

C توضح  $6 \times 6$ ، وليس  $4 \times 12$

D توضح  $4 \times 11$ ، وليس  $4 \times 12$

### التقويم التكويني

التلخيص في دفترك. اشرح طريقتين لإيجاد  $6 \times 9$ . الإجابة النموذجية: تتمثل إحدى الطرق في البحث عن نمط. وتتمثل طريقة أخرى في تفكيك عامل واحد. أوجد  $6 \times 9$ ؟ 54 امنح الطلاب الوقت لمشاركة الملخص مع زميل أو مع الصف الدراسي.

استخدم خاصية التوزيع لإيجاد كل حاصل ضرب.

3.  $5 \times 11 = 55$

4.  $12 \times 7 = 84$

### حل المسائل

5. اشترت عبير 4 أكياس من التفاح من متجر البقالة. يحتوي كل كيس على 6 تفاحات. فكم إجمالي عدد التفاحات لدى عبير؟

24 تفاحة

6. ممارسات في تحديد البنية طهي محمود 8 دزنيات من البيض للمخبين. فما إجمالي عدد البيضات التي طهاها محمود؟ (ارشاد: 1 دزينة = 12)

96 بيضة

7. يوجد 6 مقاعد في كل صف في المسرح. إذا كانت 8 صفوف ممثلة بالأشخاص. فكم عدد الأشخاص الموجودين في المسرح؟

48 شخصاً

### مراجعة المفردات

8. اشرح كيف يمكنك استخدام خاصية التوزيع لتحليل عامل وإيجاد حاصل ضرب  $5 \times 9$ . الإجابة النموذجية: يمكنك تحليل 9 إلى  $5 + 4$ . استخدم خاصية التوزيع لإيجاد  $45 = 25 + 20 = (5 \times 5) + (5 \times 4)$ .

### تمرين على الاختبار

9. ما الذي يوضح الاستخدام الصحيح لخاصية التوزيع لإيجاد  $4 \times 12$ ؟

Ⓐ  $(2 \times 6) + (2 \times 6)$       Ⓒ  $(4 \times 6) + (2 \times 6)$

Ⓑ  $(4 \times 10) + (4 \times 2)$       Ⓓ  $(4 \times 8) + (4 \times 3)$

الاسم

## واجباتي المنزلية

### الدرس 2

#### خاصية التوزيع

### مساعد الواجب المنزلي

جرت سمية 6 لغات حول اللعب كل يوم لمدة 7 أيام. فكم عدد اللغات التي تجربها سمية في أسبوع؟

أوجد حاصل ضرب  $6 \times 7$ .

الطريقة الأولى تحليل 7 إلى  $5 + 2$ .

$$6 \times 7 = (6 \times 5) + (6 \times 2)$$

$$= 30 + 12$$

$$= 42$$

طريقة أخرى تحليل 7 إلى  $3 + 4$ .

$$6 \times 7 = (6 \times 3) + (6 \times 4)$$

$$= 18 + 24$$

$$= 42$$

$6 \times 7 = 42$

إذا تجر سمية 42 لغة في أسبوع واحد.

### تمرين

استخدم خاصية التوزيع لإيجاد كل حاصل ضرب.

1.  $4 \times 9 = 36$

2.  $5 \times 6 = 30$

### التركيز

تمثيل مفهوم ضرب الأعداد الكلية باستخدام النماذج التالية: مجموعات متساوية الحجم، ومصفوفات، ونماذج المساحة، وقفزات متساوية على خط الأعداد. فهم خواص 0 و 1 في الضرب

### العمليات الرياضية

- 2 التفكير بطريقة تجريدية وكمية.
- 3 بناء فرضيات عملية والتعليق على طريقة استنتاج الآخرين.
- 4 استخدام نماذج الرياضيات.
- 6 مراعاة الدقة.

### الترباط المنطقي

#### الربط بالموضوعات الرئيسية

الربط بمجال التركيز المهم التالي: 1. تطوير فهم الضرب والقسمة وإستراتيجيات الضرب والقسمة في نطاق الأعداد حتى 100.

### الدقة

تزداد صعوبة التمارين مع تقدّم الدرس. ومع ذلك، قد يتباين تفكير الطلاب الفردي خلال العمليات الحسابية الموسّعة.

#### مستويات الصعوبة

- المستوى 1 استيعاب المفاهيم
- المستوى 2 تطبيق المفاهيم
- التصميم: التجربة
- التمارين 1-24

### هدف الدرس

أن يستكشف الطلاب كيفية إيجاد ناتج ضرب ثلاثة عوامل.

### مراجعة

#### مسألة اليوم

اشترى حسن ملصقات لمجموعته. كانت تكلفة الملصقات الصغيرة AED 5 لكل واحد، وكانت تكلفة الملصقات الكبيرة AED 12 لكل واحد. وقد أنفق AED 73. فكم عدد الملصقات الكبيرة التي اشتراها؟ 4 وكم عدد الملصقات الصغيرة؟ 5 اكتب الجمل العددية لعرض الحل.  
 $4 \times \text{AED } 12 = \text{AED } 48$ ,  $5 \times \text{AED } 5 = \text{AED } 25$ ,  $\text{AED } 48 + \text{AED } 25 = \text{AED } 73$

#### مراجعة الدقة

اطلب من الطلاب إعادة النظر في المسألة التي قاموا بحلها. كيف يمكن استخدام خاصية التوزيع لحل إحدى الخطوات في المسألة؟ اشرح. الإجابة النموذجية: يمكن استخدام خاصية التوزيع لحل  
 $4 \times \text{AED } 12$ .  $(4 \times \text{AED } 6) + (4 \times \text{AED } 6) = \text{AED } 24 + \text{AED } 24 = \text{AED } 48$

تتوفر مراجعة إضافية في نهاية الوحدة.

www.almanahj.com

LA بالنسبة لأنشطة الدعم اللغوي، اطلع على الإستراتيجية التعليمية للتحصيل اللغوي في الدرس التالي.

## التصميم

ستحتاج إلى  
• قطع العدّ

قسّم الطلاب إلى مجموعات صغيرة، وقدم قطع العدّ لكل مجموعة. وكتب  $3 \times (2 \times 3)$  على اللوحة.

**4.0.4 استخدام نماذج الرياضيات** انظر إلى العوامل الموجودة بين القوسين،  $2 \times 3$ . استخدم قطع العد لعمل مصفوفة من  $2 \times 3$  لتمثيل ناتج الضرب. راجع عمل الطلاب. انظر إلى العامل الموجود خارج القوسين. يخبرنا هذا العدد أننا نحتاج إلى 3 مجموعات من مصفوفات  $2 \times 3$ . قم بعمل مصفوفتين أخريين من  $2 \times 3$  بحيث يكون لديك ما مجموعه 3 مصفوفات. راجع عمل الطلاب. ارسم النماذج في المساحة المخصصة في الكتب. وقم بتسمية كل نموذج  $2 \times 3$ . راجع عمل الطلاب. كم عدد قطع العد الموجودة إجمالاً؟ **18** قطعة عد لإيجاد ناتج الضرب هذا دون استخدام قطع العد. أوجد أولاً ناتج ضرب العوامل داخل القوسين. ما ناتج ضرب  $2 \times 3$ ؟ **6** أنزل العدد 3 الموجود خارج القوسين. ما ناتج ضرب  $6 \times 3$ ؟ **18** اكتب  $3 \times (2 \times 3) = 18$  على اللوحة.

## التجربة

قدم قطع العدّ لكل مجموعة. وكتب  $2 \times (3 \times 3)$  على اللوحة. لاحظ أن الأعداد الثلاثة التي تم ضربها هي نفسها الموجودة في نشاط "التصميم". فما الفرق؟ الإجابة النموذجية: تم تجميع العوامل بشكل مختلف باستخدام الأقواس. استخدم قطع العدّ لعمل مصفوفة من  $3 \times 3$  لتمثيل العوامل الموجودة بين القوسين. راجع عمل الطلاب. العدد 2 خارج القوسين يخبرنا أننا بحاجة إلى مجموعتين من مصفوفات  $3 \times 3$ . قم بعمل مصفوفة  $3 \times 3$  أخرى بحيث يكون لديك ما مجموعه مصفوفتان. راجع عمل الطلاب. ارسم النماذج في المساحة المخصصة في الكتب. وقم بتسمية النموذج الثاني  $3 \times 3$ . راجع عمل الطلاب. كم عدد قطع العدّ الموجودة إجمالاً؟ **18** قطعة عد لإيجاد ناتج الضرب هذا دون استخدام قطع العدّ. أوجد أولاً ناتج ضرب العاملين داخل القوسين. ما ناتج ضرب  $3 \times 3$ ؟ **9** أنزل العدد 2. ما ناتج ضرب  $2 \times 9$ ؟ **18** اكتب  $2 \times (3 \times 3) = 18$  على اللوحة.

## التفسير

قم بحل التمارين 3-1 مع طلاب الصف الدراسي بشكل جماعي. وأجر مناقشة حول التمرين 1.

**2.0.4 التفكير بطريقة تجريدية** سيقوم الطلاب بمقارنة النماذج لفهم معنى الكميات. اطلب من متطوعين مشاركة أوجه تشابه واختلاف النماذج في كل نشاط.

www.almanahj.com

### التجربة

اجمع العوامل بطريقة أخرى. أوجد حاصل  $2 \times (3 \times 3)$

- استخدم قطع العد لتمثيل  $2 \times (3 \times 3)$   
3 مجموعات مكونة من 3. مرتان
- ارسم النماذج وضع الأعداد عليها.  
 $2 \times (3 \times 3)$   
اضرب العوامل الموجودة في الأقواس أولاً.  
 $2 \times 9$
- اضرب حاصل الضرب في العامل المتبقي.  
إذًا،  $2 \times (3 \times 3) = 18$  كذلك.

وفي كلتا الحالتين تقوم بتجميع العوامل. ويكون حاصل الضرب **18**.

### التفسير

الإجابات النموذجية: 3-1

- ممارسات في الرياضيات **توقف وتأمل** قارن بين النماذج من كل نشاط. ما أوجه التشابه بينها؟ وما أوجه الاختلاف بينها؟  
**يعرض كلاهما العدد نفسه من قطع العد؛ يتم تجميع قطع العد بطريقة مختلفة.**
- هل يختلف حاصل الضرب في المثالين؟ فسر ذلك.  
**لا؛ كانت الطريقة التي تم بها تجميع العوامل مختلفة لكنها لم تُغيّر من حاصل الضرب.**
- كيف يكون تجميع العوامل معيّنًا عندما تضرب ثلاثة عوامل أو أكثر؟  
**يمكنني تجميع العوامل الأسهل في ضربها لتبسيط المسألة وإيجاد حلها.**

### تطبيق عملي

ضرب ثلاثة عوامل

الاسم: \_\_\_\_\_

الدرس 3

المسألة الأساسية: كيف يمكن استخدام الخواص والعمليات لتجميع الأعداد؟

الطريقة التي نجح بها العامل عند الضرب لا تُغيّر من حاصل الضرب.

### التصميم

أوجد حاصل  $2 \times (3 \times 3)$

- استخدم قطع العد لتمثيل  $2 \times (3 \times 3)$   
مجموعتان مكونتان من 3. ثلاث مرات
- ارسم النماذج وضع الأعداد عليها.  
 $2 \times 3$     $2 \times 3$     $2 \times 3$
- اضرب العوامل داخل الأقواس أولاً.  
 $2 \times 3$   
 $6 \times 3$
- اضرب حاصل الضرب في العامل المتبقي.  
إذًا،  $2 \times (3 \times 3) = 18$

حقق الطبع والتأليف © محفوظة الحقوق مؤسسة اليمان

## التدريب

اطلب من الطلاب إكمال التمارين في صفحة **التدريب** في مجموعات ثنائية أو مجموعات صغيرة. وقد ترغب في تزويد الطلاب بقطع العدّ في البداية، وجههم لإيجاد نواتج الضرب دون استخدام وسائل تعليمية يدوية مع التقدم في حل التمارين.

تؤكد **التمارين 13-18** للطلاب أن الطريقة التي تُجمَع وفقها العوامل لا تغيّر من ناتج الضرب.

## التطبيق

استخدم التمارين الموجودة في هذه الصفحة لتعزيز مهارات حل المسائل وكيفية ضرب ثلاثة عوامل بوسائل تعليمية يدوية أو بدونها.

### 2-4 التنكير بطريقة كمية

**التمرين 19** اطلب من الطلاب تحديد الكميات المهمة من أجل مراجعة العلاقات. ما الجملة العددية التي استخدمتها لحل هذه المسألة؟ **الإجابة النموذجية:**  $3 \times (3 \times \text{AED } 5)$  إذا وجد الطلاب صعوبة، فقدم لهم قطع العدّ أو أشياء أخرى لتمثيل التمرين.

### 3-4 بناء الفرضيات

**التمرين 23** كيف يمكنك إعادة كتابة الجملة العددية لتعني أربعة مجموعات من أربعة، مرتين؟  $2 \times (4 \times 4)$



## الاستفادة من السؤال الأساسي

يمنح التمرين كتابة نبذة الطلاب فرصة ليفكّروا في موضوع ما، بحيث يتكوّن لديهم الفهم المطلوب للإجابة على السؤال الأساسي للوحدة.

www.almanahj.com

راكبة

### التطبيق

**19. ممارسات في الرياضيات** استخدام الحس العددي يمرض متجر المعدات 3 أنواع من المراعي، يشتري عبد الله 3 علب من كل نوع من المراعي، تبلغ تكلفة كل علبه 5 AED، ما المبلغ الذي أنفقه عبد الله في متجر المعدات؟

**AED 45**

**20.** كان عدنان يتجول مع قطعه مرثين أسبوعيًا لمدة 5 أسابيع، بعد كل زهرة، كان عدنان يتقدم لقطعه وجبتين، كم عدد الوجبات التي حصلت عليها قطعه عدنان بعد مضي الأسابيع الخمسة؟

**20 وجبة طعام**

**21.** يوجد في كل عربة 5 صفوف من المقاعد علما بأن المساحة تكفي لثلاثة ركاب في كل صف، توجد عربتان وكل صف مملوء بالركاب، كم عدد الركاب الموجودين إجمالاً؟

**30 راكبًا**

**22.** توجد 4 غرف في كل شقة وتوجد 3 شقق في كل طابق، كم عدد الغرف الموجودة في طابقين؟

**24 غرفة**

**23. ممارسات في الرياضيات** البحث عن الخطأ وصف زيادة جملة الضرب الموجودة بالأسفل على أنها أربع مجموعات مكونة من أربعة، مرتين، اكتشف خطأه وصححه.

$4 \times (2 \times 2)$

**تشير جملة الضرب إلى مجموعتين من اثنين، أربع مرات.**

**اكتب نبذة**

**24.** وضح الفرق بين إيجاد حاصل ضرب  $3 \times (2 \times 2)$  وإيجاد حاصل ضرب  $(3 \times 2) \times 2$ .

**الإجابة النموذجية:** سيتم إيجاد حاصل الضرب الأول عن طريق ضرب  $2 \times 2$  أولاً، ثم ضرب  $3 \times 4$ . سيتم إيجاد حاصل الضرب الثاني عن طريق ضرب  $3 \times 2$  أولاً، ثم ضرب  $6 \times 2$ .

راكبة

### التدريب

أوجد حاصل ضرب كل مما يلي.

4.  $3 \times (2 \times 2) = 12$       5.  $1 \times (4 \times 2) = 8$       6.  $(5 \times 2) \times 2 = 20$

7.  $(5 \times 1) \times 3 = 15$       8.  $4 \times (2 \times 3) = 24$       9.  $(3 \times 3) \times 3 = 27$

10.  $(4 \times 3) \times 2 = 24$       11.  $(4 \times 1) \times 5 = 20$       12.  $(4 \times 2) \times 2 = 16$

جَمِّع العوامل بطريقة أخرى. ثم أوجد كل حاصل ضرب.

13.  $(3 \times 2) \times 4 = 3 \times (2 \times 4) = 3 \times 8 = 24$

14.  $(2 \times 2) \times 4 = 2 \times (2 \times 4) = 2 \times 8 = 16$

15.  $5 \times (2 \times 3) = (5 \times 2) \times 3 = 10 \times 3 = 30$

16.  $(4 \times 2) \times 3 = 4 \times (2 \times 3) = 4 \times 6 = 24$

17.  $(3 \times 3) \times 2 = 3 \times (3 \times 2) = 3 \times 6 = 18$

18.  $(4 \times 3) \times 3 = 4 \times (3 \times 3) = 4 \times 9 = 36$

## واجباتي المنزلية

قم بتعيين الواجب المنزلي بعد إكمال الدرس بنجاح. يمكن للطلاب الذين يستوعبون المفاهيم تجاوز قسم **مساعد الواجب المنزلي**.

## حل المسائل

### 2-4 التفكير بطريقة كمية

التمرين 9 ما العلاقة بين الكميات؟ اكتب جملة عددية لحل المسألة لإظهار العلاقة بينهم. كوكبًا  $5 \times (3 \times 2) = 5 \times 6 = 30$

## التفكير والتوضيح

اكتب  $(5 \times 4) \times 2$  على اللوحة. اطلب من الطلاب كتابة إجاباتهم على الأسئلة التالية على بطاقة فهرسة أو قطعة من الورق. اجمع البطاقات/ الأوراق وناقش إجابات الطلاب بشكل جماعي.

كم العدد في 5 مجموعات من 4؟ 20

كم العدد في مجموعتين من 5 مجموعات من 4؟ 40

ما الوسيلة الأخرى للتعبير عن ناتج الضرب هذا باستخدام الكلمات؟

الإجابة النموذجية: 5 مجموعات من 4، مرتين

## توسيع المفهوم

### ستحتاج إلى

• قطع العد

قسّم الطلاب إلى مجموعات صغيرة. وأعط كل مجموعة 24 قطعة عدّ، واطلب منهم عمل مجموعات من المصفوفات وفقاً لمجموعة من الإرشادات. اكتب الإرشادات التالية على اللوحة وقرأهم على الصف.

• تتضمن كل مصفوفة العدد نفسه من الصفوف والأعمدة.

• يوجد أكثر من مصفوفة متطابقة.

• استخدم جميع قطع العد الـ 24.

مثلاً، يمكنهم تكوين 3 مجموعات من مصفوفات  $2 \times 4$ . اطلب منهم كتابة جملة عددية تحتوي على ثلاثة عوامل تمثل المصفوفات. فمثلاً، إذا قاموا بتكوين 3 مجموعات من مصفوفات  $2 \times 4$ ، ينبغي عليهم كتابة

$24 = (2 \times 4) \times 3$ . اطلب من الطلاب مشاركة الجمل العددية مع

الصف الدراسي. واكتبها على اللوحة، وأشار إلى أن ناتج ضرب كل جملة عددية هو 24.

www.almanahj.com

أوجد حاصل ضرب كل مما يلي.

3.  $(6 \times 1) \times 3 = 18$       4.  $3 \times (5 \times 2) = 30$

اجمع العوامل بطريقة أخرى. ثم أوجد كل حاصل ضرب.

5.  $(4 \times 1) \times 2 = 4 \times (1 \times 2) = 4 \times 2 = 8$

6.  $(2 \times 6) \times 2 = 2 \times (6 \times 2) = 2 \times 12 = 24$

7.  $3 \times (5 \times 1) = (3 \times 5) \times 1 = 15 \times 1 = 15$

8.  $(4 \times 5) \times 2 = 4 \times (5 \times 2) = 4 \times 10 = 40$

### حل المسائل

9. **ممارسات في الرياضيات** استخدم الحس العددي حضرت فيسبون الخبز يومياً وليلة 5 أيام لبيعته إلى محل الخبزوات. حضرت 3 أنواع من الخبز يومياً واستخدمت كوبين من الدقيق في كل وصفة. كم عدد أكواب الدقيق التي استخدمتها فيسبون؟ **30 كوكبًا**

10. يلعب كل أعضاء نادي ملوك الشطرنج الأربعة 3 مباريات في يومي الجمعة والسبت. كم عدد المباريات التي يلعبها نادي ملوك الشطرنج إجمالاً؟ **24 مباراة**

11. يعمل خلف في محل لبيع المثلجات. طلبت عاتلة تتكون من 3 أفراد 3 مفرقات من المثلجات لكل فرد منها. بعد ذلك طلبت عاتلان إضافيان تتكون كل منها من 3 أفراد 3 مفرقات من المثلجات لكل فرد. كم عدد مفرقات المثلجات التي قدمها خلف للعائلتين الثلاث إجمالاً؟ **27 مفرقة**

الاسم: .....

## واجباتي المنزلية

الدرس 3 تطبيق عملي: ضرب ثلاثة عوامل

### مساعد الواجب المنزلي

تدخل ريهام حومتين من الفسيل مرتين في الأسبوع. كم عدد حمولات الفسيل الذي تدخلها ريهام في 4 أسابيع؟

1 مثل  $4 \times (2 \times 2)$   
مجموعتان مكوّنتان من 2، أربع مرات

2 اضرب العوامل داخل الأقواس أولاً:  
 $(2 \times 2) \times 4 = 4 \times 4 = 16$

3 اضرب حاصل الضرب في العامل المتبقي:  
إذا:  $16 = (2 \times 2) \times 4$ . أدخلت ريهام 16 حمولة من الفسيل في 4 أسابيع.

يمكنك أيضاً تجميع العوامل بطريقة أخرى.  
 $2 \times (2 \times 4) = 2 \times 8 = 16$

مجموعتان من 4، مرتان

وفي كلتا الحالتين تقوم بتجميع العوامل، ويكون حاصل الضرب 16.

### تمرين

أوجد حاصل ضرب كل مما يلي.

1.  $(3 \times 1) \times 2 = 6$       2.  $(2 \times 2) \times 5 = 20$

### هدف الدرس

أن يقوم الطلاب بتطبيق خاصية التجميع في الضرب لإيجاد نواتج الضرب.

### تتمة المفردات

#### المفردات الجديدة

**خاصية التجميع في الضرب Associative Property of Multiplication**

#### نشاط

• اكتب الخاصية على اللوحة. واسأل الطلاب عما يعرفونه عن استخدام الخواص في الرياضيات. فمثلاً، قد يتذكرون تعلم خواص الجمع.

- **مراعاة الدقة** اطلب من الطلاب استعراض الصفحة الأولى من الدرس سريعاً. ما وجه الاختلاف في جمل الضرب في المثالين 1 و 2 عن تلك المستخدمة مع خاصية التبديل؟ تظهر ثلاثة عوامل في هذه الأمثلة، بينما يظهر اثنان من العوامل فقط في الجمل المستخدمة مع خاصية التبديل.
- ناقش مع الطلاب كيف تساعدهم خاصية التجميع على إيجاد نواتج الضرب.

www.almanahj.com

### AL الإستراتيجية التعليمية للتحصيل اللغوي

#### الدعم البياني: مخطط فن

اعرض مخطط فن كبيراً على ورقة تمثيل بياني. وقم بتسمية أحد الجوانب خاصية التجميع في الجمع والطرف الآخر خاصية التجميع في الضرب. اطلب من الطلاب المساعدة في ملء الرسم التخطيطي مع عقد مقارنة بين الخاصيتين. واطلب من الطلاب الرجوع إلى القاموس للحصول على التعريفات وأمثلة الرياضيات. اعرض قوالب هذه الجمل وقم بتمثيلها لمساعدة الطلاب في المناقشة: **الخواص متشابهة لأن \_\_\_\_\_ الخواص مختلفة لأن \_\_\_\_\_.**

### التركيز

قم بالضرب والقسمة في نطاق الأعداد حتى 100. مثل العلاقة بين الضرب والقسمة (مثال، عند العلم بأن  $40 = 8 \times 5$ ، يعرف الطالب أن  $40 \div 5 = 8$ ). أو خواص العمليات.

### ممارسات في الرياضيات

- 1 فهم طبيعة المسائل والمثابرة في حلها.
- 2 التفكير بطريقة تجريدية وكمية.
- 3 بناء فرضيات عملية والتعليق على طريقة استنتاج الآخرين.
- 6 مراعاة الدقة.
- 7 محاولة إيجاد البنية واستخدامها.

### التربط المنطقي

#### الربط بالموضوعات الرئيسية

الربط بمجال التركيز المهم التالي: 1. تطوير فهم الضرب والقسمة وإستراتيجيات الضرب والقسمة في نطاق الأعداد حتى 100.

### الدقة

#### مستويات الصعوبة

- المستوى 1 استيعاب المفاهيم
  - المستوى 2 تطبيق المفاهيم
  - المستوى 3 التوسع في المفاهيم
- تزداد صعوبة التمارين مع تقدّم الدرس. ومع ذلك، قد يتباين تفكير الطلاب الفردي خلال العمليات الحسابية الموسّعة.

التمارين 1-5

التمارين 6-17

التمارين 18-22



## 2 الاستكشاف واستخدام النماذج

### مراجعة

#### مسألة اليوم

ما وجه التشابه بين هذه الأعداد؟ 42, 3786, 31, 997, 275 الإجابة النموذجية: الرقم الموجود في منزلة الآحاد أقل باثنين من الرقم الموجود في منزلة العشرات.

**7:4** **البحث عن أنماط** قم بمناقشة النمط الموجود في الأعداد، مع الفصل بأكمله. هل يمكن عرض النمط بطريقة مختلفة؟ اشرح. الرقم الموجود في منزلة العشرات أقل باثنين من الرقم الموجود في منزلة الآحاد.

### تدريب سريع

استخدم هذا النشاط ليكون بمثابة مراجعة سريعة وتقوية للدرس السابق.



### تمثيل مسائل الرياضيات

الهدف: المهارة والتمرس الإجرائيان

المواد: قطع العد

ارسم مصفوفة  $2 \times 4$  على اللوحة.


قم بتمثيل المصفوفة باستخدام قطع العد.

ينبغي على الطلاب تمثيل التالي.

www.almanahj.com

اكتب جملة ضرب للمصفوفة.  $2 \times 4 = 8$  استخدم قطع العد لعمل مصفوفتين  $2 \times 4$  أخرتين، بحيث يكون لديك ما مجموعه ثلاث مصفوفات من  $2 \times 4$ .

ينبغي على الطلاب تمثيل التالي.



ما ناتج ضرب  $2 \times 4$ ؟ 8

كم العدد في ثلاث مجموعات من  $2 \times 4$ ؟ 24

اكتب جملة ضرب لتمثيل ناتج الضرب لثلاث مجموعات من  $2 \times 4$ .

$$3 \times (2 \times 4) = 24$$



## الرياضيات في الحياة اليومية

### مثال 1

اقرأ المثال وتابع حلّ المسألة مع الطلاب. ينبغي أن يكون الطلاب على دراية بالمصطلح المجهول. ذكّرهم باستخدام الرموز. مثل ؟ و ■ لتمثيل المجهول. اكتب  $2 \times 3 \times 4$  على اللوحة. أشر إلى أنه لا توجد أقواس. عندما لا توجد أقواس، قم بالضرب بالترتيب من اليسار لليمين. ما ناتج  $2 \times 3$ ؟ 6 وما ناتج  $6 \times 4$ ؟  $24$  يمكنك أيضًا استخدام الأقواس لتجميع العوامل. وتمثل إحدى الطرق في تجميع العاملين 2 و 3. اكتب ■  $(2 \times 3) \times 4 = 24$  على اللوحة. ما ناتج  $2 \times 3$ ؟ 6 وما ناتج  $6 \times 4$ ؟  $24$  ما المجهول؟  $24$  وتمثل الطريقة الأخرى في تجميع العاملين 3 و 4. اكتب ■  $2 \times (3 \times 4) = 24$  على اللوحة. ما ناتج  $3 \times 4$ ؟ 12 وما ناتج  $2 \times 12$ ؟  $24$  ما المجهول؟  $24$  يتم تجميع الأعداد في كلتا الحالتين.  $2 \times 3 \times 4 = 24$ . ما الخاصية التي تخبرنا أنه يمكننا تجميع العوامل بطرق مختلفة دون تغيير ناتج الضرب؟ خاصية التجميع

**2-3-4** **التفكير بطريقة كمية** ما الطريقة الأخرى لكتابة جملة الضرب لحل هذه المسألة؟ اشرح استنتاجك. الإجابة النموذجية: لا يهم ترتيب الأعداد عند ضرب ثلاثة عوامل. لذلك، يمكن ضرب الأعداد  $(2 \times 4) \times 3$ . وهذا أيضًا يساوي 24.

### مثال 2

اقرأ المثال ووجه الطلاب خلال جملة الضرب. أشر إلى أنه أحيانًا ما يكون المجهول هو أحد العوامل، وليس ناتج الضرب يمكننا استخدام خاصية التجميع لإيجاد  $2 \times 5$  أولاً. ما ناتج  $2 \times 5$ ؟ 10 فكّر: ما العدد الذي إذا ضرب في 10 فإنه يساوي 30؟ 3 ما المجهول؟ 3 كم عدد الزهور التي يحملها كل صديق؟ 3

**2-3-4** **التفكير بطريقة تجريدية** كيف يمكن أن تتغير المسألة الكلامية ليتم تمثيل المجهول كناتج الضرب؟ برر استنتاجك. الإجابة النموذجية: ينبغي أن تتضمن المسألة الكلامية عدد الزهور التي يمتلكها كل صديق ولا تتضمن العدد الإجمالي للزهور.

### تمرين موجه

قم بحل التمارين الواردة تحت قسم "تمرين موجه" مع الطلاب.

## حديث في الرياضيات: محادثة تعاونية

**6-3-4** **مراعاة الدقة** اشرح كيف يمكن أن تساعد خاصية التجميع في الضرب في إيجاد العوامل المفقودة. الإجابة النموذجية: إذا كنت أعلم ناتج الضرب وجميع العوامل باستثناء واحد، يمكنني ضرب العوامل الأخرى، ثم استخدام القسمة أو الرياضيات الذهنية لإيجاد العامل المفقود، بالنظر إلى ناتج الضرب.

www.almanahj.com

**مثال 2**

لدى مها صورتان. تُظهر كل صورة 5 أصدقاء يحملون نفس عدد الزهور. يوجد 30 زهرة إجمالاً. كم عدد الزهور التي تحملها كل صديقة؟

اكتب جملة الضرب لتساعدك في إيجاد العامل المجهول.

عدد الصور	عدد الأصدقاء	عدد الزهور التي تحملها كل صديقة	الإجمالي
2	5	■	30

استخدم خاصية التجميع في الضرب لإيجاد  $2 \times 5$  أولاً.

$$(2 \times 5) \times \square = 30$$

$$10 \times \square = 30$$

فكّر ما العدد الذي إذا ضرب في 10 فإنه يساوي 30؟

$$10 \times 3 = 30$$

إذا،  $2 \times 5 \times 3 = 30$ . تحمل كل صديقة 3 زهور.

**تمرين موجه**

استخدم الأقواس لتجميع عاملين. ثم أوجد كل حاصل ضرب.

$$1. 2 \times 4 \times 6 = (2 \times 4) \times 6 = 8 \times 6 = 48$$

$$2. 4 \times 2 \times 3 = (4 \times 2) \times 3 = 8 \times 3 = 24$$

3. الجبر أوجد العامل الناقص.

$$\square \times (2 \times 3) = 30$$

$$\square \times 6 = 30$$

$$5 \times \square = 30$$

إذا، المجهول يساوي 5.

اشرح كيف يمكن أن تساعد خاصية التجميع في الضرب في إيجاد العوامل الناقصة.

**الاسم**

**الدرس 4**

**السؤال الأساسي**  
كيف يمكن استخدام الأقواس والمعادلات لتجميع الأعداد؟

**خاصية التجميع**

نتش **خاصية التجميع في الضرب** على أن تجميع العوامل لا يغيّر من حاصل الضرب.

**الرياضيات في الحياة اليومية**

**مثال 1**

استلمت كل من نبيلة ولبلى 4 ملصقات ابتسام كل أسبوع ولبدة 3 أسابيع. كم عدد ملصقات الابتسام التي حصلت عليها؟

أوجد المجهول في  $2 \times 3 \times 4 = \square$

عندما لا توجد أقواس، اضرب بالترتيب من اليسار إلى اليمين. أو، استخدم الأقواس لتجميع العوامل.

**الطريقة الأولى** اضرب 2 و 3 أولاً.

$$2 \times (3 \times 4) = \square$$

$$2 \times 12 = \square$$

المجهول يساوي 24.

**طريقة أخرى**

$$(2 \times 3) \times 4 = \square$$

$$6 \times 4 = \square$$

المجهول يساوي 24.

طريقة أخرى  $2 \times 3 \times 4 = 24$

توضيح خاصية **التجميع** أن التجميع لا يغيّر حاصل الضرب.

نتش لك خاصية التجميع أيضًا لتجميع أسهل العوامل.

## تمارين ذاتية

**RtI** استنادًا إلى ملاحظتك، يمكنك اختيار تعيين التمارين كما هو موضح في المستويات أدناه:

- **قريب من المستوى** خصّص التمارين 4-5، 8، 12-13، 18، 21-22.
- **ضمن المستوى** خصّص التمارين 4-16 (الزوجية)، 18-22.
- **أعلى من المستوى** خصّص التمارين 10-22.

## خطأ شائع!

**التمارين II-8** تطلب هذه المسائل من الطلاب أن يقوموا بإيجاد العامل المفقود. ذكّر الطلاب أن خاصية التبديل في الضرب تقول إنه يمكنهم ضرب الأعداد بأي ترتيب مع الحصول على ناتج الضرب نفسه.

## حل المسائل

### المثابرة في حل المسائل

**التمرين 18** اطلب من الطلاب شرح الخطوات التي استخدموها لحل المسألة إلى زميل. راقب تقدم الطلاب ووجههم في طرق الحل. إذا لزم الأمر، شجّع الطلاب على كتابة الجملة العددية لتمثيل المسألة. **الإجابة النموذجية:**  $40 = (5 \times 2) \times 4$

## 3-م بناء الفرضيات

**التمرين 21** كيف يمكنك إثبات صحة الجملة العددية الأخرى؟ اشرح استنتاجك. الإجابة النموذجية: خاصية التجميع في الضرب تقول أن ناتج الضرب لن يتغير إذا تم ترتيب الأعداد نفسها وضربها بترتيب مختلف.

**LA** للحصول على دعم بلغات إضافية، استخدم أنشطة التدريس المتميز في الصفحة التالية.

## الاستفادة من السؤال الأساسي

**التمرين 22** يطلب من الطلاب أن يعتمدوا على استيعابهم للمفاهيم اللازمة للإجابة عن السؤال الأساسي للوحدة.

## التقويم التكويني

**الرسم السريع** اطلب من الطلاب استخدام الدفتر لإكمال الرسم السريع. وضح معنى خاصية التجميع في الضرب.

انظر الصفحة التالية للاطلاع على خيارات التدريس المتميز. **RtI**

www.almanahj.com

### حل المسائل

**18. ممارسات في الرياضيات** وضع خطة بوجد 5 نماذج. كل نماذج مقطعة إلى قطعتين. قطعت شبيبة كل قطعة إلى 4 شرائح. ما إجمالي عدد شرائح النماذج؟ **40 شريحة**

**19. قَطَعْتَ** كل من نجاة وشبيبة موزتين إلى 4 قطع. ما إجمالي عدد قطع الموز؟ **16 قطعة موز**

**20. فَرَّغَ** عامل صندوقين من المسامير. احتوى كل صندوق على 4 علب بكل علبة 10 عيوات من المسامير. كم عدد عيوات المسامير التي فَرَّغَهَا العامل؟ **80 عبوة من المسامير**

**الإجابات النموذجية: 21، 22**

**ممارسات في الرياضيات**

**21. البحث عن خطأ** ضع دائرة حول الجملة العددية غير الصحيحة من الجمل التالية. مع الشرح.

$(2 \times 3) \times 3 = 2 \times (3 \times 3)$

$3 \times (1 \times 5) = (3 \times 1) \times 5$

$4 \times (4 \times 2) = (3 \times 4) \times 4$

$6 \times (4 \times 2) = (6 \times 4) \times 2$

**تكون المسألة، عندما يتم حلها،  $32 = 48$ .**

**22. الاستفادة من السؤال الأساسي** اشرح لماذا يكون تجميع العوامل غير مهم عند إيجاد  $2 \times (3 \times 4)$ .

**تسمح لك خاصية التجميع بتجميع العوامل بطرق مختلفة بدون تغيير حاصل الضرب.**

### تمارين ذاتية

استخدم الأقواس لتجميع عاملين. ثم أوجد كل حاصل ضرب.

$4. 4 \times 1 \times 3 = (4 \times 1) \times 3$   
 $= 4 \times 3$   
 $= 12$

$5. 2 \times 3 \times 3 = 2 \times (3 \times 3)$   
 $= 2 \times 9$   
 $= 18$

$6. 6 \times 2 \times 2 = 24$

$7. 2 \times 3 \times 2 = 12$

**الجبر أوجد كل عامل ناقص.**

$8. (3 \times \square) \times 4 = 24$   
 المجهول يساوي **2**.

$9. (6 \times \square) \times 5 = 30$   
 المجهول يساوي **1**.

$10. \square \times (3 \times 3) = 27$   
 المجهول يساوي **3**.

$11. (2 \times 5) \times \square = 20$   
 المجهول يساوي **2**.

**الجبر أوجد قيمة كل جملة عددية.**

$12. (6 \times 1) \times \square = 12$

$13. 4 \times (\square \times 2) = 24$

$14. \square \times (\square \times 5) = 40$

$15. (6 \times \square) \times 3 = 36$

$16. \square \times (3 \times \square) = 36$

$17. (5 \times \square) \times \square = 30$

الصور الدلالية

$\square = 2$

$\square = 3$

$\square = 4$

## أعلى من المستوى التوسّع

**نشاط عملي** المواد: ورق، قلم رصاص  
يتناقش الطلاب إما مع أو ضد إذا كانت خاصية التجميع تنجح أو لا تنجح مع الجمع أو الطرح أو القسمة. فمثلاً، يقوم الطلاب بالتفكير في مسائل رياضية التي إما تثبت أو تدحض استخدام هذه الخاصية لإجراء إحدى العمليات. وبعد التفكير، يقول كل طالب تفكيره ويتحدى زملاءه لدحض النتائج التي وصل إليها.

## ضمن المستوى المستوى 1

**نشاط عملي** المواد: بطاقات فهرسة، قلم رصاص  
اطلب من الطلاب عمل أربعة بطاقات لكل من الأعداد 0-5. وينبغي عليهم خلط البطاقات وقلبها على وجهها في كومة، ويتبادل الطلاب الأدوار في اختيار ثلاث بطاقات. ثم ينبغي عليهم إيجاد ناتج ضرب الثلاثة أعداد. ومن يحصل على أكبر عدد يفوز بكل البطاقات. ويواصل الطلاب الاختيار حتى يتم استخدام جميع البطاقات.

## قريب من المستوى المستوى 2: التدخل التقييمي الإستراتيجي

**نشاط عملي** المواد: ورق، قلم رصاص  
اطلب من الطلاب مراجعة مسائل الجمع بالتجميع المرتبطة بخاصية التجميع للجمع. وأكد عليهم أن هناك أكثر من طريقة واحدة للتجميع للحل ذهنيًا. وبمجرد أن يشعر الطلاب بالراحة في استخدام الأقواس لتجميع حدي الجمع، اطلب منهم التمرن على تجميع العوامل في جمل الضرب. واطلب من الطلاب تجميع الأعداد وإكمال الحساب. شجعهم على توضيح خطوات المسألة في أسطر منفصلة.

## www.almanahj.com

LA

## المستوى الانتقالي

### المفردات الأكاديمية

راجع خاصية التبديل وخاصية التجميع مع الطلاب. اكتب: خاصية التجميع والمثال  $(4 \times 2) \times 3 = 3 \times (4 \times 2)$ ؛ خاصية التبديل والمثال  $8 \times 3 = 3 \times 8$ . اطلب من الطلاب مناقشة أوجه التشابه بين خواص التجميع والتبديل في الضرب. ثم، اذكر أمثلة من الحياة اليومية لكل خاصية على ورقة تمثيل بياني، مع الفصل بأكمله.

## مستوى التوسّع

### تمثيلها بنفسك

قسّم الطلاب إلى مجموعتين. وكتب التالي على اللوحة:  $2 \times (4 \times 3) = \underline{\quad}$  و  $3 \times (4 \times 2) = \underline{\quad}$   
عيّن واحدة من معادلات الضرب لكل مجموعة. اطلب من المجموعات استخدام الوسائل التعليمية اليدوية لتمثيل المعادلات، ثم اطلب متحدث من كل مجموعة لقول إجابتهم في نفس الوقت. اسأل، ما الخاصية التي تم استخدامها بالفعل؟ **خاصية التجميع** ماذا تخبرنا هذه الخاصية عن تجميع العوامل؟ **بفض النظر عن كيفية تجميع العوامل، سيظل ناتج الضرب هو نفسه.**

## المستوى الناشئ

### بناء المعرفة الأساسية

اكتب العناوين خاصية التوزيع و خاصية التجميع على اللوحة. وتحت كل عنوان، اكتب مثالاً متوافقاً. **أشير إلى المثال الأول وقُل، باستخدام خاصية التوزيع، نقوم بالتفكير.** **أشير إلى المثال التالي وقُل، باستخدام خاصية التجميع، نقوم بتغيير التصنيف في مجموعات.** اكتب أمثلة عشوائية عن كل خاصية واطلب من الطلاب تحديد كل واحدة من خلال القول إما **التوزيع** أو **التجميع**.

## واجباتي المنزلية

قم بتعيين الواجب المنزلي بعد إكمال الدرس بنجاح. يمكن للطلاب الذين يستوعبون المفاهيم تجاوز قسم **مساعد الواجب المنزلي**.

## حل المسائل

**2-3-4** التفكير بطريقة كمية

**التهمين 7** اطلب من الطلاب فهم الكميات والعلاقة بينهم. ما الجمل العددية الثلاث الممكنة التي يمكن استخدامها لحل المسألة؟  
 $(6 \times 4) \times \text{AED } 2$ ;  $(\text{AED } 2 \times 6) \times 4$ ;  $(\text{AED } 2 \times 4) \times 6$

**LA** للحصول على دعم بلغات إضافية، استخدم أنشطة التدريس المتميز في الصفحة السابقة.

## مراجعة المفردات

أخبر الطلاب أنه يمكنهم وصف المفردات بأسلوبهم الخاص إذا لم يتمكنوا من تذكر الصياغة الدقيقة للتعريف.

## تمرين على الاختبار

### تشخيص أخطاء الطلاب

قد تشير توجهات الصف نحو الإجابات الخاطئة إلى وجود أخطاء أو سوء فهم شائعين بين الطلاب.

- A** ضرب  $3 \times 7$  فقط  
**B** ضرب  $3 \times 7$ ، ثم جمع ناتج ضرب  $3 \times 3$   
**C** جمع  $3 + 3$ ، ثم ضرب المجموع في 7  
**D** إجابة صحيحة

### التقويم التكويني

**بطاقة التحقق من استيعاب الطلاب** اطلب من الطلاب الإجابة عن الأسئلة التالية. واجمع إجابات الطلاب عند انتهائهم.

اكتب  $4 \times (2 \times 7)$  على اللوحة.

ما ناتج  $2 \times 7$ ؟ **14** هل تعلمت كيفية ضرب  $4 \times 14$ ؟ **لا**  
 استخدم خاصية التجميع لتجميع العوامل بطريقة أخرى.

$7 \times (4 \times 2)$  ما ناتج  $4 \times 2$ ؟ **8** ما ناتج  $8 \times 7$ ؟ **56**

اكتب  $7 \times (4 \times 2)$  على اللوحة أسفل  $4 \times 7$ .

ما العبارة الصحيحة بشأن ناتج ضرب كل من هذه؟ أنها نفس النواتج.  
 كيف تعرف ذلك؟ تنص خاصية التجميع على أنه يمكنك تجميع العوامل بأي شكل من الأشكال والحصول على ناتج الضرب نفسه.

www.almanahj.com

الجبر أوجد كل عامل ناقص.

3.  $4 \times (\square \times 4) = 32$  الجواب يساوي **2**  
 4.  $(2 \times \square) \times 6 = 60$  الجواب يساوي **5**  
 5.  $(5 \times \square) \times 1 = 45$  الجواب يساوي **9**  
 6.  $\square \times (4 \times 2) = 48$  الجواب يساوي **6**

**حل المسائل**

7. **ممارسات في الرياضيات** استخدم الحس العددي اشترى معاذ 4 عبوات مياه غازية. تحتوي كل عبوة على 6 زجاجات. إذا كانت تكلفة كل زجاجة 2 AED. فما مقدار ما أنفقه معاذ على المياه الغازية؟  
**AED 48**

8. اشترى كلاً من جمال وغبيد 3 برتقالات. قاما بتقطيع كل برتقالة إلى 6 شرائح. كم عدد شرائح البرتقال التي قاما بتقطيعها إجمالاً؟  
**36 شريحة من البرتقال**

9. أعدت السيدة حسام وزوجته طعام الغداء لمدة 5 أيام على التوالي. حيث أعدت كلاً منها 3 كمكبات شوفان لطبق الحلوى في كل يوم. ما إجمالي عدد الكمكبات التي أعدتها كلاً منها لطعام الغداء لهذا الأسبوع؟  
**30 كمكبة**

**مراجعة المفردات**

10. اكتب تعريفاً لخاصية التجميع في الضرب.  
**الإجابة النموذجية: تنص خاصية التجميع في الضرب على أن الطريقة التي تُجَمَعُ وفقها العوامل لا تغيّر من حاصل الضرب.**

**تمرين على الاختبار**

11. ما الجواب في  $\square \times 7 = 3 \times 3$ ؟  
 Ⓐ 21 Ⓑ 42  
 Ⓒ 30 Ⓓ 63

الاسم .....

**الدرس 4**  
**خاصية التجميع**

**واجباتي المنزلية**

**مساعد الواجب المنزلي**

اشترى عبد العزيز وصديقه فطيرتي بيتزا من الحجم الصغير. قاما بتقطع كل فطيرة بيتزا إلى 4 قطع. وضع عبد العزيز 5 حبات زيتون أسود على كل قطعة بيتزا. كم عدد حبات الزيتون الأسود التي استخدمها عبد العزيز إجمالاً؟  
 أوجد  $2 \times 4 \times 5$ . استخدم الأقواس لتجميع العوامل.

**الطريقة الأولى** اضرب 2 و4 أولاً.  
 $2 \times (4 \times 5)$   
 $2 \times 20$   
 40

**طريقة أخرى** اضرب 4 و5 أولاً.  
 $(2 \times 4) \times 5$   
 $8 \times 5$   
 40

استخدم عبد العزيز 40 حبة من الزيتون الأسود إجمالاً. وفي كلتا الحالتين تقوم بتجميع العوامل. ويكون حاصل الضرب 40. تنش خاصية التجميع على أن الطريقة التي تُجَمَعُ وفقها العوامل لا تغيّر من حاصل الضرب.

**تمرين**

استخدم الأقواس لتجميع عاملين. ثم أوجد كل حاصل ضرب.

1.  $2 \times 3 \times 6 = \underline{36}$       2.  $5 \times 2 \times 2 = \underline{20}$

استخدم هذا بمثابة تقويم تكويني لتحديد ما إذا كان طلابك يواجهون صعوبة أم لا، وتحديد الموضوعات التي يواجهون صعوبة فيها، إن كانوا يواجهون. انظر الصفحة التالية للاطلاع على خيارات التدريس المتميز.

## مراجعة المفاهيم

هذه المفاهيم مضمنة في الدروس 1-4.

مراجعة الدروس	المفهوم	التهارين
1-2	استخدام خاصية التوزيع	5-6
3-4	ضرب ثلاثة عوامل	7-14

## تمرين على الاختبار تشخيص أخطاء الطلاب

قد تشير توجهات الصف نحو الإجابات الخاطئة إلى وجود أخطاء أو سوء فهم شائعين بين الطلاب.

- A جمع 2 و 3 بدلاً من ضربهما  
B الضرب بشكل غير صحيح  
C الضرب بشكل غير صحيح  
D صحيح

www.almanahj.com

### مراجعة المفاهيم نماذج عمليات التحليل: 5, 6

استخدم خاصية التوزيع لإيجاد كل حاصل ضرب.

$$5. 9 \times 6 = (5 \times 6) + (4 \times 6) = 30 + 24 = 54$$

$$6. 7 \times 6 = (7 \times 3) + (7 \times 3) = 21 + 21 = 42$$

أوجد حاصل ضرب كل مما يلي.

7.  $3 \times (4 \times 2) = 24$     8.  $2 \times (3 \times 2) = 12$     9.  $(5 \times 2) \times 1 = 10$   
 10.  $(2 \times 3) \times 3 = 18$     11.  $4 \times (2 \times 3) = 24$     12.  $(3 \times 2) \times 3 = 18$

الجبر: أوجد كل عامل ناقص.

13.  $(4 \times \square) \times 3 = 24$     14.  $(3 \times \square) \times 3 = 27$   
 ■ = 2    ■ = 3

### حل المسائل

15. كتبت ميسون 3 قصص في ورشة عمل الكتاب، وكانت كل قصة مكونة من 6 صفحات، ثم رسمت رسمين توضيحيين في كل صفحة، كم عدد الرسوم التوضيحية التي رسمتها ميسون إجمالاً؟  
**36 رسماً توضيحياً**

16. يحتوي الصف الدراسي للسيدة منال على 4 صفوف من المكاتب ويوجد 3 مكاتب في كل صف، وضعت فليبين رصاص على كل مكتب، كم عدد الأقلام الرصاص التي وضعتها السيدة منال على المكاتب إجمالاً؟  
**24 قلم رصاص**

### تمرين على الاختبار

17. صنعت شيما بطاقتين، ورسمت 3 بالونات في كل بطاقة، تحتوي كل بالونة على 3 نجوم، كم عدد النجوم التي استخدمتها شيما، في بطاقتها إجمالاً؟  
 ① 15 نجمة    ② 17 نجمة  
 ③ 16 نجمة    ④ 18 نجمة

### التحقق من تقدمي

### مراجعة المفردات

اختر الكلمة (الكلمات) الصحيحة لإكمال كل جملة مما يلي.

خاصية التوزيع    خاصية التجميع في الضرب

الأقواس    التحليل

1.  $5 + 2$     2.  $8 \times 6 = (8 \times 3) + (8 \times 3)$

إحدى الطرق لإيجاد  $4 \times 7$  باستخدام النماذج من خلال **يحلل** عامل العدد 7 إلى حدود التجميع  $5 + 2$

تسمح لك بتحليل عامل واحد إلى حدود التجميع التي تجعل عملية الضرب أسهل، ثم يمكنك استخدام حقائق معلومة أصغر لإيجاد حاصل الضرب.

3.  $(2 \times 3) \times 4 = 24$   
 $2 \times (3 \times 4) = 24$   
 توضح **الأقواس الدائرية** تجميع العوامل التي يجب ضربها أولاً.

4.  $(2 \times 3) \times 4 = 24$   
 $6 \times 4 = 24$   
 تنش **خاصية التجميع في الضرب** على أن تجميع العوامل لا يؤثر من حاصل الضرب.

## أعلى من المستوى التوسّع

### العناصر التي تم الإخفاق فيها: 2 فأقل

- استخدام الرياضيات في المنزل: ورقة عمل "وقت اللعبة" من وحدة سابقة.
- استخدام لعبة "مراجعة المفردات" من وحدة سابقة.

## ضمن المستوى 1

### العناصر التي تم الإخفاق فيها: 3 إلى 5

- كلّف الطلاب بتصحيح العناصر التي أخفقوا فيها ووضّح لهم أخطاءهم الأصلية.
- استخدم ورقة عمل "الإثراء" من وحدة سابقة.
- استخدام الرياضيات في المنزل: ورقة عمل "وقت اللعبة" من وحدة سابقة.
- استخدام لعبة "مراجعة المفردات" من وحدة سابقة.

## قريب من المستوى 2: التدخل التقويبي الإستراتيجي

### العناصر التي تم الإخفاق فيها: 6 فأكثر

- يمكن أن يستخدم الطلاب أنشطة الاستجابة للتدخل "قريب من المستوى" أو "ضمن المستوى" من الدروس 1-4 من أجل مراجعة المفاهيم.
- لمراجعة المفاهيم باستخدام الوسائل التعليمية اليدوية، انتقل إلى قسم "الاستكشاف واستخدام النماذج" في الدروس 1-4 أو استخدم الوسائل التعليمية اليدوية الافتراضية على الإنترنت.

[www.almanahj.com](http://www.almanahj.com)

### هدف الدرس

أن يقوم الطلاب بكتابة تعابير باستخدام العمليات الأربع.

### تنمية المفردات

#### المفردات الجديدة

التعبير **expression**

العمليات **operations**

#### النشاط

- اكتب كل كلمة على اللوحة. واطلب من الطلاب استعراض الأمثلة الموجودة على الصفحتين الأولى والثانية من الدرس.
- اطلب من متطوع قول تعابير الثلاث طرق التي تم تمثيلها في هذه الأمثلة. **باستخدام الصور والأعداد والكلمات**
- **بناء فرضيات** اسأل متطوعين إذا كانوا يعتقدون أنه سيكون من الأسهل رسم تعبير، أم استخدام الأعداد والكلمات. واطلب منهم شرح الخيار المفضل بالنسبة لهم.

www.almanahj.com

### LA الإستراتيجية التعليمية للتحصيل اللغوي

#### الدعم بالمفردات: الكلمات الدلالية

قبل الدرس، اطلب من الطلاب عمل بطاقات لكلمتي تعبير وعمليات. ذكّر الطلاب بكتابة تعريف، مثال رياضي، وجملة باستخدام المصطلحات الرياضية في السياق. وبالإضافة إلى ذلك، اطلب من الطلاب مراجعة بطاقات المفردات الخاصة بكلمتي العمليات والتعبير.

راجع مع الطلاب بعض الكلمات والعبارات الدلالية التي تعلموها للجمع (أكثر من، زائد) والطرح (الفرق، أقل من، الأقل) والضرب (مضروباً في، التجميع مع، أضعاف عدد) والقسمة (نصف، مقسمة بالتساوي، مجموعات متساوية من، مقسوماً على). قبل أن يبدأ الطلاب في حل التمارين 3-13، اطلب منهم استخدام قلم تمييز لتحديد الكلمات والعبارات الدلالية. وقدم قوالب الجمل التالية للطلاب للإجابة: **كنت أعلم أن العملية كانت \_\_\_\_\_ بسبب الكلمات الدلالية) \_\_\_\_\_.**

### التركيز

قم بالضرب والقسمة في نطاق الأعداد حتى 100 مستخدم الإستراتيجيات، مثل العلاقة بين الضرب والقسمة (مثال، عند العلم بأن  $8 \times 5 = 40$ ، يعرف الطالب أن  $40 \div 5 = 8$ )، أو خواص العمليات.

#### ممارسات في الرياضيات

- 2 التفكير بطريقة تجريدية وكمية.
- 3 بناء فرضيات عملية والتعليق على طريقة استنتاج الآخرين.
- 4 استخدام نماذج الرياضيات.
- 6 مراعاة الدقة.

### التربط المنطقي

#### الربط بالموضوعات الرئيسية

الربط بمجال التركيز المهم التالي: 1. تطوير فهم الضرب والقسمة وإستراتيجيات الضرب والقسمة في نطاق الأعداد حتى 100.

### الدقة

تزداد صعوبة التمارين مع تقدّم الدرس. ومع ذلك، قد يتباين تفكير الطلاب الفردي خلال العمليات الحسابية الموسّعة.

#### مستويات الصعوبة

التمارين 1-2  
التمارين 3-16  
التمارين 17-21

المستوى 1 استيعاب المفاهيم  
المستوى 2 تطبيق المفاهيم  
المستوى 3 التوسّع في المفاهيم



## 2 الاستكشاف واستخدام النماذج

### مراجعة

#### مسألة اليوم

ناتج ضرب الأرقام لعدد غامض هو 24. وهو عدد فردي، وأقل من  $9 \times 30$ . أوجد العدد من القائمة. 216, 308, 243, 341, 803, 423. اشرح إجابتك.  
 $243 < 270$  و  $243 = 3 \times 4 \times 2$ ; هو عدد فردي؛  $270 = 9 \times 30$ .

**2-4** التفكير بطريقة تجريدية ما الخاصية التي استخدمتها لإيجاد ناتج ضرب الأرقام لعدد غامض؟ خاصية التجميع في الضرب

### تدريب سريع

استخدم هذا النشاط ليكون بمثابة مراجعة سريعة وتقويم للدرس السابق.



### تمثيل مسائل الرياضيات

الهدف: المهارة والتمرس الإجرائيان

المواد: قطع العد

نظم الطلاب في مجموعات ثنائية أو مجموعات صغيرة. وأعط لكل مجموعة قطع عد. واطرح الأسئلة التالية على كل مجموعة واطلب منهم تمثيل كل موقف بقطع العد.

كان يوجد 5 بنات و 3 أولاد. كم عدد الطلاب الموجودين إجمالاً؟ 8 طلاب

تجول وراقب قطع العد التي يستخدمها الطلاب لتمثيل كل سؤال. فمثلاً، قد يقومون بتمثيل التالي لتمثيل السؤال الأول

www.almanahj.com



يمكننا استخدام الجمع أو الطرح أو الضرب أو القسمة للإجابة على كل من هذه الأسئلة. أي من هذه العمليات يستخدم للإجابة على هذا السؤال؟ الجمع

تمتلك نهي 3 أكياس من التفاح. أعطت 2 منهم. فكم عدد الأكياس المتبقية لديها الآن؟ 1 كيس

ما العملية المستخدمة للإجابة على هذا السؤال؟ الطرح

تابع طرح أسئلة أخرى، مع التأكد من التأكيد على جميع العمليات الأربع.





## المثال 3

ستحتاج إلى  
• قطع العدّ

اقرأ المثال بصوت عالٍ. ووجه الطلاب إلى استخدام ثلاث قطع عد لتمثيل مغناطيس فتحة. ثم، اطلب منهم تمثيل مجموعة أخرى من ثلاث قطع عد لتمثيل أضعاف عدد. وأخيرًا، اطلب من الطلاب تمثيل قطعة عد واحدة أخرى لتمثيل شراء فتحة لقطعة مغناطيس أخرى. أشر إلى أن التعابير يمكن كتابتها بأكثر من عملية واحدة.

**3-٢٤** استخدام نماذج الرياضيات هل هناك طريقة لتمثيل تعبير أو كتابته أفضل من الطرق الأخرى؟ الإجابة النموذجية: بما أن التعبير له أكثر من عملية واحدة، فمن الأفضل استخدام الأعداد.

## تمرين موجه

قم بحل التمارين الواردة تحت قسم "تمرين موجه" مع الطلاب.

## حديث في الرياضيات: محادثة تعاونية

**3-٢٤** بناء فرضيات كيف علمت العمليات اللازم استخدامها في المثال 3؟ تشير الكلمات "أضعاف عدد" إلى الضرب، وتشير الكلمات "قطعة أخرى" إلى الجمع.

## الرياضيات في الحياة اليومية

### مثال 1

ستحتاج إلى  
• قطع العدّ

اقرأ المثال ووجه الطلاب إلى استخدام قطعة عد واحدة لتمثيل علياء وثلاث قطع عد لتمثيل أصدقائها الثلاثة. كم عدد الأصدقاء الذين تلعب معهم علياء؟ **3** ما الكلمة التي تملأ الفراغ "\_\_\_\_\_ زائد ثلاثة"؟ **واحد** ما الكلمة التي تملأ الفراغ "\_\_\_\_\_ أكثر من واحد"؟ **ثلاثة** الكلمات أكثر من وإجمالي وزائد تشير جميعها إلى الجمع.

### مثال 2

ستحتاج إلى  
• قطع العدّ

اقرأ المثال بصوت عالٍ. ووجه الطلاب إلى استخدام خمس قطع عد لتمثيل المسامير الخمسة. ثم، اطلب منهم اقتطاع قطعة عد واحدة لتمثيل المسامير المنحني. ما العدد الذي يمثل المسامير المنحني؟ **1** ما الكلمة التي تملأ الفراغ "خمس ناقص \_\_\_\_\_"؟ **واحد** ما الكلمة التي تملأ الفراغ "\_\_\_\_\_ أقل من خمسة"؟ **واحد**

**3-٢٤** مراعاة الدقة ما الكلمة التي تشير إلى عملية الطرح؟ الإجابة النموذجية: أقل من، المتبقي، ناقص

www.almanahj.com

### مثال 3

اشترت فتحة 3 أقراص مغناطيسية. وكان لدى عيسى ضعف هذه الكمية، ثم اشترى عيسى قرصًا آخر. اكتب تعبيرًا لتمثيل إجمالي عدد أقراص المغناطيس التي يمتلكها عيسى.

استخدم الصور.

الصفحة  
ثلاثة أقراص مغناطيسية  
واحد إضافي

استخدم الأعداد.  $(3 \times 2) + 1$   
مضروبًا  
في  
ضعف ثلاثة زائد واحد.

استخدم الكلمات. ضعف **ثلاثة** زائد **واحد**.  
أو، **اثنان** مجموعة من ثلاثة زائد واحد إضافي

**تدريب موجه**  
مثل كل تعبير باستخدام الصور والأعداد والكلمات.

- لدى خالد 8 أقلام ملون، فقد 5 أقلام منها.

الصورة	الأعداد	الكلمات
	$8 - 5$	5 أقل من 8

- لدى الجار ستة مسامير، ذهب إلى المتجر ليشتري ثلاثة مسامير إضافية، واستخدم مساميرين.

الصورة	الأعداد	الكلمات
	$6 + 3 - 2$	ثلاثة ستة زائد ناقص اثنان

كيف عرفت العمليات التي سيتم استخدامها في المثال 3؟

## كتابة التعابير

### الدرس 5

السؤال الأساسي  
كيف يمكن استخدام الخواص والمعادلات لجميع الأعداد؟

**العمليات الحسابية الأربع** هي الجمع والطرح والضرب والقسمة. **التعبير** هو عدد أو مجموعة من الأعداد والعمليات الحسابية، ولا يحتوي التعبير علامة يساوي.

### الرياضيات في الحياة اليومية

#### مثال 1

دعت علياء ثلاثة من صديقاتها للعب في الغناء الخلفي لمنزلها. اكتب تعبيرًا لتمثيل إجمالي عدد الصديقات.

استخدم الصور.

علياء  
ثلاث صديقات

استخدم الأعداد.  $3 + 1$   
استخدم الكلمات. **واحد** زائد ثلاثة، أو **ثلاثة** أكثر من واحد

#### مثال 2

تم دق خمسة مسامير في الخشب، وانحنى مسمار واحد. اكتب تعبيرًا لتمثيل عدد المسامير الجيدة المتبقية.

استخدم الصور.

مسمار واحد منحني

استخدم الأعداد.  $5 - 1$   
استخدم الكلمات. خمسة ناقص **واحد**، أو **واحد** أقل من خمسة

## تمارين ذاتية

**RtI** استناداً إلى ملاحظاتك، يمكنك اختيار تعيين التمارين كما هو موضح في المستويات أدناه:

- **قريب من المستوى** خصّص التمارين 3-13 (الفردية)، 17، 20-21.
- **ضمن المستوى** خصّص التمارين 4-16 (الزوجية)، 17-21.
- **أعلى من المستوى** خصّص التمارين 9-15 (الفردية)، 17-21.

## خطأ شائع!

**التمارين 3-16** قد يجد الطلاب صعوبة في تحديد أي عملية سيتم استخدامها لكل تعبير. ذكّر الطلاب أن بعض الكلمات قد تشير إلى عملية بدلاً من أخرى.

## حل المسائل

### استخدام نماذج الرياضيات

**التمارين 17-19** اطلب من الطلاب مشاركة التعابير الخاصة بهم مع الصف الدراسي. وناقش أهمية استخدام الأقواس في التعابير. اطلب من الطلاب تقديم أمثلة عن كيف يمكن كتابة التعابير المختلفة لتمثيل الحالة نفسها بشكل دقيق.

## 3-م بناء الفرضيات

**التمرين 20** لماذا تتواجد العبارات الأخرى؟ الإجابة النموذجية: تستخدم التعابير المصطلحات أكثر من وأقل من لتمثيل الجمع والطرح. ولا تستخدم كلمة يساوي.

**LA** للحصول على دعم بلغات إضافية، استخدم أنشطة التدريس المتمايز في الصفحة التالية.

## الاستفادة من السؤال الأساسي

**التمرين 21** يطلب من الطلاب أن يعتمدوا على استيعابهم للمفاهيم اللازمة للإجابة عن السؤال الأساسي للوحدة.

## التقويم التكويني

**التعريفات** اطلب من الطلاب استخدام الدفتر لتحديد معنى اثنين من المفردات. حدد معنى الكلمات "العمليات" و "التعبير" بكلمات من عندك. وقدم رسماً لتمثيل المصطلحات. اطلب من الطلاب مشاركة التعريفات الخاصة بهم مع الصف الدراسي.

**RtI** انظر الصفحة التالية للاطلاع على خيارات التدريس المتمايز.

www.almanahj.com

### حل المسائل

**ممارسات في الرياضيات** تمثيل مسائل الرياضيات اكتب تعبيراً لكل حالة.

17. يوجد 6 مجموعات من الكشافة. صممت كل مجموعة 9 شارات.

$$6 \times 9$$

18. اشترى السيد علي مسطحاً من زهوراً ثمنها 22 AED. كم الباقي الذي يجب أن يحصل عليه إذا دفع ضعف 20 AED؟

$$22 - (20 + 20) = \text{AED } 22$$

**الإجابات النموذجية: 20، 21**

**ممارسات في الرياضيات** أي مما يلي لا ينتمي إلى المجموعة ضع دائرة حول العبارة التي لا تنتمي. مع الشرح.

12 زائد 14	16 مضافة إلى 17	12 مطروحة من 15	25 AED مضافاً إليها 30 AED
------------	-----------------	-----------------	----------------------------

التعبير لا يستخدم علامة يساوي.

**الاستفادة من السؤال الأساسي** ما أنواع الكلمات أو العبارات المحددة التي يمكن استخدامها لتمثيل كل من العمليات الحسابية الأربع؟

**جمع - إضافة: طرح - أقل من: ضرب - يساوي مجموعات من: قسمة - نصف الكمية**

### تمارين ذاتية

استخدم الأعداد والعمليات لكتابة كل عبارة كتعبير.

3. 4 أكثر من 7

$$7 + 4$$

4. إجمالي 5 صفوف مكونة من 6 كرسي

$$5 \times 6$$

5. نصف العدد 18

$$18 \div 2$$

6. 3 أشخاص قسموا 21 AED بالتساوي

$$21 \div 3 = \text{AED } 7$$

7. الفرق بين 89 و80

$$89 - 80$$

8. 6 مجموعات تحتوي كل مجموعة على 6 أشخاص

$$6 \times 6$$

9. يوجد 6 مسامير في صندوق الأدوات. اكتب تعبيراً يخبرنا كم سيكون العدد عندما يكون:

$$6 - 2$$

10. 4 أضعاف المسامير

$$4 \times 6$$

11. نصف عدد المسامير

$$6 \div 2$$

12. 10 مسامير إضافية

$$6 + 10$$

13. 3 مجموعات متساوية من المسامير

$$6 \div 3$$

14. اكتب تعبيراً لكل من الآتي.

تكلفة 5 عبوات من الفراء

$$5 \times 10 = \text{فلسات } 50$$

15. عدد مسامير تكلفتها 90 فلساً

$$90 \div 10 = \text{فلسات } 9$$

16. التكلفة الإجمالية لبكرة من السلك وشريط قياس وعبوة من الفراء

$$89 \text{ فلساً} + 95 \text{ فلساً} + 10 \text{ فلسات}$$

بيع الأدوات	
فراء	10 فلسات
شريط قياس	95 فلساً
بكرة سلك	89 فلساً
مسامير	10 فلسات

## أعلى من المستوى التوسّع

**نشاط عملي** المواد: ورق، قلم رصاص  
يمكن أن يعمل الطلاب بشكل مستقل أو في مجموعات ثنائية. اكتب العدد 72 على اللوحة. وتحّد الطلاب لإنشاء تعبير باستخدام العدد ومجموعة من العمليات. ثم، ينبغي أن يقوم الطلاب بتمثيل التعبير بالصور والأعداد والكلمات. كرر النشاط من خلال جعل الطلاب يكتبون تعابير لأعداد مختلفة.

## ضمن المستوى المستوى 1

**نشاط عملي** المواد: بطاقات فهرسة، قلم رصاص  
ضع الطلاب في مجموعات ثنائية واطلب من كل طالب كتابة 5 تعابير، كل واحد على بطاقة فهرسة منفصلة. وينبغي أن يقوم كل طالب بخلط بطاقاته وتبديلها مع زميله. ويقوم بحل التعابير الموجودة على بطاقات زميله من خلال تمثيلها بالصور أو الأعداد أو الكلمات. ويعطي الطلاب البطاقات مرة أخرى لزملائهم عند الانتهاء من حلها. اطلب منهم التحقق من عمل زملائهم.

## قريب من المستوى المستوى 2: التدخل التقيوي الإستراتيجي

**نشاط عملي** المواد: قلم رصاص، ورق  
اطلب من الطلاب رسم مخطط للمساعدة في تحديد العملية التي سيتم استخدامها لكل تعبير. وسيقوم الطلاب بتضمين بعض الكلمات التي تشير إلى استخدام عملية بدلاً من عملية أخرى. ومن الأمثلة على ذلك:  
الجمع: أكثر من. الإجمالي  
الطرح: الفرق بين، أقل  
الضرب: مجموع الصفوف، مجموعات من، أضعاف عدد  
القسمة: التقسيم بالتساوي، نصف، نصف عدد، مجموعات متساوية

## www.almanahj.com

LA

## الدعم المتميز للتحصيل اللغوي

### المستوى الانتقالي

#### توضيح ما تعرفه

قسّم الطلاب إلى ثلاث مجموعات، وقم بتعيين مسألة واحدة لكل مجموعة من التمارين 17-19. اطلب من المجموعات العمل معًا لكتابة كل تعبير باستخدام الصور (أو الوسائل التعليمية اليدوية) والأعداد والكلمات. اقترح أن يستخدم الطلاب المثالين 1 و 2 كمرجع. أتح الوقت للمجموعات لمشاركة عملها مع الصف الدراسي.

### مستوى التوسّع

#### الالتفات والتحدث

قسّم الطلاب إلى مجموعات ثنائية لمناقشة إجاباتهم على التمارين 9-13, 8-3 والتحقق منها. ثم التمارين 14-16. قدم قوالب الجمل التالية للطلاب: **العملية هي** \_\_\_\_\_. **لقد كتبت التعبير** \_\_\_\_\_. إذا لم تتطابق تعابير الطلاب، اطلب منهم مناقشة الكلمات أو العبارات الدلالية وإعادة النظر في التعابير.

### المستوى الناشئ

#### تنمية اللغة الشفهية

اكتب رموز العمليات الأربع (+، -، ×، و ÷). بينما تشير إلى كل رمز، اطلب من الطلاب الانضمام إليك في تحديد العملية المقابلة: **جمع، طرح، ضرب، قسمة**. اكتب:  $3 + 7$ . اسأل، **ما العملية المستخدمة في التعبير؟ الجمع** اكتب:  $7 \div 49$ . اسأل، **ما العملية المستخدمة في هذا التعبير؟ القسمة** كرر النشاط بتعابير وعمليات أخرى.

## واجباتي المنزلية

قم بتعيين الواجب المنزلي بعد إكمال الدرس بنجاح. يمكن للطلاب الذين يستوعبون المفاهيم تجاوز قسم **مساعد الواجب المنزلي**.

## حل المسائل

### م.4 استخدام نماذج الرياضيات

**التحارين 6-8** اطلب من الطلاب استخدام الرياضيات التي يعرفونها لكتابة التعابير للمسائل الكلامية. كيف عرفت العمليات التي سيتم استخدامها في التعبير بالتمرين رقم 7؟ الإجابة النموذجية: اشترت ليلي صندوقًا آخر وهو ما يدل على أنها تقوم بإضافة المزيد. ثم قامت بقسمة المصاصات. ولذلك، ينبغي تضمين عمليتي الجمع والقسمة في التعبير.

**LA** للحصول على دعم بلغات إضافية، استخدم أنشطة التدريس المتميز في الصفحة السابقة.

## مراجعة المفردات

اطلب من الطلاب الرجوع إلى "بطاقات المفردات" الخاصة بهذا الدرس لمزيد من المساعدة.

## تمرين على الاختبار

### تشخيص أخطاء الطلاب

قد تشير توجهات الصف نحو الإجابات الخاطئة إلى وجود أخطاء أو سوء فهم شائعين بين الطلاب.

- A** لا تمثل إلا إعطاء 3 إلى محمد  
**B** تمثل فقدان 1، وكسب 9، وإعطاء 3  
**C** صحيح  
**D** تمثل فقدان 1 وكسب 3

### التقويم التكويني

**فكر - اعمل في ثنائيات - شارك** نظم الطلاب في مجموعات صغيرة. ينبغي عليهم كتابة أربعة تعابير مختلفة، كل واحد على بطاقة فهرسة مختلفة، وفقًا للإرشادات التالية.

- ينبغي أن يتضمن التعبير الأول عملية الجمع.
- ينبغي أن يتضمن التعبير الثاني عملية الطرح.
- ينبغي أن يتضمن التعبير الثالث عملية القسمة.
- ينبغي أن يتضمن التعبير الرابع عمليتي الضرب والجمع.

اطلب من الطلاب التحقق من عملهم من خلال تبادل البطاقات مع مجموعة أخرى.

www.almanahj.com

استخدم الأعداد والعمليات لكتابة كل عبارة كتعبير.

2. 4 صناديق بكل صندوق حذاءان  $4 \times 2$

3. الفرق بين 58 و 47  $58 - 47$

4. 5 مضافة إلى 12  $12 + 5$

5. 30 كتابًا مقسومة على 10 أشخاص بالتساوي  $30 \div 10$

### حل المسائل

**ممارسات في الرياضيات** تمثيل مسائل الرياضيات اكتب تمييزًا لكل حالة.

6. قرأت شعبة جميع الكتب إلا كتابًا واحدًا من أصل 5 كتب أخذتها في العطلة.  $5 - 1$

7. لدى ليلي صندوق به 8 مصاصات. اشترت صندوقًا آخر به 4 مصاصات. قامت بتقسيم المصاصات بين طفلها.  $(8 + 4) \div 2$

8. اشترت أماني 3 عبوات من 8 شبعات، ثم وجدت شعبة واحدة في منزلها.  $(3 \times 8) + 1$

### مراجعة المفردات

صل كل مفردة من المفردات بمثلها.

9. التعبير  $7 \times 4$

10. العمليات الحسابية  $+$  و  $-$  و  $\times$  و  $\div$

### تمرين على الاختبار

II. لدى مني 9 حبات خرز. أضعفت واحدة وأعطت 3 إلى بدرية. أي من التعابير ينطبق على هذه الحالة؟

Ⓐ  $9 - 3$       Ⓒ  $9 - 1 - 3$

Ⓑ  $(9 - 1) + (9 - 3)$       Ⓓ  $(9 - 1) + 3$

الاسم

## واجباتي المنزلية

### الدرس 5

#### كتابة التعابير

### مساعد الواجب المنزلي

ملأ سلطان 4 بالونات بالهواء للحفلة. مثل كل من الحالات التالية باستخدام الصور والأعداد والكلمات.

ملأ سلطان بالونين إضافيين.

الأعداد:  $4 + 2$   
الكلمات: أربعة زائد اثنين

ملأ سلطان ضعف عدد البالونات.

الأعداد:  $4 \times 2$   
الكلمات: ضعف أربعة

طارت إحدى البالونات بعيدًا.


الأعداد:  $4 - 1$   
الكلمات: واحد أقل من أربعة

أعطى سلطان نصف عدد البالونات إلى بلال.

الأعداد:  $4 \div 2$   
الكلمات: نصف الأربعة

### تمرين

1. لدى فوزية 6 أقلام رصاص. قسمتهم بالتساوي بين 3 صديقات. مثل التعبير باستخدام صورة وأعداد وكلمات.

الصورة  الأعداد  $6 \div 3$  الكلمات ستة مقسومة على ثلاثة

### التركيز

قم بحل مسائل مكونة من خطوتين من الحياة اليومية باستخدام العمليات الأربعة الجمع والطرح والضرب والقسمة (مثلاً، باستخدام الرسومات والمعادلات مع رمز للعدد المجهول لتمثيل المسألة).

### ممارسات في الرياضيات

- 2 التفكير بطريقة تجريدية وكمية.
- 3 بناء فرضيات عملية والتعليق على طريقة استنتاج الآخرين.
- 4 استخدام نماذج الرياضيات.
- 6 مراعاة الدقة.
- 7 محاولة إيجاد البنية واستخدامها.

### هدف الدرس

أن يقوم الطلاب بكتابة التعابير، ثم إيجاد قيمتها.

### تنمية المفردات

#### المفردات الجديدة

إيجاد القيمة **evaluate**

متغير **variable**

### النشاط

- **مراعاة الدقة** اكتب الكلمات على اللوحة. اسأل الطلاب عما يعرفونه عن كل كلمة. فمثلاً، قد يتذكرون رؤية أوجد قيمة كجزء من سطر التعليمات في العلوم.
- اشرح للطلاب أن كلمة أوجد قيمة تخبر القراء أنه يجب عليهم تبرير أو شرح استنتاجهم. وعند استخدامها مع التعابير الرياضية، يمكن اعتبار كلمة أوجد قيمة مرادفاً لكلمة إيجاد قيمة. وإذا لزم الأمر، راجع مع الطلاب أن المرادف هو كلمة لها نفس معنى كلمة أخرى تقريباً.
- اطلب من متطوع قراءة الخطوات في المثالين 1 و 2 بصوت عالٍ. ثم اطلب من المتطوعين إعادة قراءة كل مثال، واستبدال كلمة إيجاد قيمة بكلمة أوجد قيمة.

### التربط المنطقي

#### الربط بالموضوعات الرئيسية

الربط بمجال التركيز المهم التالي: 1. تطوير فهم الضرب والقسمة وإستراتيجيات الضرب والقسمة في نطاق الأعداد حتى 100.

### الدقة

تزداد صعوبة التمارين مع تقدّم الدرس. ومع ذلك، قد يتباين تفكير الطلاب الفردي خلال العمليات الحسابية الموسّعة.

### مستويات الصعوبة

- المستوى 1 استيعاب المفاهيم
- المستوى 2 تطبيق المفاهيم
- المستوى 3 التوسّع في المفاهيم

التمارين 1-4

التمارين 5-18

التمارين 19-23

### LA الإستراتيجية التعليمية للتحصيل اللغوي

#### الدعم البياني: مخطط الارتكاز

قبل الدرس، قم بإضافة المصطلح المتغير إلى المخطط. واطلب من الطلاب مراجعة بطاقات المفردات لكلمات أوجد قيمة وتعبير و المتغير.

- وجه الطلاب إلى رسم مخطط ارتكاز "ترتيب العمليات". واسأل ما العمليات التي تقوم بإكمالها أولاً؟ العملية بين الأقواس قم بتسجيل "الأقواس" كخطوة 1. اسأل، ماذا تفعل بعد ذلك؟ اضرب أو اقسم من اليسار لليمين. قم بتسجيل ذلك كخطوة 2. وجه الطلاب إلى تحديد الخطوة 3 بأنها "الجمع أو الطرح من اليسار لليمين". اعرض مخطط الارتكاز في الفصل الدراسي للجزء الباقي من الوحدة. شجّع الطلاب على نسخ المخطط في دفاتر الرياضيات.

## 2 الاستكشاف واستخدام النماذج

### مراجعة

#### مسألة اليوم

اشترت سالي وأمل ومنى 60 قطعة تزيين لكتيبات القصاصات جميعهن. وقد اشترت سالي أقل من منى بعدد 6 قطع، واشترت أمل أكثر من منى بعدد 6 قطع. فكم عدد قطع التزيين التي اشترتها كل واحدة منهن؟  
سالي 14-؛ أمل 26-؛ منى 20-

**مراجعة الدقة** كلف الطلاب بالنظر مجددًا إلى المسألة التي قاموا بحلها. كيف يمكنك اختبار الحل لمعرفة ما إذا كان يجيب على المشكلة أم لا؟ الإجابة النموذجية:  $60 = 20 + 26 + 14$ ؛ اشترت سالي عدد أقل من منى بـ 6 قطع لأن  $14 = 20 - 6$ ؛ اشترت أمل عدد أكثر من منى بـ 6 قطع لأن  $26 = 20 + 6$ .

### تدريب سريع

استخدم هذا النشاط ليكون بمثابة مراجعة سريعة وتقويم للدرس السابق.



### تمثيل مسائل الرياضيات

الهدف: المهارة والتمرس الإجرائيان

المواد: قطع عدّ، حقيبة

ضع ثلاثة قطع عد في يد واحدة وضع عدد مجهول من قطع العد في حقيبة مغلقة. اعرض للطلاب قطع العد الموجودة في يدك، ولا تخبر الطلاب بعدد قطع العد الموجودة في الحقيبة. كم عدد قطع العد الموجودة في يدي؟ 3

هل تعرف عدد قطع العد الموجودة في الحقيبة؟ لا

عدد قطع العد الموجودة في الحقيبة مجهول. يمكنك استخدام رمز أو حرف لتمثيل المجهول.

ما العملية التي يمكن استخدامها لإيجاد العدد الإجمالي لقطع العد، من العمليات الأربع، الجمع أو الطرح أو الضرب أو القسمة؟ الجمع

اكتب  $3 + \blacksquare$  على اللوحة.

ما الرموز الأخرى التي يمكن استخدامها لتمثيل المجهول؟ ستكون الإجابات متنوعة.

هل يمكننا استخدام حرف لتمثيل المجهول؟ نعم

اكتب  $3 + x$  على اللوحة.

ما الذي يمثله الحرف  $x$ ؟ المجهول. أو عدد قطع العد في الحقيبة

www.almanahj.com





## مثال 3

اقرأ المثال بصوت عالٍ. اكتب  $3 + s \times 4$  على اللوحة. أشر إلى أن هذا التعبير له أكثر من عملية واحدة. وجه الطلاب لاستيعاب ما يمثله كل عدد وحرف وعملية. عندما تكون هناك أكثر من عملية واحدة، ولا توجد أقواس، قم بإجراء عملية الضرب و/أو القسمة بالترتيب من اليسار لليمين قبل الجمع و/أو الطرح من اليسار لليمين. ما قيمة  $s$ ؟  $2$  ما ناتج  $2 \times 4$ ؟  $8$  ماذا نفعّل بعد ذلك؟ نجمع  $3$  و  $8$  كم عدد الكماشات الموجودة؟ **II** كماشة

**3-3-4** **بناء فرضيات** هل سيختلف الحل إذا تم كتابة التعبير  $(2 \times 4) + 3$ ؟ اشرح. الإجابة النموذجية: لا، ستكون الإجابة نفسها لأنك تقوم بضرب ما بين الأقواس أولاً.

## تمرين موجّه

قم بحل التمارين الواردة تحت قسم "تمرين موجّه" مع الطلاب.

## حديث في الرياضيات: محادثة تعاونية

**3-3-4** **التفكير بطريقة تجريدية** انظر مجددًا إلى المثال 3. كيف يمكن أن تكون الإجابة مختلفة إذا قمت بإيجاد قيمة التعبير من اليسار لليمين؟ اشرح. ستكون  $20$ ؛ الإجابة النموذجية: إذا كان للتعبير أكثر من عملية واحدة، فيجب اتباع ترتيب معين لإيجاد قيمته.

## الرياضيات في الحياة اليومية

### مثال 1

اقرأ المثال وامض قدمًا في حلّ المسألة مع الطلاب. يمكنك استخدام المتغيرات عند كتابة التعبيرات بالأعداد المجهولة. إذا علمنا أن عبد الرحمن قام بإفراغ محتويات صناديق من المصابيح الكهربائية أكثر من صناديق كشافات الضوء بعدد 5، فيمكننا كتابة  $5 + x$ . ما المتغير في التعبير؟  $x$

**2-3-4** **التفكير بطريقة كمية** إذا تم إيجاد قيمة المثال 1، فهل سيكون  $5 + x = x + 5$ ؟ أدخل عددًا كمتغير لتبرير إجابتك. الإجابة النموذجية: نعم.  $5 + x = x + 5$ ؛ إذا تم وضع  $1$  للرمز  $5 + 1 = 6$  و  $x$ ،  $1 + 5 = 6$ .

### مثال 2

اقرأ المثال وامض قدمًا في حلّ المسألة مع الطلاب. اكتب تعبيرًا باستخدام  $y$  كمتغير.  $6 - y$  ما قيمة  $y$ ؟  $10$  ما العدد الذي ينبغي أن نستبدل  $y$  به في التعبير؟  $10$  أوجد قيمة التعبير لإيجاد عدد السلالم النقالة الموجودة.  $4$  سلالم نقالة

www.almanahj.com

في بعض الأحيان، يحتوي التعبير على أكثر من عملية حسابية. عندما لا توجد أقواس، فاضرب و/أو اقسّم بالترتيب من اليسار إلى اليمين، ثم اجمع و/أو اطرح بالترتيب من اليسار إلى اليمين.

**مثال 3**  
اختر طابق طقم كهاشات مكونًا من 4 كهاشات. بينما اختار والده طقمًا بلغ عدده  $s$  أضعاف عدد الكهاشات زائد 3 كهاشات إضافية. إذا كان  $s = 2$ ، فما عدد الكهاشات الموجود في الطقم الذي اختاره والد طارق؟

اكتب تعبيرًا ثم أوجد قيمته.  
1 اكتب التعبير.  
2 استبدل  $s$  بـ 2.  
3 عندما لا تكون هناك أقواس، فاضرب أو اقسّم أولاً بالترتيب من اليسار إلى اليمين.  
4 ثم اجمع أو اطرح بالترتيب من اليسار إلى اليمين.

إذا، إذا كان  $s = 2$ ، فإن  $3 + s \times 4 =$  **II** يوجد **II** كماشة في الطقم.

**تمرين موجّه**  
أوجد قيمة كل تعبير إذا كان  $a = 2$  و  $b = 5$

1.  $3 + a = 5$   
2.  $11 - b = 6$   
3.  $b \times 4 = 20$   
4.  $12 \div a + 4 = 10$

بالنظر مجددًا إلى المثال 3، كيف ستختلف إجابتك إذا قمت بإيجاد قيمة التعبير من اليسار إلى اليمين؟ اشرح.

الاسم \_\_\_\_\_

**الدرس 6**  
**السؤال الأساسي**  
كيف يمكن استخدام الخواص والمعادلات لتبسيط الأعداد؟

عندما يُستخدم رمز مثل  $x$  أو  $y$  للإشارة إلى مجهول، فهذا يسمى **متغيرًا**.

**الرياضيات في الحياة اليومية**

**مثال 1**  
فزع عبد الرحمن 5 صناديق مصابيح ضوئية أكثر من صناديق كشافات الضوء. اكتب تعبيرًا مستخدمًا المتغير  $x$  للمجهول.

عندما تجد قيمة تعبير عن طريق استبدال المتغير بعدد، فإنك **توجد قيمة** التعبير.

**مثال 2**  
يحتوي متجر الأدوات على 6 سلالم نقالة أقل من السلالم الامتدادية. يوجد عدد  $y$  من السلالم الامتدادية، اكتب تعبيرًا مستخدمًا المتغير  $y$ . ثم أوجد قيمة التعبير إذا كان  $y = 10$ .

اكتب التعبير:  $y - 6$   
استبدل  $y$  بـ **10**  
اطرح:  $10 - 6 = 4$   
يوجد **4** سلالم نقالة.



**LA** للحصول على دعم بلغات إضافية، استخدم أنشطة التدريس المتميز في الصفحة التالية.

## الاستفادة من السؤال الأساسي

**التمرين 23** يطلب من الطلاب أن يعتمدوا على استيعابهم للمفاهيم اللازمة للإجابة عن السؤال الأساسي للوحدة.

### التقويم التكويني

**التسلسل** اطلب من الطلاب شرح الخطوات التي استخدموها لإيجاد قيمة التعبير  $y \times 7 + 5$  إذا كان  $y = 3$ . استبدل  $y$  بالعدد 3؛ واضرب 7 و 3 لتساوي 21؛ اجمع 5 مع 21 لتساوي 26

انظر الصفحة التالية للاطلاع على خيارات التدريس المتميز.

## تمارين ذاتية

**RtI** استنادًا إلى ملاحظتك، يمكنك اختيار تعيين التمارين كما هو موضح في المستويات أدناه:

- **قريب من المستوى** خصّص التمارين 5, 7, 9, 16-19, 22-23.
- **ضمن المستوى** خصّص التمارين 5-17 (الفردية). 19-23.
- **أعلى من المستوى** خصّص التمارين 5-15 (الفردية). 19-23.

## حل المسائل

### 2-3-م التفكير بطريقة كمية

**التمارين 19-21** اطلب من الطلاب مشاركة التعابير التي كتبوها لكل تمرين. اكتب التعابير على اللوحة. واطلب من متطوعين إيجاد قيمة كل تعبير.

### 7-3-م استخدام البنية

**التمرين 22** عندما تكون هناك أكثر من عملية واحدة، فما ترتيب العمليات المستخدمة لإيجاد قيمة التعابير؟ الأقواس، الضرب/القسمة، الجمع/الطرح

www.almanahj.com

### حل المسائل

**ممارسات في الرياضيات** استخدام الجبر اكتب تعبيرًا لكل مما يلي. ثم أوجد قيمته.

19. لدى سلطان AED 10. بينما لدى آمنة  $x$  أكثر من سلطان. إذا كان  $x = \text{AED } 5$ . كم تبلغ النقود لدى آمنة?  
**AED 10 + x; AED 10 + AED 5 = AED 15**

20. يوجد 5 مجموعات أراجيح في الغناء. تحتوي كل مجموعة على 7 أرجوحة. إذا كان  $v = 3$ . ما إجمالي عدد الأراجيح?  
**أرجوحة 5  $v$ ;  $5 \times 3 = 15$**

21. وضعت حلوية 5 أقلام رصاص  $n$  من أقلام الجبر في صندوق لأقلام الرصاص لكل من صديقتها. إذا كان  $n = 3$ . فما عدد أقلام الرصاص والجبر التي وضعتها حلوية داخل صندوق أقلام الرصاص?  
**قلم رصاص وجبر  $16 = 2 \times (5 + 3) + (5 + n)$**

**ممارسات في الرياضيات** تحديد البنية نسي حارب وضع الأقواس في التعبير أدناه. ضع الأقواس بحيث تكون نتيجة التعبير  $12 - (4 + 6)$  لهذا الأقواس مهمة في هذا التعبير؟  
**الإجابة النموذجية: عندما لا توجد أقواس، فيجب تطبيق عمليتي الجمع والطرح بالترتيب من اليسار إلى اليمين. إذاً ستصبح النتيجة 14.**

23. الاستفادة من السؤال الأساسي عند إيجاد قيمة تعبير باستخدام أكثر من عملية حسابية وبدون وجود أقواس. كيف يجب عليك المتابعة؟  
**يجب تطبيق عمليتي الضرب والقسمة أولاً بالترتيب من اليسار إلى اليمين. ثم يجب تطبيق عمليتي الجمع والطرح بالترتيب من اليسار إلى اليمين.**

### تمارين ذاتية

الجبر أوجد قيمة التعبير إذا كان  $z = 7$  و  $y = 20$ .

5.  $(8 \times z) - y$   
 $(8 \times 7) - 20 = 36$

6.  $y + 3 \times 4$   
 $20 + 3 \times 4 = 32$

7.  $y \div 5$   
 $20 \div 5 = 4$

8.  $6 \times 4 - y$   
 $6 \times 4 - 20 = 4$

9.  $z - 5 + 7$   
 $7 - 5 + 7 = 9$

10.  $28 \div z \times 6$   
 $28 \div 7 \times 6 = 24$

**الجبر** ارمِ خطًا لتوصيل التعبير بقيمته المتعابلة إذا كان  $g = 2$ .

11.  $(5 + 3) \times g$  → 5  
12.  $g \times 5 - 5$  → 11  
13.  $15 - 9 - g$  → 0  
14.  $5 + (3 \times g)$  → 16  
15.  $g \times (5 - 5)$  → 4

**الجبر** ضع دائرة حول نعم أو لا لتحديد ما إذا تم إيجاد قيمة التعبير بطريقة صحيحة إذا كان  $n = 12$ .

16.  $n \div 4 \times 6$   
 $12 \div 4 \times 6 = 18$  نعم لا

17.  $12 + n \div 4$   
 $12 + 12 \div 4 = 15$  نعم لا

18. هل حوّطت حول لا لأي من التمرينين 16 أو 17؟ اشرح.  
**نعم: الإجابة النموذجية: تم إيجاد قيمة التعبير في التمرين 17 من اليسار إلى اليمين بدلاً من القيام بعملية القسمة أولاً.**

قريب من المستوى

المستوى 2: التدخل التقويمي الإستراتيجي

نشاط عملي المواد: قطع عد بلونين

لمساعدة الطلاب على تذكر كيفية إيجاد قيمة التعابير، قدم لهم قطع عد بلونين لمساعدتهم على إعداد أمثلتهم. فمثلاً، مع  $5 + x$ ، عندما يكون  $x = 4$ ، يمكن أن يستخدم الطلاب 5 من قطع العد باللون الأصفر و 4 باللون الأحمر لإيجاد قيمة التعبير ليساوي 9 قطع عد. اطلب من الطلاب استخدام قطع العد لإيجاد تعابير أخرى.

ضمن المستوى

المستوى 1

نشاط عملي المواد: ورق مربعات، أقلام تلوين

اطلب من الطلاب استخدام ورق مربعات لتمثيل وإيجاد قيمة  $k + 7$ . عندما يكون  $k = 6$  حتى  $k = 10$ ، ولكل قيمة من قيم  $k$ ، ينبغي أن يرسم الطلاب مربعًا حول عدد المربعات وتظليل داخله بشكل خفيف. وينبغي عليهم كتابة قيمة  $k$  داخل كل مجموعة من المربعات. فمثلاً، عندما يكون  $k = 6$ ، ينبغي أن يرسم الطلاب مربعًا من 6 مربعات ويكتبون "6". ثم يرسمون مربعًا مكونًا من سبعة مربعات. ويداخل كل مربع، ينبغي عليهم كتابة "+ 7". وفي نهاية كل صف، ينبغي أن يكتب الطلاب قيمة التعبير:

$$k + 7 = 6 + 7 = 13$$

بالتجربة والبحث عن أنماط عند إيجاد قيمة التعابير باستخدام ورق مربعات لعمل إستراتيجياتهم الخاصة بهم لعمليات مختلفة.

أعلى من المستوى

التوسع

نشاط عملي المواد: بطاقات فهرسة، صحف أو مجلات

أعط الطلاب أمثلة عن المعلومات التي يمكن التعبير عنها جبريًا. فمثلاً، يمكن كتابة إعلان يمنح "تخفيضًا بقيمة 5 AED من سعر الوجبة إذا تم إنفاق أكثر من 20 AED" بالتعبير الجبري  $5 - p$ . واطلب من الطلاب إيجاد مثال على المعلومات التي يمكن التعبير عنها جبريًا ونسخها على بطاقة فهرسة. وعلى ظهر البطاقة، اطلب منهم كتابة التعبير الجبري للمثال. ثم اطلب منهم تبديل البطاقات مع زميل والتدريب على كتابة التعابير.

www.almanahj.com

الدعم المتميز للتحصيل اللغوي LA

المستوى الناشئ

بناء المعرفة الأساسية

راجع الاتجاهات اليسار واليمين مع الطلاب. أشر إلى أنه عندما يرفع الطلاب يدهم اليسرى ويمدون إبهامهم للخارج، فإنهم يقومون بشكل حرف L. قُل، L لليسار. اطلب من الطلاب التكرار جماعيًا مع توضيح شكل حرف L. اكتب:  $6 \times 4 \div 12$ . قُل، نقرأ التعبير من اليسار لليمين. اسأل، ما العدد الموجود على اليسار؟ 12 ما العدد الموجود على اليمين؟ 6 كرر النشاط مع تعابير أخرى.

مستوى التوسع

تنمية اللغة الشفهية

قسّم الطلاب إلى مجموعات لحل التمارين 4-1. اطلب من الطلاب التعاون معًا لحل كل مسألة. ثم، أخبرهم بمناقشة المسألة والحل. قدم قوالب الجمل التالية:

المتغير هو \_\_\_\_\_. المتغير \_\_\_\_\_ يساوي  
\_\_\_\_\_ قيمة التعبير هي \_\_\_\_\_.

المستوى الانتقالي

دليل التواصل

اطلب من الطلاب إرشاد طالب من المستوى الناشئ في حل التمارين 15-11. واطلب من طلاب المستوى الانتقالي استخدام الأسئلة التالية لتوجيه زملائهم خلال كل مسألة: ما العملية الأولى؟ لماذا؟ ما قيمة g؟ ما قيمة التعبير؟ أتح الوقت للطلاب لتبادل الأدوار في مشاركة إجاباتهم في مجموعات صغيرة.

## واجباتي المنزلية

قم بتعيين الواجب المنزلي بعد إكمال الدرس بنجاح. يمكن للطلاب الذين يستوعبون المفاهيم تجاوز قسم **مساعد الواجب المنزلي**.

## حل المسائل

### استخدام نماذج الرياضيات

**التحارين 7-9** عند إيجاد قيمة تعبير، ما الكلمات الرئيسية التي توضح العملية التي سيتم استخدامها؟ الإجابة النموذجية: الجمع - يضيف/أكثر من؛ الطرح - الفرق بين/أقل؛ الضرب - إجمالي صفوف/مجموعات/أضعاف عدد؛ القسمة - التقسيم بالتساوي/نصف/نصف عدد/مجموعات متساوية

**LA** للحصول على دعم بلغات إضافية، استخدم أنشطة التدريس المتميز في الصفحة السابقة.

## مراجعة المفردات

اطلب من الطلاب الرجوع إلى "بطاقات المفردات" لمزيد من المساعدة.

## تمرين على الاختبار

### تشخيص أخطاء الطلاب

قد تشير توجهات الصف نحو الإجابات الخاطئة إلى وجود أخطاء أو سوء فهم شائعين بين الطلاب.

- A إيجاد القيمة بشكل غير صحيح
- B إجابة صحيحة
- C إيجاد القيمة بشكل غير صحيح
- D الجمع قبل القسمة

### التعزيز التكويني

**فكر - اعمل في ثنائيات - شارك** قسّم الطلاب إلى مجموعات صغيرة. واطلب من كل مجموعة كتابة تعبيرين وفقاً للإرشادات التالية.

- ينبغي أن يتضمن التعبير الأول عدداً واحداً معلوماً وعملية واحدة وعدد واحد مجهول.
- ينبغي أن يتضمن التعبير الثاني عددين معلومين وعمليتين وعدد واحد مجهول.
- اطلب من الطلاب التفكير في عدد واحد مجهول لكل تعبير وإيجاد قيمة التعبير باستخدام هذا العدد.
- اطلب من المجموعات مشاركة تعابيرهم مع الصف بأكمله.

www.almanahj.com

### حل المسائل

**ممارسات في الرياضيات** تمثيل مسائل الرياضيات اكتب تعبيراً لكل مما يلي، ثم أوجد قيمته.

7. لدى حمده 7 قبعات، بينما لدى ربا b أقل من حمده. إذا كان  $b = 5$ ، كم عدد القبعات لدى ربا؟  
**قيمتان  $7 - b$ ;  $7 - 5$**

8. يوجد 4 أرفف تحتوي على طعام الحيوانات الأليفة النعياً. يحتوي كل رف على y من اللعب، ثم أضاف إسماعيل عليتين إلى رف واحد فقط. إذا كان  $y = 8$ ، كم عدد اللعب الموجودة على الأرفف إجمالاً؟  
**علبة  $4 \times y + 2$ ;  $4 \times 8 + 2 = 34$**

9. تُعد إيمان لحافين مناسبين لها ولأختها. اشترت 5 أمتار من الصوف القوي لكل لحاف و w من الأمتار من الصوف النطوع. إذا كان  $w = 4$ ، ما كمية الصوف التي اشترتها إيمان لصناعة كلا اللحافين؟  
**متراً  $(5 + w) \times 2$ ;  $(5 + 4) \times 2 = 18$**

**الإجابات النموذجية: 10, 11**

### مراجعة المفردات

10. اشرح ماذا يقصد بالتعبير.  
**التعبير هو رمز أو حرف يشير إلى مجهول.**

11. ماذا يعني إيجاد قيمة تعبير؟  
**إيجاد قيمة تعبير تعني استبدال متغير بعدد لإيجاد قيمته.**

### تمرين على الاختبار

12. أوجد قيمة التعبير  $h + 8 \div 4$ . إذا كان  $h = 16$

A 20       C 8  
 B 18       D 6

### واجباتي المنزلية

الاسم: \_\_\_\_\_

**الدرس 6**  
إيجاد قيمة التعابير

### مساعد الواجب المنزلي

استخدم حيد نصف الأدوات من صندوق الأدوات الخاص به. وبعد مرور ساعة واحدة، أعاد 3 أدوات. كم عدد الأدوات التي ما زال يستخدمها حيد إذا كان لديه z من الأدوات في صندوق الأدوات الخاص به؟ اكتب تعبيراً لذلك. ثم أوجد قيمة التعبير إذا كان  $z = 8$ .

اكتب التعبير.

$$z \div 2 - 3$$

$$8 \div 2 - 3$$

$$4 - 3$$

استبدل z بـ 8.

عندما لا تكون هناك أقواس، فاضرب أو قسم أولاً بالتفرقة من اليسار إلى اليمين.

حيد ما زال يستخدم أداة واحدة.

### تمرين

**الجبر** أوجد قيمة كل تعبير إذا كان  $c = 4$  و  $d = 7$ .

1.  $15 - d$       2.  $16 + c$       3.  $35 \div d$

$15 - 7 = 8$        $16 + 4 = 20$        $35 \div 7 = 5$

**الجبر** أوجد قيمة كل تعبير إذا كان  $x = 14$  و  $y = 6$ .

4.  $(x + y) \div 4$       5.  $x - 2 \times 2$       6.  $y + 24 \div 2$

$(14 + 6) \div 4$        $14 - 2 \times 2$        $6 + 24 \div 2$

$20 \div 4 = 5$        $14 - 4 = 10$        $6 + 12 = 18$

### هدف الدرس

أن يقوم الطلاب بتمثيل المسائل الكلامية المكونة من خطوة واحدة وخطوتين باستخدام المعادلات مع متغير.

### تنمية المفردات

#### المفردات الجديدة

المعادلة equation

#### النشاط

- اكتب الكلمة على اللوحة. واسأل الطلاب عما يعرفونه عن الكلمة. فمثلاً، قد يقولون إن *المعادلة* مشابهة لكلمة *يعادل* (يساوي).
- **مراجعة الدقة** اطلب من الطلاب استعراض الفقرة الأولى من الدرس سريعاً. واطلب من متطوع تحديد المرادف، أو كلمة لها نفس المعنى تقريباً ككلمة أخرى، لكلمة *معادلة*. **جملة عددية**
- اطلب من الطلاب الرجوع إلى المخطط الموجود بهذه الصفحة بينما يقومون بكتابة المعادلات في هذا الدرس.

### التركيز

قم بحل مسائل مكونة من خطوتين من الحياة اليومية باستخدام العمليات الأربعة: الجمع والطرح والضرب والقسمة (مثلاً، باستخدام الرسومات والمعادلات مع رمز للعدد المجهول لتمثيل المسألة).

#### العمليات الرياضية

- 1 فهم طبيعة المسائل والمثابرة في حلها.
- 2 التفكير بطريقة تجريدية وكمية.
- 4 استخدام نماذج الرياضيات.
- 6 مراعاة الدقة.

### التربط المنطقي

#### الربط بالموضوعات الرئيسية

الربط بمجال التركيز المهم التالي: 1. تطوير فهم الضرب والقسمة وإستراتيجيات الضرب والقسمة في نطاق الأعداد حتى 100.

### الدقة

تزداد صعوبة التمارين مع تقدّم الدرس. ومع ذلك، قد يتباين تفكير الطلاب الفردي خلال العمليات الحسابية الموسّعة.

#### مستويات الصعوبة

- المستوى 1 استيعاب المفاهيم
- المستوى 2 تطبيق المفاهيم
- المستوى 3 التوسّع في المفاهيم

التمارين 1-2

التمارين 3-12

التمارين 13-17

### LA الإستراتيجية التعليمية للتحصيل اللغوي

#### الدعم التعاوني: التعاون مع الزملاء/مراجعة ثنائية

قبل الدرس، اطلب من الطلاب ابتكار بطاقة متشابهة لكلمة *معادلة*، وقم بإضافة المصطلح إلى مخطط المشابه. وبالإضافة إلى ذلك، اطلب من الزملاء مراجعة بطاقات المفردات لكلمتي *معادلة* و*مناقشة* أوجه التشابه والاختلاف.

ضع طلاب المستوى الناشئ مع زميل، يكون بمثابة مرشد له. واطلب من الزملاء التعاون معًا لكتابة المعادلات للتمارين 6-12. ثم، اطلب من الزملاء الاجتماع مع مجموعة ثنائية أخرى للتحقق من الإجابات. لتوسيع النشاط، اطلب من كلا مجموعتي الزملاء التعاون معًا لإيجاد المجهول في كل معادلة. قدم قوالب الجمل التالية لإجابات الطلاب:

المعادلة هي \_\_\_\_\_. المجهول هو \_\_\_\_\_.

www.almanahj.com

## 2 الاستكشاف واستخدام النماذج

### مراجعة

#### مسألة اليوم

يستخدم كل إطار صورة قطعة من المعدن بطول 38 بوصة. فكم تقريبًا عدد قطع المعدن اللازمة لعمل 6 أطر؟ حوالي 240 كم قدمًا يصل طول القطعة؟  
20 قدمًا اكتب الحل هنا. 38 يتم تقريبها إلى 40؛ بوصة  $40 \times 6 = 240$ ؛  
وتوجد 12 بوصة في القدم؛ قدمًا  $240 \div 12 = 20$

**فهم طبيعة المسائل** اطلب من الطلاب شرح الخطوات التي استخدموها لحل المسألة. ينبغي أن يشرح الطلاب كيف قاموا بالتقريب، والضرب في مضاعفات العشرة، وإيجاد عدد البوصات في القدم، والقسمة للحصول على العدد الإجمالي للقدم.

### تدريب سريع

استخدم هذا النشاط ليكون بمثابة مراجعة سريعة وتقويم للدرس السابق.



### تمثيل مسائل الرياضيات

**الهدف:** المهارة والتّمسّس الإجرائيان


**المواد:** قطع العد

نظّم الطلاب في مجموعات ثنائية أو مجموعات صغيرة. وقدم قطع العد لكل ثنائي أو مجموعة.

استخدم قطع العد لعمل مصفوفة  $2 \times 3$ .

ينبغي على الطلاب تمثيل التالي.

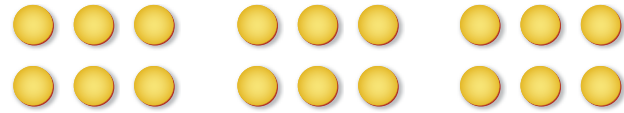
www.almanahj.com



اكتب جملة ضرب عددية لتمثيل هذه المصفوفة.  $2 \times 3 = 6$

استخدم قطع العد لتمثيل مصفوفتين  $2 \times 3$  أخريين بحيث يكون لديك ما مجموعه 3 مصفوفات.

ينبغي على الطلاب تمثيل التالي.



اكتب جملة ضرب عددية لتمثيل 3 مجموعات من مصفوفات  $2 \times 3$ .

الإجابة النموذجية:  $3 \times (2 \times 3) = 18$

كم قطعة عد مستخدمة إجمالاً؟ 18 قطعة عد



## مثال 3

وضح أن هناك بعض المعادلات ينبغي استخدام أكثر من عملية واحدة فيها. وجه الطلاب إلى كتابة المعادلة. وضح أن المتغير يمكن أن يكون في أماكن مختلفة في المعادلة. كيف تعلم أنك تحتاج إلى ضرب 2 في 3؟ هناك مجموعتان من المفكات يوجد بكل واحدة 3 مفكات.

2-3-4 التفكير بطريقة تجريدية كيف تعلم أنك تحتاج إلى جمع  $W$  مع ناتج ضرب  $3 \times 2$ ؟ الإجابة النموذجية: يمتلك متجر المعدات ما مجموعه 7 مفكات؛ توضح كلمة مجموعته استخدام الجمع.

## تمرين موجّه

قم بحل التمارين الواردة تحت قسم "تمرين موجّه" مع الطلاب.

## حديث في الرياضيات: محادثة تعاونية

6-3-4 مراعاة الدقة ما الفرق بين التعبير والمعادلة؟ الإجابة النموذجية: التعبير هو مجموعة من الأعداد و/أو العمليات و/أو الرموز. والمعادلة تستخدم علامة يساوي، وهي توضح أن التعبيرين متساويان.

## المفردات

اطلب من متطوع قراءة تعريف المعادلة. ووضح أن المعادلة هي نفسها الجملة العددية. يوجد بالمعادلة دائماً علامة يساوي.

## الرياضيات في الحياة اليومية

### مثال 1

اقرأ المثال بصوت عالٍ. كم عدد حبات التفاح الأحمر الموجودة؟ 5 والتفاح الأخضر؟ 4 كم عدد حبات التفاح جميعها؟ 9 ما المعادلة التي يمكن استخدامها لتمثيل هذه الحالة؟  $5 + 4 = 9$  اقرأ الكلمات و/أو العبارات الموجودة في الجدول بالجزء السفلي من صفحة الطالب. ووضح كيف تساعد في تحديد العمليات التي سيتم استخدامها في كتابة المعادلة.

4-3-4 استخدام نماذج الرياضيات كيف يمكن كتابة المعادلة في المثال 1 كتعبير بالأرقام والكلمات؟ الإجابة النموذجية:  $5 + 4$  أكبر من 5

### مثال 2

اقرأ المثال بصوت عالٍ. ما الذي يمثله المتغير؟ المجهول. أو الطول الكلي للوحة كيف تعلم أنك بحاجة إلى استخدام الجمع؟ الإجابة النموذجية: تشير كلمة الكلي إلى استخدام الجمع.

www.almanahj.com

### مثال 2

استخدم حسام شريط القياس الخاص به لإيجاد إجمالي طول اللوح اللازم لإنهاء كوخ الشجرة الخاص به. عندما يقطع اللوح، فسكون طول القطعة الأولى 48 سنتيمتراً بينما سيكون طول الأخرى 32 سنتيمتراً. ما إجمالي طول اللوح؟

اكتب معادلة لتمثيل المسألة. استخدم الحرف  $b$  للمجهول. تفرغ كلمة إجمالي عملية الجمع.

الحلول:  $48 + 32 = b$

↑ اللوح الثاني  
↑ اللوح الأول

### مثال 3

طلب متجر المعدات طقمين من المفاتيح الإنكليزية. ويوجد 3 مفاتيح في كل طقم. بعد أن تم شحن المفاتيح، سيكون لدى المتجر إجمالي 7 مفاتيح. ما عدد المفاتيح التي كانوا يشتكونها؟

اكتب معادلة لتمثيل المسألة. استخدم الحرف  $w$  للمجهول. تفرغ العبارات طقم وفي كل طقم الضرب. بينما الكلمة إجمالي تفرغ الجمع.

الحلول:  $2 \times 3 + w = 7$

↑ مجموعتان تكون كل منها من 3 مفاتيح

### تمرين موجّه

اكتب معادلة لتمثيل كل جملة.

1. إجمالي 3 حروف زائد حرفين يكون الحاصل  $x$  حروف.  $3 + 2 = x$

2. مجموعة مكونة من 6 تم استبعاد  $x$  منها وتبقى 2.  $6 - x = 2$

ما الفرق بين التعبير والمعادلة؟

## كتابة المعادلات

الاسم

### الدرس 7

السؤال الأساسي: كيف يمكن استخدام الخواص والمعادلات لتبسيط الأعداد؟

تدل **المعادلة** أو الجملة العددية، على تساوي تعبيرين. تحتوي المعادلة على علامة يساوي (=).

### الرياضيات في الحياة اليومية

#### مثال 1

استخدم المعلومات الموضحة لإيجاد إجمالي عدد التفاحات الحمراء والخضراء. اكتب معادلة لتمثيل قطع العد.

التفاحات الخضراء: 4  
التفاحات الحمراء: 5

الإجمالي: 9

المعادلة:  $5 + 4 = 9$

المعادلة  $5 + 4 = 9$  تخبرنا بأنه يوجد 9 تفاحات حمراء وخضراء.

لككتابة معادلة، تحتاج إلى تحديد نوع العملية التي ستستخدمها. توجد كلمات وعبارات يمكن أن تفرغ إما عملية الجمع أو الطرح أو الضرب أو القسمة. إليك بعض الأمثلة.

الجمع	الطرح	الضرب	القسمة
المجموع	الفرق	حاصل ضرب	حاصل قسمة
أكثر	أصغر من	ضعف	اقسم
إجمالاً	متبقى	اثان	نصف
إجمالي	أقل من	في كل	إلى مجموعات متساوية



**LA** للحصول على دعم بلغات إضافية، استخدم أنشطة التدريس المتميز في الصفحة التالية.

## الاستفادة من السؤال الأساسي

**التمرين 17** يطلب من الطلاب أن يعتمدوا على استيعابهم للمفاهيم اللازمة للإجابة عن السؤال الأساسي للوحدة.

### التقويم التكويني

**التعريفات** اطلب من الطلاب استخدام دفتر تحديد أوجه التشابه والاختلاف بين اثنين من المفردات. عرّف الكلمات "التعبير" و "المعادلة" بكلمات من عندك. وقدم معلومات عن أوجه التشابه والاختلاف. اطلب من متطوعين مشاركة التعريفات الخاصة بهم مع الصف الدراسي.

انظر الصفحة التالية للاطلاع على خيارات التدريس المتميز.

## تمارين ذاتية

**RtI** استنادًا إلى ملاحظتك، يمكنك اختيار تعيين التمارين كما هو موضح في المستويات أدناه:

- **قريب من المستوى** خصّص التمارين 9-3، 13، 16-17.
- **ضمن المستوى** خصّص التمارين 11-3 (الفردية)، 13-17.
- **أعلى من المستوى** خصّص التمارين 12-6 (الزوجية)، 13-17.

## حل المسائل

### 2-3-4 التفكير بطريقة كمية

**التمرين 13-15** كيف تعلم العملية المطلوب استخدامها لكتابة معادلة للمجهول في التمرين 13؟ الإجابة النموذجية: تشير كلمة تم استخدام إلى الطرح. إذا وجد الطلاب صعوبة في حل أي من التمارين، فاطلب منهم قراءة كل جملة على حدة لمساعدتهم في تجميع كل جزء من المعادلة. ويمكنهم استخدام الجدول الموجود بالصفحة 539 للبحث عن الكلمات الرئيسية لمساعدتهم في تحديد العملية التي سيتم استخدامها.

### 4-3-4 استخدام نماذج الرياضيات

**التمرين 16** اطلب من الطلاب مشاركة مسائل كلامية من الحياة اليومية مع زميل. واطلب من كل طالب حل المسألة لإيجاد قيمة المتغير  $n$ . وينبغي أن يصلوا إلى نفس قيمة  $n$ ، وهي 5.

www.almanahj.com

### حل المسائل

**ممارسات في 2** استخدام الجبر اكتب معادلة مستخدمًا أي حرف للمجهول.

13. استخدمت خولة بعض المسامير من صندوق العدادات. استخدم والدها 9 مسامير، كم عدد المسامير التي استخدمتها خولة في حالة استخدامها 17 مساميرًا إجماليًا؟  
 $17 - 9 = n$

14. طلب عشرون زبونًا عددًا من الشطائر، طلب ثلاثة منهم شطيرة جبن، بينما طلب ثلاثة عشر شطيرة دجاج. وطلب الباقي شطيرة دجاج رومي، كم عدد الزبائن التي طلبت شطيرة الدجاج الرومي؟  
 $3 + 13 + f = 20$

15. أعطى فاتح الإغوانا التي يرببها 12 حبة من العول، تناولت الإغوانا نصفهم قبل الظهر، كم عدد حبات العول المتبقية في نهاية اليوم إذا تناولت الإغوانا 4 حبات إضافية؟  
 $12 \div 2 - 4 = b$

**الإجابات النموذجية: 16، 17**

16. **ممارسات في الرياضيات** تمثيل مسائل الرياضيات اكتب مسألة من الحياة اليومية يمكن حلها باستخدام المعادلة  $16 \div 2 - 3 = n$ .  
**قطع عبد الله لوطًا طوله 16 سنتيمترًا إلى نصفين، ثم قطع 3 سنتيمترات من هذين اللوحين، ما الطول النهائي لللوح؟**

17. **الاستفادة من السؤال الأساسي** كيف يتم استخدام الحروف والرموز في المعادلات؟  
**عند القيام بحل مسألة، فإنه يوجد مجهول والمجهول هو ما تسعى جاهدًا لإيجاده. يمكن استخدام الحروف والرموز لتمثيل قيمة المجهول.**

### تمارين ذاتية

ضع خطًا تحت جزء العبارة الذي يقترح أيًا من العمليات الحسابية التي يمكن استخدامها. ثم ضع دائرة حول العملية الحسابية.

3. الفرق بين غلبة من البطاقات التعليمية وغلبة من أقلام الخبر  
الجمع (الطرح) الضرب الغسبة

4. إجمالي تكلفة الغراء وأقلام التحديد وأقلام الرصاص  
الجمع (الطرح) الضرب الغسبة

5. عدد أقلام التلوين الموزعة بالتساوي في كل صندوق  
الجمع (الطرح) الضرب (القسمة)

**الجبر اكتب معادلة لتمثيل كل جملة.**

6. 22 سنتيمترًا مطروحة من 14 سنتيمترًا  
يكون الحاصل 9 سنتيمترًا.  
 $14 - 9 = y$

7. قُسمت 24 مطرقة إلى 3 مجموعات متساوية من 3.  
 $24 \div y = 3$

8. 12 سكة ناقص  $y$  سكة زائد 4 سكات إضافية يكون الحاصل 9 سكات.  
 $12 - y + 4 = 9$

9. 5 ألعاب زائد ضعف العدد يكون الحاصل  $y$  لعبة.  
 $5 + 5 \times 2 = y$

10. الفرق بين عدد المسامير والصنارات هو  $m$  صنارة.  
 $14 - 6 = m$

11. عدد الصنارات والزفيركات والبراغي إجماليًا هو  $f$  أداة.  
 $6 + 2 + 7 = f$

12. نصف عدد الصنارات زائد عدد المسامير هو  $n$  أداة.  
 $6 \div 2 + 14 = n$

**الجبر استخدم الأعداد الموجودة في الجدول للتمرين 10-12 لكتابة معادلة لكل جملة.**

الفرق بين عدد المسامير والصنارات هو  $m$  صنارة.  
عدد الصنارات والزفيركات والبراغي إجماليًا هو  $f$  أداة.  
نصف عدد الصنارات زائد عدد المسامير هو  $n$  أداة.

صندوق أدوات أسماء	العدد
المسامير	14
الصنارات	6
الزفيركات	2
البراغي	7



### أعلى من المستوى التوسّع

#### نشاط عملي المواد: ورق، قلم رصاص

اطلب من الطلاب كتابة مسألة كلامية تتضمن أكثر من عملية واحدة. وبنبغي عليهم كتابة معادلة تتلاءم مع المسألة وتتضمن أي حرف للعدد المجهول. ينبغي أن يقوم الطلاب بتبادل المسائل مع زملائهم وحل المسائل الكلامية الخاصة ببعضهم البعض. ويتم إرجاع الأوراق إلى كاتبى المسائل، الذين يقومون بالتحقق من الإجابات.

### ضمن المستوى المستوى 1

#### نشاط عملي المواد: بطاقات الفهرسة

اطلب من الطلاب العمل في مجموعات ثنائية. وأعط كل مجموعة ثنائية بطاقة فهرسة. على بطاقة الفهرسة، ينبغي أن يكتب طالب واحد معادلة ويقوم بحلها. ثم ينبغي أن يقوم هذا الطالب نفسه بقراءة المعادلة لزميله. ويحاول الزميل حينها حل المسألة ذهنيًا. اطلب من الطلاب مواصلة كتابة وحل المعادلات ذهنيًا حسبما يتسع الوقت.

### قريب من المستوى المستوى 2: التدخل التقييمي الإستراتيجي

#### نشاط عملي المواد: ورق، قلم رصاص

اطلب من الطلاب تقسيم المسائل الكلامية من خلال تحديد الكلمات الرئيسية التي تشير إلى العملية (العمليات) اللازم استخدامها. ثم اطلب منهم كتابة جملة عددية/معادلة لحل المسألة. وإذا واجهوا صعوبة، فاطلب منهم مراجعة مجموعات الحقائق عن الضرب/القسمة والجمع/الطرح. ذكّر الطلاب أن الضرب/القسمة والجمع/الطرح هي عمليات عكسية أو متقابلة ولذلك يمكن استخدامهم لحل المسائل ذهنيًا.

LA

## الدعم المتميز للتحصيل اللغوي

www.almanahj.com

### المستوى الانتقالي

#### تكوين الروابط

راجع مع الطلاب الكلمات والعبارات الدلالية الواردة في الجدول الموجود بالمثال أ. واطلب من الطلاب كتابة مسألة كلامية تتضمن كلمات/عبارات دلالية من عمودين على الأقل في المخطط. وجه الطلاب إلى تبادل الورق مع زميل. ويقوم الطلاب أولاً بكتابة المعادلة بعدد مجهول ثم حلها. ثم يقوم الزملاء بالتجمع مجددًا للتحقق من الحلول.

### مستوى التوسّع

#### تمثيلها بنفسك

اعرض 7 من قطع العد. وقل، لدي 7 قطع عد. سأطرح منهم ثلاثة. افصل ثلاثة قطع عد عن المجموعة. وأسأل، ما التعبير الذي يمكننا كتابته لهذا النموذج؟  $7 - 3$  اكتب التعبير. وأسأل، كيف يمكننا تغيير التعبير إلى معادلة؟ نقوم بإضافة علامة يساوي والعدد 4. اكتب المعادلة. وكرر النشاط، مع تمثيل عمليات أخرى بقطع العد. قدم قوالب الجمل التالية لإجابات الطلاب: التعبير هو \_\_\_\_ . المعادلة هي \_\_\_\_ .

### المستوى الناشئ

#### استمع وحدد

اكتب:  $3 \times 5$ . قل، هذا تعبير. لا توجد به علامة يساوي. ثم، اكتب:  $3 \times 5 = 15$ . أشر إلى الجملة العددية وقل، هذه معادلة. توجد بها علامة يساوي. ضع دائرة حول علامة يساوي. اكتب تعابير ومعادلات عشوائية. وأسأل، هل هذا تعبير/معادلة؟ اطلب من الطلاب الإجابة بتلميح أو بقول نعم/لا.

## واجباتي المنزلية

قم بتعيين الواجب المنزلي بعد إكمال الدرس بنجاح. يمكن للطلاب الذين يستوعبون المفاهيم تجاوز قسم **مساعد الواجب المنزلي**.

## حل المسائل

### 2-3-4 التنكير بطريقة تجريدية

**التمارين 9-10** كيف تعلم المكان الذي تضع فيه الحرف للعدد المجهول في التمرين 9؟ الإجابة النموذجية: أحاول معرفة المبلغ الذي أنفقه محمد على غدائه. كان لديه AED 10، وأنفق مبلغًا معينًا، ولديه الآن AED 6. وبالتالي، أحتاج إلى طرح العدد المجهول من AED 10 للحصول على AED 6.

**LA** للحصول على دعم بلغات إضافية، استخدم أنشطة التدريس المتميز في الصفحة السابقة.

## مراجعة المفردات

أشر إلى الطلاب بالرجوع إلى "بطاقات المفردات" للحصول على الدعم الإضافي.

## تمرين على الاختبار

### تشخيص أخطاء الطلاب

قد تشير توجهات الصف نحو الإجابات الخاطئة إلى وجود أخطاء أو سوء فهم شائعين بين الطلاب.

- A** إجابة صحيحة  
**B** تم الخلط بين الضرب والجمع  
**C** تم الخلط بين الطرح والقسمة  
**D** العملية الأولى والمتغير غير صحيحين

### التتويج التكويني

**بطاقة التحقق من استيعاب الطلاب** اكتب المعادلة  $5 \times n = 30$  على اللوحة. واطلب من الطلاب شرح كيفية حل المعادلة بكلمات من عندهم. واجمع أوراق الطلاب. الإجابة النموذجية: قلت لنفسِي، ما العدد الذي يتم ضربه خمس مرات ليساوي 30؟  $n = 6$

www.almanahj.com

الاسم: \_\_\_\_\_

## واجباتي المنزلية

الدرس 7  
كتابة المعادلات

**مساعد الواجب المنزلي**

استخدم الأعداد الموجودة في الجدول لكتابة معادلة لكل حالة. استخدم  $x$  للمجهول.

حيوانات سعيد الأليفة	السمك
12	4
4	2
2	3

الفرق بين عدد السمك وعدد العصافير هو  $x$ . إجمالي عدد الحيوانات الأليفة هو  $x$ .

ضعف عدد حيوانات الهامستر ناقص  $x$  يساوي عدد الأسماك مضروبين بالتساوي في ثلاثة أحواض عدد القطط. سمك هو  $x$ .

**تمرين**

**الجبر** اكتب معادلة لتمثيل كل جملة.

1. خمس أعداد مضافة إلى 7 يكون الحاصل  $s$ .  
 $7 + 5 = s$

2. أربعة أعداد عدد 4 أقلام رصاص هو  $p$ .  
 $4 \times 4 = p$

3. نصف عدد 18 سنجابًا هو  $x$ .  
 $18 \div 2 = x$

4. إحدى عشرة ملعقة ناقص 5 يساوي 9 ملاعق.  
 $11 - s = 9$

**الجبر** اكتب معادلة لتمثيل كل جملة.

6. 14 بيضة مضافًا إليها 3 بيضات متشعبة إلى مجموعتين متماثلتين، يكون الحاصل  $e$ .

7. إجمالي 13 شجرة كرز بالإضافة إلى 8 شجرات وشجرتين هو  $c$ .

8. 32 كرة تنس مُقسمة على 4 لاعبين بالتساوي زائد 3 كرات إضافية ليكون الحاصل  $b$ .

9. دفع معاذ فاتورة قيمتها AED 10 مقابل غدائه واستعاد AED 6. كم تبلغ تكلفة الغداء؟  
 $AED 10 - x = AED 6$

10. وزن خيل عدنان 15 كيلوجرامًا. بينما وزن عجله الجديد ضعف وزن الخيل زائد 2 كيلوجرام. كم يبلغ وزن الخيل؟  
**32 كيلوجرامًا**

**مراجعة المفردات**

II. اشرح الفرق بين التعبير والمعادلة.

**الإجابة النموذجية: التعبير لا يحتوي على علامة "يساوي" بينما تحتوي المعادلة على هذه العلامة.**

**تمرين على الاختبار**

12. اشترت هداية 3 أرغفة من الخبز الذي يحتوي على 20 شريحة في كل رغيف، ثم استخدمت شريحتين لإعداد شطيرة. يوجد عدد  $b$  من الشرائح متبقية. أي من المعادلات تمثل هذه الحالة؟

Ⓐ  $3 \times 20 - 2 = b$       Ⓒ  $(3 \times 20) \div 2 = b$   
 Ⓑ  $3 + 20 - 2 = b$       Ⓓ  $3 + 20 - b = 2$

الاسم: \_\_\_\_\_

## واجباتي المنزلية

الدرس 7  
كتابة المعادلات

**مساعد الواجب المنزلي**

استخدم الأعداد الموجودة في الجدول لكتابة معادلة لكل حالة. استخدم  $x$  للمجهول.

حيوانات سعيد الأليفة	السمك
12	4
4	2
2	3

الفرق بين عدد السمك وعدد العصافير هو  $x$ . إجمالي عدد الحيوانات الأليفة هو  $x$ .

ضعف عدد حيوانات الهامستر ناقص  $x$  يساوي عدد الأسماك مضروبين بالتساوي في ثلاثة أحواض عدد القطط. سمك هو  $x$ .

**تمرين**

**الجبر** اكتب معادلة لتمثيل كل جملة.

1. خمس أعداد مضافة إلى 7 يكون الحاصل  $s$ .  
 $7 + 5 = s$

2. أربعة أعداد عدد 4 أقلام رصاص هو  $p$ .  
 $4 \times 4 = p$

3. نصف عدد 18 سنجابًا هو  $x$ .  
 $18 \div 2 = x$

4. إحدى عشرة ملعقة ناقص 5 يساوي 9 ملاعق.  
 $11 - s = 9$

**الجبر** اكتب معادلة لتمثيل كل جملة.

6. 14 بيضة مضافًا إليها 3 بيضات متشعبة إلى مجموعتين متماثلتين، يكون الحاصل  $e$ .

7. إجمالي 13 شجرة كرز بالإضافة إلى 8 شجرات وشجرتين هو  $c$ .

8. 32 كرة تنس مُقسمة على 4 لاعبين بالتساوي زائد 3 كرات إضافية ليكون الحاصل  $b$ .

9. دفع معاذ فاتورة قيمتها AED 10 مقابل غدائه واستعاد AED 6. كم تبلغ تكلفة الغداء؟  
 $AED 10 - x = AED 6$

10. وزن خيل عدنان 15 كيلوجرامًا. بينما وزن عجله الجديد ضعف وزن الخيل زائد 2 كيلوجرام. كم يبلغ وزن الخيل؟  
**32 كيلوجرامًا**

**مراجعة المفردات**

II. اشرح الفرق بين التعبير والمعادلة.

**الإجابة النموذجية: التعبير لا يحتوي على علامة "يساوي" بينما تحتوي المعادلة على هذه العلامة.**

**تمرين على الاختبار**

12. اشترت هداية 3 أرغفة من الخبز الذي يحتوي على 20 شريحة في كل رغيف، ثم استخدمت شريحتين لإعداد شطيرة. يوجد عدد  $b$  من الشرائح متبقية. أي من المعادلات تمثل هذه الحالة؟

Ⓐ  $3 \times 20 - 2 = b$       Ⓒ  $(3 \times 20) \div 2 = b$   
 Ⓑ  $3 + 20 - 2 = b$       Ⓓ  $3 + 20 - b = 2$

# الدرس 8

## حل المسائل الكلامية المكونة من خطوتين

### الاستعداد

#### هدف الدرس

أن يقوم الطلاب بتمثيل المسائل الكلامية المكونة من خطوتين وحلها باستخدام المعادلات مع متغير.

#### تنمية المفردات

#### مراجعة المفردات

قَدِّر/تقدير estimate

#### النشاط

- اكتب كلمة مراجعة على اللوحة. واسأل الطلاب لماذا يستخدمون التقديرات لإيجاد المجاميع أو الفروق أو نواتج الضرب أو نواتج القسمة. فمثلاً، ينبغي عليهم شرح أنهم قاموا بتقدير مجموع الأصناف التي يريدون شرائها في المتجر.

- **تحقق من مدى صحة الحل لماذا هو مهم أن تتحقق من مدى صحة الحل عند حل المسائل الكلامية المكونة من خطوتين؟ الإجابة النموذجية:** يساعد التحقق من مدى صحة الحل في معرفة أنني قمت بحل المسألة بشكل صحيح.

www.almanahj.com

### LA الإستراتيجية التعليمية للتحصيل اللغوي

#### الدعم بالمفردات: المفردات الأساسية

راجع المصطلحات من تمارين الدرس والتي قد تكون غير مألوفة مثل: الأدوات ومتجر المعدات واشترى وينفق والكتب الساخرة والركاب والحافلات والتفاح والكمثرى ومتجر الهوايات ونماذج الطائرات والقلم الرصاص والقلم ومجالسة الأطفال ويحفظ وألبوم الصور والمطر والشهر وهطول الأمطار والبرتقال وطبقة وكباب الفواكه والكرز. اعرض بشكل بارز صورًا مسماة أو صورًا فوتوغرافية أو وسائل إيضاح للطلاب كمرجع أثناء الدرس.

اطلب من الطلاب التعاون مع زميل لإكمال التمارين 1-5. وقدم قوالب الجمل التالية: العملية الأولى هي \_\_\_\_\_. العملية الثانية هي \_\_\_\_\_. المعادلة هي \_\_\_\_\_.

#### التركيز

قم بحل مسائل مكونة من خطوتين من الحياة اليومية باستخدام العمليات الأربعة الجمع والطرح والضرب والقسمة (مثلًا، باستخدام الرسومات والمعادلات مع رمز للعدد المجهول لتمثيل المسألة).

#### ممارسات في الرياضيات

- 1 فهم طبيعة المسائل والمثابرة في حلها.
- 3 بناء فرضيات عملية والتعليق على طريقة استنتاج الآخرين.
- 4 استخدام نماذج الرياضيات.
- 5 استخدام الأدوات الملائمة بطريقة إستراتيجية.

#### الترباط المنطقي

#### الربط بالموضوعات الرئيسية

الربط بمجال التركيز المهم التالي: 1. تطوير فهم الضرب والقسمة وإستراتيجيات الضرب والقسمة في نطاق الأعداد حتى 100.

#### الدقة

تزداد صعوبة التمارين مع تقدّم الدرس. ومع ذلك، قد يتباين تفكير الطلاب الفردي خلال العمليات الحسابية الموسّعة.

#### مستويات الصعوبة

- المستوى 1 استيعاب المفاهيم
  - المستوى 2 تطبيق المفاهيم
  - المستوى 3 التوسّع في المفاهيم
- التمارين 1-2  
التمارين 3-10  
التمارين 11-15

## 2 الاستكشاف واستخدام النماذج

### مراجعة

#### مسألة اليوم

بلال لديه 3 أصدقاء. يرتدي أحدهم سترة، ويرتدي الثاني معطفًا، ويرتدي الثالث جاكيت. يرتدي راشد سترة، ولا يرتدي فهد معطفًا. فماذا يرتدي فهد؟ جاكيت

**م.5** استخدام الأدوات المناسبة كيف يمكن تنظيم المعلومات المقدمة في جدول؟ الإجابة النموذجية: يمكن وضع الأصدقاء الثلاثة (راشد وفهد والصديق 3) في صفوف، ويمكن وضع سلع الملابس (السترة والمعطف والجاكيت) في أعمدة. ينبغي أن يكون في المربع الذي يتقاطع مع راشد والسترة علامة صح. وبما أن فهد لا يرتدي المعطف، يتم وضع علامة X في مربع المعطف أسفل فهد. والآن، يمكن وضع علامة X في مربع السترة أسفل فهد لأن راشد يرتدي السترة. وبالتالي، يجب أن يكون فهد مرتديًا الجاكيت.

#### تدريب سريع

استخدم هذا النشاط ليكون بمثابة مراجعة سريعة وتقويم للدرس السابق.




### تمثيل مسائل الرياضيات

الهدف: المهارة والتمرس الإجرائيان

المواد: قطع العد

نظم الطلاب في مجموعات صغيرة، معطيًا كل مجموعة قطع عدّ.

استخدم قطع العد لعمل مصفوفة  $4 \times 3$ . ينبغي على الطلاب تمثيل التالي.




كم عدد قطع العد الموجودة؟ 12 قطعة عدّ

اكتب معادلة لتمثيل هذه المصفوفة.  $3 \times 4 = 12$

ضع مجموعة من 5 قطع عد بجوار المصفوفة.

ينبغي على الطلاب تمثيل شيء مثل ما يلي.



كم قطعة عد مستخدمة إجمالاً؟ 17 قطعة عدّ

اكتب معادلة لتمثيل العدد الإجمالي لقطع العد معًا. وينبغي أن تبدأ المعادلة

بالتعبير  $3 \times 4 + 5 = 17$ .



## مثال 2

اقرأ المثال بصوت عالٍ. ووجه الطلاب في كتابة المعادلة. وضح أن المعادلة تتطلب أكثر من عملية واحدة.

**م.3** **بناء فرضيات لماذا قمت بالطرح قبل القسمة في هذه الحالة؟**  
الإجابة النموذجية: تتواجد علامة الطرح داخل الأقواس.

وجه الطلاب خلال الجزء المتبقي من المثال. واطلب منهم ملء الأعداد الناقصة في كتبهم. اطلب من الطلاب استخدام التقدير للتحقق من مدى صحة الحل لإجاباتهم. ووجههم خلال خطوات التحقق في كتبهم.

## تمرين موجه

قم بحل التمارين الواردة تحت قسم "تمرين موجه" مع الطلاب.

## حديث في الرياضيات: محادثة تعاونية

**م.3** **تحقق من مدى صحة الحل** كيف يمكنك أن تتحقق من مدى صحة معادلة؟ الإجابة النموذجية: بالنسبة للأعداد الصغيرة، يمكنك حل المسألة بترتيب عكسي ذهنيًا باستخدام العمليات العكسية. وبالنسبة للأعداد الكبيرة، يمكنك استخدام التقدير.

## الرياضيات في الحياة اليومية

### مثال 1

اقرأ المثال بصوت عالٍ. ووجه الطلاب في كتابة المعادلة. وضح أن هذه المعادلة تتطلب أكثر من عملية واحدة.

ما العمليتان المستخدمتان في المعادلة؟ **الضرب والجمع ما ناتج**  
 $AED30 \times 5$ ؛  $AED30 + AED7$  ما ناتج  $AED37$

اطلب من الطلاب استخدام الرياضيات الذهنية للتحقق من مدى صحة الحل لإجاباتهم. ووجههم خلال الجزء المتبقي من المثال واطلب منهم ملء الأعداد الناقصة.

**م.4** **استخدام نماذج الرياضيات** إذا تمت إضافة أقواس إلى المعادلة، فأين سيتم وضعها؟ اشرح استنتاجك. الإجابة النموذجية: سيتم وضع الأقواس حول جملة الضرب  $AED6 \times 5$  لأنه يلزم إكمال عملية الضرب قبل عملية الجمع.

www.almanahj.com

**مثال 2**  
لدى إسماعيل 48 كتابًا هزليًا. يحتفظ بـ 8 كتب لنفسه ويقسم البقية بين أصدقائه بالتساوي. إذا حصل كل صديق على 8 كتب هزلية، فكم عدد الأصدقاء الذين أعطاهم الكتب؟  
اكتب معادلة باستخدام رمز للجهد. ثم أوجد الحل.

الكتب الهزلية التي حصل عليها كل صديق:  $m$   
عدد الأصدقاء:  $8$   
الكتب الهزلية التي يحتفظ بها إسماعيل:  $(48 - 8)$

فتر ما العدد الذي إذا ضرب في 8 فإنه يساوي 40؟  
 $40 \div 8 = 5$

إذا:  $8 = 5 \div (48 - 8)$  فإن الجهد هو 5.  
أعطى إسماعيل 5 من أصدقائه كتبًا هزلية.

**تحقق** استخدم التقدير للتحقق من مدى صحة إجابتك.  
 $40 \div 8 = 5$   
 $50 - 10 = 40$   
قرب 48 إلى 50  
قرب 8 إلى 10.

تقدير العدد 4 قريب من العدد الفعلي 5. ستكون الإجابة صحيحة.

**المعادلات النموذجية: 1,2**  
**تمرين موجه**  
اكتب معادلة باستخدام حرف للجهد. ثم حلها.  
وتحقق في النهاية من مدى صحة الحل.

1. تحتوي الحافلة على 14 راكبًا عند التوقف. نزل 5 أشخاص وصعد 8. كم عدد الأشخاص الموجودين في الحافلة الآن؟  
 $b = 8 - 5 + 14$ ؛ **17 شخصًا**

2. أخذت الجدة عددًا من التاج يساوي 4 أضعاف عدد الكسرى. ما الفرق بين عدد التاج والكسرى الذي أخذهت الجدة في حالة أخذها لـ 8 حيات كسرى؟  
 $m = 8 - 8 = 0$ ؛ **24 تفاحة إضافية أكثر من الكسرى**

يمكنك استخدام أي حرف من الحروف الأبجدية لتمثيل الجهد.

فتر ما العدد الذي إذا ضرب في 8 فإنه يساوي 40؟

كيف يمكن التحقق من مدى صحة المعادلة؟

**حل المسائل الكلامية المكونة من خطوتين**

الدرس 8  
السؤال الأساسي  
كيف يمكن استخدام الخواص والمعادلات لتجميع الأعداد؟

تحتاج في بعض الأحيان، لكي تحل مسألة، إلى القيام بأكثر من خطوة أو استخدام أكثر من عملية حسابية.

**الرياضيات في الحياة اليومية**

**مثال 1**  
اشترى عبد الرحمن بعض الأدوات من متجر المعدات. اشترى خمس أدوات مقابل 6 AED لكل منها وأداة مقابل 7 AED. كم يبلغ المبلغ الذي أنفقه على الأدوات إجمالاً؟

اكتب معادلة باستخدام رمز للجهد. ثم أوجد الحل.

كلمة أداة إضافية:  $y$   
كل أداة:  $AED 6$   
الأدوات المشتراة:  $5$

عندما لا يوجد أقواس، يتم تطبيق عمليتي الضرب والقسمة أولاً بالترتيب من اليسار إلى اليمين، ثم يتم تطبيق عمليتي الجمع والطرح بالترتيب من اليسار إلى اليمين.

الحل:  $AED 7 + AED 6 \times 5 = y$   
 $AED 37 = AED 7 + AED 30$

إذا:  $37 = AED 7 + AED 6 \times 5$  فإن الجهد يساوي 37 AED.  
أنفق عبد الرحمن 37 AED على الأدوات.

**تحقق** استخدم الرياضيات الذهنية للتحقق من مدى صحة إجابتك.  
لدى حذيفة 37 AED وأمنق 7 AED -  $30 = AED 37 - AED 7$   
إذا كان  $6 = AED 30 \div 5$  أدوات لكل منها، فإن الإجابة ستكون صحيحة.

## تمارين ذاتية

**RtI** استنادًا إلى ملاحظتك، يمكنك اختيار تعيين التمارين كما هو موضح في المستويات أدناه:

- قريب من المستوى خُصص التمارين 3, 6, 8, 11, 13-15.
- ضمن المستوى خُصص التمارين 4-10 (الزوجية)، 11-15.
- أعلى من المستوى خُصص التمارين 3-9 (الفردية)، 11-15.

## حل المسائل

### 1. م.1 المثابرة في حل المسائل

**التمرين 12-11 هل هناك طريقة واحدة فقط لكتابة المعادلة لكل مسألة كلامية مكونة من خطوتين؟ الإجابة النموذجية:** يمكن أن يكون هناك العديد من المعادلات الصحيحة لتمثيل تمرين معين. فمثلاً، يمكن كتابة التمرين 11 على النحو التالي  $43 = r + (6 \times 6)$  أو  $43 = 6 \times 6 + r$ . في كلا المعادلتين،  $r$  يساوي 7 بوصات.

### 1. م.2 فهم طبيعة المسائل

**التمرين 13** اطلب من الطلاب شرح كيف قاموا بحل المسألة بكلمات من عندهم. كيف عرفت الحرف اللازم استخدامه للعدد المجهول؟ الإجابة النموذجية: يمكن استخدام أي حرف للتعبير عن العدد المجهول.

### 3. م.3 بناء الفرضيات

**التمرين 14** اطلب من الطلاب مشاركة إجاباتهم مع زميل. ثم اطلب من متطوعين مشاركة تفسيرهم مع الصف الدراسي عن سبب عدم صحة الاختيار الآخر في التمرين 6.

**LA** للحصول على دعم بلغات إضافية، استخدم أنشطة التدريس المتميز في الصفحة التالية.

### ؟ الاستفادة من السؤال الأساسي

**التمرين 15** يطلب من الطلاب أن يعتمدوا على استيعابهم للمفاهيم اللازمة للإجابة عن السؤال الأساسي للوحدة.

### التقويم التكويني

**التلخيص** اطلب من الطلاب كتابة ملخص في دفترهم لإجابة السؤال التالي. كيف تعلم متى تتضمن مسألة كلامية أكثر من خطوتين أو أكثر من عمليتين؟ اشرح استنتاجك. اطلب من متطوعين مشاركة إجاباتهم مع الصف الدراسي.

**RtI** انظر الصفحة التالية للاطلاع على خيارات التدريس المتميز.

www.almanahj.com

### حل المسائل

**ممارسات في الرياضيات** **التحقق من مدى صحة الحل** اكتب معادلة باستخدام حرف للمجهول، ثم حلها، وتحقق في النهاية من مدى صحة الحل.

**المعادلات النموذجية: 11, 12**

11. هطلت 6 سنتيمترات من المطر كل شهر لمدة 6 أشهر على الأقل. كم تحتاج من المطر هذا الشهر ليصبح إجمالي هبوط الأمطار 43 سنتيمترًا؟

$43 = r + 6 \times 6$ ; 7 سنتيمترات

12. يوجد 48 برتقالة في 6 طبقات متساوية في صندوق. أخذت الأم بعض البرتقالات من الطبقة العلوية لعمل الوجبات الخفيفة. كم عدد البرتقالات التي أخذتها الأم إذا كان يوجد 5 برتقالات متبقية في الطبقة العلوية؟

$5 = 48 \div 6 - b$ ; 3 برتقالات

**الإجابات النموذجية: 13, 14, 15**

**ممارسات في الرياضيات** **فهم طبيعة المسائل** أعدت سالي 10 سلات من الفاكهة. قسمت 20 حبة من الكرز بالتساوي بين السلات. كم عدد حبات الكرز الموجودة في كل سلة؟

$20 \div 10 = c$ ;  $c = 2$

**حيات كرز**

**ممارسات في الرياضيات** **البحث عن خطأ** بالنظر مجدداً إلى التمرين 6، اشرح لماذا يكون الاختيار الآخر غير صحيح.

**لا توجد أقواس، وبدون أقواس ستحتاج إلى تطبيق عملية الضرب أولاً ثم الإجابة غير صحيحة.**

**الاستفادة من السؤال الأساسي** ما أهمية إجراء العمليات الحسابية في المعادلة بترتيب معين؟

يمكن أن يُحدث الترتيب الذي تُجرىه على العمليات الحسابية اختلافًا في الإجابة، وإلا، سيكون هناك احتمال لأن تكون إجابتك خاطئة.

### تمارين ذاتية

**الجبر** اكتب معادلة باستخدام حرف للمجهول، ثم حلها، وتحقق في النهاية من مدى صحة الحل. **المعادلات النموذجية: 3-5**

3. ذهبت تسرين إلى متجر الألعاب. اشترت 3 نماذج من الطائرات مقابل 4 AED لكل طائرة. استعدت 8 AED. ما مقدار المبلغ الذي دفعته في البداية؟

$4 = 8 + 3m$ ; 20 AED; 8 AED

4. أعطى السيد سالم لـ 9 طلاب قلم رصاص واحد لكل منهم. بحلول وقت الظهيرة، أعطى 5 طلاب إضافيين قلماً لكل منهم. لديه الآن 15 قلماً رصاصاً. كم عدد أقلام الرصاص التي كانت معه في البداية؟

$15 = 5 + 5 + p$ ; 29 قلماً رصاصاً

5. بالنظر إلى الجدول، كم عدد أقلام الجبر التي تمتلكها نيلة أكثر من نورة وأمانى معاً؟

الاسم	أقلام الجبر
نورة	7
أمانى	9
نيلة	20

$20 = (7 + 9) + p$ ; 4 أقلام جبر إضافية

**الجبر** حوِّط حول المعادلة الصحيحة، ثم حل المسألة.

6. تجني ليس 10 AED أسبوعياً من مجالسة الأطفال. كُتف 3 AED في كل أسبوع وتُدخر الباقي. ما مقدار المبلغ الذي تدخره بعد 8 أسابيع؟

$10 = 3m + 8$ ;  $10 - 8 = 3m$ ;  $2 = 3m$ ;  $m = \frac{2}{3}$ ; 2 AED

7. تم ملء الـ 5 صفحات الأولى من اليوم صور أمل بعدد 8 صور في كل صفحة، وتحتوي الصفحة التالية على 7 صور فقط. كم عدد الصور الموجودة في 6 صفحات؟

$5 \times 8 + 7 = p$ ;  $5 \times 8 + p = 40$ ;  $40 = 47$ ; صورة 47

**الجبر** أوجد المجهول في كل مما يلي.

8. $k - 9 = 9$	9. $45 \div v = 5$	10. $9 + 2 = 12 - q$
$k = 18$	$v = 9$	$q = 1$



### أعلى من المستوى التوسّع

**نشاط عملي** المواد: بطاقات فهرسة، ورق، قلم رصاص

اطلب من مجموعة مكونة من 3 طلاب أن يقوم كل منهم بكتابة 5 موضوعات، كل موضوع على بطاقة فهرسة مختلفة (تتضمن الأمثلة: الحيوانات أو رحلة إلى حديقة الحيوان أو الدرجات). ويقوم الطلاب بخلط جميع البطاقات الـ 15 وقلبهم على وجههم في كومة. ثم يقوم كل طالب باختيار بطاقة موضوع لا يتكرر المسائل الكلامية من الحياة اليومية المكونة من خطوتين. واطلب من الطلاب تبادل المسائل الكلامية مع زميل. ويقوم كلاهما بكتابة معادلة مع حرف للعدد المجهول وحل المسألة الكلامية. ثم اطلب من الطلاب التحقق من عمل زملائهم.

### ضمن المستوى المستوى 1

**نشاط عملي** المواد: ورق مربعات، قلم رصاص

اكتب المعادلة التالية على ورق مربعات:

$$5 \times 1 = 2 \div (2 \times 5)$$

اطلب من الطلاب تبرير ما إذا كانت المعادلات على كلا جانبي علامة يساوي متساويتين مع بعضهما البعض. تحدّ الطلاب لابتكار خمس معادلات مختلفة مكونة من عدة خطوات يتم تبسيطها إلى  $5 = 5$ .

### قريب من المستوى المستوى 2: التدخل التقيومي الإستراتيجي

**نشاط عملي** المواد: 16 بطاقة فهرسة، قلم رصاص

اطلب من الطلاب لعب لعبة: سباق المعادلات. سيقوم الطلاب بكتابة معادلات، واحدة على كل بطاقة فهرسة. واطلب منهم خلط الأوراق وقلبها على وجهها على الطاولة. يقلب اللاعب رقم 1 بطاقة معادلة واحدة، ويحاول كلا اللاعبين حل المعادلة باستخدام الرياضيات الذهنية. ويحصل أول لاعب يحل المعادلة بشكل صحيح على نقطة واحدة. يقلب اللاعب رقم 2 بطاقة المعادلة التالية، ويتم تكرار الخطوات. يستمر اللعب حتى يتم قلب جميع البطاقات وحلها. ويفوز اللاعب الذي يحصل على أكبر عدد من النقاط.

www.almanahj.com

## LA الدعم المتميز للتحصيل اللغوي للمتعلم

### المستوى الانتقالي

#### توضيح ما تعرفه

قسّم الطلاب إلى مجموعات ثنائية. وخصص التمرين 6 إلى زميل واحد والتمرين 7 إلى الآخر. اطلب من الطلاب إكمال المسألة المخصصة لهم، ثم تقديم الإجابة إلى زميلهم. بالإضافة إلى قول المعادلة الصحيحة، أرشد الطلاب إلى شرح لماذا تكون المعادلة الأخرى غير صحيحة. قدم قوالب الجمل التالية: **المعادلة الصحيحة هي \_\_\_\_\_ المعادلة الأخرى غير صحيحة لأن \_\_\_\_\_.**

### مستوى التوسّع

#### تنمية اللغة الشفهية

راجع التمرينين 8 و 9 مع الطلاب. وفي كل تمرين، اسأل، **ما العملية؟ ما العدد المجهول؟ ما قيمة العدد المجهول؟** قدم قوالب الجمل التالية لإجابات الطلاب: **العملية هي \_\_\_\_\_ الحرف \_\_\_\_\_ هو العدد المجهول. قيمة العدد المجهول هي \_\_\_\_\_.** اكتب معادلات إضافية على اللوحة لمواصلة النشاط.

### المستوى الناشئ

#### استمع وحدد

اكتب:  $n = 8 - 3 \times 5$ . أشر إلى رمز الضرب ( $\times$ ) واسأل، **ماذا نفعّل أولاً؟ نضرب** أشر إلى رمز الطرح ( $-$ ) واسأل، **ماذا نفعّل بعد ذلك؟ نطرح** أشر إلى حرف  $n$  واسأل، **ما العدد المجهول؟  $n$  ما قيمة  $n$ ؟** كرر النشاط باستخدام المعادلات الأخرى المكونة من خطوتين. ذكر الطلاب بالرجوع إلى قائمة ترتيب العمليات في دفتر الرياضيات لمساعدتهم على الحل.



# 5 تلخيص الدرس

## واجباتي المنزلية

قم بتعيين الواجب المنزلي بعد إكمال الدرس بنجاح. يمكن للطلاب الذين يستوعبون المفاهيم تجاوز قسم **مساعد الواجب المنزلي**.

## حل المسائل

10.م الماثرة في حل المسائل

**التمارين 5-8** اطلب من الطلاب وصف الخطوات التي استخدموها لحل كل مسألة بكلمات من عندهم. وينبغي عليهم مناقشة ما يمثله كل عدد مجهول في التمارين 5-8 مع زميل.

**LA** للحصول على دعم بلغات إضافية، استخدم أنشطة التدريس المتميز في الصفحة السابقة.

## تمرين على الاختبار

### تشخيص أخطاء الطلاب

قد تشير توجهات الصف نحو الإجابات الخاطئة إلى وجود أخطاء أو سوء فهم شائعين بين الطلاب.

- A معادلة غير صحيحة  
B علامة القسمة، و 5 و y غير صحيحين  
C صحيح  
D تم تغيير موضع 4 و 8 والخلط بين الضرب والقسمة

### التقويم التكويني

**فكر - اعمل في ثنائيات - شارك اكتب المعادلة التالية على اللوحة:**

$$(10 - 8) \times h = 4$$

اطلب من الطلاب إيجاد العدد المجهول.  $h = 2$  ثم اطلب من الطلاب مشاركة الخطوات التي استخدموها لحل المعادلة مع زميل. وناقش قيمة العدد المجهول، مع الصف بأكمله.

www.almanahj.com

اسم: \_\_\_\_\_

**الدرس 8**  
حل المسائل الكلامية  
المكونة من خطوتين

**مساعد الواجب المنزلي**

اشترت خديجة 8 لترات من عصير الفراولة. وتم اشترت نصف هذه الكمية من اللترات من عصير التوت، ثم اشترت لترًا إضافيًا من عصير التوت، كم عدد لترات عصير التوت الذي مع خديجة؟

اكتب معادلة باستخدام رمز للمجهول، ثم أوجد الحل.

التوت الذي تم شراؤه:  $8 \div 2 + 1 = q$  (المجهول)  
التوت الذي تم شراؤه:  $4 + 1 = 5$

إذًا،  $8 \div 2 + 1 = 5$ ، لدى خديجة 5 لترات من عصير التوت.

**تحقق** استخدم الرياضيات الذهنية للتحقق من مدى صحة الحل.  
اطرح لترا واحدًا اشترته خديجة من العدد الإجمالي،  $5 - 1 = 4$  و 4 نصف 8.  
توضح الأعداد مدى صحة المسألة، الإجابة صحيحة.

**تمرين**  
الجبر أوجد كل المجهول في كل.

1.  $48 \div 6 + m = 11$   
 $m = 3$

2.  $37 - 9 = h \times 4$   
 $h = 7$

3.  $20 + 20 = 4 \times w$   
 $w = 10$

4.  $(4 + 2) \times r = 54$   
 $r = 9$

**حل المسائل النموذجية: 5-8**

**ممارسات في الرياضيات** التحقق من مدى صحة الحل اكتب معادلة باستخدام حرف للمجهول. ثم حلها. وتحقق في النهاية من مدى صحة الحل.

5. تم التقاط صورة لطريق كرة القدم، يوجد 3 صفوف من اللاعبين بواقع 8 لاعبين في كل صف. ويحتوي الصف الرابع على 6 لاعبين. كم عدد اللاعبين الموجودين في صورة الفريق؟  
**لأعبًا  $3 \times 8 + 6 = p$ ;  $3 \times 8 + 6 = 30$**

6. أعدت السيدة سها 15 فطيرة، قسمتهم بين خميس وفارس وجاسم بالتساوي. أكل خميس وفارس جميع فطائرهم، بينما لم يأكل جاسم إلا بعضها. تبنت فطيرتان في طبق جاسم. كم عدد الفطائر التي أكلها؟  
**كلمات هجاء  $15 \div 3 - 3 = 2$ ;  $15 \div 3 - x = 2$ ؛ أكل جاسم 3 فطائر.**

7. لدى فاطمة 83 كلفة هجاء لتدريسهم في 8 أسابيع. تطلبت بالعمل 3 كلمات منها، سوف تدرس عدد الكلمات نفسه كل أسبوع. كم عدد كلمات الهجاء التي ستدرسها فاطمة كل أسبوع؟  
**كلمات هجاء  $10 = 83 - 3$ ؛  $83 - 3 \div 8 = s$**

8. اشترى عمر 6 مجموعات من البطاقات مقابل 2 AED لكل مجموعة، ما المبلغ الذي سيستعيده عمر إذا دفع ثلاث أوراق نقدية قيمة كل منها 5 AED؟  
**متبقية  $3 = 6 \times 2 - (3 \times 5)$ ؛  $15 - 15 = 0$ ؛  $15 - 15 = 0$ ؛  $15 - 15 = 0$**

**تمرين على الاختبار**

9. حل حارب خمسة أسئلة. حصل على 8 درجات في الـ 4 أسئلة الأولى. وحصل على 9 درجات في السؤال الخامس. حصل على مجموع 41 درجة. أي من المعادلات التالية يُنقل الحالة؟

Ⓐ  $41 \div 5 = y$       Ⓞ  $4 \times 8 + y = 41$   
Ⓑ  $8 \times 4 \div 5 = y$       Ⓟ  $41 \div 4 + y = 8$

اسم: \_\_\_\_\_

**الدرس 8**  
حل المسائل الكلامية  
المكونة من خطوتين

**مساعد الواجب المنزلي**

اشترت خديجة 8 لترات من عصير الفراولة. وتم اشترت نصف هذه الكمية من اللترات من عصير التوت، ثم اشترت لترًا إضافيًا من عصير التوت، كم عدد لترات عصير التوت الذي مع خديجة؟

اكتب معادلة باستخدام رمز للمجهول، ثم أوجد الحل.

التوت الذي تم شراؤه:  $8 \div 2 + 1 = q$  (المجهول)  
التوت الذي تم شراؤه:  $4 + 1 = 5$

إذًا،  $8 \div 2 + 1 = 5$ ، لدى خديجة 5 لترات من عصير التوت.

**تحقق** استخدم الرياضيات الذهنية للتحقق من مدى صحة الحل.  
اطرح لترا واحدًا اشترته خديجة من العدد الإجمالي،  $5 - 1 = 4$  و 4 نصف 8.  
توضح الأعداد مدى صحة المسألة، الإجابة صحيحة.

**تمرين**  
الجبر أوجد كل المجهول في كل.

1.  $48 \div 6 + m = 11$   
 $m = 3$

2.  $37 - 9 = h \times 4$   
 $h = 7$

3.  $20 + 20 = 4 \times w$   
 $w = 10$

4.  $(4 + 2) \times r = 54$   
 $r = 9$

**حل المسائل النموذجية: 5-8**

**ممارسات في الرياضيات** التحقق من مدى صحة الحل اكتب معادلة باستخدام حرف للمجهول. ثم حلها. وتحقق في النهاية من مدى صحة الحل.

5. تم التقاط صورة لطريق كرة القدم، يوجد 3 صفوف من اللاعبين بواقع 8 لاعبين في كل صف. ويحتوي الصف الرابع على 6 لاعبين. كم عدد اللاعبين الموجودين في صورة الفريق؟  
**لأعبًا  $3 \times 8 + 6 = p$ ;  $3 \times 8 + 6 = 30$**

6. أعدت السيدة سها 15 فطيرة، قسمتهم بين خميس وفارس وجاسم بالتساوي. أكل خميس وفارس جميع فطائرهم، بينما لم يأكل جاسم إلا بعضها. تبنت فطيرتان في طبق جاسم. كم عدد الفطائر التي أكلها؟  
**كلمات هجاء  $15 \div 3 - 3 = 2$ ;  $15 \div 3 - x = 2$ ؛ أكل جاسم 3 فطائر.**

7. لدى فاطمة 83 كلفة هجاء لتدريسهم في 8 أسابيع. تطلبت بالعمل 3 كلمات منها، سوف تدرس عدد الكلمات نفسه كل أسبوع. كم عدد كلمات الهجاء التي ستدرسها فاطمة كل أسبوع؟  
**كلمات هجاء  $10 = 83 - 3$ ؛  $83 - 3 \div 8 = s$**

8. اشترى عمر 6 مجموعات من البطاقات مقابل 2 AED لكل مجموعة، ما المبلغ الذي سيستعيده عمر إذا دفع ثلاث أوراق نقدية قيمة كل منها 5 AED؟  
**متبقية  $3 = 6 \times 2 - (3 \times 5)$ ؛  $15 - 15 = 0$ ؛  $15 - 15 = 0$ ؛  $15 - 15 = 0$**

**تمرين على الاختبار**

9. حل حارب خمسة أسئلة. حصل على 8 درجات في الـ 4 أسئلة الأولى. وحصل على 9 درجات في السؤال الخامس. حصل على مجموع 41 درجة. أي من المعادلات التالية يُنقل الحالة؟

Ⓐ  $41 \div 5 = y$       Ⓞ  $4 \times 8 + y = 41$   
Ⓑ  $8 \times 4 \div 5 = y$       Ⓟ  $41 \div 4 + y = 8$

#### التركيز

قم بحل مسائل مكونة من خطوتين من الحياة اليومية باستخدام العمليات الأربعة الجمع والطرح والضرب والقسمة (مثلاً، باستخدام الرسومات والمعادلات مع رمز للعدد المجهول لتمثيل المسألة).

#### العمليات الرياضية

- 1 فهم طبيعة المسائل والمثابرة في حلها.
- 2 التفكير بطريقة تجريدية وكمية.
- 4 استخدام نماذج الرياضيات.
- 5 استخدام الأدوات الملائمة بطريقة إستراتيجية.

#### الترباط المنطقي

##### الربط بالموضوعات الرئيسية

الربط بمجال التركيز المهم التالي: 1. تطوير فهم الضرب والقسمة وإستراتيجيات الضرب والقسمة في نطاق الأعداد حتى 100.

#### الدقة

تزداد صعوبة التمارين مع تقدّم الدرس. ومع ذلك، قد يتباين تفكير الطلاب الفردي خلال العمليات الحسابية الموسّعة.

#### مستويات الصعوبة

- |                              |                         |
|------------------------------|-------------------------|
| المستوى 1 استيعاب المفاهيم   | تمارين على الإستراتيجية |
| المستوى 2 تطبيق المفاهيم     | التمارين 1-4            |
| المستوى 3 التوسع في المفاهيم | التمارين 5-9            |

#### هدف الدرس

أن يستخدم الطلاب التفكير المنطقي في حل المسائل.

#### تطوير الإستراتيجية

##### ما الإستراتيجية؟

**التفكير المنطقي** في هذا الدرس، يقوم الطلاب بالتفكير بطريقة تجريدية وكمية لحل المسائل.

#### إستراتيجيات أخرى

الإستراتيجيات الأخرى التي تم تدريسها والتي ربما يختار الطلاب استخدامها والموجودة في صفحة مراجعة الإستراتيجيات هي:

- تحديد المعلومات الإضافية أو المفقودة
- عمل جدول
- البحث عن نمط
- استخدام النماذج

#### الإستراتيجية التعليمية للتحصيل اللغوي

LA

##### الدعم التعاوني: التمثيل بنفسك

وجّه الطلاب إلى تمثيل تمرين على الإستراتيجية. قم بعمل بطاقات عنونة للطلاب الذين يلعبون أدوار الأطفال: صالح وماجد وفهد وإبراهيم. وأقنعة بسيطة أو عصابات للرأس للطلاب الذين يمثلون كل نوع من الحيوانات الأليفة: أرنب وسمكة وطيّار وقط.

قم بتمثيل استخدام عبارات "إذا - فإذا" في الاستنتاج المنطقي. قُل، **إذا كان صالح يمتلك قطًا، فإذا هو لا يمتلك أرنبًا أو سمكة أو طائرًا. اطلب من القط الوقوف بجانب صالح. واكتب قالب العبارة التالي للطلاب لقراءته بصوت عالٍ: "إذا كان فهد لا يمتلك طائرًا أو سمكة، فإذا هو يمتلك \_\_\_\_\_." اطلب من الأرنب الوقوف بجانب فهد. ساعد الطلاب في تشكيل عبارات "إذا - فإذا" عن الطفلين الآخرين في التمرين وأكمل سيناريو مثلها بنفسك.**

إذا احتاج الطلاب مساعدة إضافية في اللغة، فاستخدم الأنشطة التعليمية المتميزة الواردة في الصفحة 555A.

## مراجعة مسألة اليوم

تتكلف كل قبعة مبلغ قدره Dh9. ويتكلف كل وشاح مبلغ أقل من كل قبعة بقيمة Dh4. ما التكلفة الإجمالية للـ 7 قبعات والـ 9 أوشحة؟  
اكتب جملة عددية لكل خطوة. **7 قبعات  $\times$  AED9 = AED63 للقبعات؛**  
**AED9 - AED4 = AED5 لكل وشاح؛ 9 أوشحة  $\times$  AED5 = AED45**  
**للأوشحة؛ AED63 + AED45 = AED108**

**م.4** **استخدام نماذج الرياضيات** كلف الطلاب بالنظر مجددًا إلى المسألة التي قاموا بحلها. وناقش الخطوات والجميل العددية التي استخدمها الطلاب لحل المسألة، مع الصف بأكمله. اطلب من الطلاب التفكير في مدى صحة النتائج.

## تدريب سريع

استخدم هذا النشاط ليكون بمثابة مراجعة سريعة وتقويم للدرس السابق.  
تتوفر مراجعة إضافية في نهاية الوحدة.

## التهيئة

### ستحتاج إلى

• قطع العدّ

قسّم الطلاب إلى مجموعات ثنائية أو مجموعات صغيرة. وقدم لكل مجموعة 30 قطعة عد. اكتب المسألة التالية على اللوحة.

تقوم موزة بعمل مواد كتيبات القصاصات وشحنها إلى العملاء. وهي تمتلك 30 حقيبة من مواد كتيبات القصاصات، وتضع الحقائق داخل صناديق بحيث يكون هناك 6 حقائق في كل صندوق. وقامت بشحن صندوقين لعمل. فكم عدد الصناديق المتبقية؟

استخدم قطع العد لتمثيل المسألة. وقسم 30 قطعة عد إلى مجموعات بحيث تكون هناك 6 قطع في كل مجموعة. وتقوم هذه المجموعات بتمثيل الصناديق التي وضعت فيها موزة مواد كتيبات القصاصات. كم عدد الصناديق التي وضعت فيها مواد كتيبات القصاصات؟ **5 صناديق**

قامت موزة بشحن صندوقين. اطرح اثنين من المجموعات. كم عدد الصناديق المتبقية؟ **3 صناديق**

اكتب معادلة تمثل هذا الموقف.  **$30 \div 6 - 2 = 3$**

www.almanahj.com

## تعلم الإستراتيجية

كَلَّف الطلاب بقراءة المسألة الموجودة بصفحة كتاب الطالب. وأرشدهم إلى خطوات حل المسائل.

**1 الفهم** باستخدام الأسئلة، راجع الحقائق التي يعرفها الطلاب وما يحتاجون لإيجاده.

**2 التخطيط** اطلب منهم مناقشة إستراتيجيتهم.

**3 الحل** **5-0-4** **استخدام الأدوات المناسبة** وجّه الطلاب في استخدام التفكير المنطقي لحل المسألة. واطلب منهم إيجاد قيمة كل تعبير. وضح للطلاب أنه يمكنهم استخدام جدول للمساعدة في تنظيم المعلومات. وهم يعلمون أن قيمة التعبير الذي كتبه عليّ هو 13 وأن  $3 + 5 \times 2 = 13$ . اطلب منهم كتابة "نعم" في الخلية التي تتوافق مع تعبير علي وهو  $3 + 5 \times 2$  وضع علامات X في الخلايا التي تتوافق مع تعبير علي وهو التعبيرين الآخرين. ويمكنهم العمل لإكمال الجدول باستخدام أدلة أخرى.

**4 التحقق** كَلَّف الطلاب بالنظر مجددًا إلى المسألة للتأكد من أن الإجابة تلائم الحقائق المقدمّة.

## تمرين على الإستراتيجية

**1 الفهم** باستخدام الأسئلة، راجع الحقائق التي يعرفها الطلاب وما يحتاجون لإيجاده.

**2 التخطيط** **1-0-4** **المثابرة في حل المسائل المسائل** اطلب منهم مناقشة إستراتيجيتهم.

**3 الحل** وجّه الطلاب في استخدام التفكير المنطقي لحل المسألة. إذا واجه الطلاب صعوبة، فاطلب منهم استخدام جدول للمساعدة في تنظيم المعلومات.

**4 التحقق** كَلَّف الطلاب بالنظر مجددًا إلى المسألة للتأكد من أن الإجابة تلائم الحقائق المقدمّة.

www.almanahj.com

الاسم \_\_\_\_\_

**استقصاء حل المسائل**  
الإستراتيجية: استخدام التفكير المنطقي

**الدرس 9**  
السؤال الأساسي  
كيف يمكن استخدام الخواص والمعادلات لتجميع الأعداد؟

**تعلم الإستراتيجية**

كتب كلٌّ من حمدة وعائشة وحصّة تعبيرًا مختلفًا. كانت التعبيرات  $3 + 5 \times 2$  و  $(5 + 3) \times 2$  و  $2 \times 5 + 2$  و  $3 \times 5 + 2$  قيمة حاصل تعبير عائشة تساوي 13. بينما قيمة حاصل تعبير حصّة عدد زوجي. ما التعبير الذي كتبه كل فتاة؟

**1 الفهم** ما المعطيات التي تعرفها؟  
بعض الأشخاص ليس لديها حيوانات أليفة.  
حيوان صالح الأليف هو قطّة.  
ما الذي تحتاج لإيجاده؟  
الحيوان الأليف الذي يمتلكه كل شخص

**2 التخطيط** سأقوم برسم جدول لتنظيم ماذا أعرف. كما سأستخدم التفكير المنطقي وهذه المعلومات لمطابقة الحيوانات الأليفة مع الأشخاص.

**3 الحل**

	صالح	ماجد	فهد	إبراهيم
قطّة	نعم	X	X	X
أرنّب	X	X	نعم	X
السّمك	X	X	X	نعم
الطائر	X	نعم	X	X

يمتلك صالح قطّة ويمتلك ماجد طائرًا ويمتلك فهد أرنّبًا ويمتلك إبراهيم سمكة.

**4 التحقق** هل إجابتك صحيحة؟ فسر ذلك.  
نعم: الإجابة النموذجية: قوت بتنظيم ماذا أعرف في جدول.  
كما استنتجت ما كان مجهولًا.

الاسم \_\_\_\_\_

**استقصاء حل المسائل**  
الإستراتيجية: استخدام التفكير المنطقي

**الدرس 9**  
السؤال الأساسي  
كيف يمكن استخدام الخواص والمعادلات لتجميع الأعداد؟

**تعلم الإستراتيجية**

كتب كلٌّ من حمدة وعائشة وحصّة تعبيرًا مختلفًا. كانت التعبيرات  $3 + 5 \times 2$  و  $(5 + 3) \times 2$  و  $2 \times 5 + 2$  و  $3 \times 5 + 2$  قيمة حاصل تعبير عائشة تساوي 13. بينما قيمة حاصل تعبير حصّة عدد زوجي. ما التعبير الذي كتبه كل فتاة؟

**1 الفهم** ما المعطيات التي تعرفها؟  
قيمة حاصل تعبير عائشة هي 13.  
قيمة حاصل تعبير حصّة عدد زوجي.  
ما الذي تحتاج لإيجاده؟  
التعبير الذي كتبه كل فتاة

**2 التخطيط** سأستخدم التفكير المنطقي في حل المسائل.

**3 الحل** أوجد قيمة كل تعبير.

$3 + 5 \times 2 = 13$	عائشة
$(3 + 5) \times 2 = 16$	حصّة
$3 \times 5 + 2 = 17$	حمدة

	حصّة	عائشة	حمدة
$2 \times 5 + 3$	X	نعم	X
$2 \times (5 + 3)$	نعم	X	X
$2 + 5 \times 3$	X	X	نعم

**4 التحقق** هل إجابتك صحيحة؟ فسر ذلك.  
نعم: الإجابة النموذجية: تطابق قيمة كل تعبير الأدلة.

# 3 التمرين والتطبيق

## تطبيق الإستراتيجية

**RtI** استنادًا إلى ملاحظتك، يمكنك اختيار تعيين التمارين بحسب ما هو موضح في المستويات أدناه:

- **قريب من المستوى** خصّص التمارين 1، 5، 2، 7، 9.
- **ضمن المستوى** خصّص التمارين 1، 3، 9-5.
- **أعلى من المستوى** خصّص التمارين 2، 4، 9-5.

## 2.م التفسير بطريقة كمية

**التمرين 2** كم أنفق كل صديق؟ أنفق أحمد 85 AED؛ وأنفق أيمن 2.30 AED؛ وأنفق حسن 95 فلسات من أنفق أكبر مبلغ من المال؟ أيمن

## مراجعة الإستراتيجيات

### تحديد المعلومات الإضافية أو المفتقدة

ذُكر الطلاب بأنه أحيانًا قد لا تُقدّم إليهم معلومات كافية أو تُقدّم إليهم معلومات إضافية لحل المسألة.

### رسم جدول

ذُكر الطلاب أنه يمكنهم عرض المعلومات الواردة في جدول أو استخدام الجداول للمساعدة في حل المسائل.

### البحث عن نمط

ذُكر الطلاب بإمكانية حل المسائل عن طريق إيجاد نمط محدد.

## استخدام النماذج

ذُكر الطلاب بإمكانية حل المسائل باستخدام الأشياء/الرسومات.

## 1.م المثابرة في حل المسائل

**التمرين 5** اطلب من الطلاب وصف الخطوات التي استخدموها لحل المسألة، بكلمات من عندهم. الإجابة النموذجية:  $6 = 5 \div 30$  مجموعات من البذور؛ نمت ثلاث بذور من كل مجموعة؛  $18 = 3 \times 6$  ثمار طماطم.

## 2.م التفكير بطريقة كمية

**التمرين 7** ما المعلومات الإضافية التي تم تقديمها في المسألة الكلامية؟ يبيع المتنزّه الترفيهي تذاكر النزّهات في مجموعات من 10 و 15.

## 1.م فهم طبيعة المسائل

**التمرين 9** كيف يمكنك وصف ما تحاول إيجادها؟ الإجابة النموذجية: إذا تم عمل كل فطيرة بعدد 5 تفاحات، فسأقوم بقسمة  $18 = 5 \div 90$  فطيرة تفاح.

## التقويم التكويني

**رسم سريع** استخدم التفكير المنطقي لإكمال الجدول لحل المسألة التالية: يعيش عمر ومنصور وحمدان وطارق في شوارع الرمداد والصنوبر والقيقب والبوط. يعيش منصور في الرمداد ولا يعيش حمدان في الصنوبر. ويعيش عمر في القيقب. فما الشارع الذي يعيش فيه طارق؟ شارع الصنوبر

انظر الصفحة التالية للاطلاع على خيارات التدريس المتهين.

www.manahj.com

### مراجعة الإستراتيجيات

**استخدم الإستراتيجية التي تراها مناسبة لحل كل مسألة:**

- تحديد المعلومات الإضافية أو الناقصة.
- رسم جدول.
- البحث عن نمط.
- استخدام النماذج.

**5. ممارسات في الرياضيات** **التخطيط للحل** زرعت ياسمين 30 بذرة طماطم. نمت ثلاث بذور من كل 5 إلى نبتة طماطم. كم عدد نباتات الطماطم التي تمتلكها ياسمين؟

**18 نبتة طماطم**

**6.** يوجد 11 فرد كشافة في فريق. تحتوي الحافلة الخاصة بهم على 4 صفوف من المقاعد ويتسع كل صف لـ 3 أفراد كشافة. كم عدد أفراد الكشافة الذين يمكن أن تحلهم الحافلة؟

**12 فرد كشافة**

**7. ممارسات في الرياضيات** **استخدام الحس العددي** باعت مدينة الملاهي تذاكر الركوب في شكل مجموعة مكونة من 5 و 10 و 15 و 20 تذكرة. كم تبلغ تكلفة مجموعات التذاكر المكونة من 5 تذاكر إذا كان تكلفه 20 تذكرة 4 AED؟

**AED 1**

**8.** اشترت هيام 8 علب شرائط فئة الـ 5 شرائط. تكلفه كل علبه 2 AED. كم أنفقت على الشرائط؟

**AED 16**

**9. ممارسات في الرياضيات** **وضع خطة** تستطيع ميسون عمل فطيرتي تاج باستخدام التاج الموضح في الصورة. إذا كان لديها 9 أضغاف هذه الكمية، فكم عدد الفطائر التي يمكنها عملها؟

**18 فطيرة تاج**

### تطبيق الإستراتيجية

أوجد حل كل من المسائل التالية باستخدام التفكير المنطقي.

1. تضع سندية كتاب اللغة بجوار كتاب العلوم. وكتاب الرياضيات بجوار كتاب القراءة. ما الكتاب الذي بجوار كتاب اللغة. ما الترتيب المحتمل الوحيد؟

**الإجابة النموذجية: الرياضيات، القراءة، اللغة، العلوم**

2. **ممارسات في الرياضيات** **الاستنتاج** يضع ثلاثة أصدقاء تقودهم مغا لشراء لعبة تكلفها 5 AED. لدى أحمد 6 فلسات و 5 من فئة الربع. بينما لدى أيمن 8 فلسات و 6 من فئة الربع. ولدى حسن 5 فلسات. إذا تضى لديهم 10 فلسات، ما مقدار العملات المعدنية التي يمتلكها حسن؟

**فلس و 8 من فئة الربع**

3. يبلغ عمر حمدان أقل من 17 عامًا. يكون مجموع رقمين في عمره عددًا زوجيًا وأكبر من 4. لكن كلا الرقمين عدد فردي. كم يبلغ عمر حمدان؟

**15 عامًا**

4. أسياء أطول من هدى بـ 3 cm. بينما وفاء أطول من أسياء بـ 2 cm. إذا كان طول وفاء 138 cm، فكم يبلغ طول أسياء وهدى؟

**يبلغ طول هدى 133 cm وطول أسياء 136 cm.**

## أعلى من المستوى التوسّع

**نشاط عملي** المواد: ورق، قلم رصاص سيستخدم الطلاب المعلومات المقدمة في المخطط لعمل مسألة كلامية تستخدم المعلومات بطريقة مشابهة لتمرين أخرى في الدرس. اطلب من الطلاب مشاركة المسائل الكلامية مع الصف الدراسي.

	أبيض	أحمر	أخضر
محمود	نعم	X	X
نادر	X	X	نعم
أحمد	X	نعم	X

## ضمن المستوى المستوى 1

**نشاط عملي** المواد: لوحة ملصقات، أقلام تحديد اطلب من الطلاب العمل في مجموعات ثنائية لكتابة الخطوات اللازمة لاستخدام التفكير المنطقي لحل المسائل. وينبغي أن يكتب الطلاب هذه الخطوات على لوحة ملصقات كبيرة ليتم وضعها في الفصل الدراسي. وبعد كتابة الخطوات، ينبغي على الطلاب تبادل الخطوات مع مجموعة أخرى للتحقق من الوضوح. وينبغي على الطلاب استخدام خطوات التفكير المنطقي التي تم إنشاؤها من قبل مجموعة أخرى لحل المسألة التالية:

قرر مجلس الطلاب غسل السيارات لجمع التبرعات. وستكون التكلفة **AED6** للسيارات الكبيرة و **AED5** للسيارات الصغيرة. وحققت المجموعة مبلغًا قدره **AED60**. كم عدد السيارات الكبيرة والصغيرة التي غسلوها؟  
**5 سيارات كبيرة و 6 سيارات صغيرة**

## قريب من المستوى المستوى 2: التدخل التقوييم الإستراتيجي

**نشاط عملي** المواد: ورق تمثيل بياني، قلم رصاص اطلب من الطلاب اختيار مسألة كلامية من الدرس. وذكرهم بسرد كافة المعلومات التي يعرفونها من المسألة، وضع خطة، ثم استخدم جدول للحل. قد يكون من المفيد العمل كمجموعة لإعداد الجداول لعدد قليل من المسائل. ويمكن إنشاء الجداول على ورق مربعات كبير. ساعد الطلاب على إدراك أن أسماء الصفوف والأعمدة قابلة للتبديل.

[www.almanahj.com](http://www.almanahj.com)

## LA الدعم المتميز للتحصيل اللغوي

### المستوى الانتقالي

#### التعلم التعاوني

قدّم للطلاب نسخة من خريطة المفاهيم لحل المسائل والمتوفرة عبر الإنترنت وعمليات متنوعة من الفلسات (خمسة وعشرون فلسًا، وعشرة فلسات، وخمسة فلسات) للتمرين 2. اطلب من الطلاب العمل في مجموعات صغيرة لحل المسألة، باستخدام الفلسات للتمثيل. ذكر الطلاب بملء خرائط المفاهيم الخاصة بهم مع المتابعة. اطلب من المجموعات مشاركة عملية حل المسائل والحل مع بقية الصف الدراسي.

### مستوى التوسّع

#### الرؤوس المرقمة تعمل معًا

بالنسبة للتمرين 3، قسّم الطلاب إلى أربع مجموعات صغيرة، مرقمة 1-4. واطرح أسئلة على جميع الطلاب، ثم اطلب من المجموعات مناقشة المسألة والاتفاق على إجابة. اذكر عددًا بشكل عشوائي من (1-4). يكون للمجموعة التي تم تعيينها لهذا العدد إجابة تمثيلية للفريق. الإجابة النموذجية: **كيف تعلم أن عمر أحمد ليس أقل من 10؟ هناك رقمان في عمره. كيف نعلم أن عمر أحمد ليس 10؟ مجموع الرقمين أكبر من 4. هل يمكن أن يكون أحد الرقمين زوجيًا؟ لا، الرقمان فرديان.**

### المستوى الناشئ

#### تمثيلها بنفسك

لمساعدة الطلاب في التمرين ، قم بإعداد أربع بطاقات فهرسة لكل طالب. وكتب واحدة من المواد التالية على كل بطاقة: اللغة، والعلوم، والرياضيات، والقراءة. اقرأ المسألة بصوت عالٍ على الطلاب، مع التوقف لحمل بطاقة الفهرسة المناسبة بينما تنطق اسم كل كتابة في التمرين. واطلب من الطلاب استخدام البطاقات لتمثيل المعلومات المعطاة وتوجيه الطلاب في حل المسألة.



## واجباتي المنزلية

قم بتعيين الواجب المنزلي بعد إكمال الدرس بنجاح. يمكن للطلاب الذين يستوعبون المفاهيم تجاوز قسم **مساعد الواجب المنزلي**.

## حل المسائل

### 2-0 م التفكير بطريقة كميّة

**التمرين 4-1** اطلب من الطلاب فهم الكميات والعلاقات. واطلب من الطلاب مشاركة كيف قاموا بحل كل مسألة باستخدام التفكير المنطقي، في مجموعات صغيرة أو مع زملاء، مع الصف بأكمله. وبنبغي عليهم مراجعة خطتهم، وكيف قاموا بتنظيم المعلومات، وكيف تحققوا من عملهم.

**LA** للحصول على دعم بلغات إضافية، استخدم أنشطة التدريس المتميز في الصفحة السابقة.

### التقويم التكويني

**تمرين نهاية الحصة** اطلب من الطلاب حل هذه المسألة باستخدام التفكير المنطقي.

يمتلك كل من ماجد وعامر وجمال حيوانًا أليفًا. والحيوانات التي يملكونها هي أرنب وقط ووطائر. لا يمتلك الحيوان الذي يملكه عامر 4 أرجل. ولا يبيع الحيوان الذي يملكه جمال. فما الحيوان الذي يملكه ماجد؟ **الأرنب**

www.almanahj.com

### حل المسائل

**ممارسات في التفكير المنطقي**

**الاستنتاج** أوجد حل كل من المسائل التالية باستخدام التفكير المنطقي.

- تكلفة الجرانولا 45 درهماً والمكسبة 35 درهماً وعجلة السكوت 50 درهماً. قامت هناد بشراء نوعين مختلفين. دفعت قطعة معدنية من فئة 1 AED واستعدت 3 فلس. ما الذي اشترته هناد وما باقي نفودها؟  
**اشترت هناد جرانولا و سكوت واستعدت باقي 15 درهماً.**
- توجد أربع سيارات متوقفة بجانب بعضها البعض. السيارة الزرقاء غير موجودة في المنطقة الخالية الرابعة، بينما السيارة العضية موجودة في المنطقة الخالية الثالثة. وتوجد السيارة السوداء قبل السيارة الحمراء بمنطقتين خاليتين. ما ترتيب وقوف السيارات؟  
**أزرق، أسود، فضي، أحمر**
- يوجد 21 عجلة في متجر الدراجات. سيتم استخدام العجلات لصنع دراجات ثلاثية العجلات وأخرى ثنائية العجلات. سيكون عدد الدراجات ثلاثية العجلات نصف عدد الدراجات ثنائية العجلات. كم دراجة سيصنع من كل نوع من أنواع الدراجات؟  
**3 دراجات ثلاثية العجلات و 6 دراجات ثنائية العجلات**
- لدي عدنان 18 AED لينفقها، ما أكبر عدد من أي عنصر واحد يمكنه شراؤه؟  
**قبعة 9 AED  
كرة القاعدة 10 AED  
ساعة توقيت 9 AED  
البويو 6 AED  
زجاجة مياه 3 AED**

**6 زجاجات مياه**

### واجباتي المنزلية

**الدرس 9**

**حل المسائل: استخدام التفكير المنطقي**

#### مساعد الواجب المنزلي

لكل من حصة وغاية وعبير وريهام زُهِم المنضّل. ترتدي ريهام البناتيل والسراويل. بينما ترتدي غاية دائماً ملابس ذات لون أخضر. وترتدي حصة سروالاً، لكنها لا تحب اللون الأزرق. ولا ترتدي عبير السراويل إطلاقاً. ما نوع الملابس الذي قد ينتمي إلى كل فتاة؟

- الفهم**  
ما المعطيات التي تعرفها؟  
أعلم الملابس والألوان التي سترتديها كل فتاة.  
ما الذي تحتاج لإيجاده؟  
أحتاج لإيجاد نوع الملابس الذي ينتمي إلى كل فتاة.
- التخطيط**  
سأستخدم التفكير المنطقي في حل المسائل.
- الحل**

	السراويل الحمراء	السراويل الزرقاء	البناتيل الخضراء	البناتيل البنية
حصة	نعم	X	X	X
غاية	X	X	نعم	X
عبير	X	X	نعم	نعم
ريهام	نعم	نعم	نعم	نعم

يمكن أن تنتمي السراويل الحمراء إلى حصة والزرقاء إلى ريهام، بينما البناتيل الخضراء إلى غاية والبنية إلى عبير.

- التحقق**  
هل إجابتي صحيحة؟ نعم. تتطابق الأدلة مع الإجابة.



## المراجعة

استخدم هذه الصفحات لتقييم مدى فهم طلابك للمفردات والمفاهيم الأساسية الواردة في هذه الوحدة.

## مراجعة المفردات

اعرض مفردات هذه الوحدة وراجع المفردات الواردة على حائط المفردات الافتراضي. واطلب من الطلاب تكوين جملة باستخدام كل كلمة.

**LA** إستراتيجية دعم متعلمي اللغة الإنجليزية استخدم النشاط في التحقق من المفردات لتقويم قدرة الطلاب على توسيع مدى فهمهم.

## مراجعة المفاهيم

إذا احتاج الطلاب إلى تعزيز مهاراتهم بعد إكمال هذه الوحدة، فاستخدم الجدول التالي للتدخل التقويمي.

### RtI التشخيص وسبل الحل

التمارين	المفهوم	مراجعة الدروس
8-9	خاصية التوزيع	1-2
10-11	ضرب ثلاثة عوامل	3-4
12-13	كتابة التعبيرات	5
14-15	إيجاد قيم التعبيرات	6
16-17	كتابة المعادلات	7
18	اكتب معادلات لحل المسائل الكلامية المكونة من خطوتين	8

كتاب المعلم - أنشطة المستويين 1 و 2

www.almanahj.com

### مراجعة المفاهيم

استخدم خاصية التوزيع لإيجاد كل حاصل ضرب.

9.  $7 \times 7 = 49$       8.  $7 \times 6 = 42$

استخدم الأقواس لتجميع عاملين. ثم أوجد كل حاصل ضرب.

9.  $1 \times 3 \times 4 = 12$       10.  $2 \times 5 \times 3 = 30$

استخدم الأعداد والعمليات لكتابة كل عبارة كتعبير.

11. يتفاسم 5 أشخاص 45 AED بالتساوي      12. 6 طاولات توجد 4 أرجل في كل منها

$45 \div 5 = 9$        $6 \times 4 = 24$

الجبر أوجد قيمة كل تعبير إذا كان  $a = 4$  و  $b = 5$ .

13.  $3 + a = 7$       14.  $20 \div b + 5 = 9$

الجبر اكتب معادلة لتمثيل كل جملة.

15. في حال وجود 7 عربات في قطار ملاهي.      16. توجد مزهرتان تحتوي كل منهما على 3 زهور. ويوجد في كل عربة 3 مظاعد ومقعدان خاليان. إذا يوجد  $m$  مظعداً مشغولاً.

$2 \times 3 \times m = 30$        $7 \times 3 - 2 = m$

17. عدت لبياء 51 طائرًا في المنتزه. كان من بينهم سبع وعشرون إوزة وكان باقي الطيور من البط. طار البط في مجموعات يتكون كل منها من 8 بطات. كم عدد مجموعات البط التي كانت هناك؟ اكتب معادلة باستخدام حرف المجهول. ثم أوجد حلًا لها.

$b = 3$        $b = 24 \div 8 = 3$        $b = (51 - 27) \div 8 = 3$  مجموعات من البط

### مراجعة المفردات

استخدم بنك الكلمات أدناه لتكميل كل لغز.

التجميع      التوزيع      معادلة      أوجد قيمة

تعبير      العمليات


أقفي      رأسى

- جملة عديدة تستخدم علامة تساوي.
- الخاصية التي تسمح لك بتحليل عامل إلى 3. أعداد أصغر.
- عدد أو مجموعة من الأعداد والعمليات. لا يغير حاصل الضرب.
- رمز أو حرف يشير إلى المجهول.
- الجمع والطرح والضرب والقسمة.

# التفكير

## التفكير

دع الطلاب يعملوا في مجموعات صغيرة لإكمال خريطة المفاهيم. ثم اطلب من كل مجموعة عرض إجاباتها. وقارن بين أوجه الاختلاف والتشابه بين خرائط المفاهيم لكل مجموعة.

يمكنك اختيار أن يستخدم الطلاب خريطة مفاهيم مختلفة لأغراض المراجعة.

## حل المسائل

ذكر الطلاب بخطة الخطوات الأربع لحل المسائل. بالنسبة للطلاب الذين يحتاجون إلى مساعدة في فهم القراءة، اطلب منهم التعاون مع زملاء آخرين لهم لقراءة المسألة بصوت مرتفع قبل محاولة تطبيق خطة الخطوات الأربع.

## تمرين على الاختبار

### تشخيص أخطاء الطلاب

قد تشير توجهات الصف نحو الإجابات الخاطئة إلى وجود أخطاء أو سوء فهم شائعين بين الطلاب.

- A تم الطرح بشكل خاطئ
- B تم الطرح بشكل خاطئ
- C إجابة صحيحة
- D تم الطرح بشكل خاطئ

www.almanahj.com

## التفكير

استخدم ما تعلمته عن الخواص والمعادلات لإكمال خريطة المفاهيم.

تتوفر إجابات نموذجية.

مسألة من الحياة اليومية  
يعلن فهد مبيعات أحد متاجر أجهزة كمبيوتر عن مبيعات ربط مضلعة الأطراف مقابل AED 5 ومانشير مقابل AED 8 ومطارق مقابل AED 9.

مثال على خاصية التجميع

اشترى عيسى منشارًا واحدًا ومفتاحي ربط مضلعي الأطراف. ما المبلغ الذي دفعه؟

اكتب عن المعادلة.

$$AED 8 + (2 \times AED 5) = n$$

دفع عيسى AED 18.

السؤال الأساسي

كيف يمكن استخدام الخواص والمعادلات لتجميع الأعداد؟

المفردات  
تحليل التعبير العمليات الأكواس الهلالية أوجد قيمة علامة يساوي (=)

مثال على خاصية التوزيع

كم دفع ماجد مقابل 6 مناشير؟

اكتب المعادلة.

$$6 \times AED 8 = y$$

دفع ماجد AED 48.

فكر الآن في السؤال الأساسي واكتب إجابتك أدناه.

راجع عمل الطلاب.

## حل المسائل النموذجية: 19, 20

18. وضع مدير المبنى مقايض أبواب جديدة على 4 أبواب في كل شقة. كان هناك 3 شقق في كل طابق و3 طوابق في المبنى السكني. كم عدد مقايض الأبواب الجديدة التي ركبها؟

مقبض باب 36:  $4 \times 3 \times 3 = c$

19. سجل أحد فرق كرة القدم نقطة واحدة. وسجل 4 نقاط إضافية. سجل الفريق الآخر ضعف عدد هذه النقاط. كم عدد النقاط التي سجلها الفريق الآخر؟

نقاط 10:  $(1 + 4) \times 2 = p$

20. كانت سمية بحاجة إلى كتابة معادلة. اشرح هل كتبت معادلة بالفعل أم لا.

لا: الإجابة النموذجية: لتصبح معادلة، تحتاج إلى علامة تساوي.

21. تبلغ عليها X عامًا. فتحة أصغر من عليها بـ 3 أعوام. إذا كان  $X = 12$ ، فكم يبلغ عمر فتحة؟

Ⓐ 7 أعوام  
Ⓑ 8 أعوام  
Ⓒ 9 أعوام  
Ⓓ 10 أعوام