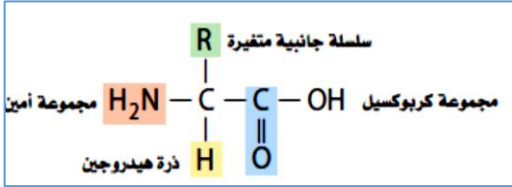


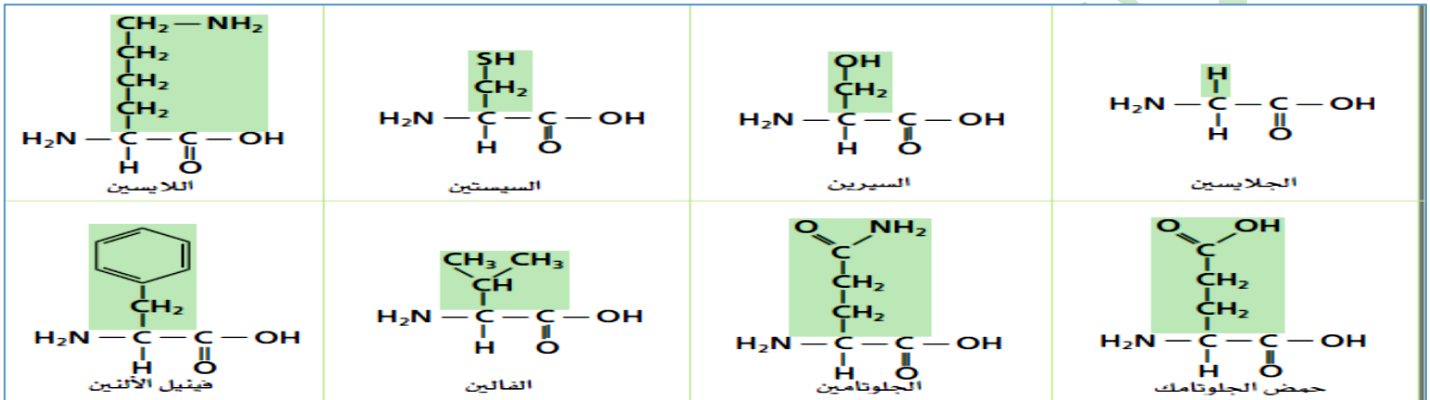
المركبات العضوية الحيوية البروتينات

تركيب البروتين:

تعريف البروتينات: هي بوليمرات عضوية تتكون من أحماض أمينية مرتبطة معا بترتيب معين البروتين مطويا في تركيب معين ثلاثي الأبعاد ليعمل (علل)
- **الأحماض الأمينية:** هي جزيئات عضوية توجد فيها مجموعة الأمين ومجموعة الكربوكسيلية الحمضية تركيبها العام يوجد في كل حمض أميني ذرة كربون مركزية محاطة بأربع مجموعات:



ملاحظة: يؤدي تنوع السلاسل الجانبية (R) الى تنوع في الخواص الفيزيائية والكيميائية الوظائف العديدة والمختلفة



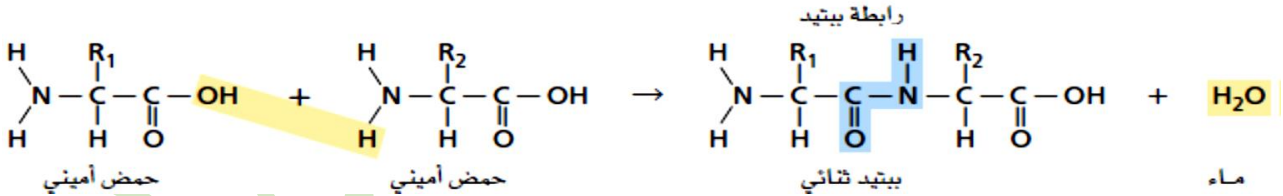
تعريف الرابطة الببتيدية: (مجموعة الاميد)

هي رابطة تجمع بين حمضين أميين صيغتها وتسمى أيضا مجموعة الاميد الوظيفية في الببتيد

طريقة تكونها (بتفاعل تكثيف) تفاعل حمضين اميين

تتحد مجموعة حمض الكربوكسيل في الحمض الأميني الأول مع مجموعة الأمين في الحمض الأميني الثاني لتتكون مجموعة الأميد (الببتيد) الوظيفية وينطلق (جزئ H₂O)

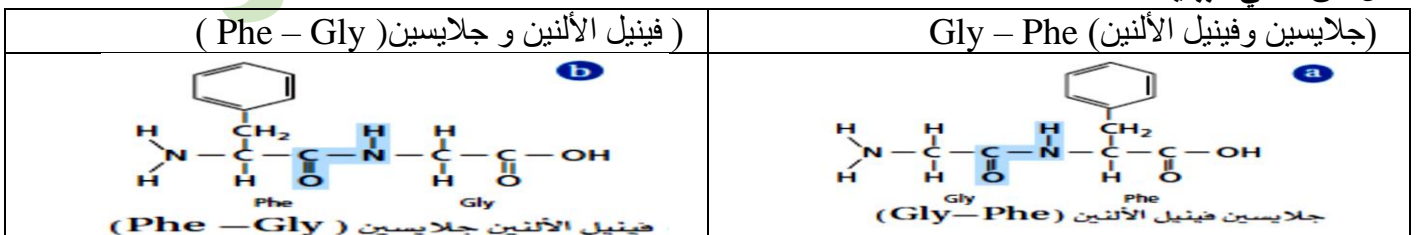
مثال



- تعريف الببتيد سلسلة المكونة من حمضين أميين أو أكثر مرتبطة معا بروابط ببتيدية

- تعريف ثنائي الببتيد المكون من حمضين أميين مرتبطين معا برابطة ببتيدية

مثال عن ثنائي الببتيد



المركبين مكونين من الحمضين الأميين نفسهما جلايسين وفينيل الألتين.

الاختلاف مختلفين في ترتيب الارتباط بين الحمضين الأميين كل حمض يساهم بمجموعة وظيفية مختلفة

ملاحظة: ثنائي الببتيد يستطيع الارتباط مع حمض أميني آخر مكونة المزيد من الروابط الببتيدية لأنه توجد مجموعتين حرة في الأطراف
عند الخلايا الحية: دائما ببناء الببتيدات بإضافة أحماض أمينية إلى الطرف الكربوكسيلي

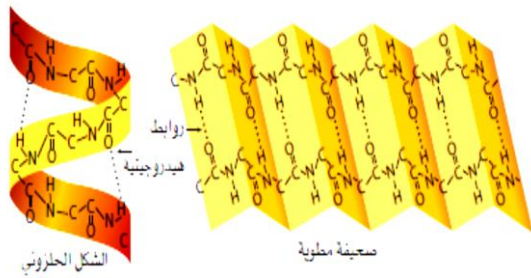
ملاحظة (2 - 9) يسمى ببتيد مثل ثنائي الببتيد أو ثلاثي الببتيد وغيرها.
(10 - 49) يسمى عديد ببتيدي.
(50 - 1000) يسمى بروتين.

تعريف عديد الببتيد: سلسلة مكونة من عشرة أحماض أمينية أو أكثر متصلة معا بروابط ببتيدية
(علل) وجود عدد محدود فقط من تراكيب البروتينات لأن هناك 20 حمضا أمينيا فقط تستطيع تكوين البروتين

البروتين يمكن أن يحتوي على 50 إلى 1000 حمض أميني مرتبة في أي تسلسل (ترتيب)
لحساب عدد التسلسلات الممكنة لهذه الأحماض الأمينية 20^n
(n) عدد الأحماض الأمينية المطلوبة - 20 حمضا أمينيا الموجودة

مثال

ثنائي الببتيد الذي يتكون من حمضين أمينيين فقط يمكن له 20^2 أو 400 تسلسل محتمل
مثال أصغر البروتينات يحوي 50 حمضا أمينيا ولديه 20^{50} أو أكثر احتمالا
لكن خلايا الانسان تصنع ما بين 80000 و 100000 بروتين مختلف فقط



تركيب البروتين الثلاثي الأبعاد:

يتحدد الشكل الثلاثي الأبعاد عن طريق التفاعل بين الأحماض الأمينية.

اشكال أجزاء عديد الببتيد ثلاثية الأبعاد

- 1 - في صورة شكل حلزوني يشبه لفات حبل الهاتف
- 2 - هيئة صحيفة مطوية عدة طيات
- 3 - عدة حلزونات وصحائف ولفات
- 4 - للعديد من البروتينات شكل كروي غير منتظم
- 5 - شكل ليفي طويل.

(علل) شكل البروتين مهم لعمله

لأنه إذا تغير شكل البروتين فقد لا يستطيع أن يقوم بعمله داخل الخلية

ملاحظة ان انتظام السلاسل في اماكنها بسبب وجود الروابط الهيدروجينية بينها

تعريف (التمسخ) هي العملية التي تشوه تركيب البروتين او تمزقه أو تتلفه.

ينتج عن التغيرات في: 1 - درجة الحرارة 2 - قوة الرابطة الايونية 3 - الرقم PH 4 - العوامل الأخرى

كلها تؤدي انفكك طيات البروتين ولولبه

الطبخ: فعند سلق بيضة تصبح صلبه (علل)

لأن زلال البيضة الغني بالبروتين يتصلب نتيجة تغير الخواص

ملاحظة البروتينات تعمل بصورة صحيحة فقط عندما تكون مطوية وتصبح غير فعالة إذا حصل لها تحويل في خواصها الطبيعية.

وظائف البروتينات المتعددة:

تؤدي البروتينات أدوارا كثيرة في الخلايا الحية فهي تقوم:

- 1- تسريع التفاعلات الكيميائية.
- 2 - نقل المواد.
- 3- تنظيم العمليات الخلوية.
- 4 - الدعم الهيكلي للخلايا.
- 5- الاتصالات داخل الخلايا وفيما بينها.
- 6 - تسرع حركة الخلايا.
- 7- تعمل عمل المصدر طاقة عند شح المصادر الأخرى.

1-تسريع التفاعلات

كثير من البروتينات انزيمات (عوامل محفزة)

تعريف الانزيمات

هي عوامل محفزة حيوية تعمل على تسريع التفاعلات الكيميائية دون أن يستهلك حيث تخفض طاقة تنشيط التفاعل

تعريف المادة الخاضعة لفعل الانزيم هي مادة متفاعلة في تفاعل يعمل فيه الانزيم عمل عامل المحفز

ترتبط المواد الخاضعة لفعل الانزيم بمواقع معينة على الانزيم عبارة عن جيوب أو شقوق

الموقع النشط للانزيم هي النقطة التي ترتبط بها المواد الخاضعة لفعل الانزيم.

التلاؤم المستحث

بعدما ترتبط المادة الخاضعة بالموقع النشط يغير الموقع شكله قليل ليحيط بها بصورة أكثر احكاما

مركب معقد الانزيم والمادة الخاضعة

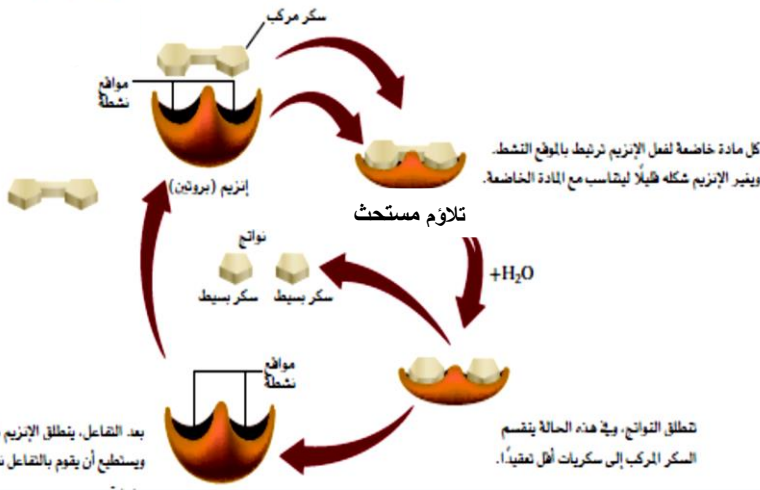
هو التركيب المتكون من الانزيم والمادة الخاضعة عند الارتباط

ما تأثير الحجم الكبير والتنوع الكبير للسلاسل الجانبية للانزيم

- الحجم الكبير لجزيئات الانزيم يمكنها من تكوين روابط متعددة مع المواد الخاضعة
- التنوع الكبير للسلاسل الجانبية يسمح للأحماض الأمينية في الانزيم بتكوين عدد من القوى بين الجزيئية مع المادة الخاضعة تخفض هذه القوى طاقة التنشيط اللازمة للتفاعل وتكسر روابط المادة الخاضعة وتتحول نواتج

انظر الرسمة أعلاه

مثال انزيم البابين: يكسر جزيئات البروتين الى احماض امينية (مطري اللحم)



بعد التفاعل، يتطلق الإنزيم بشكله الأصلي ويستطيع أن يقوم بالتفاعل نفسه مرات

تطلق النواتج، وبهذه الحالة ينقسم السكر المركب إلى سكريات أقل تعقيداً.

أسئلة تدريبية

1. العناصر الأساسية في الحمض الأميني هي
2. تختلف الحموض الأمينية فيما بينها في مجموعة
3. أكمل : المجموعات الوظيفية في الحمض
4. اكتب مثالا لكل مما يلي مع كتابة صيغته البنائية:

حمض أميني تكون مجموعة R - تحتوي على ذرة S	حمض أميني تكون مجموعة R - فيه عبارة عن H
حمض أميني تكون مجموعة R - تحتوي مجموعة كربوكسيل	حمض أميني تكون مجموعة R - تحتوي بنزين
حمض أميني تكون مجموعة R - تحتوي مجموعة هيدروكسيل	حمض أميني تكون مجموعة R - تحتوي مجموعة أميد

5. علل تنوع السلاسل الجانبية في الحمض الأميني : يساعد البروتين
6. التفاعل بين حمض أميني وحمض أميني آخر هو تفاعل
7. أ - يتم ربط الأحماض الأمينية عن طريق مجموعتي
8. من أشكال البروتين :
9. صف التمسخ : عملية تشوه تركيب البروتين الطبيعي ثلاثي الأبعاد فتمزقه أو تتلفه.
10. علل تصبح البروتينات غير فعالة إذا تحولت خواصها الطبيعية لأنها تعمل بصورة صحيحة فقط عندما تكون

حل أسئلة الدرس

1. الباباين: إنزيم يُكسّر البروتين إلى أحماض أمينية الهيموجلوبين: ينقل الأكسجين في الجسم. الكولاجين: بروتين بنائي يوجد في الجلد، والأربطة، والأوتار، والعظم.
2. الأحماض الأمينية هي جزيئات من المركبات العضوية يرتبط بعضها ببعض. يتكون ثنائي بيتيد إذا ارتبط حمضان أمينيان، ويتكون متعدد بيتيد إذا ارتبط أكثر من عشرة أحماض أمينية، أما إذا ارتبط أكثر من خمسين حمضا أمينيا فيتكون بروتين. من الأصغر إلى الأكبر: حمض أميني، ثنائي البيتيد، عديد البيتيد، بروتين.
3. يجب أن يبين التركيب أن COOH من الجلايسين و NH₂ من سيرين يسهمان في عمل رابطة بيتيدية. ارجع إلى دليل حلول المسائل لترى التركيب.
4. البروتينات هي عوامل محفزة مفيدة بسبب حجمها الكبير والعدد الكبير والمتنوع من المجموعات الوظيفية على السلاسل الجانبية للأحماض الأمينية. معظم العوامل المحفزة غير العضوية هي مركبات أصغر بكثير.
5. تعمل البروتينات كإنزيمات، لنقل مركبات أصغر، وفي تكوين تراكيب، وكهرمونات.
6. a. لا قطبي: Gly، Val، Phe؛
قطبي Ser، Cys، Gln، Lys، Glu.
b. أروماتي: Phe؛ اليقاتي: الآخرون جميعا.
c. حمضي: Glu؛ قاعدي: Lys.

أسئلة الوحدة محلولة قسم البروتينات

- 1- ما المصطلح الذي يشير إلى سلسلة مكونة من ثمانية أحماض أمينية؟ بيتيد وذاك الذي يشير إلى سلسلة مكونة 200 حمض أميني؟ بروتين

- 2- اذكر نوعي المجموعات الوظيفية التي تتفاعل معا لتكون رابطة ببتيدية. : مجموعة أمين و كربوكسيل
واذكر اسم المجموعة الوظيفية في الرابطة الببتيدية نفسها. ، مجموعة الأמיד
- 3- ارسم تراكيب أربعة ببتيدات ممكنة يتكون كل منها من أربعة أحماض أمينية في ترتيبات مختلفة وذلك باستخدام الرموز الواردة أدناه لتمثل أربعة أحماض أمينية.



4- تشرح الإنسان اذكر خمسة أجزاء من الجسم تحتوي بروتينات بنائية.

الجواب: جلد وأربطة وأوتار وعظام وشعر

5- اذكر أربع وظائف رئيسة للبروتينات. واذكر مثالا على البروتين الذي يؤدي كل هذه الوظائف.

أنزيمات: الباباين / بروتينات نقل: هيوجلوبين / دعم بنائي: الكولاجين / اتصال: هرمونات الغدة الدرقية.

6- صف شكلين شائعين موجودين في البروتين ثلاثي الأبعاد.

الجواب: لولب هو جزء ملفف من سلسلة بروتين. صحيفة حيث تنطوي سلسلة إلى الخلف و الأمام

7- اذكر أسماء المجموعات الوظيفية العضوية في السلاسل الجانبية للأحماض الأمينية التالية:

- 1- الجلوتامين مجموعة أميد
2- حمض الجلوتاميك مجموعة كربوكسيل
3- السيرين مجموعة هيدروكسيل
4- اللايسين مجموعة أمين

8- اشرح كيف يعمل الموقع النشط للأنزيم.

يرتبط الموقع النشط مع المواد. ويحدث تفاعل بين المواد التي تخضع لفعل الأنزيم لأنها تبقى قريبة من بعضها ونقل طاقة التنشيط

9- اذكر مثالا على حمض أميني له حلقة أروماتية في سلسلته الجانبية. فينيل الألانين

10- اذكر حمضين أميين يحتويان على سلاسل جانبية غير قطبية و حمضين أميين يحتويان على سلاسل جانبية قطبية.

غير قطبي: جلايسين، فينيل الألانين.
قطبي: سيرين، جلوتامين، لايسين.

11- يسمى التركيب المبين في الشكل 31 تريبتوفان. صف بعض الخواص التي تتوقع أن يتسم بها

التريبتوفان هو حمض أميني كبير غير قطبي لوجود حلقات أروماتية أروماتي لا يذوب في الماء

12- هل ثنائي الببتيد لايسين - فالين هو ثنائي الببتيد فالين - لايسين نفسه؟ فسر إجابتك

لا، كل حمض أميني له مجموعة مختلفة مساهمة في تكوين الرابطة الببتيدية.

13- الإنزيمات كيف تخفض الإنزيمات من طاقة تنشيط التفاعل؟

تكون الإنزيمات روابط عديدة مع المواد الخاضعة لفعل الأنزيم، فتخفض طاقتها التنشيطية.

14- تتجه معظم البروتينات الكروية الشكل بطريقة تجعل معظم الأحماض الأمينية ذات السلاسل الجانبية غير القطبية

موجودة في الداخل، والأحماض الأمينية ذات السلاسل الجانبية القطبية موجودة على السطح الخارجي. هل يبدو هذا منطقيا من حيث طبيعة

بيئة الخلية؟ نعم، لان الوسط الخلوي مائي محيط الخلايا مائي

15- كم عدد الطرق المختلفة التي يمكنك بها ترتيب ثلاثة أحماض أمينية مختلفة في الببتيد؟ ثلاثة = 20^3

أربعة أحماض أمينية؟ أربعة = 20^4 خمسة أحماض أمينية؟ خمسة = 20^5

16- كم عدد الروابط الببتيدية الموجودة في الببتيد الذي يحتوي على

خمسة أحماض أمينية؟ 4

17- البروتينات يبلغ متوسط الكتلة الجزيئية لحمض أميني في عديد الببتيد

110 amu ما الكتلة الجزيئية التقريبية للبروتينات التالية:

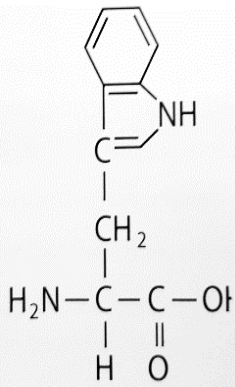
1. الإنسولين (51 حمض أميني) $5600 = 110 \times$ نضرب ب

2. الميوسين (1750 حمض أميني) $190,000 = 110 \times$ نضرب ب

18- حدد عدد الأحماض الأمينية والروابط الببتيدية الموجودة في الببتيد المبين في الشكل 4 احماض امينية وثلاث روابط ببتيدية

19- يبلغ متوسط الكتلة المولية للحمض الأميني 110 g/mol. احسب العدد التقريبي للأحماض الأمينية في بروتين كتلته 36,500 g/mol

الجواب $332 \text{ حمض} = 36,500 \div 110$



الشكل 31

