



دائرة التعليم والمعرفة  
DEPARTMENT OF EDUCATION  
AND KNOWLEDGE

دائرة التعليم والمعرفة

مدرسة القوع للتعليم الأساسي والثانوي

قسم الدراسات الاجتماعية

مراجعة عامة للوحدة الأولى

[www.almanahj.com](http://www.almanahj.com) الفصل الدراسي الثالث

الصف السابع

2018/2017

عام  
زايـد



YEAR OF  
ZAYED

## السؤال الأول : أكمل العبارات التالية بما يناسبها

- 1- النباتات التي تنمو طول العام دون تدخل الإنسان :
- ( النباتات المعمرة - النباتات الحولية - النباتات الصحراوية )
- 2- النباتات التي تنمو عقب سقوط الأمطار:
- 3- ( النباتات المعمرة - النباتات الحولية - النباتات الصحراوية )
- 4- تحول الأرض الزراعية إلى أرض صحراوية:
- ( الجفاف - التصحّر - فقر التربة )
- 5- من الأشجار المحلية في دولة الإمارات :
- ( الكافور - البلوط - الغاف )
- 6- حديقة توجد في الشارقة هدفها المحافظة على التقاليد الإسلامية والبيئية العربية:
- ( الحديقة الإسلامية - الحديقة العربية - الحديقة المائية )
- 7- أكثر أنواع النباتات الطبيعية انتشاراً في دولة الإمارات :
- ( النباتات المعمرة - النباتات الحولية - الأشجار الصحراوية )
- 8- خلاصة مجموعة من التجارب الشعبية المتوارثة حول طرق العلاج والشفاء:
- ( الطب الشعبي - الطب الحديث - الطب الإسلامي )
- 9- مكتشف المضادات الحيوية العالم الألماني:
- ( بول إيرخ - ألبرت نيسر - كارل ويبر )
- 10- مكتشف البنسلين العالم :
- ( أنتوني فان - ألكسندر رولان - ألكسندر فلمنج )
- 11- أشهر علماء الطب المسلمين والذي يلقب بالشيخ الرئيس :
- ( الطبري - ابن النفيس - ابن سينا )

## السؤال الثاني : أجب عن الأسئلة الآتية

### 1- ما أهمية النباتات المعمرة ؟

- استمرار الحياة على سطح الأرض
- التخفيف من التغير المناخي
- استخدامها كمراع لتغذية الحيوانات
- توفير الطاقة
- إمداد البيئة بالأكسجين
- تثبيت الرمال ومكافحة التصحر
- تقوم عليها الصناعات الخشبية
- استخدام خشبها كوقود

### 2- ما أهداف الحديقة الإسلامية التي أنشأها الشيخ الدكتور سلطان بن محمد القاسمي؟

- تعزيز الوعي ضمن اطار التنمية المستدامة والمحافظة على التقليد الإسلامية والبيئية العربية.

### 3- ما أهداف مشروع التمييز بين أنواع أشجار النخيل ؟

- تقديم الدعم للحفاظ على الأصول الوراثية لأشجار النخيل
- إنشاء قاعدة بيانات لأنواع أشجار النخيل الموجودة في الدولة

### 4- ما أهداف مشروع بنك الجينات؟

- تجميع النباتات المحلية وتوثيقها بحيث إذا انقرض أي نوع منها يمكن زراعته مرة أخرى

### 5- ما الأسباب التي جعلت دولة الإمارات تتميز بطبيعة نباتية فقيرة نوعا ما ؟

- الموقع الجغرافي والظروف المناخية الذي تتميز بالصيف الطويل الجاف والشتاء الدافئ القصير
- قلة الأمطار ومعدلات التبخر العالي

### 6- كيف تقاوم نباتات الصحراء العوامل المناخية ؟

- تخزين المياه في أوراقها أو جذورها أو سيقانها
- تمتد جذورها لتصل إلى المياه الجوفية

## 7- ما أهم استخدامات النباتات المعمرة؟

اسم النبات	الاستعمالات	الاستعمالات
التخيل	الأوراق لتسقيف المنازل، والجذوع للبناء والأكياس لصناعة الحبال.	
الأشجر	تستعمل عصارة النبات لعلاج أمراض الجلد.	
القرم	الأوراق والأغصان تستخدم علفاً، والجذوع تستخدم لبناء التسقيف.	
الرمث	تستعمل النباتات لصنع الصابون، وتستخدم الجذور حطباً.	
الحنظل	يستخدم مسحوق الأوراق مع الماء كمسهل، ولا يكون ذلك إلا عن طريق أهل الخبرة، وتستخدم الأوراق كضمانة ضد اللسعات.	
الشمر	غذاء للإبل والماعز.	
الطرفه الأتل	يستخدم الملح الموجود على أوراقها كبديل عن الملح.	

www.almanahj.com

## السؤال الأول : اختر الإجابة الصحيحة من بين البدائل لكل عبارة فيما يأتي :

الدرس الثاني / الإمارات وأمريكا الشمالية

1- من قارات العالم الجديد:

( آسيا - أمريكا الشمالية - أوروبا )

2- يحد قارة أمريكا الشمالية من جهة الشمال :

( المحيط القطبي - المحيط الهادي - المحيط الهندي )

3- يحد قارة أمريكا الشمالية من جهة الشرق :

( المحيط الهادي - المحيط الهندي - المحيط الأطلنطي )

4- تقع قارة أمريكا الشمالية بالنسبة لخط الاستواء في :

( الشمال - الجنوب - الشرق )

5- النهر الذي يجري في السهول الوسطى في قارة أمريكا الشمالية :

( النيل - المسيبي - الأمازون )

www.almanahj.com

6- المحيط الذي يفصل قارة أمريكا الشمالية عن قارة أوروبا

( الهادي - الهندي - الأطلنطي )

7- تمتد قارة أمريكا الشمالية بين دائرتي عرض :.....، 83 شمالاً.

( 55 - 25 - 60 )

8- من جبال قارة أمريكا الشمالية الأبلش وكسكيد و:

( الانديز - كلمنجاو - روكي )

9- يمر مدار السرطان بالنسبة لقارة أمريكا الشمالية في :

( الشمال - الجنوب - الوسط )

10- ثالث دولة أقامت علاقات دبلوماسية رسمية مع دولة الإمارات العربية المتحدة عام 1971:

( الولايات المتحدة الأمريكية - روسيا - كندا )

11- أعلى جبال قارة أمريكا الشمالية

( روكي - الأبلش - سيرانيفادا )

## السؤال الثاني : بم تفسر ( اذكر السبب):

- 1- تمتع أمريكا الشمالية بموقع جغرافي هام.
  - بسبب موقعها بين محيطين واسعين مما أعطاها الحماية من أطماع الدول القوية
- 2-تنوع الأقاليم المناخية في قارة أمريكا الشمالية .
  - بسبب اتساع المساحة
- 3- ضيق السهول الساحلية الشرقية في قارة أمريكا الشمالية .
  - بسبب وجود جبال الأبالاش .
- 4- تعرض الأجزاء الوسطى من الولايات المتحدة للمؤثرات القطبية والبحرية الرطبة صيفًا .
  - بسبب الامتداد الشمالي الجنوبي للجبال ووصول الرياح القادمة من المحيط القطبي شمالًا.
- 5- سهولة اتصال قارة أمريكا الشمالية من مناطق التجمع السكاني في غرب أوروبا وشرق آسيا.
  - بسبب الموقع الجغرافي المتميز.
- 6- تمتع سكان قارة أمريكا الشمالية بمستوى معيشي مرتفع.
  - بسبب غناها بالموارد الطبيعية مثل الزراعة ومصادر الطاقة.
- 7- ضخامة الإنتاج الزراعي في قارة أمريكا الشمالية .
  - بسبب اتساع المساحة واستخدام الأساليب الحديثة في الزراعة .
- 8- زيادة الإنتاج السمكي في قارة أمريكا الشمالية .
  - بسبب طول السواحل واستخدام الأساليب الحديثة في الصيد.
- 9- تطور الإنتاج الصناعي في قارة أمريكا الشمالية .
  - بسبب وفرة مصادر الطاقة والأيدي العاملة ورؤوس الأموال.
- 10- اهتمام دولة الإمارات العربية المتحدة بتعزيز علاقاتها وشراكتها الاستراتيجية مع الولايات المتحدة الأمريكية .
  - لبناء علاقات اقتصادية واجتماعية وسياسية على الصعيد الدولي .

السؤال الثالث : ما النتائج المترتبة على .

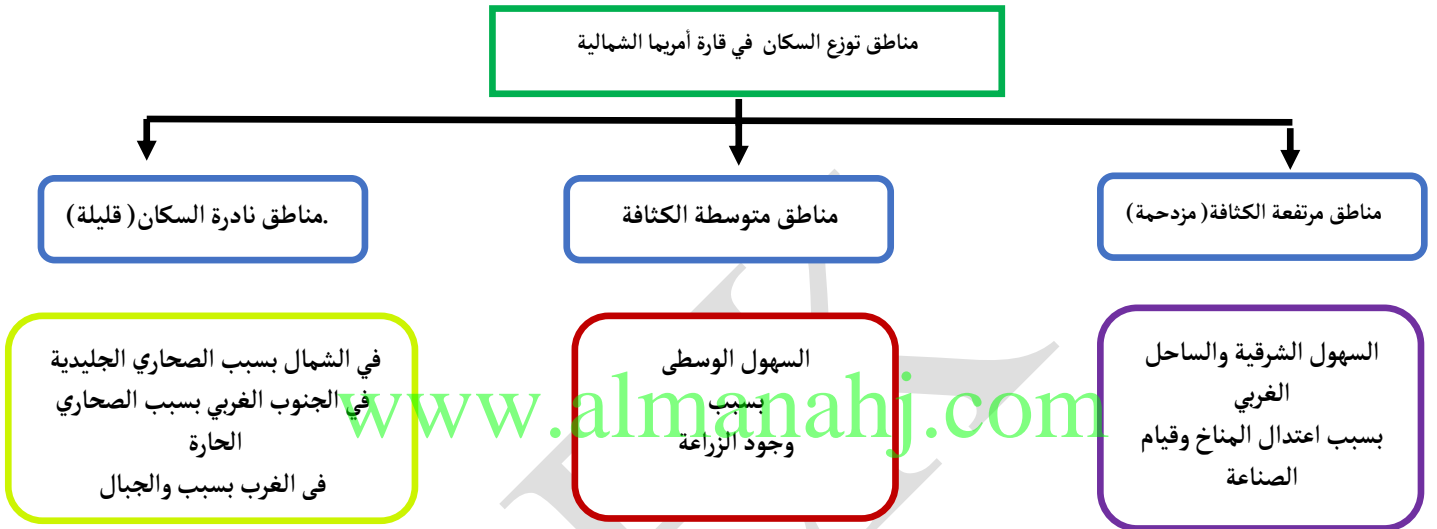
1- انفتاح الدول والمجتمعات على بعضها البعض .

• إرساء أسس الاستقرار والتنمية والتعايش السلمي / تعميق أواصر الصداقة والتقارب

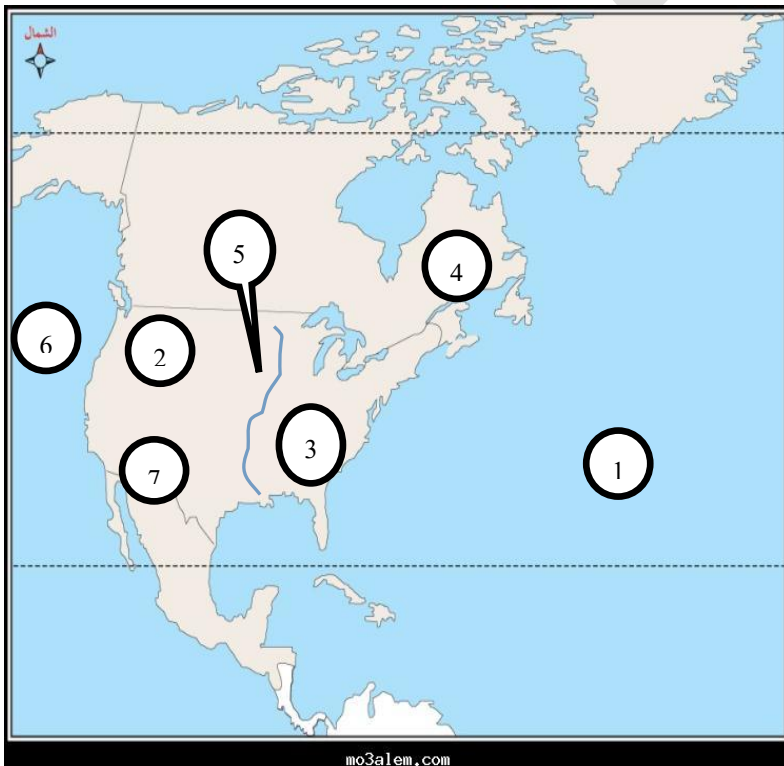
2- غني قارة أمريكا الشمالية بالموارد الطبيعية .

• ارتفاع مستوى المعيشة للسكان / أصبحت من أكثر قارات العالم تقدمًا

السؤال الرابع: أكمل المخطط الذهني التالي:



السؤال الخامس : أمامك خريطة صماء لقارة أمريكا الشمالية ، اكتب ما تشر إليه الأرقام التي عليها



1- المحيط الأطلسي

2- جبال روكي

3- جبال الأبلش

4- هضبة لبرادور

5- نهر الميسيسيبي

6- المحيط الهادى

7- هضبة كلورادو

السؤال الأول : اختر الإجابة الصحيحة من بين البدائل لكل عبارة فيما يأتي

الدرس الثالث  
درس قارة استراليا

1- أصغر قارة في العالم:

( أستراليا - أمريكا الشمالية - أوروبا )

2- تبلغ مساحة قارة استراليا :

( 24.2 مليون كم<sup>2</sup> - 8.5 مليون كم<sup>2</sup> - 30 مليون كم<sup>2</sup> )

3- يحد قارة استراليا من جهة الشرق :

( المحيط الهادي - المحيط الهادي - المحيط الأطلسي )

4- يحد قارة أستراليا من جهة الغرب :

( المحيط القطبي - المحيط الهندي - بحر أرافورا )

5- يحد قارة أستراليا من الشمال :

( بحر أرافورا - الخليج الاسترالي الكبير - المحيط الهادي )

6- البحر الذي يفصل بين قارة استراليا والدونيسيا :

( البحر المتوسط - بحر تسمان - بحر أرافورا )

7- تمتد قارة أمريكا استراليا بين دائرتي عرض :.....، 44 جنوبا.

( 12 - 10 - 11 )

8- من أهم الجزر التابعة لقارة استراليا :

( نيوزيلندا - جرينلاندا - تسمانيا )

9- يصب نهر فلندرز في خليج :

( الاسترالي الكبير - كارينتاريا - سينسر )

10- تقدر مساحة الهضاب بحوالي .....% من مساحة استراليا :

( 56 - 65 - 50 )

11- تعرف المرتفعات الشرقية في استراليا باسم :

( السلسلة الشرقية - السلسلة العظمى - السلسلة الوسطى )



12- مساحة من الأرض ذات خصائص مناخية متشابهة ومتميزة عن غيرها:

( الطقس - المناخ - الإقليم المناخي )

13- دائرة العرض الرئيسية التي تمر بقارة استراليا :

( مدار السرطان - مدار الجدي - خط الاستواء )

14- أقرب الدول المجاورة لقارة استراليا من جهة الشمال :

( اندونيسيا - الصين - كوريا الجنوبية )

15- يسود الاقليم الموسمي في قارة استراليا في :

( الشمال - الوسط - الجنوب الشرقي )

16- يبلغ عدد سكان قارة استراليا حوالي ..... مليون نسمة:

( 31 - 41 - 51 )

17- يتركز السكان بصفة أساسية في قارة استراليا في الأقاليم :

( الجافة - شبه الجافة - المعتدلة )

18- عاصمة استراليا :

( سيدني - كانبرا - ملبورن )

19- المحصول الرئيس في قارة استراليا :

( القمح - قصب السكر - الموالح )

20- تصدر استراليا دول العالم في أعداد رؤوس :

( الأبقار - الأغنام - الإبل )

21- من مصادر الطاقة المتجددة في استراليا :

( الفحم - الرياح - الغاز الطبيعي )

22- معلم ثقافي مميز يقع على ميناء جاكسون في مدينة سيدني الاسترالية:

( دار الأوبرا - مبنى البرلمان الاسترالي - صرح المحاربين )

السؤال الثاني : بم تفسر ( اذكر السبب ):

1- ضيق السهل الساحلي الشرقي المطل على المحيط الهادي في قارة استراليا.

• بسبب وجود جبال الحاجز الاسترالي الكبير

2- تنوع الأقاليم المناخية في قارة استراليا .

• بسبب اتساع المساحة

3- تركز السكان بصفة أساسية في استراليا الأقاليم المعتدلة .

• بسبب اعتدال المناخ وتوفر المياه .

4- اختلاف توزيع السكان في قارة استراليا من منطقة لأخرى.

• بسبب اختلاف أشكال التضاريس واختلاف المناخ.

5- تقدم قارة استراليا في مجال التعليم .

• بسبب وجود معاهد معتمدة من قبل الحكومة / انخفاض تكاليف التعليم .

6- يحتل القمح نصف المساحة المزروعة في استراليا .

• بسبب ملائمة المناخ وتوفر مياه الأمطار والآبار الارتوازية .

7- تعتبر قارة استراليا المكان الأنسب لمزارع الطاقة الشمسية .

• بسبب تمتعها بنسبة كبيرة من ضوء الشمس خلال معظم العام.

8- ايمان الباني المؤسس -رحمه الله- بإقامة علاقات خارجية مع الدول الأخرى

• لبناء علاقات اقتصادية واجتماعية وسياسية على الصعيد الدولي

السؤال الثالث : ما النتائج المترتبة على .

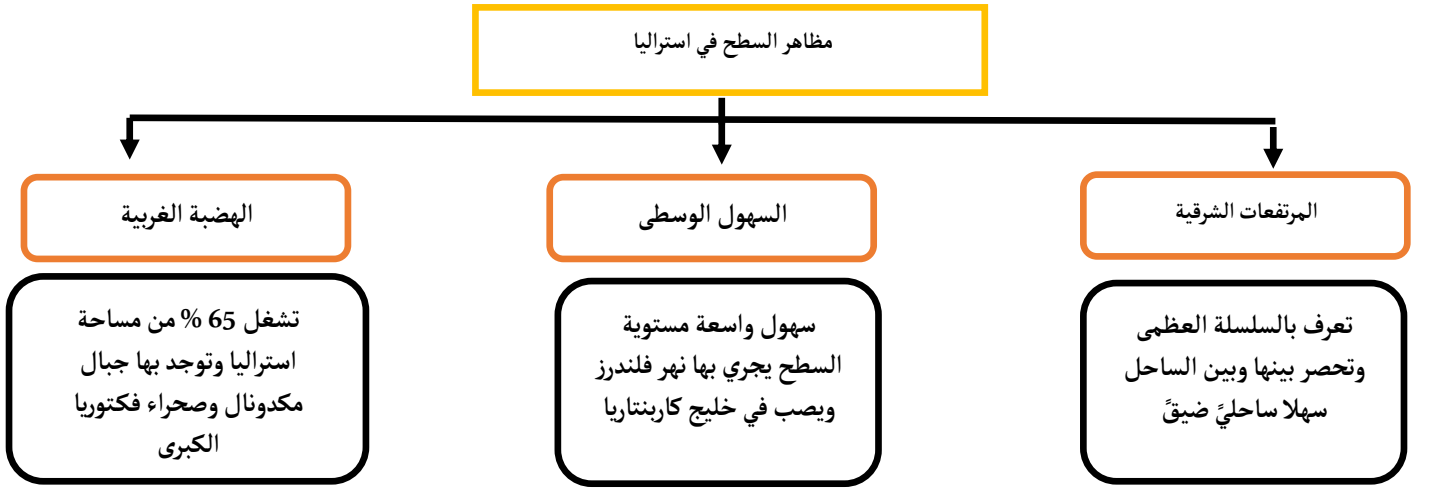
1- تنوع الأقاليم المناخية في قارة استراليا .

• تنوع المحاصيل الزراعية

2- الشراكة الإماراتية الاسترالية

• زيادة الاستثمارات الاماراتية الاسترالية / تعزيز الروابط بين شعبي البلدين

## السؤال الرابع: أكمل المخطط الذهني التالي:



## العلاقات التجارية بين الامارات واستراليا (الصادرات والواردات)



## السؤال الخامس: قارن بين كلا مما يأتي :

-1

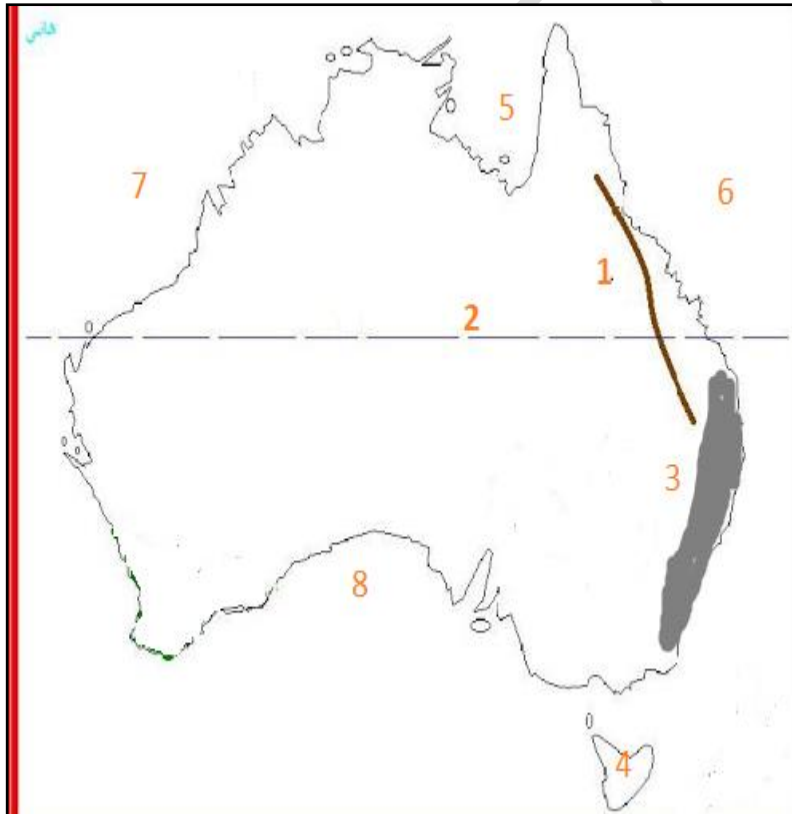
أوجه المقارنة	السهل الساحلي الشرقي بدولة الإمارات	السهل الساحلي الشرقي باستراليا
الامتداد	شمالى جنوبي	شمالى جنوبي
الاتساع	ضيق بسبب الجبال	ضيق بسبب الجبال

انتبه  
تختلف فصول السنة الأربعة في  
نصف الكرة الأرضية الشمالي عنها  
في نصف الكرة الجنوبي

الإقليم	الموقع	الخصائص المناخية
الموسمي	شمال استراليا	حار صيفًا والأمطار صيفية
الصحراوي	وسط استراليا	حار صيفًا معتدل شتاءً والأمطار قليلة ونادرة
شبه المداري الرطب	شرق وجنوب شرق استراليا	معتدل صيفًا بارد شتاءً والأمطار طوال العام

السؤال السادس : أمامك خريطة صماء لقارة استراليا ، اكتب ما تشر إليه الأرقام التي عليها

[www.almanahj.com](http://www.almanahj.com)



- 1- جبال الحاجز الكبير
- 2- مدار الجدي
- 3- إقليم مناخي شبه المداري
- 4- جزيرة تسمانيا
- 5- خليج كارينتاريا
- 6- المحيط الهادي
- 7- المحيط الهندي
- 8- الخليج الاسترالي الكبير

مراجعة درس جولات  
ميدانية للشيخ زايد  
-رحمه الله-

السؤال الأول : اختر الإجابة الصحيحة من بين البدائل لكل عبارة فيما يأتي:

- 1- أكبر إمارات دولة الإمارات العربية المتحدة مساحة :  
( دبي - الشارقة - أبوظبي )
- 2- أصغر إمارات دولة الإمارات العربية المتحدة مساحة :  
( الفجيرة - الشارقة - عجمان )
- 3- عاصمة دولة الإمارات العربية المتحدة :  
( العين - أبوظبي - دبي )
- 4- تسلم المغفور له - بإذن الله - الشيخ زايد بن سلطان مقاليد الحكم في أبوظبي عام :  
( 1966 م - 1976 م - 1999 م )
- 5- زيارات دورية هدفها جمع المعلومات والوقوف على الحقائق اتخاذ الإجراءات اللازمة:  
( الجولات الميدانية - الزيارات الدورية - الخطة الخمسية )
- 6- مجموعة من الإجراءات محددة بمدة خمس سنوات تهدف إلى تنفيذ مجموعة من المشروعات :  
( الخطة السنوية - الخطة الخمسية - الخطة العشرية )
- 7- تم تشييد مدينة زايد الرياضية في أبوظبي عام .  
( 1979م - 1969 م - 1989م )
- 8- من أهم المعالم الحضارية في أبوظبي:  
( برج خليفة - متحف اللوفر - دار الأوبرا )
- 9- تم الإعلان عن قيام دولة الإمارات المتحدة :  
( 18 فبراير 1968م - 25 فبراير 1968م - 2 ديسمبر 1971م )
- 10- مشروعه يضم مختبرات للابتكار في الصحة والتعليم والمدن الذكية والطاقة والنقل :  
( متحف الماضي - متحف المستقبل - متحف الحاضر )
- 11- مساعدات مادية أو عينية تقدم للمحتاجين دون أن ترد:  
( المنح - القروض - التبرعات )

12- ثاني أصغر إمارات الدولة من حيث المساحة :

( عجمان - الشارقة - أم القيوين )

13- الإمارة التي تقع بالكامل على الساحل الشرقي :

( رأس الخيمة - الفجيرة - الشارقة )

14- من الأماكن السياحية في إمارة أم القيوين :

( جزيرة ايسلند - جزيرة السينية - قلعة الجاهلي )

**السؤال الثاني : بم تفسر ( اذكر السبب ):**

1- ما أهم مشروعات البنية التحتية التي أنشأها الشيخ زايد - رحمه الله - .

• مشروعات الماء والكهرباء / الصرف الصحي / الطرق والمباني / المطارات والموانئ

2- ما أهم الإجراءات التي اتخذها الشيخ زايد - رحمه الله - لتشجيع الزراعة .

• إصلاح التربة / توفير المياه / توزيع المزارع بالجمان على المواطنين / توفير البذور والأسمدة للمزارعين

www.almanahj.com

3- ما أهم الصفات الحميدة التي انصف بها الشيخ زايد - رحمه الله - .

• الكرم / الحكمة / الشجاعة / الإخلاص / الصدق / العقلانية في الأحكام

4- ما أهم الأعمال التي قام بها الشيخ زايد - رحمه الله - في إماراتي دبي والشارقة.

• إنشاء طريق معبد بين أبوظبي ودبي

• تقديم الأراضي لـ 70 عائلة محتاجة في الشارقة .

• زيادة المنح التي كانت قد أعطيت لتمكين المواطنين من بناء منازلهم .

5- ما أهم الأعمال التي قام بها الشيخ زايد - رحمه الله - في رأس الخيمة وأم القيوين والفجيرة .

• تخطيط الحدود بين رأس الخيمة والفجيرة

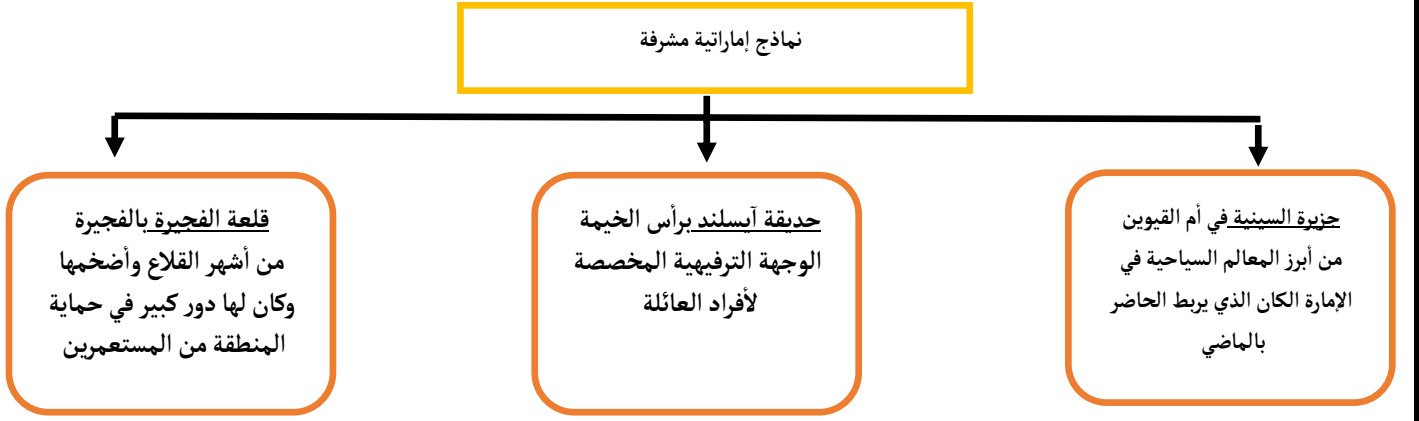
• بناء 900 وحدة سكنية جديدة للمواطنين

• توفير طرق المواصلات لربط الفجيرة مع إمارات الدولة

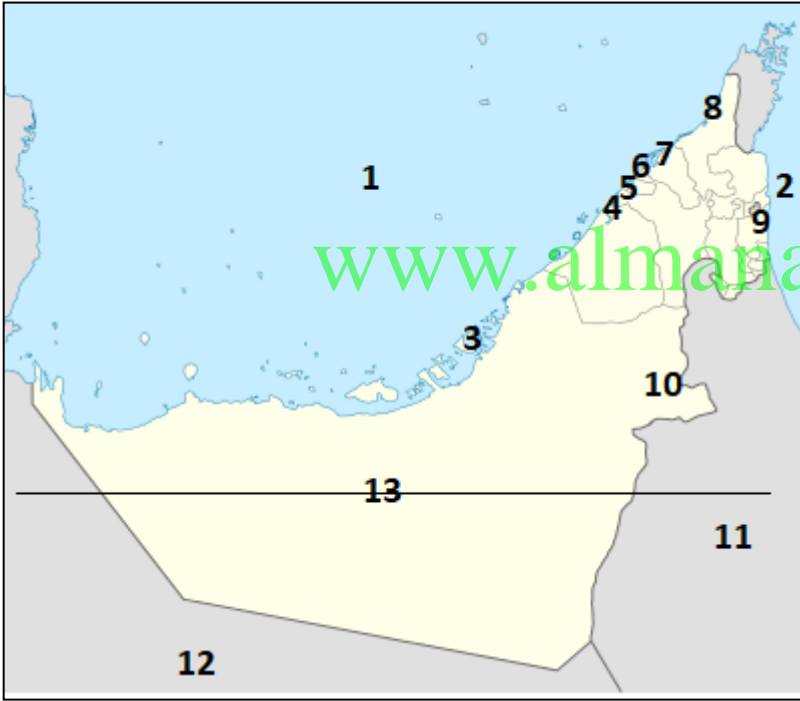
• أمر بإعفاء المزارعين والصيادين من 50% من الديون.

6- ما أهم فوائد السدود ؟ \* حجز المياه وتوفيرها لري الأراضي الزراعية

## السؤال الرابع: أكمل المخطط الذهني التالي:



## السؤال السادس: أمامك خريطة صماء لدولة الإمارات ، اكتب ما تشر إليه الأرقام التي عليها



- 1- الخليج العربي
- 2- بحر عمان
- 3- العاصمة أبو ظبي
- 4- مدينة دبي
- 5- مدينة الشارقة
- 6- أصغر إمارات الدولة عجمان
- 7- إمارة أم القيوين
- 8- إمارة رأس الخيمة
- 9- إمارة الفجيرة
- 10- مدينة العين
- 11- سلطنة عمان
- 12- المملكة العربية السعودية

13- دائرة عرض رئيسية مدار السرطان