

ضع المصطلح المناسب في كل فراغ مما يلي :

1. جميع انجازات الإنسان في المجالات المختلفة (الحضارة)
2. عملية تدوين الأحداث التاريخية (التاريخ)
3. عملية تُجرى لاكتشاف موقع أثري يقوم بها مختصون بعناية كي لا يتلفوا منها شيئاً (الحفريات)
4. مجموعة عظام إنسانية أُكتشفت بالقرب من نهر أومو في اثيوبيا (بقايا أومو)
5. موقع أثري يرجع للعصر الحجري القديم في دولة المغرب (جبل إيغود)
6. رسم بياني لمجموعة أحداث متتالية في الزمن وما يرتبط به من أحداث وظواهر تاريخية (الخط الزمني)
7. الانتقال من صيد الحيوانات والأسماك وجمع النباتات إلى الزراعة الثورة الزراعية
8. كل ما ألف البيوت وأقام بها من حيوان أو طير الداجن
9. قنوات تقليدية تُحفر لتجمع المياه الجوفية لاستخدامها في الزراعة وتوفير مياه الشرب الأفلاج
10. زراعة محصول مختلف سنة بعد أخرى تدوير المحصول
11. أن يعتمد بلد ما على الإنتاج المحلي دون الحاجة إلى الإستيراد من الخارج الاكتفاء الذاتي
12. عملية استبدال التربة الطبيعية بأوساط مائية أو أوساط صلبة للزراعة زراعة من دون تربة
13. الإتجاه نحو الإنتاج باستخدام الآلات الصناعية كبديل عن العمل اليدوي للإنسان الثورة الصناعية
14. عملية حفر مناجم الفحم العميقة تعددين الفحم
15. النمو السريع لكمية المعلومات ثورة المعلومات
16. الظواهر المجتمعية التي تواكب التطور السريع في الحواسيب الثورة الحاسوبية



17. الثورة التي كان لها الأثر الأكبر على حياة الإنسان الثورة الصناعية

18. شعور داخلي يجعل المواطن يحب وطنه الإنتماء

19. مجموعة القيم التي يكتسبها المواطن وتكون موجهه لسلوكه في المجتمع أخلاقيات المواطنة

20. واجبات يجب على الدولة والمجتمع الوفاء بها الحقوق

21. الإلتزام الذي يجب أن يؤديه الفرد تجاه الوطن الذي يعيش فيه الواجبات

22. الواجبات التي يلتزم المواطن بتأديتها تجاه مجتمعه ويحاسب قانونيا في حالة الإخلال بأدائها واجبات الزامية

23. الواجبات التي يقوم بها المواطنون برغبتهم دون اجبار ، ولا يحاسب على عدم تأديتها القانون واجبات تطوعية

24. تمثيل لسطح الأرض الكروي أو جزء منه على سطح مستوي (الخريطة)

www.almanahj.com

25. الإسم الذي يحدد موضوع الخريطة (عنوان الخريطة)

26. يضم المصطلحات والرموز المستخدمة في الخريطة (مفتاح الخريطة)

27. سهم يشير إلى جهة الشمال، وغالبا ما يرمز له بمؤشر بأعلى الخريطة (ميين الجهات)

28. هو ما يحيط بالخريطة من الخارج والحد الذي تنتهي عنده تفاصيل الخريطة (إطار الخريطة)

29. الخطوط أو النقاط أو الألوان أو الرسوم التي تفيد في فهم وتمثيل الظواهر (رموز الخريطة)

30. الخرائط التي تمثل الظواهر الطبيعية التي خلقها الله سبحانه وتعالى ولا دخل للإنسان في نشأتها (الخرائط الطبيعية)

31. الخرائط التي تعرض الظواهر البشرية التي تتصل بالإنسان ونشاطه (الخرائط البشرية)

32. النسبة بين أي مسافة على الخريطة وبين المسافة الحقيقية المقابلة لها على سطح الأرض (مقياس الرسم)

33. شبكة من الخطوط الوهمية الأفقية والرأسية المتعامدة على الخرائط (النظام الشبكي)

34. خطوط وهمية على شكل أنصاف دوائر تتلاقى جميعها عند نقطتي القطبين وهي متساوية في أطوالها وغير متوازية (خطوط الطول)

35. خطوط وهمية ترسم على نموذج الكرة الأرضية وتبدو على شكل دوائر تامة الإستدارة (دوائر العرض)

36. كتاب يضم خرائط متنوعة وأشكالاً عديدة مثل الصور المتنوعة والرسوم والأشكال البيانية (الأطلس)

37. تعرض مجموعة من الحقائق والأحداث والمواقع التاريخية دعمة بالخرائط التوضيحية (الأطلس التاريخية)

38. تقدم معلومات جغرافية عن أنواع التضاريس والمناخات وتوزيع المياه والغابات (الأطلس الجغرافية)

39. يهتم بالمجالات السياسية كترسيم الحدود الدولية والبرية ومواقع المدن الكبرى وعواصم الدول (الإطلس السياسية)

40. تناقش الخصائص الإجتماعية للسكان، وكذلك نسب التوزيع السكاني (الأطلس الإجتماعية)

www.almanahj.com

41. مؤلفات تحوي معلومات حول موضوعات المعرفة الإنسانية أو متخصصة في موضوع معين (الموسوعات)

42. موسوعات تعرض موضوعات متنوعة (موسوعات عامة)

43. موسوعات تقتصر على عرض موضوع واحد كبير (موسوعات متخصصة)

عرف المواطنة الإيجابية بأسلوبك الخاص ؟

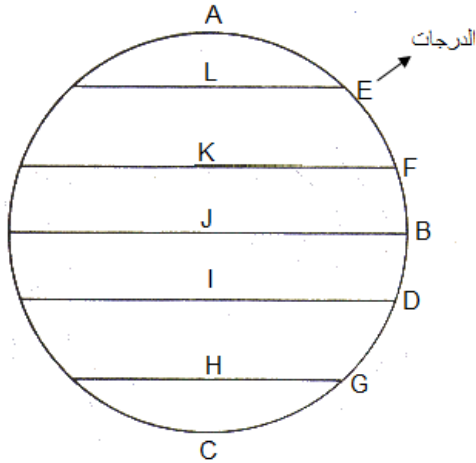
موروث مشترك من المبادئ والقيم والعادات بين الأفراد في الدولة الواحدة والتي تسهم في تشكيل شخصية المواطن

عرف العمل الإنساني ؟ هو ذلك النشاط الهادف إلى تقديم المساعدة والإغاثة للأفراد الذين يواجهون خطراً يهدد حياتهم

عرف الدراسة الميدانية ؟ أسلوب لجمع المعلومات والحقائق المتصلة بظاهرة معينة من خلال زيارة المنطقة التي

تحدث فيها هذه الظاهرة وملاحظتها وتحديد جوانبها والعوامل التي أدت إليها .

ضع أجزاء الرسم في أماكنها :



- () - دائرة الإستواء .
- () - 23.5 درجة جنوباً .
- () - 23.5 درجة شمالاً .
- () - مدار السرطان .
- () - 66.5 درجة شمالاً .
- () - مدار الجدي .
- () - 66.5 درجة جنوباً .
- () - دائرة القطبية الجنوبية .
- () - 0 درجة .
- () - القطب الشمالي .
- () - القطب الجنوبي .

اكتب ما تدل عليه كل صورة فيما يلي :



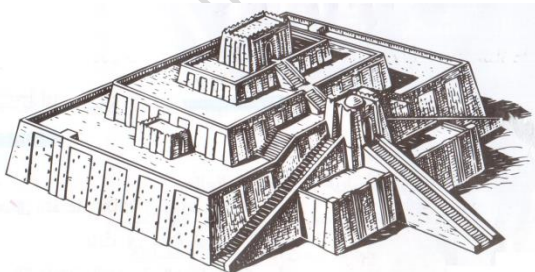
www.almanahj.com




(مبادرة محمد بن راشد العالمية)

(الهلال الأحمر)

(عام الخير)



(الزاقورة)




(آلة بخارية)



(مسلة شريعة محوري)



(آلة البزار)



(آلة الغزل)

عمل الطالبة



الانترنت



الحكومة الإلكترونية



التجارة الإلكترونية



البريد الإلكتروني

www.almanahj.com

رتب المراحل التي مرّ بها الإنسان لحفظ المعلومات :



(4)

(الكتابة)



(5)

(الحاسوب)



(1)

(الحفظ في الذاكرة)



(3)

(النقش)

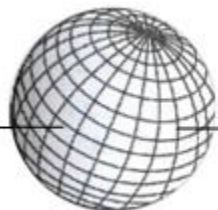


(2)

(النحت)

حدد خطوط الطول ودوائر العرض في الرسم التالي :

دوائر العرض



خطوط الطول