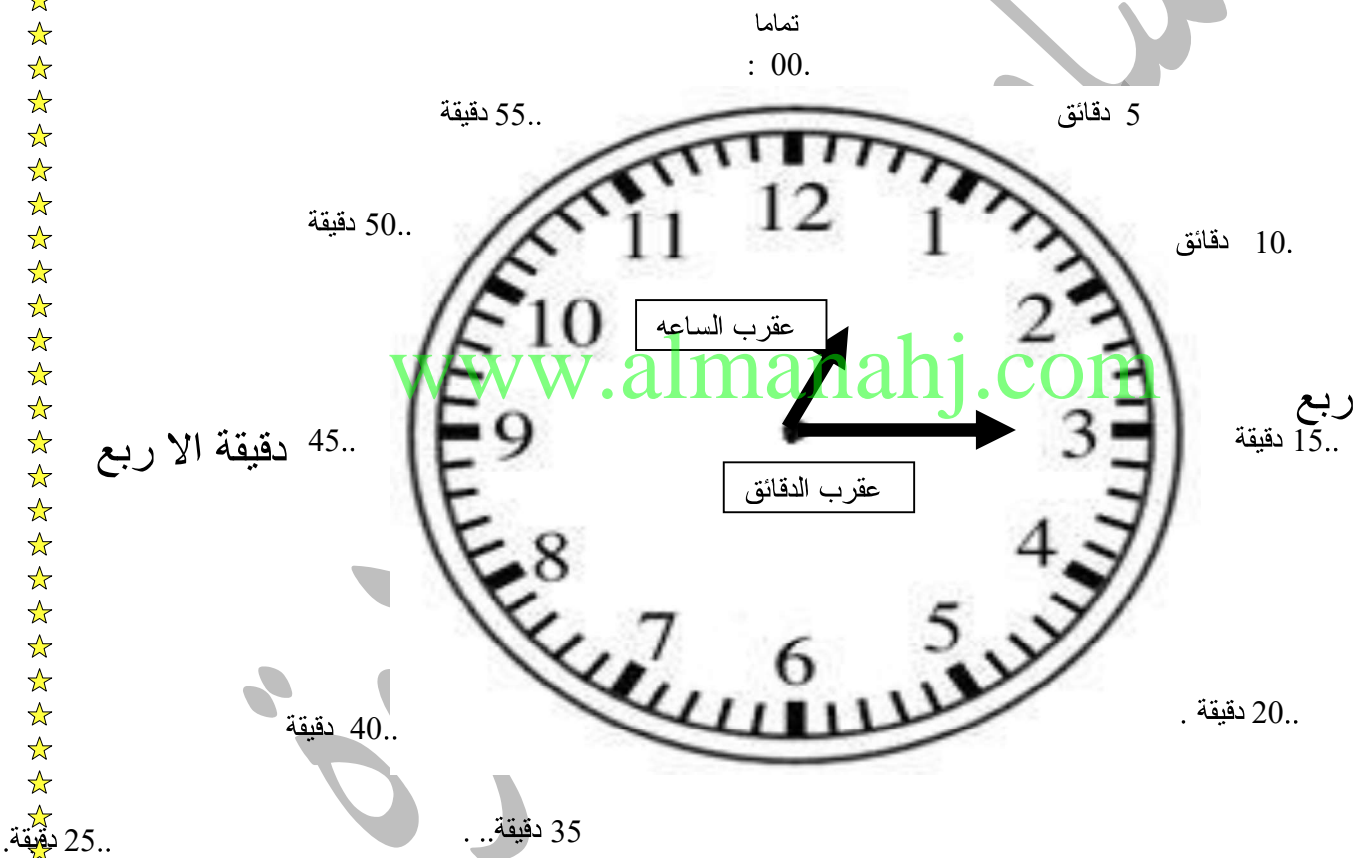


نتذكر دائماً أن العقرب الصغير يشير إلى الساعات (الأعداد) إذا كان العقرب الصغير يشير إلى المساحة بين العددين ولم يصل إلى العدد التالي فهو دائماً يأشر إلى الساعة الأقل

نتذكر دائماً أن العقرب الكبير يأشر إلى الدقائق بين كل عدد وآخر 5 دقائق وكل مرة يضيف 5 دقائق لنصل إلى 60 دقيقة. الذي سأقوم به



نصف

الدقائق : الساعة


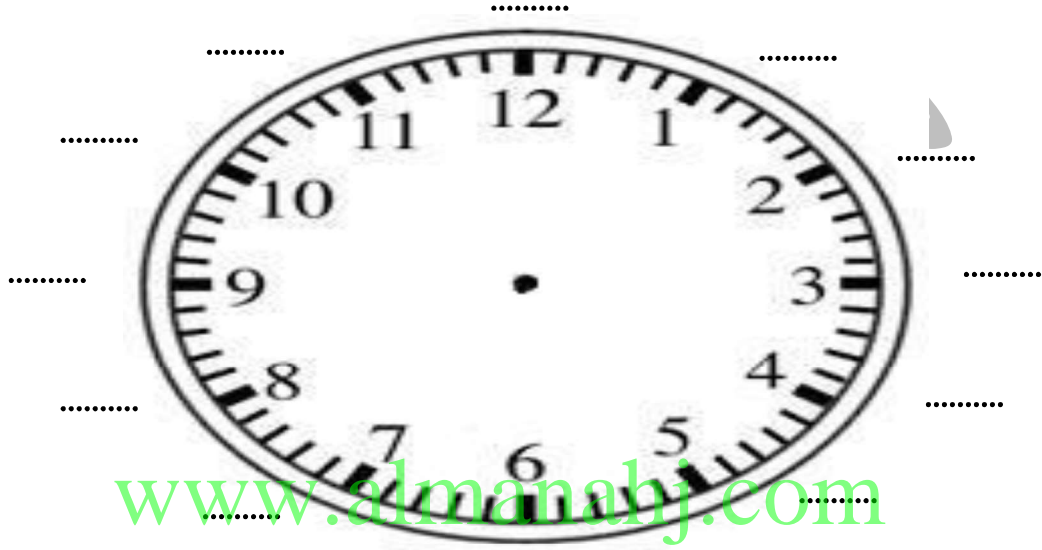
كتابة الساعة

قراءة الساعة 1:15 الساعة الواحدة وخمسة عشرة دقيقة (الواحدة والرابع)

















تدور الساعة دورة كاملة مرتين في اليوم لهذا تقسم الساعة إلى صباحاً ومساءً ويبدأ

هذا التقسيم من الساعة 12 أستطيع أن افرق بين التوقيتين بنوع العمل


السؤال الاول : اكتب اجزاء الساعة وحدد الدقائق على الساعة



السؤال الثاني :- حدد الوقت يا ابطال الأبطال


 .....	 .....	 .....	 .....
 .....	 .....	 .....	 .....
 ..... استعد للنوم	 .....	 .....	 .....
 .....	 .....	 .....	 .....

السؤال الثالث: أكمل كتابة دقائق الساعة على الساعة




السؤال الرابع: ارسم عقارب الساعة وحدد

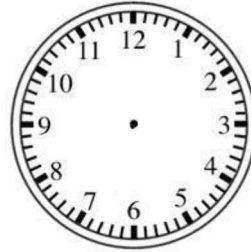
[www.almanahj.com](http://www.almanahj.com)




12:30



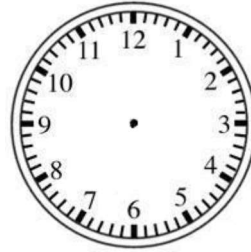
1:00



1:20



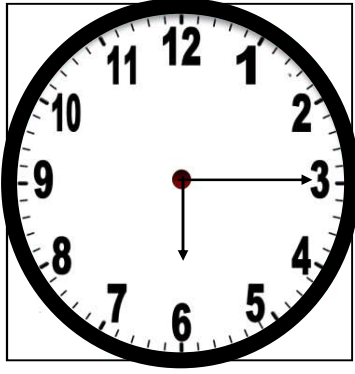
3:35



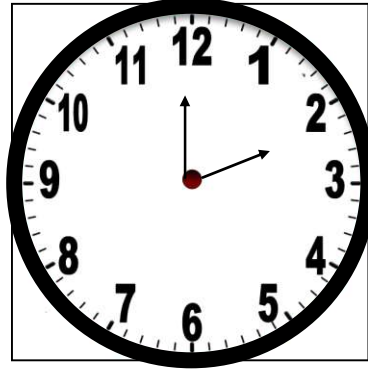
6:45



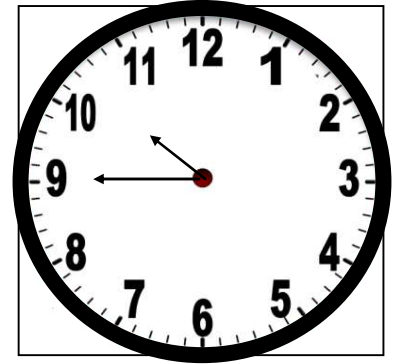
السؤال الخامس : اكتب الوقت على الساعة مع تحديد صباحاً أم مساءً



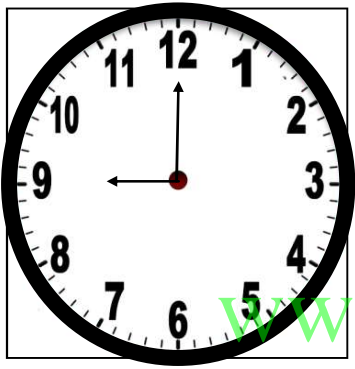
تناول العشاء :



العودة من المدرسة :



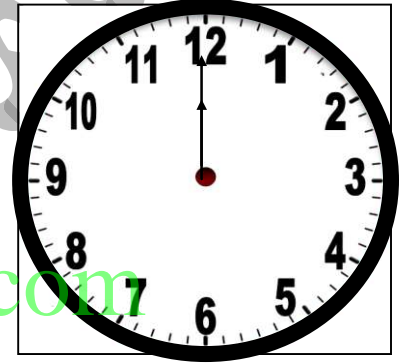
فسحة المدرسة :



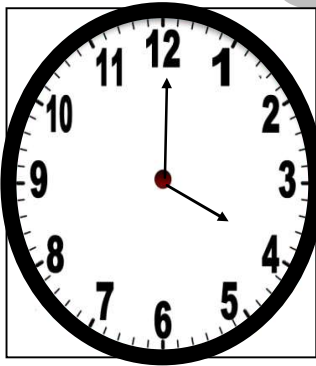
اكتب واجباتي :



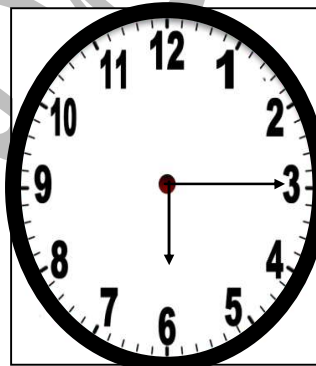
العودة من المدرسة :



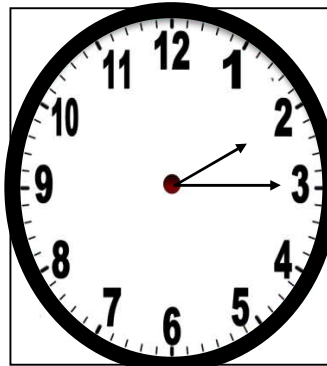
فسحة المدرسة :



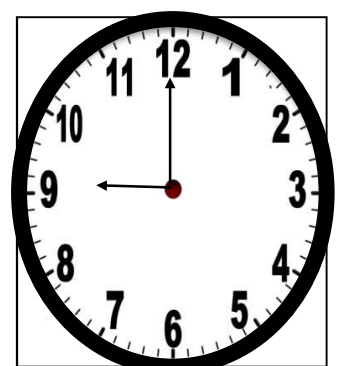
صلاة العصر :



استيقظ للمدرسة



اتناول الغذاء :









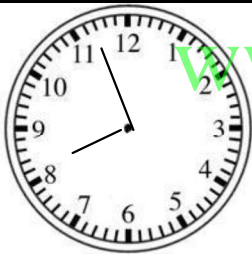



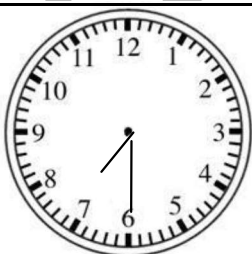


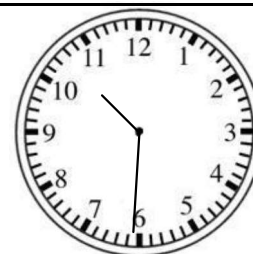


اتناول الفطور :

الوقت كالسيف ان لمك تقطعه قطعك



السؤال السادس : اكتب الوقت على الساعة مع تحدي صباحاً أم

 .....:.....	 .....:.....	 .....:.....	 .....:.....
 .....:.....	 .....:.....	 .....:.....	 .....:.....
 .....:.....	 .....:.....	 .....:.....	 .....:.....
 .....:.....	 .....:.....	 .....:.....	 .....:.....

السؤال السابع: اكتب الوقت على الساعة مع تحدي




جرس الحصة الأولى

.....



استعد لصلاة الفجر

.....




اذهب إلى النوم

.....



اتناول العشاء

.....




استعد للنوم

.....




اذهب إلى عمل

.....



اشاهد التلفاز

.....



أتوضأ لصلاة الظهر

.....




اغسل وجهي

.....




أذان الفجر

.....



اشرب الحليب

.....



اساعد امي بالتنظيف

.....

## معلومات مهمة جداً يا صغيري

العلاقات الزمنية		
الدقيقة	= تساوي	60 ثانية
الساعة	= تساوي	60 دقيقة
يوم واحد	= تساوي	12 ساعة
اسبوع واحد	= تساوي	7 أيام
شهر واحد	= تساوي	4 اسابيع
سنة واحدة	= تساوي	12 شهراً
سنة واحدة	= تساوي	52 أسبوعاً

الرجاء حفظ  
العلاقات الزمنية

[www.almanahj.com](http://www.almanahj.com)

السؤال الأول :- استخدم التقويم للإجابة عن الاسئلة :-



شهر أغسطس

الجمعة	الخميس	الأربعاء	الثلاثاء	الاثنين	الأحد	السبت
5	4	3	2	1		
12	11	10	9	8	7	6
19	18	17	16	15	14	13
26	25	24	23	22	21	20
		31	30	29	28	27

- 1- ما اليوم الذي يصادف أول يوم بالشهر ؟ .....
- 2- أي يوم يصادف الثالث من هذا الشهر ؟ .....
- 3- كم يوم الثلاثاء في هذا الشهر ؟ .....
- 4- كم تاريخ آخر جمعة في هذا الشهر ؟ .....
- يوم الاثنين غداً اوجد التاريخ بعد اسبوع منذ الحين ؟ .....



السؤال الثاني: - استخدم التقويم للإجابة عن الاسئلة

الجمعة	الخميس	الأربعاء	الثلاثاء	الاثنين	الأحد	السبت
7	6	5	4	3	2	1
	13	12	11	10	9	8
21	20	19		17	16	15
29	28	27	26	25	24	23
						30

- 1 - ما اليوم الذي يصادف عيد ميلاد عمر بهذا الشهر ؟ .....
- 2- أي تاريخ يصادف الطقس ممطر من هذا الشهر ؟ .....

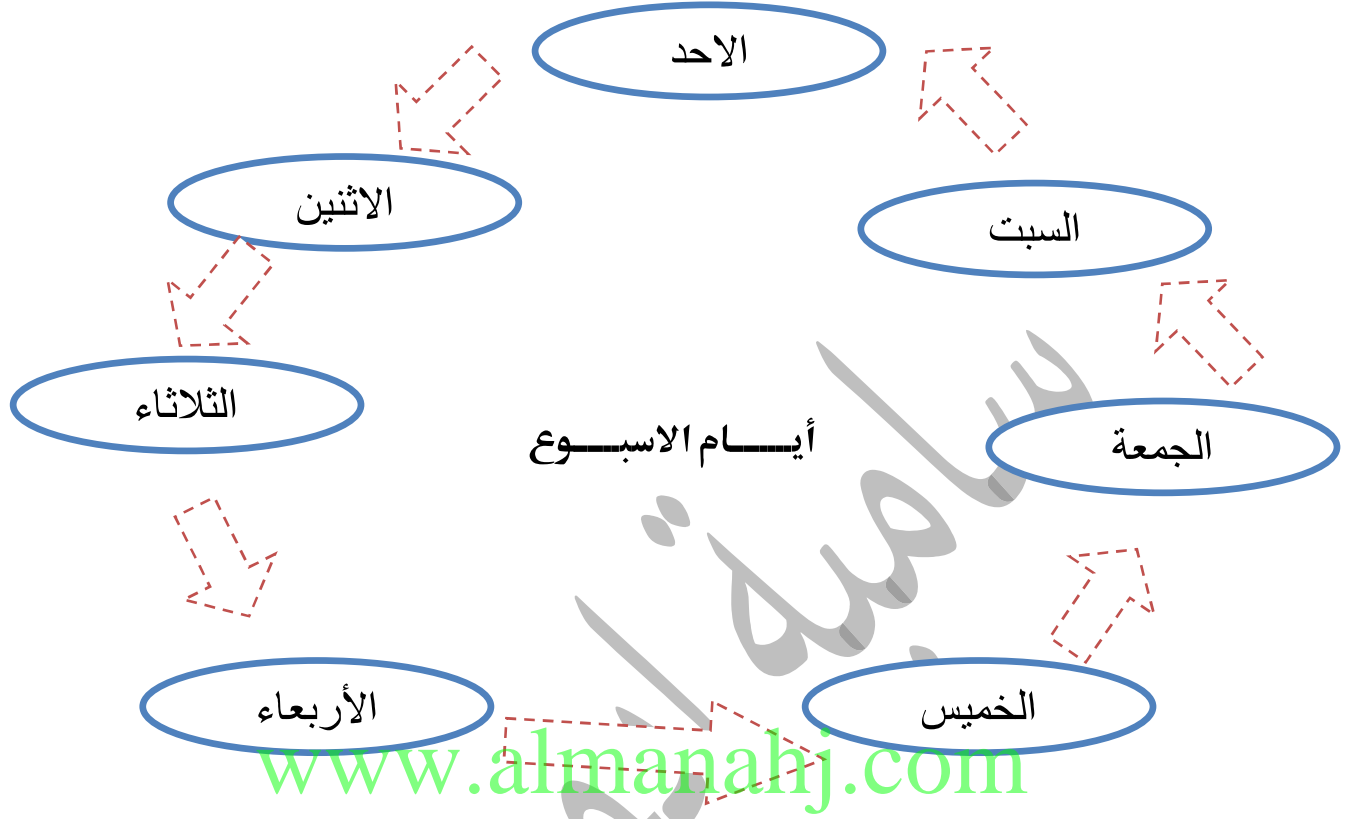
&&&&&&&&&&

السؤال الثالث :- صل كل علاقة زمنية بالوحدة الزمنية التي تساويها :

العلاقات الزمنية	
يوم واحد	60 ثانية
الساعة	52 أسبوعاً
الدقيقة	12 شهراً
سنة واحدة	4 اسابيع
اسبوع واحد	7 أيام
شهر واحد	12 ساعة
سنة واحدة	60 دقيقة



يتكون الاسبوع من سبعة أيام ( الوحدات الزمنية )

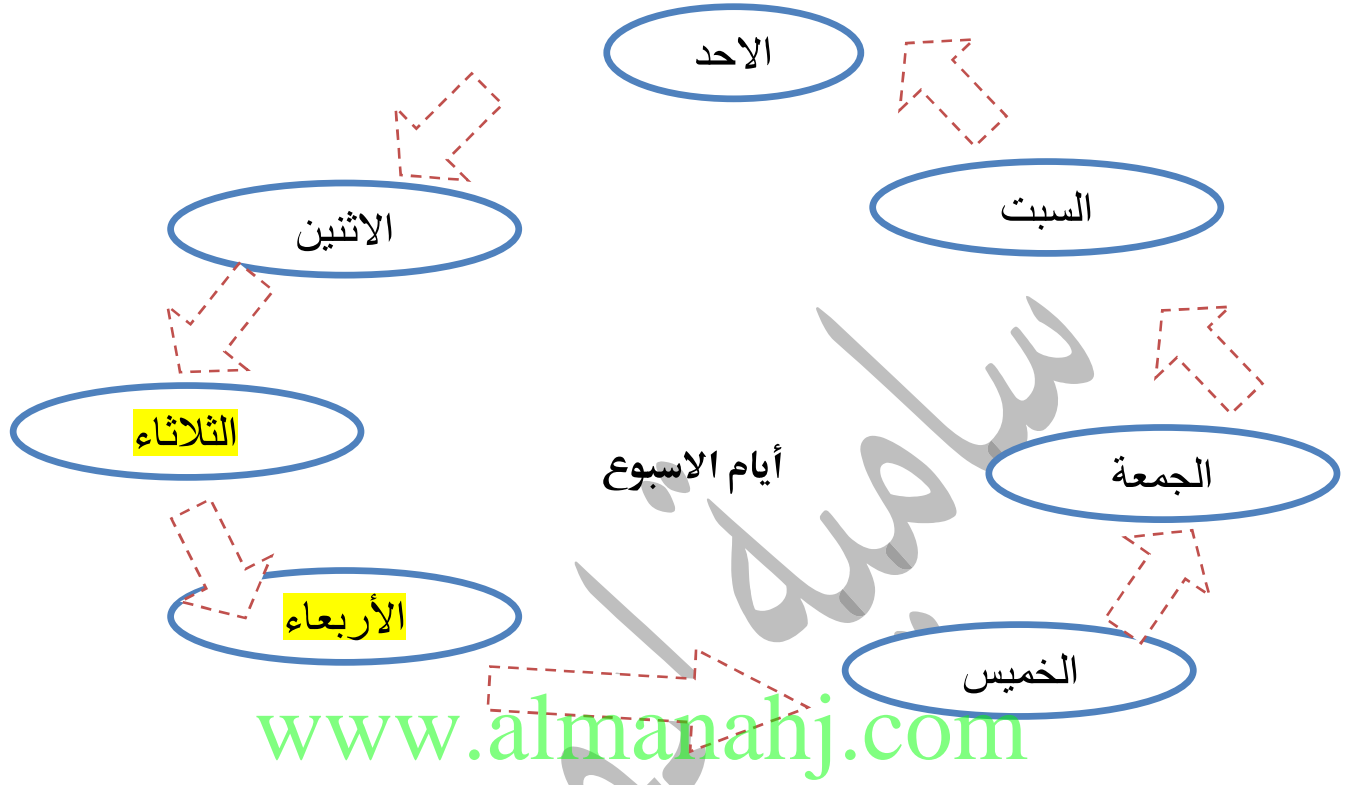


أيام الاسبوع عددها سبع أيام  
تبدأ من يوم الأحد - الاثنين - الثلاثاء - الأربعاء -  
الخميس - الجمعة - السبت

في المخطط لأيام الاسبوع نحدد اليوم الذي عليه دائرة  
اليوم الذي كان نعد بعكس عقارب الساعة

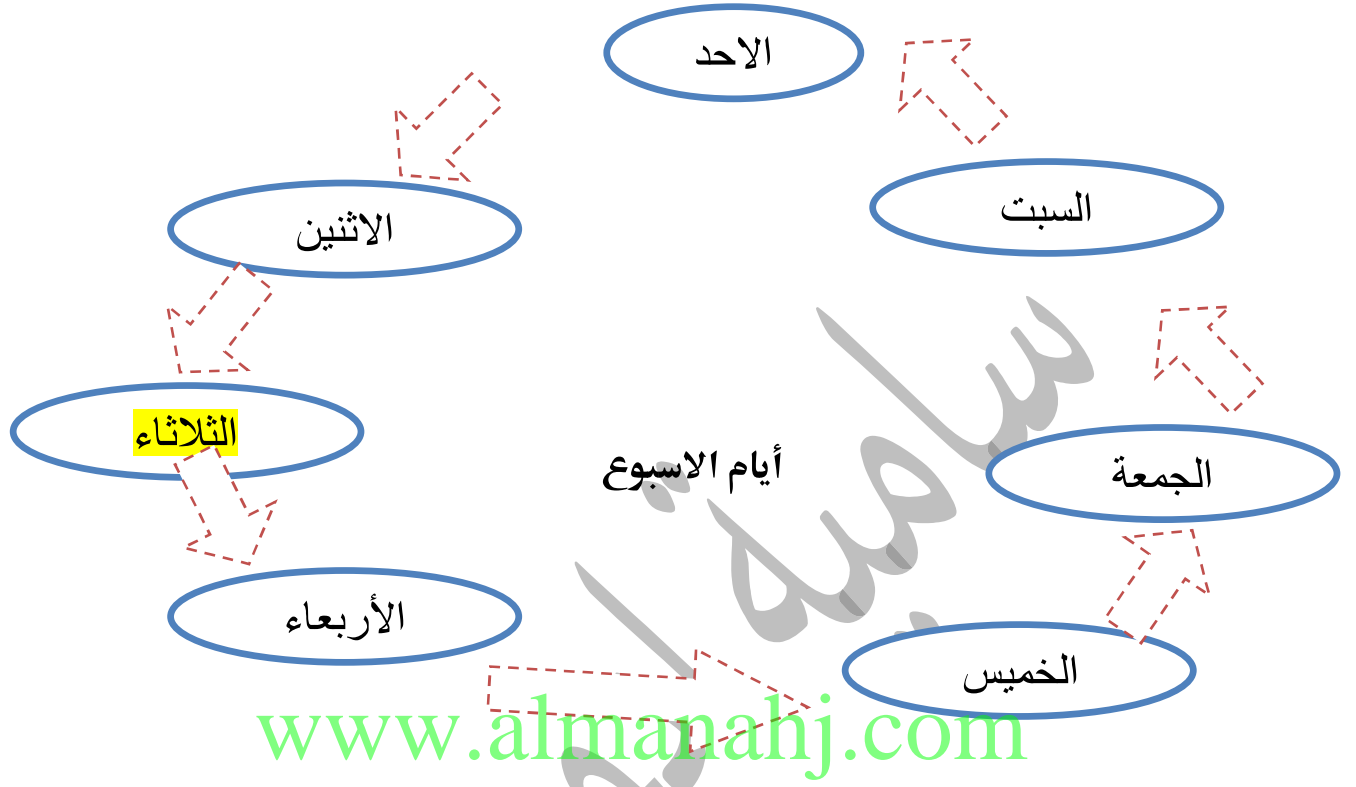
في المخطط لأيام الاسبوع نحدد اليوم الذي عليه دائرة  
اليوم الذي سيكون نعد مع عقارب الساعة

## السؤال الأول :- حدد اليوم يا صغاري



اليوم	اليوم الذي كان	اليوم الذي سيكون
2		
3		
4		
7		
14		
21		
24		
54		
70		
72		

## السؤال الثاني :- حدد اليوم يا صغاري



اليوم	اليوم الذي كان	اليوم الذي سيكون
2		
3		
5		
8		
14		
28		
24		
54		
60		
69		
7		



## أسئلة مهمة جداً:

يبدأ الاسبوع بيوم ..... وينتهي بيوم .....

كم عدد أيام الثلاثاء في يوم ؟

كم عدد أيام الثلاثاء في يوم ؟

& اليوم الذي يأتي بعد يوم الجمعة يوم .....

&& اليوم الذي يأتي قبل يوم الاحد يوم .....

&&& اليوم الذي يأتي قبل يوم الأربعاء بيومين يوم .....

[www.almanahj.com](http://www.almanahj.com)

&&&& اكتب ايام الاسبوع بالترتيب :

..... ، ..... ، ..... ، .....

..... ، ..... ، .....

..... 365 يوم الاربعاء يكرر في

..... 14 يوم الاربعاء يكرر في

..... 21 يوم الاربعاء يكرر في

..... 70 يوم الاربعاء يكرر في