

تابع امتحان نهاية الفصل الدراسي الثالث لمادة الرياضيات للصف الثاني للعام الدراسي 2017/2018م

(13) ركض رياضي مسابقاً إلى 100 متر ثلاث مرات . كم عدد الأمتار التي ركضها إجمالاً ؟

a) 200

b) 100

c) 300

(14) 55 سنتيمتراً + 45 سنتيمتراً =

a) 110 سنتيمتر

b) 1 متر

c) 90 سنتيمتر

(15) كم يبلغ طول قلم التلوين بالسنتيمترات ؟



a) 9

b) 84

c) 10

يبلغ طول معظم قطع الحلوى في التمثيل البياني بالنقاط المجمعة أدناه ؟

طول قطع الحلوى



a) 2

b) 3

c) 4



الصف : الثاني

المسادة : الرياضيات

عدد صفحات الأسئلة : (5)

امتحان نهاية الفصل الدراسي الثالث
للعام الدراسي 2017 / 2018 م

100

ضع دائرة حول رمز الإجابة الصحيحة فيما يأتي :



(1) ما الوقت الظاهر في الساعة ؟


a) 4:30

b) 5:30


c) 4:15

(2) حدد الساعة التي تشير إلى الوقت ؟


a)



b)



c)



(3) حدد وقت تناول عفاف لوجبة العشاء .

a) 6:40 PM

b) 6:40 AM

c) 9:15 AM



(4) ذهب محمد إلى الشاطئ مع عائلته لمدة 3 أسابيع.

كم عدد الأيام التي قضاها محمد على الشاطئ ؟

a) 14

b) 28

c) 21

5) ما الوحدة الأفضل لقياس وقت الذهاب إلى المتجر ؟




a) ساعات

b) أشهر

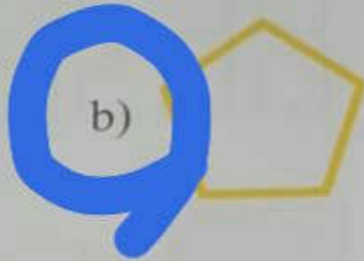
c) أسابيع

6) أي من الأشكال التالية عبارة عن خماسي الأضلاع ؟

a)



b)



c)



رأى خالد إشارة أثناء سيره في المنتزه. لم يكن للإشارة أي أضلاع أو زوايا .
ما شكل الإشارة؟

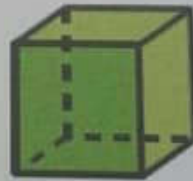


a) مستطيل

b) مثلث

c) دائرة

حدد الجسم الذي له نفس شكل



a)



b)



c)



حان نهاية الفصل الدراسي الثالث لمادة الرياضيات للصف الثاني للعام الدراسي 2017/2018م

(17) أي الأشكال يفضل استخدام الكوب لقياس حجم السائل فيه ؟

a)



b)



c)



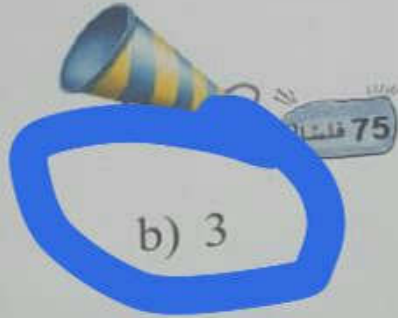
(18) حدد العلاقة بين الكوب و اللتر .

a) الكوب > اللتر

b) الكوب = اللتر

c) الكوب < اللتر

(19) كم عدد العملات من فئة 25 فلساً التي تحتاجها لشراء العنصر أدناه ؟



a) 2

b) 3

c) 4

ذى لها 2 عملة من فئة 25 فلساً و 4 عملات من فئة 10 فلسات،
تريد شراء 1 كيس من البسكويت المملح مقابل 1 درهم .
تحتاج من مس إضافي؟



a) 35 فلساً

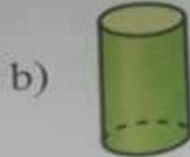
b) 20 فلساً

c) 10 فلساً

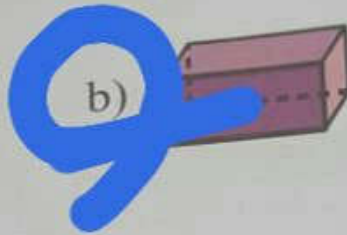
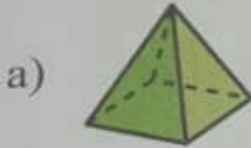
انتهت الأسئلة
بالتوفيق والنجاح

تتبع امتحان نهاية الفصل الدراسي الثالث لمادة الرياضيات للصف الثاني للعام الدراسي 2017/2018م

9) أنا شكلٌ ثلاثي الأبعاد . لدي 5 وجوه و 8 أضلاع و 5 رؤوس . فأي شكل أنا؟



10) حدد الشكل الذي تكونه الأوجه




11) ف الأجزاء المتساوية في الشكل



b) نصفان

c) أرباع



المربعات التي تكون المستطيل

a) 9

b) 12

c) 1