

**\*صنفي يا صغيرتي الكلمات التالية :**

( آسيا – الهندي – أفريقيا – أوروبا – الهادي – الأطلنطي )

المحيطات	القارات
1-.....	1-.....
2-.....	2-.....
3-.....	3-.....
4-.....	4-.....

**\*من أنا ؟ :**

(المحيط – الخليج – المضيق – البحار)

1- مسطحات مائية أصغر من المحيطات (.....)

2- فتحات ضيقة تصل بين الخليج و المحيط (.....)

3- مسطحات مائية كبيرة من المياه المالحة (.....)

5- مسطح مائي يحيط به اليابس من ثلاث جهات (.....)

**ضعي علامة (√) أمام الإجابة الصحيحة :**

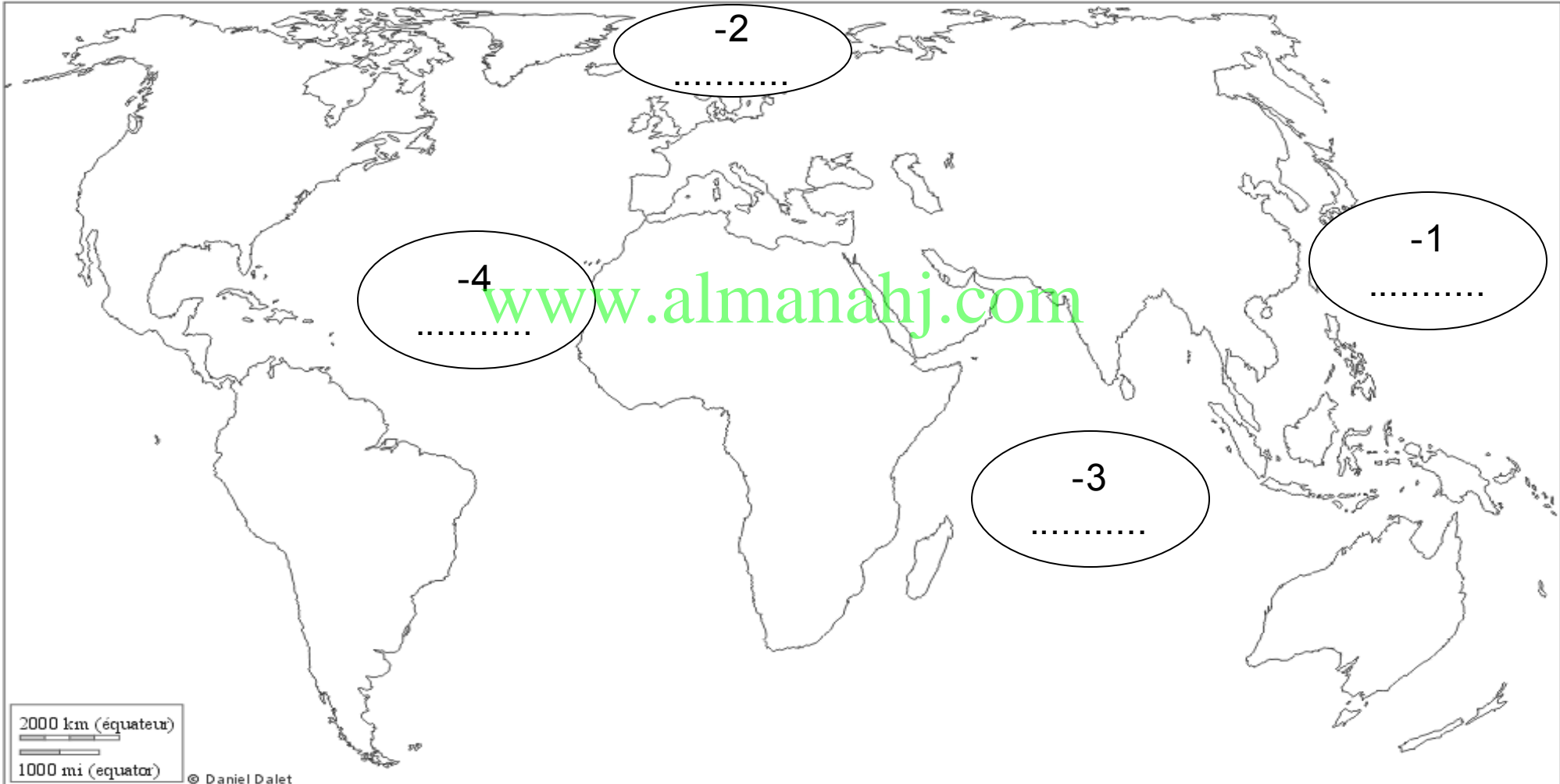
لا	نعم	الجملة
		1- عدد المحيطات في العالم أربع محيطات
		2- أكبر المحيطات هو المحيط الهادي
		3- تطل الإمارات على الخليج العربي
		4- تستخدم الطائرات في النقل عن طريق البحر

الاسم : .....

الصف : الثاني

الشعبة : .....

**\* اكتب اسماء المحيطات الخمس حسب الأرقام التالية مع تلوين المحيطات باللون الأزرق:**

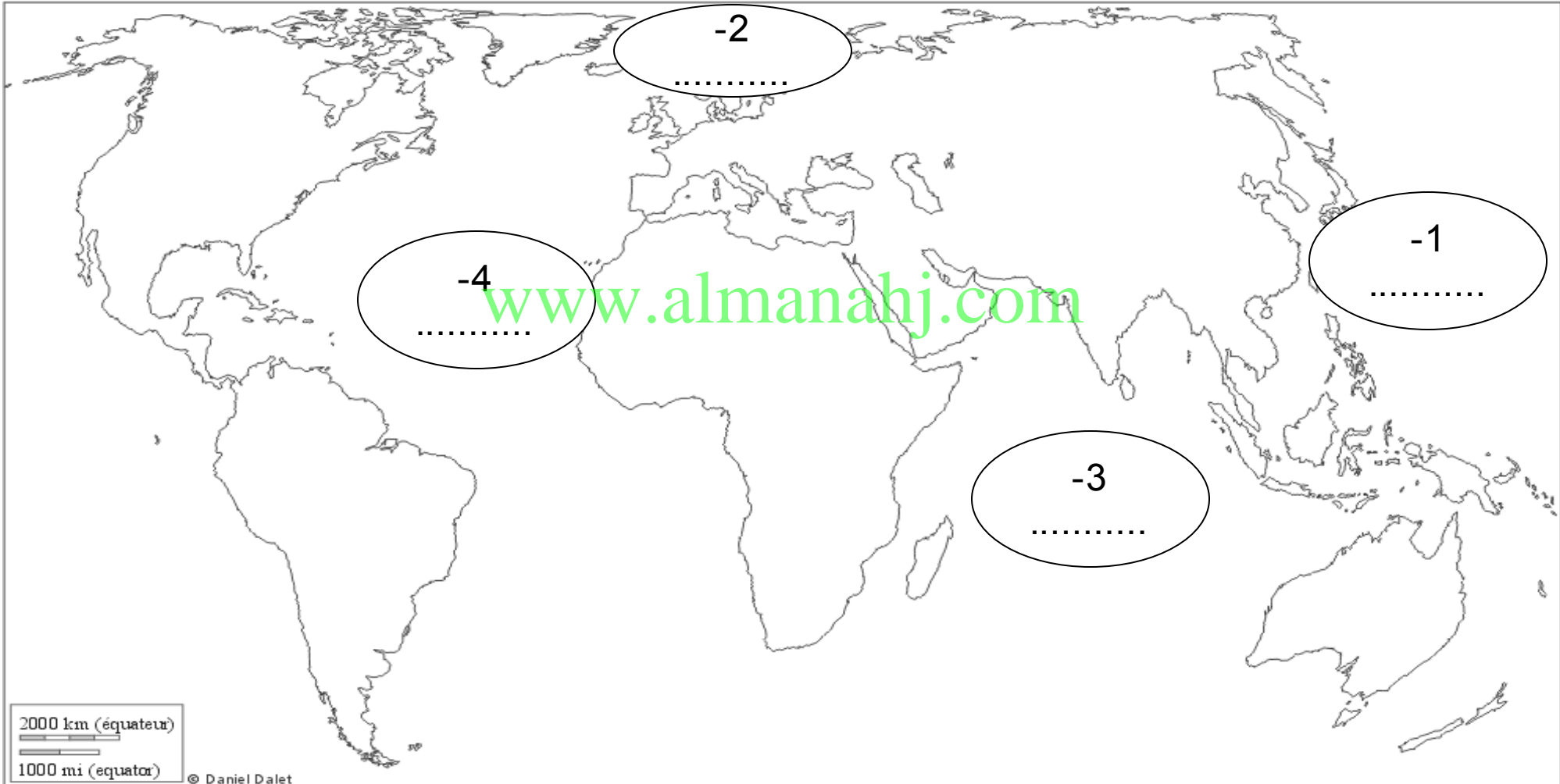


الاسم : .....

الصف : الثاني

الشعبة : .....

**\* اكتب اسماء المحيطات الخمس حسب الأرقام التالية مع تلوين المحيطات باللون الأزرق:**


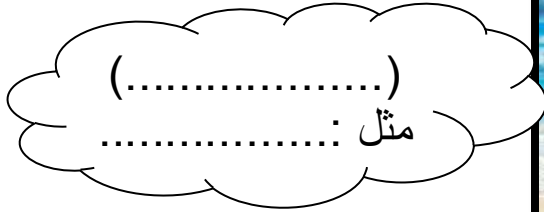

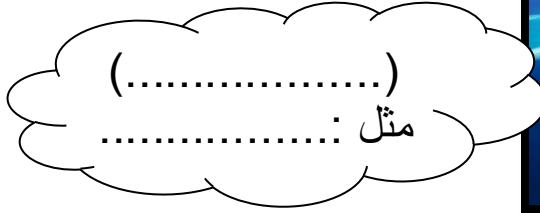


**\*رتب المحيطات من الأكبر للأصغر:**

1- المحيط المتجمد الشمالي ( ) 2- المحيط الهندي ( ) 3- المحيط الهادي ( )

4- المحيط الأطلنطي ( ) 5- المحيط المتجمد الجنوبي ( )

**\*اكتب ماتدل عليه الصور التالية ( البحر - الخليج - المحيط - المضيق ) واعطي مثال عليه :**



## • التعريفات درس المحيطات

ملحوظة :  
تحفظ جيداً

1- المحيط : مساحة كبيرة من المياه المالحة

2- البحر : مسطح مائي أصغر من المحيطات

3- الخليج : مسطح مائي تحيط به اليابس من ثلاث جهات

4- المضيق : فتحات ضيقة تربط بين المحيط و الخليج

• ترتيب المحيطات من الأكبر للأصغر :

- ( المحيط الهادي – المحيط الأطلنطي – المحيط الهندي – المحيط المتجمد الشمالي – المحيط المتجمد الجنوبي )

أمثلة على المسطحات المائية :

- \*المحيطات : ( الهادي – الهندي – الأطلنطي – المتجمد الشمالي – المتجمد الجنوبي )
- \*البحر : ( البحر الأحمر – البحر المتوسط )
- \*المضيق : ( مضيق هرمز )

## • التعريفات درس القارة

1- القارة : مساحة كبيرة من اليابس على الأرض

2- إفرست : أعلى قمة جبلية في العالم

3- القارة القطبية الجنوبية : قارة باردة جداً ولا توجد بها سكان إلا البطريق

[www.almanahj.com](http://www.almanahj.com)

• ترتيب القارات من الأكبر للأصغر :

- ( آسيا – أفريقيا - أمريكا الشمالية – أمريكا الجنوبية – القارة القطبية الجنوبية – أوروبا – أستراليا )

**ملحوظة :**

**تحفظ خصائص كل قارة**

**صفحة ( 36-37 ) جيداً**

رتب القارات من الأكبر للأصغر :

- 1- قارة أفريقيا ( )
- 2- قارة أمريكا الجنوبية ( )
- 3- قارة أوروبا ( )
- 4- القارة القطبية الجنوبية ( )
- 5- قارة آسيا ( )
- 6- قارة أستراليا ( )
- 7- قارة أمريكا الشمالية ( )

\*من أنا ؟ :(القارة - آسيا - البطريق - إفست - أفريقيا )

- 1- أعلى قمة جبلية في العالم . (.....)
- 2- ثاني قارات العالم من حيث المساحة . (.....)
- 3- طائر يعيش في القارة القطبية الجنوبية . (.....)
- 5- تقع دولة الإمارات في قارة . (.....)
- 6- قطعة كبيرة من اليابس . (.....)

www.almanahj.com

لون العبارة الصحيحة باللون الأزرق  
والعبارة الخاطئة باللون الأحمر :

لا	نعم	الجملة
		1- عدد قارات العالم سبع قارات
		2- يعيش حيوان اللاما في أمريكا الشمالية
		3- أستراليا أصغر قارات العالم
		4- توجد جبال إفست في قارة آسيا

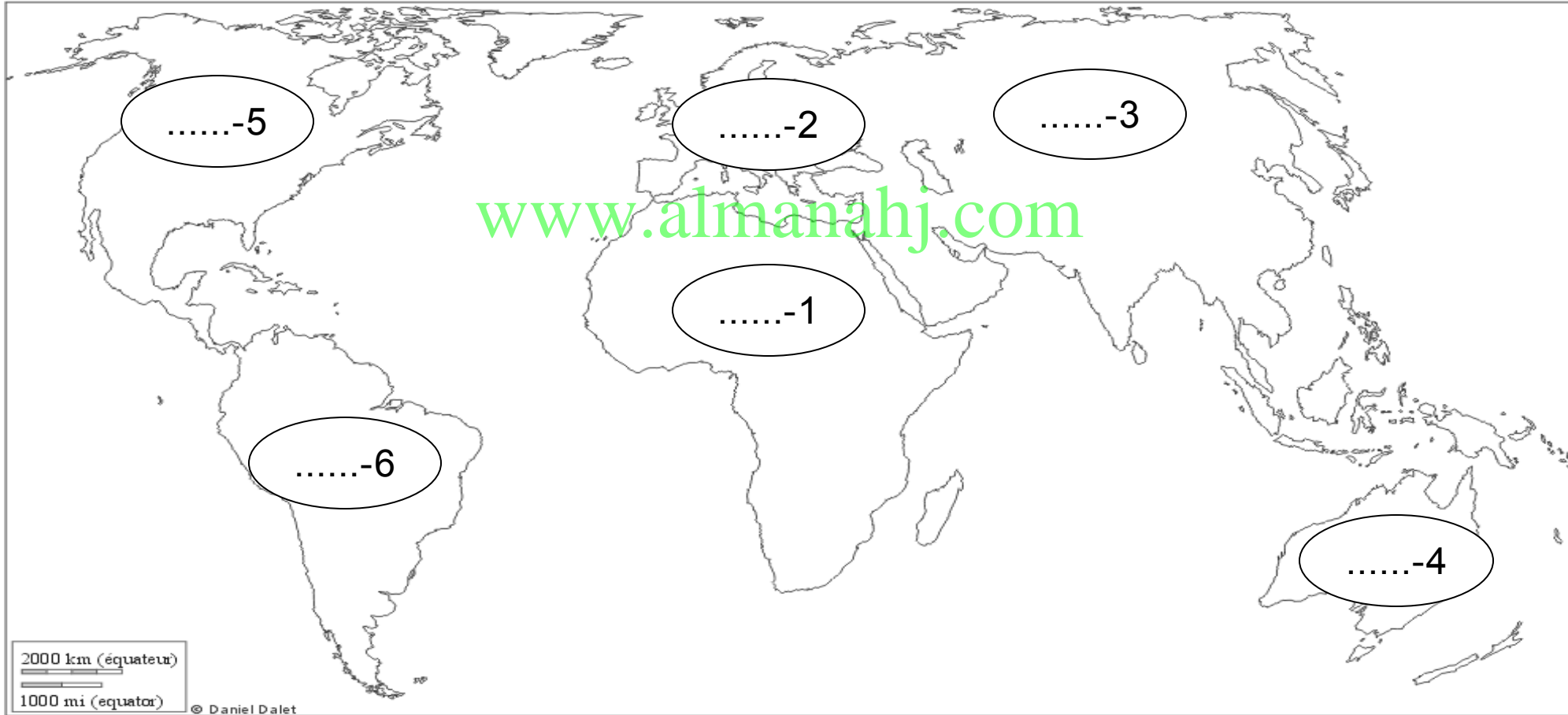
الاسم : .....

الصف : الثاني

الشعبة : .....

**\* اكتب اسماء القارات حسب الأرقام التالية مع تلوين كلاً من :**

**\* آسيا ( أحمر ) \* أفريقيا ( أخضر ) \* أمريكا الشمالية ( أزرق ) \* أمريكا الجنوبية ( أصفر ) \* أستراليا ( برتقالي ) \* أوروبا ( الوردي )**





**\* اختر و لون الإجابة الصحيحة باللون الوردى :**

**1- تقع دولتنا الحبيبة في قارة :**

( أفريقيا - آسيا - أوروبا )

**2- عدد قارات العالم :**

( 5 - 6 - 7 )

**3- أبرد قارات العالم هي:**

( أوروبا - أستراليا - القطبية الجنوبية )

**4- أعلى قمة جبلية في العالم :**

( الألب - إفرست - حفيت )

**5- أصغر قارات العالم :**

( أستراليا - أفريقيا - آسيا )

**\* اكتب اسماء المحيطات مع تلوين بالأزرق كلاً من :**



الاسم : .....

الصف : الثاني

الشعبة : .....

اكملى مربع الكتابة التالى :

.....

www.almanahj.com  
أمثلة على المحيطات

.....

...

.....

.....

الاسم : .....

الصف : الثاني

الشعبة : .....

اكملى مربع الكتابة التالي :

.....

www.أمثلة.على.المياه.com  
المالحة

.....

...

.....

.....

الاسم : .....

الصف : الثاني

الشعبة : .....

اكملى مربع الكتابة التالي :

.....

www.almarj.com  
أمثلة على الفصول  
الأربعة

.....

.....

.....

مبدعتي الصغيرة ارسمي بريشتك الجميلة :

www.almanahj.com  
فصل الربيع

الاسم : .....

الصف : الخامس

الشعبة : .....

اكملى مربع الكتابة التالى :

.....

أمثلة على حضارات  
الوطن العربي

.....

.....

.....



كوني مخطط ذهني من إبداعك عن ( خصائص حضارة وادي النيل ) :

[www.almanahj.com](http://www.almanahj.com)





كوني مخطط ذهني من إبداعك عن ( خصائص حضارة شبه الجزيرة العربية ) :

[www.almanahj.com](http://www.almanahj.com)