


## ورق عمل لغة عربية للصف الاول

اكتب اسم الحيوان .



[www.almanahj.com](http://www.almanahj.com)

حلل الكلمات التالية :

أفلام / ----- / ----- / ----- / -----

أغلام / ----- / ----- / ----- / -----


أزحام / ----- / ----- / ----- / -----

حميد / ----- / ----- / -----

جميل / ----- / ----- / -----

اكتب الكلمة في المكان المناسب الذي توجد به :

قران - مريض - طبيب - مطبخ - امام - صلاة - دواء - مجلس - ألعاب  
- غرفة نوم



Three sets of horizontal dashed lines for writing the answers.

وصل الكلمة بالضد :

كبير خلف


فوق صغير

أمام تحت

اقرأ ثم اجب :

[www.almanahj.com](http://www.almanahj.com)

ذهب رامي إلى محل الهدايا و اشترى



ماذا اشترى رامي

اشترى رامي ----- و -----

----- و -----

اكتب ضد الكلمات التالية :

قبيح

أبيض

قصير

دخل

أسود

جميل

خارج

كبير


صغير

تحت

فوق

داخل

[www.almanahj.com](http://www.almanahj.com)



## قصة الغراب والثعلب المكار

في احد الايام وقف غراب اسود الريش ذو منقار اصفر رفيع  
وجسم ممتلئ، تبدو عليه علامات الطيبة  
وقف على شجرة عالية كثيرة الاغصان في وسط حديقة  
جميلة اشجارها كثيفة وارضها فسيحة خضراء تكثر فيها الطيور المغردة  
و الزهور الملونة و قد وضع في فمه قطعة جبن صفراء  
و في تلك الاثناء مر ثعلب رمادي القراء عيناه غائرتن  
وفكه كبير و اسنانه حاده و جسمه نحيل من شدة الجوع  
يبدو عليه المكر و الحيلة و الدهاء  
اراد الثعلب خداع الغراب للحصول على قطعة الجبن  
ولانه يعلم ان الشجرة عالية، وهو لا يستطيع الطيران للوصول الى الغراب  
طلب منه ان يغني ليستمع بصوته الجميل وما ان فتح الغراب فاه حتى  
مقته قلمة الى ارضه فالتفت الغراب الى الثعلب وقال له

اختر الاجابة الصحيحة

- 1- لون ريش الغراب ( احمر - ابيض - اسود )
- 2- ماذا حدث عندما فتح الغراب فمه ( سقط الجبن - طار الغراب - مات الثعلب )
- 3- أسنان الثعلب ( حادة - نحيلة - صغيرة )

- شخصيات القصة ( الغراب والثعلب - الحصان والديك - القطه والدجاجة )

- ماذا كان يريد الثعلب ( يلعب - يجري - يأكل الغراب )

- من صفات الثعلب ( شجاع - طيب - مكار )

- أين وقف الغراب ( على المكتبة - على الشجرة - على الجدار )

- ماذا تتوقع في نهاية القصة

---

[www.almanahj.com](http://www.almanahj.com)

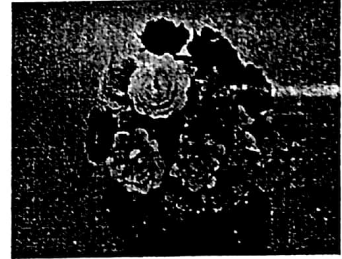
اسم الطالب : .....

التقويم الأول للفصل الدراسي الثالث

السؤال الأول : قارن بين الأجسام . أرسم دائرة حول الاجابة الصحيحة

قلم التحديد أقصر من الصورة

١ - النظارة أقصر من قلم التحديد





هل الصورة أطول من النظارة أم أقصر منها ؟

أقصر من

أطول من

عبوة الصمغ أقصر من القلم الرصاص

٢ - الممحاة أقصر من عبوة الصمغ



[www.almanahj.com](http://www.almanahj.com) هل القلم الرصاص أطول من الممحاة أم أقصر منها ؟



أقصر من

أطول من

السؤال الثاني : أرسم دائرة حول الجسم الصحيح



أيهما أقصر

أيهما أقصر



أيهما أقصر


أيهما أقصر





أيهما أطول



أيهما أطول







أيهما أطول






أيهما أطول

السؤال الرابع : 1- رتب الاجسام التاليه حسب الطول 1 للجسم الطويل 2 للجسم الأطول 3 للجسم الأطول على الاطلاق


www.almanahj.com



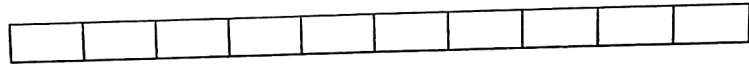
2-رتب الأجسام التاليه حسب الطول 1 للجسم القصير 2 للجسم الاقصر 3 للجسم الاقصر على الاطلاق





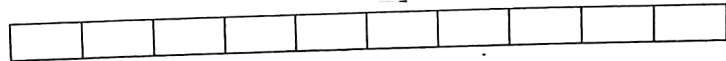


أوجد طول القلم باستخدام المكعبات



ما عدد المكعبات التي تساوي طول الفرشاه

[www.almanahj.com](http://www.almanahj.com)





15 مكعب


5 مكعبات

2 مكعبات

أستخدم العملات المعدنية للقياس




حوالي..... عملات معدنية




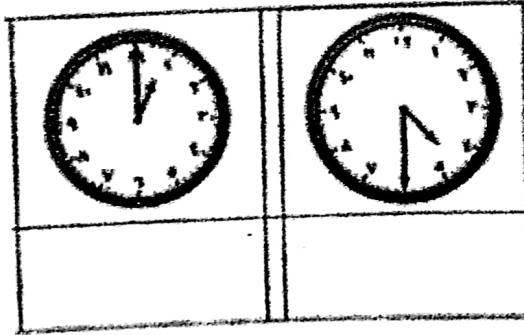
حوالي..... عملات معدنية

كم يبلغ طول الثعبان باستخدام العملات المعدنية



حوالي.....عملات معدنية

السؤال السادس : استخدم الساعة لإظهار الوقت [www.almanahj.com](http://www.almanahj.com)



مادة الرياضيات للعام الدراسي 2018/2017

سؤال الأول :

رتب الأعداد الآتية من الأكبر إلى الأصغر :-

76

23

35

11

71

[www.almanahj.com](http://www.almanahj.com)

اوجد ناتج الجمع :-

$$\begin{array}{r} 41 \\ + \\ 94 \\ \hline \end{array}$$

$$\begin{array}{r} 22 \\ + \\ 13 \\ \hline \end{array}$$

$$\begin{array}{r} 35 \\ + \\ 73 \\ \hline \end{array}$$

$$\begin{array}{r} 76 \\ + \\ 42 \\ \hline \end{array}$$

$$\begin{array}{r} 24 \\ + \\ 73 \\ \hline \end{array}$$



# السؤال الثاني

• اوجد ناتج الطرح

$$\begin{array}{r} 71 \\ - 51 \\ \hline \end{array}$$

20

$$\begin{array}{r} 35 \\ - 25 \\ \hline \end{array}$$

10

$$\begin{array}{r} 79 \\ - 22 \\ \hline \end{array}$$

57

$$\begin{array}{r} 76 \\ - 33 \\ \hline \end{array}$$

43

$$\begin{array}{r} 43 \\ - 22 \\ \hline \end{array}$$

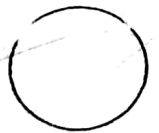
21

www.almanah.com

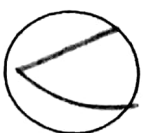
• ضع < أو > أو = :-

31  13

96  66

57  75

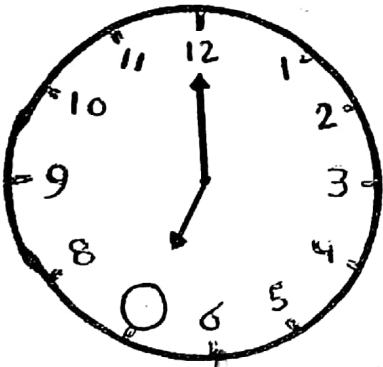
41  22

33  76

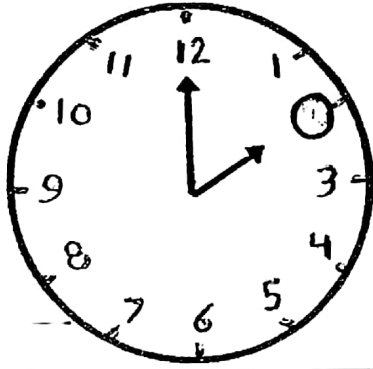
مدرسة وروضة اليمر الخاصة

اليوم والتاريخ: \_\_\_\_\_


\*حدد الوقت واكتبه:-



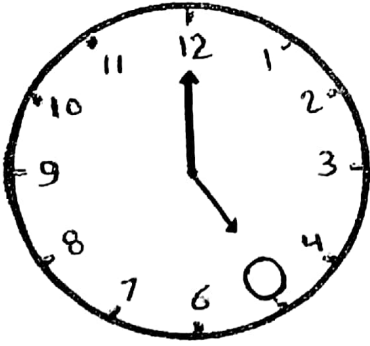
7:00



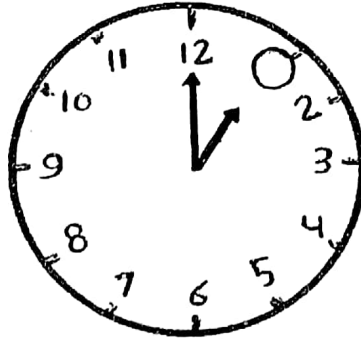
2:00



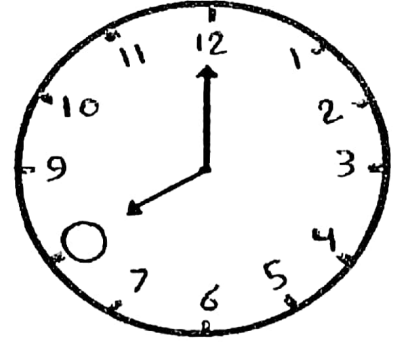
10:00



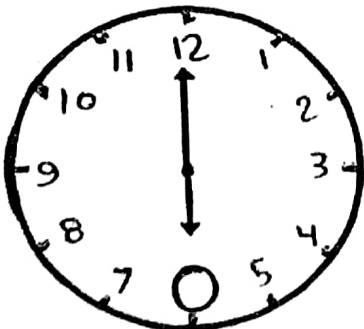
5:00



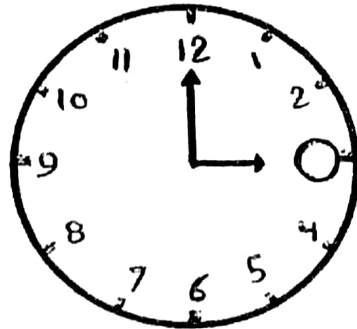
1:00



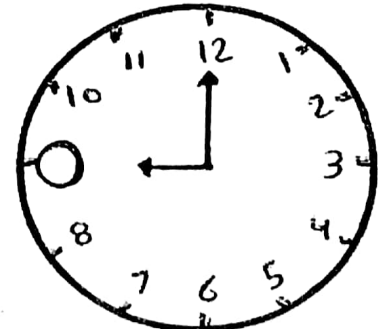
8:00



6:00



3:00

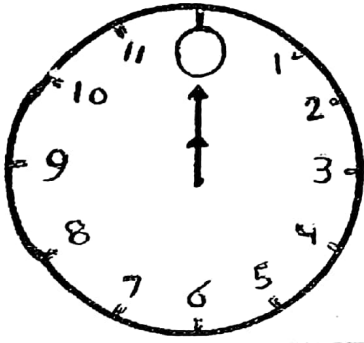


9:00

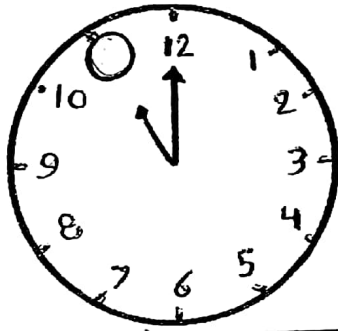
مدرسة وروضة البحر الخاصة

اليوم و التاريخ .

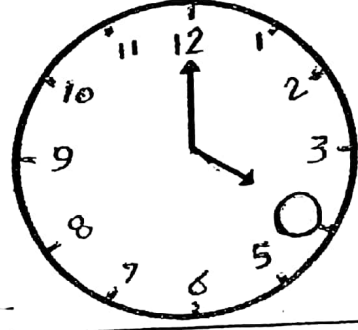
\* حدد الوقت واكتبه :-



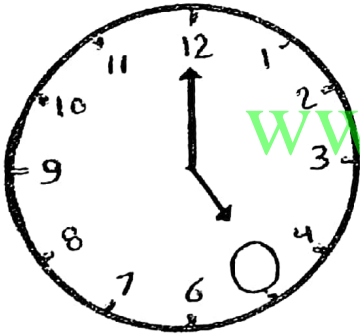
12 : 00



11 : 00




4 : 00



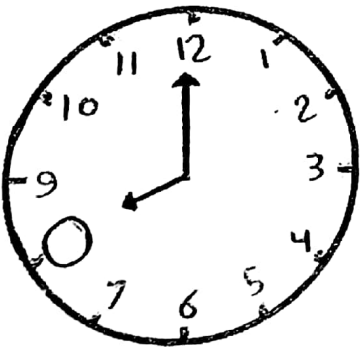
5 : 00



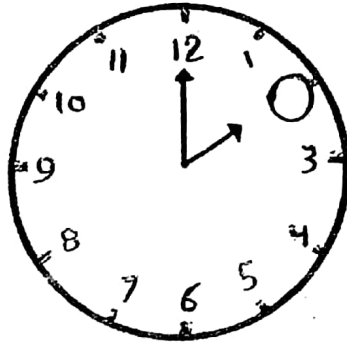
1 : 00




8 : 00



8 : 00



2 : 00



10 : 00