

الْوَحْدَةُ الثَّالِثَةُ الْجِهَاتُ وَطَرَائِقُ اسْتِخْدَامِهَا

ورقة الأسئلة



الدَّرْسُ الثَّالِثُ	الدَّرْسُ الثَّانِي	الدَّرْسُ الأوَّلُ
دلالاتُ الألوان في الخَرِيطَةِ	خَرِيطَةُ بِلَادِي	الجِهَاتُ الْأَصْلِيَّةُ وَطَرِيقُ تَحْدِيدِهَا
الجِهَاتُ وَالْأَلْوَانُ فِي الخَرِيطَةِ	الجِهَاتُ وَالْأَلْوَانُ فِي الخَرِيطَةِ	الجِهَاتُ وَالْأَلْوَانُ فِي الخَرِيطَةِ

ضعي إشارة (✓) عند الإجابة الصحيحة وإشارة (x) عند الإجابة الخاطئة:

1. () الجهات الأصلية هي الشمال والجنوب والغرب.
2. () تعد الشمس أقرب النجوم إلى الأرض.
3. () الجهة التي تقع بين جهتين أصليتين تسمى الجهات الفرعية.
4. () يشير مؤشر البوصلة دائماً إلى جهة الشمال.
5. () يعد استقبال القبلة شرط من شروط صحة الصلاة.

إختاري الإجابة الصحيحة:

1. هي الشمال والجنوب والشرق والغرب.
www.almanahj.com
(الجهات الأصلية - الجهات الفرعية)
2. هي الجهة التي تقع بين جهتين أصليتين.
(الجهات الأصلية - الجهات الفرعية)
3. نحدد الجهات نهاراً بواسطة التي تشرق دائماً من جهة الشرق، وتغرب من جهة الغرب.
(الشمس - البوصلة - القبلة).
4. نحدد الجهات ليلاً ونهاراً بواسطة وهي جهاز نستخدمه في السفن والطائرات.
(الشمس - البوصلة - القبلة).



5. معرفة الجهات تساعدنا في تحديد جهة وهي الجهة التي يقابلها الشخص لأداء الصلاة.

(الشمس - البوصلة - القبلة).

ضعي الجهات الأصلية في المكان المناسب

الشَّرْقُ الشَّمَالُ العَرَبُ الجَنُوبُ



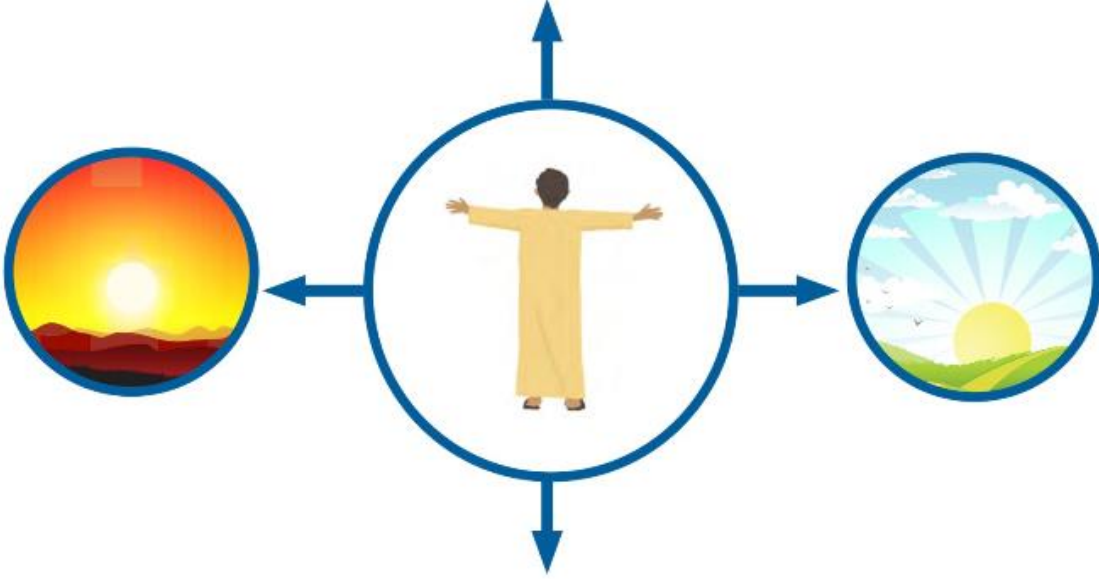
www.almanahj.com



أَطَبِّقْ مَا تَعَلَّمْتَ



أَلَا حِظُّ الشَّكْلِ الْآتِي ثُمَّ أُجِيبُ عَمَّا يَلِيهِ مِنْ أَسْئَلَةٍ:



www.almanahj.com • إلى أيِّ جهةٍ يُشيرُ الولدُ بيدهِ اليمَنِ؟

• إلى أيِّ جهةٍ يشيرُ الولدُ بيدهِ اليسرى؟

• ما اسمُ الجهةِ التي أمامه؟

• ما اسمُ الجهةِ التي خلفه؟



أرسمي الجهات الأصلية ولونها:-



ضعي الجهات الأصلية والفرعية في المكان المناسب:-

www.almanahj.com

الجنوب الشرقي الشمال الغربي الغرب الجنوب الجنوب الغربي الشمال الشرقي

الجهات الأصلية والفرعية



ضعي الجهات الأصلية والفرعية في المكان المناسب:-

السَّمَالُ الشَّرْقِيُّ.



هذه الكُرَّةُ تَقَعُ بَيْنَ السَّمَالِ وَالشَّرْقِ.
تُسَمَّى هَذِهِ الْجِهَةُ

السَّمَالُ الْغَرْبِيُّ.

وَهَذِهِ الطَّائِرَةُ الْوَرَقِيَّةُ تَقَعُ بَيْنَ السَّمَالِ وَالْغَرْبِ.
تُسَمَّى هَذِهِ الْجِهَةُ



www.almanahj.com



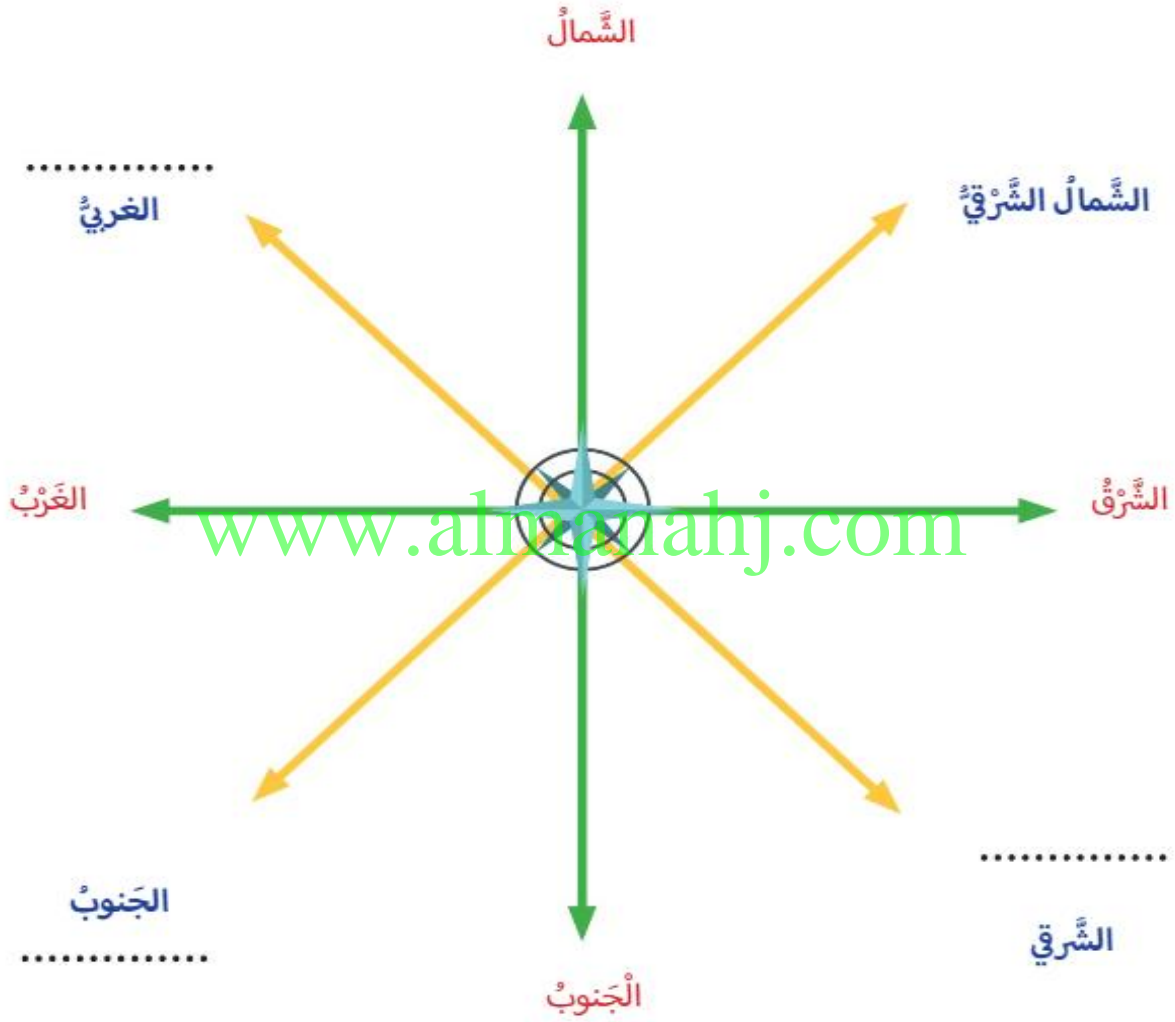
هَذَا الْكِتَابُ يَقَعُ بَيْنَ الْجَنُوبِ وَالشَّرْقِ.
تُسَمَّى هَذِهِ الْجِهَةُ

وهذه الدَّرَاجَةُ تَقَعُ بَيْنَ الْجَنُوبِ وَالْغَرْبِ.
تُسَمَّى هَذِهِ الْجِهَةُ



أَطْبِقْ مَا تَعَلَّمْتَ

أَسْتَكْمَلُ كِتَابَةَ أَسْمَاءِ الْجِهَاتِ الْفَرَعِيَّةِ عَلَى الشَّكْلِ الْآتِي:



أَسْتَكْشِفُ وَأُسَجِّلُ 🔍

أَقْرَأِ الْعِبَارَاتِ الْآتِيَةَ وَأَضَعُ عَلَامَةَ (√) عِنْدَ الْإِجَابَةِ الصَّحِيحَةِ:

- الْجَنُوبُ الْعَرَبِيُّ هُوَ الْجِهَةُ الَّتِي تَقَعُ بَيْنَ الْجَنُوبِ وَالشَّرْقِ
- تُسَمَّى الْجِهَةُ بَيْنَ الشَّمَالِ وَالشَّرْقِ بِالشَّمَالِ الشَّرْقِيِّ.

أَفَكِّرُ وَأَجِبُ 🔍

أَضَعُ الْكَلِمَاتِ الْمُسَاعِدَةَ أَمَامَ الْجُمْلِ الْآتِيَةِ:

الشَّمَالُ الْعَرَبِيُّ - الْجَنُوبُ الْعَرَبِيُّ - الشَّمَالُ الشَّرْقِيُّ

الكَلِمَاتُ الْجَدِيدَةُ



● أَنَا جِهَةٌ

أَقَعُ بَيْنَ الشَّمَالِ وَالشَّرْقِيِّ.

● أَنَا جِهَةٌ

أَقَعُ بَيْنَ الْجَنُوبِ وَالْعَرَبِيِّ.

● أَنَا جِهَةٌ

أَقَعُ بَيْنَ الشَّمَالِ وَالْعَرَبِيِّ.



● أَكْتُبُ اسْمَ الْأَشْخَاصِ الَّذِينَ يَسْتَخْدِمُونَ الْبُوصْلَةَ بِالِاسْتِعَانَةِ بِالصُّورِ الْآتِيَةِ:



www.almanahj.com أَشَارِكُ وَأَتَعَلَّمُ 
أَخْتَارُ الْإِجَابَةَ الصَّحِيحَةَ لِلْجُمْلِ الْآتِيَةِ:

● وَسِيلَةً نَسْتَخْدِمُهَا لَيْلاً وَنَهَارًا لِتَحْدِيدِ الْجِهَاتِ الْأَصْلِيَّةِ:

● الْقَمَرُ - الْبُوصْلَةُ - الشَّمْسُ - النَّجْمُ

● مَوْشَرُ الْبُوصْلَةِ دَائِمًا يُشِيرُ إِلَى جِهَةٍ:

● الشَّمَالُ - الشَّرْقُ - الْعَرَبُ - الْجَنُوبُ

أرسم، وألونُ 

أرسمُ طَريقَةً تُحدِّدُ بِهَا الجِهَاتِ الأُصْلِيَّةَ:

www.almanahj.com



أم موزة أحمد

ضعي إشارة (√) عند الإجابة الصحيحة وإشارة (x) عند الإجابة الخاطئة:

1. () الصورة هي رسم مصغر للظواهر الموجودة على سطح الأرض. بمقياس رسم معين.
2. () الخريطة هي نسخة طبق الأصل لما نراه حولنا في الطبيعة. كما هو في الحقيقة (مثل الإنسان، الحيوان، النبات، الجماد)
3. () الصورة والخرائط تساعدنا في تعرف الأماكن.
4. () الخريطة رسم مصغرة لكان ما (قرية - مدينة - دولة) تعرض معلومات متنوعة ومفيدة.
5. () الخريطة غير ضرورية لجميع الناس.
6. () مفتاح الخريطة يساعدنا في فهم محتوى الخريطة.

www.almanahj.com

إختاري الإجابة الصحيحة:

1. هي رسم مصغر للظواهر الموجودة على سطح الأرض، بمقياس رسم معين.
(الصورة - الخريطة - المفتاح)
2. هي نسخة طبق الأصل لما نراه حولنا في الطبيعة، كما هو في الحقيقة (مثل الإنسان، الحيوان، النبات، الجماد)
(الصورة - الخريطة - مفتاح)
3. الخريطة تساعدنا في قراءة و فهم معلومات محتوى الخريطة.
(الصورة - الخريطة - مفتاح)



أَصِلْ بِحَطِّ بَيْنَ الْمَفْهُومِ وَالْعِبَارَةِ الْمُنَاسِبَةِ لَهَا:

● رَسْمٌ مُصَغَّرٌ وَمُبَسِّطٌ
لِلْأَمَاكِينِ عَلَى سَطْحِ
الْأَرْضِ.
● نسخة طُبِقَ الْأَصْلُ
لِلْمَكَانِ الْحَقِيقِيِّ كَمَا تَرَاهُ
بِأَعْيُنِنَا.

● الصُّورَةُ
● الخَرِيطَةُ

www.almanahj.com

أَلْوَنُ الْمُرَبَّعِ أَمَامَ الْعِبَارَةِ الصَّحِيحَةِ فِيمَا يَأْتِي:

	العبارات
	تَظْهَرُ الْأَشْيَاءُ فِي الصُّورَةِ كَمَا تَعَوَّدْنَا عَلَيْهَا.
	يُحَدِّدُ الرَّسَّامُ الْأَلْوَانَ فِي الْخَرِيطَةِ.
	الصُّورَةُ وَالْخَرِيطَةُ لَا تُسَاعِدُنَا فِي تَعَرُّفِ الْأَمَاكِينِ.



أرسم مخطّطاً لصفك:

www.almanahj.com



ضعي الكلمات التالية في المكان المناسب:-

مفتاح الخريطة : عنوان الخريطة إطار الخريطة الجهات الأصلية:

وهي الشمال والجنوب والشرق والغرب.

وهي أربعة خطوط مستقيمة تُحيط بالخريطة.

التي توضع فيه الرموز

تضاريس دولة الإمارات العربية المتحدة

ضعي الكلمات المساعدة في المكان المناسب في الصورة التالية:-

الكلمات المساعدة - العنواُن - مفتاح الخريطة - إطار الخريطة - الجهات

www.almanahj.com

المُدُن في دولة الإمارات العربيّة المتّحدة

مدينة		الرمز ● يدل على
الحدود السياسية		الرمز ● يدل على
العاصمة		الرمز — يدل على

أَضَعُ عَلامَةً (√) أَمَامَ العِبارَةِ الصَّحيحةِ وَعَلامَةً (x) أَمَامَ العِبارَةِ الخَطأِ في الجَدولِ الآتي:

لا أوافقُ	أوافقُ	العِباراتُ
		إِطارُ الخَريطةِ هو ثلاثَةُ حُطوطٍ مُستقيمةٍ تُحيطُ بالخَريطةِ.
		الرُّموزُ تُوضَعُ في مِفْتاحِ الخَريطةِ.
		لا بُدَّ أنْ تُحتويَ جَميعُ الخَرائِطِ على عُنوانٍ.

www.almanahj.com

لا بُدَّ أنْ تُحتويَ جَميعُ الخَرائِطِ على عُنوانٍ.



أَسْتَعِينُ بِرُكْنِ الْمَعْرِفَةِ، وَأَخْتَارُ الْإِجَابَةَ الصَّحِيحَةَ لِلْجُمَلِ الْآتِيَةِ:

● رَسْمٌ مُصَغَّرٌ وَمُبَسَّطٌ لِلْمَوَاقِعِ وَالْأَشْيَاءِ عَلَى سَطْحِ الْأَرْضِ:

صُورَةٌ - خَرِيْطَةٌ - مُخَطَّطٌ

● نُسَاعِدُ فِي تَحْدِيدِ الْجِهَاتِ الْأَرْبَعِ عَلَى الْخَرِيْطَةِ:

الْجِهَاتُ الْأَصْلِيَّةُ - الْعُنْوَانُ - إِطَارٌ

● رَمُوزٌ تَوْصَعُ فِي مِفْتَاحِ الْخَرِيْطَةِ وَنُسَاعِدُنَا عَلَى فَهْمِ الْخَرِيْطَةِ: www.almanahj.com

عُنْوَانُ الْخَرِيْطَةِ - مِفْتَاحُ الْخَرِيْطَةِ - إِطَارُ الْخَرِيْطَةِ



أستكمل العناصر الأساسية للخريطة:

المِفْتاحُ - العُنْوَانُ - الإِطَارُ

الكَلِمَاتُ المُسَاعِدَةُ

أرْبَعَةُ حُطُوطٍ مُسْتَقِيمَةٍ

تَوْضَعُ فِيهِ الرُّمُوزُ

اسْمُ الخَرِيْطَةِ

مِنْ سَنَعِ بِلَادِي
أَتَعَلَّمُ



نَظَافَتِي عُنْوَانُ حَضَارَتِي.

أُحَدِّدُ، وَأَكْتُبُ



أستكمل العناصر الأساسية للخريطة:



www.almanahj.com

تَوْزِيعُ السُّكَّانِ فِي دَوْلَةِ الإِمَارَاتِ العَرَبِيَّةِ المُتَّحِدَةِ



إِسْتَعِينُ بِالْكَلِمَاتِ، ثُمَّ اكْتُبْهَا فِي الْمَكَانِ الْمُنَاسِبِ:

الخليج العربي - السُّعُودِيَّةُ - عُمانَ

الكَلِمَاتُ الْمُسَاعِدَةُ



ضعي إشارة (✓) عند الإجابة الصحيحة وإشارة (x) عند الإجابة الخاطئة:

1. () اللون الأصفر يرمز في خريطة دولة الإمارات العربية المتحدة على اللّثبان الرملية.
2. () تغطي الصحراء معظم مساحة دولة الإمارات العربية المتحدة.
3. () تكثر اللّثبان الرملية في صحراء دولة الإمارات العربية المتحدة.
4. () الصحراء هي كتلة من الرمال تحركها الرياح، ثم تلتقيها هنا وهناك.
5. () تغطي الرمال معظم المناطق الصحراوية في دولة الإمارات العربية المتحدة.
6. () تتركز الجبال في دولة الإمارات العربية المتحدة في المناطق الشرقية.
7. () تعد الجبال ذات قيمة اقتصادية كبيرة لأنها تعتبر من المناطق السياحية الهامة في دولة الإمارات العربية المتحدة.
8. () يتميز سكان الجبال بقوة التحمل والصبر.
9. () السهول الساحلية هي أرض منبسطة كثيرة الارتفاع.
10. () تطل السهول الساحلية على بحر عمان والخليج العربي.
11. () فارس أجداد الصيّد قد بدأ مستغلين قربهم من بحر عمان والخليج العربي.

www.almanahj.com

إختاري الإجابة الصحيحة:

1. هي كتلة من الرمال تحركها الرياح ثم تلتقيها هنا وهناك.
(الصحراء - الجبل - اللّثبان الرملية)
2. هو أرض مرتفعة ولها قمة



(الصحراء - الجبل - اللّثبان الرملية)

3. تتركز الجبال في دولة الإمارات العربية المتحدة في المناطق الشرقية مثل و

(رأس الخيمة و أم القيوين - خورفكان والفجيرة - أبوظبي والعين)

4. هي حرفه يقوم بها الراعي بإرسال الأغنام إلى اطرعى للأكل.

(حرفه الزراعة - رعي الأغنام)

5. هي أرض منبسطة قليلة الإرتفاع.

(السهول الساحلية - الصحراء - الخليج العربي)

6. تطل السهول الساحلية لدولة الإمارات العربية المتحدة على و

(بحر عمان والخليج العربي - قطر والمملكة العربية السعودية - سلطنة عمان والخليج العربي)

ضعي الكلمات التالية في المكان المناسب في الجدول التالي:

الصحراء - سباق الهجن - سباق السيارات - تحمل المشاق - إكرام الضيف - الترحل على اللّثبان الرملية.

الأنشطة	العوادات الحميدة
1.	1.
2.	2.
3.	3.

فاذا بمارسن سكان السهول الساحلية؟

1.

2.

3.



أَسْتَعِينُ بِالْكَلِمَاتِ الْمُسَاعِدَةِ وَأَكْتُبُهَا فِي مَكَانِهَا الْمُنَاسِبِ :

الصَّحْرَاءُ - سِبَاقُ الْهَجْنِ - الصَّبْرُ

الكَلِمَاتُ الْمُسَاعِدَةُ

اللَّوْنُ الْأَصْفَرُ

صِفَاتُ سُكَّانِ الصَّحْرَاءِ

أَنْشِطَةٌ تَرْفِيهِيَّةٌ



أَلْوَنُ، وَأَتَعَلَّمُ

أَلْوَنُ بِاللَّوْنِ الْأَصْفَرِ الصَّحْرَاءُ فِي خَرِيْطَةِ دَوْلَةِ الْإِمَارَاتِ الْعَرَبِيَّةِ الْمُتَّحِدَةِ .



أقرأ، وأصل

أصل الكلمات الآتية بالصُّورِ التي تُناسِبُها:

سباقُ الهُجْنِ ●



الصَّحراءُ ●

www.almanahj.com



التزحلق على الكُثبانِ
الرَّمليَّةِ ●



الكَرْمُ ●



أُطَبِّقُ مَا تَعَلَّمْتُ

أَلْوَنُ الْمَرْبَعِ الْمُقَابِلِ لِلْإِجَابَةِ الصَّحِيحَةِ فِي الْعِبَارَاتِ الْآتِيَةِ:

لا أوافقُ	أوافقُ	العِبَارَاتُ
		الجبل أرض منخفضة.
		تنتشر الجبال في أمر القيوين.
		يدل اللون البني في الخريطة على الجبال.

www.almanahj.com



أَلَوْنُ، وَأَتَعَلَّمُ

أَلَوْنُ الْجِبَلِ طَبَقًا لِلرَّقْمِ 2 وَاللَّوْنِ الْمُخَصَّصِ فِي الْخَرِيْطَةِ الْآتِيَةِ .



أفكر في أجيب:
www.almanahj.com
● ما أَلَوْنُ الشَّهْوَلِ السَّاحِلِيَّةِ عَلَى الْخَرِيْطَةِ.

● تُمَارِشْ عَلَى السَّاحِلِ أَنْشِطَةً عَدِيْدَةً مِثْلُ:

أَحْوِطُ الْإِجَابِيَّةِ الصَّحِيْحَةَ فِي الْفِقْرَةِ الْآتِيَةِ:

● الشَّهْوَلِ السَّاحِلِيَّةِ مُطَلَّةٌ عَلَى:

الْبَحْرِ

الْجِبَالِ



أَلْوَنُ الْمَرْبَعِ الْمُقَابِلِ لِلإِجَابَةِ الصَّحِيحَةِ فِي العِبَارَاتِ الآتِيَةِ:

لا أوافقُ	أوافقُ	العِبَارَاتُ
		أَرْضٌ مُنْبَسِطَةٌ قَلِيلَةٌ الارتفاعِ تُسَمَّى السُّهُولَ.
		لَوْنُ السُّهْلِ عَلَى الخَرِيْطَةِ أَحْمَرُ
		تُطَلُّ السُّهُولُ السَّاحِلِيَّةُ فِي دَوْلَةِ الإِمَارَاتِ العَرَبِيَّةِ المُتَّحِدَةِ عَلَى بَحْرِ عُمانَ وَ الخَلِيجِ العَرَبِيِّ.

أَلْوَنُ، وَاتَّعَلَّمْ

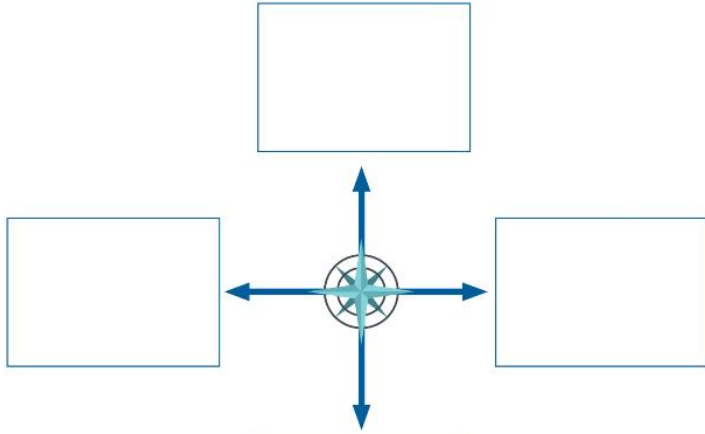
أَلْوَنُ السُّهُولَ السَّاحِلِيَّةَ عَلَى خَرِيْطَةِ دَوْلَةِ الإِمَارَاتِ العَرَبِيَّةِ المُتَّحِدَةِ:

www.almanahj.com

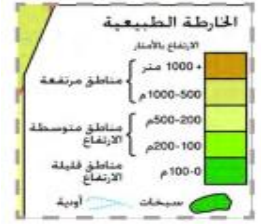


ضعي الحرف المناسب في اماكن المناسب في الجدول التالي:-

أختاريج الصورة المناسبة لإكمال مرفوق مدينتي. حيث اماكن تقع في جهة الشمال. والحدائق في جهة الجنوب والعبادة الصحية في جهة الشرق. والمسجد في جهة الغرب.



www.almanahj.com



A



B



C



D



E



F



G



H

