

رابع - الدراسات الإجتماعية والتربية الوطنية

صلي المصطلح بالمعنى المناسب:-

هي أرض طويلة منخفضة تحيطها أراض مرتفعة من الجوانب.		الجبل
هي سهول مطلة على البحر		الوادي
كتلة ضخمة من الصخور المرتفعة عن سطح الأرض ذات قمم تتميز بالحدة والارتفاع.		السهول
هي أرض منبسطة قليلة الارتفاع.		السهول الساحلية

www.almanahj.com

ضعي إشارة (√) عند الإجابة الصحيحة وإشارة (x) عند الإجابة الخاطئة:

1. () تتركز جبال دولة الإمارات العربية المتحدة في المنطقة الشرقية من شعم شمالاً إلى العين جنوباً.
2. () تنقسم جبال دولة الإمارات العربية إلى ثلاث أقسام: القسم الشمالي والقسم الشرقي والقسم الجنوبي.
3. () يمتد القسم الجنوبي بمحاذاة السهل الشرقي المطل على بحر عمان.
4. () يشمل القسم الجنوبي المناطق الجبلية متوسطة الارتفاع التي تنتهي قرب مدينة العين.
5. () أعلى قمة في جبال دولة الإمارات العربية المتحدة قمة جبل جيس في إمارة رأس الخيمة.
6. () تعد السهول سمة مشتركة في أجزاء كثيرة من دولتنا الحبيبة وهي ذات قيمة اقتصادية كبيرة.



7. () تتميز السهول الداخلية بخصوبة أراضيها واحتوائها على أعداد هائلة من أشجار النخيل.
8. () تقطع السهول الداخلية عدة أودية جافة لا تجري المياه فيها إلا عقب سقوط الأمطار.

إختاري الإجابة الصحيحة:

1. هي كتلة ضخمة من الصخور المرتفعة عن سطح الأرض ذات قمم تتميز بالحدة والارتفاع.
(الجبال - الأودية - السهول)
2. هي أراضٍ طويلة منخفضة تحيطها أراضٍ مرتفعة من الجوانب.
(الجبال - الأودية - السهول)
3. القسم يشمل المناطق الجبلية متوسطة الارتفاع تنتهي قرب مدينة العين (الشمالي - الجنوبي - الغربي - الشرقي)
4. القسم يمتد بمحاذاة سهل الشرقى المطل على بحر عمان.
(الشمالي - الجنوبي - الغربي - الشرقي)
5. من الأودية التي تتخلل جبل جيس (وادي البيح - وادي حام والسيجي)
6. هي أرض منبسطة قليلة الارتفاع.
(الجبال - الأودية - السهول)
7. الساحل يطل على بحر عمان ويتميز بضيقه وقصره نظراً لشدة انحدار الجبال.
(الشرقي - الغربي)
8. من أشهر مدن الساحل الشرقي مدينة و
(أم القيوين ورأس الخيمة - الفجيرة وخورفكان - أبوظبي ودبي)
9. الساحل يطل على الخليج الغربي ويتميز باتساعه وطوله.
(الشرقي - الغربي)
10. أغلب مدن الدولة تتركز على الساحل
(الشرقي - الغربي)

11. تمتد من سفوح الجبال الشرقية حتى بداية الكثبان الرملية.
(الساحلية – الداخلية)

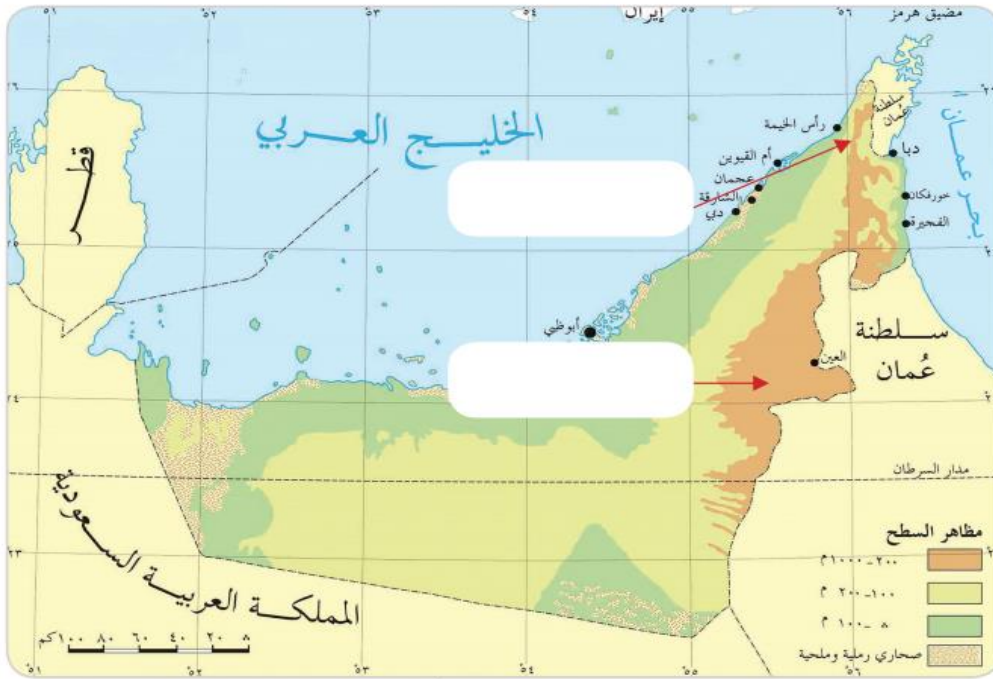
• **عددي الأهمية الاقتصادية للجبال؟**

..... 1 2
.....
..... 3 4
.....

• **أطبّق ما تعلّمتُ**

◀ **الأحيط وأحدّد**

- **أضع مُسمّيات الجبال في موقّعها المناسب على الخريطة: [القسم الشمالي - القسم الجنوبي]**





أَتَأْمَلُ وَأَسْتَكْشِفُ ◀

- أَتَأْمَلُ الصَّوْرَةَ، ثُمَّ أُجِيبُ عَمَّا يَأْتِي:

• وَجْهٌ نَصِيحَةٌ لِأَصْدِقَائِكَ عِنْدَ جَرَيَانِ الْأَوْدِيَةِ؟

.....

.....

.....

.....

www.almanahj.com



أفكّر وأقرّر

- أضغ إشارة (✓) على الصُورة الأكثر فائدة للدولة عن أهميّة الجبال من وجهة نظري الشخصية مع ذكر السبب.



www.almanahj.com



• السبب:



• عددي الأهمية الاقتصادية للسهول الساحلية:-

1.
2.
3.
4.

• يرتبط بالسهول الساحلية العديد من الظواهر الطبيعية عددي هذه الظواهر:

1.
2.
3.

www.almanahj.com

• تنقسم السهول في دولة الإمارات العربية المتحدة إلى:

1.
2.
من السهول الساحلية:-
1.
2.
3.

• عددي الأهمية الاقتصادية للسهول الداخلية:-

1.
2.
3.



صلى الأهمية الاقتصادية لكل من الجبال والسهول:-

تزودنا بالمواد الأولية مثل
أحجار البناء

الصيد البحري

تخزين مياه الأمطار

السياحة

انتشار الزراعة في القرى
الجبلية

ممارسة الهوايات البحرية

ازدهار السياحة في دولة
الإمارات العربية المتحدة

الاستيراد والتصدير

الأهمية الاقتصادية
للجبال

الأهمية الاقتصادية
للسهول

www.almanahj.com



◀ أَتَأَمَّلُ وَأُجِيبُ

- اسْتَخْلِصْ مِنَ الصُّوَرِ الْآيَةَ الْأَهْمِيَّةَ الْاِقْتِصَادِيَّةَ لِلشُّهُولِ السَّاحِلِيَّةِ وَالذَّاخِلِيَّةِ:

الشُّهُولُ السَّاحِلِيَّةُ



-1



-2






-3

www.almanahj.com



الشهون الداخليّة

_____	-1	
_____	-2	
_____	-3	

www.almanahj.com **أخطأ وأبتدى**

- أنا مواطنٌ مُبتدئٌ أخطأ مشاريعَ منّا فقلنا علينا أن نلجأ إلى بلدية في بلادنا

• حدّد اسم المشروع:

• موقع المشروع:

• سبب اختيار الموقع:



صلي المصطلح بالمعنى المناسب:-

أرض جافة قليلة المطر.	الجزر
هي أماكن تخصص لحماية الأنواع الحيوانية والنباتية المهدة بالإنقراض.	المحمية الطبيعية
أراض محاطة بالماء من جميع الإتجهات.	الواحة
مناطق منخفضة في الصحراء تتوافر فيها المياه.	الصحراء

ضعي إشارة (✓) عند الإجابة الصحيحة وإشارة (x) عند الإجابة الخاطئة:

1. () تشمل المياة الإقليمية لدولة الإمارات العربية المتحدة على العديد من الجزر منها طناب الكبرى وطناب الصغرى وجزيرة أبوموسى التي وقعت تحت الإحتلال الإيراني عام 1970 م.
2. () تعتبر جزيرة صير بني ياس واحدة من أجمل المحميات الطبيعية في دولة الإمارات العربية المتحدة.
3. () تحتوي جزيرة صير بني ياس على 100,000 من الحيوانات التي تتجول في ربوعها البحرية.
4. () من أبرز الحيوانات الموجودة في جزيرة صير بني ياس المها العربي والغزلان.
5. () يغلب على مظاهر السطح في دولة الإمارات العربية المتحدة الطبيعة الصحراوية .
6. () الواحات هي مناطق منخفضة في الصحراء تتوافر فيها المياه.
7. () للتغلب على مشكلة قلة المياه وتحويل البقع القاحلة إلى بقع خضراء بأشجار النخيل تمكن بعض سكان الإمارات من حفر الآبار والحصول على المياه الجوفية.

إختاري الإجابة الصحيحة:

1. أحتلت إيران جزر الإمارات العربية المتحدة عام
(1970 م – 1971 م – 1972 م)
2. هي أماكن تخصص لحماية الأنواع الحيوانية والنباتية المهدة بالانقراض.
(الجزر – المحميات الطبيعية – الواحة)

3. تعتبر جزيرة واحدة من أجمل المحميات الطبيعية في دولة الإمارات العربية المتحدة.

(طنب الصغرى - طناب الكبرى - صير بني ياس)

• عددي أسماء الجزر الموجودة في دولة الإمارات:-

1. 2.

3.

• عددي أهمية الجزر

1. 2.

3.

• من أبرز الحيوانات التي تضمها جزيرة صير بني ياس:-

www.almanahj.com

1. 2.

• أَطَبِّقُ مَا تَعَلَّمْتُ

◀ الْأَحْظُ وَأَصِفُ

- اسْتَنْبِجْ تَعْرِيفاً لِلْجَزِيرَةِ مِنْ خِلالِ الصُّورَةِ الْآتِيَةِ؟

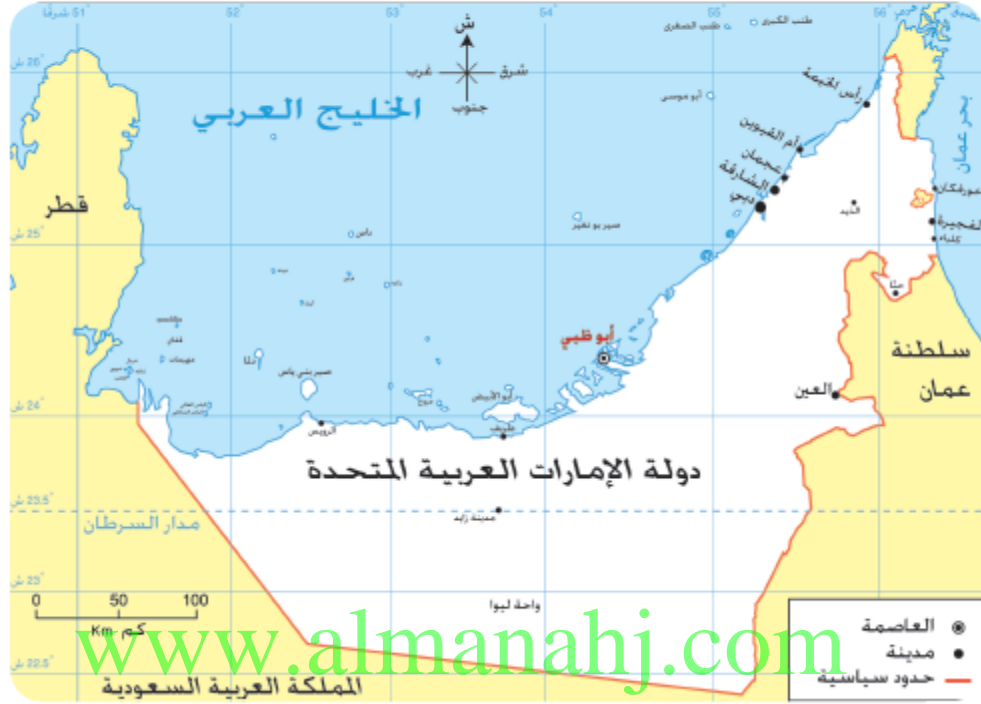
• الْجَزِيرَةُ هِيَ:

.....



أفكّر وأحدّد

- أحدّد على الخريطة ما يأتي:
- 1- أكبر الجزر الإماراتية
 - 2- من أصغر الجزر الإماراتية



الأحيط وأصيل

- أصل الأهميّة بالجزيرة المناسبة لها:



www.almanahj.com

• من أهم خصائص الصحراء:-

1.
2.
3.
4.
5.

• عددي الأهمية الاقتصادية للصحراء:-

1.
2.
3.
4.

ألاحظ وأجيب

- أستخلص من الصورة خصائص الصحراء، وأدونها في مكانها المناسب في الجدول:



أختبر معلوماتي www.almanahj.com

- أضع علامة (✓) أو (x) أمام العبارات الآتية:

- 1- تحتزن صحاري دولة الإمارات العربية المتحدة في جوفها كميات كبيرة من المياه الجوفية. []
- 2- اعتمد سكان الصحراء على الصناعة كمصدر أساسي من مصادر التنمية الاقتصادية. []
- 3- عمل سكان الصحراء على تربية الإبل والأغنام والأبقار. []

أختبر معلوماتي

- تحيل نفسك تقوم برحلة في ربيع دولة الإمارات العربية المتحدة - سجل الظواهر التي سنشاهدها في هذه الرحلة:

الظواهر الطبيعية	جوانب استغلالها

تَضَارِيضُ بِلَادِي









www.almanahj.com



ضعي إشارة (✓) عند الإجابة الصحيحة وإشارة (x) عند الإجابة الخاطئة:

1. () المناخ دائماً يكون أدفئ عند الجبل منه عن قمة الجبل فكلما زاد الارتفاع انخفضت درجة حرارة الهواء.
2. () المناطق القريبة من البخار والمحيطات أبرد وأكثر امطاراً من المناطق الداخلية.
3. () المناخ في الصيف ترتفع درجات الحرارة بشكل كبير وتزداد نسبة الرطوبة على المناطق الجبلية بسبب قربها من البحار.
4. () المناخ في الشتاء يكون معتدل وتسقط فيه بعض الامطار التي تختلف من سنة إلى أخرى.
5. () يؤثر النمط المناخي الحار والجاف في دولة الإمارات على حياة الناس.

إختاري الإجابة الصحيحة:

1. حالة الجو خلال شهر أو فصل أو سنة.
(الفصل – المناخ – الحياة الطبيعية)
2. هي النباتات التي تنمو طول العام دون تدخل الإنسان.
(النباتات الحولية – النباتات المعمرة)
- هي نباتات تنمو مباشرة عقب سقوط الامطار.
(النباتات الحولية – النباتات المعمرة)
3. هي فطر بري موسمي ينمو في الصحراء بعد سقوط الأمطار.
(السدر – السمر – الحماض – الكمأ)
4. طائر بري من فصيلة الحجل والدواجن، جميل المنظر عذب النداء يتواجد في المناطق البرية والسهول الحصوية والأراض الزراعية ويألف الكثبان الرملية.
(الحمام – الراعي – الصفرد)

• **عددي العوامل المؤثرة في مناخ بلادي :-**

1.
2.
3.

• لماذا يكثر تواجد الناس بالقرب من الجبال؟

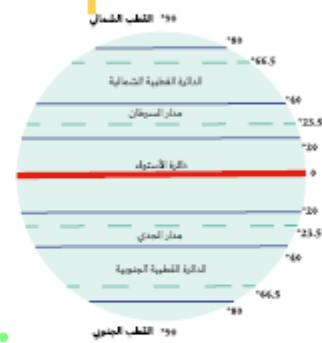
.....

.....

أَلَوْنٌ وَأَدَوْنٌ

- اسْتَخْرِمِ الشَّبَكَةَ الذَّهَبِيَّةَ الْآتِيَةَ:

العوامل المؤثرة في مناخ دولة الإمارات العربية المتحدة



www.almanahj.com

-3

-1



-2

أَفْكَرْ وَأَقَارِنْ

- أَقَارِنْ بَيْنَ فَصْلِي الشَّتَاءِ وَالصَّيْفِ فِي دَوْلَةِ الْإِمَارَاتِ الْعَرَبِيَّةِ الْمُتَّحِدَةِ، بِنَاءً عَلَى الْجَدُولِ الْآتِي:

فَصْلُ الشَّتَاءِ	فَصْلُ الصَّيْفِ	وَجْهُ الْمُقَارَنَةِ
		دَرَجَةُ الْحَرَارَةِ
		الْأَمْطَارِ



• الكَلِمَاتُ الْمُسَاعِدَةُ: [الجبل - الحرارة - الإرتفاع]

• التَّعْمِيمُ:

أَقْرَأْ وَأَحْلَلْ

- أَقْرَأِ الْجَدْوَلَ الْآتِيَّ لِتَمَوْسُطَاتِ دَرَجَةِ الْخَرَارَةِ لِقَدِينَةِ أَبُولْيِي عَلَى سُدَى الْعَامِ، ثُمَّ أَجِيبْ عَلَى الْآتِي:

شهر	يناير	فبراير	مارس	أبريل	مايو	يونيو	يوليو	أغسطس	سبتمبر	أكتوبر	نوفمبر	ديسمبر
درجة الحرارة	17.9	19	22	26.1	30.4	32.1	34.3	34.4	32.2	28.4	24	19.9

1- أَلْوَنُ أَعْلَى شَهْرٍ مِنْ حَيْثُ دَرَجَةُ الْخَرَارَةِ [شَهْرٌ _____]

2- اسْتَحْرِجْ حَقِيقَةَ جُغْرَافِيَّةِ مِنْ الْجَدْوَلِ.

3- أَحَدِّدْ أَفْضَلَ شَهْرًا لِلسَّيَاحَةِ فِي إِمَارَةِ أَبُولْيِي؟ [شَهْرٌ _____]

www.almanahj.com

• عددي أمثلة على النباتات المعمرة:

1.
2.
3.

• عددي أمثلة على النباتات الحولية:-

1.
2.
3.

• عددي أهم أنواع الحيوانات البرية:

1.
2.
3.



أُمَيَّرُ وَالْوَنُّ

- أَلْوَنُ النَّبَاتَاتِ الْحَوْلِيَّةِ فِي دَوْلَةِ الْإِمَارَاتِ الْعَرَبِيَّةِ الْمُتَّحِدَةِ:

السَّمْرُ

الغافُ

الحميَّضُ

المراوُ

الجُبَيْرُ

سدرٌ

www.almanahj.com



• أَلْخَص ما تَعَلَّمْت

- أَسْتَكْمِل المَحَظَّ الذَّخِيح الآتِي:

مِشَاخِ يَلَادِي

ما أَثَر المِشَاخِ فِي الحَيَاةِ
الطَبِيعِيَّة؟

ما نَوْعُهُ؟



www.almanahj.com

