

مراجعة للفصل الدراسي الأول للصف الرابع

الهدف: قياس مدى استيعاب الطلاب لما تم دراسته و الاستعداد لامتحان نهاية الفصل الاول

ضع علامه (✓) او (x) امام العبارات التالية:-

1. جزيرة داس تعتبر من موانئ تصدير النفط والغاز داخل الدولة. (✓)
2. من المحميات الطبيعية جزيرة صير بني ياس. (✓)
3. عمل سكان الصحراء على تربية الأغنام والأبقار والإبل. (✓)
4. من الأهمية الاقتصادية للسهول الداخلية وجود مزارع النخيل والخضراوات والفاكهة (✓)
5. من الأهمية الاقتصادية للجبال تخزين مياه الأمطار. (✓)
6. السهول الساحلية هي السهول المطلة على البحر. (✓)
7. من خصائص الصحراء ندرة الأمطار. (✓)
8. السهل الساحلي الشرقي يتميز بضيقه وقصره. (✓)
9. يقع مدار السرطان في نصف الكرة الجنوبي. (x)
- 10 - يقسم خط الاستواء الكرة الأرضية إلى نصفين شمالي وجنوبي. (✓)
- 11 - مدار الجدي يقع شمال خط الاستواء. (x)
- 12 - تعرف دائرة العرض الرئيسية بخط جرينتش. (x)
- 13 - يمر خط الاستواء عند دائرة عرض صفر. (✓)
- 14 - القطب الشمالي عند دائرة عرض 23.5 شمالاً. (x)

اكتب المفاهيم والمصطلحات لكل مفهوم :-

www.almanahj.com

- هو موقع المكان بالنسبة لليابسة والماء. (الموقع النسبي)
- هي نقاط الاستدلال الجغرافية أربع وهي الشمال والجنوب والشرق والغرب. (الجهات الأصلية)
- هي جميع الأجسام التي تدور حول الشمس. (المجموعة الشمسية)
- هي موقع جسم ما على سطح الكرة الأرضية. (الموقع الجغرافي)
- هو موقع المكان بالنسبة لخطوط الطول ودوائر العرض. (الموقع الفلكي)
- هي خطوط طولية متوازية وعددها 360 خطاً طولياً. (خطوط الطول)
- هي عبارة عن خطوط وهمية تظهر على شكل دوائر وعددها 180 دائرة عرضية. (دوائر العرض)
- هو خط الطول الرئيسي (خط الصفر) ويقسم العالم إلى قسمين متساويين شرقي وغربي. (خط جرينتش)
- هو دائرة العرض الرئيسية وتقسّم العالم إلى قسمين متساويين شمالي وجنوبي. (خط الاستواء)
- تعد كتلة ضخمة من الصخور المرتفعة عن سطح الأرض ذات قمم (الجبال)
- هي أراض طولية منخفضة تحيطها أراض مرتفعة من الجوانب (الأودية)
- هي أرض منبسطة قليلة الارتفاع (السهول)
- هي سهول مطلة على البحر (السهول الساحلية)
- هي أماكن تخصص لحماية الأنواع الحيوانية والنباتية المهددة بالانقراض (المحميات الطبيعية)
- هي أراض جافة قليلة المطر (الصحراء)
- هي مناطق منخفضة في الصحراء تتوفر فيها المياه (الواحات)

أذكر خصائص الصحراء .

قلة عدد السكان

قلة النباتات

ندرة المطر

حرارة مرتفعة صيفاً
- منخفضة شتاءً

إن الصحراء هي المساحة الأكبر وجوداً داخل أرض دولة الإمارات .

ما هي أهمية الجزر؟

مناطق سكنية

مثل جزيرة دلما

محميات طبيعية

مثل جزيرة صير بني ياس

موانئ لتصدير الغاز

مثل جزيرة داس

الجبال في دولة الإمارات :

تنقسم إلى قسمين:

القسم الشمالي: هو المطل على بحر عمان ويمتد بقرب السهل الشرقي .

القسم الجنوبي: يشمل المناطق الجبلية متوسطة الارتفاع تنتهي قرب مدينة العين .

أعلى قمة في جبال دولة الإمارات قمة **جبل جيس** في إمارة رأس الخيمة

ما هي الأهمية الاقتصادية للجبال؟

ازدهار السياحة

انتشار الزراعة

تخزين مياه
الأمطار

تمدنا بأحجار
النساء

www.almanahj.com

السهول: (سهول ساحلية - سهول داخلية)

السهول الساحلية تنقسم إلى قسمين

الساحل الغربي	الساحل الشرقي
يتميز باتساعه وطوله	يتميز بضيقه وقصره
يطل على الخليج العربي	يطل على بحر عمان
يتركز من أبوظبي-دبي-الشارقة-عجمان-أم القيوين-رأس الخيمة	أشهر مدنه الفجيرة وخورفكان

الأهمية الاقتصادية للسهول الداخلية	الأهمية الاقتصادية للسهول الساحلية
ينتشر بها مزارع النخيل والفواكه والخضروات والماشية	الصيد البحري
استخراج المياه العذبة	السياحة
صناعة الأدوات الفخارية وصناعات مرتبطة بالنخيل	الاستيراد والتصدير
	ممارسة الهوايات البحرية

وضح أسماء القارات والمحيطات في العالم .

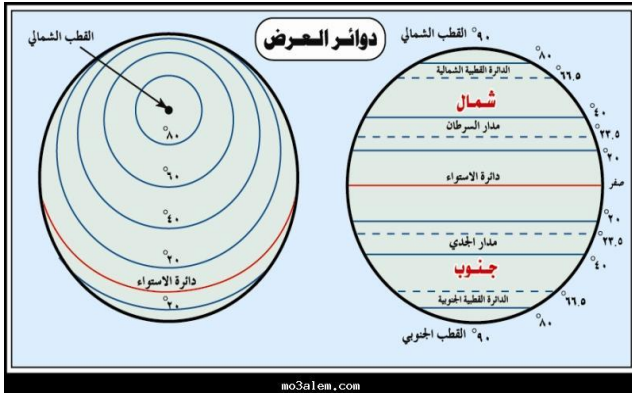
المحيطات	القارات	العدد
المحيط المتجمد الشمالي	القارة القطبية الجنوبية	1
المحيط الأطلنطي	آسيا	2
المحيط الهادي	أفريقيا	3
المحيط الهندي	أوروبا	4
المحيط المتجمد الجنوبي	أمريكا الشمالية	5
	أمريكا الجنوبية	6
	أستراليا	7

أذكر فائدة خطوط الطول ودوائر العرض؟

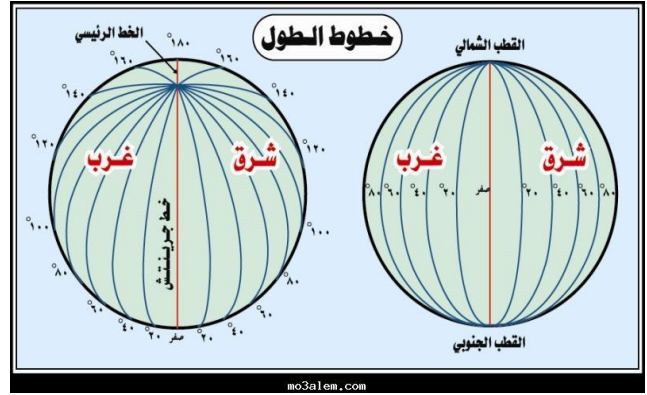
خطوط الطول:- تساعدنا في تحديد المواقع الجغرافية والزمن.

دوائر العرض:- نتعرف على المناخ والنبات الطبيعي.

أمامك صورتين وضحهما :



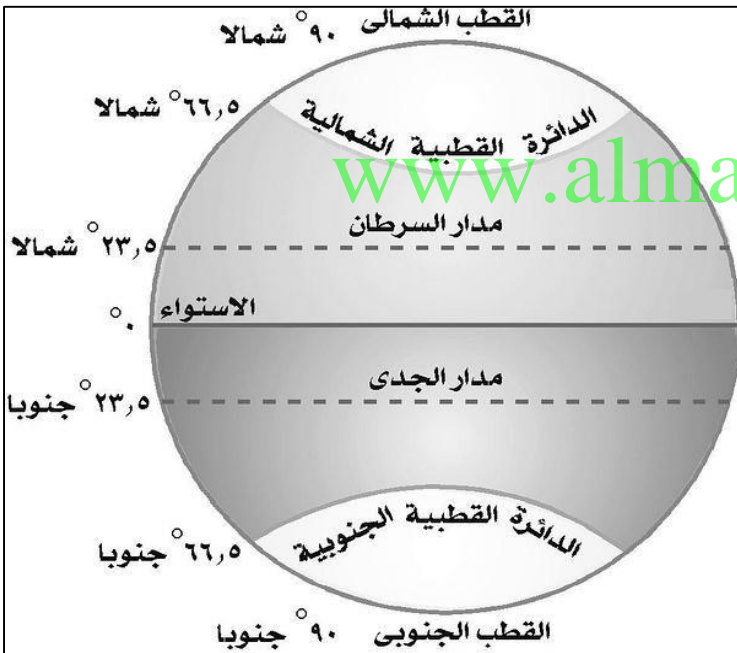
الشكل رقم (2)



الشكل رقم (1)

أولاً الشكل رقم (1) هي خطوط الطول ودرجتها 360 خطاً طولياً ويقسم الكرة الأرضية إلى قسمين متساويين قسم شرقي وقسم غربي وخط الطول الرئيسي هو خط جرينتش ودرجته صفر وأهميته معرفة المواقع الجغرافية والزمان .

ثانياً الشكل رقم (2) هي دوائر العرض ودرجتها 180 دائرة عرضية وتقسم الكرة الأرضية إلى قسمين متساويين قسم شمالي وقسم جنوبي ودائرة العرض الرئيسية هو خط الاستواء وأهميتها معرفة المناخ والنبات الطبيعي .



دوائر العرض	خطوط الطول
180 دائرة عرضية	عددها 360 خطاً طولياً
يقسم الكرة الأرضية إلى قسمين شمالي وجنوبي	يقسم الكرة الأرضية إلى قسمين شرقي وغربي
دائرة العرض الرئيسية هو خط الاستواء	خط الطول الرئيسي هو جرينتش
فائدته للتعرف على المناخ والنبات الطبيعي	فائدته للتعرف على الزمن والموقع الجغرافي

رؤيتنا: تغيير التعليم من أجل الحياة...

اذكر الموقع الفلكي لدولة الإمارات العربية المتحدة ؟

تقع دولة الإمارات العربية المتحدة بين دائرتي عرض (22 و 26,5 درجة شمال خط الاستواء).

تقع دولة الإمارات العربية المتحدة بين خطي طول (51 و 56,5 درجة شرق خط غرينتش).

يمر مدار السرطان في الجزء الجنوبي من دولة الإمارات العربية المتحدة .

ما هي دائرة العرض التي تمر في الجزء الجنوبي من دولة الإمارات العربية المتحدة ؟

هي مدار السرطان .

مفاهيم ومصطلحات :-

شبه الجزيرة : منطقة من اليابس محاطة بالماء من ثلاث جهات .

الجزيرة : منطقة من اليابس محاطة بالمياه من جميع الجهات .

الحدود السياسية : خطوط حددها الإنسان ورسمت حتى تفصل بين حدود دولة ودولة أخرى.

الخليج : هو لسان كبير من الماء محاط باليابس من ثلاث جهات .

تجارة الترانزيت : استيراد السلع ثم تعيد تصديرها إلى دول العالم .

الحضارة : كل جهد قام به الإنسان لتحسين ظروف حياته .

تقع دولة الإمارات في قلب العالم القديم (آسيا- أفريقيا – أوروبا)

تقع دولة الإمارات في جنوب غرب قارة آسيا .

تقع دولة الإمارات شرق شبه الجزيرة العربية. www.almanahj.com

تقع دولة الإمارات في الناحية الشرقية من الوطن العربي .

ما المسطحات المائية التي تشرف (تطل) عليها دولة الإمارات العربية المتحدة ؟

الخليج العربي – بحر عمان .

يحد دولة الإمارات شمالاً (الخليج العربي)

جنوباً (المملكة العربية السعودية)

شرقاً (بحر عمان وسلطنة عمان)

غرباً (المملكة العربية السعودية)

من قائل تلك العبارة (إننا نسع إلى السلام ونحترم حق الجوار ونرعى الصديق)

المغفور له الشيخ زايد بن سلطان آل نهيان رحمه الله .

أهمية تاريخية

أهمية اقتصادية

أهمية استراتيجية

ما نتيجة وقوع دولة الإمارات العربية المتحدة في قلب العالم القديم؟ (الأهمية الاستراتيجية)

معبراً للرحلات الجوية بين
آسيا وأوروبا

أصبحت حلقة وصل بين
الشرق والغرب والشمال
والجنوب

ما نتيجة وقوع دولة الإمارات في أقصى شرق شبه الجزيرة العربية أو نتيجة إشراف دولة الإمارات على الخليج العربي وبحر عمان؟ (الأهمية الاقتصادية)

اشتهرت بتجارة
الترانزيت

ازدهرت طرق التجارة
البرية والبحرية

أصبحت البحار
مصدراً للرزق

اذكر الحضارات التي ظهرت على أرض دولة الإمارات العربية المتحدة؟ (الأهمية التاريخية)

حضارة ملوखा
في الشارقة

حضارة أم النار
في أبوظبي

حضارة ماجان
في الإمارات وعمان

مفاهيم ومصطلحات :-

المناخ: حالة الجو خلال نهار أو فصل أو سنة (فترة زمنية طويلة) www.almanahj.com

الطقس: حالة الجو خلال فترة زمنية قصيرة يوم أو أسبوع .

النباتات المعمرة: هي التي تنمو طول العام دون تدخل الإنسان ولا تحتاج إلى كثير من المياه .

النباتات الحولية: هي نباتات تنمو عقب سقوط الأمطار .

الكأ: هو فطر بري موسمي ينمو في الصحراء بعد سقوط الأمطار .

ما هو مناخ دولة الإمارات العربية المتحدة؟

تقع في المنطقة المدارية ويسودها المناخ الصحراوي الحار .

ما هي العوامل المؤثرة في مناخ دولة الإمارات؟

عامل الارتفاع تنخفض درجة الحرارة
على المناطق الجبلية

إشراف الدولة على المسطحات
المائية (الخليج العربي- بحر عمان

مدار السرطان

المناطق القريبة من البحار والمحيطات **أبرد** وأكثر إبطاراً من المناطق الداخلية .

المناخ صيفاً في دولة الإمارات .

ترتفع درجة الحرارة بشكل كبير وتزداد نسبة الرطوبة على المناطق الساحلية بسبب قربها من البحار .

لماذا تزداد الرطوبة على المناطق الساحلية؟ (بسبب قربها من البحار .)

رؤيتنا: تغيير التعليم من أجل الحياة...


المناخ شتاءً في دولة الإمارات :

معتدل درجة الحرارة وتسقط فيه بعض الأمطار .

لماذا يكثر الناس في مناطق الواحات أو بالقرب من الجبال ؟

لتناسبها مع طبيعة حياتهم البدوية أو الزراعية – وفرة المياه التي تحافظ على حياتهم .

من النباتات المعمرة (السدر- السمر- الغاف)



نبات الغاف



نبات السمر



نبات السدر

مزايا النباتات المعمرة .

تتحمل درجة الحرارة- الجفاف الشديد- تتحمل تقلبات الجو – تتحمل الملوحة العالية

من النباتات الحولية :- (الحميض- الخبيز – الفقع – المرار)



نبات الفقع



نبات الخبيز



نبات الحميض

لماذا تعد النباتات الصحراوية لها أهمية لسكان الصحارى؟

صناعة الأدوية

الحصول على الأخشاب الوقود

رعي الحيوانات

فسر تنوع الثروة البرية بدولة الإمارات العربية المتحدة .

بسبب تنوع المناخ والنبات الطبيعي وأشكال السطح وموارد المياه .

لماذا اهتمت دولة الإمارات على رعاية الحيوانات والطيور ؟

من أجل تكاثرها وحمايتها من الانقراض .

ما هي أهم الحيوانات البرية ؟

1- **الثدييات** مثل (الأرنب – الغزال – الهر) .

2- **الزواحف** مثل (السحالي – الحيات)

3- **الطيور** مثل (الحبارى- الكروان- الصفرد)

تحتفل دولة الإمارات سنوياً بيوم البيئة الوطني في يوم 4 فبراير من كل عام .

ما أثر المناخ في الحياة الطبيعية؟

تنوع في الحياة النباتية - تنوع في الحياة البرية .

الإمارات قبل الاتحاد

مفاهيم ومصطلحات :

الأسرة الممتدة: هي التي تتكون من ثلاثة أجيال أو أكثر .

الآبار : هي المياه التحتية التي تنسبات تحت سطح الأرض بع سقوط الأمطار .

المطوعة : هي المعلمة التي كانت تقوم بعملية التدريس في الماضي .

العريش: هو بيت يصنع من سعف النخيل يستخدم في فصل الصيف .

بيت الطين : هو بيت يعيش فيه سكان المناطق الساحلية وأهم أجزائه البراجيل .

البراجيل : هو مكيف الهواء المحلي .

البيوت الجبلية : هي بيوت تُبنى فوق سفوح الجبال من الأحجار الجبلية ولها سقف من سعف النخيل .

بيت الشعر : هو أشهر البيوت البدوية ويُصنع من شعر الماعز وصوف الغنم .

الطوي: هو بئر الماء يستخدم للزراعة .

القبيلة : مجموعة من الناس ينتمون إلى أصل واحد مشترك تجمعهم رابطة الدم .

الحلف : هو المعاهدة على التعاون والمساعدة .

الأفلاج : عبارة عن قناة تحفر على سطح الأرض لتجميع المياه الجوفية للزراعة .

الحكومة : هي السلطة التي تتولى إدارة شؤون البلاد .

الدستور : هو مجموعة من القواعد والقوانين تُنظم الحكم في الدولة .

ما هي سمات أو مميزات الأسرة الإماراتية قديماً؟

1- التعاون والتكافل .

2- الاستقرار الاجتماعي .

3- الجد هو رب الأسرة .

ما هي أهم الأدوار التي كانت تمارسها المرأة قبل الاتحاد؟

تربية الأبناء – أعمال إنتاجية كطحن الغلال – جلب الماء من الآبار – تعليم القرآن الكريم .

ما هي المواد المستخدمة في بناء المساكن قديماً؟

سعف النخيل- شعر الماعز – الحصى والطين .

ما هي فوائد النخلة؟

للغذاء- يصنع من ليفها الحبال- جذعها للبناء.

من قائل تلك العبارة؟

إن دور المرأة لا يقل عن دور الرجل وإن طالبات اليوم هن أمهات المستقبل .

((المغفور له بإذن الله الشيخ زايد بن سلطان آل نهيان رحمه الله))

رؤيتنا: تغيير التعليم من أجل الحياة...

ما هي الحرف الإماراتية قديماً ؟



الزراعة



الغوص على اللؤلؤ



الرعي



التجارة



صيد الأسماك

كان التعليم التقليدي مرتبط بحفظ القرآن الكريم والأحاديث الشريفة .

من أهم صفات المطوع (أن يكون حافظاً للقرآن الكريم -حكيماً- يخشى الله).

ما هي اول مدرسة شبه نظامية ؟

هي المدرسة التيمية المحمودية في الشارقة 1906م.

ثم تلتها مدرسة ابن خلف في إمارة أبوظبي عام 1912م.

ومدرسة الأحمدية في دبي .

اذكر أمثلة على الأحلاف الإماراتية . www.almanahj.com

المقارنة	حلف بني ياس	حلف القواسم
الزعامة	آل نهيان	القواسم
نوع القوة	قوة برية	قوة بحرية
مقرهم	في الظفرة مدينة أبوظبي	رأس الخيمة

الشيخ زايد الأول :-

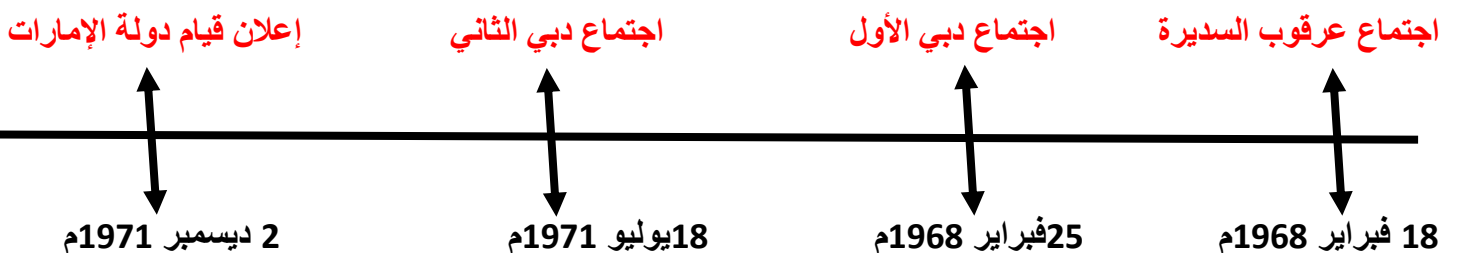
ولد عام 1837م تولى الحكم في سن العشرين

حصل على ألقاب كثيرة منها زايد الأول لعلو مكانته بين القبائل .

إنجازاته :

- شيد قلعة الجاهلي الكبرى.
- اهتم بالزراعة وبناء الأفلاج.
- نشر الأمن والأمان في إماراته .

ارسم مخطط زمني يوضح خطوات قيام الاتحاد



ما هو الاتحاد الثاني؟

هو اتحاد كان بين الشيخ زايد والشيخ راشد رحمهما الله . وتم في منطقة عرقوب السديرة .

ما هي مهام الحكومة؟

الدفاع عن الدولة – وضع القوانين – وضع خطط لتطوير البلاد .

ما هي أعلى سلطة في السلطات الاتحادية في دولة الإمارات العربية المتحدة؟

المجلس الأعلى الذي يتكون من حكام الإمارات السبع .

ما هو الهيكل التنظيمي لحكومة دولة الإمارات؟



متى كان أول دستور لدولة الإمارات؟

كان في عام 1971م وكان مؤقتاً واصبح دائماً عام 1996م .

من هو أول شهيد في دولة الإمارات؟

هو الشهيد سالم سهيل خميس الذي استشهد يوم 30 نوفمبر 1971م في جزيرة طناب الكبرى .

ما هي عاصفة الحزم؟

هو تشكيل جيش من قوات التحالف العربي بقيادة المملكة العربية السعودية ودولة الإمارات العربية المتحدة .

ما هي الجزر المحتلة من قبل إيران؟

طناب الكبرى – طناب الصغرى- جزيرة أبو موسى .

ما هي اسباب مشاركة دولة الإمارات في عاصفة الحزم؟

- الحرص على أمن الخليج
- العمل على عودة الاستقرار لليمن

رؤيتنا: تغيير التعليم من أجل الحياة...