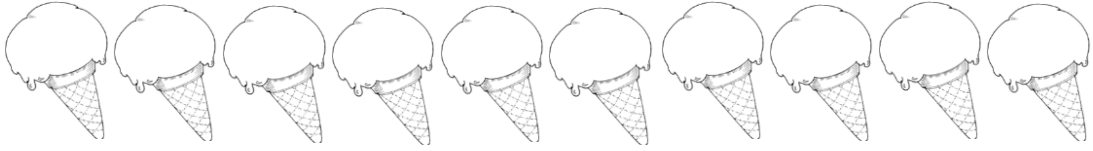



اختبار مادة الرياضيات التقويم الاول  
للفصل الدراسي الثاني 2018

السؤال الاول :

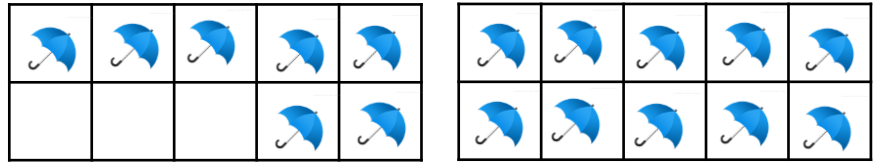
حوظ الايسكريم الاول . ضع علامة x على الايسكريم رقم 5 . لون بالرصاص  
الايسكريم رقم 8 . لون الايسكريم رقم 10 باللون الازرق .



السؤال الثاني : اكتب عدد العناصر الاضافية . ثم اكتب العدد ...

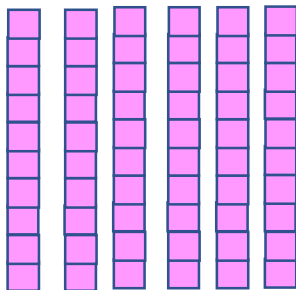


..... = 10 و ..... اضافة




..... = 10 و ..... اضافة

السؤال الثالث : اكتب العشرات ...



..... عشرات = .....



..... عشرات = .....



السؤال السابع : اكتب العدد الاكبر بمقدار 10 ..

10 , .....

58 , .....

25 , .....

السؤال الثامن : اكتب العدد الاصغر بمقدار 10 ..

..... , 75

..... , 39

..... , 64

السؤال التاسع : قارن واكتب > او < او = ..

84 ○ 37

12 ○ 12

42 ○ 48

52 ○ 90

السؤال العاشر : اكمل جدول الاعداد ..

1	2	3		5	7	8	9	10
11	12		14		16	17	18	20
21		23		25	26	27		29
	32	33		35	36	37		39
41		43	44	45	46		48	49
51	52		54	55		57	58	59
61	62	63	64	65	66	67	68	69
71	72	73	74		76	77	78	79
81	82		84	85	86		88	89
91	92	93		95	96	97	98	99
101		103	104	105	106		108	109
111	112	113		115	116	117	118	119
								120