

Omar has anOmar has anOmar has anOmar has an



مراجعة عامة



المعلم عمر حسن إبراهيم عطا الله
مادة الدراسات الاجتماعية

الاسم:

www.almanahj.com



1

الصف الثالث

الدراسات الاجتماعية



Alhayer

Omar has anOmar has anOmar has anOmar has anOmar has an



دائرة التعليم والمعرفة
DEPARTMENT OF EDUCATION



وزارة التربية والتعليم
Ministry of Education

المراجعة النهائية

المعلم عم حسن إبراهيم عطا الله
مادة الدراسات الاجتماعية

www.alhayanaj.com

الوحدة الأولى
بيئتي الإماراتية

2



الدراسات الاجتماعية



Alhayer

3

1 هي الحركة التي تقوم بها الأرض حول نفسها وحول الشمس

1



A ميل الأرض

B دوران الأرض

C ميل الشمس

D دوران الشمس

2 دوران الأرض حول نفسها مرة كل

2



A 24 ساعة

B 48 ساعة

C 72 ساعة

D 12 ساعة

www.almanahj.com

3 تدور الأرض حول الشمس مرة كل :

3



A 365 يوم

B 254 يوم

C 300 يوم

D 220 يوم

4 ينتج عن دوران الأرض حول نفسها

4



A تعاقب الأشهر

B تعاقب الأيام

C تعاقب الفصول الأربعة

D تعاقب الليل والنهار

4

مظاهر الحياة على الأرض تشمل

5

4

A الحيوان

B النبات

C الانسان

D جميع ماذكر

يطلق على كوكب الارض لقب الكوكب

6



A الأحمر

B الأسود

C الأزرق

www.almanahj.com

D البني

السبب الذي دفع العلماء إلى تسميته بهذا الاسم

7



A وجود التربة

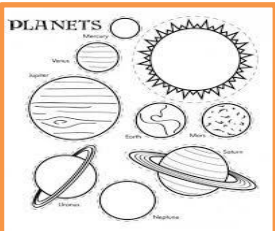
B يغلب عليه الغاز

C يغلب عليه المياه

D لا سبب في ذلك

: عدد كواكب المجموعة الشمسية هو

8



9 A

8 B

7 C

5 D

5

: ينتج عن دوران الأرض حول الشمس

9



A تعاقب الليل والنهار


B تعاقب الفصول الأربعة

C تعاقب الأيام

D تعاقب السنوات

: أكبر الكواكب هو كوكب

10



A عطارد

B المريخ

C الزهرة

D المشتري

www.almanahj.com

: أصغر الكواكب هو كوكب

11



A المشتري

B عطارد

C زحل

D نبتون

12 الكوكب الذي يحتل المرتبة الثالثة من حيث البعد عن الشمس هو

12



A المريخ

B زحل

C الأرض

D عطارد

6

الكوكب الأحمر هو كوكب :

13



A المريخ

B الزهرة

C عطارد

D الأرض

جميع الكوكب تدور من جهة الغرب إلى الشرق ما عدا كوكب يدور مع عقارب الساعة :

14



A الزهرة

B عطارد

C المريخ

D الأرض

www.almanahj.com

أنا لست كوكب وانما كويكب أنا :

15



A عطارد

B المريخ

C نبتون

D بلوتو

عرف كوكب المريخ باللون الأحمر بسبب وجود :

16



A أكاسيد النحاس الأحمر

B أكاسيد الكبريت الأحمر

C ثاني أكسيد الكربون

D أكاسيد الحديد

7

: أنا أجمل الكواكب وأتزين بطوق

17



زحل

A

المريخ

B

أورانوس

C

نبتون

D

:مسبار الأمل مشروع إماراتي من أجل استكشاف كوكب

18



الزهرة

A

المريخ

B

نبتون

C

عطارد

D

www.almanahj.com

:المصدر الرئيس للمياه في العالم هو

19



المياه الجوفية

A

الأمطار

B

الآبار

C

السدود

D

: تبلغ نسبة المياه العذبة

20



3%

A

5%

B

97%

C

96%

D

8

: تبلغ نسبة المياه المالحة في الطبيعة

21



3%

A

6%

B

93%

C

97%

D

: واحدة من التالي ليس من المياه العذبة

22



النهر

A

الجليد

B

البحيرة

C

البحر

D

www.almanahj.com

: واحد من التالي ليس من المياه المالحة

23



النهر

A

البحر

B

المحيط

C

البحيرات المالحة

D

: ندرة الأمطار في الإمارات تعود بسبب مناخ الإمارات

24



الماطر

A

المعتدل

B

البارد

C

الحار والجاف

D

9

25 : من الحلول المتبعة لمعالجة مشكلة المياه تعبر عنها الصورة الجانبية ما هي



السدود

A

استمطار

B

محطات التحلية

C

المياه الجوفية

D

26 : من الحلول المتبعة لمعالجة مشكلة المياه تعبر عنها الصورة الجانبية ما هي



السدود

A

استمطار

B

محطات التحلية

C

المياه الجوفية

D

27 : الصورة الجانبية تعبر عن سلوك معين. ما هو هذا السلوك

27



التبذير

A

التوفير

B

إهمال الزراعة

C

العناية بالزراعة

D

28 : من المشكلات التي تعاني منها دولة الإمارات في قطاع المياه

28



ارتفاع منسوب المياه الجوفية

A

زيادة الأمطار

B

انخفاض منسوب المياه الجوفية

C

انخفاض نسبة التبخر

D

10

كل ما يحيط بالإنسان من موجودات حية وغير حية مفهوم

29



النظام البيئي

A

البيئة

B

الكائنات الحية

C

الكائنات الغير حية

D

تفاعل المخلوقات الحية مع بعضها ومع العوامل الغير حية مفهوم

30



النظام البيئي

A

البيئة

B

الكائنات الحية

C

الكائنات الغير حية

D

واحدة من التالي ليس من أنشطة الانسان البشرية السيئة

31



الزراعة

A

التلوث

B

قطع الأشجار

C

الحرائق

D

كل ما يلي يدل على الكائنات الحية غير واحدة

32



الحيوانات

A

النباتات

B

الانسان

C

المباني

D

11

: تهتم دولة الإمارات بالمسطحات

33



الحمراء

A

الصفراء

B

الخضراء

C

الزرقاء

D

:أنشطة الانسان البشرية السلبية تؤدي إلى

34



النظام البيئي

A

تطور البيئة

B

ثبات المناخ

C

الاحتباس الحراري

D

www.almanahj.com

:أنشطة الانسان البشرية السلبية تؤدي إلى

35



الزراعة

A

النظام البيئي

B

ثبات المناخ

C

تغير المناخ

D

: واحدة من التالي ليس من التطورات في الدولة

36



التوسع العمراني

A

النمو السكاني

B

تنويع مصادر الاقتصاد

C

إهمال البيئة

D

12

التطورات التي تشهدها الدولة يعود الفضل فيها :

37



لوجود النفط

A

رغبة لدى القيادة

B

تنوع الجنسيات

C

تطور التعليم

D

حماية: مطلب أساسي لتحقيق نمو مستدام

38



البيئة

A

النظام

B

التطور

C

الحياة

D

www.almanahj.com

مصدر تلوث الهواء:

39



تسرب النفط

A

دفن الملوثات في التربة

B

دخان السيارات والمصانع

C

تصريف مياه المجاري في الانهار

D

مصدر تلوث المياه :

40



دخان المصانع

A

دفن الملوثات في التربة

B

دخان السيارات

C

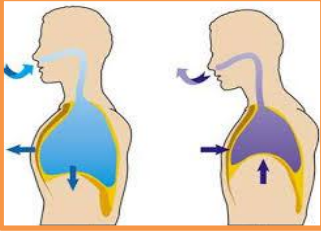
تصريف مياه المجاري في الانهار

D

13

: من استخدامات الهواء

41

التنفس Aالشرب Bالسكن Cالطبخ D

: من استخدامات الماء

42

التنفس Aالشرب Bالسكن Cالجماد D

www.almanahj.com

: من مسببات تلوث التربة

43

تسرب النفط Aدفن الملوثات في التربة Bدخان السيارات والمصانع Cتصريف مياه المجاري في الانهار D

: من استخدامات التربة

44

التنفس Aالشرب Bالسكن Cالطبخ D

14

: التطور الذي حققه الانسان في حياته بسبب

45



التأخر

A

التقدم العلمي

B

الحضارة

C

التقدم العلمي والتكنولوجي

D

مجالات التقدم:

46

4

التقني والصناعي

A

الزراعي

B

العمراني

C

جميع ما ذكر

D

www.almanahj.com

: حماية البيئة جزء لا يتجزأ من تاريخنا وتراثنا ونمط حياته من أقوال

47



الشيخ زايد بن سلطان رحمه الله

A

الشيخ محمد بن زايد حفظه الله

B

الشيخ راشد بن سعيد رحمه الله

C

الشيخ خليفة بن زايد حفظه الله

D

: عناصر دورة الماء في الطبيعة بالترتيب

48



تسخين. تبخر. تكاثف. انتقال. هطول

A

تسخين. تكاثف. تبخر. انتقال. هطول

B

الهطول. تبخر. تكاثف. انتقال. تسخين

C

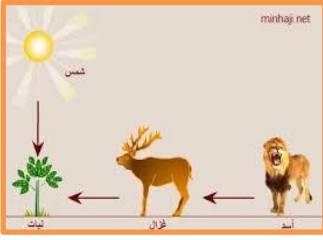
تسخين. تبخر. هطول. انتقال. تكاثف

D

15

: حدد من خلال الصورة ترتيب السلسلة الغذائية من البداية

49



A الشمس - النبات - الغزال - الأسد

B النبات - الشمس - الغزال - الأسد

C الشمس - الأسد - الغزال - النبات

D الشمس - الغزال - النبات - الأسد

: خلق الله تعالى الطبيعة وفق

50



A قوانين محددة

B قوانين مبعثرة

C قوانين الغاب

D قوانين غير محددة

www.almanahj.com

: يسبب الدخان الذي يتصاعد إلى الهواء في تدمير طبقة

51



A الماء

B الهيدروجين

C الأرض

D الأوزون

: جزء من الغلاف الجوي لكوكب الأرض والذي يحتوي على غاز الأوزون

52



A الماء

B الهيدروجين

C الأوزون

D الأرض

16

من الخطوات التي تلجأ لها الدول لحماية البيئة :

٥٣



A قطع الاشجار

B قطع المياه والكهرباء

C الحرائق الصناعية

D إعادة التدوير

٥٤ عاش آباءنا أجدادناوتعايشوا مع بيئتها الحجة إلى المحافظة عليه



A الشيخ زايد رحمه الله

B الشيخ راشد رحمه الله

C الشيخ صقر رحمه الله

D الشيخ خليفة راعاه الله

٥٥ الصورة التي أمامك تعبر عن

٥٥



A ترشيد الكهرباء

B تبذير الكهرباء

C ترشيد المياه

D جميع ما ذكر

٥٦ الصورة التي أمامك تعبر عن

٥٦



A ترشيد الكهرباء

B تبذير الكهرباء

C ترشيد المياه

D جميع ما ذكر

17

: تعبر الصورة التالية عن مؤسسة دولية ترعى البيئة وتحميها

57



استرداد الأوزون

A

وزارة التغيير البيئي

B

أصدقاء البيئة

C

هيئة الأمم (قانون البحار)

D

هيئة محلية تسعى لحماية البيئة

58



قانون البحار

A

هيئة الأمم المتحدة

B

ميثاق حماية طبقة الأوزون

C

جمعية أصدقاء البيئة

D

وزارة تختص في الجوانب البيئية

59

وزارة التغيير المناخي
والبيئة

الداخلية

A

التغيير المناخي

B

الخارجية

C

الزراعة

D

تدل الصورة المجاورة على جائزة على مستوى الدولة لحماية البيئة ما هي

60

جائزة الإمارات للبيئة
للمجالس البلدية والبلديات

الشارقة لحماية البيئة

A

زايد لحماية البيئة

B

جائزة الامارات التقديرية

C

جميع ما ذكر

D

18

: تعبر الصورة التالية عن طريقة لحماية البيئة

61



A الحاويات

B النظافة

C إعادة التدوير

D البيئة

62 واحدة من الصور التالية لا تدل على تصرف سليم نحو البيئة



1 A

2 B

3 C

4 D

جائزة تختص في الجوانب البيئية

63

جائزة الشارقة للوعي البيئي
Sharjah Environment Awareness Award

A زايد لحماية البيئة

B جائزة الامارات التقديرية

C عجمان للبيئة

D الشارقة للوعي البيئي

64 تدل الصورة المجاورة على جائزة على مستوى الدولة لحماية البيئة ما هي

64



Zayed International Foundation for the Environment

A الشارقة لحماية البيئة

B زايد لحماية البيئة

C جائزة الامارات التقديرية

D جميع ما ذكر

19

: تعبر الصورة التالية عن مفهوم مهم للبيئة

65

التطور Aالنظافة Bإعادة التدوير Cالاستدامة D

واحدة من الصور التالية لا تدل على الاستدامة

66

1 A2 B3 C4 D

مفهوم يطلق على البيئة الحيوية متنوعة الكائنات الحية

67

التنمية Aالتنمية المستدامة Bالنظام البيئي Cالبيئة D

ترشيد استهلاك الموارد الطبيعية وتقليل كمية الإهدار

68

التنمية Aالتنمية المستدامة Bالنظام البيئي Cجميع ما ذكر D

20


: إن هدفنا هو بناء الوطن والمواطن "من أقوال الشيخ

69

زاید Aمحمد Bصقر Cراشد D

رتب صور الشيخ محمد بن زايد من البداية

70

1-4-3-2 A1-3-2-4 B1-2-3-4 C4-3-1-2 D

الشيخ محمد بن زايد يتولى منصب

71

ولي عهد عجمان Aولي عهد دبي Bحاكم أبوظبي Cولي عهد أبوظبي D

ولد الشيخ محمد بن زايد عام

72

11-3-1962 A11-4-1961 B11-3-1961 C11-5-1963 D

21

والدة الشيخ محمد هي الشيخة

73



A فاطمة

B مريم

C هند

D عليا

74 اكتب رقم الصورة التي تمثل والد الشيخ محمد بن زايد



A ١

B ٢

C ٣

D ٤

75 ترتيب الشيخ محمد بن زايد بين أبناء الشيخ زايد رحمه الله

75



A 3

B 4

C 2

D 1

ولد الشيخ محمد بن زايد في مدينة

76



A الظفرة

B العين

C السلع

D أبوظبي

22

: تلقب الشيخ فاطمة بنت مبارك حفظها الله بـ

77



A أم الشيوخ

B أم العرب

C أم الإمارات

D أم محمد

الصورة التي أمامك تعبر عن

78



A ولي عهد

B ترأس أركان القوات المسلحة

C خريج ساند هيرست

D نائب القائد الأعلى للقوات المسلحة

الصورة التي أمامك تعبر عن

79



A ولي عهد

B ترأس أركان القوات المسلحة

C خريج ساند هيرست

D نائب القائد الأعلى للقوات المسلحة

الصورة التي أمامك تعبر عن

80



A ولي عهد

B ترأس أركان القوات المسلحة

C خريج ساند هيرست

D نائب القائد الأعلى للقوات المسلحة

23

تم اختيار الشيخ محمد بن زايد من ضمن أفضل شخصيات ذات تأثير في العالم

81

4

عشرون

A

مائة

B

ألف

C

عشرة

D

الصورة التي أمامك تعبر عن

82



ولي عهد

A

ترأس أركان القوات المسلحة

B

خريج ساند هيرست

C

نائب القائد الأعلى للقوات المسلحة

D

الصورة التي أمامك تعبر عن صفة للشيخ تدل على

83



اهتمام الشيخ محمد بالصحة

A

اهتمام الشيخ محمد بالتعليم

B

اهتمام الشيخ محمد بالجيش

C

اهتمام الشيخ محمد بالرياضة

D

الصورة التي أمامك تعبر عن صفة للشيخ تدل على

84



اهتمام الشيخ محمد بالصحة

A

اهتمام الشيخ محمد بالتعليم

B

اهتمام الشيخ محمد بالجيش

C

اهتمام الشيخ محمد بالرياضة

D

24

الصورة التي أمامك تعبر عن صفة للشيخ تدل على

85



اهتمام الشيخ محمد بالصحة

A

اهتمام الشيخ محمد بالمجالس

B

اهتمام الشيخ محمد بالجيش

C

اهتمام الشيخ محمد بالسياسة

D

الصورة التي أمامك تعبر عن صفة للشيخ تدل على

86



اهتمام الشيخ محمد بالصحة

A

اهتمام الشيخ محمد بالمجالس

B

اهتمام الشيخ محمد بالجيش

C

اهتمام الشيخ محمد بالرياضة

D

الصورة التي أمامك تعبر عن صفة للشيخ تدل على

87



اهتمام الشيخ محمد بالصحة

A

اهتمام الشيخ محمد بالمجالس

B

اهتمام الشيخ محمد بالجيش

C

اهتمام الشيخ محمد بالرياضة

D

الصورة التي أمامك تعبر عن صفة للشيخ تدل على

88



اهتمام الشيخ محمد بالصحة

A

اهتمام الشيخ محمد بالتعليم

B

اهتمام الشيخ محمد بالجيش

C

اهتمام الشيخ محمد بالسياسة

D



2004

 A

2005

 B

2003

 C

2002

 D

www.almanahj.com



دائرة التعليم والمعرفة
DEPARTMENT OF EDUCATION
AND KNOWLEDGE



وزارة التربية والتعليم
Ministry of Education

كتاب النشاط



المعلم عمر حسن إبراهيم عطا الله
مادة الدراسات الاجتماعية

www.almanhajj.com
ملاحق الوحدة
الأولى



الدراسات الاجتماعية



Alhayer

وضح دلال الصور التالية التي تتعلق بكوكب الأرض والمياه



www.almanahj.com



حدد طبيعة العلاقة بين الصور (الرابط المشترك)



www.almanahj.com



وضح دلال الصور التالية تتعلق بالنظام البيئي



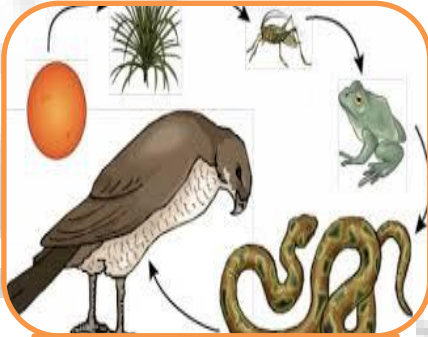
www.almanahj.com



وضح دلال الصور التالية تتعلق بالتكنولوجيا والبيئة والاوزون وأنواع التلوث



www.almanahj.com



رتب السلسلة الغذائية التالية بوضع الأرقام



www.almanahj.com





دائرة التعليم والمعرفة
DEPARTMENT OF EDUCATION
AND KNOWLEDGE



وزارة التربية والتعليم
Ministry of Education

كتاب النشاط



المعلم عم حسن إبراهيم عطا الله
مادة الدراسات الاجتماعية

www.almanahj.com
الوحدة الثانية
إماراتي وأفتخر



الدراسات الاجتماعية



Alhayer

1 18 فبراير من عام 1968 حملة ذكرى عزيزة على قلب كل إماراتي فيه 2



A اجتماع دبي الأول

B تولي الشيخ زايد رحمه الله حكم الإمارات

C تولي الشيخ زايد رحمه الله حكم العين

D اجتماع عرقوب السديرة

2 ما هو المقصود بالاتفاق الوحدة (الاتفاق الثاني)



A اتفاق الشارقة وعجمان على الوحدة

B اتفاق دبي وأبوظبي على الوحدة

C اتفاق الشارقة ودبي على الوحدة

D اتفاق الفجيرة ورأس الخيمة على الوحدة

www.almarahj.com

3 ما علاقة صاحب هذه الصورة في عرقوب السديرة



A هو شريك الشيخ زايد في قيام الاتحاد الشيخ محمد

B هو شريك الشيخ زايد في قيام الاتحاد الشيخ صقر

C هو شريك الشيخ زايد في قيام الاتحاد الشيخ راشد

D هو شريك الشيخ زايد في قيام الاتحاد الشيخ خالد

4 ماذا حدث في 25 فبراير 1968 بخصوص الإمارات



A اجتماع السديرة (الاتفاق الثنائي)

B اجتماع دبي الأول (الاتفاق التساعي)

C اجتماع دبي الثاني (الاتفاق السداسي)

D قيام دولة الإمارات

3

إمارات لم توافق على دخول الاتحاد مع نهاية اجتماع دبي الأول

5



دبي

A

الشارقة وقطر والبحرين

B

رأس الخيمة وقطر والبحرين

C

دبي وعجمان وأم القيوين

D

6

إمارة تأخرت دخولها الاتحاد فيها جبل جيس



رأس الخيمة

A

الشارقة

B

دبي

C

عجمان

D

www.almanahj.com

7

تم التوقيع على الدستور المؤقت في



18 يوليو - 1971

A

18 - فبراير - 1971

B

18 - مارس - 1971

C

18 - يونيو - 1971

D

8

متى تم الإعلان الرسمي عن قيام دولة الإمارات العربية المتحدة



2- ديسمبر - 1972

A

2- فبراير - 1971

B

2-ديسمبر-1971

C

3-ديسمبر-1971

D

4

تم الإعلان الرسمي عن قيام الاتحاد في

9



A برج العرب

B برج خليفة

C مسجد الشيخ زايد

D قصر الضيافة في دبي

قصر الضيافة اليوم تحول إلى

10



A متحف العين

B متحف اللوفر

C متحف الاتحاد

D متحف دبي

www.almanahj.com

أول رئيس لدولة الإمارات هو الشيخ

11



A زايد بن سلطان رحمه الله

B راشد بن سعيد رحمه الله

C صقر بن محمد رحمه الله

D رشد المعلا رحمه الله

أول نائب لرئيس الدولة في الإمارات كان الشيخ

12



A زايد بن سلطان رحمه الله

B رشد بن سعيد رحمه الله

C صقر بن محمد القاسمي رحمه الله

D خالد بن محمد القاسمي رحمه الله

اجتماع
عرقوب
السديرة



قيام دولة
الإمارات



رفع العلم
على قصر
الضيافة



اجتمع
دبي الثاني



اجتماع
دبي الأول



أول نائب
لرئيس
الدولة



أول رئيس
للدولة



أحمد خليفة
السويدي
يقرأ بيان
الاتحاد



قصر
الضيافة



قصر
المنهل



رفع العلم
في أبوظبي
عام 1971



رفع العلم
في دبي
عام 1971



الهدف العام : خطوات قيام الاتحاد (فكر وتطبيق)

النشاط الأول : طبيعة العلاقة بين محتويات الصورة التالية



النشاط الثاني : ضلل رمز الإجابة الصحيحة :

فكر في قيام الاتحاد وتوحيد أركان الدولة ، هو صاحب السمو الشيخ
 محمد صقر زايد سعود

شارك الشيخ زايد رحمه الله في وضع بذور الوحدة هو الشيخ
 سعيد راشد خليفة محمد

كان تأسيس دولة الإمارات العربية في عام
 1971 1982 1981 1972

تل مرتفع من الرمال يقع بالصحراء هو
 الجبل الوادي العرقوب الهضبة


أول رئيس لدولة الإمارات العربية المتحدة هو الشيخ
 محمد راشد سعود زايد



7

الهدف العام: خطوات قيام الاتحاد (فكر وتطبيق)

النشاط الأول: على خريطة الإمارات عين موقع إمارات الدولة السبع وموقع اجتماع السديرة؟



«إن الاتحاد يعيش في نفسي وفي قلبي وأعز ما في وجودي، ولا يمكن أن أتصور في يوم من الأيام أن أسمح بالتفريط فيه أو التهاون نحو مستقبله».

من أقوال زايد
رحمه الله



النشاط الأول: اربط بين الصورة والقرار الاتحادي الصادر؟



1

القرار الأول رئيس الاتحاد:




2

القرار الثاني نائب رئيس الاتحاد:



3

القرار الرابع العلم



4

القرار الخامس اليمين الدستوري :



5

رفع العلم في دبي:



6

كان قيام الاتحاد في -2 ديسمبر عام

1981 1971 1972 1961

«إن الاتحاد يعيش في نفسي وفي قلبي وأعز ما في وجودي، ولا يمكن أن أتصور في يوم من الأيام أن أسمح بالتفريط فيه أو التهاون نحو مستقبله».



النشاط الأول: ضع دائرة حول رمز الإجابة الصحيحة فيما يلي؟

مصمم علم الإمارات

أحمد المعينة

A

عبدالله المعينة

B

ظبية خميس

C

رمز وطني يدل على الاستقلال

الشعار

A

العلم

B

السياسة

C

الطائر المميز في الشعار هو

النسر

A

الصقر

B

الحمام

C

شعار الدولة الحديث اعتمد عام

2008

A

2007

B

2006

C

فتاة فازت بتصميم الشعار

أحمد المعينة

A

عبدالله المعينة

B

ظبية خميس

C

علم الإمارات يتكون من

أربعة ألوان

A

خمسة ألوان

B

سبع ألوان

C

يوم العلم مناسبة وطنية تحتفل بها الإمارات العربية المتحدة في الثالث من نوفمبر من كل سنة، منذ أن أعلن عنها الشيخ محمد بن راشد آل مكتوم،-



النشاط الأول: حدد الدالة في الصور التالية ولون علم الإمارات



يوم العلم مناسبة وطنية تحتفل بها الإمارات العربية المتحدة في الثالث من نوفمبر من كل سنة، منذ أن أعلن عنها الشيخ محمد بن راشد آل مكتوم،-



الهدف العام: اليوم الوطني

النشاط الأول: ضع دائرة حول رمز الإجابة الصحيحة فيما يلي؟

الإمارات أمانة في عنق كل مواطن من أقوال الشيخ

محمد

A

زايد

B

خليفة

C

تحتفل دولة الإمارات باليوم الوطني من كل عام

2/12

A

2/11

B

4/12

C

أعاهد الله أن أكون مواطن

مخلص

A

أمين

B

مخلص و أمين

C

رقم اليوم الوطني القادم هو

46

A

45

B

47

C

مؤسس الاتحاد هو الشيخ

زايد رحمه الله

A

محمد رعاه الله

B

صقر رحمه الله

C

عدد إمارات الدولة

سبع

A

ثمان

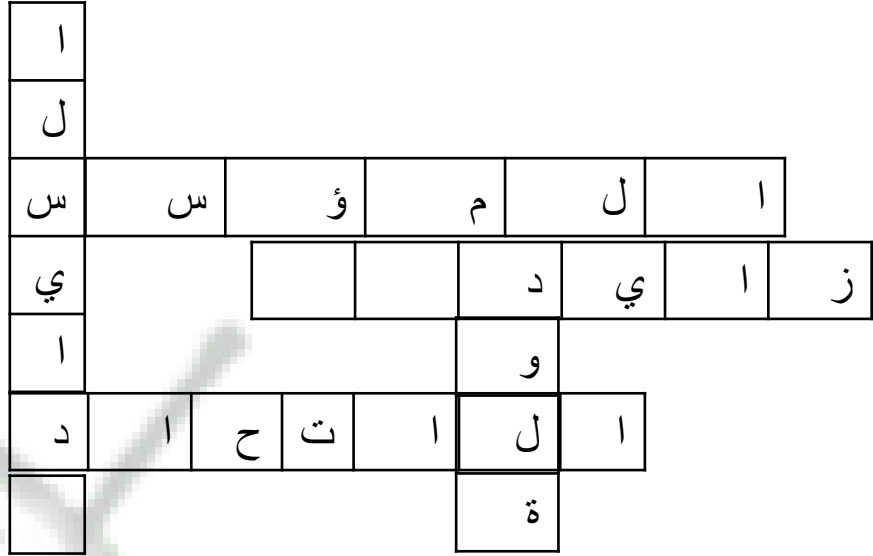
B

خمس

C

اليوم الوطني هو اليوم الذي يدل على
احتفالات البلاد.في أغلب الأحيان اليوم الوطني يَكُون عطلة
رسمية. اليوم الوطني يُؤخَذ في أغلب
الأحيان كتاريخ استقلال البلد. أكثر البلدان
لها يوم وطني وحيد بالسنة

النشاط الأول: حاول معي حل الكلمات المتقاطعة التالية؟



www.almanahj.com

رأسي

أفقي

	1	يبني الدولة
	2	مؤسس الدولة
	3	تجمع مجموعة من الإمارات

	1	تضم مجموعة من الناس ولها حاكم
	2	السيادة

اليوم الوطني هو اليوم الذي يدل على احتفالات البلاد.

في أغلب الأحيان اليوم الوطني يَكُونُ عطلة رسمية. اليوم الوطني يُؤخَذُ في أغلب الأحيان كتاريخ استقلال البلد. أكثر البلدان لها يوم وطني وحيد بالسنة



النشاط الأول : ضع دائرة حول رمز الإجابة الصحيحة فيما يلي ؟

مصمم علم الإمارات

أحمد المعينة

A

عبدالله المعينة

B

ظبية خميس

C

رمز وطني يدل على الاستقلال

الشعار

A

العلم

B

السياسة

C

اللون الأخضر يدل على

النماء والازدهار

A

الخير والعطاء

B

تضحيات الاجيال

C

تحتفل في يوم العلم في..... من كل عام

3/11

A

3/12

B

3/10

C

يرفع العلم على

البيوت فقط

A

المدارس فقط

B

المدارس والبيوت والمؤسسات

C

علم الإمارات يتكون من

أربعة ألوان

A

خمسة ألوان

B

سبع ألوان

C

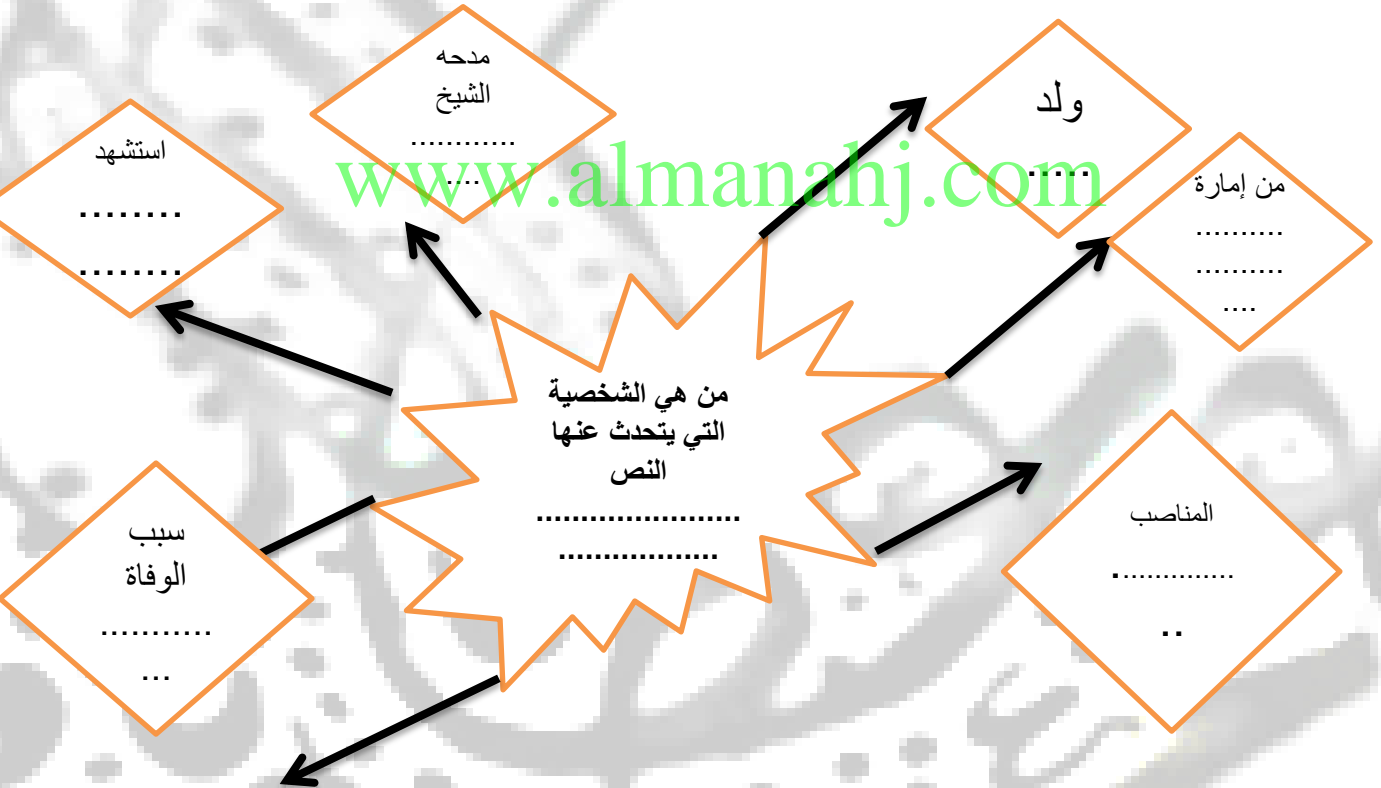
يوم العلم مناسبة وطنية تحتفل بها الإمارات العربية المتحدة في الثالث من نوفمبر من كل سنة، منذ أن أعلن عنها الشيخ محمد بن راشد آل مكتوم،



النشاط الأول : استكمل الخريطة الذهنية التالية ؟

سيف سعيد بن غباش (1932-10-21 - 1977-10-25) ولد بحي المعيرض بإمارة راس الخيمة كان أول وزير دولة للشؤون الخارجية بدولة الإمارات العربية كان من أوائل مؤسسي أركان وزارة الخارجية وإداراتها وحامل راية رسالة الإمارات إلى العالم من أجل الخير والتضامن، حتى قال عنه الشيخ زايد بن سلطان رحمه الله "انه مثال للرجل المسؤول وواحد من خيرة الشباب ممن جاهدوا وسعوا إلى خير العرب ووحدة كلمتهم وتضامنهم".

عند الساعة الحادية عشرة من صباح يوم الثلاثاء 25/10/1977 كان سيف بن غباش متجه إلى مطار أبوظبي وعند دخوله إلى الصالة الكبرى لمطار أبوظبي وفي طريقه إلى قاعة الشرف انطلقت رصاصات كانت غادرة أصابت الوزير سيف بن غباش في كتفه وبطنه حيث نقل إلى المستشفى وتوفي متأثراً بجروحه



.....-.....-2018m

.....-.....-1439h

2018-2019
SCHOOL YEAR

انه مثال للرجل المسؤول وواحد من خيرة الشباب ممن جاهدوا وسعوا إلى خير العرب ووحدة كلمتهم وتضامنهم".



النشاط الأول : ضع دائرة على رمز الإجابة الصحيح ؟

ولد في إمارة

رأس الخيمة

A

الشارقة

B

الفجيرة

C

أستشهد عام 1977 هو

سالم سهيل

A

عبدالله النعيمي

B

سيف بن غباش

C

انه مثال للرجل المسؤول وواحد من خيرة الشباب ممن جاهدوا وسعوا إلى خير العرب ووحدة كلمتهم وتضامنهم."

ولد في

من أقوال الشيخ صقر

A

من أقوال الشيخ زايد

B

من أقوال الشيخ محمد

C

21/11/1977

A

21/10/1932

B

12/10/1977

C

درس في جامعة بغداد

الطب

A

الهندسة

B

الصيدلة

C

تولى منصب

وزير التربية

A

وزير الداخلية

B

وزير الخارجية

C



النشاط الأول : ضع دائرة على رمز الإجابة الصحيح ؟

والد الشيخ زايد هو الشيخ

محمد

A

خالد

B

سلطان

C

ولد الشيخ زايد في عام

1919

A

1920

B

1918

C

من صفات الشيخ زايد رحمه الله

الشجاعة

A

العطف

B

العطف والقوة والشجاعة

C

ولد في قصر

المعترض

A

المويعي

B

الحصن

C

من هواياته

الفروسية

A

سباق الهجن

B

الفروسية والصيد بالصقور

C

مدينة تتبع أبوظبي حكمها الشيخ زايد

الرمس

A

الجاهلي

B

العين

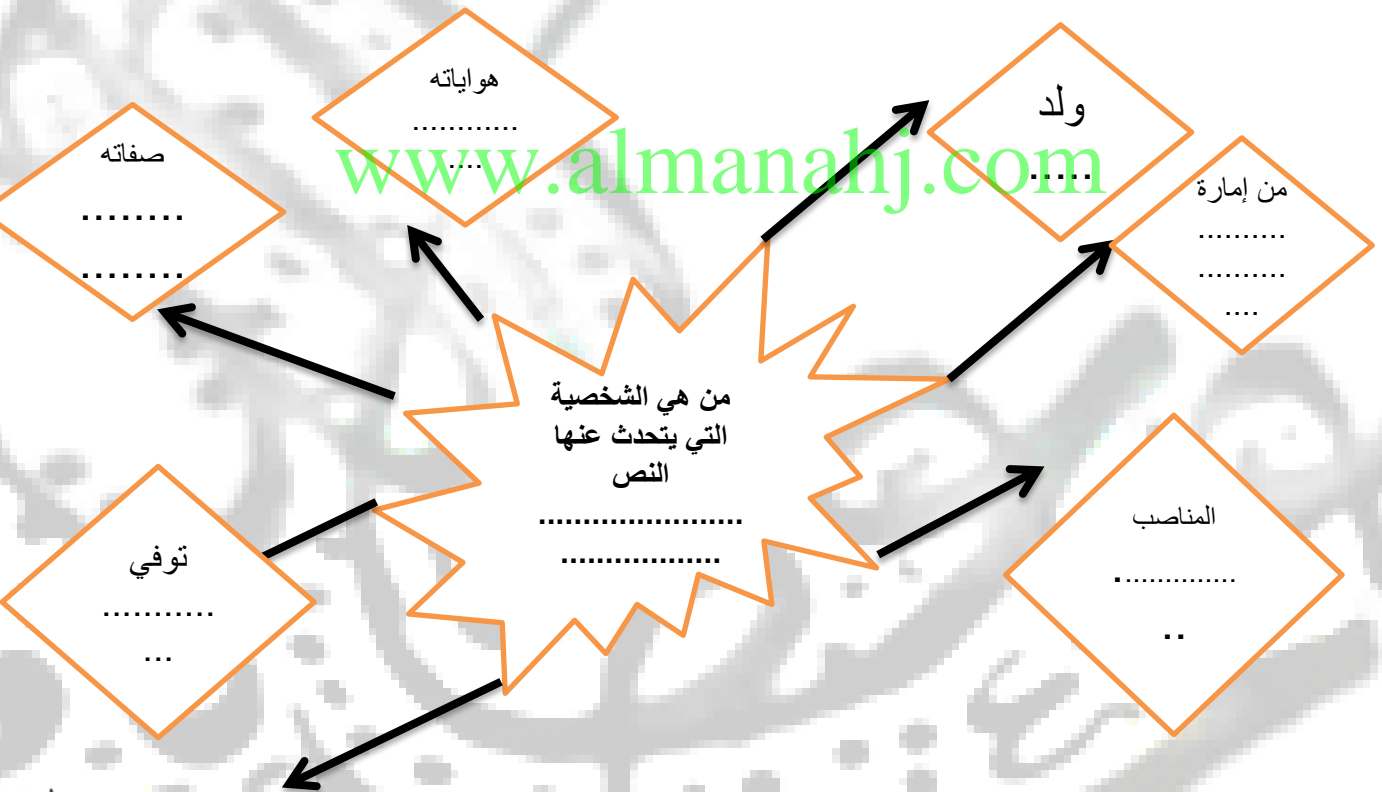
C

الشيخ زايد بن سلطان بن زايد بن خليفة
بن شخبوط بن ذياب بن عيسى بن نهيان
آل نهيان أول رئيس لدولة الإمارات
العربية المتحدة. كان له دور كبير في
توحيد الدولة مع الشيخ راشد بن سعيد
آل مكتوم وتحقق لهم ذلك في 2 ديسمبر
1971



النشاط الأول : استكمل الخريطة الذهنية التالية ؟

الشيخ زايد بن سلطان بن زايد بن خليفة بن شخبوط بن ذياب بن عيسى بن نهيان آل نهيان أول رئيس لدولة الإمارات العربية المتحدة. ولد في عام 1918 في قصر الحصن في أبوظبي كان له دور كبير في توحيد الدولة مع الشيخ راشد بن سعيد آل مكتوم وتحقق لهم ذلك في 2 ديسمبر 1971 ، عرف عنه الشجاعة والقوة وحب الفروسية والصيد بالصقور توفي رحمه الله في شهر رمضان المبارك 2/11/2004



الشيخ زايد بن سلطان بن زايد بن خليفة بن شخبوط بن ذياب بن عيسى بن نهيان آل نهيان أول رئيس لدولة الإمارات العربية المتحدة. كان له دور كبير في توحيد الدولة مع الشيخ راشد بن سعيد آل مكتوم وتحقق لهم ذلك في 2 ديسمبر 1971



النشاط الأول : صل بين الصورة والمعنى ؟



حاكم أبوظبي 1966



شريك في فكرة الاتحاد



باني الاتحاد



قيام الدولة



الشيخ زايد بن سلطان بن زايد بن خليفة
بن شخبوط بن ذياب بن عيسى بن نهيان
آل نهيان أول رئيس لدولة الإمارات
العربية المتحدة. كان له دور كبير في
توحيد الدولة مع الشيخ راشد بن سعيد
آل مكتوم وتحقق لهم ذلك في 2 ديسمبر
1971



Omar has anOmar has anOmar has anOmar has an



المعلم عمر حسن إبراهيم عطا الله
مادة الدراسات الاجتماعية

الاجابات

www.almanahj.com



1

الصف الثالث

الدراسات الاجتماعية



Alhayer

Omar has anOmar has anOmar has anOmar has anOmar has an

الاجابة	الرقم
C	33
D	34
D	35
D	36
B	37
A	38
C	39
D	40
A	41
B	42
B	43
C	44
D	45
D	46
A	47
A	48

الاجابة	الرقم
A	17
B	18
B	19
A	20
D	21
D	22
A	23
D	24
A	25
C	26
A	27
C	28
B	29
A	30
A	31
D	32

الاجابة	الرقم
B	1
A	2
A	3
D	4
D	5
C	6
C	7
B	8
B	9
A	10
D	11
C	12
A	13
A	14
D	15
D	16

الرقم	49	50	51	52	53	54	55	56	57
الاجابة	A	A	D	C	D	A	C	A	D

الرقم	58	59	60	61	62	63	64	65	66
الاجابة	D	B	C	C	C	D	B	D	C

Omar has anOmar has anOmar has anOmar has an



المعلم عمر حسن إبراهيم عطا الله
مادة الدراسات الاجتماعية

الاجابات

www.almanahj.com



2

الصف الثالث

الدراسات الاجتماعية



Alhayer

Omar has anOmar has anOmar has anOmar has anOmar has an

الاجابة	الرقم
A	3
C	4
C	5
A	6
	18
A	1
A	2
A	3
B	4
A	5
C	6
نص	19
	20
C	1
B	2
C	3

الاجابة	الرقم
B	2
A	3
C	4
D	5
خريطة	16
	17
6	1
3	2
1	3
5	4
4	5
2	6
A	7
	18
A	1
C	2

الاجابة	الرقم
D	1
B	2
C	3
B	4
C	5
A	6
A	7
C	8
D	9
C	10
A	11
B	12
صل	13
A	14
	15
C	1

الرقم	4	5	6	21	1	2	3	4	5
الاجابة	A	B	B		C	C	C	C	C

الرقم	6	26	27						
الاجابة	C	نص	نص						