

الصف 3

2017

مادة الرياضيات



الاختبار التدريبي


نُبذة عن الاختبار التدريبي
يحتوي الاختبار التدريبي على 10 أسئلة. صمم هذا الاختبار ليعطيك فكرة عن نمط أسئلة اختبار IBT الرقمي.

أجب على الأسئلة: www.almanahj.com

كل سؤال لديه أربعة اختيارات. اختر الإجابة الأنسب من الاختيارات الأربعة : A، B، C، D.
سوف تجد إجابات الأسئلة في آخر صفحة من هذا الكتيب.

الأدوات المسموح بها في هذا الاختبار
يمكن استخدام قلم رصاص في هذا الاختبار. لا يمكنك استخدام الآلة الحاسبة في هذا الاختبار.

الزمن المخصص للاختبار :
الزمن المحدد لإكمال الاختبار هو 15 دقيقة.



1 كم عددًا من الأعداد السابقة يعتبر عددًا زوجيًا؟

- 2 A
3 B
4 C
7 D


2



كم الساعة في الشكل السابق؟

- 8:51 A 9:09 B 10:09 C 10:44 D

3




كم عدد المربعات وعدد المثلثات الموجودة في الشكل السابق؟

- A مثلث و مربع
B مثلث و مربعان
C مثلثان و مربع
D مثلثان و مربعان

4 في كل مرة ترى حصة قطعة في الشارع، ترسم خطاً على ورقة.

يبين الشكل هذا أنها رأيت 5 قطط : $+++$

هذه هي ورقة حصة:



كم عدد القطط التي رأيتها حصة؟

3

A

4

B

10

C

12

D

www.almanahj.com

5 أي من الزوايا التالية هي الأكبر؟



A



B



C



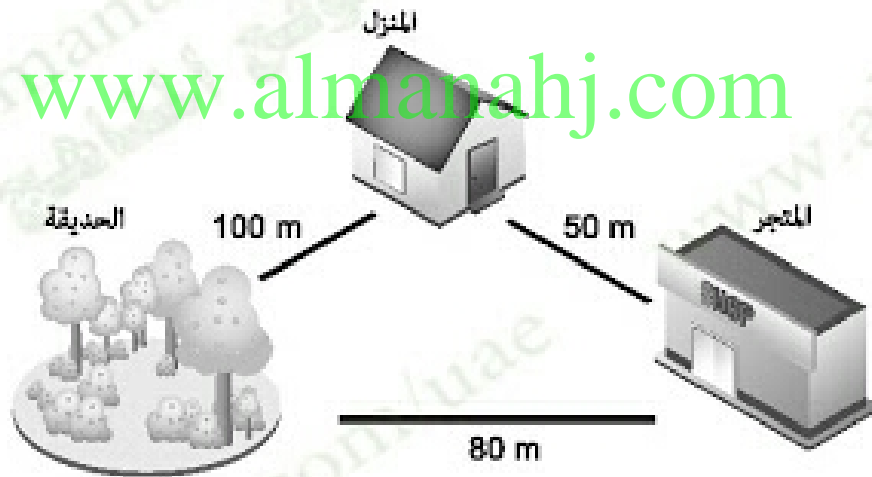
D

6 يوجد في كيس كرتان ذات لون أحمر و 4 كرات زرقاء و 5 كرات خضراء و 3 كرات صفراء. أغلق راشد عينيه وأخذ كرة من الكيس.

عماذا سيكون لون الكرة على الأرجح؟

- A أحمر
- B أزرق
- C أخضر
- D أصفر

7 تبين الخريطة التالية المسافات بين الأماكن في المدينة التي تعيش بها جميلة.



تركت جميلة المنزل و ذهبت إلى المتجر.

وبعد ذلك رجعت إلى المنزل مشيًا قبل الذهاب إلى الحديقة


ما إجمالي المسافة التي مشتها جميلة؟

- A 130 m
- B 150 m
- C 200 m
- D 230 m

8 أي من الأعداد التالية هو الأكبر؟

- A تسعة و سبعون
- B أربعة آلاف و واحد
- C ثمانية وثلاثة وعشرون
- D ثلاثة آلاف وتسعمائة وتسعة وتسعون

9 أي سهم يشير إلى 0.7 على خط الأعداد التالي؟



- A سهم A
- B سهم B
- C سهم C
- D سهم D

10

سبح راشد 100 m في زمن مقداره 3 دقائق و 54 ثانية.
ما الوقت الذي استغرقه راشد في السباحة بالثانية؟

- A** 114 ثانية
B 234 ثانية
C 294 ثانية
D 354 ثانية

www.almanahj.com

الإجابات الصحيحة

C	1
A	2
C	3
D	4
D	5
C	6
C	7
B	8
A	9
B	10

www.almanahj.com