

مراجعة عامة لمادة الرياضيات

مهارات الفصل الدراسي الثاني



أنا المتميزة :

من الصف: الأول /

أوجد ناتج الجمع في كل مما يلي:

$9 + 3 = \dots$

$12 + 4 = \dots$

$7 + 6 = \dots$

$15 + 3 = \dots$

$14 + 2 = \dots$

$13 + 6 = \dots$

$$\begin{array}{r} 8 \\ + 7 \\ \hline \end{array}$$

$$\begin{array}{r} 9 \\ + 4 \\ \hline \end{array}$$

$$\begin{array}{r} 6 \\ + 3 \\ \hline \end{array}$$

$$\begin{array}{r} 12 \\ + 1 \\ \hline \end{array}$$

$$\begin{array}{r} 13 \\ + 2 \\ \hline \end{array}$$

$$\begin{array}{r} 15 \\ + 4 \\ \hline \end{array}$$

$$\begin{array}{r} 17 \\ + 1 \\ \hline \end{array}$$

$$\begin{array}{r} 7 \\ + 5 \\ \hline \end{array}$$

$$\begin{array}{r} 8 \\ + 5 \\ \hline \end{array}$$

أوجد ناتج الجمع في كل مما يلي:



$$8 + 6 = \dots$$

$$11 + 4 = \dots$$

$$12 + 3 = \dots$$

$$10 + 2 = \dots$$



$$\dots + \dots = \dots$$

$$\dots + \dots = \dots$$

www.almanahj.com



$$\dots + \dots = \dots$$



.....
+
.....



.....
+
.....



أوجد المجموع في كل مما يلي:

$$5 + 4 + 5 = \dots$$

$$4 + 4 + 2 = \dots$$

$$4 + 6 + 3 = \dots$$

$$8 + 4 + 2 = \dots$$

$$\begin{array}{r} 2 \\ 3 \\ + 7 \\ \hline \end{array}$$

$$\begin{array}{r} 5 \\ 6 \\ + 5 \\ \hline \end{array}$$

$$\begin{array}{r} 7 \\ 1 \\ + 7 \\ \hline \end{array}$$

$$\begin{array}{r} 1 \\ 4 \\ + 9 \\ \hline \end{array}$$

$$\begin{array}{r} 3 \\ 3 \\ + 1 \\ \hline \end{array}$$

$$\begin{array}{r} 6 \\ 6 \\ + 2 \\ \hline \end{array}$$

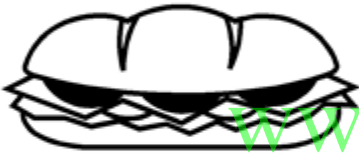
حل المسائل في كل ما يلي:

تبرعت شما بـ 9 دراهم للفقراء، وتبرعت سارة بـ 6 دراهم أيضا. كم مجموع ما تبرعت به الأختان؟



.....

صنعت ميرة 6 شطائر للعشاء، أما منى فقد صنعت العدد ذاته من الشطائر. كم مجموع ما صنعه الأختان؟



www.almanahj.com

مشى سيف مسافة 7 كيلومترا باليوم الأول، و مشى 8 كيلومترا باليوم الثاني. كم مجموع ما مشيه في اليومين؟



.....

لدى عائشة 3 فساتين وردية، و العدد نفسه صفراء، و 5

فساتين حمراء، ما مجموع فساتينها؟



.....

أوجد ناتج الطرح في كل مما يلي:

$9 - 4 = \dots$

$11 - 2 = \dots$

$8 - 3 = \dots$

$10 - 7 = \dots$

$13 - 4 = \dots$

$14 - 6 = \dots$

$$\begin{array}{r} 8 \\ - 2 \\ \hline \end{array}$$

$$\begin{array}{r} 9 \\ - 6 \\ \hline \end{array}$$

$$\begin{array}{r} 7 \\ - 6 \\ \hline \end{array}$$

$$\begin{array}{r} 14 \\ - 5 \\ \hline \end{array}$$

$$\begin{array}{r} 16 \\ - 9 \\ \hline \end{array}$$

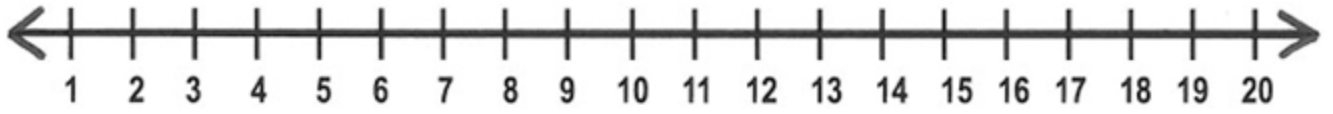
$$\begin{array}{r} 13 \\ - 6 \\ \hline \end{array}$$

$$\begin{array}{r} 18 \\ - 7 \\ \hline \end{array}$$

$$\begin{array}{r} 15 \\ - 3 \\ \hline \end{array}$$

$$\begin{array}{r} 17 \\ - 8 \\ \hline \end{array}$$

أوجد ناتج الطرح في كل مما يلي:



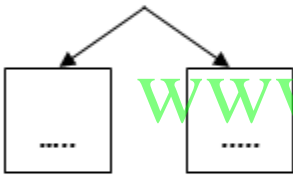
$$9 - 2 = \dots$$

$$14 - 5 = \dots$$

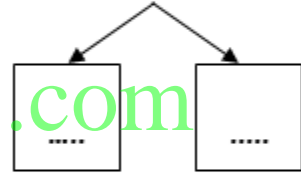
$$12 - 4 = \dots$$

$$17 - 8 = \dots$$

$$14 - 7 = \dots$$



$$15 - 8 = \dots$$



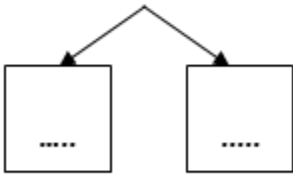
$$14 - \dots = \dots$$

$$\dots - \dots = \dots$$

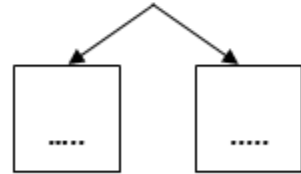
$$15 - \dots = \dots$$

$$\dots - \dots = \dots$$

$$13 - 5 = \dots$$



$$18 - 9 = \dots$$



$$13 - \dots = \dots$$

$$\dots - \dots = \dots$$

$$18 - \dots = \dots$$

$$\dots - \dots = \dots$$

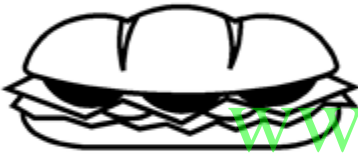
حل المسائل في كل مما يلي:

لدى شما 10 دراهم، تبرعت بـ 5 دراهم للفقراء. كم تبقى لديها؟



.....

صنعت ميرة 14 شطيرة للعشاء، أكلوا 8 منها في العشاء. كم عدد الشطائر التي تبقت؟



www.almanahj.com

مشى سيف مسافة 16 كيلومترا في يومين، إذا كان قد مشى 9 كيلومترا باليوم الأول. فكم مشى في اليوم الثاني؟



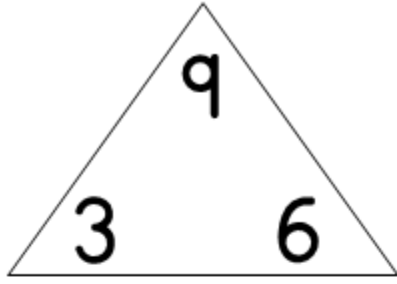
.....

لدى عائشة 8 فساتين وردية وحمراء، إذا كانت أعداد الفساتين متساوية، فكم فستاناً وردياً لديها؟



.....

أكمل مجموعة الحقائق المترابطة في كل مما يلي:

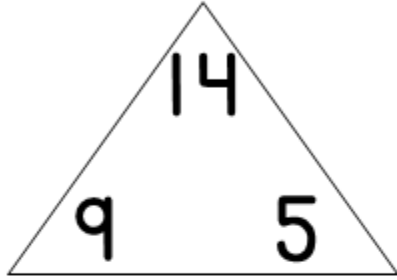


$..... + =$

$..... - =$

$..... + =$

$..... - =$



$..... + =$

$..... - =$

$..... + =$

$..... - =$

$9 + 8 =$

$17 - 9 =$

$8 + 9 =$

$17 - 8 =$

www.almanahj.com

أوجد الحد الجمعي الناقص:

$8 + \dots = 10$

$6 + \dots = 9$


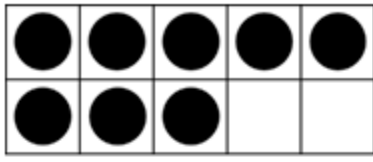
$7 + \dots = 12$

$9 + \dots = 13$

$10 + \dots = 18$


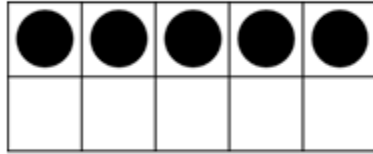
$9 + \dots = 17$

أكمل كتابة الأعداد في كل مما يلي:



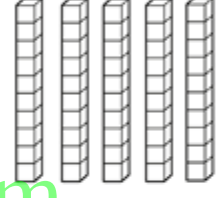
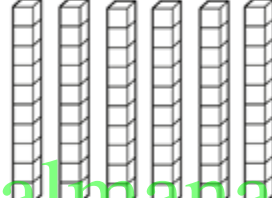
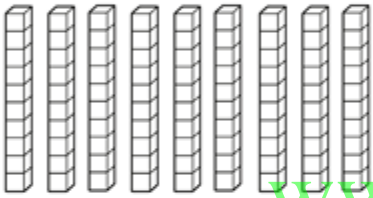
العدد هو

يتكون من 10 و



العدد هو

يتكون من 10 و



..... عشرات =

..... عشرات =

..... عشرات =

المئات	العشرات	الآحاد

العدد هو

المئات	العشرات	الآحاد

العدد هو

عدد فيه 1 مائة و 9 آحاد

.....

عدد فيه 4 عشرات و 6 آحاد

.....

حل المسائل في كل مما يلي:



لدى سمية **3** دراهم، كم فلسا لديها؟

.....

(1 درهم = 100 فلس)

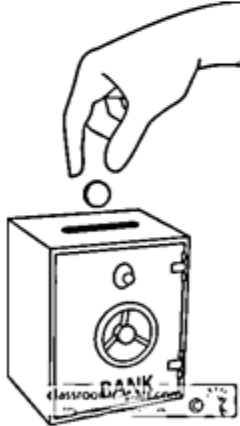


يلبس راشد قميصا عليه رقم آحاده **6** و

عشراته **1**، ما هو رقم قميصه ؟

.....

www.almanahj.com



يوجد في حصالة علي **4** عملات من

فئة **10** فلس، فكم فلسا لديه؟

.....



تحمل سلامة بطاقة عليها عدد عشراته **6**

و آحاده أكبر من **7** وأقل من **9** ؟

.....

أكمل كتابة الأعداد الناقصة في الجدول:

أكتب العدد بالأرقام: www.almanahj.com

عشرون	ثلاثة وثمانون	ستة و خمسون
----------------	------------------------	----------------------

عدد بين 44 46	عدد بين 79 81
---------------------	---------------------

العدد المفقود هو : 32 , 33 , 34 , , 36 , 37.
47 , 48 , 49 , , 51 , 52.

عد العشرات الصحيح هو:
20, 25, 30, 35, 40. 20, 30, 40, 50, 60.

قارن بين الأعداد أكتب < أو > أو = :

39 36 41 14 96 99

56 56 83 78 18 19

72 72 79 66 23 32

47 42 91 91 28 25

12 11 63 66 32 34

أكتب الأعداد في خانة الآحاد و العشرات



العشرات

الآحاد

العشرات

الآحاد

العشرات

الآحاد

--	--

--	--

--	--

--	--

--	--

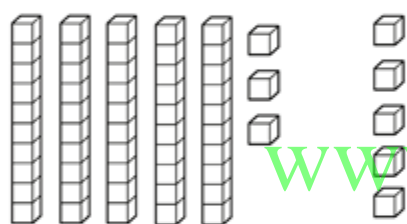
--	--

أوجد الناتج في كل مما يلي:

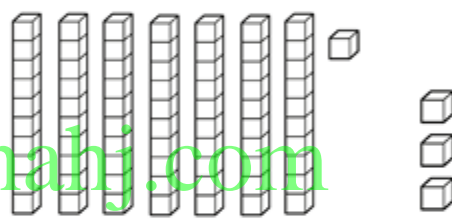
2 عشرات + 3 عشرات = عشرات.

6 عشرات + 2 عشرات = عشرات.

5 عشرات + 4 عشرات = عشرات.



$$53 + 5 = \dots$$



$$71 + 3 = \dots$$

	العشرات	الآحاد
	8	1
+		5
<hr/>		

	العشرات	الآحاد
	9	2
+		6
<hr/>		

	العشرات	الآحاد
	4	5
+		2
<hr/>		

أوجد ناتج الجمع في كل مما يلي:

$$\begin{array}{r} 12 \\ + 40 \\ \hline \end{array}$$

$$\begin{array}{r} 19 \\ + 20 \\ \hline \end{array}$$

$$\begin{array}{r} 78 \\ + 20 \\ \hline \end{array}$$

$$\begin{array}{r} 70 \\ + 13 \\ \hline \end{array}$$

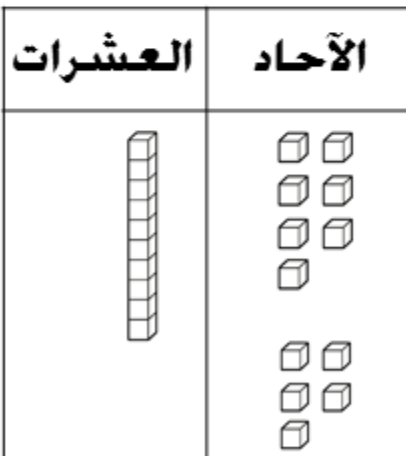
$$\begin{array}{r} 53 \\ + 10 \\ \hline \end{array}$$

$$\begin{array}{r} 85 \\ + 10 \\ \hline \end{array}$$

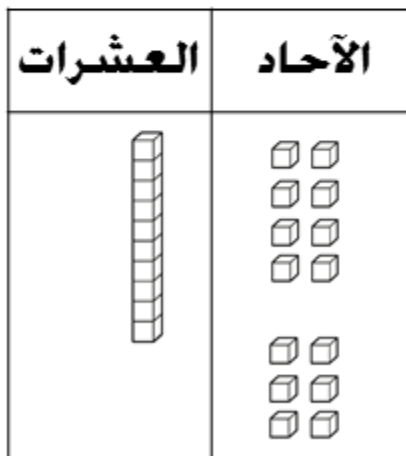
$$\begin{array}{r} 64 \\ + 20 \\ \hline \end{array}$$

$$\begin{array}{r} 33 \\ + 40 \\ \hline \end{array}$$

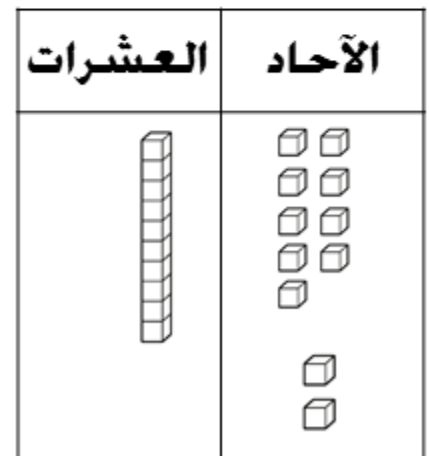
$$\begin{array}{r} 29 \\ + 30 \\ \hline \end{array}$$



$$17 + 5 = \dots$$



$$18 + 6 = \dots$$



$$19 + 2 = \dots$$

أوجد الناتج في كل مما يلي:

8 عشرات - 4 عشرات = عشرات.

9 عشرات - 8 عشرات = عشرات.

6 عشرات - عشرة واحدة = عشرات.

$$\begin{array}{r} 50 \\ - 40 \\ \hline \end{array}$$

$$\begin{array}{r} 90 \\ - 20 \\ \hline \end{array}$$

$$\begin{array}{r} 70 \\ - 10 \\ \hline \end{array}$$

www.almanahj.com

$$\begin{array}{r} 40 \\ - 20 \\ \hline \end{array}$$

$$\begin{array}{r} 30 \\ - 30 \\ \hline \end{array}$$

$$\begin{array}{r} 80 \\ - 50 \\ \hline \end{array}$$

$$70 - 40 = \dots$$

$$80 - 20 = \dots$$

معي 30 ملصقا، استخدمت منها 20 ملصقا، كم تبقى لدي؟