



الإمارات العربية المتحدة
وزارة التربية والتعليم



الصفحة

1

مادة الدراسات الاجتماعية والتربية الوطنية

الاختبار الثالث للمادة - الفصل الأول

اسم المدرسة : الهير للتعليم الاساسي والثانوي

اسم الطالب :

الصف والشعبة : الأول (A - B)

م	السؤال	الدرجة العظمى	الدرجة المستحقة بالأرقام	الدرجة كتابة
1	1- علم الإمارات	3		
	2- التوصيل مع صور الشيوخ	4		
	3- تاريخ قيام الاتحاد	3		
	4- اختار الإجابة الصحيحة	5		
2	1- خطوات قيام الاتحاد	4		
	2- خريطة	1		
	المجموع	20		

متفوق	عادي	متراجع
-------	------	--------

1



السؤال الأول

اولاً: عزيزي التلميذ النجيب - تعرفت على علم الإمارات خلال الحصص , على النموذج الذي أمامك لون العلم

3M

ثانياً : عزيزي التلميذ النجيب - اربط بين الصورة والكلمة المناسبة ؟

4M

www.almanahj.com



الشيخ زايد رحمه الله



الشيخ راشد رحمه الله



الشيخ خليفة بن زايد



مسجد الشيخ زايد

2



السؤال الأول

ثالثاً: عزيزي التلميذ النجيب - ضع دائرة على التاريخ الذي يمثل قيام دولة الإمارات العربية المتحدة

3M

3 4 6 5 2

7 8 9 12 11

1971 1974 1973

رابعاً : عزيزي التلميذ النجيب - ضع إشارة (v) وإشارة (x) في المكان المناسب ؟

5M

www.almanahj.com

- 1-) اول رئيس لدولة الإمارات هو الشيخ زايد بن سلطان رحمه الله .
- 2-) رئيس لدولة الإمارات الحالي هو الشيخ زايد بن سلطان
- 3-) عدد إمارات الدولة هو 7 إمارات .
- 4-) عاصمة دولة الإمارات العربية المتحدة هي أبوظبي
- 5-) الشيخ خليفة من إمارات دبي .
- 6-) من خطوات قيام الاتحاد اجتماع السدير .
- 7-) كلنا نحب دولة الإمارات العربية المتحدة .
- 8-) كان عدد الإمارات المفروض أن تدخل في الاتحاد هو 9 .
- 9-) نائب رئيس الدولة الحالي هو الشيخ محمد بن راشد .
- 10-) كان الشيخ راشد بن سعيد نائب رئيس دولة الإمارات .

3



السؤال الثاني

أولاً- يا اعز انسان على قلب والديه
صل بين الصورة والكلمة .

4M



قيام دولة الإمارات العربية المتحدة

دبي الأول « الاتفاق التساعي »

دبي الثاني « الاتفاق السداسي »

الاتفاق الثنائي

www.almanahj.com

ثانياً - يا اعز انسان على قلب والديه ضع دائرة على كل من أبوظبي - العين

1M



توقيع ولي الأمر

4





الإمارات العربية المتحدة
وزارة التربية والتعليم



الصفحة

مادة الدراسات الاجتماعية والتربية الوطنية

2

الاختبار الثالث للمادة - الفصل الأول

اسم المدرسة : الهير للتعليم الاساسي والثانوي

اسم الطالب :

الصف والشعبة : الثاني (A - B)

م	السؤال	الدرجة العظمى	الدرجة المستحقة بالأرقام	الدرجة كتابة
1	1- التضاريس في الإمارات	3		
	2- التوصيل مع المهن والادوات	4		
	A3- المقارنة بين السهول الساحلية	3		
	3B- ارسم جبل ولونه	1		
	4- اختار الإجابة الصحيحة	4		
2	1- صور التضاريس	4		
	2- معلومة وصورة	1		
	المجموع	20		

1

مراجع

عادي

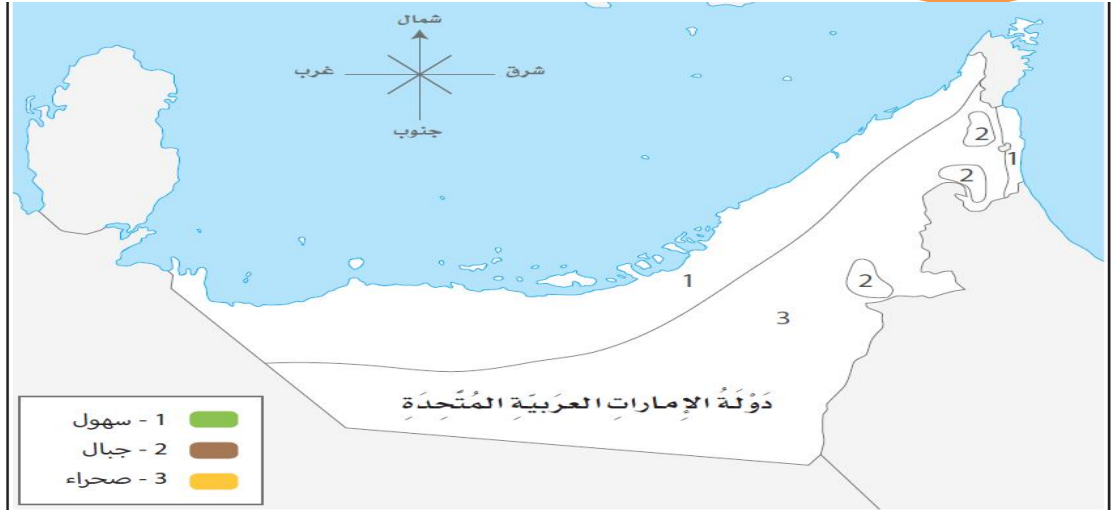
متفوق



السؤال الأول

أولاً: عزيزي التلميذ النجيب - على خريطة الإمارات الصماء عين الأرقام الآتية التي تمثل التضاريس مستخدماً الألوان

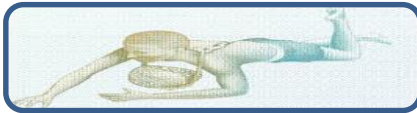
3M



ثانياً: عزيزي التلميذ النجيب - اربط بين الصورة والكلمة المناسبة؟

4M

www.almanahj.com



الرحى



صيد السمك



التلى



الغوص

2



السؤال الأول

ثالثاً : عزيزي التلميذ النجيب - قارن بين السهل الساحلي الشرقي والسهل الساحلي الغربي وفق المعطيات في صندوق المعرفة والجدول الذي أمامك

3M

قصير - طويل - ضيق- الخليج العربي - الفجيرة - دبي

المعطيات	السهل الشرقي	السهل الغربي
الطول		
الاتساع		واسع
يشرف على	بحر عمان	
من المدن		

ثالثاً ب : عزيزي التلميذ النجيب - ارسم جبل ولونه

1M

www.almanahj.com

رابعاً : عزيزي التلميذ النجيب - ضع إشارة (v) وإشارة (x) في المكان المناسب ؟

4M

- 1-) تشرف دولة الإمارات العربية المتحدة من جهة الشمال على بحر عمان .
- 2-) من التضاريس الموجودة في الإمارات الجبال
- 3-) السهول الساحلية الشرقية ضيقة بسبب وجود الجبال
- 4-) أستخدم الخوص في القدم في صناعة الملابس .

3



السؤال الثاني

أولاً- يا اعز انسان على قلب والديه
صل بين الصورة والكلمة .

4M

واحة	سهل	صحراء	جبل
------	-----	-------	-----



www.almanahj.com

ثانياً - صل بين المعلومة وما يقابلها من إجابات صحيحة

1M

تستخدم الكاجوجة لـ



توقيع ولي الأمر

4





الإمارات العربية المتحدة
وزارة التربية والتعليم



الصفحة

4

مادة الدراسات الاجتماعية والتربية الوطنية

الاختبار الثالث للمادة - الفصل الأول

اسم المدرسة : الهير للتعليم الاساسي والثانوي

اسم الطالب :

الصف والشعبة : الثاني (A - B)

م	السؤال	الدرجة العظمى	الدرجة المستحقة بالأرقام	الدرجة كتابة
1	1- المفاهيم الواردة في الدرس	5		
	2- اقسام الجبال	2		
	3 - صورة وأهمية	2		
	4- تحديد التضاريس على الخريطة	3		
2	1- الخرائط الذهنية	2.5		
	2- معلومات مناخية	5.5		
	المجموع	20		



1

متفوق	عادي	متراجع
-------	------	--------

- 1- كتلة ضخمة من الصخور المرتفعة عن سطح الأرض , هذا مفهوم :
A- السهول B- الصحاري C- الوادي D- الجبال
- 2 هي اراضي طويلة منخفضة تحيطها أراضي مرتفعة , هذا مفهوم :
A- السهول B- الصحاري C- الوادي D- الجبال
- 3 تقع الجبال في منطقة الإمارات في المناطق:
A- الشرقية B- الغربية C- الشمالية D- الجنوبية
- 4 ارض منخفضة واسعة الامتداد قريبة من الساحل , هذا مفهوم :
A- السهول B- الصحاري C- الوادي D- الجبال
- 5 يابس محاطة بالماء من جميع الجهات , هذا مفهوم :
A- الجزيرة B- الصحاري C- الوادي D- الجبال
- 6 يستفاد منها في تخزين مياه الأمطار , هذه فائدة :
A- السهول B- الصحاري C- الوادي D- الجبال
- 7 جزيرة إماراتية سكنية , هي :
A- هونشو B- اداس C- دلما D- بني ياس
- 8 جزيرة إماراتية نفطية , هي :
A- هونشو B- اداس C- دلما D- بني ياس
- 9 جزيرة إماراتية تعتبر محمية طبيعية , هي :
A- هونشو B- اداس C- دلما D- بني ياس
- 10 من الجبال الشهيرة في دولة الإمارات العربية المتحدة جبل :
A- طوبقال B- حفيت C- جيس D- B,C

ثانياً: تقسم الجبال في دولة الإمارات إلى قسمين مع ضرب مثال . 2M


القسم الأول مثال

القسم الثاني مثال



2M

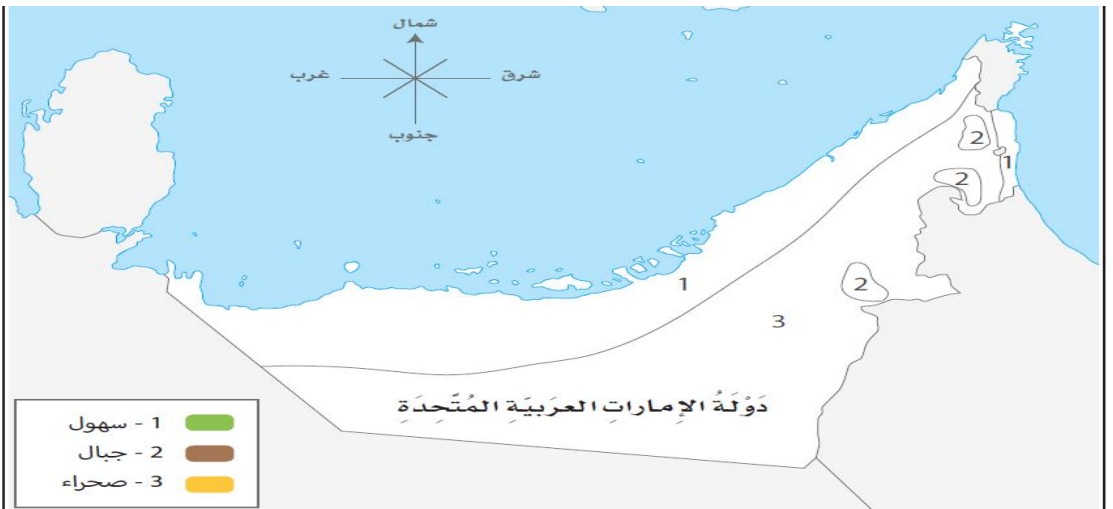
ثالثاً: من خلال الصور استخراج اهمية السهول والجبال .



www.almanahj.com

3m

رابعاً : عزيزي التلميذ النجيب - على خريطة الإمارات الصماء
عين الأرقام الآتية التي تمثل التضاريس مستخدماً الألوان

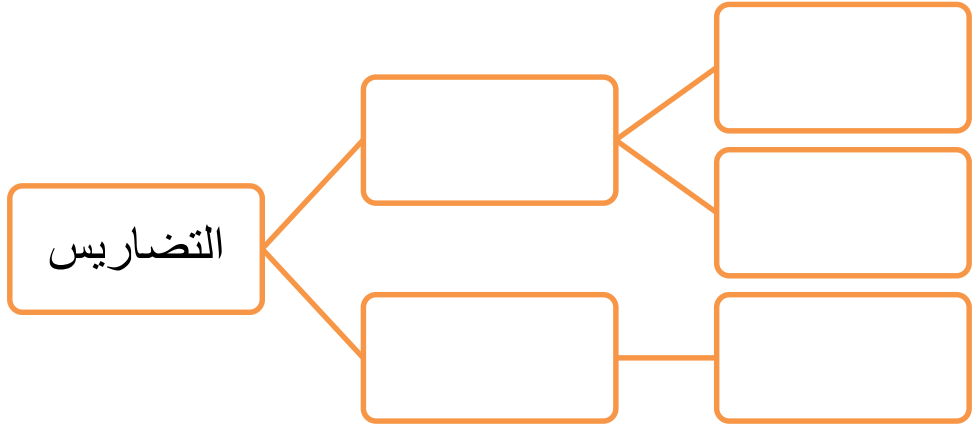


3



2.5m

أولاً: استكمل الخريطة الذهنية الآتية بالعودة لصندوق الكلمات (الجبال - جبل حفيت - السهول - الساحلية- الداخلية .



ثانياً: عزيزي التلميذ النجيب - لاحظ متوسط درجات الحرارة في مدينة دبي ثم أجب عن الأسئلة الآتية

5.5m

www.almanahj.com

أشهر السنة	يناير	فبراير	مارس	أبريل	مايو	يونيو	يوليو	أغسطس	سبتمبر	أكتوبر	نوفمبر	ديسمبر
درجة الحرارة	14	17	20	25	33	42	45	44	43	39	29	18

- 1- اذكر اسم الشهر الذي سجل أعلى درجة حرارة
- 2- اذكر اسم الشهر الذي سجل أدنى درجة حرارة
- 3- ما هو متوسط درجات الحرارة في مدينة دبي
- 4- ما هو الفصل الذي تمثله شهور ديسمبر ويناير وفبراير
- 5- كم تبلغ درجة الحرارة في شهر مارس
- 6- ما هو الفرق في درجات الحرارة بين أعلى درجة وأقل درجة

4

توقيع ولي الأمر

