

ملزمة تقوية لطلاب الصف الثاني الإبتدائي  
في مادة الرياضيات  
للفصل الثاني

العام الدراسي 2017-2018

[www.almanahj.com](http://www.almanahj.com)

اعداد المعلمة

عائشة راجح





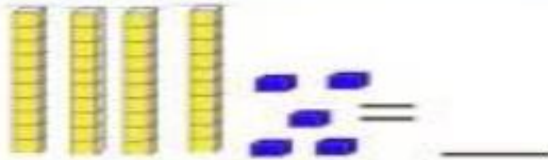

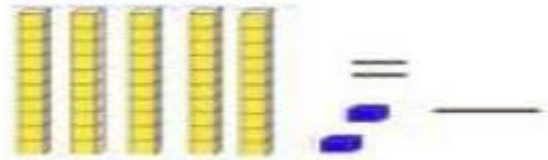
باشراف

أ. فاطمة حسن

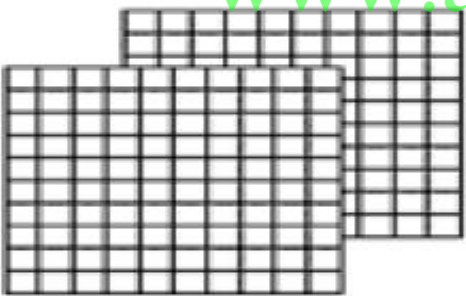


بقيادة مدير المدرسة :


الأستاذ نبيل أبو جراد

انظر الشكل ثم اكتب كما في المثال التالي :

 = 10  = 1	 = 34
 = _____	 = _____
 = _____	 = _____

انظر الشكل ثم اكتب العدد:


		



مئات	عشرات	آحاد

ضع دائرة على الشكل الذي يحدده الرقم


1. 346




2. 273



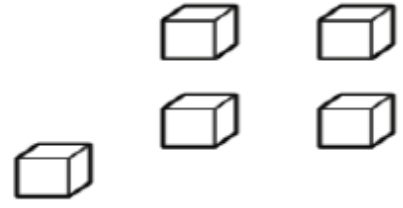
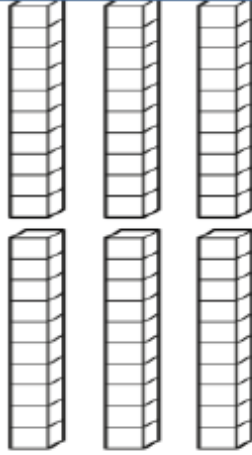

3. 146



4. 433



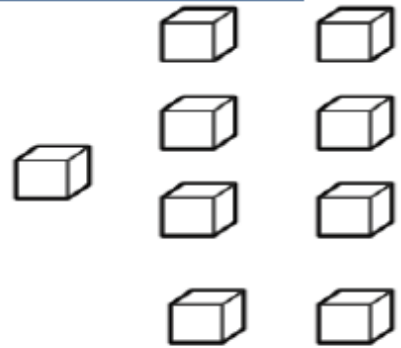
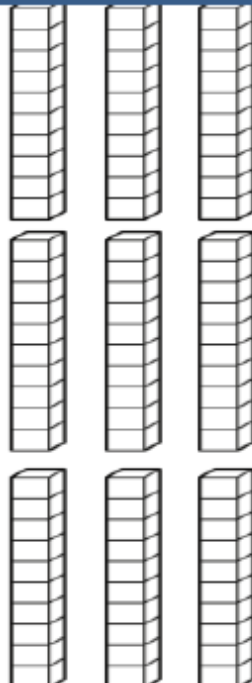


اكتب العدد



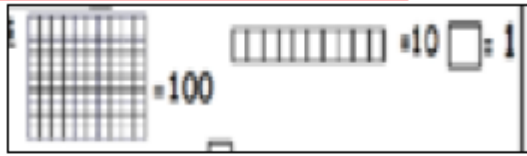
العدد هو :

[www.almanahj.com](http://www.almanahj.com)

اكتب العدد

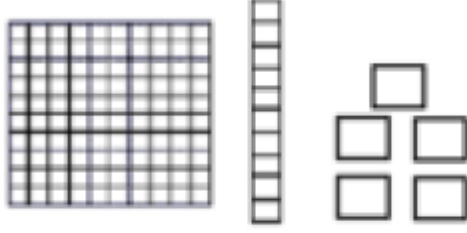


العدد هو :



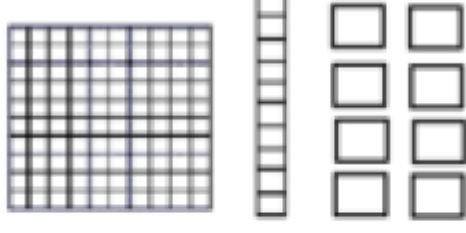
اكتب عدد المئات والعشرات والآحاد

1-



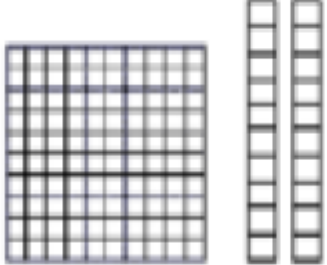
----- مئات ----- عشرات ----- آحاد -----

4-



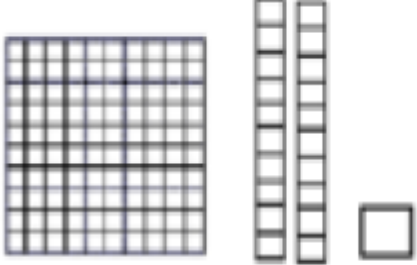
----- مئات ----- عشرات ----- آحاد -----

2-



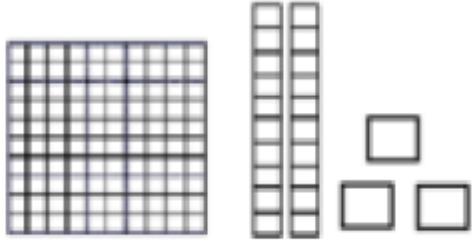
----- مئات ----- عشرات ----- آحاد -----

5-



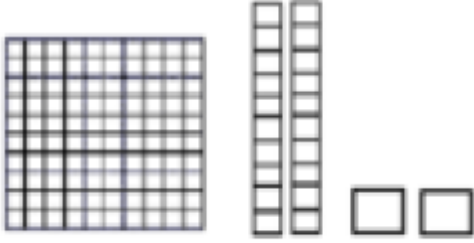
----- مئات ----- عشرات ----- آحاد -----

3-



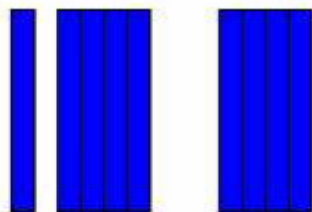
----- مئات ----- عشرات ----- آحاد -----


6-




----- مئات ----- عشرات ----- آحاد -----

اكتب العدد

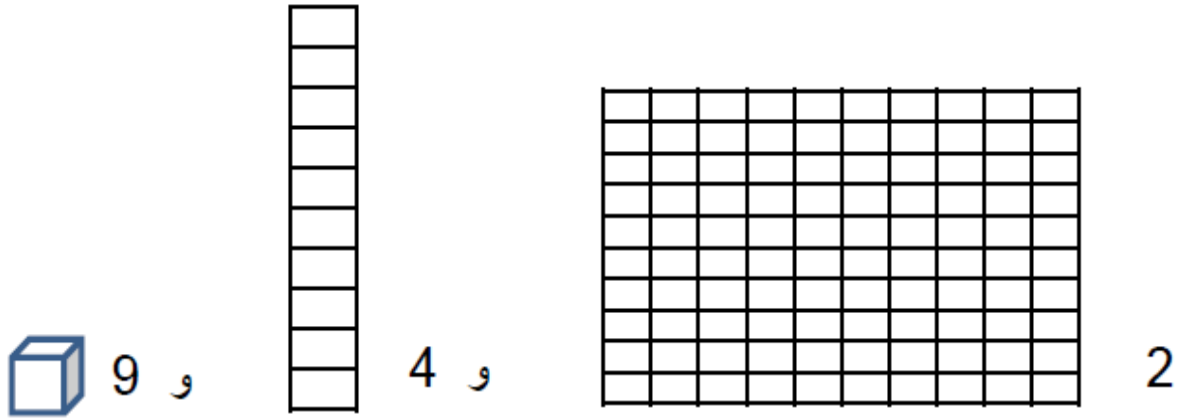




انظر للمئات ثم اكتب العدد ثم اكتبه بالحروف

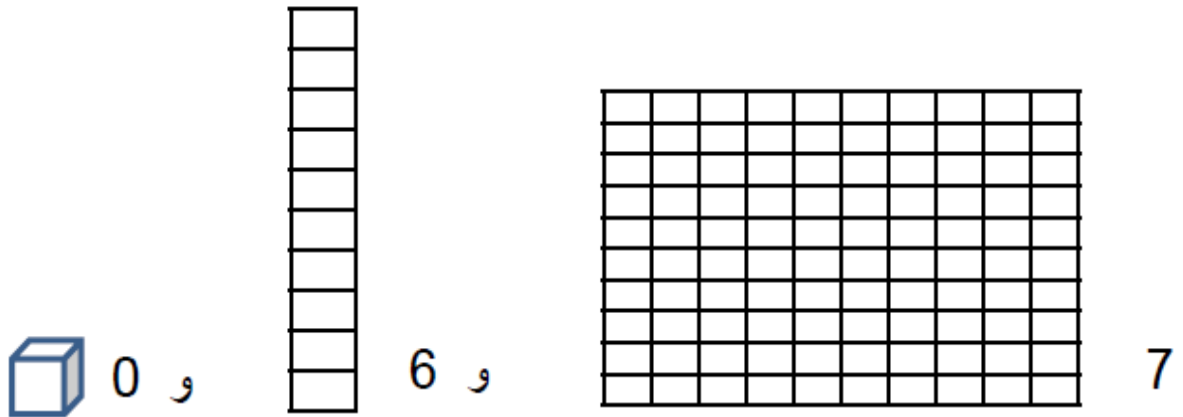


اكتب عدد المئات والعشرات والآحاد ثم اكتب العدد:



المئات	العشرات	الآحاد

[www.almanahj.com](http://www.almanahj.com)



المئات	العشرات	الآحاد

اكتب عدد المئات والعشرات والآحاد

$$\text{أحاد} \text{-----} = 300$$

$$\text{عشرات} \text{-----} = 600$$

$$\text{عشرات} \text{-----} = 900$$

$$\text{مئات} \text{-----} = 700$$

لدى هند 8 أكياس ويوجد بكل كيس 100 حبة خرز . كم عدد مئات حبات الخرز التي لدى هند ؟

مئات -----

**710** [www.almanahj.com](http://www.almanahj.com)

حوظ حول الرقم الذي يمثل المئات

**561**

حوظ حول الرقم الذي يمثل العشرات

ضع خطأً على الآحاد وخطأً مزدوجاً على العشرات وحوظ حول الرقم الذي يمثل المئات

**283**



اكتب عدد المئات والعشرات والآحاد

876 = \_\_\_\_\_ مئات ، \_\_\_\_\_ عشرات ، \_\_\_\_\_ آحاد

463 = \_\_\_\_\_ مئات ، \_\_\_\_\_ عشرات ، \_\_\_\_\_ آحاد

105 = \_\_\_\_\_ مئات ، \_\_\_\_\_ عشرات ، \_\_\_\_\_ آحاد

يوجد 3 مئات و 1 آحاد وعدد العشرات هو الرقم الواقع بين عدد الآحاد و عدد  
المئات . فما العدد ؟

[www.almanahj.com](http://www.almanahj.com)

كتب أحمد ملخص عن حالة الطقس وبلغ عدد الصفحات التي لديه 1 مئات و 4  
عشرات و 6 آحاد . كم عدد صفحات الملخص الذي كتبه ؟

اختر الإجابة الصحيحة :

يحتوي عدد على 7 عشرات و 3 آحاد و 9 مئات  
ما هذا العدد ؟

739



937



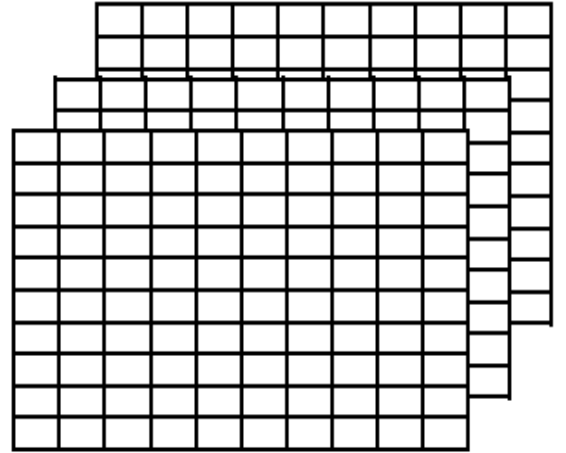
973



397

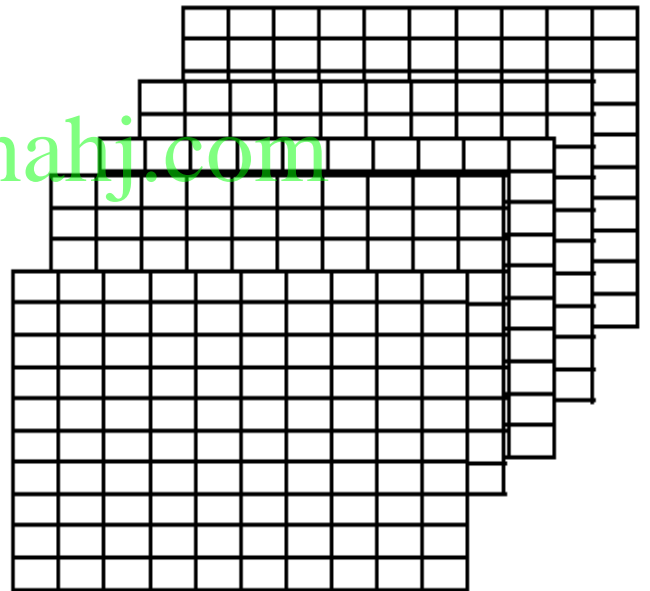


اكتب عدد المئات والعشرات والآحاد




مئات = عشرات = آحاد

[www.almanahj.com](http://www.almanahj.com)



مئات = عشرات = آحاد



مئات = عشرات = آحاد

اكتب العدد بالصيغة الموسعة

5 مئات و 0 عشرات و 3 آحاد

$$\underline{\hspace{2cm}} + \underline{\hspace{2cm}} + \underline{\hspace{2cm}} = \underline{\hspace{2cm}}$$

7 مئات و 1 عشرات و 6 آحاد

$$\underline{\hspace{2cm}} + \underline{\hspace{2cm}} + \underline{\hspace{2cm}} = \underline{\hspace{2cm}}$$

[www.almanahj.com](http://www.almanahj.com)

$$723 = \underline{\hspace{2cm}} + \underline{\hspace{2cm}} + \underline{\hspace{2cm}}$$

$$691 = \underline{\hspace{2cm}} + \underline{\hspace{2cm}} + \underline{\hspace{2cm}}$$

حوط حول قيمة الرقم الذي تحته خط

698

900

90

9

568

800

80

8

اقرأ العدد ثم اكتب العدد :

خمسمائة و عشرة

-----

أربعمائة و عشرون

-----

أربعمائة وأربعة وسبعون

-----

مئتان وستة وثمانون

-----

[www.almanahj.com](http://www.almanahj.com)

ألف

-----

خمسون

-----

تسعة عشر

-----

ستمائة و ثلاثة عشر

-----

اقرأ العدد ثم اكتب العدد بالحروف :

432

561

918

231

[www.almanahj.com](http://www.almanahj.com)

اكتب الأعداد الناقصة ، ثم اكتب نمط العد

400 , 410 , \_\_\_\_\_ , 430 , \_\_\_\_\_

النمط هو \_\_\_\_\_

755 , \_\_\_\_\_ , 555 , 455 , \_\_\_\_\_

النمط هو \_\_\_\_\_

200 , 300 , 400 , \_\_\_\_\_ , \_\_\_\_\_

النمط هو \_\_\_\_\_

134 , \_\_\_\_\_ , \_\_\_\_\_ , 164 , 174

النمط هو \_\_\_\_\_

اختر الإجابة الصحيحة

حدد نمط الأعداد الذي يمثل العد بمقدار 10 تنازلياً :

710, 720 , 730 , 740



300 , 400 , 500 , 600



260 , 250 , 240 . 230



455 , 460, 465, 470



قارن بين الأعداد ثم اكتب > أو < أو =

661



665

[www.almanahj.com](http://www.almanahj.com)

321



345

754



754

990



900

512



519

410



410

414



441

509



505

أجمع :

$$\begin{array}{r} 200 \\ + 300 \\ \hline \end{array}$$

$$\begin{array}{r} 500 \\ + 200 \\ \hline \end{array}$$

$$\begin{array}{r} 600 \\ + 300 \\ \hline \end{array}$$

$$\begin{array}{r} 134 \\ + 470 \\ \hline \end{array}$$

$$\begin{array}{r} 543 \\ + 260 \\ \hline \end{array}$$

$$\begin{array}{r} 207 \\ + 22 \\ \hline \end{array}$$

أعد كتابة المسائل . اجمع

$$456 + 271$$

$$245 + 355$$

$$550 + 190$$

[www.almanahj.com](http://www.almanahj.com)

+ \_\_\_\_\_

+ \_\_\_\_\_

+ \_\_\_\_\_

جمع أحمد 210 طابع بريدي . وجمع علي 100 طابع . فكم عدد الطوابع التي  
جمعها إجمالاً ؟

طابع بريدي -----



أعدت شيخة 135 قطة من الحلوى وأعدت فاطمة 166 قطعة من الحلوى .  
فكم عدد قطع الحلوى التي أعدتها كل من شيخة وفاطمة إجمالاً ؟

قطعة حلوى -----

كون مئة إجراء عملية جمع :

$$\begin{array}{r} 234 + 99 \\ \hline \dots + \dots + 99 \\ 33 + \dots = \dots \\ 34 + 99 = \dots \text{ إذا} \end{array}$$

$$\begin{array}{r} 75 + 195 \\ \hline \dots + \dots + 195 \\ 70 + \dots = \dots \\ 75 + 195 = \dots \text{ إذا} \end{array}$$

أوجد حاصل الجمع

$$600 + 100 = \dots$$

800

700

7

80



أوجد الحد الجمعي الناقص

$387 + \text{-----} = 457$

$\text{-----} + 10 = 569$

$102 + \text{-----} = 112$

$\text{-----} + 100 = 832$

أوجد ناتج الجمع

$326 + 100 = \text{-----}$

426



525



320



436



[www.almanahj.com](http://www.almanahj.com)

اجمع :

	مئات	عشرات	آحاد
		<input type="text"/>	
	3	4	6
+	2	4	7

	مئات	عشرات	آحاد
		<input type="text"/>	
	1	2	9
+	7	5	1

اجمع :

	3	2	8
+	4	9	1
<hr/>			

$$\begin{array}{r} 390 \\ + 133 \\ \hline \end{array}$$

$$\begin{array}{r} 100 \\ + 600 \\ \hline \end{array}$$

$$\begin{array}{r} 765 \\ + 20 \\ \hline \end{array}$$

$$\begin{array}{r} 190 \\ + 143 \\ \hline \end{array}$$

[www.almanahj.com](http://www.almanahj.com)

$$727 + 200 = \underline{\hspace{2cm}}$$

$$523 + 10 = \underline{\hspace{2cm}}$$

$$300 + 0 = \underline{\hspace{2cm}}$$

$$500 + 300 = \underline{\hspace{2cm}}$$

أوجد الحد الجمعي الناقص :

$$345 + \underline{\hspace{2cm}} = 359$$

$$789 + \underline{\hspace{2cm}} = 853$$

عدت مريم 328 كرة صغيرة . وعدت هند عدداً أكبر من الكرات الصغيرة التي عدتها مريم بمقدار 100 كرة صغيرة . كم عدد الكرات الصغيرة التي عدتها هند ؟

100



428



128



228



يجب على فهد قراءة أربع كتب بإجمالي 600 صفحة . ما الكتب الأربعة التي يجب عليه قراءتها ؟

الصفحات	الكتاب
180	1
130	2
135	3
100	4
155	5

الكتب رقم \_\_\_\_\_ و \_\_\_\_\_ و \_\_\_\_\_ و \_\_\_\_\_

[www.almanahj.com](http://www.almanahj.com)

أعد كتابة المسائل . اجمع

$$653 + 123$$

          
+

$$433 + 272$$

          
+

فكك المئات للطرح :

$$500 - 98$$



-----

$$\underline{\hspace{2cm}} - 98 = \underline{\hspace{2cm}}$$

$$\underline{\hspace{2cm}} + \underline{\hspace{2cm}} = \underline{\hspace{2cm}}$$

$$500 - 98 = \text{----- إذا}$$

$$324 - 96$$



-----

$$\underline{\hspace{2cm}} - 96 = \underline{\hspace{2cm}}$$

$$\underline{\hspace{2cm}} + \underline{\hspace{2cm}} = \underline{\hspace{2cm}}$$

$$324 - 96 = \text{----- إذا}$$

كان في مسرح المدرسة 372 طالباً . غادر 99 طالباً . فكم عدد الطلاب الذين لا يزالون في المسرح ؟

طالباً \_\_\_\_\_

كيف يمكنك تفكيك 244 لحل 244 - 95

244 و 100



144 و 95



144 و 100



200 و 44



اطرح

$$\begin{array}{r} 593 \\ + 200 \\ \hline \end{array}$$

$$\begin{array}{r} 642 \\ - 10 \\ \hline \end{array}$$

$$\begin{array}{r} 786 \\ - 100 \\ \hline \end{array}$$

$$587 - \underline{\quad\quad\quad} = 387$$

$$954 - \underline{\quad\quad\quad} = 942$$

$$00 - 500 = \underline{\quad\quad\quad}$$

$$900 - 300 = \underline{\quad\quad\quad}$$

[www.almanahj.com](http://www.almanahj.com)

أوجد ناتج  $400 - 400$

900

800

0

100

أوجد ناتج  $700 - 200$

200

500

300

400

أعد كتابة المسألة . ا طرح .

$$764 - 214$$


$$831 - 548$$


ا طرح

$$\begin{array}{r} 346 \\ + 179 \\ \hline \end{array}$$

$$\begin{array}{r} 887 \\ - 399 \\ \hline \end{array}$$

$$\begin{array}{r} 202 \\ - 134 \\ \hline \end{array}$$

جمعت هدى 524 درهم واشترت لعبة . والآن أصبح لديها 315 درهم . فكم عدد الدراهم المتبقية لدى هدى ؟

درهم \_\_\_\_\_

يوجد 236 حافلة مدرسة في موقف الحافلات ثم تحركت حافلات المدرسة وظلت 98 حافلة في الموقف كم عدد الحافلات المتحركة

139

137

136

138

[www.almanahj.com](http://www.almanahj.com)

[www.almanahj.com](http://www.almanahj.com)