



الإمارات العربية المتحدة
وزارة التربية والتعليم



كتاب النشاط للطلاب

الدراسات الاجتماعية والتربية الوطنية

رؤية وتحليل لكتاب



www.almaukahj.com

10

الصف العاشر

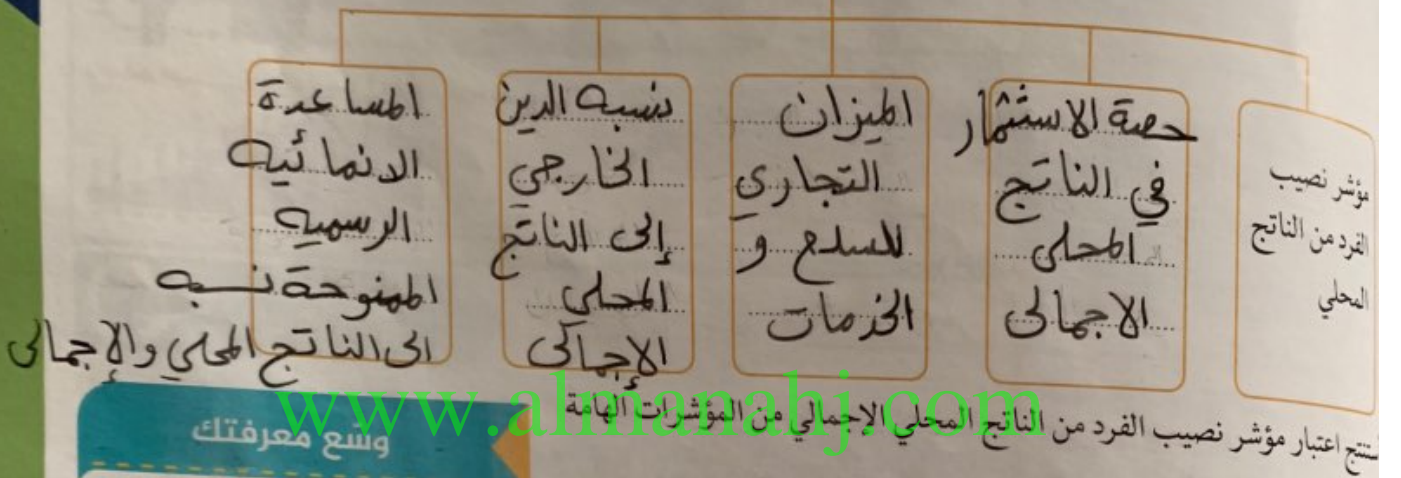
الفصل الدراسي الثاني

1438-1437 هـ
2017-2016 م

الطبعة الأولى

التنمية المستدامة - الإطار العام والتطبيقات دولة الامارات العربية المتحدة (نموذجاً)، الصفحات 56-57
 يجب أن أجيب عن الأسئلة الآتية
 5- 56-57
 تكمل كتابة المخطط الذهني من حيث:

الطرق التي يمكن من خلالها قياس الهيكل الاقتصادي للتنمية المستدامة:



وسع معرفتك

مفهوم الناتج المحلي الإجمالي: القيمة السوقية لكل السلع النهائية والخدمات المعترف بها بشكل محلي والتي يتم إنتاجها في دولة ما خلال فترة زمنية محددة.

لها تستخدم لقياس ممانه الاقتصاد

* تخيم الاداء

* مقارنة بين الدول المختلفة

ناقش شفويا زملائي مؤشر الناتج المحلي الإجمالي في دولة الامارات العربية المتحدة من خلال الشكل الآتي.



الإمارات صدارة عربية واقليمية

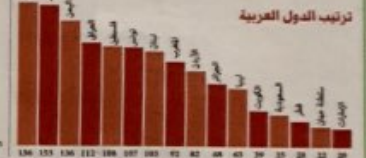
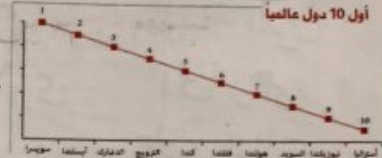


مؤشرات القياس

- مؤشر التنمية البشرية
- مؤشر الصحة العالمية
- مؤشر التعليم
- مؤشر المساواة
- مؤشر الفساد
- مؤشر الحرية
- مؤشر الفقر
- مؤشر البطالة
- مؤشر التوظيف
- مؤشر المساواة بين الجنسين
- مؤشر الديمقراطية
- مؤشر السلام
- مؤشر التنمية الاقتصادية
- مؤشر التنمية الاجتماعية
- مؤشر التنمية الثقافية
- مؤشر التنمية البيئية
- مؤشر التنمية التكنولوجية
- مؤشر التنمية الحضرية
- مؤشر التنمية الريفية
- مؤشر التنمية الإقليمية
- مؤشر التنمية الوطنية

آخر 10 دول في التقرير

- 104 لبنان
- 103 ليبيا
- 102 ساحل العاج
- 101 جمهورية الكونغو
- 100 أفغانستان
- 99 رواندا
- 98 اليمن
- 97 سوريا
- 96 موزمبيق
- 95 النيجر



«نسعى لتحويل حب الخير إلى عمل مؤسسي مستدام وتغيير مجتمعي ملموس وفرق حقيقي في حياة الناس».

صاحب السمو الشيخ محمد بن راشد آل مكتوم - رعاه الله.



(يعد مؤشر المساعدة الإنمائية مقياساً لمدى التزام دولة الامارات العربية المتحدة بتحقيق الشراكة العالمية في التنمية والتي تهدف إلى النهوض بالتنمية الاقتصادية والاجتماعية في هذه الدول)

اذكر اسم المبادرة التي أطلقها صاحب السمو الشيخ محمد بن راشد في عام (2017).

أسم بعض الجهات والمؤسسات الخيرية في الدولة التي تقدم مساعدات إنمائية للدول الخارجية.

جولة إلكترونية

ابحث في شبكة المعلومات الدولية عن المقصود بالميزان التجاري:

ألخص ما قرأت

اقرأ بتأن كتاب (التنمية المستدامة - الإطار العام والتطبيقات دولة الامارات العربية المتحدة نموذجاً)، الصفحات (54 - 56)، ثم أجب عن الأسئلة الآتية :-

أفسر المقصود بالتراكم الرأسمالي الوطني والاستثمارية وزيادة...
الدول من السلع والخدمات الداعية الإنتاجية...

(تعمل الاستثمارات على تقوية التراكم الاقتصادي و الاقتصاد الوطني من خلال تهيئة المناخ المناسب والمساند للاستثمار)

في ضوء العبارة السابقة أوضح كيف تشجع دولة الامارات العربية المتحدة على الاستثمار.

بتوجيهات الجهات المناسبة والمساند للاستثمار...

تعزيز دور الاستثمار الخاص والاستفادة من دعم المشاريع الصغيرة صادرات...

أبين سبب دراسة الميزان التجاري للسلع والخدمات

تحسين الميزان التجاري لدولة الامارات...

يساهم في زيادة نسبة الصادرات في الناتج المحلي والإجمالي.

أعدد بعض السلع والمنتجات التي تصدرها وتستوردها دولة الامارات العربية المتحدة.

الواردات

1. هواتف
2. السيارات
3. عطور



الصادرات

1. النفط
2. التمور
3. التمور



أنماط الاستهلاك والانتاج للتنمية المستدامة

ثانياً

اقرأ وأفسر



اقرأ بعناية كتاب (التنمية المستدامة - الإطار العام والتطبيقات دولة الامارات العربية المتحدة نموذجاً)، الصفحات (58 59) ثم اجيب عن الأسئلة الآتية :-

تمثل مؤشرات استخدام الطاقة ذات العلاقة بأنماط الاستهلاك والإنتاج المستدامين في كل من نصيب الفرد من الاستهلاك السنوي للطاقة، وكفاءة استخدام الطاقة (

www.almanahj.com

أفسر أسباب ارتفاع استهلاك الفرد من الطاقة في دولة الامارات العربية المتحدة:

-3	-2	-1
الظروف المناخية ارتفاع درجة الحرارة والجفاف	ارتفاع معدلات النمو الاقتصادي	اعتماد اقتصادها المحلي على صناعة كثيفة الاستهلاك للطاقة

أوضح المقصود بكثافة استهلاك الطاقة

جولة إلكترونية

ابحث في شبكة المعلومات الدولية عن اسم الجائزة التي أطلقتها الهيئة الاتحادية للكهرباء والماء لترشيد استهلاك المياه.



تسمى كمية الطاقة التجارية المستهلكة لكل

دولار من الناتج المحلي الإجمالي بكثافة الاستهلاك

أستشهد بأية قرآنية تحث على عدم الاسراف

لاكلوا واشربوا ولا تسرفوا إن الله لا يحب المفسرفين

بِسْمِ اللَّهِ الرَّحْمَنِ الرَّحِيمِ

الفولت V: هو الوحدة المستعملة لقياس فرق الجهد الكهربائي، استخدمت هذه الوحدة بهذا الاسم تكريماً للعالم الإيطالي ألساندرو فولتا، مخترع البطارية الكهربائية وهو فرق الجهد الكهربائي بين نقطتين في دائرة كهربائية يعبرها تيار مستمر ثابت مقداره 1 أمبير، عند تبديد قدرة مقدرها 1 واط بين هاتين النقطتين.

الأمبير A: وحدة تستعمل لقياس شدة التيار الكهربائي، تخليداً لذكر العالم الفيزيائي الفرنسي أندري ماري أمبير الذي درس التيار الكهربائي وهو شدة التيار الناتج عن مرور شدة قدرها 1 كولوم خلال موصل في قدرة 1 ثانية.

الوات W: هو وحدة تستعمل لقياس القدرة، سميت بهذا الاسم تكريماً للمهندس الأسكتلندي جيمس وات. والواط يساوي 1 جول لكل ثانية وهو وحدة قياس لمعدل نقل الطاقة أو تحويلها من صورة لأخرى.

اقرأ بعناية كتاب (التنمية المستدامة - الإطار العام والتطبيقات دولة الامارات العربية المتحدة نموذجاً) ، الصفحات (60 - 61) ثم اجيب عن الأسئلة الآتية :-
 ◀ أستكمل كتابة المخطط الذهني الآتي:

يمكن قياس مؤشر توليد النفايات وإدارتها عن طريق:

1- مجموع النفايات المتولدة

2- توليد النفايات الخطرة

أضع تعريفاً مناسباً للنفايات المتولدة من الأنشطة الصناعية والزراعية والبلدية والبناء والتشييد

ماذا أتوقع لكميات النفايات المتولدة في دولة الامارات العربية المتحدة هل تتزايد أم تتناقص، ولماذا؟

تزداد نتيجة لزيادة مسروعات البناء والإعمار

بسبب الهجرة المفجئة التي تشهدها البلاد

www.almanahj.com



أفكر في بعض الحلول المبتكرة لتصرف كميات النفايات في دولة الامارات العربية المتحدة.

* إعادة التدوير

* تحويلها الى الأسمدة

* إنتاج غاز قابل للاستعمال

* استخدام الكياس صديقة للبيئة

إنجاز حضاري

أطلقت شركة الشارقة للبيئة « حاويات إعادة تدوير نفايات، توفر الاتصال اللاسلكي بالإنترنت (Fi) وتعمل على الطاقة الشمسية، وبأجهزة استشعار، وذلك في إطار هيئة الشارقة للتطوير والاستثمار وشركة الإمارات للاتصالات المتكاملة



ختم الرؤية:

(الانطلاق في 17 يناير 2017) في سويسرا أعمال المنتدى الاقتصادي العالمي دافوس في نسخته الـ 47 بمشاركة نحو ثلاثة آلاف زعيم ومسؤول سياسي واقتصادي لبحثوا أهم القضايا العالمية.

تعرف المواضيع الذي تناولها منتدى دافوس الاقتصادي من خلال الرابط (<http://ara.tv/risu4>)

إحياء النهج الاقتصادي

إصلاح الرأس المال

تعزيز التعاون العالمي

السياسات حول العالم

التحضير الثورة الصناعية الرابعة

www.almanahj.com

WORLD
ECONOMIC
FORUM

COMMITTED TO
IMPROVING THE STATE
OF THE WORLD



خط الفقر العالمي:

أدنى مستوى من الدخل يحتاجه المرء أو الأسرة حتى يكون بالإمكان توفير مستوى معيشة ملائم في بلد ما. أما الخط المتعارف عليه عالمياً فكان حوالي دولاراً أميركياً واحداً في اليوم للفرد، لكن البنك الدولي عاد في عام 2008 ورفع هذا الخط إلى (1.25) دولار، وسيتم تحديث خط الفقر العالمي ليصبح (1.9) دولار عند مستويات القوة الشرائية.

والمستثمرين على أرض الدولة

أقرأ بعناية كتاب (التنمية المستدامة - الإطار العام والتطبيقات دولة الامارات العربية المتحدة نموذجاً) صفحة (62) ثم أجب عن الأسئلة الآتية :-

أحدد مؤشر ظاهرة الفقر في دولة الامارات العربية المتحدة.

مؤشر خط الفقر = 0

أفسر عدم وجود ظاهرة الفقر في دولة الامارات العربية المتحدة.

وجود شبكات الأمان الإجتماعية التي تغطي المواطنين

أقرأ بعناية كتاب (التنمية المستدامة - الإطار العام والتطبيقات دولة الامارات العربية المتحدة نموذجاً) الفقرة الثانية الصفحات (62-63) ثم أجب عن الأسئلة الآتية :-

أستخرج من خلال قراءة النص ما يأتي :-

حقيقة

ارتفاع معدل البطالة في دولة الامارات إلى معدلها من 1.8%

مصطلح أو مفهوم خلال الفترة (1995 - 1999) 7.8% خلال الفترة (2000 - 2003)

البطالة / خط الفقر

أسمي بعض معارض التوظيف التي تقام في بعض إمارات الدولة.

* معرض الارشاد الوظيفي

* معرض دبي التجاري * معرض العين للتوظيف

جولة إلكترونية

أبحث في شبكة المعلومات الدولية عن اسم الوزارة المسؤولة عن تقديم المساعدات الإجتماعية في دولة الامارات العربية المتحدة. مع ذكر اسم الوزير فيها.

وزارة

العمل والشؤون الإجتماعية هيئة تنمية المجتمع

حكمة ورؤية



«ان واجب الوفاء والعرفان لوطن وفر الحياة الكريمة والسعيدة لكل أبنائه والمقيمين على أرضه يتطلب منا جميعاً أن نجعله دوماً في أعماق قلوبنا».

صاحب السمو الشيخ محمد بن زايد

آل نهيان

- رعاه الله.

من مؤسساتنا المحلية

وزارة الموارد البشرية والتوطين:

تضم وزارة الموارد البشرية والتوطين التي تم تأسيسها عام 1971م أربعة قطاعات رئيسية هي: قطاع العمل، وقطاع التفتيش، وقطاع السياسات والاستراتيجيات، وقطاع الخدمات المساندة.

وتتولى تنفيذ سبعة مهام واختصاصات رئيسية هي:

1. اقتراح القوانين الاتحادية المنظمة لشؤون العمل والعمال والإشراف على تنفيذها
2. إدارة سوق العمل واقتراح السياسات العمالية الملائمة للدولة
3. تنظيم علاقات العمل بهدف توفير الاستقرار وزيادة الإنتاجية وخلق فرص العمل
4. المشاركة في وضع السياسات الاقتصادية والاجتماعية على مستوى الدولة بمراعاة واقع ومتطلبات سوق العمل
5. تقديم خدمات متميزة تلبي احتياجات المتعاملين
6. العمل على تنظيم ودعم علاقات العمل العربية والدولية
7. المساهمة في دعم وتشجيع عمل المواطنين وإتاحة الفرصة لهم

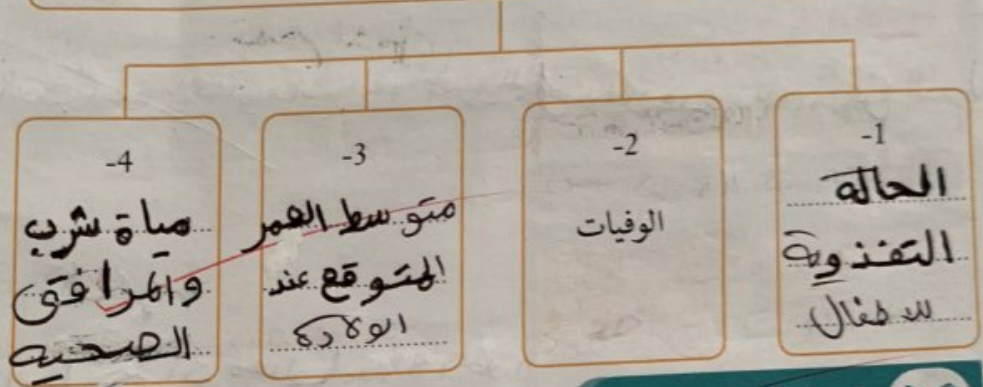
(<http://www.mohre.gov.ae>)

أقرأ وأجيب



أقرأ بتأن كتاب (التنمية المستدامة - الإطار العام والتطبيقات دولة الامارات العربية المتحدة نموذجاً) ، الصفحات (63 - 70) ثم أجيب عن الأسئلة الآتية :-
 استكمل كتابة المخطط الذهني الآتي:

المؤشرات التي تقيس الحالة الصحية للسكان في دولة الإمارات العربية المتحدة هي:

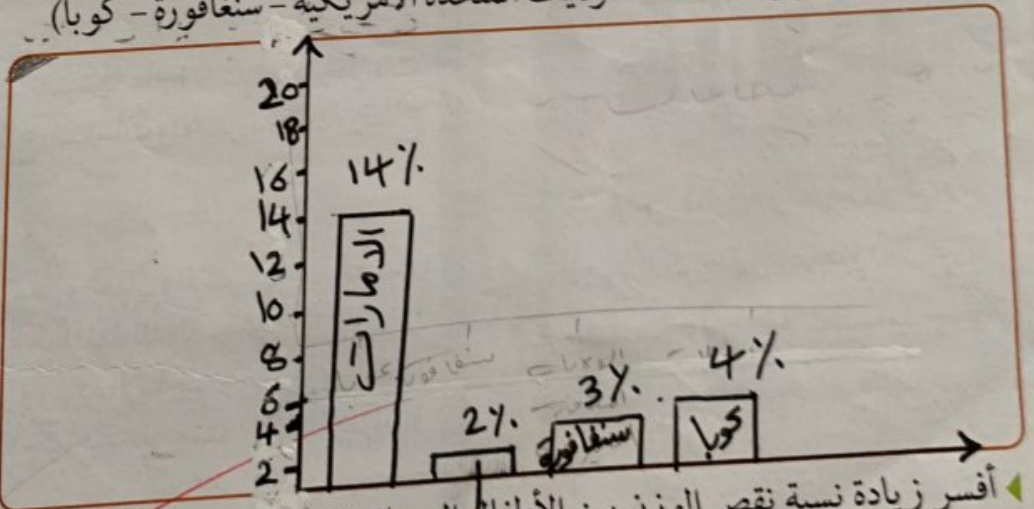


أقرأ وأحلل



أقرأ بتركيز كتاب (التنمية المستدامة - الإطار العام والتطبيقات دولة الامارات العربية المتحدة نموذجاً) ، الفقرة الثانية صفحة (63) ثم أجيب عن الأسئلة الآتية :-
 أصمم رسماً بيانياً مبكراً وأمثل عليه نسبة الأطفال الذين يعانون من سوء التغذية في الدول الآتية:

(الإمارات العربية المتحدة - الولايات المتحدة الأمريكية - سنغافورة - كوبا)



أفسر زيادة نسبة نقص الوزن بين الأطفال الصبيان (الذكور) منه بين الإناث في دولة الامارات العربية المتحدة.

يعانون سوء التغذية

رجل بنى أمة



إننا نمر الآن بمرحلة من أهم المراحل في تاريخنا. ولقد هدانا الله إلى أن نقوم بتنفيذ كل ما يعود بالفائدة والرفاهية على أفراد شعبنا. إننا نجتاز الآن مرحلة البناء. ولست أقصد بذلك بناء المصانع والمنشآت. ولكن بناء الإنسان المواطن الذي يمكنه أن يسهم في مسيرة هذا الوطن. إننا نبني المساكن والمدارس والمستشفيات ولا نبغي من ذلك إلا تحقيق وتوفير وسائل الراحة وكافة الخدمات بلا مقابل حتى يستطيع كل مواطن تحمل مسؤوليات وواجباته والشعور بأمنه على حاضر ومستقبله.

المغفور له بإذن الله

الشيخ زايد بن سلطان آل نهيان

- رحمه الله -

جولة إلكترونية

ابحث في شبكة المعلومات الدولية عن ثلاث من أهداف التنمية البشرية من ناحية الصحة الجيدة والرفاه عام (2030) من خلال زيارة الموقع.

www.un.org

العناية كتاب التنمية المستدامة - الإطار العام والتطبيقات دولة الامارات العربية المتحدة نموها (الفقرة الثانية صفحة 68) ثم اجيب عن الأسئلة الآتية :-
 مؤشرات انجاز خدمات الرعاية الصحية :

في حب الوطن

اكتب رسالة شكر وحب للوطن وقادته على منحهم الحياة الكريمة والسعيدة للمواطنين.

.....



1- توافر مرافق الرعاية الصحية الأولية

2- التحسين في خدمات الأبحاث الطبية

3- استخدام الوسائل الحديثة لمنع الحمل

التعليم

ثالثاً

أخص ما قرأت

قرأت كتاب (التنمية المستدامة - الإطار العام والتطبيقات دولة الامارات العربية المتحدة نموها) الصفحات (72 - 73) ، ثم اجيب عن الأسئلة الآتية :-

تتل المؤشرات الخاصة بموضوع التعليم دالة أساسية تقيس المستوى التعليمي، ومعدل التعلم البالغين بالقراءة والكتابة. حيث تعدان من المسائل الرئيسة المرتبطة بالتعليم الأساسي.

أعدد بعض الاتفاقيات والمؤتمرات التي حددها المجتمع العالمي فيما يتعلق بالتعليم الأساسي:

- * اتفاقية حقوق الطفل .
- * مؤتمر القمة العالمي من أجل الطفل .
- * مؤتمر القمة العالمية للتنمية الاجتماعية .

حكمة ورؤية



« لا مكان في المستقبل لمن يفقد العلم والمعرفة ».

صاحب السمو الشيخ محمد بن زايد آل نهيان - رعاه الله.

حديث الإمارات

تركز المؤشرات الـ 8 في محور «نظام تعليمي رفيع المستوى» في الأجندة الوطنية على استثمار الكوادر الوطنية وبناء جيل المستقبل الذي يواكب حكومة وفكر المستقبل.





- أقرأ بعناية كتاب (التنمية المستدامة - الإطار العام والتطبيقات دولة الامارات العربية المتحدة نموذجاً)، الصفحات (75 - 76)، ثم أجيب عن الأسئلة الآتية :-
- أضع تعريفاً مناسباً لمعدل النمو السكاني:

يهد هذا المؤشر مقياساً للدلالة على مدى التغير

في حجم السكان بالدولة نتيجة للزيارة الطبيعية للسكان

- أبين أسباب ارتفاع معدل النمو السكاني في دولة الإمارات العربية المتحدة:

* ارتفاع صافي الهجرة * ارتفاع معدلات

* انخفاض معدلات الوفيات الخنوبه

- أستنتج من الرافد الإثرائي المقابل أهداف الهيئة الاتحادية للتنافسية والإحصاء.

تطوير وتعزيز أداء الدولة في مجالات التنافسية العالمية والإحصاء.

لتنفيذ المبادرات وتحديد السياسات ذات الأهمية للقطاعات الحيوية.

وسّع معرفتك

الهيئة الاتحادية للتنافسية والإحصاء:

الهيئة الاتحادية للتنافسية والإحصاء

هي هيئة حكومية تابعة للحكومة

الاتحادية لدولة الإمارات العربية

المتحدة وتم تأسيسها بموجب

المرسوم الرئاسي رقم 6 للعام 2015

وهدفها تطوير وتعزيز أداء الدولة في

مجالات التنافسية العالمية والإحصاء

والبيانات من خلال العمل مع الشركاء

لتنفيذ المبادرات وتحديد السياسات

ذات الأهمية للقطاعات الحيوية.

وتعتبر الهيئة أحد أهم المصادر

الحكومية للإحصاءات الوطنية ورصد

الأداء التنافسي في التقارير العالمية.

(original.fcsa.gov.ae)

الهيئة الاتحادية

للتنافسية والإحصاء

FEDERAL COMPETITIVENESS
AND STATISTICS AUTHORITY



ختم الرؤية:

صدر مجلس الوزراء في أكتوبر من عام (2016) قرارات إنشاء السرعات الحكومية، وهي آلية عمل حكومية جديدة
تهدف إلى تسريع تحقيق الأجندة الوطنية لرؤية الإمارات (2021).

عبر خلال الرابط الآتي (www.mocaf.gov.ae)

في مجالات وخصائص السرعات الحكومية

المؤثرات الوطنية / البرامج

السياسات / الخدمات

مساهمة عمل مخصصه ومبتكرة

برامج مكثفة في مدى قصير

www.almanahj.com



الاحتباس الحراري (global warming)

هو عبارة عن زيادة في درجات الحرارة تدريجياً، وقد يكون ارتفاع بحكم الثورة الصناعية والغازات الناتجة عنها، وقد يكون من الأسباب الرئيسية أيضاً، هو غازات الصوب الأخضر أو ما يسمى بالغازات الدفيئة، وهي غازات ثاني أكسيد الكربون، وبخار الماء، والميثان، وغاز الأوزون، والكلوروفلوروكربون

حديث الإمارات

الاجتماع الـ 27 للأطراف لبروتوكول مونتريال الخاص بالمواد المستنفذة لطبقة الأوزون الذي استضافته دولة الإمارات العربية المتحدة:

بحضور معالي الدكتور راشد أحمد بن فهد وزير البيئة والمياه (سابقاً) انطلق الاجتماع الـ 27 للأطراف لبروتوكول مونتريال الخاص بالمواد المستنفذة لطبقة الأوزون الذي استضافته دولة الإمارات العربية المتحدة، خلال الفترة من 1 الى 5 نوفمبر 2015 في فندق كونراد بدبي. حيث شارك في الاجتماع 197 دولة، متمثلة بأكثر من 50 وزير وشخصية دولية يمثلون قطاعات البيئة والعمل والاقتصاد والصناعة ورؤساء عدد من المنظمات الدولية إضافة الى 500 شخصية رفيعة المستوى يمثلون المنظمات التابعة للأمم المتحدة والقطاع الخاص والجامعات ومراكز الأبحاث والمنظمات الإقليمية. وفي كلمة له خلال اطلاق أعمال الاجتماع ذكر الدكتور راشد أحمد بن فهد أن الالتزام بأهداف المجتمع الدولي، والمشاركة الفاعلة في الجهود المبذولة للتصدي للمشكلات العابرة للحدود يشكل مبدءاً أساسياً وثابتاً في سياستنا التنموية، مشيراً أن الاهتمام بقضية المحافظة على طبقة الأوزون والتأثيرات الصحية والاقتصادية والبيئية لاستنزافها جاءت تجسيداً لهذا الالتزام ومواكبة للاهتمام العالمي

أخص ما قرأت

أقرأ بعناية كتاب (التنمية المستدامة - الإطار العام والتطبيقات دولة الامارات العربية المتحدة نموذجاً) ، الصفحات (76-77) ، ثم أجيب عن الأسئلة الآتية :-
ترتبط المؤشرات الخاصة بالغلاف الجوي بكل من تغير المناخ، واستنفاد طبقة الأوزون نوعية الهواء

أوضح المقصود بغاز ثاني أكسيد الكربون

الغاز المنبعث من استهلاك أنواع الوقود الصلب والسائل والغازية وإنتاج الإسمنت

أبين سبب زيادة انبعاثات ثاني أكسيد الكربون في دولة الإمارات العربية المتحدة.

التطور التكنولوجي في الثورة الصناعية

أخص ما قرأت

أقرأ بعناية كتاب (التنمية المستدامة - الإطار العام والتطبيقات دولة الامارات العربية المتحدة نموذجاً) ، صفحة (79) ، ثم أجيب عن الأسئلة الآتية :-

أعدت التحديات التي تتعلق بتنفيذ بروتوكول مونتريال في دولة الإمارات العربية المتحدة.

الامتثال للتراث الشهائبة
إنفاذ التشريعات الوطنية

خفض الاعتماد على غازات الكلور فلور وكربون المائي وحميد
أقرأ بعناية كتاب (التنمية المستدامة - الإطار العام والتطبيقات دولة الامارات العربية المتحدة نموذجاً) ، صفحة (81) ، ثم أجيب عن الأسئلة الآتية :-
أقرأ الشكل (2-17) وأستخرج.

حقيقة: إن كمية الأسمدة المستخدمة لكل هكتار من الارض الزراعية ارتفعت الفترة 1990-2005
أرتب تنازلياً دول الخليج العربية حسب نسبة مساحة الأراضي الصالحة للزراعة الدائمة

- | | | |
|-------------|-------------|---------|
| 1- البحرين | 2- الامارات | 3- قطر |
| 4- السعودية | 5- كويت | 6- عمان |

اقرأ بتان كتاب (التنمية المستدامة - الإطار العام والتطبيقات دولة الامارات العربية المتحدة نموذجاً) الصفحات (83-84) ثم اجيب عن الأسئلة الآتية :-
استخرج من النص مفهوم أو مصطلح.

الصيد

أبين جهود دولة الإمارات العربية المتحدة إقامة غطاء نباتي رغم قلة الموارد المائية.

رجل بنى أمة



أعطوني زراعة اعطيكم حضارة».
المغفور له بإذن الله
الشيخ زايد بن سلطان آل نهيان
- رحمه الله -

1. حلية مياه البحر
2. استخرايم المياه المالحة



أوضح العبر والدروس المستفادة من العبارة السابقة.

الزراعة

الاجتياز

المحيطات والبحار والسواحل والمياه العذبة

ثانياً

اقرأ وألخص



اقرأ بتان كتاب التنمية المستدامة، صفحة (84)، ثم اجيب
عن الأسئلة الآتية :-

- أحدد على الخريطة المقابلة أماكن تركيز السكان في دولة الإمارات العربية المتحدة
- أقارن بين نسبة تركيز السكان في المناطق الساحلية في المتوسط العالمي و نسبه في دولة الإمارات العربية المتحدة في الجدول أدناه :

الخليج العربي

www.almanahj.com

دولة الامارات

المتوسط العالمي

وجه المقارنة

النسبة

58.3%

39%

أتوقع الأسباب

توافر عرص العمل

كبر مساحات تلك

الدول وارتفاع الاقتصاد

كتاب التنمية المستدامة، صفحة (85)، ثم أجيب عن الأسئلة الآتية :-
 المنتجات التي تحول دون الاستغلال الأمثل للثروة السمكية في دولة الإمارات العربية المتحدة مستعينا بالموارد الآتية.



عدم استخدام التقنيات الحديثة



ظروف الـدَقْدَقِجَادِ أو ثقيل العمله



ضعف الاستثمار الخاص للموارد السمكية



تلوث مياه البحر

اقرأ بعناية كتاب التنمية المستدامة، صفحة (86)، ثم أجيب عن الأسئلة الآتية :-
 ليس مؤشر المسحوبات من المياه المتاحة الطلب على المياه في الدولة، ويكشف عن مدى تعرضه لخطر حدوث تغير في الماء).

أوضح المشكلات التي تؤدي إلى السحب الزائد من المياه الجوفية في دولة الإمارات العربية المتحدة.

www.almanahj.com

زيادة نسبة ملوحة المياه والتربة



حدوث الارتفاع الحاد في منسوب المياه الجوفية

ثالثاً التنوع البيولوجي

اقرأ وأحدد

اقرأ كتاب (التنمية المستدامة - الإطار العام والتطبيقات دولة الامارات العربية المتحدة نموذجاً)، صفحة (88)، ثم أجيب عن الأسئلة الآتية :-
 تمثل مؤشرات التنوع البيولوجي بكل من المساحة المحمية كنسبة مئوية من المساحة الكلية، ومدى وفرة الأنواع الرئيسية المنتقاة)

أضع تعريفاً مناسباً للمساحة المحمية :


مساحة من البر أو البحر لحماية وحيون التنوع البيولوجي والموارد الطبيعية

أحدد على الخريطة الإمارة التي تقع فيها المحميات في دولة الإمارات العربية المتحدة وفق الجدول التالي:



الإمارة	المحمية
أبو ظبي	1- محمية المها العربي
دبي	2- محمية رأس الخور
الشارقة	3- محمية كلباء
الفجيرة	4- محمية وادي الوريعة
أبو ظبي	5- محمية الوثبة

أجمع صور للمحمية المها العربي ثم أعرضها على زملائي في الصف.



www.almanahj.com

الإطار والقدرة المؤسسية

رابعاً

أقرأ وأجيب



اقرأ بنان كتاب التنمية المستدامة بالصفحات (91-92) ثم أجيب عن الأسئلة الآتية :-

أعدد القطاعات التي تضمنتها الاستراتيجية الوطنية للتنمية المستدامة.

- الإطار المؤسسي ✓
- الاستراتيجية الوطنية للتنمية المستدامة ✓
- تعزيز الاتفاقيات العالمية المصدق عليها ✓
- التطوير الحكومي ✓

الاتفاقيات والبروتوكولات الدولية التي قامت دولة الإمارات العربية المتحدة بتنفيذ جوانب التنمية المستدامة.

وسّع معرفتك

الهيئة العامة لتنظيم قطاع الاتصالات
 تأسست الهيئة العامة لتنظيم قطاع الاتصالات في دولة الإمارات العربية المتحدة طبقاً لمرسوم القانون الاتحادي رقم 3 لسنة 2003 (قانون الاتصالات)، في شأن تنظيم قطاع الاتصالات في الدولة؛ ومنذ تأسيسها، تخطت الهيئة التوقعات من خلال إنجاز الأهداف المرسومة لها في وقت قياسي. وتستمد الهيئة أهدافها من قانون قطاع الاتصالات ولائحته التنفيذية والسياسة العليا لقطاع الاتصالات. وتتلخص هذه الأهداف بضمان تأمين خدمات الاتصالات في جميع أنحاء الدولة، وإنجاز تحسين الخدمات بما يتعلق بالتنوع والتوسع، وضمان نوعية الخدمات بما يتطابق مع شروط الرخصة من قبل المرخصين، وتشجيع خدمات الاتصالات وتقنية المعلومات في الدولة، والترويج لقطاع الاتصالات، وتطويره بالدولة من خلال التدريب والتنمية وتأسيس مؤسسات تدريبية ذات صلة بالقطاع، بالإضافة إلى إيجاد الحلول للخلافات التي قد تطرأ بين المشغلين المرخصين، وتأسيس وتطبيق إطار للسياسات والتنظيمات، والترويج للتكنولوجيا الحديثة.



الاتفاقيات والبروتوكولات الدولية التي قامت دولة الإمارات العربية المتحدة بتنفيذ جوانب التنمية المستدامة.

الاتفاقيات الدولية المتعددة الأطراف

الاتفاقيات الدولية المتعددة الأطراف لتوفير المنافع

تكمّل كتابة المخطط الذهني الآتي:-

أعداد المؤشرات المرتبطة بالقدرة المؤسسية في دولة الإمارات:



ختام الرؤية:

ابحث في مصادر التعلم المختلفة عن:

أبواب جزيرة بوطينة على قائمة عجائب الطبيعة.

لكونها محمية طبيعية للمحيط الحيوي البحري، وتتميز بطبيعتها الخلابة التي تزدهر بفناء بيئاتها الطبيعية ويميزها هو أن الحياة الزرقاء الصافية والضحلة تحيط بها وتتحف جوانب السواحل الرملية والمنقوشة.



مفهوم التنمية المستدامة

تعتبر التنمية المستدامة عملية تلبية احتياجات الأجيال الحالية والمستقبلية دون التقليل من شأن مرونة الخصائص الداعمة للحياة أو تكامل وتماسك النظم الاجتماعية.

حديث الإمارات

شاركت دولة الإمارات العربية المتحدة في الجلسة الحوارية رفيعة المستوى حول تحقيق أهداف التنمية المستدامة والتي عقدت في مقر الأمم المتحدة في نيويورك. وقال معالي الدكتور ثاني بن أحمد الزيودي، وزير التغير المناخي والبيئة، في كلمته خلال الجلسة: «إن دولة الإمارات شريك فاعل في دعم الجهود الدولية لتحقيق أهداف التنمية المستدامة»، وأضاف «إن تحقيق هذه الأهداف الطموحة يتطلب جهوداً موسعة وتعاوناً مشتركاً على المستويين المحلي والدولي عبر القطاعات، وتتخذ دولة الإمارات خطوات ملموسة نحو تحقيقها». ذلك بدعوة من مونغز ليكيتوف، رئيس الدورة السبعين للجمعية العامة للأمم المتحدة، بحضور عدد من دول العالم والذين اجتمعوا للتأكي على أهمية تنفيذ مخرجات أجندة التنمية المستدامة 2030 التي تبنيها خلال «قمة الأمم المتحدة للتنمية المستدامة» التي عقدت شهر سبتمبر 2015 الماضي.



التحديات الاقتصادية للتنمية المستدامة في دولة الإمارات العربية المتحدة هي:

تحديات التنوع الاقتصادي

ارتفاع معدلات التضخم

تحديات البطالة

اقرأ وأستنتج:



اقرأ بتمعن الصفحات الواردة في كتاب (التنمية المستدامة) في الصفحات

(99-103) ثم أجب عن الأسئلة الآتية

أستنتج أسباب ارتفاع معدل التضخم في دولة الإمارات العربية المتحدة خلال الفترة من 2000-2007

1. زيادة في حجم النشاط الاقتصادي
2. زيادة السيولة الناتجة عن ارتفاع الإنفاق العام
3. ارتفاع الإنفاق الحكومي

أدون السياسات والإجراءات الكفيلة بخفض معدلات التضخم العام

بتخفيض الإنفاق العام

إنتاج خطوات ماثورة

توفير عدد كبير من الوحدات السكنية

للحد من ارتفاع الإيجارات

إنجاز حضاري

أفاد مشاركون في حوارات اقتصادية، التي نظمتها دائرة التنمية الاقتصادية في دبي، بأن الإمارات تأتي في المرتبة الأولى على مؤشر التنوع الاقتصادي، حيث حققت 57% على المؤشر الصادر عن «إرنست آند يونغ»، متفوقة بذلك على أستراليا وروسيا، بالإضافة إلى اقترابها من المعدل العالمي البالغ 58%، والذي حققته بعض الدول، كالبرازيل وكندا، في ما احتلت الدولة الصدارة على مستوى دول الخليج العربي. ويركز المؤشر على 3 جوانب اقتصادية، وهي التصدير، وحصة القطاع غير النفطي، وإنفاق القطاع العام.

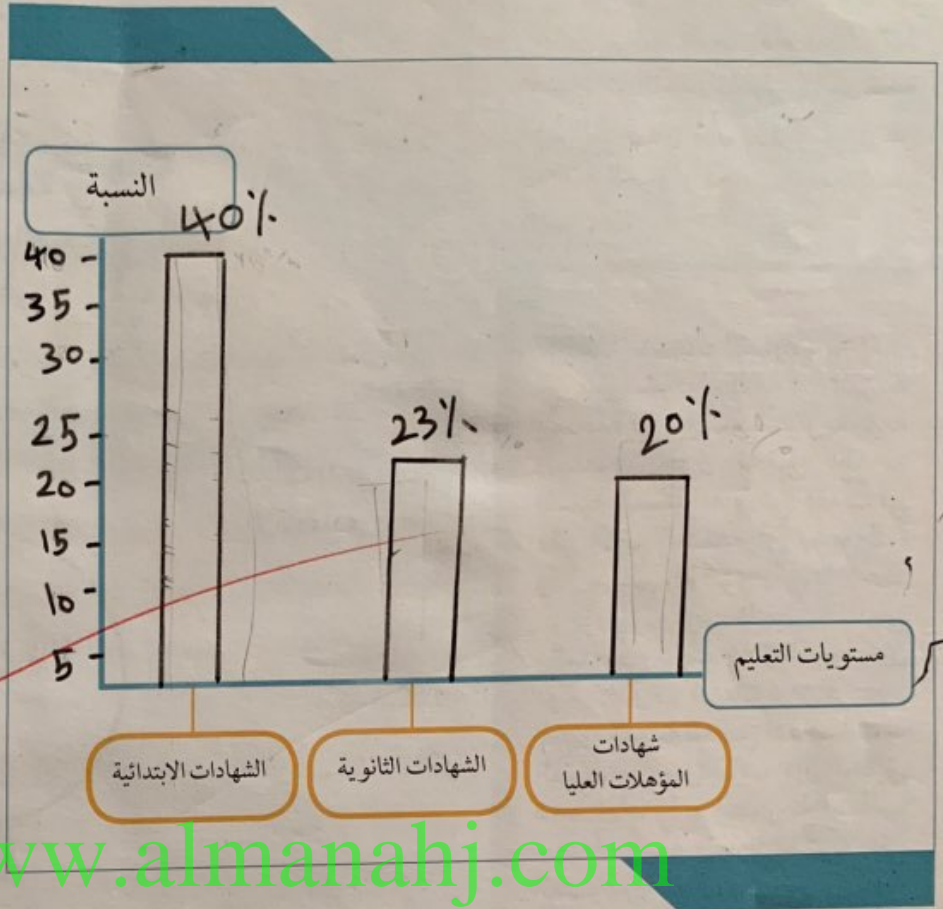


رجل بنى أمة



لابد أن تمثل المرأة بلادها في المؤتمرات النسائية بالخارج لتعبر عن نهضة البلاد وتكون صورة مشرفة لنا ولمجتمعنا وديننا الذي أعطاهما كافة هذه الحقوق. "المغفور له بإذن الله الشيخ زايد بن سلطان آل نهيان - رحمه الله -"

أمثل بيانيا توزيع البطالة بحسب مستويات التعليم في دولة الإمارات العربية المتحدة



أسجل أسباب عزوف الشباب عن العمل في القطاع الخاص في دولة الإمارات العربية المتحدة

1. تدني الأجور
2. قلة الامتيازات مقارنة بالقطاع الحكومي الذي بات متخفاً بقوة المهمل القطاع الخاص (المسجلون في وزارة العمل)



اقرأ وألخص:

اقرأ بتمعن الفقرات الواردة في كتاب (التنمية المستدامة) في الصفحة (105) واستخلص أهداف سياسة التنوع الاقتصادي في دولة الإمارات العربية المتحدة

1. تقليل مساهمة النفط في الناتج المحلي والإجمالي

2. تقليل دور القطاع الحكومي .

3. تعزيز مساهمة القطاع الخاص في النشاط الاقتصادي

اقرأ واجيب

اقرأ بتمعن الشكل (3-4) من كتاب - (التنمية المستدامة) في الصفحات (108-110) ثم اجيب عن الاسئلة الآتية

أستخرج حقيقة من الشكل (3-4)

للتعداد العام للسكان والمساكن الذي جرى في كانون الأول ديسمبر 2005 إلى وجود خلل كبير وخطير في بنية السكان دولة الامارات .
أدون الجهود التي تبذلها دولة الإمارات العربية المتحدة للحد من إنعدام التوازن السكاني

1. المستجيب على الزواج والابناء

2. أفسر سبب تأخر الزواج لدى المواطنين في دولة الإمارات بناء على حالة التقرير الصادر عن صندوق الامم المتحدة للسكان لعام 2007

سبب ارتفاع تكاليف

اقرأ وأدون

اقرأ بتمعن الفقرات الواردة في كتاب (التنمية المستدامة) في الصفحات (110-111) ثم اجيب عن الاسئلة الآتية

أدون الصعوبات التي تواجه عمل المرأة في القطاعات الانتاجية

هتفق المواءمة بين المؤهلات العلمية واحتياجات المهنة بالقطاعات

هتفق او هناك القمل بين القطاعات الخدمية والانتاجية .

يقول الله سبحانه وتعالى:

يَا بَنِي آدَمَ خُذُوا زِينَتَكُمْ عِنْدَ كُلِّ مَسْجِدٍ وَكُلُوا وَاشْرَبُوا وَلَا تُسْرِفُوا إِنَّهُ لَا يُحِبُّ الْمُسْرِفِينَ (٣١)

الأعراف: (آية 31)

حكمة ورؤية



« الحفاظ على البيئة مبدأ أساسي في برامج الامارات التنموية ».
صاحب السمو الشيخ محمد بن راشد آل مكتوم - رعاه الله.

أعبر عن دور قادتنا للحفاظ على التنمية المستدامة لدولتنا.

غرد للوطن



أقرأ وأستنتج:



أقرأ بتمعن الفقرات الواردة في كتاب التنمية المستدامة في الصفحات (112-114) ثم أجيب عن الأسئلة الآتية :

استكمل المخطط الذهني الآتي



تصاعد معدلات انبعاثات غاز ثاني أكسيد الكربون

ندرة صواد المياه التقليدية



التحديات البيئية

تدهور الأراضي



استتج أسباب شح الموارد المائية وتدهور نوعيتها



1 لا استنزاف المياه الجوفية
2 قلة سقوط الأمطار

أقرأ وأستنتج:



أقرأ الشكل (3-5) ثم أجيب عن الأسئلة الآتية :

أستخلص حقيقة جغرافية من الشكل (3-5)

تشكل عمان أعلى نسبة من نصيب الفرد في الموارد المائية.

- أقل دول مجلس التعاون في نصيب الفرد من الموارد المائية المتجددة هي الكويت
 تحتل دولة الإمارات المركز 5 بين دول مجلس التعاون في نصيب الفرد من الموارد المائية

أقرأ وألخص:

اقرأ بعناية الفقرة الواردة في كتاب (التنمية المستدامة) في الصفحة (115) وألخص المطلوب في السؤال الآتي :

ألخص الأولويات التي تضعها دولة الإمارات العربية المتحدة للتخطيط المتكامل لإدارة مخزون المياه

1. تخطيط استحداث الموارد المائية

2. استحداث خطوات التنمية

3. التوعية العامة

4. توجيه اهتمام خاص

أقرأ واجيب

اقرأ الفقرات الواردة في كتاب (التنمية المستدامة) في الصفحات (117 - 116) ثم اجيب عن الأسئلة الآتية :

أعرف أسباب التصحر :



1. الزيادة
2. الري المفرط
3. إزالة الغابات
4. التصنيع
5. الاستغلال المفرط للنباتات
6. الأسمدة، بفضل المياه
7. الأسمدة بفضل الرياح
8. التدهور الكيميائي
9. التدهور الفيزيائي

حديث الإمارات

إطلاق مبادرة أبوظبي للبيانات البيئية

جاء إطلاق دولة الإمارات العربية المتحدة "مبادرة أبوظبي العالمية للبيانات البيئية" أمام مؤتمر القمة العالمي للتنمية المستدامة (قمة الأرض) في جوهانسبرج، ليقدم برهاناً جديداً على إدراكها لمشكلات البيئة، واستعدادها التام لبذل الجهود العلمية والتنظيمية، إلى جانب المساهمات المادية، من أجل تحقيق أهدافها في الحفاظ على البيئة العالمية كخطوة أساسية في طريق التنمية وصيانة سبل الحياة.

وسّع معرفتك

التصنيع : العملية التي يتم من خلالها إنتاج السلع من المواد الأولية بشكل يُلبّي احتياجات الإنسان إما بشكل مباشر أو غير مباشر.

أقرأ الشكل (3-6) ثم أجب عن الاسئلة الآتية :

وسّع معرفتك

مفهوم براءة الاختراع : هي عبارة عن وثيقة أو شهادة أو مستند حماية يمنح رسمياً لأحد المبتكرين، أو المخترعين، ولفترة زمنية محددة. ويتم في هذه الوثيقة تحديد أوصاف الاختراع وخصائصه.

◀ بالاستعانة بالشكل استنتج اسباب تدهور التربة في دولة الإمارات العربية المتحدة

الجغرافيا الهوائية الجغرافيا المائية الجغرافيا الكيميائية

◀ استخلص الجهود التي بذلتها دولة الإمارات العربية المتحدة للتقليل من تصاعد معدلات انبعاثات غاز ثاني أكسيد الكربون

1. تنفيذ برامج الصيانة الدورية

2. تطبيق معايير بيئية عالية

3. تبني نظم الإدارة البيئية الدولية

عدد براءات الاختراع الجديدة الممنوحة

أولت الحكومة اهتماماً بالغاً بتطوير وحماية الملكية الفكرية وتنمية الحس الإبداعي في الدولة، فشهدت الفترة 2008 - 2011 تزايداً في عدد براءات الاختراع الممنوحة



أقرأ وألخص:



◀ أقرأ الفقرات الواردة في كتاب (التنمية المستدامة الاطار العام والتطبيقات دولة الامارات العربية المتحدة نموذجا) في الصفحات (119-121) ثم أجب عن الأسئلة الآتية :

www.almanahj.com

◀ بالتعاون مع زملائي أستكمل الشكل الآتي :

قلة عدد العاملين في البحث والتطوير

انخفاض الإنفاق على البحث والتطوير

عدد البحوث العلمية

عدد براءات الاختراع المسجلة

ضعف مدخلات البحث والتطوير

ضعف مخرجات البحث والتطوير

أهم التحديات المؤسسية

صورة وتعليق



استنتج من الصورة إحدى المشكلات التي تعاني منها دولة الإمارات العربية المتحدة الجفاف

أقترح حلاً لهذه المشكلة

حكمة ورؤية



«بدأنا في خطواتنا الأولى استدامة
موردنا لوداع آخر قطرة نפט».
صاحب السمو الشيخ محمد بن زايد
آل نهيان
- رعاه الله.

أقرأ وأستخلص

أقرأ بعناية الفقرات الواردة في كتاب (التنمية المستدامة الاطار العام
والتطبيقات دولة الامارات العربية المتحدة نموذجاً)
في الصفحات (123) ثم أجيب عن الأسئلة الآتية :

أستخلص النتائج المترتبة على وضع التشريعات والقوانين لعملية التنمية
المستدامة في دولة الإمارات العربية المتحدة

1 وزارة البيئة واطيابة .

2 أبحاث البيئة والحياة الفخرية .

3 هيئة البيئة حالياً .

جولة إلكترونية

أبحث وأتعلم

في مصادر المعلومات المختلفة عن :
اهداف الشعارات البيئية الآتية



هيئة البيئة - أبوظبي
Environment Agency - ABU DHABI



المؤشر	المصدر	2008	2013
محور غياب الجريمة المنظمة	WORLD ECONOMIC FORUM	23#	1#
محور انخفاض تكاليف الجريمة والعنف على التجارة	WORLD ECONOMIC FORUM	65#	2#
قوانين الإقامة	IMD	18#	5#
محور الأمن المادي	WORLD ECONOMIC FORUM	10#	5# (2012)
الإطار القانوني والتنظيمي	IMD	23# (2009)	5#
الأمن والنظام	The World Justice Project	6# (2011)	5#

المصدر: وزارة الداخلية، المنتدى الاقتصادي العالمي،
مؤسسة ليجاتوم، البنك الدولي، مشروع
العدالة العالمي، المعهد الدولي للتنمية الإدارية



أقرأ بعناية الفقرات الواردة في كتاب (التنمية المستدامة الاطار العام والتطبيقات دولة الامارات العربية المتحدة نموذجاً) في الصفحات (127-129) ثم أجيب عن الأسئلة الآتية :

أصنف المهام الموضحة أدناه في مكانها المناسب في الجدول الآتي

الهيئة الاتحادية للبيئة

وزارة البيئة والمياه

وضع خطط الطوارئ

إعداد مشروعات القوانين والتشريعات

مراقبة الأنشطة العامة والخاصة التي تؤثر على البيئة

تاهيل وتمكين وتحفيز الموارد البشرية

الاهتمام بتنمية وتطوير الحياة الفطرية

رفع مستوى أداء الخدمات المقدمة للمتعاملين

* وضع خطط الطوارئ * مراقبة الأنشطة العامة وخاصة التي تؤثر على البيئة
* تأهيل وتمكين وتحفيز الموارد البشرية في الوزارة * الاهتمام بتنمية وتطوير الحياة الفطرية
* رفع مستوى أداء الخدمات المقدمة للمتعاملين * إعداد مشروعات القوانين والتشريعات

الخصم النتائج المترتبة على إجراء البحوث والدراسات الشاملة عن التلوث ومراقبة آثاره السلبية على الصحة والبيئة

1 إعداد مشروعات القوانين والتشريعات

2 بحث دراسي و الاقتراح

أوضح الجوانب التي تركز عليها وزارة البيئة والمياه لحماية البيئة وتحقيق التنمية المستدامة

رفع مستوى أداء الخدمات المقدمة للمتعاملين

تأهيل وتمكين وتحفيز الموارد

الارتقاء بالفكر البيئي

أبحث واتعلم في مصادر المعلومات المختلفة عن: أهم مشاريع مجموعة عمل الامارات البيئية



EEG

مجموعة عمل الإمارات للبيئة
EMIRATES ENVIRONMENTAL GROUP

محطات التحلية
المصانع والمنشآت الإنتاجية
الساحلية





اقرأ بتمعن الفقرات الواردة في كتاب (التنمية المستدامة الاطار العام والتطبيقات دولة الامارات العربية المتحدة نموذجاً) في الصفحات (132-135) ثم اجيب عن الأسئلة التالية :

أستكمل المطلوب في الشكل الآتي

وسّع معرفتك

التصحّر:

مشكلة عالمية تعاني منها العديد من البلدان في كافة أنحاء العالم. ويعرف المنتج بالمعدل الذي يكسبها ظروف تشبه الأحوال المناخية الصحراوية



جمعية تطوعية إنسانية تعمل في المجال البيئي
تأسست عام ١٩٩١.....

العضويات المشاركة بها جمعية اصدقاء البيئة :

- عضو مؤسس بالشبكة الخليجية للجهات البيئية
- عضو الاتحاد العالمي لصون البيئة

أهداف الجمعية

- رفع مستوى الوعي البيئي
- المساهمة لدى الجهات الأخرى



www.almanahj.com

بالتعاون مع زملائي أخص ما قرأت في الشكل الآتي

أسجل أهم اللجان الوطنية المعنية بالتنمية المستدامة

اللجنة الوطنية
الدائمة لإعداد البلاغ
الوطني

المهام:

- تحديد نسبة الانبعاثات وتحديد الأضرار الاقتصادية والبيئية التي يمكن ان تلحق بالدولة

اللجنة الوطنية الدائمة
العليا لآلية التنمية
النظيفة

المهام:

- التأكد من أن نشاط أي مشروع في إطار آليته التنموية يساهم في تحقيق أهداف التنمية النظيفة

اللجنة الوطنية
للدراسات والبحوث
البيئية والتنمية المستدامة

المهام:

- إعداد التقرير الوطني السنوي عن حالة التصحر في الدولة

اللجنة الوطنية
الاستراتيجية البيئية
والتنمية المستدامة

المهام:

- دراسة المشروعات الواردة في خطة العمل البيئية وإعادة ترتيبها وفقاً لأولوياتها



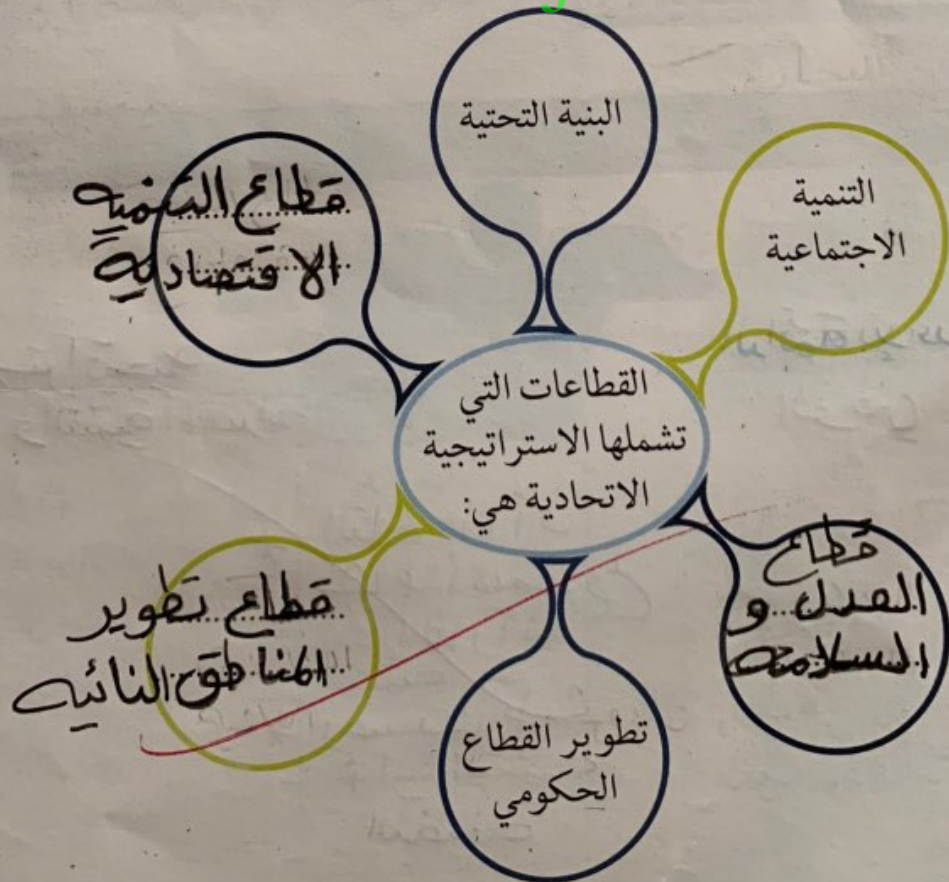
أقرأ بتمعن كتاب (التنمية المستدامة الاطار العام والتطبيقات دولة الامارات العربية المتحدة نموذجاً) الواردة في الصفحات (136-139) ثم أجيب عن الأسئلة الآتية :

- أحد العام الذي أعلنت فيه استراتيجية حكومة دولة الإمارات العربية المتحدة
- أعلنت دولة الإمارات في نيسان / إبريل 2007 استراتيجية الحكومة.
- أسجل اثنين من مبادئ الاستراتيجية الحكومية لدولة الإمارات العربية المتحدة

1 الاستثمار في تعزيز التعاون

2 رفع كفاءة الأجهزة الحكومية

أستكمل قطاعات الاستراتيجية الحكومية في الشكل الآتي



انجاز حضاري

أسبوع أبوظبي للاستدامة (الاقتصاد الأزرق)
شهد أسبوع أبوظبي للإستدامة للعام 2016 م انعقاد الدورة الأولى من قمة الاقتصاد الأزرق، استضافتها دولة الإمارات بالتعاون مع جمهورية سيشل وبالإشراف مع اللجنة الدولية الحكومية للمحيطات (IOC) التابعة للأمم المتحدة، ونظمتها إدارة شؤون الطاقة والتغير المناخي في وزارة الخارجية. حيث بحثت الخطى العملية التي تساعد في تنفيذ الاستراتيجية الخارجية التي تساعد في تنفيذ الرابع عشر من أجندة التنمية المستدامة 2030، وقد وضعت دولة الإمارات حماية مواطنيها البحرية والشاطئية واستخرا بشكل مستدام في صلب سياسات الوطنية. وتحقيقاً لركيزة التنمية ضمن هذا الأسبوع انعقد الملتقى الحضري الأول للطلاب، وهدفه توعية الأجيال الناشئة بالاستدامة وتطبيقاتها بحيث تكون جزءاً من سلوكهم وعاداتهم اليومية.

تتمثل موضوعات التنمية الإجتماعية بالاستعانة بالصور الموضحة في المخطط الذهني الآتي

وسّع معرفتك

مفهوم المبادرة :

"الإسراع إلى فعل شيء بهدف التغيير، هذا الشيء قد تكون فكرة أو عمل أو أي شيء آخر مفيد بهدف التغيير".

أبداع

أبداع وابتكر

أصمم بطاقة شكر لصاحب السمو الشيخ محمد بن راشد آل مكتوم رعاه الله على الانجازات الحضارية في مجال مستقبل التنمية المستدامة واعرضها أمام زملائي



قطاع الرعاية الاجتماعية



قطاع الرعاية الاجتماعية



قطاع الصحة



قطاع التعليم



السكان والقوى العاملة



أقرأ وأستخلص



أقرأ بتمعن الفقرات الواردة في كتاب (التنمية المستدامة الاطار العام والتطبيقات دولة الامارات العربية المتحدة نموذجا) في الصفحات (150-151) ثم أجب عن الاسئلة الآتية :

أجل الهدف من عقد مؤتمر تمكين المرأة في بكين

انفقد في بكين عام 1995م والذي دعا إلى

تفعيل دور المرأة ومشاركة الإناث في

في مختلف مجالات التنمية.



وسع معرفتك

المباني الخضراء : هو مجموعة من الممارسات التي تؤدي إلى كفاءة في استخدام الموارد من طاقة ومياه ومواد كما يقلل من التأثيرات الضارة على صحة الإنسان من خلال الاختيار الأمثل لموقع البناء وعمليات التصميم، البناء، التشغيل والصيانة.

◀ أخص المجالات المختلفة التي حققت المرأة فيها نجاحات متميزة في دولة الامارات العربية المتحدة بالاستعانة بالصورة الآتية



صورة وتعليق

اعلق على الشعار الاتي بطريقة مبتكرة



اقتصاد اخضر - ابتكار - استدامة
Green Growth - Innovation - Sustainability

◀ المبادرات المعنية بالتنمية المستدامة في دولة الإمارات العربية المتحدة



وسّع معرفتك

جائزة زايد لطاقة المستقبل :

تأسست "جائزة زايد لطاقة المستقبل" بتوجيهات من القيادة الرشيدة في أبوظبي مستلهمة رؤية الوالد المؤسس الشيخ زايد بن سلطان آل نهيان، رحمه الله، والجهود الرائدة التي بذلها في بناء القدرات البشرية وإرساء أسس التنمية المستدامة، لتكون أرفع جائزة عالمية في قطاع الطاقة المتجددة والاستدامة.

إن جائزة زايد لطاقة المستقبل تسعى إلى بناء مجتمع يضم أبرز القادة والمبتكرين وأصحاب الكفاءات ممن تجمعهم رؤية مشتركة تجسد القيم الرئيسية للجائزة والتمثلة في الرؤية طويلة الأمد، والابتكار، وروح القيادة، وتحقيق تأثير ملموس.



اقرأ وأستخلص

اقرأ بتمعن الفقرات الواردة في كتاب (التنمية المستدامة الاطار العام والتطبيقات دولة الامارات العربية المتحدة نموذجا) في الصفحات (155-156) ثم أجيب عن الأسئلة الآتية:

أدون رؤية صاحب السمو الشيخ محمد بن راشد آل مكتوم في إطلاق فكرة مبادرة مدينة دبي للأترنت في إطار رؤية دبي للأترنت للتكنولوجيا والاتصالات.

أحدد النتيجة المترتبة على إنشاء مدينة دبي للأترنت وما قدمته من خدمات للقطاعات المختلفة

إنشاء معهد للتقنيات النخيفة
إنشاء معهد علوم والتكنولوجيا



أقرأ وأستخلص



أقرأ بتمعن الفقرات الواردة في كتاب (التنمية المستدامة الاطار العام والتطبيقات دولة الامارات المتحدة نموذجا)

في الصفحات (163-165) ثم أجيب عن الأسئلة الآتية :

◀ أستكمل المخطط الذهني الآتي :

ابين اهم الجهود الدولية ودور دولة الإمارات العربية المتحدة لتحقيق التنمية المستدامة

ثالثاً

الجوائز المعنية بتشجيع التنمية
المستدامة على الصعيد العالمي

أمثلة

جائزة زايد الدولية للبيئة

* جائزة دبي الدولية لافضل
المبادرات في مجال تحسين
ظروف المعيشة
* جائزة زايد لطاقة
المستقبل

ثانياً

المبادرات والاعلانات البيئية

أمثلة

مبادرة أبوظبي العالمية للبيانات البيئية

* مبادرة أبوظبي لتسفيد
البيئة
* مبادرة دبي بشأن وإنشاء
مركز أبوظبي لطرقه تلون
* اعلان أبوظبي عن مستقبل
العمل البيئي

أولاً

الاتفاقيات والبروتوكولات الدولية

أمثلة

الاتفاقيات والبروتوكولات الدولية

* اتفاقية منع تلوث البحار
* اتفاقية الدوله اسلام الارواح
* اتفاقية الامم المتحدة
حول القانون الدولي
للبحار

