

الاختبار التحريري القصير الأول - الفصل الدراسي الثاني

20

الإسم : الصف : الأول /

ضعي دائرة على الشيء المطلوب في المربع (9 درجات).



طقس
حار



طقس
ثلجي



سحاب
القرع



ماذا يحدث
في الربيع؟



مطر



ماذا يحدث
في الخريف؟

✍ صلي صورة الطقس للكلمة التي تدل عليه (3 درجات).



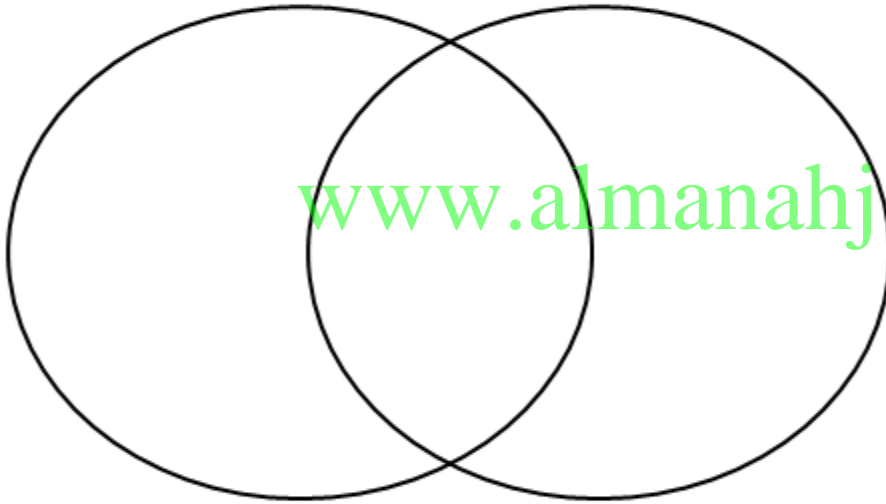
مشمس

عاصف

مهطر

✍ أكتب الأرقام في أماكنها الصحيحة (4 درجات)

الليل النهار



www.almanahj.com

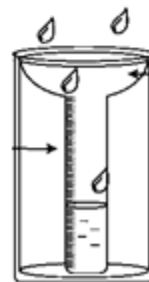
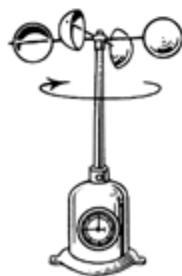
(1) القمر

(2) السحب

(3) الشمس

(4) النجوم

✍ أكتب الرقم 1 أسفل مقياس الرياح ، 2 أسفل الترمومتر ،
3 أسفل دوارة الرياح ، 4 أسفل مقياس المطر (4 درجات).



الاختبار التحريري القصير الثاني - الفصل الدراسي الثاني

الإسم : الصف : الأول /

20

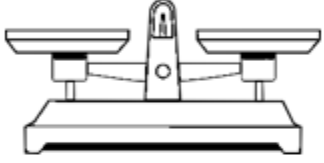
ضعي دائرة على الشيء المطلوب في المربع (8 درجات).

الليل و
النهار

المطر

الرياح

ماذا يسبب
دوران الأرض
حول نفسها؟



بماذا نرى
الكواكب
والنجوم



www.almanahj.com

ظل يتكون
وقت الظهر



أقرب نجم
لكوكب
الأرض

صلي اسم وجه القمر لشكله (3 درجات).




الربع الأول




محاق

بدر

إرسمي ما يوجد في السماء بكل صورة حسب لبس الطفلين (2 درجات).



أوجدي الترابط بين الأشياء التالية بكتابة الرقم أسفل الصورة (3 درجات).

			1 - الضوء
.....	2 - المنقار
			3 - الصوف

صلي الصورة حسب نوعها (4 درجات).



المواد المصنعة

الموارد الطبيعية