

أوراق مراجعة التربية الوطنية للصف الرابع

الفصل الدراسي الثالث

معلمة المادة (فاطمة أحمد)



أوراق مراجعة التربية الوطنية للصف الرابع الفصل الدراسي الثالث

صل كل عبارة بما يناسبها

1- السد	طريق تحت سطح الأرض يربط بين منطقتين .
2- ترام دبي	إنشاء هندسي لحجز المياه .
3- النفق	أول مشروع خارج أوروبا يعمل بالتغذية الكهربائية .

اقرأ العبارات الآتية وضع علامة (✓) على الإجابة الصحيحة .

- 1- () من أهم السدود في دولة الإمارات سد وادي البيح وسد وادي حام .
- 2- () يقع وادي حام في رأس الخيمة .
- 3- () الهدف من إنشاء السدود الحماية من خطر الفيضان وتغذية المياه الجوفية .
- 4- () يقع وادي البيح في الفجيرة .
- 5- () تم إنشاء وادي البيح و وادي حام عام 1989 م .

ألاحظ الصور الآتية وسجل أهمية السدود

(تخزين المياه - تخفيف من أخطار الفيضان)



*اختر الإجابة الصحيحة للجمل الآتية وأضع حولها دائرة :

www.almanahj.com

1- يبلغ عدد السدود في الإمارات حتى عام 2015.....

(130 - 20)

2- تتوزع السدود في دولة الإمارات في المناطق.....

(الجنوبية والغربية - الشمالية والشرقية)

3- بُنيت شريعة أم القيوين في عهد الشيخ.....

(عبدالله بن راشد الأول - زايد بن سلطان)

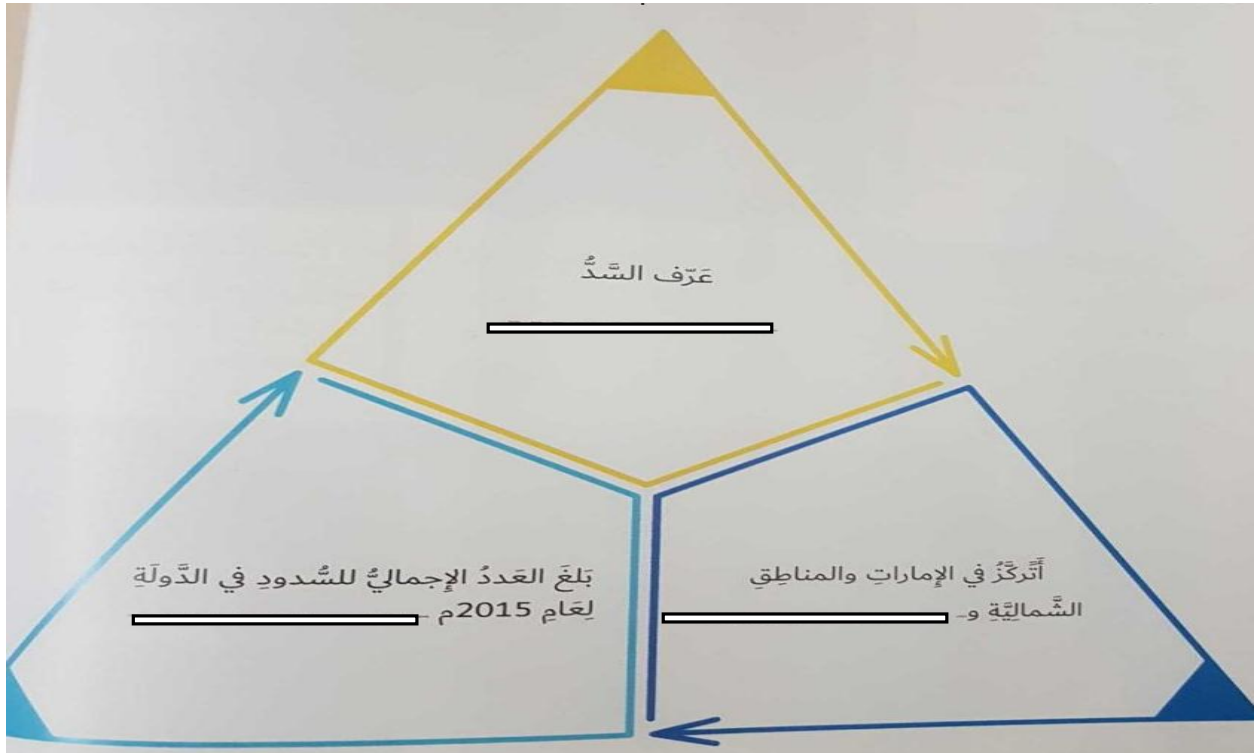


سجل أسفل كل صورة اسم النفق من بين الأقواس :

(نفق الشندغة - نفق المطار)



أستكمل الفراغات في مثلث السدود : www.almanabji.com



قارن بين سدّ وادي حام ،وسدّ وادي البيح .

<u>سدّ وادي حام</u>	<u>سدّ وادي البيح</u>	أوجه المقارنة
.....	الموقع
.....	سنة الإنشاء
.....	الهدف من الإنشاء

من خلالِ الصُّورِ أَسْتَنْتِجُ أنواعَ النُّقْلِ، وأسجِّلُها أسفلَ كلِّ صوَرَةٍ:

www.almanahj.com



.....



.....



.....



ضع علامة (√) أمام العبارة الصحيحة فقط :

- 1- من المواد الخام التي ساعدت أجدادنا على الإبتكار وفرة النفط . ()
- 2 - ساعد الموقع الجغرافي المتميز على ساحل الخليج العربي وبحر عمان أجدادنا على الابتكار . ()
- 3- استطاع أجددنا في الماضي التغلب على الشدائد بعقولهم . ()
- 4- الحناء هو الكحل العربي الذي يوضع على العين . ()
- 5- السرود من الأدوات التي يطهى فيها الطعام . ()

www.almanahj.com

أَصِلْ بَيْنَ الْمَوَادِّ الَّتِي اسْتَخْدَمَهَا أَجْدَادِي فِي الْمَاضِي لِصَنْعِ أَدْوَاتِهِمْ بِالْوَجْهِ
الْمُبْتَسِمِ:



- إسْمَنْتُ.
- الطَّيْنُ.
- سَعْفُ النَّخِيلِ.
- الطَّابُوقُ.
- جُلُودُ الْحَيَوَانَاتِ.
- النَّفْطُ.
- الرَّافِعَةُ.



اختر الإجابة الصحيحة من البدائل الآتية :



1- تُسمى الأداة التي يُحمل فيها الماء

(الحصير - القرية)

2- طلى أجدادي سُفُنهم قديماً بـ

(زيت النخيل - شحم الحوت)

3- اليازره أداة استخدمت في

(الصيد - الزراعة)

ألاحظُ الصورتين، وأكتبُ اسمَ الإنجازِ الذي حَقَّقَهُ أجدادي في فَلجِ المَعَلَا.




.....

.....

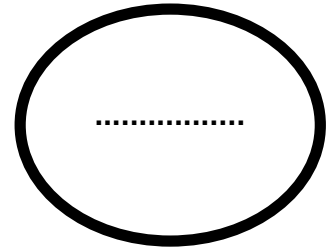

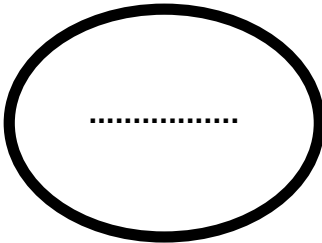


أكتبُ أسفلَ الصُّورِ الآتيةِ أسماءَ الأدواتِ التي صنَعها أجدادي:



.....www.almanahj.com.....

أهمية وسائل النقل والمواصلات؟



مع تمنياتي بالتوفيق والنجاح

الإجابة عن أسئلة أوراق المراجعة

صفحة رقم 2

صل كل عبارة بما يناسبها

1- السد	طريق تحت سطح الأرض يربط بين منطقتين .
2- ترام دبي	إنشاء هندسي لحجز المياه .
3- النفق	أول مشروع خارج أوروبا يعمل بالتغذية الكهربائية.

صح / خطأ / صح / خطأ / خطأ

صفحة رقم 3

تخفيف من أخطار الفيضان

تخزين المياه

اختر (130 - الشمالية والشرقية - عبدالله بن راشد الأول)

صفحة رقم 4

نفق الشندغة

نفق المطار

(السد : إنشاء هندسي لحجز المياه / الشرقية / 130)

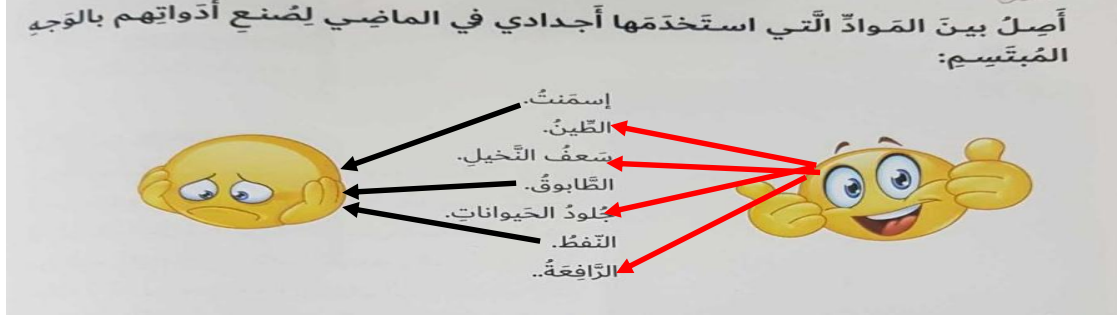
صفحة رقم 5

أوجه المقارنة	سدّ وادي البيح	سدّ وادي حام
الموقع	رأس الخيمة	الفجيرة
سنة الإنشاء	1982	1982
الهدف من الإنشاء	تغذية المياه الجوفية	الحماية من خطر الفيضان تغذية المياه الجوفية

(النقل البحري - النقل الجوي - النقل البري)

صفحة رقم 6

خطأ / صح / خطأ / خطأ .



صفحة رقم 7

(القرية - شحم الحوت - الزراعة)

حصن فلج المعلا

الشريعة

www.almanahj.com

صفحة رقم 8

البرقع

السرود

الجفير

أهمية وسائل النقل والمواصلات ؟

تنشيط السياحة

تسهيل
التواصل

نقل البضائع

تمنياتى بالتفوق (معلمة المادة :فاطمة أحمد)