

يمكنك الحصول على جميع الملفات من أوراق عمل وامتحانات ومذكرات وملخصات لجميع الصفوف وجميع المواد الخاصة بالمنهاج الإماراتي من خلال الرابط التالي

<https://www.almanahj.com>

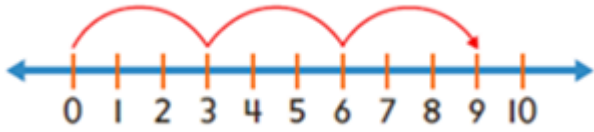
كما يمكنك الحصول على جميع الملفات لجميع الفصول عبر تحميل تطبيق المناهج من خلال الرابط التالي:

<https://play.google.com/store/apps/details?id=com.almanahj.UAEapplication>

يمكنك الحصول على جميع الروابط الخاصة بمجموعات المناهج الإماراتية على مواقع التواصل الاجتماعي واتساب وفيسبوك وتلغرام من خلال الدخول على الرابط التالي:

<http://t.me/almanahj>

(18) حوط رمز الجملة العددية التي تمثلها خط الأعداد



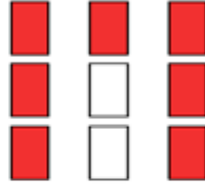
a) $9 \times 1 = 9$

b) $3 \times 3 = 9$

c) $0 + 9 = 9$

d) $3 + 6 = 9$

(19) الكسر الذي يمثل الجزء المظلل باللون الأحمر



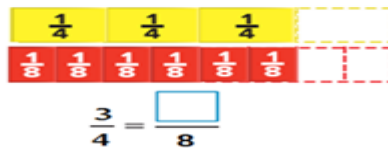
a) سبعة أضعاف

b) تسعة أضعاف

c) أربعة أضعاف

d) خمسة أضعاف

(20) العدد الناقص هو



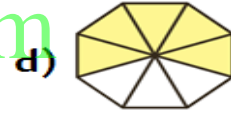

a) 5

b) 6

c) 8

d) 4

(21) حوط الشكل الذي يمثل كسر الوحدة :



السؤال الثاني :

اكتب جملة جمع وجملة ضرب لكل مما يلي ؟

5 صفوف من 11 قطعة عد = ----- + ----- + ----- + ----- + -----

----- × ----- = -----

3 صفوف من 12 قطعة عد = ----- + ----- + -----

----- × ----- = -----

أوجد الناتج :

$3 \times 3 = \text{-----}$

$6 \times 4 = \text{-----}$

$3 \times 5 = \text{-----}$

$6 \times 8 = \text{-----}$

$9 \times 9 = \text{-----}$

$2 \times 6 = \text{-----}$

$24 \div 6 = \text{-----}$

$14 \div 7 = \text{-----}$

$10 \div 5 = \text{-----}$

$20 \div 2 = \text{-----}$

$16 \div 4 = \text{-----}$

$25 \div 5 = \text{-----}$

مستخدما خط الأعداد أجب عما يأتي :-



(1) اكتب النقطة التي تمثل الكسر $\frac{5}{6}$

(2) اكتب الكسر الذي تمثله النقطة A

اكتب معادلة ثم حلها :

باستخدام الجدول المجاور كم عدد القطط التي يمتلكها خالد أكثر من حسن وسعيد معا ؟

عدد القطط	الاسم
1	حسن
3	سعيد
6	خالد

يحتوي الفصل على 30 طالبا. خرج 6 أشخاص ودخل طالبان كم أصبح عدد الطلاب داخل الفصل ؟

7 أقلام زائد ضعف العدد يكون الناتج \times قلما

نصف العدد 10 يكون الناتج w

خمسة أضعاف العدد 6 هو P

أوجد قيمة التعابير إذا كان $Z = 5$ و $Y = 10$

$$(8 \times z) - y$$

$$(6 + y) \div 4$$

$$y + 3 \times 4$$

$$2 \times (z - z)$$

أوجد القيمة المجهولة فيما يلي :

1) $4 \times \square = 8$

القيمة المجهولة

2) $\square \times 3 = 24$

القيمة المجهولة

3) $30 \div \square = 5$

القيمة المجهولة

4) $64 \div \square = 8$

القيمة المجهولة

5)
$$\begin{array}{r} 9 \\ \times \square \\ \hline 9 \end{array}$$

القيمة المجهولة

6)
$$\begin{array}{r} 7 \\ \times \square \\ \hline 0 \end{array}$$

القيمة المجهولة

7) $\square \div 6 = 0$

القيمة المجهولة

8) $11 \div \square = 11$

القيمة المجهولة

9) $(4 \times \square) \times 2 = 24$

القيمة المجهولة

10) $(\square \times 6) \times 5 = 30$

القيمة المجهولة

www.almanahj.com

اكتب التعبير ثم اكتب قيمة التعبير :

تبلغ هند x عاما . محمد أكبر من هند ب 4 أعوام إذا كان $x = 11$ فكم يبلغ عمر محمد ؟

اكتب التعبير في كل مما يلي :

نصف العدد 12

الفرق بين العددين 35 , 63

5 أشخاص قسموا 15 درهما بالتساوي

ثلاثة دراهم أقل 10

حل المسائل التالية ؟

باعت هدى 20 صندوقا من الحلوى , في كل صندوق ثلاثة قطع حلوى إذا سلمت 50 قطعة كم قطعة بقيت لديها ؟

لدى حسان 25 مترا من القماش قسمها بالتساوي على 5 طاولات كم مترا لكل طاولة ؟

لدى خالد 5 حقائب في كل حقيبة 6 أقلام , ولدى محمد 3 حقائب في كل حقيبة 5 أقلام من لديه أقلام أكثر ؟

www.almanahj.com

يتدرب سمير ثلاث ساعات في اليوم كم ساعة يتدربها في أسبوع واحد ؟

اشتريت منى خمس صناديق وكل صندوق فيه 4 ألعاب وكل لعبة ثمنها 10 دراهم كم إجمالي عدد الصناديق التي اشترتها منى ؟

مع تمنياتي لكم بالنجاح والتوفيق