



# مذكرة العلوم

## للفصل الخامس الأساسي / الفصل الدراسي 3

( ملخصات الدروس + أسئلة المراجعة + نموذج اجابة )

[www.aimanahj.com](http://www.aimanahj.com)

إعداد المعلمة / منى أحمد خلفان



### ملاحظات هامة جدا

نمط الإختبار = الجزء الأول اختياري المتعدد - الجزء الثاني المقالي

الاختياري = 30 سؤال ب 30 درجة

المقالي 9 أسئلة ب 20 درجة

المجموع = 50

100 = 2 × 50





تابع / أسئلة مراجعة لإختبار نهاية الفصل الدراسي الثالث لمادة العلوم للصف الخامس  
الأساسي 2016-2017 م ( مرفق بنموذج إجابة )

السؤال الثالث / اختاري الإجابة الصحيحة  
17- عندما يتحد عنصرين أو أكثر يكون

أ- مركب      ب - عنصر      ج- التسامي      د - فلز

18- الإسم الكيميائي لسكر الفركتوز

C6H12O6

Fe2O3

H2O

19- عدد ذرات الهيدروجين في مركب الماء

د- 4

ج- 1

ب- 2

أ- 3

www.almanahj.com

20- المركبات التي تنتج على يمين المعادلة الكيميائية

د- المدخلات

ج- النواتج

ب- المواد

أ- المتفاعلات

21- قانون حفظ الكتلة هو

ج- عدد الذرات في النواتج

ب- عدم تساوي

أ- تساوي عدد الذرات في المتفاعلات والنواتج

أكبر

22- احدى التغيرات ليست من التغيرات الكيميائية

د- تصاعد غاز

ج- فقدان البريق

ب- تغير اللون

أ- التجمد

23- من الوظائف الحيوية التي تستخدمها الكائنات الحية وتحدث بها تفاعل كيميائي

د- انصهار الثلج

ج- قطع الخشب

ب- خلط الإسمنت

أ- عملية البناء الضوئي

24- أحد العمليات التي تطلق ثاني أكسيد الكربون

د- انصهار الجليد

ج- التنفس الخلوي

ب- سقوط الأمطار

أ- ذوبان الملح

25- أي مركب يسبب فقدان اللعان لأحد الفلزات

CO2

AL2O3

H2O

HCO3



تابع / أسئلة مراجعة لإختبار نهاية الفصل الدراسي الثالث لمادة العلوم للصف الخامس  
الأساسي 2016-2017 م ( مرفق بنموذج إجابة )

3( H2O2)

26- كم هو عدد ذرات الهيدروجين في ثلاث جزيئات من أكسيد الهيدروجين

د - 5

ج - 3

ب - 2

أ - 6

27- من خصائص الحمض ما عدا

طعم مر

طعم حامض

تغير لون ورقة تباع الشمس إلى حمراء

28- تحتوي الأحماض على أيونات

د- حديد

ج- الكربون

ب- الهيدروجين

أ- الأكسجين

29- مركب له خاصية صابونية الملمس هل هو

د- منتج

ج- فلز

ب- قاعدة

أ- حمض

30- تسمى قوة الحمض ب

ج- متفاعلة

ب- حمضية

أ- قلوية

31- مركب يحتوي على أيونات الهيدروكسيد أي أنه

د- فلز

ج- مركب

ب- قاعدة

أ- حمض

32- يصل الرقم الهيدروجيني للماء

د- 12

ج- 4

ب- 7

أ- 8

33- تفاعل حمض مع ملح يكون

د- الماء فقط

ج- الملح والماء

ب- القواعد

أ- الملح فقط

34- ما هو الحمض الموجود في أمعانا

CO2

AL2O3

H2O

HCL



تابع / أسئلة مراجعة لإختبار نهاية الفصل الدراسي الثالث لمادة العلوم للصف الخامس  
الأساسي 2016-2017 م ( مرفق بنموذج إجابة )

3( H2O2)

35- أيهما من الأسماء الكيميائية يمثل المركب

H2O

N

O

H

36- عند تشكل قطرات الماء على الزجاج بسبب

انصهار الجليد

اكتساب الحرارة

فقدان البخار وتكثفه على الزجاج

37- ماذا يحدث في التفاعل الكيميائي

ج- تذوب

ب- يختفي العنصر

أ- تكون مادة جديدة

www.almanahj.com

38- الطاقة الحرارية التي تتدفق بين الأجسام بسبب فرق في درجة الحرارة

د- السعة

ج- الطاقة الحرارية

ب- درجة الحرارة

أ- الحرارة

39- متوسط الطاقة الحركية للجزيئات في الجسم

د- السعة

ج- الطاقة الحرارية

ب- درجة الحرارة

أ- الحرارة

40- تهتز الجزيئات في الأجسام ذات درجة حرارة عالية بشكل

ج- متساو

ب- أبطأ

أ- أسرع

41- تكون درجة الحرارة في الحساء أعلى ولكن البحيرة تطلق حرارة أكبر لان لها

ج- مساحة أصغر

ب- كتلة أصغر

أ- كتلة أكبر

42- وحدة قياس الحرارة

د- كيلو جرام

ج- فهرنهايت

ب- سيليزي

أ- الجول

43- كوب ماء ساخن وحوض ممتلئ بالماء الساخن . أيهما سيطلق حرارة أكبر

كلاهما

الحوض

الكوب

54- المادة التي تنتقل الموجة من خلالها  
أ - وسط الموجة  
ب - الفراغ  
ج- سلسلة صوتية

55- تكون الموجات الصوتية أكثر اقترابا اذا كان الصوت

عاليا  
منخفضا  
متوسطا  
خافتا

56- عدد مرات التناوب للجسم في الثانية يسمى  
أ- السعة الصوتية  
ب- التردد  
ج- التخلخل والاضغط

57- أي من المواد له سعة حرارية أكبر  
أ- الماء  
ب- الزيت  
ج- الماء والزيت معا

58- تكون عدد الجزينات أكثر في  
أ- الإنضغاطات  
ب- التخلخلات  
ج- الموجات

59- ما هو دور الغرفة العازلة للصوت  
أ- تمتص الصوت  
ب- تعكس الصوت  
ج- لا تمتص الصوت

60- يكون الصدى بالنسبة للصوت الأصلي

أ- أقوى شدة  
ب- أقل شدة  
ج- متساو

61- المسافة بين القمة والقمة الأخرى للموجة الصوتية هو  
أ- التردد  
ب- السعة  
ج- الطول الموجي

62- وحدة قياس السعة الصوتية هي  
أ- سيليزي  
ب- هرتز  
ج- ديسيبل  
د- المتر

63- تمثل المسافة بين القمة والقاع للموجة الصوتية هي  
موجة صوتية  
سعة صوتية  
التردد

64- درجة الصوت التي تسبب تلف الأذن  
أ - 83 ديسبل ج- 85 ديسبل  
ب - 58 ديسبل

65- استفاد العلماء من صدى الصوت باختراع جهاز

الثرموميتر      السونار      البوصلة

66- الصدى هو مثال على موجة صوتية تم  
أ- انعكاسها      ب- امتصاصها  
ج- تشتتها

67- المسافة بين قمة للقمة في موجة ضوئية تسمى  
أ- طول الموجة      ب- سعة الموجة  
ج- التردد

68- ينتقل الضوء في

أ- خطوط متعرجة      ب- خطوط مستقيمة      ج- خطوط غير متساوية

69- للضوء له جسيمات وهي حزمة من الطاقة تسمى

أ- بروتونات      ب- موجات      ج- فوتون

70- يمر الضوء كله عبر الجسم

أ- الشبه الشفاف      ب- الشفاف      ج- المعتم

71- مررت مريم الضوء على الكتاب ولكن لم تراه بالجهة المقابلة تسنتج بأن الكتاب جسم أ- الشبه الشفاف  
أ- الشبه الشفاف      ب- الشفاف      ج- المعتم

72- عندما تكون الشمس في زاوية ويسقط على جسم ويتكون الظل  
أ- قصير      ب- طويل      ج- متشتت

73- كل المرايا تسبب  
امتصاص الصورة      انعكاس الصورة      مرور الصورة

74- عندما يسقط الضور على عدسة مقعرة  
أ - تعكس وتكبر  
ب - تكسر وتكبر الصورة  
ج- تكسر وتصغر الصورة  
الصورة

75- عندما أنظر للمرآة المحدبة تكون صورتي

صغيرة كبيرة مشوشة

76- عند مزج أشعة من الألوان الأحمر والأخضر والأزرق تشكل الضوء  
أ- الضوء الأحمر  
ب- الضوء الأبيض  
ج- الضوء الأزرق

77- يكون الضوء الساقط والضوء المنعكس  
أ- متساوية  
ب- غير متساوية  
ج- صغيرة

78- الضوء الذي يشتمل على طول موجة أقصر من الضوء الأخضر

أ- الضوء الأصفر  
ب- الأشعة السينية  
ج- موجات الراديو

79- تراكب الجسيمات المشحونة وتتحرك بواسطة الاحتكاك

أ- الكهرباء  
ب- الكهرباء الساكنة  
ج- الكهرباء المتحركة

80- عندما تكون بالحذاء عدد الشحنات الموجبة = 12 والسالبة = 8 تكون الشحنة الكلية للحذاء

أ- سالبة  
ب- موجبة  
ج- محايدة

81- انتقال موصل بشحنة زائدة إلى موصل بشحنة أكبر

أ- التأييض  
ب- الانتقال  
ج- الاحتكاك

82- شحنة الأرض دائما

أ- موجبة  
ب- محايدة  
ج- سالبة

83- عندما يقترب جسمان من بعضهما بشحنتان مختلفتان تحدث بينهما قوة

لا شيء التجاذب التنافر

74- عندما يسقط الضور على عدسة مقعرة  
أ- تعكس وتكبر  
ب- تكسر وتكبر الصورة  
ج- تكسر وتصغر الصورة  
د- تكسر وتصغر الصورة

75- عندما أنظر للمرآة المحدبة تكون صورتي

صغيرة كبيرة مشوشة

76- عند مزج أشعة من الألوان الأحمر والأخضر والأزرق تشكل الضوء  
أ- الضوء الأحمر  
ب- الضوء الأبيض  
ج- الضوء الأزرق

77- يكون الضوء الساقط والضوء المنعكس  
أ- متساوية  
ب- غير متساوية  
ج- صغيرة

78- الضوء الذي يشتمل على طول موجة أقصر من الضوء الأخضر

أ- الضوء الأصفر  
ب- الأشعة السينية  
ج- موجات الراديو

79- تراكب الجسيمات المشحونة وتتحرك بواسطة الاحتكاك

أ- الكهرباء  
ب- الكهرباء الساكنة  
ج- الكهرباء المتحركة

80- عندما تكون بالحذاء عدد الشحنات الموجبة = 12 والسالبة = 8 تكون الشحنة الكلية للحذاء

أ- سالبة  
ب- موجبة  
ج- محايدة

81- انتقال موصل بشحنة زائدة إلى موصل بشحنة أكبر

أ- التأييض  
ب- الانتقال  
ج- الاحتكاك

82- شحنة الأرض دائما

أ- موجبة  
ب- محايدة  
ج- سالبة

83- عندما يقترب جسمان من بعضهما بشحنتان مختلفتان تحدث بينهما قوة

لا شيء التجاذب التنافر

84- تدفق الكهرباء من خلال الموصل

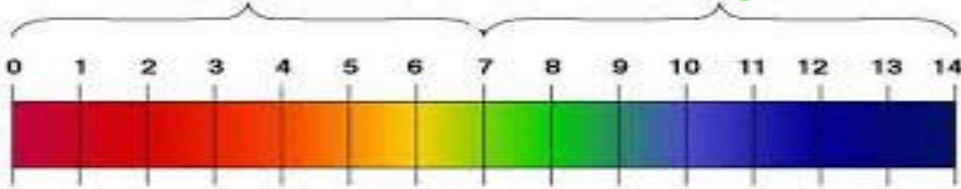
أ- الكهرباء الساكنة  
ب- التيار الكهربائي  
ج- الدارة





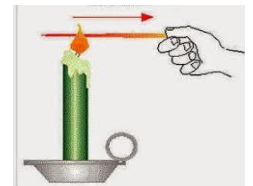
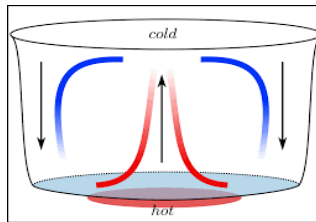
## الجزء الثاني : أولا // لاحظي الصورة وأجيبى على الأسئلة

- 1- حددي على الرسم الأحماض والقواعد
- 2- اذا كان مركب ذات حمضية مرتفعة . كم هو الرقم؟ =.....
- 3- ما هو المركب الذي له رقم هيدروجيني = 7 .....
- 4- مركب الرقم الهيدروجيني = 11 هل هو حمضي أم قلوي
- 5- متى يكون الرقم الهيدروجيني متعادل ؟ .....

[www.almanahj.com](http://www.almanahj.com)

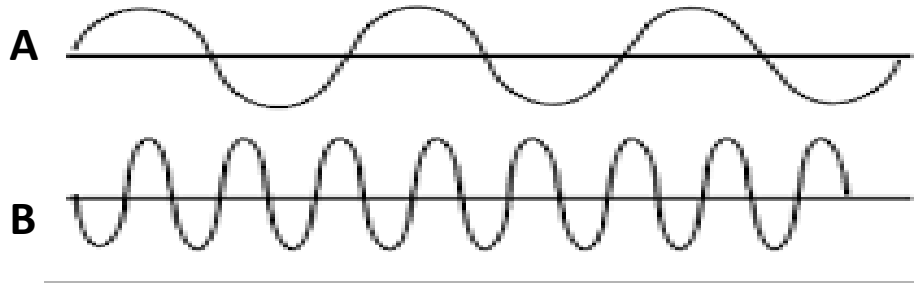


## ثانيا //صنفي طرق انتقال الحرارة بالصور الآتية





### ثالثا // لاحظي الموجات الصوتية وأجيبى على الأسئلة



1- أي الموجتين لها درجة صوت أعلى ؟ .....

2- تنشأ الموجات بسلسلة من ..... و .....

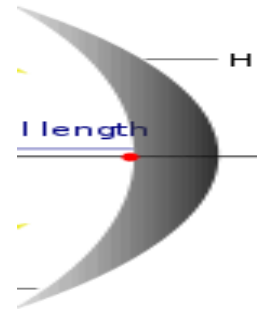
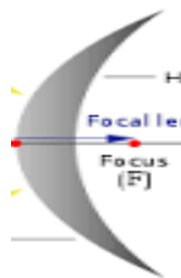
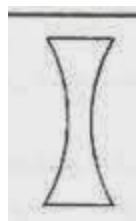

3- هل ينتقل الصوت في الفضاء ؟ ولماذا ؟ .....

4- أين تكون سعة الصوت أقل في موجة ؟ .....

5- كم تصل درجة الصوت التي تتلف الأذن ؟ .....

6- حددي على الرسم التردد والسعة ؟

### رابعا // صنفى أنواع المرايا والعدسات ووظيفتها



نموذج اجابة لأسئلة المراجعة لإختبار نهاية الفصل الدراسي الثالث لمادة العلوم للصف  
الخامس الأساسي 2016-2017 م

- |                               |                       |                         |                     |
|-------------------------------|-----------------------|-------------------------|---------------------|
| 85- مسار                      | 55-عاليا              | 26- 6                   | 1- التغير الفيزيائي |
| 86- أمبير                     | 56- التردد            | 27- طعم مر              | 2- بخار الماء       |
| 87- هرتز                      | 57- الماء             | 28-الهيدروجين           | 3- العصير           |
| 88- مسار واحد                 | 58- الإنضغاطات        | 29- قاعدة               | 4- التسامي          |
| 89- دائرة التوازي             | 59- تمتص الصوت        | 30- حمضية               | 5- بسرعة            |
| 90- أكثر                      | 60- أقل شدة           | 31- قاعدة               | 6- الثلج الجاف      |
| 91-القاطع                     | 61- التردد            | 32- 7                   | 7- 100              |
| 92- يقل التيار ويزيد المقاومة | 62- هرتز              | 33- الملح والماء        | 8- صفر              |
| 93- مغناطيس جديد              | 63- السعة الصوتية     | 34- HCL                 | 9- الكتلة           |
| 94- المجال المغناطيسي         | 64- 85                | 35- H2O                 | 10- الغليان         |
| 95- المغناطيس الكهربائي       | 65- السونار           | 36- فقدان البخار وتكثفه | 11- التمدد الحراري  |
| 96- ينقطع                     | 66- انعكاسها          | 37- تكون مادة جديدة     | 12- فواصل التمدد    |
| 97- الضوء                     | 67- طول الموجة        | 38- الحرارة             | 13- الثرموميتر      |
| 98- المولد                    | 68- خطوط مستقيمة      | 39- درجة الحرارة        | 14-الغازية          |
| 99- التيار المتناوب           | 69- فوتون             | 40- أسرع                | 15- درجة الانصهار   |
| 100- الوسادة الهوائية         | 70- الشفاف            | 41- كتلة أكبر           | 16-مركب             |
| 101- الفلز                    | 71- المعتم            | 42- الجول               | 17-مركب             |
| 102- منكسرا                   | 72- طويل              | 43- الحوض               | 18-C6H12O6          |
| 103- البطارية                 | 73- انعكاس الصورة     | 44- يتساوى              | 19- 2               |
| 104- لهما نفس السرعة          | 74- تكسر وتصغر الصورة | 45- التوصيل             | 20-النواتج          |
| 105- الالكترونات              | 75- صغيرة             | 46- الحمل الحراري       | 21- تساوي عدد       |
| 106- المغناطيس الكهربائي      | 76- الأبيض            | 47- الإشعاع             | الذرات              |
|                               | 77-متساوية            | 48- التوصيل الحراري     | 22- التجمد          |
|                               | 78- الأشعة السينية    | 49- لا ينطفئ            | 23- البناء الضوئي   |
|                               | 79- الكهرباء الساكنة  | 50- موصلات جيدة         | 24- التنفس الخلوي   |
|                               | 80- موجبة             | 51- الحمل الحراري       | 25-AL2O3            |
|                               | 81- التأريض           | 52- الصوت               |                     |
|                               | 82- محايدة            | 53- موجة صوتية          |                     |
|                               | 83- التنافر           | 54- وسط الموجة          |                     |
|                               | 84- التيار الكهربائي  |                         |                     |

نموذج اجابة لأسئلة المراجعة لإختبار نهاية الفصل الدراسي الثالث لمادة العلوم للصف  
الخامس الأساسي 2016-2017 م

أولاً

- 1- قواعد أحماض
- 2- 1
- 3- الماء
- 4- قلوي
- 5- عندما = 7

ثانياً

التوصيل الحمل الحراري الإشعاع

خامساً

- 1- البطارية - أسلاك - مصباح - مفتاح
- 2- المصباح - أوم
- 3- البطارية
- 4- التحكم - إيقاف وتشغيل
- 5- الأسلاك

ثالثاً

- B- 1
- 2- الإنضغاطات والتخلخلات
- 3- لا - لأنه يحتاج لجزيئات
- A- 4
- 5- 85 ديسبل

سابعاً

- 1- مغناطيس أو مجال مغناطيسي
- 2- بزيادة عدد لفات السلك حول المسمار
- 3 - مؤقت لأنه ينقطع بانقطاع التيار

سادساً

- 1- التوالي 2- التوازي
- 1- 2
- 3- 3
- 4- في الدارة 2
- 5- القاطع
- 6- السالبة


www.almanahj.com



التمدد الحراري



فواصل التمدد



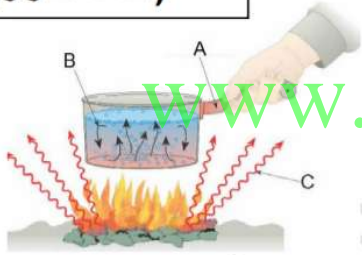
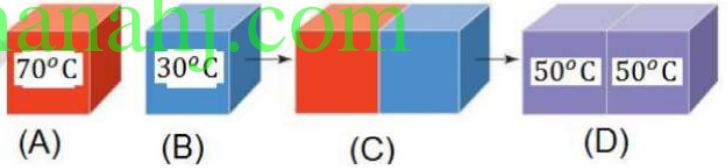
صلب



سائل



غاز

سبب ارتفاع عمود الزئبق هو  
(التمدد الحراري)من مؤشرات حدوث تغير كيميائي  
(تكون راسب)من مؤشرات حدوث تغير كيميائي  
(انبعاث طاقة)- طرق انتقال الحرارة هي التوصيل ، الحمل الحراري ، الإشعاع  
A : التوصيل B : الحمل الحراري C : الإشعاعتنتقل الحرارة من المكعب A إلى المكعب B  
تنتقل الحرارة من المكعب الساخن إلى المكعب البارد  
المكعبين لهما نفس درجة الحرارة في D

# اذكر اسم مادة توصيلها الحراري أقل من خشب البلوط ؟

الهواء

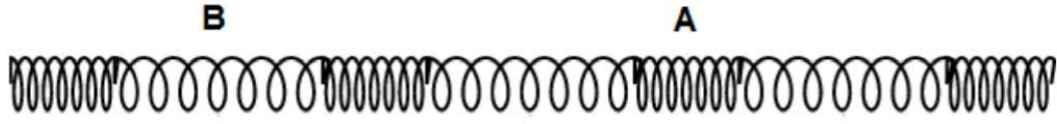
ملاحظة : الهواء أقل توصيلاً من جميع هذه المواد ولذلك يعتبر عازل جيد للحرارة

في الجدول أكثر مادة توصيلاً للحرارة هي الماس

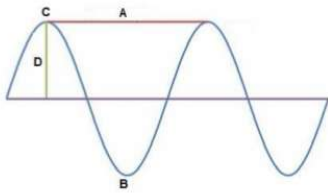
في الجدول أقل مادة توصيلاً للحرارة هي خشب البلوط

المادة	عدد المرات التي توصل فيها الحرارة أفضل من الهواء
خشب البلوط	6
الباي	23
الطوب	25
الزجاج	42
الغولاذ المقاوم للصدأ	534
الألمنيوم	8,300
النحاس	15,300
الفضة	16,300
الماس	35,000 أو أكثر

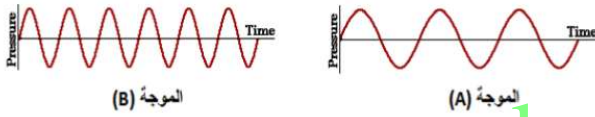




المنطقة A تسمى إنضغاط المنطقة B تسمى تخلخل  
 نوع الموجة : طولية مثال : الموجة الصوتية  
 المنطقة B ترددها أقل من المنطقة A  
 هذه الموجة تحتاج إلى وسط لإنتقالها




A : طول الموجة B : قاع الموجة C : قمة الموجة D : سعة الموجة  
 نوع الموجة : موجة مستعرضة مثال : الموجة الضوئية  
 هذه الموجة لا تحتاج إلى وسط لإنتقالها




الموجة (B)

الموجة (A)

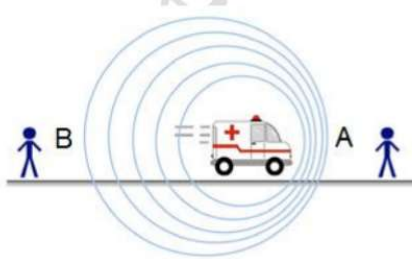
الموجة A والموجة B لهما نفس السعة  
 تختلف الموجة A عن الموجة B بأن لها تردد أقل  
 صوت القطعة يمثل بالموجة B بينما صوت الأسد يمثل بالموجة A



الموجة A والموجة B لهما نفس الطول الموجي  
 تختلف الموجة B عن الموجة A بأن لها سعة أكبر



الموجة الموضحة في الشكل هي موجة طولية ومثال عليها  
 الموجة الصوتية، وتتكون من إنضغاطات وتخلخلات

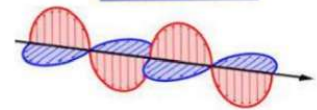


تسمى هذه الظاهرة تأثير دوبلر  
 المشاهد عند المنطقة A سيمسح صوت الإسعاف بصوت أعلى  
 وذلك لأن تردد الموجة الصوتية عند A أكبر

الشكل يمثل موجة صوتية لأنها تتكون من سلسلة من التخلخلات والإنضغاطات وتحتاج إلى وسط لإنتقالها



الشكل يمثل موجة كهرومغناطيسية ولا تحتاج إلى وسط لإنتقالها وتبين الطريقة التي تتفاعل بها  
 القوى الكهربائية والمغناطيسية

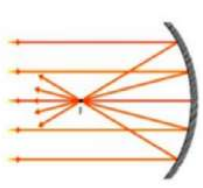




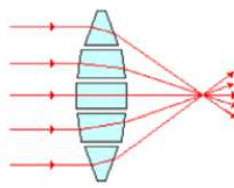
عدسة مسطحة



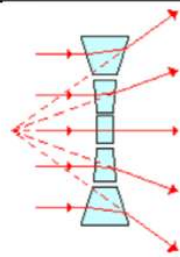
مرآة مستوية



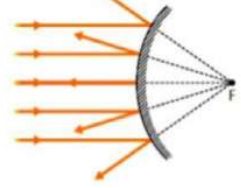
مرآة مقعرة



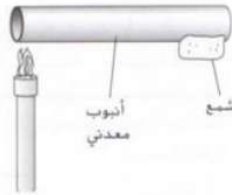
عدسة محدبة




عدسة مقعرة



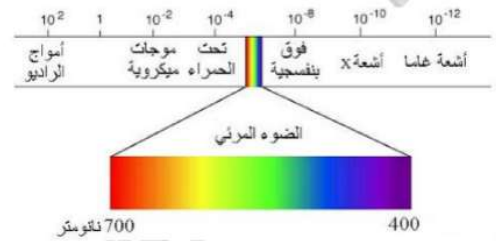
مرآة محدبة



المسؤول عن انصهار الشمع هو التوصيل الحراري

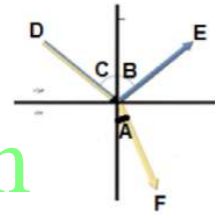


ظاهرة الإنكسار



الطيف الكهرومغناطيسي

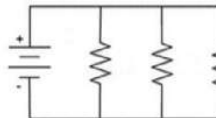
A : زاوية الإنكسار B : زاوية الإنعكاس C : زاوية السقوط D : الشعاع الساقط  
E : الشعاع المنعكس F : الشعاع المنكسر



www.almanahj.com



قاطع العطل الأرضي



دائرة توازي



دائرة توالي




مقاوم




بطارية




مفتاح كهربائي






تنافر



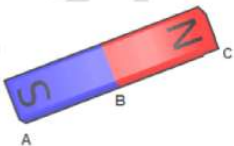
تنافر



تجاذب




بوصلة



المغناطيس له قطبين شمالي وجنوبي والأقطاب المتشابهة تتنافر والأقطاب المختلفة تتجاذب والقوة المغناطيسية أكبر ما يمكن عند القطبين (A و C).



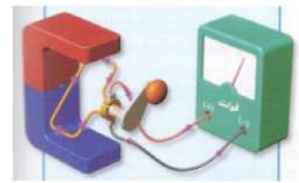
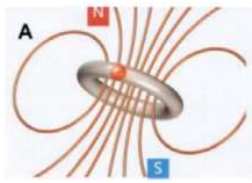
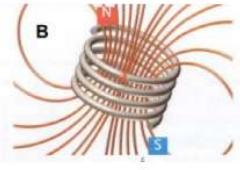
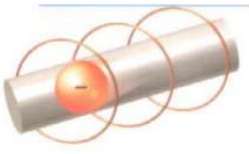
الإلتصاق الساكن



مغناطيس كهربائي



الشكل يمثل : قاطع الوظيفة : الحماية من التيار الزائد

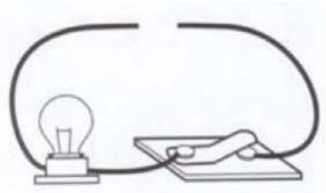


الإلكترونات هي المسؤولة عن توليد مجال مغناطيسي

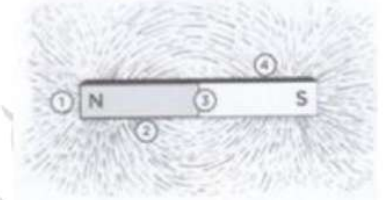
المغناطيس الكهربائي B أقوى من المغناطيس الكهربائي A لأن عدد لفاته أكبر

(مولد كهربائي)


الوظيفة : إنتاج تيار كهربائي



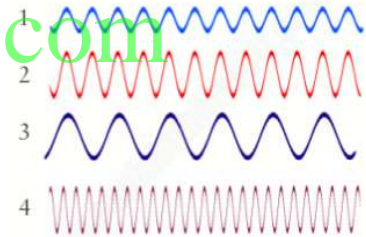
العنصر الذي تحتاجه الدائرة لكي تكتمل هو البطارية



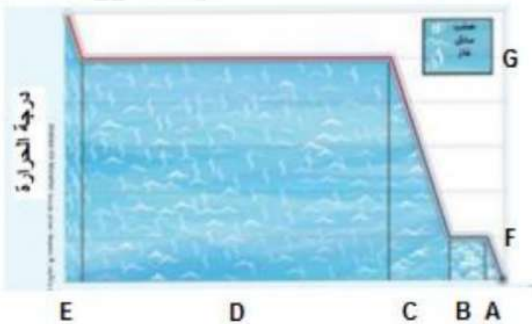
الموقع على المغناطيس الذي يكون له أقوى انجذاب إلى القطب الجنوبي لمغناطيس آخر هو 1 القوة المغناطيسية تكون أكبر ما يمكن عند الموقع 1



النظام المستخدم لتحديد المواقع (سونار)



- الموجة 1 و 2 لهما نفس الطول الموجي  
- الموجة التي تتميز بأعلى تردد هي 4  
- الموجة 2 و 3 لهما نفس السعة  
- الموجة التي تتميز بأقل طاقة هي 3



A : صلب  
B : صلب + سائل  
C : سائل  
D : سائل + غاز  
E : غاز  
F : درجة الانصهار  
G : درجة الغليان  
مع العلم أن A تمثل الحالة الصلبة