

المادة : الرياضيات

إدارة التقييم والامتحانات

عدد صفحات الأسئلة : (7)

امتحان نهاية الفصل الدراسي الثالث
للعام الدراسي 2016 / 2017 م

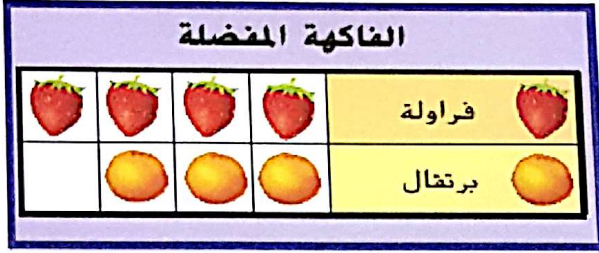
الصف : الأول

السؤال الأول

51

ضع دائرة حول رمز الإجابة الصحيحة فيما يأتي :

(1) ما إجمالي عدد الأشخاص الذين شاركوا في استطلاع الرأي ؟



a) 3

b) (7)

c) 4

d) 6

(2) كم شخصًا يفضل اللون الأرجواني ؟

ما لونك المفضل؟	
اللون	العدد بالرموز
الأحمر 	
الأرجواني 	

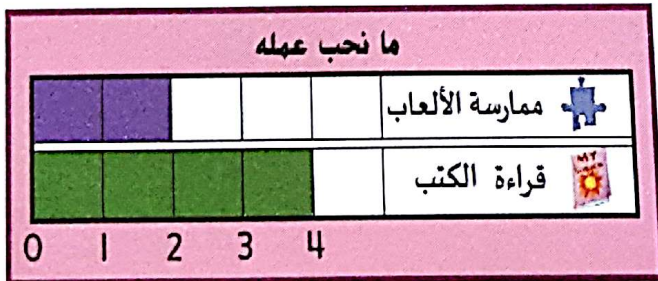
a) (5)

b) 6

c) (7)

d) 12

كم يزيد عدد من يحبون قراءة الكتب عن عدد من يحبون ممارسة الألعاب ؟



a) 1

b) 4

c) (2)

d) 6

م صوتًا يمثل كل تمثيل بياني مصور ؟

a) 3

b) 2

c) (4)

d) (1)



أكثر من ثلاثة مكعبات وأقل من سبعة مكعبات .


طول الجزرة من المكعبات تقريباً؟

a) 8

b) 3

c) 6

d) 7



لوقت الموضح في الساعة

a) الساعة 3

b) ساعة 7


c) الساعة 12

d) ساعة 2

www.almanahj.com

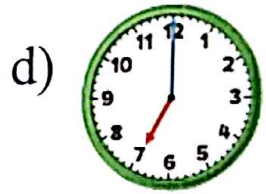
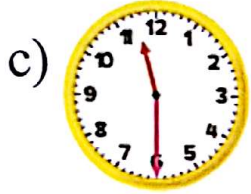
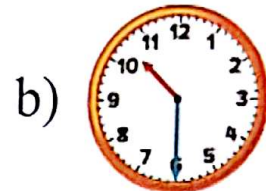
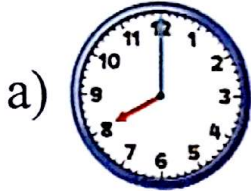
ساعة تظهر الساعة التاسعة و20 دقيقة ؟



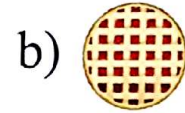
ما الجسم الأقصر من ؟ 



حدد الساعة التي يقف عقرب الساعات فيها بين 10 و11 وعقرب الدقائق يقف على 6 .



10) ما الشكل الذي له 3 رؤوس فقط ؟



www.almanahj.com

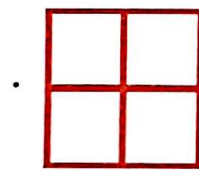
11) ما الشكل الجديد الذي يتكون من جمع الشكلين الموضحين ؟

a) دائرة

b) مثلث

c) مستطيل

d) شبه منحرف



a) 3

b) 2

c) 6

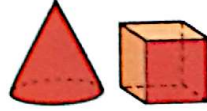
d) 4

13) حدد الشكل المفتوح .





(14) حدد الشكل الذي يشبهه .



(15) ما عدد الأوجه في المكعب والمخروط إجمالاً .

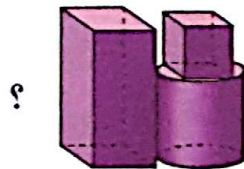
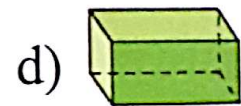


a) 6

c) 9

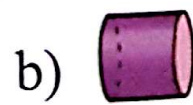
b) 7

d) 4





(16) كونت عائشة النمط الآتي . ما الشكل الناقص في النمط ؟







(17) ما الشكل الذي لا يستخدم في تكوين الشكل المركب ؟



19) استخدم جدول العلامات في رسم تمثيل بياني بالأعمدة.

الشكل المفضل											
										دائرة	
										مثلث	
										مستطيل	
										مربع	
0	1	2	3	4	5	6	7	8			

الشكل المفضل		
الإجمالي	العدد بالرموز	الشكل
	1 IIIII	دائرة 
	IIII	مثلث 
	III	مستطيل 
	II IIIII	مربع 

www.almanahj.com

20) رتب الأجسام تبعًا للطول .

اكتب 1 للجسم الطويل ، و 2 للجسم الأطول و 3 للأطول على الإطلاق .



ثالثًا:

ويستمر التمرين ساعة واحدة .




21) لدى حسام تمرين للسباحة في تمام الساعة

في أي وقت ينتهي التمرين ؟

الساعة




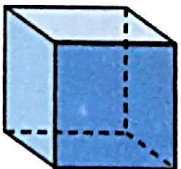
23) اكتب الوقت على الساعة الرقمية .



رسم عقرب الدقائق في الساعة التناظرية .



رسم خطأ بين الكلمة والشكل الذي يطابقها في الجدول الآتي :

الشكل	الكلمة	
	مربع	(24)
	مكعب	(25)
	دائرة	(26)
	شبه منحرف	(27)

بالمنادى:

(29) اكتب عدد رؤوس الأسطوانة .



رؤوس _____

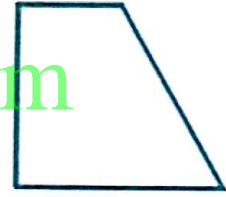
(2) اكتب عدد أضلاع المستطيل .



أضلاع _____


(30) في الشكل أدناه نصف ناقص . ارسم النصف الناقص .

www.almanahj.com



(31) كون راشد الشكل الموضح أدناه باستخدام مجسمات على شكل مثلث . فكم مثلثًا ناقصًا .

مثلثات _____



انتهت الأسئلة
بالتوفيق والنجاح

