



مراجعة لمادة الرياضيات الصف الثاني الفصل الدراسي الثالث

www.almanahj.com

2018-2017

الاسم:

الصف: الثاني /

المذكرة لا تغني عن الكتاب - ضرورة مراجعة
الكتاب بالاضافة التمارين الموجودة في نهاية كل
وحدة



اختر الإجابة الصحيحة.....

1- يدق جرس الحصص الدراسية كل 30 دقيقة. يدق جرس الحصة الأولى الساعة 8:30 . فما الوقت الذي سيدق فيه جرس الحصة الرابعة؟

10:30



10:00



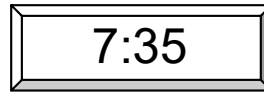
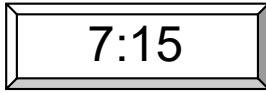
11:30



9:30



2- أظلل الساعة التي تظهر مثالا على ربع الساعة:



3- يغادر القطار الساعة 10:40 دقيقة. أى ساعة تبين أن الساعة 10:40 ؟



4- ينقل المركب الركاب كل نصف ساعة. فإذا وصل المركب الأول الساعة 8:00 صباحاً ، فمتى سيصل المركب الرابع؟

10:30 صباحاً



9:30 صباحاً





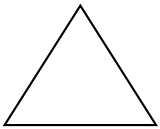
10:00 صباحاً



12:00 مساءً



5- انظر إلى الأشكال و حدد الشكل الذي لا ينتمي إلى المجموعة.



6- لدى سلطان شطيرة زبدة الفول السوداني ، ويريد مشاركتها مع 2 من أصدقائه. حدد الكلمة التي تصف كيف سيقسم سلطان شطيرته.

أخماس



أرباع



أثلاث



أنصاف



7-ثمانية أمتار تساوي سنتيمتر.

400

600

800

900

8- 56 متراً + 35 متراً = متراً.

86

87

91

95

9- 35 سنتيمتراً + 65 سنتيمتراً =

2 متر

90 سنتيمتراً

1 متر

1 سنتيمتر

www.almanahj.com

10- 36 سنتيمتراً + 26 سنتيمتراً =

62 متراً

52 متراً

62 سنتيمتراً

52 سنتيمتراً

11- يبلغ طول عصي لعبة الجولف الخاصة بفاطمة 1 متر. كم يبلغ طول عصا الجولف الخاصة بفاطمة بالسنتيمترات؟

50

100

200

400

12- عملة 10 فلسات هي :



13- عملة من فئة 25 فلس .



14- أوجدني قيمة العملات.



36 فلساً



51 فلساً



46 فلساً



41 فلساً



15- مريم تحتاج إلى 55 فلساً لشراء علبة من الفوشار. فما العملات التي ينبغي عليها استخدامها؟
25 فلساً، 25 فلساً
25 فلساً، 5 فلسات

www.almanahj.com

16- وجدت عبير 1 من فئة 25 فلساً و 1 عملة من فئة 10 فلسات. و كان لديها 30 فلساً. و لدى غالية 85 فلساً. كم يزيد ما لدى غالية عن عبير؟

30 فلساً



25 فلساً




20 فلساً



10 فلسات



17- بين الوقت بعد مرور نصف ساعة باستخدام الساعة الثانية.



18- 1 متر = سنتيمتر

1000 سنتيمتر



100 سنتيمتر



10 سنتيمترات



1 سنتيمتر



19- حو ط على الساعة التي تشير إلى الساعة 6 الإربع:



:



:

20- اكتب الوقت المناسب :



:



:



:



:

www.almanahj.com

21- ارسمي عقارب الساعة :



5:30



1:15

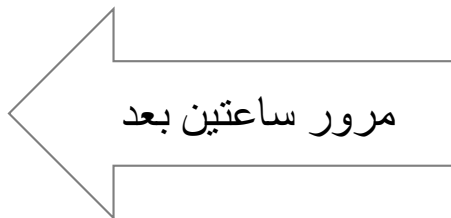


7:45

22- اكتب و ارسم وقت البداية و النهاية :



:



6:00

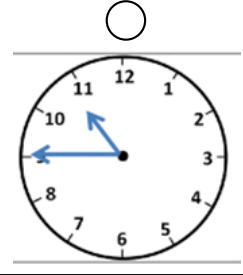
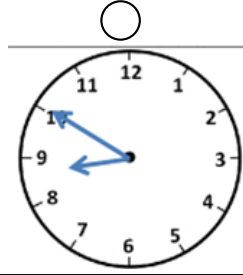
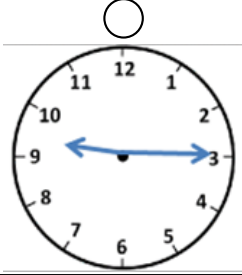
23- اليوم هو الخميس 26 ابريل فبعد 3 أيام هو

29 مايو

23 ابريل

29 ابريل

24- اختر الساعة التي تشير إلى التاسعة والرابع:



25- الذهاب إلى رحلة مع صديقاتي في المدرسة:

ساعات

دقائق

ثواني

26- تتناول فاطمة وجبة العشاء في الساعة 7:30 www.almanahj.com

PM

AM

مايو

27- ما التاريخ الذي يتوقع أن يبدأ فيه رمضان:

الأحد	الاثنين	الثلاثاء	الأربعاء	الخميس	الجمعة	السبت
3	2	1				
10	9	8	7	6	5	4
17	16	15	14	13	12	11
24	23	22	21	20	19	18
		28	27	26	25	

- الجمعة 16 مايو
- الخميس 15 مايو
- الجمعة 9 مايو

28- ذهبت مريم إلى محطة القطار وكانت تشير الساعة إلى 3:00 تماما عليها الانتظار نصف ساعة ليتحرك القطار، متى سوف يتحرك القطار؟

3:30

4:00

2:30

مدرسة أم الفضل بنت حمزة -2017

2018



29- اذكر الوقت الموضح للنشاط و اكتبه ثم أضع دائرة حول AM أو PM

3. اللعب بعد المدرسة



AM
PM



2. الذهاب للنوم



AM
PM



1. حصة الفنون



AM
PM



30- أحوط حول الوحدة الأفضل لقياس الوقت لكل حدث.

3- بناء منزل

أيام

عام

2- الاستعداد للمدرسة

دقائق

ثوانٍ

1- الذهاب للمتجر

أسابيع

ساعات

www.almanahj.com

31- استخدم التقويم الزمني للإجابة عن الأسئلة.

يونيو						
الأحد	الاثنين	الثلاثاء	الأربعاء	الخميس	الجمعة	السبت
				1	2	3
4	5	6	7	8	9	10
11	12	13	14	15	16	17
18	19	20	21	22	23	24
25	26	27	28			


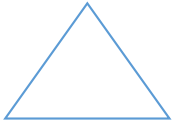
1- ما تاريخ السبت الثالث من شهر يونيو؟

2- في أي يوم بدأ شهر يونيو؟

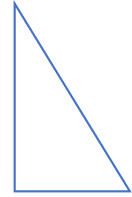
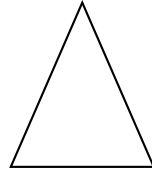
3- اليوم هو تاريخ 12 يونيو، فماذا سيكون التاريخ بعد 10 أيام؟

32- ارسم دائرة حول الأشكال المطابقة للاسم.

2- شبه منحرف



1- مثلث



33- ارسم دائرة حول الأشياء المناسبة للوصف.




1- 3 أضلاع و 3 زوايا



2- 4 أضلاع و 4 زوايا

34- اكتب اسم الشكل وعدد الأضلاع و الزوايا.



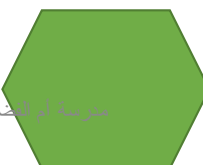
.....
عدد الأضلاع
عدد الزوايا



.....
عدد الأضلاع
عدد الزوايا

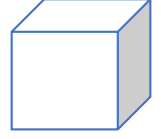
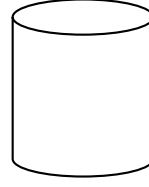


.....
عدد الأضلاع
عدد الزوايا



.....
عدد الأضلاع
عدد الزوايا

35- ارسم خطوطا لتوصيل الكلمات بما يطابقها.



منشور مستطيل

مخروط

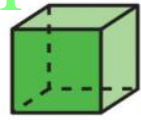
مكعب

اسطوانة

36- ارسم دائرة حول الأشياء المناسبة للوصف

2. 0 وجه، 0 حافة، 0 رأس

1. 6 وجوه، 12 حافة، 8 رؤوس

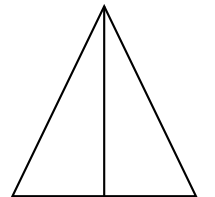
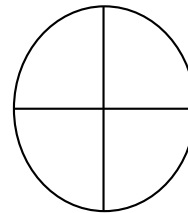



4. 6 وجوه، 12 حافة، 8 رؤوس

3. 5 وجوه، 8 حواف، 5 رؤوس



37- صف الأجزاء المتساوية. اكتب أنصاف أو أثلاث أو أرباع.



38- ارسم صورة لإيجاد الحل:

1- تتشارك نورة وفاطمة شطيرة حلوى، وقد حصلت كل منهما على جزء متساوي. فما مقدار ما حصلت كل من الفتاتين من الشطيرة؟
الشطيرة


2- تريد خولة تقطيع كعكة من العسل على شكل مستطيل وقد قاكت بتقطيعه إلى النصف ثم قامت بتقطيعه إلى النصف ثم قطعت كل نصف إلى نصفين آخرين. وكررت الأمر في الاتجاه الآخر. كم قطع كعكة العسل لديها؟
كعكة عسل

39- حوطي على الإجابة الصحيحة:

1- الشكل الذي له 3 زوايا و3 اضلاع



2- الشكل الذي يضم 5 أضلاع



3- الشكل الذي يضم 6 زوايا و 6 أضلاع هو:



متوازي أضلاع

مثلث

سداسي أضلاع

خماسي أضلاع

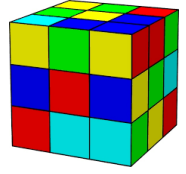
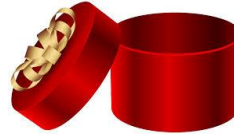
4- الشكل الذي لديه 0 وجه و 0 حافة و 0 رأس



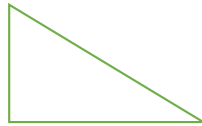
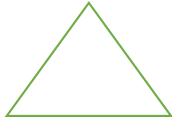

5- أنا شكل ثلاثي الأبعاد ولدي 5 وجوه و 8 حواف و 5 رؤوس



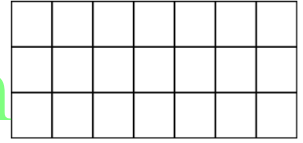
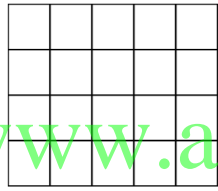
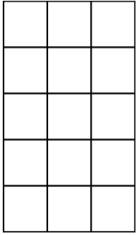
6- تريد مريم أن ترسم مربع فما الأشياء التي يمكنها استخدامها:



7- الأوجه التي تكون الشكل



8- أي من الأشكال التالية له مساحة أكبر



www.almanahj.com

9- تشارك مريم و فاطمة وعائشة وشريفة قطعة البيتزا فكيف يمكنها أن يقسموها؟



أرباع

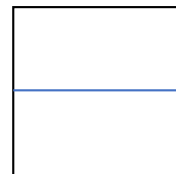


أثلاث

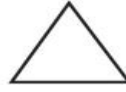
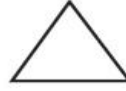

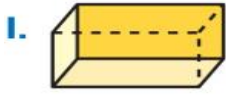


أنصاف

10 - اقسام الشكل بطرق مختلفة للحصول على نفس الأجزاء المتساوية:




40- ارسم دائرة حول الأوجه التي تكوّن الشكل.



41- كم عدد المربعات التي تكون كل مستطيل.



_____ مربعًا



_____ مربعات

www.almanahj.com

43- ارسم خطوطا لتوصيل الكلمات بما يطابقها.



10 فلسات



1 فلس



25 فلسًا



1 درهم



5 فلسات

44- كم عدد العملات التي تحتاجها لتكوين درهم؟



.....



.....



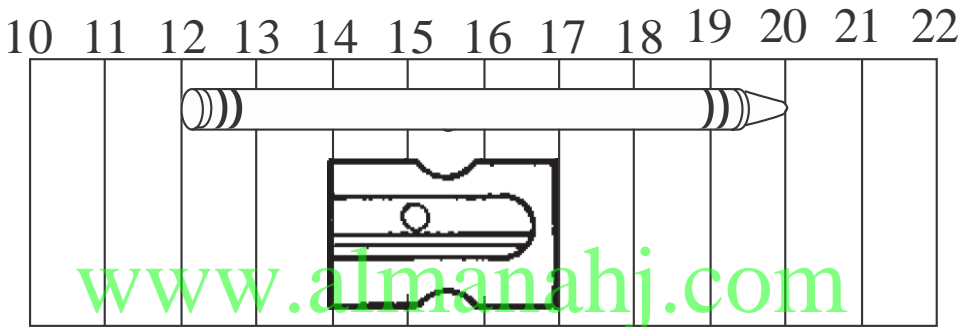
.....



.....

45- استخدم خط الأعداد للحل ثم اختر الإجابة الصحيحة....

السنتيمتر



كم طول البراية؟

14 cm

17 cm

3 cm

كم طول قلم التلوين؟

8 cm

5 cm

20 cm

1 متر يساوي :

1000 cm

10 cm

100 cm

بكم يزيد طول قلم التلوين عن البراية؟

10 cm

5 cm

3 cm

وحدة القياس المناسبة هي :

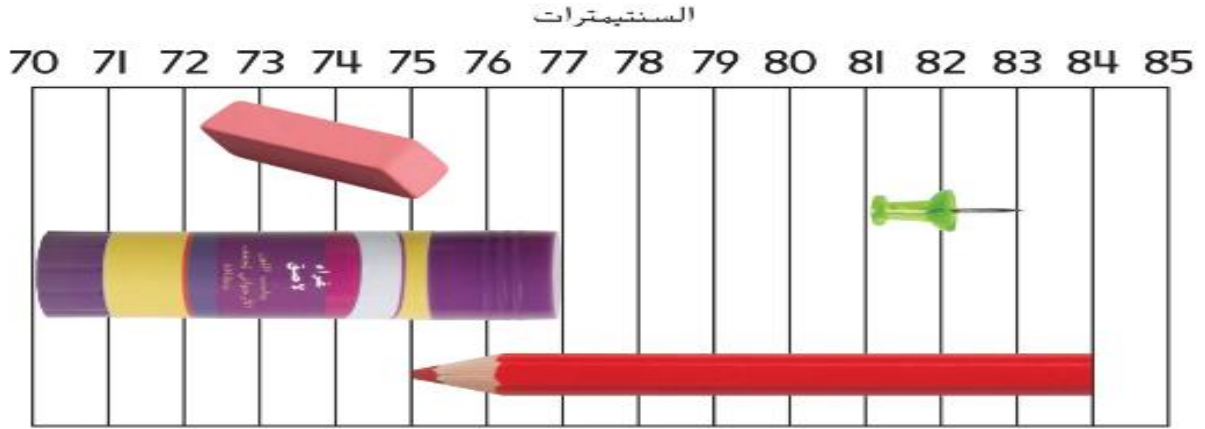


2018-2017 مدرسة أم الفضل بنت حمزة

لتر

كوب

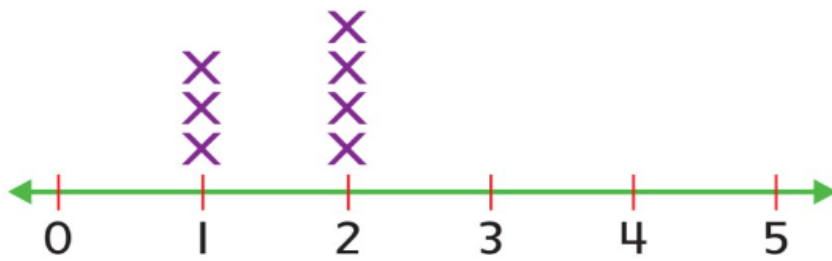
46- استخدم خط الأعداد للإجابة عن الأسئلة



- 1- كم يبلغ طول علبة الصمغ؟ سنتيمترات
- 2- كم يبلغ طول الدبوس؟ سنتيمترات.
- 3- أيهما أطول قلم التلوين أم علبة الصمغ؟
- 4- كم يبلغ طول الدبوس و قلم التلوين إجمالاً؟ سنتيمترات.

47- استخدم التمثيل البياني بالنقاط المجمعة أدناه للإجابة على السؤال؟
كم يبلغ طول معظم أصابع الأقدام؟

طول أصبع القدم



سنتيمترات


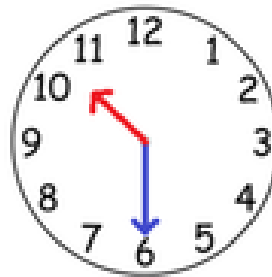
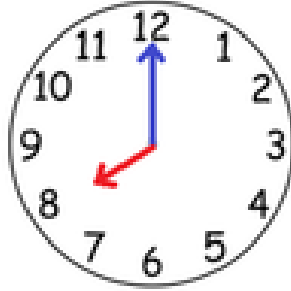
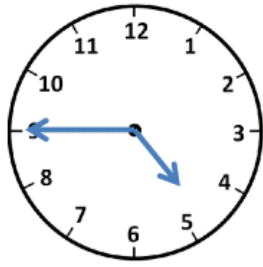
2 متر

2 سنتيمتر

1 متر


1 سنتيمتر

48- اكتب الوقت



www.almanahj.com

49- ارسم العقارب في كل ساعة.



الواحدة و النصف




4:15



الساعة 2



12:05



1:45



3:35

50- حل المسائل

1- يبدأ تمرين كرة السلة في الساعة 4:00. يأكل حامد وجبة خفيفة قبل ساعتين من التمرين. فما الوقت الذي يأكل فيه حامد الوجبة الخفيفة.
.....

2- الوقت على ساعة خالد هو 3 ساعات بعد 2:00. اكتب الوقت الموجود على ساعته.....

3- تمتلك مهرة 8 أزواج من الأحذية. وضعت عددا متساويا من الأحذية في حقيبتين. فكم حذاءً وضعت في كل حقيبة؟
.....

4- لدى سعيد ثلاثة أنشطة تدريبية على التوالي. مدة كل نشاط ساعتين. يأتي موعد النشاط الأول الساعة 7:00 فمتى سينتهي النشاط الأخير لسعيد؟
.....

www.almanahj.com

5- الساعة 3:00 AM هل هذا وقت عودتك من المدرسة للمنزل أم ستكون نائما في السرير؟
.....

6- رسم عبد الله 3 مربعات و رسم عدنان مستطيلين و مربع. فمن رسم زوايا أكثر؟
.....

7- رسمت ليلى شكلا به 6 أضلاع. فما الشكل الذي رسمته؟
.....

8- رأى يوسف إشارة أثناء سيره في المنتزه. لم يكن للإشارة أي أضلاع أو زوايا. فما شكل الإشارة؟
.....

9- أنا شكل ثلاثي الأبعاد. هناك دائرة في قاعدتي. و نقطة في قمتي. فما هم شكلي؟
.....

10- لدى حمدان مجسم فيه 6 سطوح مستطيلة و هناك سطحان أصغر من بقية الأسطح.. فأى الأشكال أنا؟.....

11- تشاركت نورة و فاطمة الشطيرة. و قد حصلت كل منها على جزء متساوٍ. فما مقدار ما حصلت كل من الفتاتين من الشطيرة؟
.....

12- يركض راشد سباق الـ 100 متر مرتين. كم عدد الأمتار التي ركضها إجمالاً؟
.....

13- يبلغ طول أحد أشجار السدر 4 أمتار. و يبلغ طول الأخرى 3 أمتار. كم يزيد طول الأولى عن الثانية بالسنتيمترات؟
.....
www.almanahj.com

14- سبحت شيماء 50 متراً في الصباح، و سبحت 40 متراً في المساء. فكم عدد الأمتار التي سبحتها شيماء إجمالاً؟
.....

15- يبلغ ارتفاع منزلق كبير على حوض السبحة 10 أمتار. و يبلغ ارتفاع منزلق صغير 4 أمتار. كم يزيد ارتفاع المنزلق الكبير عن الصغير؟
.....

16- ركض زايد 50 متراً، و ركض سالم 67 متراً، فما المسافة التي ركضها سالم أكثر من زايد؟
.....

17- لدى عدنان 3 عملات من فئة 25 فلساً، و لدى محمد 2 عملة من فئة 25 فلساً. كم عدد الفلسات التي يزيد بها عدنان عن محمد؟
.....