

رابع - الدراسات الإجتماعية والتربية الوطنية

الوحدة الأولى

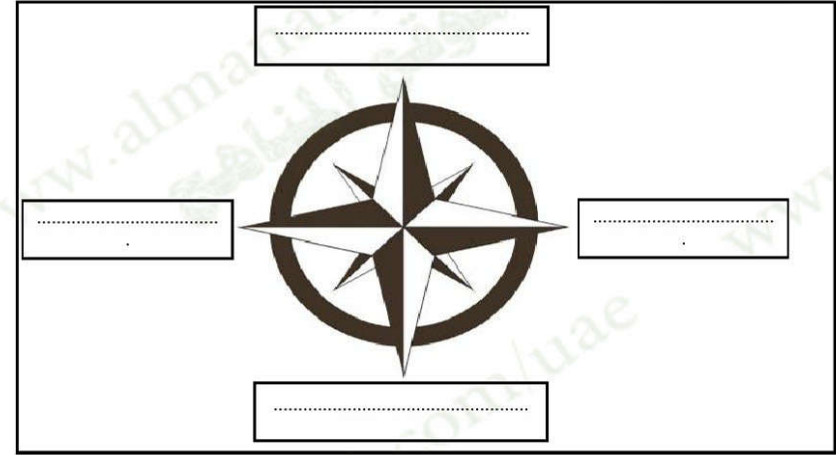
صلي المصطلح بالمعنى المناسب:-

الموقع النسبي	أي موقع جسم ما على سطح الكرة الأرضية.
الموقع الجغرافي	موقع المكان بالنسبة لخطوط الطول ودوائر العرض.
خطوط الطول	هو خط الطول الرئيسي [خط الصفر] ويقسم العالم إلى نصفين متساويين.
خط جرينيتش	هي عبارة عن خطوط وهمية ترسم على نموذج الكرة الأرضية وتبدو على شكل دوائر تامة.
الموقع الفلكي	هو دائرة العرض الرئيسية، وتنقسم العالم إلى نصفين
دوائر العرض	هي خطوط طولية يوازي بعضها البعض.
خط الاستواء	موقع المكان بالنسبة لليابسة والماء.

ضعي إشارة (✓) عند الإجابة الصحيحة وإشارة (✗) عند الإجابة الخاطئة:

1. () اللون الأخضر يمثل اليابسة في الكرة الأرضية.
2. () اللون الأزرق يمثل البحار والمحيطات في الكرة الأرضية.
3. () المجموعة الشمسية: هي جميع الأجسام التي تدور حول القمر.
4. () تقسم الخطوط الطولية للأرض إلى 180 خطاً شرقاً و 180 غرباً.
5. () يقسم العالم إلى 24 منطقة زمنية اعتماداً على خط جرينيتش.
6. () يقع مدار السرطان في جنوب خط الاستواء عند دائرة عرض 23.5 جنوباً.
7. () يقع مدار الجدي في شمال خط الاستواء عند دائرة عرض 23.5 شمالاً.

ضعي الإجابة الصحيحة ما بين القوسين في المكان المناسب في الرسم التالية: (الشمال - الشرق - الغرب - الجنوب)



إختاري الإجابة الصحيحة:

1. هي نقاط الاستدلال الجغرافية الأربع وهي الشمال والجنوب والشرق والغرب.
(الموقع النسبي - خطوط الطول - الجهات الأصلية)
2. تقسم خطوط الطول على الأرض إلى خط طول.
(360 - 180 - 120)
3. يقسم العالم إلى نصفين متساويين.
(الموقع النسبي - خطوط الطول - خط جرينيتش)
4. هي عبارة عن خطوط وهمية ترسم على نموذج الكرة الأرضية وتبدو على شكل دوائر تامة.
(الموقع النسبي - خطوط الطول - دوائر العرض)

5. هو دائرة العرض الرئيسية، وتقسّم العالم إلى نصفين.

(الموقع النسبي - خط الاستواء - خط جرينتش)

6. يقع مدار السرطان عند دائرة عرض

(23.5 شمالاً - 23.5 جنوباً - 90 شمالاً - 90 جنوباً)

7. يقع مدار الجدي عند دائرة عرض

(23.5 شمالاً - 23.5 جنوباً - 90 شمالاً - 90 جنوباً)

عددي الجهات الفرعية؟

1.	2.
3.	4.

لوني الإجابة الصحيحة:- يقسم خط جرينتش العالم إلى نصفين متساويين هما:

شمالي	شرقي
غربي	جنوبي

لوني الإجابة الصحيحة:- يقسم خط الاستواء العالم إلى نصفين متساويين هما:

شمالي	شرقي
غربي	جنوبي



- أُلَوِّنُ القَارَاتِ باللُّونِ ● والبيحَارَ والمُحيطَاتِ باللُّونِ ● عَلَى خَرِيطَةِ العَالِمِ.



- اَسْتَخْمِلُ أَسمَاءَ القَارَاتِ والمحيطَاتِ وَفُقَ الجَدُولِ الآتِي:

المحيطات	القارات	العدّد
المُحيطُ المُتَجَمِّدُ الشَّمَالِي	القَارَةُ القُطْبِيَّةُ الجَنُوبِيَّةُ	1
		2
		3
		4
		5
		6
		7
عَدَدُ المُحيطَاتِ	عَدَدُ القَارَاتِ	المجموع



أَلْحِظْ وَأَسْتَحْسِبْ

- أَتأملُ الخَريطةَ السِّياسيةَ لِقارةِ أَشيا، ثُمَّ أَجيبُ عَمَّا يَأُتي:



خَريطةُ أَشيا السِّياسيةِ

- 1- تَفحُّ اليابانُ في قارةِ
- 2- يَجِدُ قارةَ أَشيا مِنْ جِهَةِ السَّمالي المَحيطِ
- 3- تَطُلُّ الهنْدُ مِنْ جِهَةِ الجَنوبِ عَلى المَحيطِ
- 4- تُجاوِزُ دَوْلَةُ الصِّينِ مِنْ جِهَةِ السَّمالي دَوْلَةَ

- أَسْتَنبِجُ أَهميَّةَ الخَريطةِ السِّياسيةِ:

.....

.....



أَخْبِرْ مَعْلوماتي

- أَسْتَكمِلُ الأشْكالَ الآتيةَ بالكَلِماتِ المُناسِبةِ لَها: [جرينتش - الكون - الموقِعَ الفَلَكِيّ]

يُسمَّى موقِعُ المَكانِ بالنَّسبةِ
إلى خُطوطِ الطُولِ ودوائرِ
العَرْضِ

يُعرَّفُ خَطُّ الطُولِ
الَّذي يَمُرُّ بِخَطِّ



يُطلَقُ عَلَيها خُطوطُ

أَحَدُ وَالْوَنُ

- أَحَدُ عَلَي الخَريطةِ:
- خَطُّ الطُولِ الَّذي يَمُرُّ بِاللَوْنِ



أَفكِّرْ وَأَحسِبْ

- أَتوصِلُ إلى العَمَلِيَّةِ الحِسابِيَّةِ الآتيةِ:
- أَجمَعُ خُطوطِ الطُولِ: 180 خطًا شرقًا

+ 180 خطًا غربًا

المجموعُ خَطًّا طوليًّا

خَريطةُ العالَمِ

ما أَهميَّةُ خُطوطِ الطُولِ؟

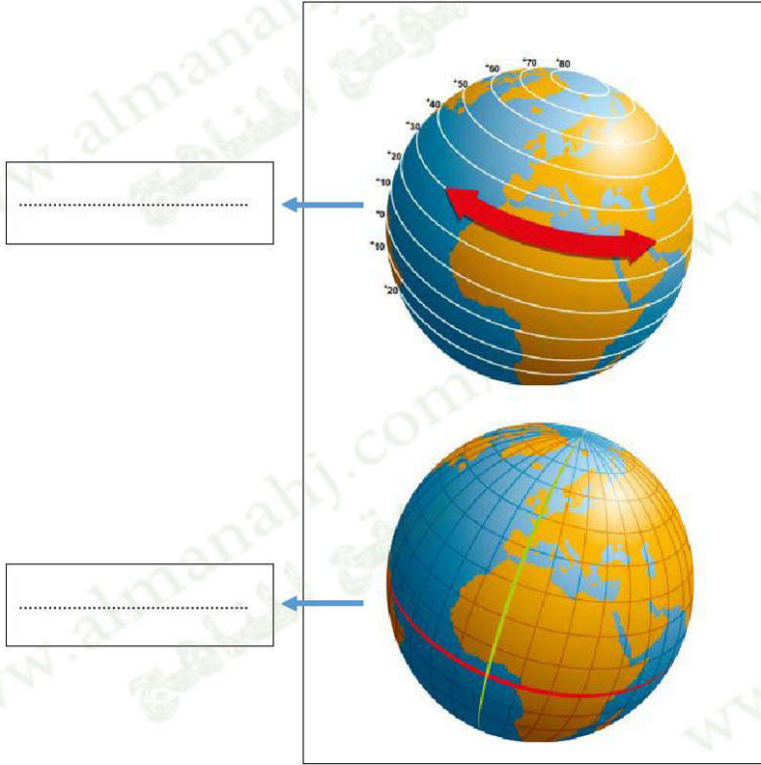
.....

.....



ضعي الإجابة الصحيحة ما بين القوسين في المكان المناسب في الرسم التالية: (دوائر العرض - خط

الاستواء)



ما أهمية دراسة دوائر العرض؟

.....
.....



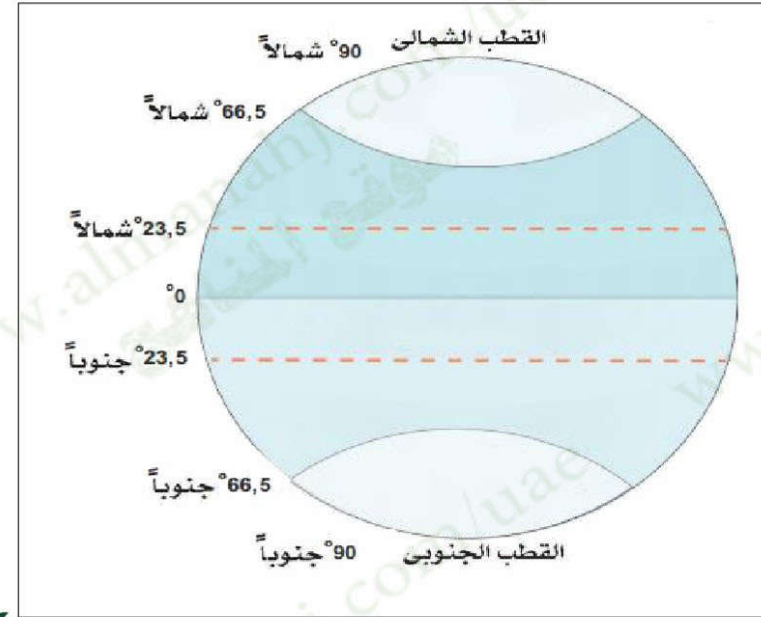
الأجيب وأجيب

- أضع علامة (✓) أمام العبارة الصحيحة وعلامة (x) أمام العبارات غير الصحيحة فيما يلي:

- 1- يقع مدار السرطان في نصف الكرة الجنوبي. []
- 2- يُقسّم خط الاستواء الكرة الأرضية إلى نصفين شمالي وجنوبي. []
- 3- مدار الجدي يقع شمال خط الاستواء. []
- 4- تُعرف دائرة العرض الرتيبة بخط جرينتش. []
- 5- يُمرّ خط الاستواء عند دائرة عرض صفر. []
- 6- القطب الشمالي عند دائرة عرض 23,5 شمالاً. []

ضعي الإجابة الصحيحة ما بين القوسين في المكان المناسب في الرسم التالية: (مدار السرطان - مدار

الجدي - الدائرة القطبية الشمالية - الدائرة القطبية الجنوبية - خط الاستواء)



أكملي الجدول بما يلي:-

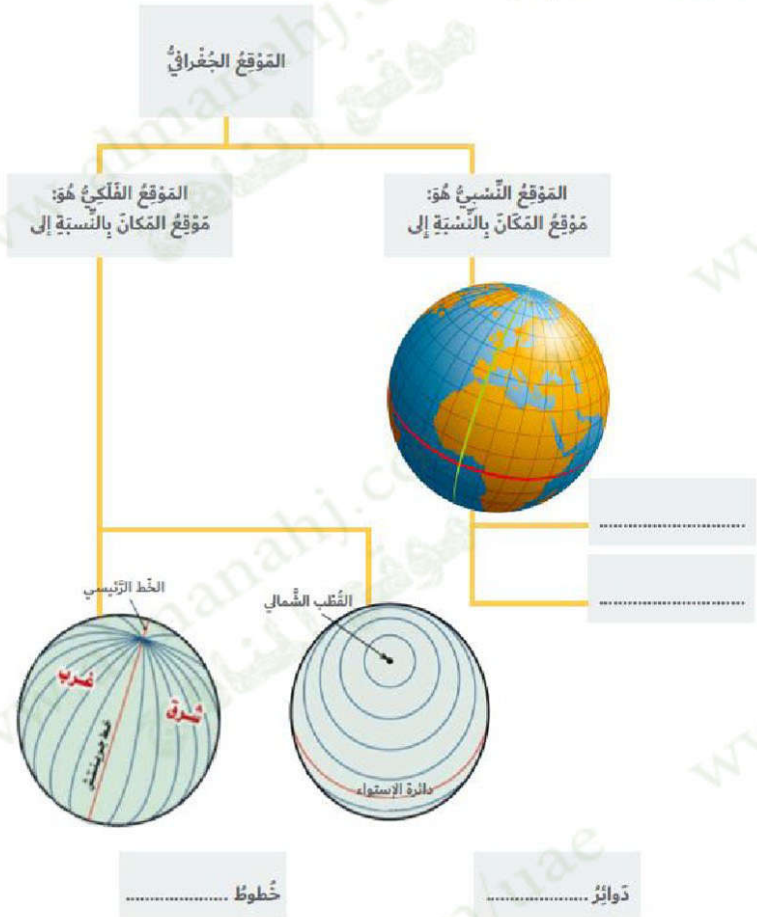
.....	عاصمة دولة الإمارات العربية المتحدة:
.....	المساحة:
.....	اللغة الرسمية:
.....	التأسيس:
.....	الرئيس:

إختاري الإجابة الصحيحة:

- هو عناصر الثقافة التي يتناقلها الخلف من السلف.
(التراث - العادات - التقاليد)
- منطقة من اليابس محاطة بالماء من ثلاث جهات.
(الجزيرة - شبه الجزيرة)
- خطوط حددها الإنسان، ورسمت حتى تفصل بين حدود دولة ودولة أخرى،
وهي تشكل المدى الذي تمارس فيه الدولة سيادتها.
(الحدود السياسية - الحدود الإقليمية)
- تشرف دولة الإمارات العربية المتحدة بحدودها على مسطحين مائين هما: و.....
(المحيط الهادي والمحيط الهندي - الخليج العربي والمحيط الهندي - الخليج العربي و بحر عمان)
- لسان كبير من الماء محاط باليابس من ثلاث جهات.
(الخليج - البحر - المحيط)
- تقع دولة الإمارات العربية المتحدة في أقصى شرق وتطل على
..... وبحر عمان.
- تجارة تعني أن تستورد السلع ثم تعيد تصديرها إلى دول العالم.



أختبر معلوماتي
- أستكمل المخطط الذهني الآتي:



• أَطَبِّقْ مَا تَعَلَّمْتَ

أَفْكَرْ وَأَسْجَلْ

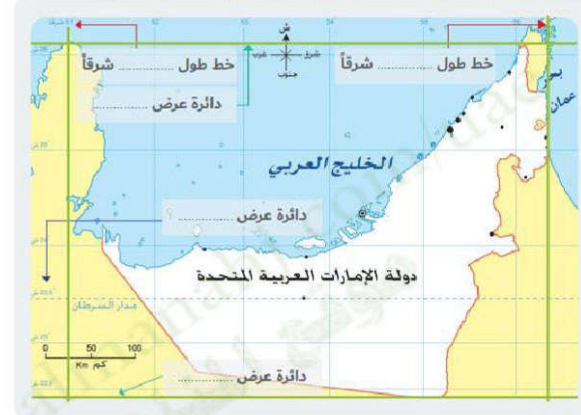
- اسْتَكْمِلْ الْجَدُولَ الْآتِيَّ مِنْ خِلَالِ تَوْصِيلِ الْمَجْمُوعَةِ (أ) بِالْمَجْمُوعَةِ (ب):

• خليفة بن زايد آل نهيان
• أبوظبي
• 83,600 كم²
• 20 ديسمبر 1971م

• تُسَمَّى عاصمةً دَوْلَةَ الإمارات العربية المتحدة
• تَبْلُغُ مَسَاحَةُ دَوْلَةِ الإمارات العربية المتحدة
• تَأَسَّسَتْ دَوْلَةُ الإمارات العربية المتحدة في
• يَحْكُمُ دَوْلَةَ الإمارات العربية المتحدة صَاحِبُ السُّمُو السُّيُحُ

أَلْحِظْ وَأَسْتَكْشِفْ

- أَقْرَأْ خَرِيطَةَ دَوْلَةِ الإمارات العربية المتحدة، ثُمَّ اسْتَكْمِلْ الْآتِيَّ:



اربط مع الرياضيات

أَفْكَرْ وَأَحْسِبْ

- اتَّوَصَّلْ إِلَى الْعَمَلِيَّةِ الْحَسَابِيَّةِ الْآتِيَّةِ:
- عَمْدُ دَوَائِرِ الْعَرْضِ الَّتِي تَقَعُ عَلَيْهَا دَوْلَةُ الإمارات العربية المتحدة: الْمَجْمُوعَةُ دَائِرَةُ عَرْضِيَّةِ
26.5 شَمَالًا
22 شَمَالًا

(شبه الجزيرة العربية ، الخليج العربي – الخليج العربي ، شبه الجزيرة العربية)

8. هي كل جهد قام به الإنسان لتحسين ظروف حياته.

(التعليم – الحضارة)

ضعي إشارة (✓) عند الإجابة الصحيحة وإشارة (x) عند الإجابة الخاطئة:

1. () تعد دولة الإمارات العربية المتحدة دولة اتحادية عصرية تتكون من تسع إمارات.
2. () برزت دولة الإمارات على الخريطة السياسية للعالم في عام 1970م.
3. () تقع دولة الإمارات العربية المتحدة بين دائرتي عرض (22 و 26.5 درجة شمال خط الاستواء) وخط طول (51 و 56.5 درجة شرق خط غرينتش).
4. () يمر مدار السرطان في الجزء الشمالي من دولة الإمارات العربية المتحدة.
5. () تعرف شبه الجزيرة بأنها منطقة من اليابس محاطة بالماء من أربع جهات.
6. () دولة الإمارات دولة تتمتع بالتجانس وحسن الجوار مع شقيقاتها الدول العربية المجاورة ودول العالم.
7. () قامت على أرض دولة الإمارات العديد من الحضارات.

لوني أهم الحضارات التي ظهرت على أرض دولة الإمارات العربية المتحدة:

حضارة ماجان	حضارة دلمون	أم النار
حضارة مزون	حضارة ملوفا	حضارة العبيد

صلي الحضارة بالمنطقة التي ظهرت فيها:

حضارة ماجان	أبو ظبي
حضارة أم النار	الشارقة
حضارة ملوفا	الإمارات و عمان



• أَطَبِّقْ مَا تَعَلَّمْتَ

أَفْكَرْ وَأَسْجَلْ

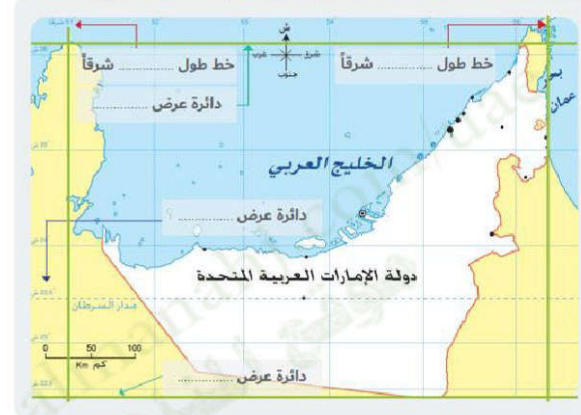
- اسْتَكْمِلْ الْجَدُولَ الْآتِيَّ مِنْ خِلَالِ تَوْصِيلِ الْمَجْمُوعَةِ (أ) بِالْمَجْمُوعَةِ (ب):

• خليفة بن زايد آل نهيان
• أبوظبي
• 83,600 كم²
• 20 ديسمبر 1971م

• تُسَمَّى عاصمةً دَوْلَةَ الإمارات العربية المتحدة
• تَبْلُغُ مَسَاحَةُ دَوْلَةِ الإمارات العربية المتحدة
• تَأَسَّسَتْ دَوْلَةُ الإمارات العربية المتحدة في
• يَحْكُمُ دَوْلَةَ الإمارات العربية المتحدة صَاحِبُ السُّمُو السُّيُحُ

أَلْحِظْ وَأَسْتَكْشِفْ

- أَقْرَأْ خَرِيطَةَ دَوْلَةِ الإمارات العربية المتحدة، ثُمَّ اسْتَكْمِلْ الْآتِيَّ:



اربط مع الرياضيات

أَفْكَرْ وَأَحْسِبْ

- اتَّوَصَّلْ إِلَى الْعَمَلِيَّةِ الْحَسَابِيَّةِ الْآتِيَّةِ:
- عَمْدُ دَوَائِرِ الْعَرْضِ الَّتِي تَقَعُ عَلَيْهَا دَوْلَةُ الإمارات العربية المتحدة: الْمَجْمُوعَةُ دَائِرَةُ عَرْضِيَّةِ
26.5 شَمَالًا
22 شَمَالًا



أهمية الموقع النسبي لدولة الإمارات العربية المتحدة؟

.....

.....

.....

.....

لوني قلب العالم القديم:-

أوروبا	أستراليا	آسيا
أمريكا الشمالية	أفريقيا	أمريكا الجنوبية



أبحث: في أيّ قارات العالم تَمْتَدُّ الدُّولُ العَرَبِيَّةُ؟

.....

.....



• أظنُّ ما تَعَلَّمْتُ

أختبرُ مَعلُوماتي

- أكوُنُ حَقَائِقُ جُغرافيَّةً مِن خلالِ وَصْفِ الكَلِماتِ الآتيَّةِ بِمَكانِها المُناسِبِ:

[الشَّرقيَّة - شِبْهُ الجَزيرة العَرَبِيَّة - وَسَط]



تَقَعُ دَوْلَةُ الإمارات العَرَبِيَّةِ
المُتَّحِدَةِ في
العالم.



تَمْتَدُّ دَوْلَةُ الإمارات العَرَبِيَّةِ
المُتَّحِدَةِ في شَرْقِ



تَقَعُ دَوْلَةُ الإمارات
العَرَبِيَّةِ المُتَّحِدَةِ في
التَّاجِيَةِ
مِنَ الوَطَنِ العَرَبِيِّ.



أنتبه وأجيب

- أسجل حدود دولة الإمارات العربية المتحدة في الخريطة الآتية:



ما هي الأهمية الاقتصادية بالنسبة لموقع دولة الإمارات العربية المتحدة؟

.....
.....
.....
.....



ألاحظ وأصنّف

- استخلص أهمية الموقع الجغرافي بناءً على الصور الآتية:



أفكر وأجيب

- ما المقصود بتجارة الترانزيت؟

أختبر معلوماتي

- من خلال دراستك لأهمية الموقع الجغرافي لدولة الإمارات العربية المتحدة، استخرج ما يأتي:

- 1- حقيقة جغرافية:
- 2- حقيقة اقتصادية:
- 3- حقيقة تاريخية:
- 4- نعمة نشكر الله عليها:

