

حان وقت المرح

هيا اختار الوقت الذي تشير له الساعة



1:30

2:30

3:30



4:30

5:30

6:30



4:00

5:00


6:00



10:00

11:00

12:00



8:30

9:30

10:30



7:00

8:00

9:00

الطماطم أقصر من الذرة ، و الذرة أطول من البطاطا.

اطول من

أقصر من

almanahj.com



هل الطماطم أطول أم أقصر من البطاطا ؟

الشجرة اطول من الزرافة ، و الزرافة أطول من الولد .

almanahj.com

اطول من

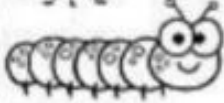
أقصر من



هل الشجرة أطول أم أقصر من الولد ؟

رتب الأجسام تبعاً للطول
من الأقصر إلى الأطول

1



2



3



4









6



5



 <input type="checkbox"/> 6:00 <input type="checkbox"/> 7:00 <input type="checkbox"/> 8:00 <input type="checkbox"/> 9:00	 <input type="checkbox"/> 2:00 <input type="checkbox"/> 3:00 <input type="checkbox"/> 4:00 <input type="checkbox"/> 5:00	 <input type="checkbox"/> 7:00 <input type="checkbox"/> 8:00 <input type="checkbox"/> 9:00 <input type="checkbox"/> 10:00
 <input type="checkbox"/> 11:00 <input type="checkbox"/> 12:00 <input type="checkbox"/> 13:00 <input type="checkbox"/> 14:00	 <input type="checkbox"/> 1:00 <input type="checkbox"/> 2:00 <input type="checkbox"/> 3:00 <input type="checkbox"/> 4:00	 <input type="checkbox"/> 7:00 <input type="checkbox"/> 8:00 <input type="checkbox"/> 9:00 <input type="checkbox"/> 10:00

اكتب الوقت الذي تظهره كل ساعة تناظرية


















Date: _____ Name: _____



ارسم عقرب الساعة الموضحة للساعة
الرقمية



8:30



1:30



10:00



4:00



5:30



11:30



9:00



6:30



7:30



3:00



Ms Makinson TpT, 2014