



النموذج التدريبي لمادة العلوم الفصل الدراسي الثالث الصف الثالث

www.almanahj.com

إدارة التقييم والامتحانات

2017
1438



تهيئة الطلاب لتطبيق الامتحانات

الهدف



إرشادات

www.almanahj.com

1. الاطلاع على النماذج التدريبية مسبقاً .
2. إمكانية توليد نماذج تدريبية على نمط النماذج المرفقة .
3. توظيف جهاز العرض في التدريب .
4. تنفيذ المفردات التدريبية بصورة فردية أو جماعية .
5. إنجاز التدريب ضمن الوقت المخصص قبل بداية الامتحان .



المفردات التدريبية:

أولا : حوِّط الاجابة الصحيحة.



(1) تسير الطائرة في خط:



(2) القوة الناتجة من وجود في فرامل الدراجة هي قوة:

مغناطيسية

جاذبية

احتكاك

www.almanahj.com

(3) أداة تستخدم لقياس الزمن:



(4) أي التالية آلة البكرة؟





المفردات التدريبيه:

5) في أي من التاليه لم يحدث تغير فيزيائي؟

تجمد الماء احتراق قطعة خشب صهر الفولاذ

ثانيا: ضع اشارة (✓) أو (✗):

6- الموقع هو مكان جسم معين. (....)

7- الاحتكاك هو القوة التي تشد الأجسام إلى أسفل. (....)

8- تسخين المادة يزيد من مقدار الطاقة الحرارية لدى الجسيمات. (....)

ثالثا: أرسم.

9- بطارية:






10- مصباح كهربائي:

انتهى التدريب

بالتوفيق والنجاح



إجابة المفردات التدريبية :

الإجابة	رقم المفردة
	1
احتكاك	2
	3
www.almanakj.com 	4
احتراق قطعة خشب	5
✓	6
✗	7
✓	8
	9
	10

انتهت الإجابة