

مراجعة الدرس الثاني جمهورية الهند الصف السادس – الجزء الثاني
إعداد المعلمة موزة الرئيسي
مدرسة آسيا بنت مزاحم

جميع الأسئلة اختيار من متعدد

1- تقع جمهورية الهند في -----

- A. جنوب قارة آسيا
- B. شرق قارة آسيا
- C. غرب قارة آسيا
- D. شمال قارة آسيا

2- منطقة جغرافية تشمل بلدان غرب آسيا ومصر وتطل على البحر الأحمر والخليج العربي والبحر المتوسط وبحر العرب

- A. الشرق الأقصى
- B. الشرق الأوسط
- C. الغرب الأقصى
- D. الغرب الأوسط

3- مصطلح جغرافي شاع استخدامه للإشارة إلى دول شرق آسيا

- A. الشرق الأقصى
- B. الشرق الأوسط
- C. الغرب الأقصى
- D. الغرب الأوسط

4- تطل الهند على مياه المحيط الهندي مما أدى إلى -----

- A. صعوبة اتصالها بالقارة الأفريقية
- B. بعد القارة الأفريقية عن الهند
- C. سهولة اتصالها بالقارة الأفريقية
- D. قلة التواصل مع القارات الأخرى

5- تجاور الهند من الشمال الغربي

A. الصين

B. النيبال

C. باكستان

D. بنغلاديش

6- تجاور الهند من جهة الشمال

A. الصين والنيبال

B. باكستان

C. بنغلاديش

D. المحيط الهندي

7- تجاور الهند من الشرق

A. الصين والنيبال

B. باكستان

C. بنغلاديش

D. المحيط الهندي

www.almanahj.com

8- خضعت الهند للتاج البريطاني ما يقارب ----- قبل أن تستقل عنه عام

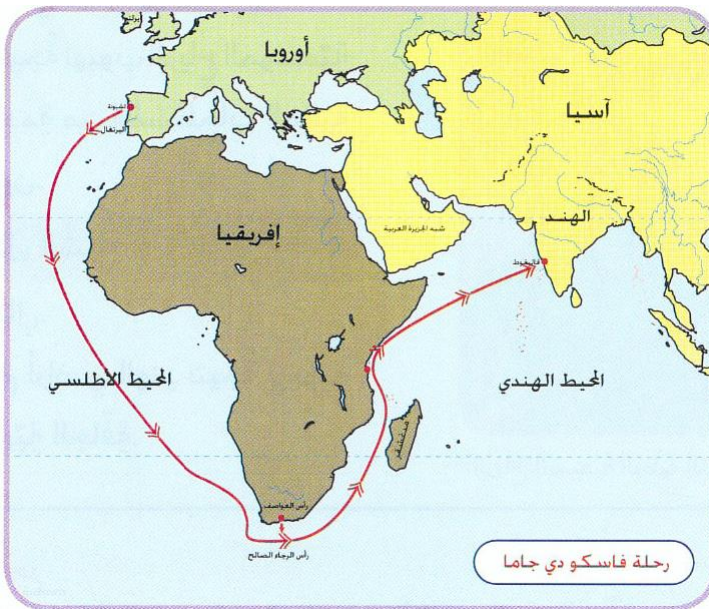
1947م

A. 50 عاماً

B. 70 عاماً

C. 90 عاماً

D. مائة عام



انظر إلى الخريطة

9- يعد فاسكو دي جاما أول من

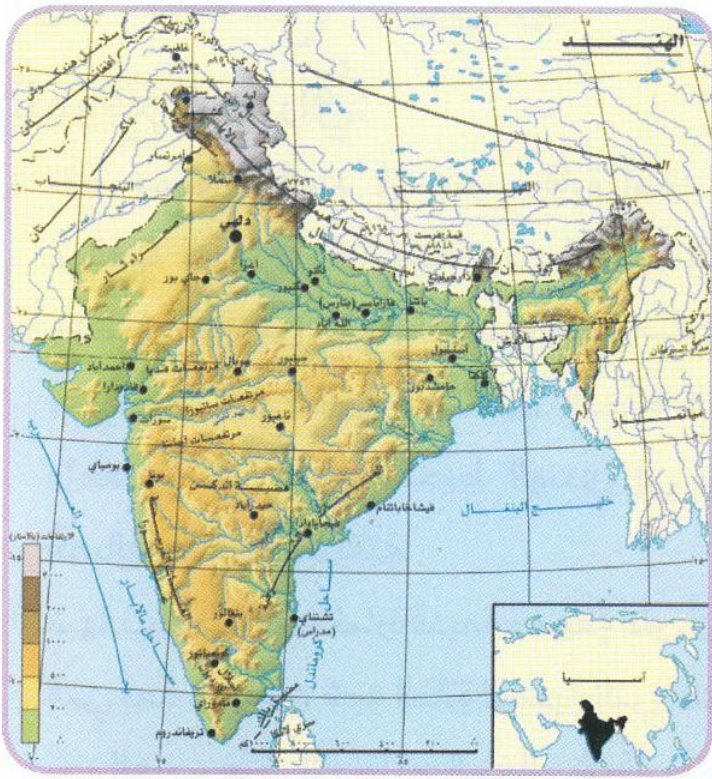
استخدم ----- للوصول للهند

A. مضيق هرمز

B. رأس الرجاء الصالح

C. مضيق جبل طارق

D. خليج عدن



انظر الخريطة ثم اجب
10- تعرف الجبال الشمالية بـ

- A. جبال الهيمالايا
- B. جبال سيكيم
- C. جبال جامو
- D. جبال كشمير

11- تعتبر جبال الهيمالايا بـ

- A. حاجز طبيعي بين الهند وباكستان
- B. حاجز طبيعي بين الهند والصين
- C. حاجز طبيعي بين الهند وبنغلاديش
- D. حاجز طبيعي بين الهند وروسيا

12- تعتبر جبال الهيمالايا حاجزاً مناخياً

- A. يحمي الهند من رياح شرق آسيا الباردة
- B. يحمي الهند من رياح غرب آسيا الباردة
- C. يحمي الهند من رياح وسط آسيا الباردة
- D. يحمي الهند من رياح شمال آسيا الباردة

www.almanabji.com

13- من مميزات سهول الهند الشمالية (هندوستان) والتي تقع جنوب الهيمالايا

- A. استواء السطح
- B. خصوبة التربة
- C. الازدحام البشري
- D. جميع ما ذكر

14- من أهم المدن الموجودة في سهول الهند الشمالية

- A. دلهي وكلكتا
- B. مومباي
- C. نيودلهي
- D. غوا و جايبور

انظر الخريطة ثم اجب

15- تشغل معظم شبه جزيرة الهند وهي هضبة بركانية

A. هضبة التبت

B. هضبة الدكن

C. هضاب ماديا براديش

D. جميع ما ذكر غير صحيح

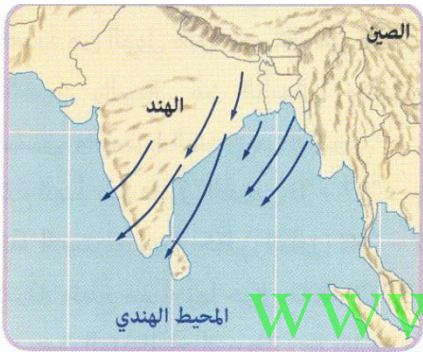
16- يتميز مناخ جمهورية الهند بأنه -----

A. موسمي يتصف بفصل كثير المطر في الشتاء وجاف في الصيف

B. موسمي يتصف بفصل ممطر في الشتاء والصيف

C. موسمي يتصف بفصل جاف شتاء وفصل مطير صيفاً

D. موسمي يتصف بقلة المطر في فصل الشتاء والصيف



▷ الرياح الشتوية الجافة التي تهب من اليابس إلى البحر

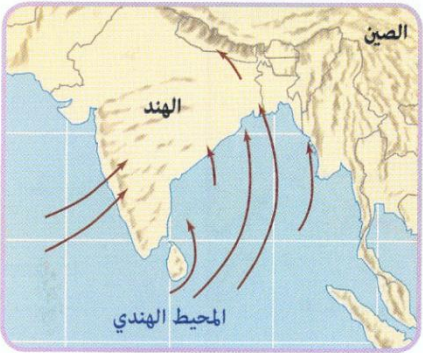
17- فصل الصيف في الهند يتميز بسقوط أمطار غزيرة

A. نتيجة لهبوب الرياح الموسمية الجنوبية الغربية

B. نتيجة لهبوب الرياح الشمالية الغربية الجافة

C. نتيجة لهبوب الرياح الغربية الجافة

D. نتيجة لهبوب الرياح الجنوبية



▷ الرياح الصيفية الرطبة التي تهب من البحر إلى اليابس

18- فسر سبب جفاف فصل الشتاء

A. الرياح تهب من البحر إلى اليابس

B. الرياح تهب من اليابس إلى البحر

C. الرياح لا تهب

D. رياح موسمية جنوبية غربية

19- يحتل سكان الهند المرتبة ----- من حيث عدد السكان والكثافة في العالم

A. الرابعة

B. السابعة

C. الأولى

D. الثانية

- 15- يعني زيادة أعداد السكان الكبيرة بالمقارنة مع الموارد المتاحة
- الانفجار السكاني
 - توزيع السكان
 - كثرة السكان
 - عدد السكان

- 16- يتركز السكان في الهند في المدن الكبيرة مثل -----
- نيودلهي
 - مومباي
 - كلكتا
 - جميع ما ذكر صحيح

17- عاصمة الهند هي

www.almanahj.com

- مومباي
- كلكتا
- نيودلهي
- حيدر أباد

- 18- هي ليست من الآثار السلبية في زيادة عدد السكان في الهند
- الضغط على الخدمات والموارد
 - ارتفاع البطالة وانتشار المشكلات الاقتصادية والاجتماعية
 - نقص الأغذية والرعاية الصحية والاجتماعية
 - ارتفاع مستوى خل الفرد السنوي

19- أدى الانفجار السكاني في الهند إلى أسباب عدة مثل

- اقبال الكثير إلى التعليم
- ارتفاع نسبة الغنى
- ارتفاع الإقبال على الزواج في سن مبكرة
- قلة البطالة

20- تعتبر واجهة الاقتصاد الهندي الحديث وأسرع القطاعات نمواً

A. السياحة

B. التجارة

C. تكنولوجيا المعلومات

D. الصناعة

21- يحتل الاقتصاد الهندي المركز ---- عالمياً من حيث تبادل العملات

A. السابع

B. الثامن

C. التاسع

D. العاشر

22- تحتل المركز ----- من حيث القوة الشرائية

A. الرابع

B. الثالث

C. الخامس

D. السادس

www.almanahj.com

23- ما أسباب انخفاض مستوى دخل الفرد في الهند

A. نظراً لزيادة العمالة الوافدة

B. نظراً لارتفاع عدد السكان

C. لتركز السكان في أماكن محددة

D. بسبب انتشار البطالة

24- تصنف الهند ك----- أكبر اقتصاد في ناتجها المحلي الإجمالي

A. تاسع

B. سابع

C. عاشر

D. ثامن

- 25- الأنشطة التي يقوم بها الإنسان في المجالات الاقتصادية المختلفة كالزراعة والرعي والصناعة
- A. الأنشطة المتنوعة
 - B. الأنشطة البشرية
 - C. الأنشطة الطبيعية
 - D. الأنشطة المحلية

- 26- هو المؤشر الاقتصادي يقيس القيمة النقدية لإجمالي السلع والخدمات التي أنتجت داخل حدود منطقة جغرافية ما خلال مدة زمنية محددة
- A. الناتج المحلي الاجمالي
 - B. الناتج العالمي الاجمالي
 - C. الناتج الطبيعي الاجمالي
 - D. دخل الفرد

- 27- هو إجمالي ما يحصل عليه الانسان من عمله الذي يعمل فيه وهو الدخل الذي يعتمد عليه الانسان حتى يستطيع أداء واجباته ومسؤولياته والحصول على احتياجاته
- A. الدخل الفردي
 - B. الدخل السنوي
 - C. الدخل الشهري
 - D. الدخل العالمي

- 28- تزرع نصف أراضي الهند بـ -----
- A. الفواكه
 - B. الخضروات
 - C. الحبوب الغذائية
 - D. قصب السكر

- 29- فسر توجد في الهند ثروة حيوانية ضخمة
- A. لاستغلال سكانها بالزراعة والرعي
 - B. وفرة مصادر الطاقة التقليدية
 - C. لكثرة المراعي الطبيعية
 - D. كثرة الأمطار

30- الحيوان الذي لا ينتمي للحيوانات المهمة في الثروة الحيوانية في الهند

- A. الأبقار
- B. الأغنام
- C. الأسود
- D. الطيور والدواجن

31- من مصادر الطاقة التقليدية في الهند

- A. طاقة الرياح
- B. الطاقة الشمسية
- C. الفحم
- D. المياه

32- تعتبر الهند من الدول العشرين الناشئة والسبب

- A. امتلاك مقومات الصناعة الحديثة كالأيدي العاملة
- B. وجود الخبرة الفنية
- C. ووجود المواد الخام اللازمة للصناعة
- D. جميع ما ذكر

www.almanahj.com

33- ليست من الصادرات التي تصدرها الهند

- A. النفط الخام
- B. المنسوجات
- C. المنتجات الكيماوية
- D. الخدمات وتقنيات البرمجة

34- تعد عاصمة الهند التكنولوجية

- A. نيودلهي
- B. مومباي
- C. بنغالور
- D. حيدر أباد

- 35- فسر نمو السياحة في الهند بشكل كبير وتعتبر لها اهمية اقتصادية
- قلة التنوع المناخي والتضاريس
 - تنوع المناخ والتضاريس
 - الطبيعة والمناظر غير متوفرة بشكل كبير
 - لقلة المتاحف والأماكن الأثرية

- 36- يعتبر تاج محل أعجوبة من -----
- عجائب الدنيا الخمس
 - عجائب الدنيا الثلاث
 - عجائب الدنيا الثمان
 - عجائب الدنيا السبع

- 37- قام ----- بزيارة تاريخية للهند عام 1975م
- الشيخ محمد بن زايد
 - الشيخ محمد بن راشد
 - الشيخ زايد بن سلطان
 - الشيخ خليفة بن زايد

- 38- زيارة رئيس وزراء الهند للدولة التي تعد الأولى منذ 34 عاماً تدل على
- شراكة استراتيجية جديدة وشاملة بين الهند ودولة الامارات
 - التخوف من التحديات والمتغيرات
 - السعادة في ربط التواصل
 - نمو الاقتصاد العالمي

- 39- من أهم مجالات التعاون بين الهند والإمارات التقنيات فيتركز الاستثمار في
- الأحجار الكريمة
 - برامج الكمبيوتر
 - الأخشاب
 - المعادن

مراجعة الدرس الثاني جمهورية الهند الصف السادس – الجزء الثاني
إعداد المعلمة موزة الرئيسي
مدرسة آسيا بنت مزاحم

جميع الأسئلة اختيار من متعدد

1- تقع جمهورية الهند في -----

A. جنوب قارة آسيا

B. شرق قارة آسيا

C. غرب قارة آسيا

D. شمال قارة آسيا

2- منطقة جغرافية تشمل بلدان غرب آسيا ومصر وتطل على البحر الأحمر والخليج العربي والبحر المتوسط وبحر العرب

A. الشرق الأقصى

B. الشرق الأوسط

C. الغرب الأقصى

D. الغرب الأوسط

3- مصطلح جغرافي شاع استخدامه للإشارة إلى دول شرق آسيا

A. الشرق الأقصى

B. الشرق الأوسط

C. الغرب الأقصى

D. الغرب الأوسط

4- تطل الهند على مياه المحيط الهندي مما أدى إلى -----

A. صعوبة اتصالها بالقارة الأفريقية

B. بعد القارة الأفريقية عن الهند

C. سهولة اتصالها بالقارة الأفريقية

D. قلة التواصل مع القارات الأخرى

5- تجاور الهند من الشمال الغربي

A. الصين

B. النيبال

C. باكستان

D. بنغلاديش

6- تجاور الهند من جهة الشمال

A. الصين والنيبال

B. باكستان

C. بنغلاديش

D. المحيط الهندي

7- تجاور الهند من الشرق

A. الصين والنيبال

B. باكستان

C. بنغلاديش

D. المحيط الهندي

www.almanahj.com

8- خضعت الهند للتاج البريطاني ما يقارب ----- قبل أن تستقل عنه عام

1947م

A. 50 عاماً

B. 70 عاماً

C. 90 عاماً

D. مائة عام

انظر إلى الخريطة

9- يعد فاسكو دي جاما أول من

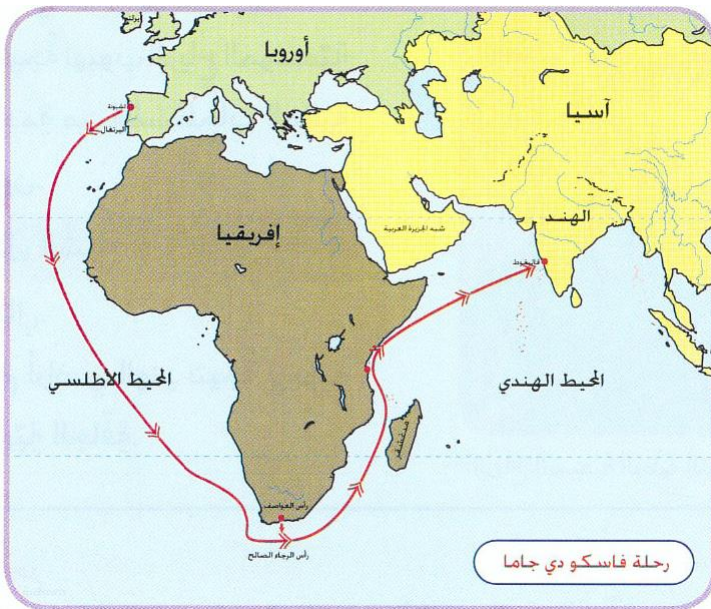
استخدم ----- للوصول للهند

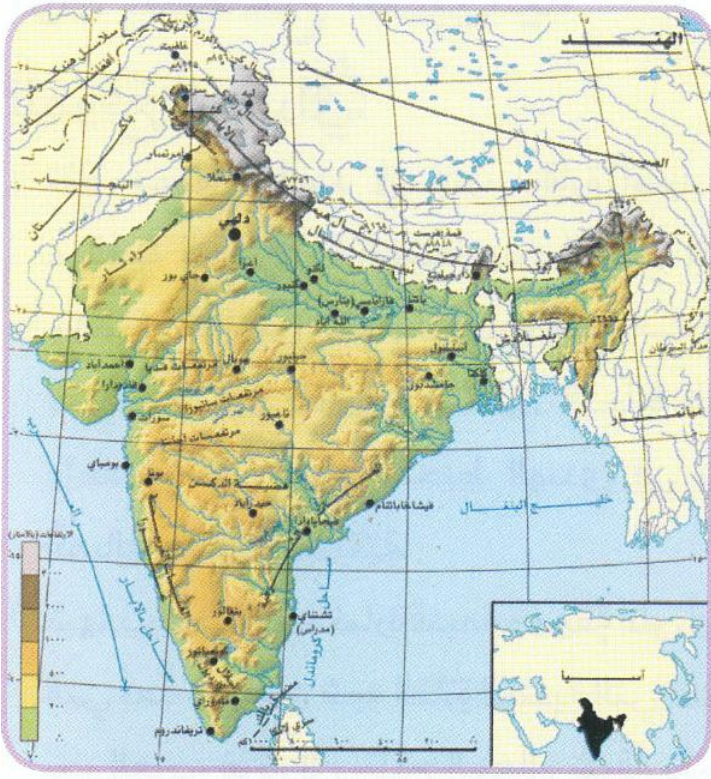
A. مضيق هرمز

B. رأس الرجاء الصالح

C. مضيق جبل طارق

D. خليج عدن





انظر الخريطة ثم اجب
10- تعرف الجبال الشمالية بـ

- A. جبال الهيمالايا
- B. جبال سيكيم
- C. جبال جامو
- D. جبال كشمير

11- تعتبر جبال الهيمالايا بـ

- A. حاجز طبيعي بين الهند وباكستان
- B. حاجز طبيعي بين الهند والصين
- C. حاجز طبيعي بين الهند وبنغلاديش
- D. حاجز طبيعي بين الهند وروسيا

12- تعتبر جبال الهيمالايا حاجزاً مناخياً

- A. يحمي الهند من رياح شرق آسيا الباردة
- B. يحمي الهند من رياح غرب آسيا الباردة
- C. يحمي الهند من رياح وسط آسيا الباردة
- D. يحمي الهند من رياح شمال آسيا الباردة

13- من مميزات سهول الهند الشمالية (هندوستان) والتي تقع جنوب الهيمالايا

- A. استواء السطح
- B. خصوبة التربة
- C. الازدحام البشري
- D. جميع ما ذكر

14- من أهم المدن الموجودة في سهول الهند الشمالية

- A. دلهي وكلكتا
- B. ممباي
- C. نيودلهي
- D. غوا و جايبور

انظر الخريطة ثم اجب

15- تشغل معظم شبه جزيرة الهند وهي هضبة بركانية

A. هضبة التبت

B. هضبة الدكن

C. هضاب ماديا براديش

D. جميع ما ذكر غير صحيح

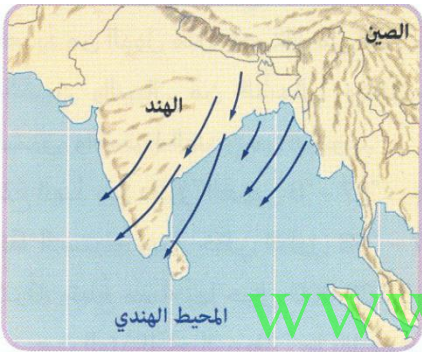
16- يتميز مناخ جمهورية الهند بأنه -----

A. موسمي يتصف بفصل كثير المطر في الشتاء وجاف في الصيف

B. موسمي يتصف بفصل ممطر في الشتاء والصيف

C. موسمي يتصف بفصل جاف شتاء وفصل مطير صيفاً

D. موسمي يتصف بقلة المطر في فصل الشتاء والصيف



الرياح الشتوية الجافة التي تهب من اليابس إلى البحر

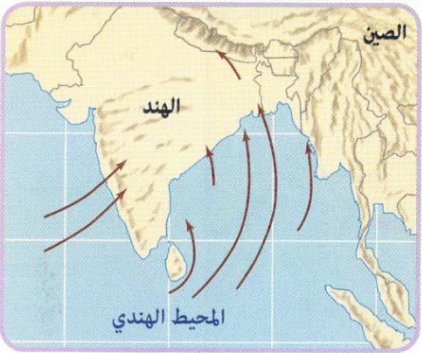
17- فصل الصيف في الهند يتميز بسقوط أمطار غزيرة

A. نتيجة لهبوب الرياح الموسمية الجنوبية الغربية

B. نتيجة لهبوب الرياح الشمالية الغربية الجافة

C. نتيجة لهبوب الرياح الغربية الجافة

D. نتيجة لهبوب الرياح الجنوبية



الرياح الصيفية الرطبة التي تهب من البحر إلى اليابس

18- فسر سبب جفاف فصل الشتاء

A. الرياح تهب من البحر إلى اليابس

B. الرياح تهب من اليابس إلى البحر

C. الرياح لا تهب

D. رياح موسمية جنوبية غربية

19- يحتل سكان الهند المرتبة ----- من حيث عدد السكان والكثافة في العالم

A. الرابعة

B. السابعة

C. الأولى

D. الثانية

- 15- يعني زيادة أعداد السكان الكبيرة بالمقارنة مع الموارد المتاحة
- A. الانفجار السكاني
 - B. توزيع السكان
 - C. كثرة السكان
 - D. عدد السكان

- 16- يتركز السكان في الهند في المدن الكبيرة مثل -----
- A. نيودلهي
 - B. مومباي
 - C. كلكتا
 - D. جميع ما ذكر صحيح

- 17- عاصمة الهند هي
- A. مومباي
 - B. كلكتا
 - C. نيودلهي
 - D. حيدر أباد

www.almanahj.com

- 18- هي ليست من الآثار السلبية في زيادة عدد السكان في الهند
- A. الضغط على الخدمات والموارد
 - B. ارتفاع البطالة وانتشار المشكلات الاقتصادية والاجتماعية
 - C. نقص الأغذية والرعاية الصحية والاجتماعية
 - D. ارتفاع مستوى خل الفرد السنوي

- 19- أدى الانفجار السكاني في الهند إلى أسباب عدة مثل
- A. اقبال الكثير إلى التعليم
 - B. ارتفاع نسبة الغنى
 - C. ارتفاع الإقبال على الزواج في سن مبكرة
 - D. قلة البطالة

- 20- تعتبر واجهة الاقتصاد الهندي الحديث وأسرع القطاعات نمواً
- A. السياحة
 - B. التجارة
 - C. تكنولوجيا المعلومات
 - D. الصناعة

- 21- يحتل الاقتصاد الهندي المركز ---- عالمياً من حيث تبادل العملات
- A. السابع
 - B. الثامن
 - C. التاسع
 - D. العاشر

- 22- تحتل المركز ----- من حيث القوة الشرائية
- A. الرابع
 - B. الثالث
 - C. الخامس
 - D. السادس

www.almanahj.com

- 23- ما أسباب انخفاض مستوى دخل الفرد في الهند
- A. نظراً لزيادة العمالة الوافدة
 - B. نظراً لارتفاع عدد السكان
 - C. لتركز السكان في أماكن محددة
 - D. بسبب انتشار البطالة

- 24- تصنف الهند ك----- أكبر اقتصاد في ناتجها المحلي الإجمالي
- A. تاسع
 - B. سابع
 - C. عاشر
 - D. ثامن

- 25- الأنشطة التي يقوم بها الإنسان في المجالات الاقتصادية المختلفة كالزراعة والرعي والصناعة
- A. الأنشطة المتنوعة
 - B. الأنشطة البشرية
 - C. الأنشطة الطبيعية
 - D. الأنشطة المحلية

- 26- هو المؤشر الاقتصادي يقيس القيمة النقدية لإجمالي السلع والخدمات التي أنتجت داخل حدود منطقة جغرافية ما خلال مدة زمنية محددة
- A. الناتج المحلي الاجمالي
 - B. الناتج العالمي الاجمالي
 - C. الناتج الطبيعي الاجمالي
 - D. دخل الفرد

- 27- هو إجمالي ما يحصل عليه الانسان من عمله الذي يعمل فيه وهو الدخل الذي يعتمد عليه الانسان حتى يستطيع أداء واجباته ومسؤولياته والحصول على احتياجاته
- A. الدخل الفردي
 - B. الدخل السنوي
 - C. الدخل الشهري
 - D. الدخل العالمي

- 28- تزرع نصف أراضي الهند بـ -----
- A. الفواكه
 - B. الخضروات
 - C. الحبوب الغذائية
 - D. قصب السكر

- 29- فسر توجد في الهند ثروة حيوانية ضخمة
- A. لاستغلال سكانها بالزراعة والرعي
 - B. وفرة مصادر الطاقة التقليدية
 - C. لكثرة المراعي الطبيعية
 - D. كثرة الأمطار

- 30- الحيوان الذي لا ينتمي للحيوانات المهمة في الثروة الحيوانية في الهند
- A. الأبقار
 - B. الأغنام
 - C. الأسود
 - D. الطيور والدواجن

- 31- من مصادر الطاقة التقليدية في الهند
- A. طاقة الرياح
 - B. الطاقة الشمسية
 - C. الفحم
 - D. المياه

- 32- تعتبر الهند من الدول العشرين الناشئة والسبب
- A. امتلاك مقومات الصناعة الحديثة كالأيدي العاملة
 - B. وجود الخبرة الفنية
 - C. ووجود المواد الخام اللازمة للصناعة
 - D. جميع ما ذكر

- 33- ليست من الصادرات التي تصدرها الهند
- A. النفط الخام
 - B. المنسوجات
 - C. المنتجات الكيماوية
 - D. الخدمات وتقنيات البرمجة

- 34- تعد عاصمة الهند التكنولوجية
- A. نيودلهي
 - B. مومباي
 - C. بنغالور
 - D. حيدر أباد

- 35- فسر نمو السياحة في الهند بشكل كبير وتعتبر لها اهمية اقتصادية
- A. قلة التنوع المناخي والتضاريس
 - B. تنوع المناخ والتضاريس
 - C. الطبيعة والمناظر غير متوفرة بشكل كبير
 - D. لقلة المتاحف والأماكن الأثرية

- 36- يعتبر تاج محل أعجوبة من -----
- A. عجائب الدنيا الخمس
 - B. عجائب الدنيا الثلاث
 - C. عجائب الدنيا الثمان
 - D. عجائب الدنيا السبع

- 37- قام ----- بزيارة تاريخية للهند عام 1975م
- A. الشيخ محمد بن زايد
 - B. الشيخ محمد بن راشد
 - C. الشيخ زايد بن سلطان
 - D. الشيخ خليفة بن زايد

- 38- زيارة رئيس وزراء الهند للدولة التي تعد الأولى منذ 34 عاماً تدل على
- A. شراكة استراتيجية جديدة وشاملة بين الهند ودولة الامارات
 - B. التخوف من التحديات والمتغيرات
 - C. السعادة في ربط التواصل
 - D. نمو الاقتصاد العالمي

- 39- من أهم مجالات التعاون بين الهند والإمارات التقنيات فيتركز الاستثمار في
- A. الأحجار الكريمة
 - B. برامج الكمبيوتر
 - C. الأخشاب
 - D. المعادن