

كل ما يحتاجه الطالب في جميع الصفوف من أوراق عمل واختبارات ومذكرات، يجده هنا في الروابط التالية لأفضل مواقع تعليمي إماراتي 100 %

| <u>تطبيق المناهج الإماراتية</u> | <u>الاجتماعيات</u> | <u>الرياضيات</u> |
|---------------------------------------|--------------------------|--------------------------|
| <u>الصفحة الرسمية على التلغرام</u> | <u>الاسلامية</u> | <u>العلوم</u> |
| <u>الصفحة الرسمية على الفيسبوك</u> | <u>الانجليزية</u> | |
| <u>التربية الاخلاقية لجميع الصفوف</u> | <u>اللغة العربية</u> | |
| <u>التربية الرياضية</u> | | |
| مجموعات التلغرام. | مجموعات الفيسبوك | قنوات تلغرام |
| <u>الصف الأول</u> | <u>الصف الأول</u> | <u>الصف الأول</u> |
| <u>الصف الثاني</u> | <u>الصف الثاني</u> | <u>الصف الثاني</u> |
| <u>الصف الثالث</u> | <u>الصف الثالث</u> | <u>الصف الثالث</u> |
| <u>الصف الرابع</u> | <u>الصف الرابع</u> | <u>الصف الرابع</u> |
| <u>الصف الخامس</u> | <u>الصف الخامس</u> | <u>الصف الخامس</u> |
| <u>الصف السادس</u> | <u>الصف السادس</u> | <u>الصف السادس</u> |
| <u>الصف السابع</u> | <u>الصف السابع</u> | <u>الصف السابع</u> |
| <u>الصف الثامن</u> | <u>الصف الثامن</u> | <u>الصف الثامن</u> |
| <u>الصف التاسع عام</u> | <u>الصف التاسع عام</u> | <u>الصف التاسع عام</u> |
| <u>الصف التاسع متقدم</u> | <u>الصف التاسع متقدم</u> | <u>الصف التاسع متقدم</u> |
| <u>الصف العاشر عام</u> | <u>الصف العاشر عام</u> | <u>الصف العاشر عام</u> |
| <u>الصف العاشر متقدم</u> | <u>الصف العاشر متقدم</u> | <u>الصف العاشر متقدم</u> |
| <u>الحادي عشر عام</u> | <u>الحادي عشر عام</u> | <u>الحادي عشر عام</u> |
| <u>الحادي عشر متقدم</u> | <u>الحادي عشر متقدم</u> | <u>الحادي عشر متقدم</u> |
| <u>ثاني عشر عام</u> | <u>الثاني عشر عام</u> | <u>الثاني عشر عام</u> |
| <u>ثاني عشر متقدم</u> | <u>ثاني عشر متقدم</u> | <u>ثاني عشر متقدم</u> |



الإمارات العربية المتحدة
وزارة التربية والتعليم



عام التسامح

2018 - 2019

نسخة المعلم

10



McGraw-Hill Education

الرياضيات

المسار المتقدّم

نسخة الإمارات العربية المتحدة

www.almanahj.com

Mc
Graw
Hill
Education



358 /





نسخة المعلم

McGraw-Hill Education

الرياضيات

المسار المتقدّم

نسخة الإمارات العربية المتحدة
www.almanahj.com

2018 - 2019

10




Mc
Graw
Hill
Education



358 /

2



Project: McGraw-Hill Education United Arab Emirates Edition Grade 10 Advanced Math Vol.3
FM. , from Integrated Math 1
9. Rational Functions and Relations, from Algebra 2 Chapter 8 © 2014
10. Trigonometric Functions, from Algebra 2 Chapter 12 © 2014
11. Trigonometric Identities and Equations, from Algebra 2 Chapter 13 © 2014
12. Sequences and Series, from Algebra 2 Chapter 10 © 2014
EM. , from Integrated Math 1

www.almanahj.com صورة الغلاف: hunthomas/Shutterstock.com
mheducation.com/prek-12



جميع الحقوق محفوظة © للعام 2019 لصالح مؤسسة McGraw-Hill Education

جميع الحقوق محفوظة. لا يجوز إعادة إنتاج أي جزء من هذا المنشور أو توزيعه في أي صورة أو بأي وسيلة كانت أو تخزينه في قاعدة بيانات أو نظام استرداد من دون موافقة خطية مسبقة من McGraw-Hill Education. بما في ذلك، على سبيل المثال لا الحصر، التخزين على الشبكة أو الإرسال عبرها أو البث لأغراض التعليم عن بعد.

الحقوق الحصرية للتصنيع والتصدير عائدة لمؤسسة McGraw-Hill Education. لا يمكن إعادة تصدير هذا الكتاب من البلد الذي باعتته له McGraw-Hill Education. هذه النسخة الإقليمية غير متاحة خارج أوروبا والشرق الأوسط وإفريقيا.

النسخة الإلكترونية

رقم النشر الدولي: 978-1-52-688232-5 (نسخة الطالب)
MHID: 1-52-688232-9 (نسخة الطالب)
رقم النشر الدولي: 978-1-52-688234-9 (نسخة المعلم)
MHID: 1-52-688234-5 (نسخة المعلم)

طُبِعَ في دولة الإمارات العربية المتحدة.

رقم النشر الدولي: 978-1-52-688228-8 (نسخة الطالب)
MHID: 1-52-688228-0 (نسخة الطالب)
رقم النشر الدولي: 978-1-52-688230-1 (نسخة المعلم)
MHID: 1-52-688230-2 (نسخة المعلم)

1 2 3 4 5 6 7 8 9 XXX 22 21 20 19 18 17



358 /

3



الدوال والعلاقات النسبية

9

| | |
|---------|--|
| 618 | الاستعداد للوحدة 9 |
| 621 | 9-1 ضرب التعابير النسبية وقسمتها |
| 630 | 9-2 جمع التعابير النسبية وطرحها |
| 637 | 9-3 تمثيل دوال المقلوب بيانياً |
| 644 | ■ اختبار منتصف الوحدة |
| 645 | 9-4 التمثيل البياني للدوال النسبية |
| 653 | ■ التوسع: مختبر تقنية التمثيل البياني للدوال النسبية |
| 654 | 9-5 دوال التغير |
| 662 | 9-6 حل المعادلات والمتباينات النسبية |
| 671 | ■ التوسع: مختبر تقنية التمثيل البياني حل المعادلات والمتباينات النسبية |
| التقييم | |
| 673 | ■ دليل الدراسة والمراجعة |
| 677 | ■ تدريب على الاختبار |
| 678 | ■ التحضير للاختبارات المعيارية |
| 680 | ■ تدريب على الاختبارات المعيارية |

www.almanahj.com





وتيرة التقدم المقترحة

| الإجمالي | المراجعة والتقييم | شرح الدروس | الفترة الزمنية |
|----------|-------------------|------------|----------------|
| 11 يوماً | يوماً | 9 أيام | 45 دقيقة |
| 5 أيام | يوماً واحداً | 4 أيام | 90 دقيقة |

| اختصاص 9-4 | اختصاص 9-5 | اختصاص 9-6 | اختصاص 9-6 | اختصاص 9-6 |
|--|--|---|---|---|
| مختبر تقنية التمثيل البياني: التمثيل البياني للدوال النسبية | دوال التغير | حل المعادلات والمتباينات النسبية | مختبر تقنية التمثيل البياني: حل المعادلات والمتباينات النسبية | مختبر تقنية التمثيل البياني: حل المعادلات والمتباينات النسبية |
| <ul style="list-style-type: none"> استخدم حاسبة التمثيل البياني لاستكشاف التمثيلات البيانية للدوال النسبية. | <ul style="list-style-type: none"> التعرف على مسائل التغير الطردي والمشتك وحلها. التعرف على مسائل التغير العكسي والتركب وحلها. | <ul style="list-style-type: none"> حل المعادلات النسبية. حل المتباينات النسبية. | <ul style="list-style-type: none"> استخدم حاسبة التمثيل البياني لحل المعادلات النسبية من خلال التمثيل البياني أو من خلال استخدام حاسبة الجدول. | <ul style="list-style-type: none"> استخدم حاسبة التمثيل البياني لحل المعادلات النسبية من خلال التمثيل البياني أو من خلال استخدام حاسبة الجدول. |
| | تغير طردي direct variation ثابت التغير constant of variation | معادلات نسبية rational equations متباينات نسبية rational inequalities المتوسط المرجح weighted average | | |

www.almanahj.com

التقييم الختامي
 دليل الدراسة والمراجعة
 يدرس على الاختبار



| سُبل الحل | التشخيص |
|--|---|
| <p>بداية الوحدة 9</p> <p>الاستجابة للتدخل التقييمي كتاب المعلم</p> | <p>الاستعداد للوحدة 9 كتاب الطالب</p> |
| <p>بداية كل درس</p> <p>كتاب الطالب</p> | <p>السابق. الحالي. لماذا؟ كتاب الطالب</p> |
| <p>أثناء/بعد كل درس</p> <p>التدريس المتميز كتاب المعلم</p> | <p>تربيت موجه كتاب الطالب. كل مثال التحقق من فهمك كتاب الطالب مسائل مهارات التفكير العليا كتاب الطالب مراجعة شاملة كتاب الطالب أمثلة إضافية كتاب المعلم انتم! كتاب المعلم الخطوة 4. التقييم كتاب المعلم</p> |
| <p>منتصف الوحدة</p> <p>اختبار ما قبل الوحدة</p> | <p>اختبار منتصف الوحدة كتاب الطالب</p> <p>دليل الدراسة والرابعة للوحدة كتاب الطالب تدريب على الاختبار كتاب الطالب تدريب على الاختبارات المعيارية كتاب الطالب</p> |



مطويات منظم الدراسة

مطويات دينا زاويك®
 التركيز يكتب الطلاب ملاحظات عن الدوال والعلاقات النسبية في هذه الوحدة.

التدريس اطلب من الطلاب عمل المطويات وتسميتها حسبما هو موضح. ينبغي أن يستخدم الطلاب السطور البنائية لتدوين ملاحظاتهم وأملتهم الخاصة بالمفاهيم في كل درس من الوحدة.

وقت الاستخدام شجّع الطلاب على إضافة المزيد إلى المطويات أثناء دراسة الوحدة وعلى استخدام تلك المطويات عند المراجعة للاستعداد لاختبار الوحدة.

البدء في هذه الوحدة

سوف تتعلم عدة مفاهيم ومهارات ومفردات جديدة خلال دراستك للوحدة 9. للاستعداد، حدد المصطلحات المهمة ونظّم مواردك. قد ترغب بالرجوع إلى وحدات سابقة لمراجعة المهارات المطلوبة.

مطويات منظم الدراسة

الدوال والعلاقات النسبية اصنع هذه المطوية لمساعدتك على تنظيم ملاحظتك عن الوحدة 9 عن الدوال والعلاقات النسبية. ابدأ بكتابة رسم بياني مناسب $8\frac{1}{2} \times 11$

1 اطوها إلى ثلاثة بطول.



2 اطو الطرف العلوي للأعلى بحيث تصبح طويلاً أعلى طرفه 2". قص الشوبيات بالطول.



3 سمّ القنويات الخارجية بالمصطلحات التعامير، والدوال، والمعادلات. استخدم القنويات الداخلية ككتابة التعاريف والملاحظات.



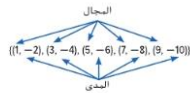
4 اكتب مثلاً عن كل موضوع في الفسحة أسفل كل قنوية.

المفردات الجديدة

- rational expression تعبير نسبي
- complex fraction كسر مركب
- reciprocal function دالة المقلوب
- hyperbola قطع زائد
- rational function دالة نسبية
- vertical asymptote خط تقارب رأسي
- horizontal asymptote خط تقارب أفقي
- oblique asymptote خط تقارب مائل
- point discontinuity نقطة الانقطاع
- direct variation تغير طردي
- constant of variation ثابت التغير
- joint variation التغير المشترك
- inverse variation التغير العكسي
- combined variation التغير المتوافق
- rational equation معادلة نسبية
- weighted average المتوسط الحسابي المرجح
- rational inequality متباينة نسبية

مراجعة المصطلحات

الدائر عددهم يكون فيها كل عنصر من المجال يحسب واحد فقط من المخرجات.



المضاعف المشترك الأصغر هو أصغر عدد مضاعف مشترك لعددين أو أكثر.
 العدد النسبي هو عدد يتم التعبير عنه بالصورة $\frac{a}{b}$ حيث $b \neq 0$ و b عدنان صحيحان و $b \neq 0$





9-1 ضرب التعبيرات النسبية وقسمتها

1 التركيز

التخطيط الرئيسي

قبل الدرس 9-1 تحليل كثيرات الحدود إلى عواملها.

الدرس 9-1 تبسيط التعبيرات النسبية لأبسط صورة. تحويل الكسور المركبة لأبسط صورة.

بعد الدرس 9-1 إيجاد حل المعادلات النسبية.

2 التدريس

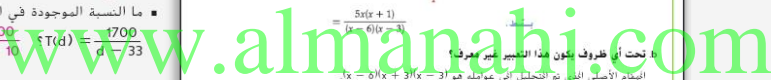
أسئلة داعمة

اطلب من الطلاب قراءة قسم لماذا؟ الوارد في هذا الدرس.

أسأل:

كيف يمكن للمصطلح تعبير نسبي أن يساعدك في تحديد ما يعنيه؟ "نسبي" يشتغل على كلمة "نسبة".

ما النسبة الموجودة في الدالة $\frac{1700}{d-10} = \frac{1700}{d-33}$ ؟



السابق

التحليل إلى عوامل كثيرات الحدود.

الحالي

1 تحويل التعبيرات النسبية لأبسط صورة.
2 تحويل الكسور المركبة لأبسط صورة.

لماذا؟

إذا نزل غواص إلى أعماق أكبر من 10 مترات، فإن المدة النسبية $T(d) = \frac{1700}{d-10}$ تمثل أقصى مدة يستطيع الغواص خلالها البقاء في هذه الأعماق والتمتعود إلى السطح بعدد ثابت دون توقف. مثل $T(4)$ مدة الغطس بالمظلي. ومثل $T(6)$ الغسق بالمتر.



مفردات جديدة

التعبير النسبي
rational expression
الكسر المركب
complex fraction

ممارسات في الرياضيات
8 البحث عن التوافق في الاستنتاجات المتكررة والتعبير عن ذلك.

1 تحويل التعبيرات النسبية لأبسط صورة

يطلق على النسبة بين تعبيرين كثيري الحدود مثل $\frac{1700}{d-10}$ اسم **تعبير نسبي**. ونظراً لأن المتغيرات في الجبر غالباً ما تمثل أعداداً حقيقية، فإن العمليات على الأعداد النسبية والمتعاضد النسبية متشابهة. ومثلما هو الأمر مع اختزال الكسور، فإنك تقوم بقسمة البسط والمقام على العامل المشترك الأكبر لتحويل التعبير النسبي لأبسط صورة.

$$\frac{\frac{8}{12} \cdot \frac{2 \cdot 4}{3 \cdot 4} = \frac{2}{3}}{\frac{x^2 - 4x + 3}{x^2 - 6x + 5} = \frac{(x-3)(x-1)}{(x-5)(x-1)} = \frac{(x-3)}{(x-5)}}$$

العامل المشترك الأكبر = 4 العامل المشترك الأكبر = (x-1)

مثال 1 تحويل التعبير النسبي لأبسط صورة

h. حوّل أبسط صورة $\frac{5x(x^2 + 4x + 3)}{(x-6)(x^2 - 9)}$

التحليل إلى عوامل البسط والمقام.

$$\frac{5x(x^2 + 4x + 3)}{(x-6)(x^2 - 9)} = \frac{5x(x+3)(x+1)}{(x-6)(x+3)(x-3)} = \frac{5x(x+1)}{(x-6)(x-3)}$$

حذف العوامل المشتركة.

تحت أي ظروف يكون هذا التعبير غير معرف؟

انقسام الأعداد التي تم التحليل إلى عوامله هو $x-6$ ، $x+3$ ، $x-3$ ، $x-6$ ، $x+3$ ، $x-3$. حدد القيمة التي تجعل المقام مساوياً للصفر. هذه القيمة هي 6 أو -3 أو 3. إذا لم يكن التعبير غير معرف عندما تكون $x = 6$ أو $x = -3$ أو $x = 3$.

تمرين هـ-5، $x \neq 1, 2, 3$ 1B. $2z(z+4)$
 $(z-1)$ $(y+2)$ 1A. $\frac{4y(y+4)}{(y+2)}$ ، $y \neq 0, -2, 3$

حوّل كل تعبير أبسط صورة. تحت أي ظروف يكون التعبير غير معرف؟
1A. $\frac{4y(y-3)(y+4)}{y(y^2-y-6)}$ 1B. $\frac{2z(z+5)(z^2+2z-8)}{(z-1)(z+5)(z-2)}$



1 تحويل التعابير النسبية لأبسط صورة

المثال 1 يوضح كيفية تحويل تعبير نسبي لأبسط صورة وتحديد القيم المستثناة. مثال 2 يوضح كيفية استخدام الاختزال للإجابة على فقرة الاختبار. مثال 3 يوضح كيفية تحليل 1- إلى العوامل الأولية من أجل تحويل تعبير نسبي إلى أبسط صورة. مثال 4 يوضح كيفية ضرب التعابير النسبية وقسمتها. مثال 5 يوضح كيفية تحويل التعبير النسبي الذي يشتمل على كثيرات الحدود لأبسط صورة.

التقييم التكويني

استخدم أسئلة "تدريب موجه" الموجودة بعد كل مثال للوقوف على استيعاب الطلاب للمفاهيم.

أمثلة إضافية

1. a. حول $\frac{3y(y+7)}{(y+7)(y^2-9)}$ إلى أبسط صورة. $\frac{3y}{y^2-9}$
b. تحت أي ظروف يكون هذا التعبير غير معرف؟ عندما تكون $y = -3$ أو $y = 3$.

2. مثال على الاختيار العياري أي قيمة (قبة) تكون $p^2 + 2p - 3$ غير معرفة؟ $p^2 - 2p - 15$

3. حول $\frac{a^2b - 2a^4}{2a^3 - a^2b}$ لأبسط صورة. -a

مثال 2 على الاختيار العياري استبعاد القيم التي تجعل المقام غير معرف

أي قيم تكون $\frac{x^2(x^2 - 5x - 14)}{4x(x^2 + 6x + 9)}$ غير معرفة؟

- A -2, -4 B -2, 7 C 0, -2, -4 D 0, -2, -4, 7

قراءة فقرة الاختبار

أتريد تحديد قيم x التي تجعل المقام يساوي صفرًا.

حل فقرة الاختبار

يوجد 4x في المقام. لا يمكن أن تساوي x صفرًا. إذا، يمكن استبعاد الخيارين A و B. بعد ذلك، حلل عوامل المقام $4x(x+2)(x+4) = x^2 + 6x + 8$. إذا، يكون المقام $4x(x+2)(x+4)$. نظرًا لأن المقام يساوي 0 عندما تكون $x = 0, -2, -4$. فإن الإجابة هي C.

تدوين موجّه

2. أي قيم x تكون $\frac{x(x^2 + 8x + 12)}{-6(x^2 - 3x - 10)}$ غير معرفة؟ G 5, -2 H 0, -2, -6 J 5, -2, -6

يمكنك في بعض الأحيان استبعاد -1 في البسط أو المقام للمساعدة في تحويل التعبير النسبي لأبسط صورة.

مثال 3 التحويل لأبسط صورة باستخدام -1

حول لأبسط صورة $\frac{(4w^2 - 3wy)(w + y)}{(3y - 4w)(5w + y)}$
 $\frac{w(4w - 3y)(w + y)}{(3y - 4w)(5w + y)}$
 $\frac{w(-1)(3y - 4w)(w + y)}{(3y - 4w)(5w + y)}$
 $\frac{-w(3y - 4w)(w + y)}{(3y - 4w)(5w + y)}$
 $\frac{-w(w + y)}{5w + y}$



مصدر: وزارة التعليم العالي والبحث العلمي - العراق

تصلح الطريقة المستخدمة في ضرب الكسور وقسمتها مع التعابير النسبية أيضًا. تذكر أنك لضرب كسرين تقوم بضرب البسطين معًا والمقامين معًا. لفهمه كثيرين. فإذك تضرب في العكوس الضربي أو مطلوب العدد المضبوط عليه.

الضرب $\frac{2}{9} \cdot \frac{15}{4} = \frac{2 \cdot 3 \cdot 5}{3 \cdot 2 \cdot 2} = \frac{5}{2} = \frac{5}{2}$ القسمة $\frac{3}{5} \div \frac{6}{35} = \frac{3}{5} \cdot \frac{35}{6} = \frac{3 \cdot 7}{2 \cdot 2} = \frac{7}{2}$

622 | الدرس 9-1 | ضرب التعابير النسبية وقسمتها

التدريس باستخدام التكنولوجيا

السبورة البيضاء التفاعلية استخدم السبورة البيضاء للمساعدة في توضيح حذف العوامل المشتركة. اشطب على العوامل المشتركة أثناء تحويل التعبير لأبسط صورة، وأسحب العوامل المتبقية لتكوين تعبير مبسط.

انتبه!

مفاهيم خاطئة شائعة وضح أن التعابير النسبية عادة ما تستخدم دون استبعاد تلك القيم التي تجعل التعبير غير معرف بشكل محدد. من المعلوم أنه لم يتم تضمين تلك القيم التي تجعل للتعبير معنى.

622 | الدرس 9-1 | ضرب التعابير النسبية وقسمتها



التركيز على محتوى الرياضيات

تحويل التعابير النسبية لأبسط صورة
 الميزة الأساسية اللازمة لضرب التعابير النسبية وقسمتها هي التحويل لأبسط صورة. بعد تعبير القسمة إلى ضرب عن طريق العكوس الضربي للمقسوم. وضرب البسوط والمقامات. أكمل المسألة من خلال القسمة على العوامل المشتركة.

مثال إضافي

4 حوّل كل تعبير لأبسط صورة.

a. $\frac{8x}{21y^3} \times \frac{7y^2}{16x^3} \cdot \frac{1}{6x^2y}$
 b. $\frac{10mk^2}{3c^2d} \div \frac{5m^5}{6c^2d^2} \cdot \frac{4dk^2}{m^4}$

نصيحة للمعلمين الجدد

الاستفادة من المعرفة السابقة لتيسار الطلاب في فهم السبب الذي يجعل القسمة عملية تعادل الضرب في العكوس الضربي. ناقش أمثلة بسيطة مثل هذه: قسمة 18 كرة زجاجية على شخصين يعني أن يحصل كل شخص على نصف العدد أو 9 من الكرات الزجاجية.

يلخص الجدول التالي قواعد ضرب التعابير النسبية وقسمتها.

| المفهوم الأساسي | |
|-----------------------|---|
| ضرب التعابير النسبية | |
| الشرح | تضرب التعابير النسبية، اضرب البسوط معاً واضرب المقامات معاً. |
| الرموز | لتجميع التعابير النسبية $\frac{a}{b} \cdot \frac{c}{d}$ عندما تكون $d \neq 0$ و $b \neq 0$ فإن $\frac{a}{b} \cdot \frac{c}{d} = \frac{ac}{bd}$ |
| قسمة التعابير النسبية | |
| الشرح | تقسمة التعابير النسبية، احرب في العكوس الضربي للمقسوم عليه. |
| الرموز | لتجميع التعابير النسبية $\frac{a}{b} \div \frac{c}{d}$ عندما تكون $d \neq 0$ و $b \neq 0$ و $c \neq 0$ فإن $\frac{a}{b} \div \frac{c}{d} = \frac{a}{b} \cdot \frac{d}{c} = \frac{ad}{bc}$ |

نصيحة دراسية
 حذف العوامل المشتركة تأكد من حذف العوامل المشتركة من البسط والمقام.

مثال 4 ضرب التعابير النسبية وقسمتها

حوّل كل تعبير لأبسط صورة.

a. $\frac{6c}{5d} \cdot \frac{15cd^2}{8a}$

$$\frac{6c}{5d} \cdot \frac{15cd^2}{8a} = \frac{2 \cdot 3 \cdot c \cdot 5 \cdot 3 \cdot c \cdot d \cdot d}{5 \cdot d \cdot 2 \cdot 2 \cdot 2 \cdot a}$$
 عامل.

$$= \frac{1 \cdot 3 \cdot c \cdot 3 \cdot 3 \cdot c \cdot d \cdot d}{2 \cdot 2 \cdot 2 \cdot 2 \cdot a}$$
 حذف العوامل المشتركة.

$$= \frac{3 \cdot 3 \cdot c \cdot c \cdot d \cdot d}{2 \cdot 2 \cdot a}$$
 بسط.

$$= \frac{9c^2d^2}{4a}$$
 بسط.

b. $\frac{18xy^3}{7a^2b^2} \div \frac{12x^2y}{35a^2b}$

$$\frac{18xy^3}{7a^2b^2} \div \frac{12x^2y}{35a^2b} = \frac{18xy^3}{7a^2b^2} \cdot \frac{35a^2b}{12x^2y}$$
 احرب في العكوس الضربي للمقسوم عليه.

$$= \frac{2 \cdot 3 \cdot 3 \cdot x \cdot y \cdot y \cdot y \cdot 5 \cdot 7 \cdot a \cdot a \cdot b}{7 \cdot a^2 \cdot b \cdot b \cdot 2 \cdot 2 \cdot 3 \cdot x \cdot x \cdot y}$$
 عامل.

$$= \frac{1 \cdot 3 \cdot 3 \cdot x \cdot y \cdot y \cdot y \cdot 5 \cdot 7 \cdot a \cdot a \cdot b}{2 \cdot 2 \cdot 3 \cdot x \cdot x \cdot y \cdot 7 \cdot a^2 \cdot b \cdot b}$$
 حذف العوامل المشتركة.

$$= \frac{3 \cdot 5 \cdot y \cdot y \cdot y \cdot a \cdot a \cdot b}{2 \cdot 2 \cdot b \cdot x \cdot x}$$
 بسط.

$$= \frac{15y^3 \cdot a^2 \cdot b}{2bx^2}$$
 بسط.

تمرين هوجو

4A. $\frac{12c^2d^2}{21ab} \cdot \frac{14a^2b}{8c^2d}$ **acd**
 4B. $\frac{6xy}{15ab^2} \cdot \frac{21a^3}{18c^2y} \cdot \frac{7a^2}{15b^2y^3}$
 4C. $\frac{16m^2}{21a^2b^3} \div \frac{24m^3}{7a^2b^2} \cdot \frac{2t^2}{9a^2bm^2}$
 4D. $\frac{12x^2y^2}{40a^2b^4} \div \frac{6x^2y^4}{16a^2x} \cdot \frac{4x^3}{5a^2b^2y^2}$

التركيز على محتوى الرياضيات

القسمة على صفر بالتعريف. $\frac{a}{b} = c$ إذا كانت $a = bc$ إذا كان الطلاب يعتقدون أن $\frac{6}{0} = 0$ فاستخدم التعريف لإيضاح أن $\frac{6}{0} = 0$ إذا كانت $6 = 0 \times 0$ وهذا خطأ.





في بعض الأحيان، يتوجب عليك تحليل البسط و/أو المقام إلى العوامل أولاً قبل أن تتمكن من تحويل ناتج ضرب أو ناتج قسمة تعبير نسبي إلى أبسط صورة.

مثال 5 كثرات الحدود في البسط والمقام

حل كل تعبير لأبسط صورة.

a. $\frac{x^2 - 6x - 16}{x^2 - 16x + 64} \cdot \frac{x - 8}{x^2 + 5x + 6}$

$$\frac{x^2 - 6x - 16}{x^2 - 16x + 64} \cdot \frac{x - 8}{x^2 + 5x + 6} = \frac{(x-8)(x+2)}{(x-8)(x-8)} \cdot \frac{x-8}{(x+3)(x+2)}$$

عامل.

$$= \frac{(x-8)(x+2)}{(x-8)(x-8)} \cdot \frac{x-8}{(x+3)(x+2)}$$

حذف العوامل المشتركة.

$$= \frac{1}{x+3}$$

بسط.

b. $\frac{x^2 - 16}{12y + 36} \div \frac{x^2 - 12x + 32}{y^2 - 3y - 18}$

$$\frac{x^2 - 16}{12y + 36} \div \frac{x^2 - 12x + 32}{y^2 - 3y - 18} = \frac{x^2 - 16}{12y + 36} \cdot \frac{y^2 - 3y - 18}{x^2 - 12x + 32}$$

الضرب في المعكوس العرسي.

$$= \frac{(x+4)(x-4)}{12(y+3)} \cdot \frac{(y-6)(y+3)}{(x-4)(x-8)}$$

عامل.

$$= \frac{(x+4)(x-4)}{12(y+3)} \cdot \frac{(y-6)(y+3)}{(x-4)(x-8)}$$

حذف العوامل المشتركة.

$$= \frac{(x+4)(y-6)}{12(x-8)}$$

بسط.

نصيحة دراسية
الاتقان عند تحويل التعابير النسبية لأبسط صورة، فإن العوامل الموجودة إحدى كثرات الحدود، عموماً ما تظهر في كثرات الحدود الأخرى، ففي المثال 5a يظهر العامل $x - 8$ أربع مرات. استخدم هذه النصيحة كدليل عند تحليل عوامل كثرات الحدود الصعبة.

مثال إضافي

5 حوّل كل تعبير لأبسط صورة.

a. $\frac{k-3}{k+1} \times \frac{1-k^2}{k^2-4k+3} = -1$

b. $\frac{2d+6}{d^2+d-2} \div \frac{d+3}{d^2+3d+2}$

$$\frac{2(d+3)}{d-1}$$

تدريس الممارسات الرياضية

التوافق يلاحظ الطلاب المتفوقون في الرياضيات إذا كانت العمليات الحسابية متكررة ويبحثون عن الطرق العامة والمختصرة معاً. شجّع الطلاب على فحص كافة العوامل المتضمنة، وليس فقط العوامل الموجودة في كل تعبير بشكل منفرد.

2 تحويل الكسور المركبة لأبسط صورة.

مثال 6 يوضح كيفية تحويل كسر مركب لأبسط صورة عن طريق إعادة كتابته باعتبارها تعبير قسمة.

2 تحويل الكسور المركبة إلى أبسط صورة الكسر المركب هو تعبير نسبي له بسط و/أو مقام عبارة عن تعبير نسبي أيضاً. التقاير الختامية عبارة عن كسور مركبة.

$\frac{\frac{c}{5d}}{\frac{e}{x-2}} = \frac{\frac{c}{5d} \cdot \frac{x-2}{x-2}}{\frac{e}{x-2} \cdot \frac{x-2}{x-2}} = \frac{\frac{c(x-2)}{5d}}{\frac{e}{x-2}}$

مثال 6 تحويل الكسور المركبة لأبسط صورة.

حل كل تعبير لأبسط صورة.

a. $\frac{\frac{a+b}{4}}{\frac{a^2+b^2}{4}}$

كتابة التعبير على هيئة تعبير قسمة.

$$\frac{\frac{a+b}{4}}{\frac{a^2+b^2}{4}} = \frac{a+b}{4} \cdot \frac{4}{a^2+b^2}$$

الضرب في المعكوس العرسي.

$$= \frac{a+b}{4} \cdot \frac{4}{a^2+b^2} \text{ or } \frac{a+b}{a^2+b^2}$$

بسط.

624 | الدرس 9-1 | ضرب التعابير النسبية وقسمتها



التدريس المتميز OL AL

إنّا كان الطلاب يعانون من صعوبة في التعامل مع هذه المسائل.

إنّا شجّعهم على استخدام العديد من الخطوات، مع كتابة كل واحدة تحت السابطة والحفاظ على إبقاء كل خط تحت الخط السابق له، نبههم إلى إجراء تعبير واحد فقط في كل خطوة.

624 | الدرس 9-1 | ضرب التعابير النسبية وقسمتها



مثال إضافي

6 حوّل لأبسط صورة $\frac{x^2}{9x^2 - 4y^2} \cdot \frac{x^3}{2y - 3x}$

$\frac{-1}{3x^2 + 2xy}$

نصيحة للمعلمين الجدد

الاستنتاج ساعد الطلاب في فهم سبب كون ناتج قسمة كل من $(x - y)$ و $(y - x)$ يكون -1 بالإشارة إلى أن هذين التعبيرين متقابلين (أو معكوسين جعبيين)، فمثل 2 و -2 .

تدريس الممارسات الرياضية

فهم طبيعة المسائل بدأ الطلاب المتخوفون في الرياضيات بشرح معنى المسألة لأنفسهم والبحث عن نقاط بدء الحل. ويحلون المعطيات، والتبؤد والعلاقات والأهداف. ويتأكد الطلاب المتخوفون في الرياضيات من أجوبتهم عن المسائل باستخدام طريقة مختلفة. ويسألون أنفسهم باستمرار: "هل هذا جواب صحيح؟"

3 التمرين التقييمي

استخدم التمارين من 1 إلى 12 للتحقق من استيعاب الطلاب.

استخدم المخطط أسفل هذه الصفحة لتخصيص واجبات الطلاب.

a. $\frac{x^2 - y^2}{\frac{4x}{y-x}}$

b. $\frac{x^2 - y^2}{\frac{4x}{y-x}} = \frac{x^2 - y^2}{x^2 - y^2} \cdot \frac{y-x}{4x}$

$= \frac{x^2 - y^2}{x^2 - y^2} \cdot \frac{y-x}{4x}$

$= \frac{x \cdot x - y \cdot y}{(x+y)(x-y)} \cdot \frac{(-1)(x-y)}{4x}$

$= \frac{x \cdot x}{(x+y)(x-y)} \cdot \frac{(-1)(x-y)}{4x}$

$= \frac{x \cdot x}{(x+y)(x-y)} \cdot \frac{(-1)(x-y)}{4x}$

$= \frac{-x}{4(x+y)}$

كتابة التعبير على هيئة تعبير قسمة.

العرب في المعكوس العشري.

عامل.

حذف العوامل المشتركة.

بسط.

تمرين توجيه

حوّل كل تعبير لأبسط صورة.

6a. $\frac{(x-2)^2}{2(x^2-3x+4)} \cdot \frac{(2x-5)(x-2)}{(x+2)(x-4)(x-1)}$

6b. $\frac{x^2-y^2}{\frac{y-x}{y+7}} = \frac{-x-y}{y-7}$

التحقق من فهمك

- مثال 1** حوّل كل تعبير لأبسط صورة.
1. $\frac{x^2 - 5x - 24}{x^2 - 64} \cdot \frac{x+3}{x+8}$
2. $\frac{c+d}{3c^2 - 3d^2} \cdot \frac{1}{3(c-d)}$
- مثال 2** الاختيار من متعدد حدد جميع قيم x التي يكون عندها $\frac{x+7}{x^2 - 3x - 28}$ غير معرفة.
- A -7, 4 B 7, 4 C 4, -7, 7 D -4, 7

- الأداة 3-6** حوّل كل تعبير لأبسط صورة.
4. $\frac{y^2 + 3y - 40}{25 - y^2} \cdot \frac{y+8}{y+5}$
5. $\frac{a^2 - b^2}{6a - 6b} \cdot \frac{-x(a+b)}{y}$
6. $\frac{27xy^2 + 8z - 3}{16x^2 + 2xy} \cdot \frac{2x^2}{2x}$
7. $\frac{12xy + 36y^2 - 2x^2}{15x^2 + 24x} \cdot \frac{3xy}{3xy}$
8. $\frac{x^2 - 4x - 21}{x^2 - 6x + 8} \cdot \frac{x-4}{x^2 - 2x - 35} \cdot \frac{x+3}{(x-2)(x+5)}$
9. $\frac{a^2 - b^2}{a^2 - 6a + 3} \cdot \frac{4a + 4b}{12(a-1)}$
10. $\frac{\frac{xy^2}{x^2y}}{\frac{ab^2x}{y^3}}$
11. $\frac{\frac{4x}{x+6}}{\frac{x^2-3x}{x^2+3x-18}} = 4$



12 التبرير المنطقي يمكن تمثيل حجم حاويات الفصح ذات شكل متوازي مستطيلات بكتيرة الحدود $4x^3 + 11x^2 + 6x^3$ حيث يكون الارتفاع x .

a. أوجد طول الحاوية وعرضها. $2x + 1, 3x + 4$

b. أوجد النسبة بين الأبعاد الثلاثة للحاوية عندما تكون $x = 2$: $5 : 10 : 2$

c. هل ستكون النسبة بين الأبعاد الثلاثة واحدة لجميع قيم x ؟

www.almanah1.com



التبرين وحل المسائل

- مثال 1** حوّل كل تعبير لأبسط صورة.
- $\frac{x(x-3)(x+6)}{x^2+x-12} \cdot \frac{x(x+6)}{x+4}$
 - $\frac{(x^2-9)(x^2-z^2)}{4(x+2)(x-3)} \cdot \frac{(x+3)(x-z)}{4}$
 - $\frac{x^2(x+2)(x-4)}{6x(x^2+x-20)} \cdot \frac{x(x+2)}{6(x+5)}$
 - $\frac{y^2(y^2+3y+2)}{2y(y-4)(y+2)} \cdot \frac{y(y+1)}{2(y-4)}$
 - $\frac{(x^2-16x+64)(x+2)}{(x^2-64)(x^2-6x-16)} \cdot \frac{1}{x+8}$
 - $\frac{3y(y-8)(y^2+2y-24)}{15y^2(y^2-12y+32)} \cdot \frac{(y+6)}{5y}$
- مثال 2** اختيار من متعدد حدد جميع قيم x التي تكون عندها $\frac{(x-3)(x+6)}{(x^2-7x+12)(x^2-36)}$ غير معرف.
- F 3, -6 G 4, 6 H -6, 6 J -6, 3, 4, 6

- مثال 3** حوّل كل تعبير لأبسط صورة.
- $\frac{x^2-5x-14}{28+3x-x^2} \cdot \frac{x+2}{x+4}$
 - $\frac{x^3-9x^2}{x^2-3x-54} \cdot \frac{x^2}{x+6}$
 - $\frac{(x-4)(x^2+2x-48)}{(36-x^2)(x^2+4x-32)} \cdot \frac{1}{x+6}$
 - $\frac{16-x^2}{x^2+x-20} \cdot \frac{c+4}{c+5}$
- 24. الهندسة** يبلغ حجم الأسطوانة الفوضحة على اليسار $(x+3)(x^2-3x-18)\pi$ سنتيمتر مكعب. أوجد ارتفاع الأسطوانة.



الألمنة 4-6 حوّل كل تعبير لأبسط صورة.

- $\frac{3ac^2d^3}{8a^2bc^4} \cdot \frac{12ab^3c}{18ab^2c^2d} \cdot \frac{c}{4ab^2y^2}$
- $\frac{64e^2h^3}{35b^2c^2y^4} \cdot \frac{12a^2b^2c}{70ab^2c^2} \cdot \frac{32b}{3ac^2y^2}$
- $\frac{15x^2y^2}{21ac} \cdot \frac{14a^2c^2}{6ab^3} \cdot \frac{5a^4c}{3b}$
- $\frac{y^2+8y+15}{y-6} \cdot \frac{y^2-9y+18}{y^2-9} \cdot y+5$
- $\frac{x^2+9x+20}{8x+16} \cdot \frac{4x^2+16x+16}{x^2-2x} \cdot \frac{(x+4)(x+2)}{2(x-5)}$
- $\frac{9x-12}{x^2+10x+21} \cdot \frac{(x-2)(x+1)}{6(x+7)}$
- $\frac{x^2-8x^2}{x^2-8x} \cdot \frac{-a^2(a+b)}{b^4}$
- $\frac{14xy^2z^3}{21x^2yz} \cdot \frac{7xyz}{12a^2y^2z} \cdot \frac{7z^2}{18w^2y}$
- $\frac{9x^2yz}{5c^4} \cdot \frac{12x^2y^2}{50xy^2z} \cdot \frac{15y^3}{2xz}$
- $\frac{14c^2d^3}{9a^2} \cdot \frac{35cf^4}{18ab^3} \cdot \frac{4b^2cf}{5a}$
- $\frac{c^2-6c-16}{c^2-d^2} \cdot \frac{c^2-8c}{c+d} \cdot \frac{c+2}{c(c-d)}$
- $\frac{3x^2+6x+3}{x^2-3x-10} \cdot \frac{12a^2-12}{a^2-4} \cdot \frac{(a+1)(a-2)}{4(a-5)(a-1)}$
- $\frac{2x^2-8}{6c^2} \cdot \frac{3x}{2c} \cdot \frac{c}{x}$
- $\frac{x-y}{x+y} \cdot \frac{b-a}{x+y} \cdot \frac{x+y}{x^2-y^2} \cdot \frac{b-a}{x^2-y^2}$

39. التبرير في نهاية مسيرته من لعبة كرة قدم بال مدرسة الثانوية، أحرز مجيد 33 هدفاً من 121 محاولة.

a. اكتب نسبة تعبر عن النسبة بين عدد الأهداف المحرزة إلى محاولات التهديف فمجد في نهاية مسيرته كالأعب بال مدرسة الثانوية.

b. افرض أن مجيد حاول إحراز عدد b من الأهداف ونجح في تسديد m أهداف خلال عامه الأول بالمدرسة. اكتب تعبيراً نسبياً يمثل النسبة بين عدد الأهداف المحرزة في مسيرته إلى عدد الأهداف التي حاول تسديدها في نهاية عامه الأول بالمدرسة.

626 | الدرس 9-1 | ضرب التعبيرات النسبية وقسمتها

خيارات الواجب المنزلي المهتمزة

| المستوى | الواجب | الخيار اليومي |
|------------|--------------------------------|---------------------|
| متقدم (AL) | 13-39, 59-60, 62-86 | 14-38 زوجي |
| أساسي (OL) | 13-39, 40, 41-55, 56-60, 62-86 | 40-60, 62-65, 70-86 |
| متقدم (BL) | 40-80. (اختياري: 81-86) | |

تدريس الممارسات الرياضية

الاستنتاج يستوعب الطلاب المتفوقون في الرياضيات الكميات وعلاقاتها في النواكف المذكورة في المسائل. يستتبع التفكير الكمي عادات، مثل وضع الطالب شيئاً محطّفاً للمسألة التي يحلها، والتفكير في الوحدات المستخدمة في المسألة، والأهتمام بمعاني الكميات، وليس فقط بكيفية حسابها، ومعرفة الخصائص المختلفة للعمليات والأشياء واستخدامها بمرور.



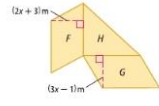


ملاحظات لحل التمرين

القانون بالنسبة للتمرين 52. سيحتاج الطلاب لمعرفة قانون حجم منشور مستطيل، $V = Bh$ ، حيث إن B هي مساحة القاعدة، و h هي الارتفاع. بالنسبة للتمرين 80. سيحتاج الطلاب إلى معرفة قانون حجم منشور مستطيل، $V = \ell wh$ ، حيث إن ℓ هي الطول، و w هي العرض، و h هي الارتفاع.

تدريس الممارسات الرياضية

التثايرة يبدأ الطلاب المتفوقون في الرياضيات بشرح معنى المسألة لأنفسهم والبحث عن نقاط بدء الحل. فيجلون المعطيات والتنبؤ والعلاقات والأهداف. ويتكثرون فرضيات حول شكل الحل ومعناه ويخططون مسارا للحل بدلًا من الانتفال ببساطة إلى محاولة الحل.



40 الهندسة مساحة متوازي الأضلاع F تبلغ $8x^2 + 10x - 3$ متر مربع وارتفاع $2x + 3$ متر. أما متوازي الأضلاع G فبقيع مساحته $6x^2 + 13x - 5$ متر مربع وارتفاع $3x - 1$ متر. أوجد مساحة المثلث H .

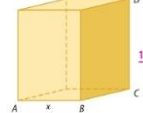
41 التمثيل مثل الدالة $T(x) = \frac{0.4(x^2-2x)}{x^3 + x^2 + 6x}$ شك تسرب نظمي من أنبوب مكشور بأحد الحمارتان، حيث T هي نسبة البعثة المنطقية بالامتار، و x هي البعد عن مكان الكسر بالامتار.

هـ. حول الدالة لأبسط صورة. **44.** $\frac{3-x}{(x+3)(2x+1)}$

و. كم يبلغ شكب الخبذة التي على بعد 100 m من مكان الكسر؟ **45.** $\frac{x(x+2)(x-1)}{(x+3)(x-7)}$

جول كل تعبير لأبسط صورة. **49.** $\frac{2(4x+1)(2x+1)}{5(2x-1)(x+2)}$

- 42. $\frac{x^3-36}{3x^3+18x^2+24x} \cdot \frac{x^3-4x}{2x^2-7x-4} \cdot \frac{x-2}{3(2x+1)}$
- 43. $\frac{3x^2-17x+6}{4x^2-20x-24} \div \frac{6x^2-7x-3}{2x^2-x-3} \cdot \frac{1}{4}$
- 44. $\frac{9-x^2}{x^2-4x-21} \cdot \frac{2x^2+7x+3}{(2x^2+7x+3)^{-1}}$
- 45. $\left(\frac{2x^2+2x-12}{x^2+4x-5}\right)^{-1} \cdot \frac{2x^3-8x}{x^2-2x-35}$
- 46. $\left(\frac{3xy^2z}{2a^2bc}\right)^3 \cdot \frac{16a^3b^2c^3}{15x^2y^3z^3} \cdot \frac{18y^4}{5a^2cx^4}$
- 47. $\frac{20x^2y^2z^{-2}}{3a^3b^4} \cdot \frac{16x^3y^2z^{-2}}{9ac^2} \cdot \frac{1}{(9ac^2)^{-1}}$
- 48. $\left(\frac{2xy}{3ab}\right)^{-2} \div \frac{6a^2b}{x^3y^4}$
- 49. $\frac{8x^2-10x-3}{10x^2+35x-20} \cdot \frac{2x^2+x-6}{4x^2+18x+8}$
- 50. $\frac{2x^2+7x-30}{-6x^2+13x+5} \cdot \frac{x-4}{4x^2+12x-72} \cdot \frac{x-4}{-4(x-3)}$
- 51. $\frac{4x^2-1}{3x^3-6x^2-24x} \cdot \frac{12x^2+12x-9}{-2x^2+5x+12}$



52 الهندسة تبلغ مساحة قاعدة متوازي المستطيلات الموجودة على اليسار 20 سنتيمترا مربعا.

- أ. أوجد طول \overline{BC} بدلالة x .
- ب. إذا كان $3BC = DC$ ، فحدد مساحة المنطقة المظللة بدلالة x .
- ج. حدد حجم المتوازي بدلالة x .

- 53. $\frac{x^2+4x-32x^2}{2x^2+9x-5} \cdot \frac{3x^2-75}{3x^2-11x-4} \div \frac{6x^2-18x-60}{x^3-4x} \cdot \frac{x(x-2)(x+8)}{2(2x-1)(3x+1)}$
- 54. $\frac{8x^2+10x-3}{3x^2-12x-36} \cdot \frac{2x^2-5x-12x^2}{3x^2-17x-6} \cdot \frac{4x^2+3x-1}{4x^2-40x-24} \cdot \frac{(4x-9)^2(3x+1)(x+1)}{12(x+2)(x-4)(x^2-10x+6)}$
- 55. $\frac{4x^2-9x+18}{x^2+4x-18} \cdot \frac{-2x^2+3x+2}{x^2-4x-32} \div \frac{8x^2+10x-3}{x^2+9x-12} \cdot \frac{-2x-8)(x+4)(x-2)(x+1)}{(2x+1)^2(x+2x-1)}$

56 التثايرة استخدم الصيغة $d = at^2 + vt + s$ ، حيث d هي المسافة بالكيلومترات، t هي الزمن بالساعات، v هي السرعة بالكيلومترات في الساعة لمدة t من (6 + a) ساعات. وضار طائرة أخرى بعد t من (540 + 90 t) كيلومتر في الساعة لمدة t من 6 ساعات.

- أ. كتب تعبرا نسبيا يمثل النسبة بين المسافة المغطوة d لطائرة الأولى والمسافة المغطوة d للطائرة الثانية.
- ب. حول التعبير النسبي لأبسط صورة، ما الذي يخبرك به هذا التعبير عن المسافتين المغطوتين لكلتا الطائرتين؟
- ج. تحت أي ظرف يكون التعبير النسبي غير معرف؟ صف ما يخبرك به هذا الظرف عن الطائرتين. **(500)(6+x)** **(540+90t)(6)**

الإجابة النموذجية:
تسطع الطائرة الثانية مسافة أكبر قليلا عن الطائرة الأولى.
الإجابة النموذجية:
 عندما تكون $x = -6$ ، $x = 56c$.
تسافر الطائرة الأولى لمدة ساعة وسوف تسافر الطائرة الثانية بعدد 0 كيلومتر في الساعة.

تدريس الممارسات الرياضية

التدريس يُمكن للطلاب المتوقفين في مادة الرياضيات أيضاً المتفانية بين فعالية فرضيتين مقبولتين والتفريق بين المنطق السليم أو الغويم وبين المنطق الخاطئ. وفي حالة وجود خطأ في فرضية ما، يستطيعون توضيح ماهية هذا الخطأ.

57. **التطارات** في محاولة للوصول إلى ساحة التطارات إحدى الأسبقيات كانت جميع التطارات متوقفة في صف لمسافة 2 mi على طول نظام الخطوط. افترض أن كل عربة تشغل مساحة متوسطة 75 ft من الخط وأن ساحة التطارات تضم 5 خطوط.

- a. اكتب تعبيراً يمكن استخدامه لتحديد عدد عربات التطار الموجودة في صف التطارات.
- b. كم عدد عربات التطار الموجودة في صف التطارات؟ **704** **57a. 557** **ممارسات: مسار واحد** **2 mi** **5280 ft** **1 سيارة** **75 ft**
- c. افترض أن هناك 8 مرافقين يقومون على إجراء فحوصات السلامة لكل عربة وأن فحص كل عربة يستغرق متوسط 45 s. فكم عدد الساعات بالتقريب التي سيستغرقها فحص جميع العربات في الصف حتى يتم إجراؤها؟ **70.4 h**

58. **التثنيات المتعددة** في هذه المسألة، ستستكشف تشيل الدالة النسبية بيانية **d**. **انظر الهامش.**

$$f(x) = \frac{x^2 - 5x + 4}{x - 4}$$

- a. جرباً حول لأبسط صورة $\frac{x^2 - 5x + 4}{x - 4}$.
- b. جدولياً افرض أن $f(x) = \frac{x^2 - 5x + 4}{x - 4}$ استخدم التعبير الذي كتبتَه في الجزء a. اكتابة الدالة ذات المسألة $g(x)$ استخدم حاسبة التمثيل البياني لعمل جدول لكلتا الدالتين عندما يكون $0 \leq x \leq 10$.
- c. **تحليلياً** ما $f(4)$ و $g(4)$ ؟ اشرح أهمية هذه القيم.
- d. **بيانياً** مثل بيانياً الدالتين على حاسبة التمثيل البياني. استخدم وظيفة TRACE لاستكشاف كل تشيل بياني مستخدماً الفيتاحين **▲** و **▼** لقتنل بين التمثيلات البيانية. قارن بين التمثيلات البيانية وبين الفرق بينها.
- e. **نظماً** ما الذي يمكنك استنتاجه عن التعابير والدوال؟ **التعابير والدوال متكافئة ما عدا عندما تكون $x = 4$.**

مساكن مهارات التفكير العليا استخدام مهارات التفكير العليا

59. **التبوير** قارن بين $(x+3)(x+2)(x-6)$ و $(x-6)(x+2)$ ووضح الفرق بينهما.

60. **التفكير النقدي** يتوم حميد وحماد بتحويل $\frac{4}{x-y}$ إلى أبسط صورة. قول أي منهما على صواب؟ اشرح استنتاجك.

| | |
|---|---|
| <p>حميد</p> $\frac{x+y}{x-y} \div \frac{4}{y-x} = \frac{x+y}{x-y} \cdot \frac{y-x}{4} = \frac{x+y}{x-y} \cdot \frac{-(x-y)}{4} = \frac{x+y}{x-y} \cdot \frac{-x+y}{4} = \frac{-x^2+y^2}{4}$ | <p>حميد</p> $\frac{x+y}{x-y} \div \frac{4}{y-x} = \frac{x+y}{x-y} \cdot \frac{y-x}{4} = \frac{x+y}{x-y} \cdot \frac{-(x-y)}{4} = \frac{x+y}{x-y} \cdot \frac{-x+y}{4} = \frac{-x^2+y^2}{4}$ |
|---|---|

61. **التحدي** أوجد التعبير الذي يجعل العبارة التالية صحيحة.

$$\frac{x-6}{x+3} \div \frac{x-6}{x-6} = x-2$$

62. **أو ما يلي لا ينطبق للمجموعة** حدد التعبير الذي لا ينتمي إلى المجموعة الثلاثة. اشرح استنتاجك. **انظر الهامش.**

| | | | |
|-----------------|------------------------|--------------------------|-------------------|
| $\frac{1}{x-1}$ | $\frac{x^2+3x+2}{x-5}$ | $\frac{x+1}{\sqrt{x+3}}$ | $\frac{x^2+1}{x}$ |
|-----------------|------------------------|--------------------------|-------------------|

63. **التبوير** حدد ما إذا كانت العبارة التالية صحيحة أم صحيحة دائماً أم غير صحيحة على الإطلاق. اشرح استنتاجك. **انظر الهامش.**

تكون الدالة النسبية التي تحتوي على متغير في البسط معرفة لجميع قيم x الحقيقية.

64. **مسألة غير محددة الإجابة** اكتب تعبيراً نسبياً يفسح $\frac{x-1}{x+4}$ بعد تحويله لأبسط صورة. **الإجابة النموذجية:** $\frac{x^2-1}{x^2+5x+4}$

65. **الكتابة في الرياضيات** تم تحويل التعبير النسبي $\frac{x^2+3x}{4x}$ لأبسط صورة فأصبح $\frac{x+3}{4}$. اشرح لماذا يمكن التعبير الجديد غير معرف لجميع قيم x . **انظر الهامش.**

59. **الإجابة:** النموذجية: التعبيران متكافئان عدا أن التعبير النسبي يكون غير معرف عندما تكون $x = 3$.

60. **الإجابة:** النموذجية: كان حماداً خطأ حميد هو الضرب في العكوس الضربي للمقسوم بدلاً من المقسوم عليه.





4 التقييم

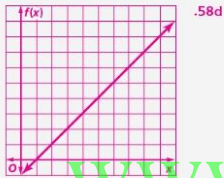
الكرة البلورية اطلب من الطلاب وصف كيف يعتقدون أن ممارستهم لضرب التعابير النسبية وتحويلها لأبسط صورة ستساعدهم عند جمع أو طرح التعابير النسبية.

إجابات إضافية

| | | | | |
|------|----|---|---|---|
| x | 0 | 1 | 2 | 3 |
| f(x) | -1 | 0 | 1 | 2 |
| g(x) | -1 | 0 | 1 | 2 |

| | | | | |
|------|-----|---|---|---|
| x | 4 | 5 | 6 | 7 |
| f(x) | ERR | 4 | 5 | 6 |
| g(x) | 3 | 4 | 5 | 6 |

| | | | |
|------|---|---|----|
| x | 8 | 9 | 10 |
| f(x) | 7 | 8 | 9 |
| g(x) | 7 | 8 | 9 |



ثبوت التمثيلات البيانية متشابهة على حاسبة التمثيل البياني. لكن $f(x)$ غير معرفة لكل من $f(4) = 3$ و $g(4) = 3$ لا تتنسى

62. $\frac{x+1}{\sqrt{x+3}}$ لا تتنسى

للكلثة الأخرى. التعابير الثلاثة الأخرى تعابير نسبية.

بما أن مقام $\frac{x+1}{\sqrt{x+3}}$

ليس كثيرة حدود، لا يعتبر

تعبير نسبي.

63. الإجابة النموذجية: أحياناً، مع مقام مثل $x^2 + 2$ ، حيث لا يساوي المقام 0، يمكن تعريف التعبير النسبي لكافة قيم x .

65. الإجابة النموذجية: عندما يكون التعبير الأصلي نحولاً لأبسط صورة، يتم الحصول على العامل x من المقام. إذا كانت x تساوي 0، فمحددتك سيكون التعبير غير معرف، وبالتالي، فإن التعبير المحول لأبسط صورة يعتبر أيضاً غير معرف لـ x .

تدريب على الاختبارات المهيّبة

66. SAT/ACT ترمب عائلة فهد في قطع مسافة متوسلها 250 km في اليوم أثناء إجازتهم. في أول خمسة أيام قطعوا 220 km و 300 km و 210 km و 275 كيلومتر، و 240 km. فكم عدد الكيلومترات التي يجب عليهم قطعها في اليوم السادس لتحقيق هدفهم؟ C

A 235 km D 275 km
B 251 km E 315 km
C 255 km

67. أي من المعادلات التالية يعبر عن العلاقة بين T و N في الجدول؟ J

| | | | | | | |
|---|---|---|---|----|----|----|
| N | 1 | 2 | 3 | 4 | 5 | 6 |
| T | 1 | 4 | 7 | 10 | 13 | 16 |

F $T = 2 - N$ H $T = 3N + 1$
G $T = 4 - 3N$ J $T = 3N - 2$

68. تبلغ تكلفة حطة الهاتف المحمول الشهرية 39.99 AED مقابل 300 دقيقة و 20 فستا لكل دقيقة بعد ذلك. أي مما يلي يمثل إجمالي المأجورة الشهرية (بالدراهم) عند التحدث لمدة x دقيقة إذا كانت x أكبر من 300؟ B

A $39.99 + 0.20(300 - x)$
B $39.99 + 0.20(x - 300)$
C $39.99 + 0.20x$
D $39.99 + 20x$

69. **إجابة مختصرة:** يتم نشر مربع تتجاوز مساحة دائره قطرها 6 أمتار المساحة المجتمعة لإدارة قطرها 4 أمتار ودائرة قطرها 2 متر معاً. 4π

مراجعة شاملة

70. **أثروبولوجيا** وجد أحد علماء الأثروبولوجيا الفارسيين لعظام الإنسان الأول أن هناك كمية ضئيلة جداً من الكربون-14 متبقية في العظام بحيث لا تستطيع الأدوات قياسها. وهذا يعني أن هناك أقل من 5.0% من كمية الكربون-14 التي احتوت عليها العظام عندما كان الإنسان على قيد الحياة. إذا كان عمر النصف للكربون-14 هو 5760 عامًا، فكم من نوى ذلك الإنسان؟ **مزيد أكثر من 44,000 عام**

خُصّل كل من المعادلات التالية. قُرّب إلى أقرب جزء من عشرة آلاف.

71. $3x^2 + 1 = 5$ **0.2877** 72. $2x^2 - 1 = 0$ **-0.6931** 73. $-3x^{94} + 11 = 2$ **0.2747** 74. $8 + 3x^{23} = 26$ **0.5973**

75. **قانون الضوضاء** تم اقتراح قانون للحد من إصدار صوت في منطقة سكنية بشدة تتجاوز 72 ديسيبل خلال النهار و 55 خلال الليل. يتم صنف زئيد بشدة مستوى الضوضاء المقبول به خلال النهار عن الليل؟ $10^{1.7}$ أو حوالي 50 ضعفاً

حوّل لأبسط صورة.

76. $\sqrt{50} \cdot 5x^2\sqrt{2}$ 77. $\sqrt{16y^3} \cdot 2y\sqrt{2}$ 78. $\sqrt{18x^2y^3} \cdot 3\sqrt{xy}\sqrt{2y}$ 79. $\sqrt{40a^3b^4} \cdot 2ab^2\sqrt{10a}$

80. السيارات طبل بعد الفتح في سيارة رياضية متعددة الأغراض أكثر من ارتفاع تلك السيارة بـ 0.2 cm وبطل طرف المساحة عن على الإرتفاع بـ 400 cm. إذا كان الحجم الإجمالي لمساحة الفتح 906,139.1 cm²، $a. V = 2h^3 - 8h^2 - 64h$ اكتب دالة كثيرة الحدود تمثل حجم مساحة الفتح.

b. هل تنتسج مساحة الفتح لوضع صندوق بطوله 86.4 cm وعرضه 111.8 cm وارتفاعه 186.4 cm المشرح. لا: **قاعدة المساحة في 81.3 cm = 121.9 cm، $\ell = 91.5 cm$. لذا سيكون الصندوق عاليًا جدًا ليتناسب معها.**

مراجعة النهايات

حوّل لأبسط صورة: **82. $-3x^2 - 7x + 8$** **83. $-3y - 3y^2$** **86. $x^3 - x^2 + x + 3$**

81. $(2x + 3i) + (8i - 5i)$ $10a - 2b$ **82. $(x^2 - 4x + 3) - (4x^2 + 3x - 5)$** **83. $(5y + 3y^2) + (-8y - 6y^2)$**

84. $2x(3y + 9)$ $6xy + 18x$ **85. $(x + 6)(x + 3)$ $x^2 + 9x + 18$** **86. $(x + 1)(x^2 - 2x + 3)$**

التدريس المتهجين

التوسع لإعداد الطلاب للدرس التالي وبناء قاعدة قوية للعمل المستقبلي مع التعابير النسبية، أعطهم تعبيراً مثل $5x^2(x^2 + 3)$. اطلب منهم الشرح بالتفصيل ونقل أساسيات الحساب، ولماذا يمكن قسمة الخمسات وليس الثلاثات، وأيضاً وضع لماذا يمكن قسمة أول x^2 على x وللتحول لأبسط صورة. ولكن ليس تلك الموجودة بين قوسين. ينبغي أن تذكر تفسيرات الطلاب أنه يمكن قسمة العوامل المشتركة في كل من البسط والمقام، ولكن ليس المصطلحات التي تعتبر أجزاء من كثيرات الحدود. استبدال عدد مثل 2 بالرمز x قد يساعد بعض الطلاب في الوصول إلى هذا الفهم.

جمع التعابير النسبية وطرحها

9-2

الدرس

السابق: جمع وطرح التعابير كثيرة الحدود.

الحالي: تحديد المضاعف المشترك الأصغر لعدد من الحدود.

لماذا؟: نبدأ بحرك سرعة إبطاء تجاه شخص، فإن حدة صوت الصافرة تكون أعلى من ذلك الشخص عندما تكون عليه عندما تكون السيارة ساكنة. وهذا يرجع إلى أن الموجات الصوتية تتضاغط بمرور من بعضها البعض وهو ما يظفر إليه باسم تأثير دوبلر. يمكن تقييد تأثير دوبلر بالتعبير النسبي $(\frac{v_0}{v_0 - v})$ ، حيث v_0 هو حدة الصوت الفعلية للصافرة، و v هو سرعة سيارة الإبطاء، و v_0 سرعة الصوت في الهواء.



● جمع وطرح التعابير كثيرة الحدود.

● تحديد المضاعف المشترك الأصغر لعدد من الحدود.

● جمع التعابير النسبية وطرحها.

1 التركيز

التخطيط الرأسي

قبل الدرس 9-2 جمع التعابير كثيرة الحدود وطرحها.

الدرس 9-2 تحديد المضاعف المشترك الأصغر لكثيرات الحدود. جمع التعابير النسبية وطرحها.

بعد الدرس 9-2 حل المعادلات والمشتاينات النسبية.

2 التدريس

أسئلة داعمة

اطلب من الطلاب قراءة قسم لماذا؟ الوارد في هذا الدرس.

اسأل:

هل يمكن التحليل إلى عوامل $\frac{5_0}{5_0 - v}$ إلى $5_0 \left(\frac{1}{1 - v} \right)$ ؟ اشرح. لا، 5_0 ليس مضاعف مشترك.

لضرب P_0 مرات في $\frac{5_0}{5_0 - v}$ ، هل تحتاج إلى مقام مشترك؟ لا.

1 المضاعف المشترك الأصغر لكثيرات الحدود

المثال 1 يوضح كيفية إيجاد المضاعف المشترك الأصغر لمجموعة من كثيرات الحدود.

المضاعف المشترك الأصغر لكثيرات الحدود مثلها هو الحال مع الأعداد النسبية التي لها شكل كسري، يجب إيجاد المقام المشترك الأصغر لجميع أو طرح تعبيرين لتبسيط ههما مقامان مختلفان. وإيجاد المشترك الأصغر هو المضاعف المشترك الأصغر لعدد من الحدود. فحللها إلى عواملها يحتوي المضاعف المشترك الأصغر على كل عامل بأكثر عدد مرات يمكن أن تظهر فيها كعامل.

كثيرات الحدود

$$\frac{3}{x^2 - 3x + 2} + \frac{5}{2x^2 - 2}$$

المضاعف المشترك الأصغر لـ 6 و 9

$$\frac{6}{2 \times 3} = 3 \quad \frac{9}{3 \times 3} = 3$$

المضاعف المشترك الأصغر = $2 \times 3 \times 3 = 18$

مثال 1 المضاعف المشترك الأصغر لأحاديات الحدود وكثيرات الحدود

أوجد المضاعف المشترك الأصغر لكل مجموعة من كثيرات الحدود.

a. $6xy$ و $15x^2$ و $9xy^4$

$$6xy = 2 \times 3 \times x \times y$$

$$15x^2 = 3 \times 5 \times x \times x$$

$$9xy^4 = 3 \times 3 \times x \times y \times y \times y \times y$$

المضاعف المشترك الأصغر = $x^2 \times y^4 \times 5 \times 3 \times 3 \times 2 = 90x^2y^4$

b. $y^4 + 8y^3 + 15y^2$ و $2y^2 - 3y - 40$

$$y^4 + 8y^3 + 15y^2 = y^2(y + 5)(y + 3)$$

$$2y^2 - 3y - 40 = (y + 5)(y - 8)$$

استخدم كل عامل أكبر عدد مرات يظهر به.

تكوين موجّه $4a(a - 4)(a - 5)(a + 1)$

1A. $12a^2b$, $15abc$, $8b^3c^4$ 20a²b³c⁴ 1B. $4a^2 - 12a - 16$ و $a^3 - 9a^2 + 20a$

ممارسات في الرياضيات

3 باب فريضات عملية والتعليل على طريقة استنتاج الآخرين.

التقييم التكويني

استخدم أسئلة "تمرين موجّه" الموجودة بعد كل مثال للوقوف على استيعاب الطلاب للمفاهيم.

مثال إضافي

- 1 أوجد المضاعف المشترك الأصغر لكل مجموعة من كثيرات الحدود.
- a. $15a^2bc^3$ و $16b^5c^2$ و $20a^3c^6$ و $240a^3b^5c^6$
- b. $x^3 - x^2 - 2x$ و $x^2 - 4x + 4$
- $x(x+1)(x-2)^2$

2 جمع التعابير النسبية وطرحها

المثال 2 يوضح كيفية جمع تعبيرين نسبيين مع مقامات أحادية الحد. المثال 3 يوضح كيفية طرح تعبيرين نسبيين مع مقامات كثيرة الحدود. المثال 4 والمثال 5 يوضحان كيفية تحويل الكسور المركبة لأبسط صورة.

أمثلة إضافية

- 2 حوّل $\frac{5a^2}{6b} + \frac{9}{14a^2b^2}$ لأبسط صورة.
- $\frac{35a^3b + 27}{42a^2b^2}$
- 3 حوّل $\frac{x+10}{3x-15} - \frac{3x+15}{6x-30}$ لأبسط صورة.
- $-\frac{1}{6}$

2 جمع التعابير النسبية وطرحها

مشاركة لكي يمكن جمعها أو طرحها. يجب أن يكون للتعابير النسبية مقامات

| المفهوم الأساسي | |
|-----------------|--|
| شرح | جمع التعابير النسبية. أوجد المقام المشترك الأصغر. أعد كتابة كل تعبير باستخدام المقام المشترك الأصغر. ثم أجر عملية الجمع. |
| الرموز | لتجميع $\frac{a}{b}$ و $\frac{c}{d}$ ، حيث $d \neq 0$ و $b \neq 0$ ، $\frac{a}{b} + \frac{c}{d} = \frac{ad}{bd} + \frac{bc}{bd} = \frac{ad+bc}{bd}$. أعد كتابة كل تعبير باستخدام المقام المشترك الأصغر. ثم أجر عملية الطرح. |
| شرح | طرح التعابير النسبية. أوجد المقام المشترك الأصغر. أعد كتابة كل تعبير باستخدام المقام المشترك الأصغر. ثم أجر عملية الطرح. |
| الرموز | لتجميع $\frac{a}{b}$ و $\frac{c}{d}$ ، حيث $d \neq 0$ و $b \neq 0$ ، $\frac{a}{b} - \frac{c}{d} = \frac{ad}{bd} - \frac{bc}{bd} = \frac{ad-bc}{bd}$. |

مثال 2 المقامات أحادية الحدود

حوّل لأبسط صورة $\frac{3y}{2x^2} + \frac{5z}{8xy^2}$.

المقام المشترك الأصغر $8x^2y^2$.

$$\frac{3y}{2x^2} + \frac{5z}{8xy^2} = \frac{3y \cdot 4y^2}{2x^2 \cdot 4y^2} + \frac{5z \cdot x^2}{8xy^2 \cdot x^2} = \frac{12y^3}{8x^2y^2} + \frac{5x^2z}{8x^2y^2}$$

قرب الكسور.

$$= \frac{12y^3 + 5x^2z}{8x^2y^2}$$

جمع البسوط.

تمرين موجّه

حوّل كل تعبير لأبسط صورة.

2A. $\frac{4}{5a^2b^2} + \frac{9c}{10ab}$ 2B. $\frac{3a^2}{16b^2} - \frac{8x}{5a^2b}$ $\frac{8+9a^2bc}{10a^2b^2}$ $\frac{15a^5-128bx}{80a^2b^2}$

ويستخدم أيضًا المقام المشترك الأصغر لجمع تعابير نسبية ذات مقامات كثيرة الحدود.

مثال 3 المقامات كثيرة الحدود

حوّل لأبسط صورة $\frac{x-1}{6x-18} - \frac{1}{4x^2-14x+6}$.

المقام المشترك الأصغر $6(x-3)(2x-1)(x-3)$.

الضرب في العوامل المفقودة.

$$\frac{x-1}{6(x-3)} - \frac{1}{2(2x-1)(x-3)}$$

طرح البسوط.

$$= \frac{(x-1)(2x-1)}{6(x-3)(2x-1)(x-3)} - \frac{1}{2(2x-1)(x-3)(3)}$$

بسّط.

$$= \frac{10x-5-3x+3}{6(x-3)(2x-1)} = \frac{7x-2}{6(x-3)(2x-1)}$$

تمرين موجّه

حوّل كل تعبير لأبسط صورة.

3A. $\frac{x-1}{x^2-x-6} - \frac{4}{5x+10}$ $\frac{x+7}{5(x+2)(x-3)}$ 3B. $\frac{x-8}{4x^2+21x+5} + \frac{6}{12x+3}$ $\frac{3x+2}{(4x+1)(x+5)}$

توضيحية دراسية
لتبسيط التعابير النسبية بعد جمع أو طرح تعابير نسبية، قد يكون تبسيط التعبير الناتج أمرًا مهمًا.

التدريس باستخدام التكنولوجيا

كاميرا المستندات اختر العديد من الطلاب للعمل على أمثلة أمام الصف الدراسي. تأكد من شرحهم لكيفية إيجاد المضاعف المشترك الأصغر بوضوح.

انتبه!

تجنّب الأخطاء اطلب من الطلاب مناقشة الفروق بين إجراءات جمع وضرب الكسور. من الضروري أن يتعرفوا لماذا تكون المقامات المشتركة مطلوبة للجمع ولكن ليس للضرب.





احدى طرق تحويل الكسر المركب إلى أبسط صورة هي تبسيط كل من البسط والقام على حدة، ثم تبسيط التعبير الناتجة.

مثال 4 الكسور المركبة ذات مقامات مشتركة صغرى مختلفة

حَوِّلْ أبسط صورة $\frac{1 + \frac{1}{x}}{1 - \frac{2}{y}}$

$$\begin{aligned} \frac{1 + \frac{1}{x}}{1 - \frac{2}{y}} &= \frac{\frac{x}{x} + \frac{1}{x}}{\frac{y}{y} - \frac{2}{y}} \\ &= \frac{\frac{x+1}{x}}{\frac{y-2}{y}} \\ &= \frac{x+1}{x} \cdot \frac{y}{y-2} \\ &= \frac{(x+1)y}{x(y-2)} \end{aligned}$$

القام المشترك الأصغر للبسط هو: xy ،
القام المشترك الأصغر للقام هو y .

تحويل البسط والقام لأبسط صورة:

الكتابة على هيئة تعبير قسمة:

الضرب في المعكوس الضربي للمقام عليه:

بسط:

تصحيحة دراسية
حدود غير ممتدة تذكر أن هناك قيوداً على المتغيرات الموجودة في المقام.

تكوين موجّه

حَوِّلْ كل تعبير أبسط صورة.

4A. $\frac{1 - \frac{y}{x}}{\frac{1}{y} + \frac{1}{x}} \cdot \frac{xy - y^2}{x + y}$ 4B. $\frac{\frac{c}{d} - \frac{d}{c}}{\frac{d}{c} + 2} \cdot \frac{c^2 - d^2}{d^2 + 2cd}$

طريقة أخرى لتحويل الكسر المركب إلى أبسط صورة هي إيجاد المقام المشترك الأصغر لجميع المقامات. وبعد ذلك، يتم اختزال جميع المقامات بضربها في المقام المشترك الأصغر.

مثال 5 الكسور المركبة ذات مقامات مشتركة صغرى متماثلة

حَوِّلْ أبسط صورة $\frac{1 + \frac{1}{x}}{1 - \frac{2}{y}}$

$$\frac{1 + \frac{1}{x}}{1 - \frac{2}{y}} = \frac{\left(1 + \frac{1}{x}\right) \cdot xy}{\left(1 - \frac{2}{y}\right) \cdot xy}$$

القام المشترك الأصغر لجميع المقامات هو xy ،
بالضرب في $\frac{xy}{xy}$.

لاحظ أن البسط والقام هما نفس الشيء، وبالتالي، فإن طريقة حل المسائل المشابهة لتلك متروكة لاختيارك.

تكوين موجّه

حَوِّلْ كل تعبير أبسط صورة.

5A. $\frac{1 + \frac{2}{x}}{\frac{3}{y} - \frac{4}{x}} \cdot \frac{xy + 2y}{3x - 4y}$ 5B. $\frac{\frac{1}{d} - \frac{d}{c}}{\frac{1}{c} + 6} \cdot \frac{c - d^2}{d^2 + 6cd}$

5C. $\frac{\frac{1}{y} + \frac{1}{x}}{\frac{1}{y} - \frac{1}{x}} \cdot \frac{x + y}{x - y}$ 5D. $\frac{\frac{d}{b} + 1}{1 - \frac{b}{a}} \cdot \frac{a(a + b)}{b(a - b)}$

جميع الحقوق محفوظة © مؤسسة المنهج التعليمي

www.almanahj.com

التدريس المتميز OL AL

إننا نأمل أن الطلاب يعانون من صعوبة في جميع التعبيرات النسبية وطرحها.

أطلب من الطلاب العمل مع زميل، واحد في دور المدرب والآخر في دور الرياضي. يعمل الرياضي على مسألة ما باستخدام الخطوات ويشرح طريقة التفكير، فيما يستمع المدرب ويترقب الأخطاء، ويصححها متى أمكن. ثم يقوم الزميلان بتبادل الأدوار.

أمثلة إضافية

4 حوّل $\frac{\frac{1}{a} + \frac{1}{b}}{\frac{1}{b} - 1}$ أبسط صورة.

5 حوّل $\frac{2y - xy}{x - 3y}$ أبسط صورة.

التركيز على محتوى الرياضيات

التعبير المكافئ عندما تحصل التعبيرات النسبية على نفس المقامات استعداداً للجمع أو الطرح، فإنها تكون مكافئة للتعبيرات الأصلية. ضرب تعبير نسبي في صيغة من صيغة 1 مثل $\frac{6x}{6x}$ أو $\frac{y-3}{y-3}$ لا يغير من قيمة التعبير.



3 تمرين

التقييم التكويني

استخدم التمارين من 1 إلى 17 للتحقق من الاستيعاب.

استخدم المخطط أسفل هذه الصفحة لتخصيص واجبات الطلاب.

تدريس الممارسات الرياضية

المشاركة يبدأ الطلاب المتفوقون في الرياضيات بشرح معنى المسألة لأنفسهم والبحث عن نقاط بدء الحل. فيحطون العطلات والتبؤد والعلاقات والأهداف. ويتكرون فرضيات حول شكل الحل ومعناه ويخططون مسازا للحل بدلا من الانتقال ببساطة إلى محاولة الحل.

التحقق من فهمك

مثال 1 أوجد المضاعف المشترك الأصغر لكل مجموعة من كثيرات الحدود.

- $16x^2, 8x^2y^3, 5x^2y, 80x^2y^3$
- $7a^2, 9ab^3, 21ab^4, 63a^2b^3c^4$
- $3y^2 - 9y, y^2 - 8y + 15, 3y(y - 3)(y - 5)$
- $x^3 - 6x^2 - 16x, x^2 - 4, x(x + 2)(x - 2)(x - 8)$

المثالان 2-3 حول كل تعبير لأبسط صورة.

- $\frac{12y}{5x} + \frac{5y}{4y^3} - \frac{48y^4 + 25x^2}{20xy^3}$
- $\frac{5}{6ab} + \frac{3b^2}{14a^3} - \frac{35a^2 + 9b^2}{42a^3b}$
- $\frac{7b}{12a} - \frac{1}{18ab^3} - \frac{21b^4 - 2}{36ab^3}$
- $\frac{y^2}{8c^2d^2} - \frac{3x}{14c^4d} - \frac{7c^2y^2 - 12dx}{56c^4d^2}$
- $\frac{4x}{x^2 + 9x + 18} + \frac{5}{x + 6} - \frac{9x + 15}{(x + 3)(x + 6)}$
- $\frac{8}{y - 3} + \frac{2y - 5}{y^2 - 12y + 27} - \frac{10y - 77}{(y - 3)(y - 9)}$
- $\frac{4}{3x + 6} - \frac{x + 1}{x^2 - 4} - \frac{x - 11}{3(x + 2)(x - 2)}$
- $\frac{3a + 2}{a^2 - 16} - \frac{7}{6a + 24} - \frac{11a + 40}{6(a + 4)(a - 4)}$

13 هندسة أوجد محيط المستطيل.

$$\frac{14x - 10}{(x + 1)(x - 2)} = \frac{3}{x - 2} + \frac{4}{x + 1}$$

المثالان 4-5 حول كل تعبير لأبسط صورة.

- $\frac{4 + \frac{2}{3}}{3 - \frac{2}{x}} - \frac{4x + 2}{3x - 2}$
- $\frac{6 + \frac{4}{y}}{2 + \frac{5}{y}} - \frac{3y + 2}{y + 3}$
- $\frac{\frac{3}{x} + \frac{2}{y}}{1 + \frac{5}{xy}} - \frac{3y + 2x}{xy + 4x}$
- $\frac{\frac{2}{x} + \frac{5}{y}}{\frac{3}{x} - \frac{5}{y}} - \frac{2a + 5b}{3b - 8a}$

تمرين وحل المسائل

مثال 1 أوجد المضاعف المشترك الأصغر لكل مجموعة من كثيرات الحدود.

- $20. (x - 4)(x - 5)(x + 6)$
- $21. 6(x + 4)(2x - 1)(2x + 3)$
- $18. 24cd, 40a^2c^2d^4, 15abd^3, 120a^2bc^3d^4$
- $19. 4x^2y^3, 18xy^4, 10xz^2, 180x^3y^2z^2$
- $20. x^2 - 9x + 20, x^2 + x - 30$
- $21. 6x^2 + 21x - 12, 4x^2 + 22x + 24$

المثالان 2-3 المشاركة حول كل تعبير لأبسط صورة.

- $22. \frac{5a}{24a^2} + \frac{a}{36bc^2y} - \frac{15abc^2 + 2af}{72bc^4y^4}$
- $23. \frac{4b}{15x^2y^2} - \frac{3b}{35x^2y^2} - \frac{28by^2x - 9bx}{105x^2y^2}$
- $24. \frac{5b}{6a} + \frac{3b}{10a^2} + \frac{2}{ab^2} - \frac{25ab^3 + 9b^4 + 60a}{30a^2b^2}$
- $25. \frac{4}{3x} + \frac{3}{5y} + \frac{2}{5xy} - \frac{20x^2y + 120y + 6x^2}{15x^2y}$
- $26. \frac{3}{3y} + \frac{2}{9} - \frac{240y^4 + 20y^2 - 27}{80y^2}$
- $27. \frac{8}{x^2 - 6x - 16} + \frac{9}{x^2 - 3x - 40}$
- $28. \frac{12}{3y^2 - 10y - 8} - \frac{3}{y^2 - 6y + 8}$
- $29. \frac{5}{y^2 - 2y - 35} + \frac{9}{y^2 + 9y + 20} - \frac{150x^3 + 1000x^2 - 3150}{400ab^3}$
- $30. \frac{6}{2x^2 + 11x - 6} - \frac{5}{x^2 + 3x - 18} - \frac{10x - 10}{(2x - 1)(x + 6)(x - 3)}$
- $31. \frac{4x}{3x^2 + 3x - 18} - \frac{2x}{2x^2 + 11x + 15} - \frac{2x^2 + 22x}{3(x - 2)(x + 3)(2x + 5)}$
- $32. \frac{2x}{4x^2 + 9x + 2} + \frac{3}{2x^2 - 8x - 24}$
- $33. \frac{4x}{3x^2 + 3x - 18} - \frac{2x}{2x^2 + 11x + 15} - \frac{2x^2 + 22x}{3(x - 2)(x + 3)(2x + 5)}$

34 علم الأحياء بعدما تناول الشخص شيئا ما، فإن الزخم الهيدرولوجي أو مستوى الجانص A في الدم يمكن تحديده بالصيغة $0.5 + \frac{20.4t}{t^2 + 36}$ ، حيث t هو عدد الدقائق المنصرمة منذ أن تناول الطعام.

هـ. حول المعادلة لأبسط صورة.

ب. ماذا سيكون مستوى الجانص بعد 30 دقيقة؟ ≈ 7.2

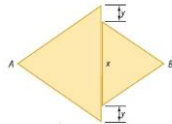
633

خيارات الواجب المنزلي المتميزة

| المستوى | الواجب | خيار اليومين |
|----------|----------------------------|--------------------------|
| AL مبتدئ | 18-39, 64-90 | 18-38 زوجي, 64-66, 71-90 |
| OL أساسي | 19-39, 40-57, 59-62, 64-90 | 18-39, 67-70 |
| BL متقدم | 40-84, (اختياري) 85-90 | |

633





35 الهندسة كلا المثلثين في الشكل الموجود باليسار متساوي الأضلاع. إذا كانت مساحة المثلث الأضلاع 200 cm² وكانت مساحة المثلث الأضلاع 300 cm² فأوجد أبعاد مساحة من A إلى B بدلالة x و y وحول أبسط صورة. $1000x + 800y$
 $x(x+2y)$

المثالان 5-4: حوّل كل تعبير أبسط صورة.

36. $\frac{\frac{2}{x-3} + \frac{3x}{x^2-9}}{\frac{3}{x+3} - \frac{4x}{x^2-9}} = \frac{5x+6}{-x-9}$

37. $\frac{\frac{4}{x+5} + \frac{9}{x-6}}{\frac{5}{x-5} - \frac{8}{x+5}} = \frac{13x+21}{-3x+73}$

38. $\frac{\frac{5}{x+6} - \frac{2x-1}{x^2-4}}{\frac{2x-1}{x+6} + \frac{4}{x^2-4}} = \frac{-2x^2-2x-5}{x^2+14x-4}$

39. $\frac{\frac{8}{3x+2} - \frac{3x+2}{x-9}}{\frac{3x+2}{x-9} + \frac{4x}{x-9}} = \frac{-x^2+33x+16}{12x^2+11x-27}$

40 إنتاج الخطوط: قدّم مدبرو إحدى شركات الخطوط بأحد سببهم وضع الخطوط من بئر معينة بمعدل يستند إلى الدالة $R(x) = \frac{20}{x} - \frac{200x}{3x^2+20}$ حيث R(x) هو معدل الإنتاج بالألف البراميل في العام بعد مرور x أعوام من بدء الخط. حوّل R(x) أبسط صورة. $R(x) = \frac{260x^2+400}{3x^2+20x}$
 b. ما معدل خط الخطوط من البئر بعد 50 عاماً؟ حوالي 1730 برميل/عام

أوجد المضاعف المشترك الأصغر لكل مجموعة من كثيرات الحدود.
 41. $12xy^4, 14x^4y^7, 5xyz^3, 15x^3y^3$ $420x^4y^7z^3$
 42. $-6ab^2c^3, 18a^2b^4, 15a^3c, 8b^3$ $-360a^3b^4c^3$
 43. $x^2 - 3x - 28, 2x^2 + 9x + 4, x^2 - 16$ $(x+4)(x-4)(2x+1)(x-7)$
 44. $x^2 - 5x - 24, x^2 - 9, 3x^2 + 8x - 3$ $(x+3)(x-3)(x-8)(3x-1)$

حوّل كل تعبير أبسط صورة.

45. $\frac{\frac{1}{12x} + 6 - \frac{3}{5a^2}}{\frac{360a^2+5a-36}{60a^2}}$

46. $\frac{\frac{5}{16y^2} - 4 - \frac{8}{3x^2y}}{\frac{15x^2-192y^2-128y}{48x^2y^2}}$

47. $\frac{\frac{1}{6x^2} + 46x - 16 + \frac{2}{6x^2+57x+72}}{\frac{2}{6x^2+57x+72}}$

48. $\frac{\frac{1}{8x^2-20x-12} + \frac{4}{6x^2+27x+12}}{\frac{x^2+x}{x^2-9x+8} + \frac{4}{x-1} - \frac{3}{x-5}}$ $\frac{x^2+2x-29}{x^2-9x+8}$

49. $\frac{x^2+y^2}{x^2-y^2} + \frac{y}{x+y} - \frac{x}{x-y} = 0$

50. $\frac{\frac{x^2+x}{x^2-9x+8} + \frac{4}{x-1} - \frac{3}{x-5}}{\frac{42x+41}{6(3x-1)(x+8)(2x+3)}}$

51. $\frac{\frac{2}{x-1} + \frac{3}{a-4}}{\frac{6}{a^2-5a+4}} = \frac{5a-11}{6}$

52. $\frac{\frac{1}{\frac{1}{x} + \frac{1}{y}}}{\frac{1}{\frac{1}{x} + \frac{1}{y}}(x+y)} = \frac{1}{y-x}$

53 الهندسة: التعمير الذي يمثل طول أحد المستطيلات هو $\frac{x^2-9}{x-2}$ ، والبعض عن طول مستطيل مشابه بالتعمير $\frac{x+3}{x-4}$ ، فما عامل قياس طولَي المستطيلين؟ اكتبه في أبسط صورة. $(x-3)(x+2)$

54 التمثيل بالنماذج: ذهب سعيد في رحلة تحديد مسافتها 20 km. قطع نصف المسافة بعدد ما، وقطع المسافة الباقية بمعدل أعلى بعدد $\frac{2}{3}$ km/h. إذا كانت x تمثل السرعة في الساعة، اكتب تعبيراً يمثل الزمن الذي استغرقه سعيد للرحلة. $\frac{10}{x}$
 b. اكتب تعبيراً يمثل مقدار الزمن الذي يحتاجه سعيد لإكمال رحلته. $\frac{20(x-1)}{x(x-2)}$
 c. اكتب تعبيراً يمثل مقدار الزمن الذي يحتاجه سعيد لإكمال رحلته. $x(x-2)$

أوجد كيلومتر الخط العابر بكل زوج من النقاط.
 55. A $(\frac{2}{p}, \frac{1}{2})$ و B $(\frac{3}{q}, \frac{3}{2})$ $\frac{3}{2}$
 56. C $(\frac{1}{4}, \frac{4}{q})$ و D $(\frac{5}{q}, \frac{1}{5})$ $\frac{4}{5}$
 57. E $(\frac{2}{w}, \frac{1}{7})$ و F $(\frac{1}{7}, \frac{2}{w})$ -1
 58. G $(\frac{6}{n}, \frac{6}{n})$ و H $(\frac{1}{6}, \frac{6}{n})$ -1

634 | الدرس 9-2 | جمع التعابير النسبية وطرحها

التدريس المتميز

التوسع بعد تحليل الكسور الجزئية مهارة من المهارات الجبرية المفيدة في مناهج الرياضيات المتقدمة. بما في ذلك حساب التفاضل والتكامل. أعط الطلاب تعبيراً نسبياً مثل $\frac{5x+3}{x(x+1)}$ وأسألهم ما أنواع الكسور الأبسط التي يمكن جمعها للحصول على هذا التعبير. إذا كان يمكنهم تحديد x و 1 + x باعتبارها مقامات لمثل هذه "الكسور الجزئية"، فاطلب منهم أن يحاولوا إيجاد قيم A و B التي ستجعل المعادلة $\frac{5x+3}{x(x+1)} = \frac{A}{x} + \frac{B}{x+1}$ عبارة حقيضية لأي قيمة x. $A = 3$ و $B = 2$

ملاحظات لحل التمرين

التوازي بالنسبة للتمرين 35، سيحتاج الطلاب إلى معرفة قانون مساحة المثلث، $A = \frac{1}{2}bh$.

ورق مربعات بالنسبة للتمرين 75 إلى 80 و 85 إلى 90، سيحتاج الطلاب إلى ورق مربعات.

تدريس الممارسات الرياضية

استخدام النماذج يستطيع الطلاب المتفوقون في الرياضيات تطبيق الرياضيات التي يعرفونها لحل المسائل الناشئة في الحياة اليومية، وتحليل العلاقات من منطلق الرياضيات لاستخلاص الاستنتاجات، وتفسير نتائج الرياضيات في سياق الحال.

إجابات إضافية



62c

| x | f(x) |
|-----|-------|
| 20 | 4.5 |
| 50 | 4.2 |
| 100 | 4.1 |
| 200 | 4.05 |
| 400 | 4.025 |

64. الإجابة النموذجية: تكون مجموعة التعابير النسبية مغلقة في ظل كافة هذه العمليات لأن مجموع و الفرق وناتج ضرب وناتج قسمة تعبيرين نسبيين هو تعبير نسبي.

66. الإجابة النموذجية: أولاً، قم بالتحليل إلى العوامل المقامات لكافة التعابير. أوجد المضاعف المشترك الأصغر للمقامات. حوّل كل تعبير بحيث يكون له مضاعف مشترك أصغر. اجمع أو اطرح البسطين، ثم حوّل أبسط صورة. هو نفسه.

634 | الدرس 9-2 | جمع التعابير النسبية وطرحها



تدريس الممارسات الرياضية

الفرضيات يقدور الطلاب المتفوقين في الرياضيات فهم واستخدام الفرضيات والتعريفات والنتائج المثبتة سابقاً في إنشاء الفرضيات. ويضعون فرضيات ويبنون تقدماً محطناً للمسائل لاستكشاف حقيقة تقديراتهم. كما يمكنهم تحليل المواقف بتقسيمها إلى حالات. ويمكنهم التعرف على الأمثلة المضادة واستخدامها.

59 التصوير الفوتوغرافي يحدد الطول البؤري للعدسة مجال رؤية الكاميرا. فكلما قصر الطول البؤري، كان مجال الرؤية أكبر. فانكيزر بكاميرا لها طول بؤري ثابت 70 mm على جسم بعد x mm من العدسة. بحث وضع الفيلم على مسافة y من العدسة. ويثبت ذلك بالمعادلة $\frac{1}{x} + \frac{1}{y} = \frac{1}{70}$. **الإجابة النموذجية: عندما يكون $y = 70x$ ، عثر عن y كدالة لـ x . $y = 70x$ تكون y تساوي 0، وهو أمر مستحيل.**

60 الضدلة يتناول أحد الفرض عطارين. يعبر عن تركيز كل عطار في مجرى الدم بالذاتين $f(t) = \frac{2t}{3t^2 + 9t + 6}$ و $g(t) = \frac{3t}{2t^2 + 6t + 4}$ حيث أن t تمثل الوقت المنحصر بالساعات بعد تناول العطارين. اجمع الذاتين معاً لتحديد دالة تتركز الكلي للعطارين في مجرى الدم للفرخين. **جوابي 0.19** **جوابي 0.19** **جوابي 0.19**

61 تأثير دوپلر راجع التطبيق في نهاية الدرس. يصف أجدد على معادلة متساوية من سيارتي إعطاء تنحركات في اتجاهين معاكسين. افترض أن x هي سرعة سيارة الإطفاء الأسرع، و y هي سرعة سيارة الإطفاء الأبطأ. اكتب تعبيراً نسبياً يمثل اختلاف حدة الصوت بين سافرتي السيارتين بالنسبة لأحد وجوهه لأبسط صورة. **جوابي 55.2 Hz**

62 بحث أجرى طالب يدرس سلوكيات التعلم تجربة أرسل خلالها فئراً إلى متاهة عدة مرات. تم تحديد الوقت الذي استغرقه الفأر لإكمال المتاهة بالمعادلة النسبية $\frac{10}{x} + 4 = 20$ حيث x تمثل عدد مرات المحاولة. **انظر الهامش.**

مسائل مهارات التفكير العليا استخدام مهارات التفكير العليا

63 التحدي حوّل أبسط صورة $\frac{5x^2 - 2x - 1}{4x^2 + 18x - 6}$ إلى أبسط صورة $\frac{5x^2 - 2x - 1}{4x^2 + 18x - 6}$

64 فرضيات جرمية أو عدديتين متساويتين عندما نضيفها أو نطرحها من بعض الأعداد النسبية. اكتب مجموعة الأعداد النسبية بسيطة في الجمع. **الإجابة النموذجية: $20a^4 b^2 c^3$**

65 مسألة غير محددة الإجابة اكتب ثلاث أحادييات الحدود يضاف مشترك أكبر 180° أو 180° .

66 الكتابة في الرياضيات اكتب دليلاً يشرح طريقة جمع التعابير النسبية ذات المقامات المختلفة، وكيف نعرف ذلك جميع الأعداد النسبية؟ **انظر الهامش.**



جميع الحقوق محفوظة © مؤسسة المنهج للتعليم الإلكتروني



تدريب على الاختبارات المعيارية

69. SAT/ACT إذا حصل ناصر على عدد b من الكتب بالإضافة إلى عدد الكتب التي لديه بالفعل. فسيكون لديه f أضعاف العدد الذي لديه في الأصل. بدلالة b و f كم عدد الكتب التي كانت مع ناصر في البداية؟ **F**

F $\frac{b}{f-1}$ J $\frac{b}{f}$
 G $\frac{b}{f+1}$ K $\frac{f}{b}$
 H $\frac{f+1}{b}$

70. إذا كان $\frac{2a}{a} + \frac{1}{a} = 4$ فإن $a =$ ؟ **B**

A 2 C $\frac{1}{8}$
 B $\frac{1}{2}$ D $-\frac{1}{8}$

67. الاحتمال سيتم إزاحة سحب لاختبار الغاز بدرجة جديدة. يوجد 900 من طاباق الصف الثالث الثانوي و 150 من طاباق الصف الأول الثانوي و 200 من طاباق الصف الثاني الثانوي. لإيميه إزاحات صحيحة. سيجوزي الصحف على 3 دوائر لكل اسم من طاباق الصف الثالث، وبتكرين لكل طاباق بالصف الأول، وبتكره لكل طاباق بالصف الثاني. فما احتمالية اختيار تذكرة مغلف من طاباق الصف الثالث؟ **D**

A $\frac{1}{8}$ C $\frac{2}{7}$
 B $\frac{2}{9}$ D $\frac{3}{8}$

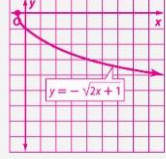
68. إجابة مختصرة أوجد مساحة الشكل. $5\pi \text{ cm}^2$ $12 + 24$

4 التقسيم

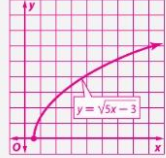
حصاد الأوس اطلب من الطلاب وصف كيف ساعدتهم درس الأوس حول ضرب وقسمة التعابير النسبية في الاستعداد لدرس اليوم حول جمع التعابير النسبية وطرحها.

إجابات إضافية

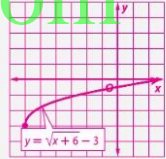
75. $D = \{x | x \geq -0.5\}, R = \{y | y \leq 0\}$



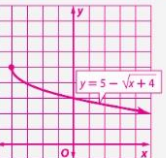
76. $D = \{x | x \geq 0.6\}, R = \{y | y \geq 0\}$



77. $D = \{x | x \geq -8\}, R = \{y | y \geq -3\}$



78. $D = \{x | x \geq -4\}, R = \{y | y \leq 5\}$



مراجعة شاملة

71. $\frac{-4ab}{21c} \cdot \frac{14c^2}{22a^2} = \frac{-4bc}{33a}$ 72. $\frac{x^2 - y^2}{6y} \div \frac{x+y}{36y^2} = 6y(x-y)$ 73. $\frac{n^2 - n - 12}{n+2} \div \frac{n-4}{n^2 - 4n - 12} = \frac{(n+3)(n-6)}{(n+3)}$

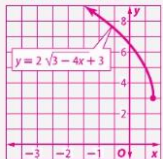
74. علم الأحياء تنكاث الجراثيم عادة بعملية تعرف باسم الانقسام الثنائي. في هذا النوع من التنكاث، تنقسم الخلية الواحدة مكونة جراثيمتين. في ظل الظروف المثالية، تنكاث بعض الجراثيم كل 20 دقيقة. أوجد الثابت k لهذا النوع من الجراثيم في ظل الظروف المثالية. **حوازي 0.0347**
 b. اكتب معادلة تمثل نموها لنمو الأسي لهذه الجراثيم. **حوازي 0.0347**

محل كل دالة بيانيًا. حدد المجال وال المدى لكل دالة. **75-80. انظر الهامش.**
 75. $y = -\sqrt{2x+1}$ 76. $y = \sqrt{5x-3}$ 77. $y = \sqrt{x-6} - 3$
 78. $y = 5 - \sqrt{3x+4}$ 79. $y = \sqrt{3x-6} - 4$ 80. $y = \sqrt{4x-4} + 3$
 حَسِّنْ كل من المعادلات التالية. اذكر عدد الجذور ونوعها **81-84**
 81. $3x + 8 = 0$ 82. $2x^2 - 5x + 12 = 0$ 83. $x^2 + 9x = 0$ 84. $x^4 - 81 = 0$
85-88 حل كل دالة بيانيًا. **85-90. انظر ملحق إجابات الوحدة 9.**
 85. $y = 4(x+3)^2 + 1$ 86. $y = -(x-5)^2 - 3$ 87. $y = \frac{1}{2}(x-2)^2 + 4$
 88. $y = \frac{1}{2}(x-3)^2 - 5$ 89. $y = x^2 + 6x + 2$ 90. $y = x^2 - 8x + 18$

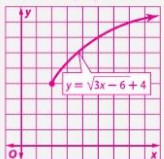
مراجعة المهارات

636 | الدرس 9-2 | جمع التعابير النسبية وطرحها

80. $D = \{x | x \leq 0.75\}, R = \{y | y \geq 3\}$



79. $D = \{x | x \geq 2\}, R = \{y | y \geq 4\}$





تمثيل دوال المقلوب بيانيًا

9-3

1 التركيز

التخطيط الرأسي

- قبل الدرس 9-3 تمثيل الدوال النسبية بيانيًا.
- الدرس 9-3 تحديد خواص دوال المقلوب. التمثيل البياني لتحويلات دوال المقلوب.
- بعد الدرس 9-3 التمثيل البياني للدوال النسبية باستخدام خطوط التقارب.

2 التدريس

أسئلة داعمة

- اطلب من الطلاب قراءة قسم لماذا؟ الوارد في هذا الدرس.
- أسأل:
 - على أي شيء يعتمد عدد قطع الحلوى التي على كل طالب بيعها؟ عدد الطلاب المشاركين
 - ماذا يحدث للقيمة c مع زيادة قيمة n ؟
 - ما العدد الكلي الذي يجب أن يكون المتغير n أكبر منه أو مساوياً له؟ 1
 - ما العدد الكلي الذي يجب أن يكون المتغير n أقل منه أو مساوياً له؟ عدد الطلاب في الكورال

لماذا

يود فريق إنشاء مدرسة الثانوية جذب AED 5000 لتمويل رحلة إلى الساسك الويشية في سبي. وقد قرروا بيع قطع الحلوى بسعير 100 قرشاً بـ 50 قرشاً لكل قطعة حلوى يبيعونها. ولما احتاجون إلى بيع 5000 قطعة حلوى.

فإذا كانت c تمثل عدد قطع الحلوى التي يبيع على الطلاب n و $c = \frac{5000}{n}$ تمثل عدد الطلاب، فإن

عدد قطع الحلوى

| | |
|------|-----------|
| 5000 | قطعة حلوى |
| 200 | قطعة حلوى |
| 100 | قطعة حلوى |
| 50 | قطعة حلوى |
| 25 | قطعة حلوى |
| 10 | قطعة حلوى |
| 5 | قطعة حلوى |

- السابق**
- تمثيل الدوال البيانية.
 - تمثيل تحويلات دوال المقلوب بيانيًا.
- الحالي**
- تحديد خصائص دوال المقلوب.
 - تمثيل تحويلات دوال المقلوب بيانيًا.
- لماذا**
- تحديد خصائص دوال المقلوب.
 - تمثيل تحويلات دوال المقلوب بيانيًا.

1 خطوط التقارب الرأسية والأفقية تعبر الدالة $c = \frac{5000}{n}$ دالة المقلوب، وتضم **دالة المقلوب** معادلة لها الصيغة $f(x) = \frac{1}{g(x)}$ حيث $g(x)$ دالة خطية و $g(x) \neq 0$.

المفهوم الأساسي الدالة الرئيسية لدوال المقلوب

| | |
|----------------------|-----------------------------------|
| الدالة الرئيسية: | $f(x) = \frac{1}{x}$ |
| نوع التمثيل البياني: | قطع زائد |
| المجال وال المدى: | جميع الأعداد الحقيقية غير الصفرية |
| خطوط التقارب: | $f(x) = 0$ و $x = 0$ |
| نقاط التقاطع: | لا يوجد |
| غير معرفة: | $x = 0$ |

يتخذ مجال دالة المقلوب بأفقي التي تكون أفقها عندها معرفة. **الدوال:** $f(x) = \frac{-3}{x+2}$, $g(x) = \frac{4}{x-5}$, $h(x) = \frac{3}{x}$

غير معرفة عند: $x = -2$, $x = 5$, $x = 0$

مثال 1: التقود على المجال

حدد قيمة x التي تكون عندها $f(x) = \frac{3}{2x+5}$ غير معرفة.

أوجد القيمة التي تجعل صمام التعبير يساوي 0.

$$\frac{3}{2x+5} \rightarrow 2x+5=0$$

الدالة غير معرفة عندما تكون $x = -\frac{5}{2}$.

تعرين موجّه

حدد قيمة x التي تجعل كل دالة غير معرفة.

1A. $f(x) = \frac{2}{x-1}$ $x = 1$

1B. $f(x) = \frac{7}{3x+2}$ $x = -\frac{2}{3}$

مفردات جديدة

دالة المقلوب
reciprocal function
قطع زائد
hyperbola

ممارسات في الرياضيات

2. اشرح بطريقة تحريرية كيفية كتابة...

Copyright © 2013 Pearson Education, Inc. All rights reserved.



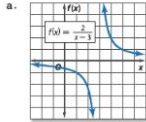
قد يحتوي التمثيل البياني لإدالة المقلوب على انعطافات على الاستقرار في القيم المستثناءة. وقد يحتوي البعض على خط تقارب، وهو المستوى الذي يقترب منه التمثيل البياني للدالة.

مثال 2 تحديد خصائص دوال المقلوب

حدّد خطوط التقارب والمجال والمدى لكل دالة

نصيحة دراسية

البيانية توضح خطوط التقارب الرأسية من كون الدالة غير معرفة، بينما توضح خطوط التقارب السلوك الطرقي للتمثيل البياني.



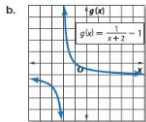
حدد قيم x التي تكون فيها $f(x)$ غير معرفة.

$x - 3 = 0$
 $x = 3$

تكون الدالة $f(x)$ غير معرفة إذا كانت $x = 3$ ، إذاً يوجد خط تقارب عند $x = 3$.

من $x = 3$ مع تناقص قيم x تقترب قيم $f(x)$ من 0 ، ومع تزايد قيم x تقترب قيم $f(x)$ من 0 ، إذاً يوجد خط تقارب عند $f(x) = 0$.

المجال هو كافة الأعداد الحقيقية غير المساوية للعدد 3 والمدى هو كافة الأعداد الحقيقية غير المساوية للعدد 0 .



حدد قيم x التي تكون فيها $g(x)$ غير معرفة.

$x + 2 = 0$
 $x = -2$

تكون الدالة $g(x)$ غير معرفة إذا كانت $x = -2$ ، إذاً يوجد خط تقارب عند $x = -2$.

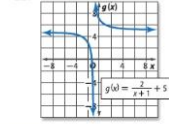
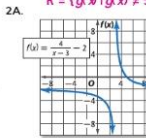
من $x = -2$ مع تناقص قيم x تقترب قيم $g(x)$ من 0 ، وبينما تزايد قيم x تقترب قيم $g(x)$ من 0 ، إذاً يوجد خط تقارب عند $g(x) = 0$.

المجال هو كافة الأعداد الحقيقية غير المساوية للعدد -2 والمدى هو كافة الأعداد الحقيقية غير المساوية للعدد 0 .

$x = -1, f(x) = 5;$
 $D = \{x \mid x \neq -1\};$
 $R = \{y \mid y \neq 5\}$

$x = 3, f(x) = -2;$
 $D = \{x \mid x \neq 3\};$
 $R = \{y \mid y \neq -2\}$

تكوين موجّه



الخطوط المقارب: الرأسية $x = 2$ والبيانية: كافة الأعداد الحقيقية غير المساوية للعدد 2 ; المدى: كافة الأعداد الحقيقية غير المساوية للعدد 0 .

2A.

2B.

638 | الدرس 9-3 | تمثيل دوال المقلوب بيانياً

التدريس المتميز OL BL

التوسع أخبر الطلاب بالتالي:

- تطلق على الدالة دالة زوجية إذا كانت $f(-x) = f(x)$ لكافة قيم x في مجالها. يكون التمثيل البياني لدالة زوجية متماثلاً بالنسبة إلى المحور y .
- تطلق على الدالة دالة فردية إذا كانت $f(-x) = -f(x)$ لكافة قيم x في مجالها. يكون التمثيل البياني لدالة فردية متماثلاً بالنسبة لنقطة الأصل.

اسأل الطلاب ما إذا كانت $f(x) = \frac{1}{x}$ دالة فردية أم زوجية. فردية

1 خطوط التقارب الأفقية والرأسية

المثال 1 يوضح كيفية إيجاد الحدود على مجال دالة نسبية. المثال 2 يوضح كيفية تحديد خواص دوال المقلوب.

التقييم التكويني

استخدم أسئلة "تصنيف موجّه" الموجودة بعد كل مثال للوقوف على استيعاب الطلاب للمفاهيم.

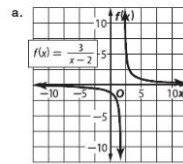
أمثلة إضافية

1 حدد قيم x والتي تكون عندها

$f(x) = \frac{2}{x^2 + 5x - 24}$ غير معرفة.

معرفه، $x = 3$ و $x = -8$

2 حدّد خطوط التقارب والمجال والمدى لكل دالة.

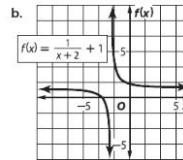


خطوط التقارب:

$x = 0$ و $x = 2$ المجال:

كافة الأعداد الحقيقية غير المساوية للعدد 2 ;

المدى: كافة الأعداد الحقيقية غير المساوية للعدد 0



خطوط التقارب:

$x = -2$ و $f(x) = 1$;

المجال: كافة الأعداد الحقيقية غير المساوية للعدد -2 ;

المدى: كافة الأعداد الحقيقية غير المساوية للعدد 1

638 | الدرس 9-3 | تمثيل دوال المقلوب بيانياً






مثال 4 من الحياة اليومية كتابة المعادلات

المسافر لدى أحد خطوط الطيران رحلة يومية دون توقف بين كالمبورنيا وأستراليا وتبلغ مسافة رحلة الذهاب فقط نحو 7500 km

a. اكتب معادلة لتمثيل وقت السفر كدالة لمتغير سرعة الرحلة الجوية، ثم مثل المعادلة بيانياً.



أوجد حل $rt = d$ لإيجاد قيمة t .

المعادلة الأصلية

$$rt = d$$

اقسم كل طرف على r .

$$t = \frac{d}{r}$$

$d = 7500$

$$t = \frac{7500}{r}$$

مثال $t = \frac{7500}{r}$ بيانياً.

b. اشرح أي حدود على المجال أو المدى في هذا الموقف.

في هذا الموقف، يكون المجال والمدى محددين بكافة الأعداد الحقيقية التي تزيد عن صفر لأن القيم السالبة ليس لها معنى. ستكون هناك القيود على المجال لأن الطائرة لا يمكن أن تسافر أسرع من سرعة الصوت التي يسلكها السفر بها.

تدريب موجّه 4. انظر ملحق إجابات الوحدة 9.

4. التخرج بيول مسؤولو الضحك الأول والفنان التمثيلي حمل تخرج، وتبلغ التكلفة الإجمالية للترافق والطعام 45 AED للفرد بالإضافة إلى 2500 AED كتبلغ تأميني. اكتب معادلة تمثل متوسط التكلفة للشخص الواحد ومثلها بيانياً. ثم اشرح أي حدود على المجال والمدى.



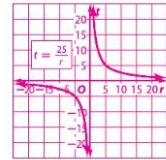
مفهوم من الحياة اليومية

وكيل الرحلات يتم وكلاء الرحلات احتياجات الفرقات والأفراد لسياحهم على تنظيم العمل ترتيباً يسر سكينه وقد تنوع خصائصهم بحسب نوع السفر مثل السفر بفرس الترفيه أو العمل أو بحسب الوجهة مثل أوروبا والبريداً يتطلب العمل شهادة مبروزة قانونية وبمعدل الحصول على تدريب مهني.

مثال إضافي

4. **التنقل اليومي** يقدم قطار المسافرين يومياً خدمة لا تتوقف من مدينة إلى أخرى. لمسافة تبلغ حوالي 25 km.

a. اكتب معادلة لتمثيل وقت السفر بين هاتين المدينتين باعتبارها دالة لمتغير سرعة القطار، ثم مثل المعادلة بيانياً.



b. اشرح أي حدود للمجال والمدى في هذا الموقف.

الموقف، يكون المجال والمدى محددين لكافة الأعداد الحقيقية التي تزيد عن 0 لأن القيم السالبة ليس لها معنى. ستكون هناك المزيد من القيود على المجال لأن القطار له حد أقصى وخط السرعة التي يسلكها السفر بها.

التحقق من فهمك

المثالان 1-2 حدّد خطوط التقارب والمجال والمدى لكل دالة.

1.

$f(x) = \frac{3}{x+2} + 1$

$x = -2, f(x) = 1;$
 $D = \{x \mid x \neq -2\};$
 $R = \{f(x) \mid f(x) \neq 1\}$

2.

$f(x) = \frac{4}{x-1} - 4$

$x = 1, f(x) = 0;$
 $D = \{x \mid x \neq 1\};$
 $R = \{f(x) \mid f(x) \neq 0\}$

3. $f(x) = \frac{5}{x}$ 4. $f(x) = \frac{2}{x+3}$ 5. $f(x) = \frac{1}{x-2} + 4$

6. **التبرير المنطقي** تخطط مجموعة من الأصدقاء لتقديم قسيمة هدية فنانة المجموعة الموسيقية لعضو يوم في منتج صحي تبلغ تكلفته القسيمة 150 AED.

a. إذا كانت c تمثل التكلفة على كل صديق وكانت f تمثل عدد الأصدقاء، فاكتب معادلة لتمثيل التكلفة على كل صديق كدالة لعدد الأصدقاء الذين قدموا المال. $c = \frac{150}{f}$

b. مثل الدالة بيانياً. **انظر الهامش.**

c. وضّح أي قيود على المجال أو المدى في هذا الموقف.

Copyright © 2013 Pearson Education, Inc. All rights reserved.

3 تهرين

التقييم التكويني

استخدم التمارين 1-6 للتحقق من استيعاب الطلاب. استخدم المخطط أسفل هذه الصفحة لتخصيص واجبات الطلاب.

التدريس المتميّز

OL AL

المعلّمون أصحاب النهج البصري/المكاني اطلب من الطلاب التمثيل بيانياً لواحدة من الدوال من الدرس على ورقة كبيرة من لوحة البصريات ليشرحوا بوضوح كيف يتربّث التمثيل البياني من خط التقارب ولكنه لا يصل له مطلقاً. شجّع الطلاب على استخدام مجموعة متنوعة من أقلام التحديد البلونة؟

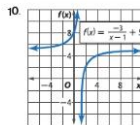
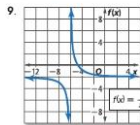
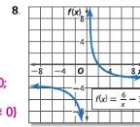
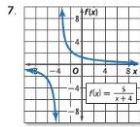
تدريس الممارسات الرياضية

فهم طبيعة المسائل يبدأ الطلاب المتوقّفون في الرياضيات بشرح معنى المسألة لأنفسهم والبحث عن نقاط بدء الحل، ويحلّون المعطيات، والتربّث والعلاقات والأهداف، ويتأكد الطلاب المتوقّفون في الرياضيات من أجوبتهم عن المسائل باستخدام طريقة مختلفة، ويسألون أنفسهم باستمرار: "هل هذا جواب صحيح؟"



تمرين وحل المسائل

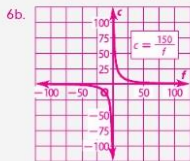
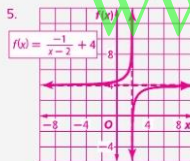
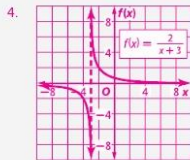
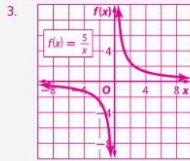
المثالان 1-2 حدّد خطوط التقارب والمجال والبيد لكل دالة.



ملاحظات لحل التمرين

ورق المربعات بالنسبة للتمرين من 3 إلى 6 ومن 11 إلى 39 و41 ومن 52 إلى 55 ومن 60 إلى 61. سيحتاج الطلاب إلى ورق مربعات.

إجابات إضافية



- مثال 3 مَن كل دالة بيانيًا، واذكر المجال والبيد.
11. $f(x) = \frac{3}{x}$ 12. $f(x) = \frac{-4}{x+2}$ 13. $f(x) = \frac{2}{x-6}$
14. $f(x) = \frac{6}{x} - 5$ 15. $f(x) = \frac{2}{x} + 3$ 16. $f(x) = \frac{8}{x}$
17. $f(x) = \frac{-2}{x-5}$ 18. $f(x) = \frac{3}{x-7} - 8$ 19. $f(x) = \frac{9}{x+3} + 6$
20. $f(x) = \frac{8}{x+3}$ 21. $f(x) = \frac{-6}{x+4} - 2$ 22. $f(x) = \frac{-5}{x-2} + 2$

مثال 4 قيادة الدراجات اتخذ متبر قرارًا بالعام الجديد أن يقوم دراجته 5000 km. إذا كانت m تمثل عدد الكيلومترات التي يقطعها متبر يوميًا وتمثل d عدد الأيام، فاكتب معادلة تمثل عدد الكيلو مترات يوميًا كدالة لعدد الأيام التي يقطعها، $m = \frac{5000}{d}$

a. مثل الدالة بيانيًا. **انظر ملحق إجابات الوحدة 9.**

b. إذا زاد متبر دراجته في كل يوم 13.7 km، فكم عدد الكيلومترات التي ينبغي عليه أن يقطعها كل يوم لتحقيق هدفه.

24. التمثيل بالمتغير أدى سعر 200 g من سائل حليب سائل مساعده معذقة الشاي على اكتشاف أهمية السائل. يتم إيجاد التمثيل أو مثال من طريق نسبة التمثيل بين الحليب الذي يتوافق مع كل هذا السائل الفجول كدالة للحجم $d = \frac{200}{g}$

a. مثل الدالة بيانيًا. **انظر ملحق إجابات الوحدة 9.**

b. من التمثيل البياني، حدّد خطوط التقارب ومجال ومدى الدالة. $v = 0, d = 0, D = \{v | v \neq 0\}, R = \{d | d \neq 0\}$

- مثال 5 مَن كل دالة بيانيًا، واذكر المجال والبيد.
25. $f(x) = \frac{3}{2x-4}$ 26. $f(x) = \frac{5}{3x}$ 27. $f(x) = \frac{2}{4x+1}$ 28. $f(x) = \frac{1}{2x+3}$

خيارات الواجب المنزلي المتميزة

| المستوى | الواجب | خيار اليومين |
|----------|------------------------|--|
| AL مبتدئ | 7-24, 38-40, 42-61 | 7-23, فردي, 43-47, 38-40, 42, 48-61, زوجي 8-24 |
| OL أساسي | 7-35, 36-40, 42-61 | 7-24, 43-47, 25-40, 42, 48-61 |
| BL متقدم | 25-59, (60-61) اختياري | |





تدريس المهارات الرياضية

الفرضيات يمقدور الطلاب المتفوقين في الرياضيات فهم واستخدام الفرضيات والتعريفات والنتائج المثبتة سابقًا في إنشاء الفرضيات. ويضعون فرضيات ويبينون تقدمًا منطقيًا للمسائل لاستكشاف حقيقة تقديراتهم. كما يُمكنهم تحليل المواقف بتقسيمها إلى حالات، وبمكتهم التعرف على الأمثلة المضادة واستخدامها.

29 **البيسول** تسلك المسافة بين مكان الرامي والقاعدة المرسية 18.4 m

a. إذا كانت t تسلك سرعة الرمي وكانت f تسلك الزمن الذي تستغرقه الكرة للوصول إلى القاعدة، فكتب معادلة لتسلك السرعة كدالة للزمن.

b. مثل الدالة بيانياً. **انظر ملحق إجابات الوحدة 9.**

c. إذا وصلت كرة بيسول مضروبة بطريقة الإصبعين في 0.48 s، فماذا كانت سرعتها؟ **126 m/s**

مش كل دالة بيانياً. اذكر المجال والمدى وحدد خطوط التقارب. 30-35. **انظر ملحق إجابات الوحدة 9.**

30. $f(x) = \frac{-3}{x+7} - 1$ 31. $f(x) = \frac{-4}{x+2} - 5$ 32. $f(x) = \frac{6}{x-1} + 2$
33. $f(x) = \frac{2}{x-4} + 3$ 34. $f(x) = \frac{-7}{x-8} - 9$ 35. $f(x) = \frac{-6}{x-7} - 8$

36 **المعرفة العالمية** انطلقت سيارة تيسا 708 km تسلكها خزانًا واحدًا من الوقود.

a. إذا كانت g تسلك عدد الكيلومترات بالنسبة إلى اللتر الذي استهلكته السيارة وكانت f تسلك حجم خزان الوقود، فكتب معادلة لتسلك النسبة بين الكيلومترات والأكترات كدالة لحجم الخزان.

b. مثل الدالة بيانياً. **انظر ملحق إجابات الوحدة 9.**

c. كم عدد الكيلومترات التي تغطيها السيارة لكل لتر إذا كان بها خزان وقود بسعة 15L؟ **12.4 km/L**

37 **التحليلات المتعددة** في هذه المسألة ستستكشف أوجه التشابه والاختلاف بين الدوال الأسية ذات الأسس السالبة والذوجية **f**-**a**. **انظر ملحق إجابات الوحدة 9.**

a. **الجدولة** ضع جدولًا بالقيم لـ $a(x) = x^2$ و $b(x) = x^3$ و $c(x) = x^{-3}$ و $d(x) = x^{-2}$.

b. **التشثيل البياني** مثل $a(x)$ و $b(x)$ بيانياً على نفس المحاور الإحداثي.

c. **الصيغ النقطية** قارن بين المجال والمدى والسلوك الطرقي والسلوك عندما تكون $x = 0$ لكل من $a(x)$ و $b(x)$.

d. **التشثيل البياني** مثل $c(x)$ و $d(x)$ بيانياً على نفس المحاور الإحداثي.

e. **الصيغ النقطية** قارن بين المجال والمدى والسلوك الطرقي والسلوك عندما تكون $x = 0$ لكل من $c(x)$ و $d(x)$.

f. **التحليلات** ما الاستنتاجات التي توصلت إليها بشأن أوجه التشابه والاختلاف بين الدوال الأسية ذات الأسس السالبة والذوجية؟

مسائل مهارات التفكير العليا

38 **مسألة غير محددة** الإجابة اكتب دالة مطلوب يحتوي فيها التشثيل البياني على خط تقارب رأسي عند $x = -4$ ، وخط التقارب الأفقي عند $f(x) = 6$ **الإجابة النموذجية:** $f(x) = \frac{1}{x+4} + 6$

39 **التبرير** قارن وبين الفرق بين التشثيل البياني لكل زوجين من المعادلات.

a. $y = \frac{1}{x}$ و $y = 7 - \frac{1}{x}$ b. $y = \frac{1}{x}$ و $y = 4\left(\frac{1}{x}\right)$ c. $y = \frac{1}{x}$ و $y = \frac{1}{x+6}$

d. **تدوين** وضع جدول بالقيم. استخدم ما اكتشفه في الأجزاء **a** و **b** لشرح تشثيل بياني لك.

e. **التحليلات** قارن بين $y = \frac{1}{x}$ و $y = \frac{1}{x+6}$. **انظر ملحق إجابات الوحدة 9.**

40 **الفرضيات** أوجد الدالة التي لا تنتمي للمجموعة. اشرح.

$f(x) = \frac{3}{x+1}$ $g(x) = \frac{x+2}{x^2+1}$ $h(x) = \frac{5}{x^2+2x+1}$ $j(x) = \frac{20}{x-7}$

الإجابة النموذجية: $g(x)$ ؛ جميع الخيارات الأخرى تحتوي على قيم مجزولة في المقام فقط.

41 **التحدي** اكتب دالتين مطلوب مختلفتين بحيث تحتوي تشليلهما البياني على نص خطوط التقارب الرأسية والأفقية. لم مثل الدالتين بيانياً. **انظر ملحق إجابات الوحدة 9.**

42 **الكتابة في الرياضيات** راجع بداية الفدرس. اشرح كيفية استخدام الدوال العنسية في جمع الأموال. اشرح المنسب وراء كون جزء واحد من التشثيل البياني ذا معنى في سياق المسألة. **انظر ملحق إجابات الوحدة 9.**



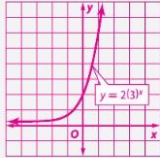


4 التقييم

الكرة البلورية اطلب من الطلاب وصف كيف يعتقدون أن ممارستهم لضرب التعابير النسبية وتحويلها لأبسط صورة ستساعدكم عند جمع أو طرح التعابير النسبية.

إجابات إضافية

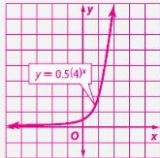
52. $D = \{ \text{كافة الأعداد الحقيقية} \}$,
 $R = \{ y | y > 0 \}$



53. $D = \{ \text{كافة الأعداد الحقيقية} \}$,
 $R = \{ y | y > 0 \}$



54. $D = \{ \text{كافة الأعداد الحقيقية} \}$,
 $R = \{ y | y > 0 \}$



تدريب على الاختبارات المعيارية

46. SATACT تحرك سيارة مسافة m كيلومتر بعد t كيلومتر في الساعة، فكم عدد الساعات التي تستغرقها الرحلة؟

F $\frac{m}{t}$ J $\frac{t}{m}$
G $m - t$ K $t - m$
H mt

47. إذا كانت $-1 < a < b < 0$ ، فأي مما يلي له القيمة الأكبر؟

A $a - b$ C $a + b$
B $b - a$ D $2b - a$

43. إجابة مختصرة ما قيمة $(x + y)(x + y)$ إذا كانت $xy = -3$ و $x^2 + y^2 = 10$ ؟

4. $4x^2 + y^2 = 10$

44. إجابة شبيهة إذا كانت $x = 2y$ و $z = 3y$ و $w = 4z$ ، فماذا هي قيمة $2z = w$ و $w \neq 0$ ؟

4. $\frac{3}{w}$

45. إذا كانت $c = 1 + \frac{1}{d}$ و $d > 1$ ، فإن c قد تساوي...

A $\frac{5}{7}$ C $\frac{15}{7}$
B $\frac{9}{7}$ D $\frac{19}{7}$

مراجعة شاملة

48. **الأعمال التجارية** قررت شركة صغيرة تقسيم 8% من أرباحها على مديريها السنة. يوجد في الشركة مدراء صدمات وأربعة مديريين آخرين. سيتم تقسيم خمسين بالمائة بأنتساوي على المديرين الستة، بينما سيتم تقسيم الـ 50% الأخرى على المديرين الأربعة الذين لا يعملون في الصدمات. افترض أن P تمثل الأرباح.

- a. اكتب تعبيراً لتمثيل حصة الأرباح التي سيستلمها كل مدير لا يعمل في الصدمات. $\frac{0.5(0.08P)}{6} + \frac{0.5(0.08P)}{4}$ (النسبة 19-2)
- b. حوّل التعبير لأبسط صورة. $\frac{0.02P}{3}$
- c. اكتب تعبيراً في أبسط صورة لتمثيل حصة الأرباح التي سيستلمها كل مدير صدمات. $\frac{0.02P}{3}$ (النسبة 19-1)

حوّل كل تعبير لأبسط صورة. (النسبة 19-1)

49. $\frac{3x^3}{4x^2} - 2p$ 50. $\frac{m+y}{m^2+p^2} - \frac{m+q}{m^2+q^2}$ 51. $\frac{x+y}{2x+y} - \frac{2x+y}{2x+y}$

52. $y = 2(3)^x$ 53. $y = 5(2)^x$ 54. $y = 0.5(4)^x$ 55. $y = 4(3)^x$

أوجد قيمة $f(x) + g(x)$ ، و $(f-g)(x)$ ، و $(f \cdot g)(x)$ ، و $(\frac{f}{g})(x)$ لكل من $f(x) = x + 9$ و $g(x) = x - 9$.

56. $f(x) = x + 9$ 57. $f(x) = 2x - 3$ 58. $f(x) = 2x^2$
 $g(x) = x - 9$ $g(x) = 4x + 9$ $g(x) = 8 - x$

59. **الهندسة** يبلغ عرض متوازي المستطيلات w cm ويقل الطول عن عرض المستطيلات بـ 2 cm. وتكون مساحة المستطيلات 4 cm². إذا كان حجم الصندوق يتساوى 8 أمثال قياس طوله، فأوجد أبعاد الصندوق. $w = 4$ cm, $l = 8$ cm, $h = 2$ cm

مراجعة المهارات

مثل مايتا كل دالة كثيرة الحدود. قرر إحداثيات المحور الأفقي x التي تحدث عندها الجذيران النسبويان العكسيان والجبري. حدد المجال وال المدى لكل من الدوال التالية. 60، 61. انظر ملحق إجابات الوحدة 9.

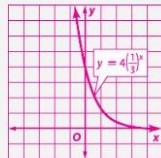
60 $f(x) = x^3 + 2x^2 - 3x - 5$ 61 $f(x) = x^4 - 8x^2 + 10$

56. $(f + g)(x) = 2x$; $(f - g)(x) = 18$;
 $(f \cdot g)(x) = x^2 - 81$; $(\frac{f}{g})(x) = \frac{x+9}{x-9}$, $x \neq 9$

57. $(f + g)(x) = 6x + 6$; $(f - g)(x) = -2x - 12$; $(f \cdot g)(x) = 8x^2 + 6x - 27$;
 $(\frac{f}{g})(x) = \frac{2x-3}{4x+9}$, $x \neq -\frac{9}{4}$

58. $(f + g)(x) = 2x^2 - x + 8$; $(f - g)(x) = 2x^2 + x - 8$; $(f \cdot g)(x) = -2x^3 + 16x^2$;
 $(\frac{f}{g})(x) = \frac{2x^2}{8-x}$, $x \neq 8$

55. $D = \{ \text{كافة الأعداد الحقيقية} \}$,
 $R = \{ y | y > 0 \}$



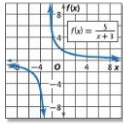
اختبار منتصف الوحدة

الدروس من 9-1 إلى 9-3

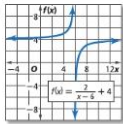
16. **القطار** ذهب وفاء إلى شاطئ يبعد 100 km. خطفت نصف المسافة بمتوسط 15 km/h. وقطعت المسافة المتبقية بمتوسط 50 km/h. إذا كانت x تمثل الوتيرة الأسرع بالكيلومتر في الساعة، فاكتب تعبيراً يمثل الزمن المتبقي لهذه الوتيرة $\frac{50}{x-15}$.
 b. اكتب تعبيراً يمثل مقدار الزمن المتبقي بالسرعة الأبطأ.
 c. اكتب تعبيراً يمثل مقدار الزمن الذي تحتاجه وفاء لإكمال رحلتها. $100(x-15)$

حدد خطوط التقارب والنجال والهدى لكل دالة. (الدروس 9-3)

17. $x = -3; f(x) = 0;$
 $D = \{x \mid x \neq -3\}$
 $R = \{f(x) \mid f(x) \neq 0\}$



18. $x = 6; f(x) = 4;$
 $D = \{x \mid x \neq 6\}$
 $R = \{f(x) \mid f(x) \neq 4\}$



www.amanahj.com

مثل بيانياً كل دالة معكوب وانكسر المجال والهدى. (الدروس 9-3)
 19-24. انظر ملحق إجابات الوحدة 9.

19. $f(x) = \frac{4}{x}$
 20. $f(x) = \frac{1}{3x}$
 21. $f(x) = \frac{6}{x-1}$
 22. $f(x) = \frac{-2}{x} + 4$
 23. $f(x) = \frac{3}{x+2} - 5$
 24. $f(x) = \frac{-1}{x-3} + 2$

25. **القطار** تسع مجموعة 45 شطيرة فتناولها في زحف. يعتمد عدد الشطائر التي يستمتع كل فرد تناولها على عدد الأشخاص المشاركين في الرحلة. (الدروس 9-3)

a. اكتب دالة لتمثيل هذه الحالة. $f(x) = \frac{45}{x}$
 b. مثل الدالة بيانياً. انظر الهامش.

حول كل تعبير لأبسط صورة. (الدروس 9-1)

- $\frac{2x^2y^3 + 4xy^2z + 2y^2z}{7x^2y - 18x^2y + 9x^4}$
- $\frac{24a^2b^3 + 7abc + 2a^2b^2}{35ab^3 + 7a^2c + 5}$
- $\frac{3x-3}{x^2+x-2} \cdot \frac{4x+8}{6x+18} \cdot \frac{2}{x+3}$
- $\frac{m^2+3m+2}{9} \cdot \frac{m+1}{3m+15}$
- $\frac{\frac{r+3}{r+1}}{\frac{3r}{3r+3}} \cdot r+3$
- $\frac{\frac{2y}{y^2-4}}{r^2-4r+4} \cdot \frac{2y(y-2)}{3(y+2)}$

7. الاختيار من متعدد حدد جميع قيم r حيث $r \neq \pm 2$

- A $\frac{r-2}{r+4}$ B $\frac{r+2}{r-4}$
 C $\frac{r+2}{r-4}$ D $\frac{r+4}{r+2}$

8. الاختيار من متعدد حدد جميع قيم x التي تكون عندها

- H $\frac{x^2-16}{x^2-6x-27}(x+1)$
 F $-3, -1$ H $-3, -1, 9$
 G $3, 1, -9$ J -1

9. ما الضاعف المشترك الأصغر لكل من $3x - x^2$ و $3x - 3(x-1)$ (الدروس 9-2)

حول كل تعبير لأبسط صورة. (الدروس 9-2)

- $\frac{2x}{4x^2y} + \frac{x}{3xy^3} - \frac{6xy^2 + 4x^2}{12x^2y^3}$
- $\frac{\frac{3}{4m} - \frac{2}{3m}}{\frac{4}{5} - \frac{1}{7}} - \frac{9n^2 + 8 - 48mn}{12mn^2}$
- $\frac{r^2-2r-15}{r^2-2r-15} \cdot \frac{r+r-6}{(r-8)(r+3)(r-2)}$
- $\frac{\frac{3x+6}{x+y} + \frac{6}{-x-y}}{\frac{3x}{x+y}}$
- $\frac{\frac{x-4}{x^2-3x-4} + \frac{x+1}{2x-8}}{\frac{x^2+4x-7}{2(x-4)(x+1)}}$

15. حدد محيط المستطيل. (الدروس 9-2)

$$\frac{18x-6}{(x-3)(x+1)}$$

$$\frac{6}{x-1}$$

644 | الوحدة 9 | اختبار منتصف الوحدة

التقييم التكويني

استخدم اختبار منتصف الوحدة لتقييم تقدم الطلاب في النصف الأول من الوحدة.

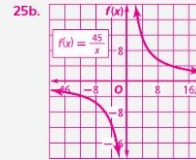
بالنسبة للمسائل الجواب عنها بشكل خاطئ، اطلب من الطلاب مراجعة الدروس المشار إليها في الأقواس.

مطويات منظم الدراسة

مطويات دينا زايفك

قبل أن ينتهي الطلاب من اختبار منتصف الوحدة، شجعهم على مراجعة معلومات الدروس من 9-1 إلى 9-3 المكتوبة في مطوياتهم.

إجابة إضافية





9-4 التمثيل البياني للدوال النسبية

1 التركيز

التخطيط الرأسي

قبل الدرس 9-4 تمثيل دوال المنقوب بيانياً.

الدرس 9-4 التمثيل البياني للدوال النسبية ذات خطوط التقارب الأفقية والرأسية. التمثيل البياني للدوال النسبية ذات خط التقارب المائل ونقطة الانفصال.

بعد الدرس 9-4 حل المعادلات النسبية باستخدام التمثيل البياني.

2 التدريس

أسئلة داعمة

اطلب من الطلاب قراءة قسم لماذا؟ الوارد في هذا الدرس.

أسأل:

- على ماذا يعتمد متوسط تكلفة طباعة الصور؟ حدد الصور المطبوعة
- ماذا يحدث لقيمة $C(p)$ مع زيادة قيمة p ؟ تنخفض.
- هل يمكن أن تكون $p = 0$ ؟ لا
- هل يمكن $C(p)$ أن تساوي 0؟ نعم.

تشتمل الدالة على صفر عند $350 - 0.47p$ ، أو حوالي -744.68 مع ذلك، لا تكون القيم السالبة واقعية لسبب الموقف.



- تمثيل الدوال النسبية ذات خطوط تقارب الأفقية والرأسية بيانياً
 - تمثيل الدوال النسبية ذات خط التقارب المائل ونقطة الانفصال بيانياً
- اشترت رنا آلة تصوير ذات عدسة أحادية عاكسة وطباعة صور مغايل AED 350. ويزعم المصنع أن الخبر وورقة الصورة تكلف AED 0.47. للصور الواحدة ويمكن استخدام الدالة النسبية $C(p) = 0.47p + 350$ لتحديد متوسط التكلفة $C(p)$ لطباعة p صورة.

تمثل الدوال النسبية ذات خطوط تقارب الأفقية والرأسية بيانياً

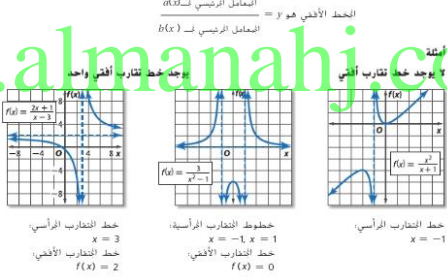
تمثل الدوال النسبية ذات خط التقارب المائل ونقطة الانفصال بيانياً

خطوط التقارب الأفقية والرأسية لإحدى الدوال النسبية معادلة في الصيغ

إذا كانت $f(x) = \frac{a(x)}{b(x)}$ حيث إن $a(x)$ و $b(x)$ دالتان كثيرتا الحدود و $b(x) \neq 0$ ، وتشتمل دالة نسبية بيانياً فمن المفيد تحديد موقع الأضمار وخطوط التقارب. يقع صفر الدالة النسبية $f(x) = \frac{a(x)}{b(x)}$ عند أي قيمة x يكون فيها $a(x) = 0$.

المفهوم الأساسي خطوط التقارب الأفقية والرأسية

- الشرح
- إذا كانت $f(x) = \frac{a(x)}{b(x)}$ وكان $a(x)$ و $b(x)$ دالتين كثيرتي الحدود ليس بينهما أي عامل مشترك سوى 1، وكان $b(x) \neq 0$ فإن:
 - $f(x)$ لها **خط تقارب رأسي** عندما تكون $b(x) = 0$.
 - $f(x)$ لها **خط تقارب أفقي** واحد على الأكثر.
 - إذا كانت درجة $a(x)$ أكبر من درجة $b(x)$ ، فلا يوجد خط تقارب أفقي.
 - إذا كانت درجة $a(x)$ أقل من درجة $b(x)$ ، فسيكون خط التقارب الأفقي هو الخط $y = 0$.
 - إذا كانت درجة $a(x)$ تساوي درجة $b(x)$ ، فسيكون خط التقارب الأفقي هو $y = \frac{\text{الحد الأعلى لـ } a(x)}{\text{الحد الأعلى لـ } b(x)}$.



- مفردات جديدة
- rational function
- دالة نسبية
- خط تقارب رأسي
- vertical asymptote
- خط تقارب أفقي
- horizontal asymptote
- خط تقارب مائل
- oblique asymptote
- نقطة الانفصال (عدم الاتصال)
- point discontinuity

ممارسات في الرياضيات 7 بمواد الرياضيات واستخدامها

جميع الحقوق محفوظة © مطبعة المنهج للنشر والتوزيع





يمكن استخدام خط التقارب للدالة النسبية لرسم التمثيل البياني للدالة إضافة إلى ذلك، يمكن استخدام خطوط التقارب لفحص التمثيل البياني في مناطق إيجاد الأرواح الصرية على التمثيل البياني.

التنبيه!
الأضداد مقابل خطوط التقارب الرأسية تقع أضداد الدالة النسبية عند القيم التي تجعل البسط مساوية للصفر. وتقع الخطوط الأفقية الرأسية عند القيم التي تجعل المقام مساوية للصفر.

مثال 1 التمثيل البياني بدون خط تقارب أفقي

مثلاً $f(x) = \frac{x^3}{x-1}$ بيانياً.

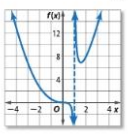
الخطوة 1 أوجد الأضداد.
اجعل $x = 0$: $x^3 = 0$
بأخذ الجذر التكعيبي لكل طرف: $x = 0$

الخطوة 2 ارسم خط التقارب.
أوجد خط التقارب الرأسي.
اجعل $x = 0$: $x - 1 = 0$
افرض أن $(x) = 0$: $x = 1$
اجمع 1 إلى كل طرف: $x = 1$

أوجد خط تقارب رأسي عند $x = 1$.
حيث إن درجة البسط أكبر من درجة المقام، إذاً لا يوجد خط تقارب أفقي.

الخطوة 3 ارسم التمثيل البياني.
استخدم الجدول لإيجاد الأرواح الصرية على التمثيل البياني. ثم صل النقاط ببعضها البعض.

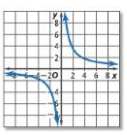
| x | f(x) |
|-----|-------|
| -3 | 6.75 |
| -2 | 2.67 |
| -1 | 0.5 |
| 0 | 0 |
| 0.5 | -0.25 |
| 1.5 | 6.75 |
| 2 | 8 |
| 3 | 13.5 |



نصيحة دراسية
حاسبة التمثيل البياني يمكن استخدامها خاصة TABLE في حاسبة التمثيل البياني لحساب قيم الكسور العشرية لكل من y و x .

حقوق الطبع والنشر © خطوط التعليم - مؤسسة التعليم الإلكتروني

1A. $f(x) = \frac{x^2 - x - 6}{x + 1}$



1B. $f(x) = \frac{(x+1)^2}{(x+2)^2}$

وفي الحياة اليومية، في بعض الأحيان تكون القيم الموجودة على التمثيل البياني لدالة نسبية غير ذات معنى، في التمثيل البياني الموجود على اليسار، لا يمكن أن تكون فيه x مثل الوقت والمسافة وعدد الأشخاص سلبية في سياق المسألة، إذاً فنحتاج إلى اعتبار هذا الجزء من التمثيل البياني.

646 | الدرس 4-9 | التمثيل البياني للدوال النسبية

التدريس باستخدام التكنولوجيا

تسجيل الفيديو اطلب من الطلاب عمل تسجيلات فيديو توضح كيفية تمثيل دالة نسبية بيانياً. اطلب من الطلاب وصف كيفية إيجاد خطوط التقارب الأفقية والرأسية، ومن ثم استخدم جدول قيم لرسم التمثيل البياني.

1 خطوط التقارب الأفقية والرأسية

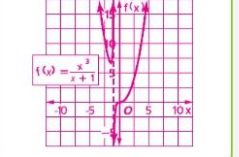
المثال 1 يوضح كيفية تحديد وتمثيل الدوال النسبية بيانياً التي ليس لها خطوط تقارب أفقية. **المثال 2** عبارة عن مسألة من الحياة اليومية توضح أنه عندما يتم استخدام دالة لتمثيل موقف حقيقي، فإن مجالها ذو المعنى قد يكون أصغر من مجال الرياضيات.

التقييم التكويني

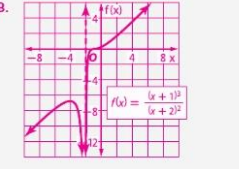
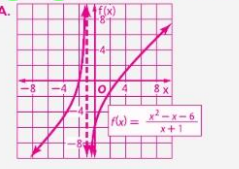
استخدم أسئلة "تدريب موجه" الموجودة بعد كل مثال للوقوف على استيعاب الطلاب للمفاهيم.

مثال إضافي

1 مثلاً $f(x) = \frac{x^3}{x+1}$ بيانياً.



إجابات إضافية (تدريب موجه)



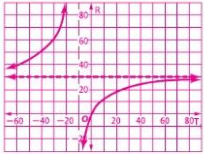
646 | الدرس 4-9 | التمثيل البياني للدوال النسبية



مثال إضافي

2 متوسط السرعة استخدم البوقف والصيغة المعقدة في المثال 2.

a. ارسم التمثيل البياني إذا كان $r_2 = 15$ كيلو متراً في الساعة.



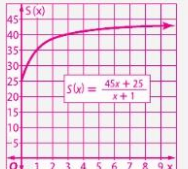
b. ما تقاطع R للتمثيل البياني؟ التقاطع R هو 0.
c. ما قيم المجال وال المدى التي لها معنى في سياق المسألة؟ تكون قيم r_1 أكبر من أو مساوية لـ 0 و 30 تكون ذات معنى.

2 خطوط التقارب المائلة ونقطة الاتصال

المثال 3 يوضح كيفية تمثيل دالة بيانياً مع خطوط تقارب مائلة. المثال 4 يوضح تمثيل بياني مع نقطة الاتصال.

إجابات إضافية (تمرين موجّه)

2. يجب أن يكون عدد سنوات العمل أكبر من أو مساوياً للعدد 0. ويجب أن تكون قيم الراتب بين 25 و 45. يمثل خط تقارب سقف راتب AED 45,000.

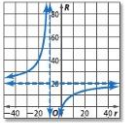


مثال 2 من الحياة اليومية استخدام التمثيل البياني للدوال النسبية

متوسط السرعة تحرك قارب عكس التيار على سرعة r_1 كيلومتر في الساعة. أثناء رحلة العودة إلى نقطة البدء الأصلية، تحرك القارب بسرعة r_2 كيلومتر في الساعة. وتقدم متوسط السرعة لرحلة

$$R = \frac{2r_1r_2}{r_1 + r_2}$$

كاملة R من خلال القانون. افترض أن R هو المتغير المستقل وافترض أن r_1 هو المتغير التابع. ارسم التمثيل البياني إذا كان $r_2 = 10$ أميال في الساعة.



تكون الدالة $R = \frac{2r_1(10)}{r_1 + 10}$ ويكون خط التقارب الرأسى $r_1 = -10$. مثل خط التقارب الرأسى والدالة بيانياً. لاحظ أن خط التقارب الرأسى $R = 20$.

b. ما تقاطع R للتمثيل البياني؟ التقاطع مع R هو 0.

c. ما قيم المجال وال المدى التي لها معنى في سياق المسألة؟

في سياق المسألة، قيم السرعات غير سالبة، وبالتالي تكون جميع قيم r_1 الأكبر من أو تساوي 0 وقيم R التي تقع بين العددين 0 و 20 ذات معنى.



مهنة من الحياة اليومية رقيق رئيس بحارة حرس السواحل الأمريكي يعتبر أكثر أخصاء فريق عمليات حرس السواحل الأمريكي تنوعاً في المهام، ويستطيع رقاد رؤساء بحارة حرس السواحل الأمريكي القيام بأى مهمة مطلوبة. ويتم التدريب لقيادة رقيق رئيس بحارة حرس السواحل الأمريكي من خلال 12 أسبوعاً من التدريب المكثف.

تمرين موجّه

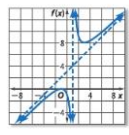
2. الرواتب تستخدم إحدى الشركات المظنون $S(x) = \frac{45x + 25}{x + 1}$ لتحديد الراتب السنوي بألاف الدراهم كمتوسط أثناء عامه الـ x. مثل S(x) مالياً، ما قيم المجال وال المدى التي لها معنى في سياق المسألة؟ وما معنى خط التقارب الأفقى للتمثيل البياني؟ انظر الهامش.

2 خطوط التقارب المائلة ونقطة عدم الاتصال

في بعض الأحيان خط التقارب المنحدر خطاً ليس رأسي ولا رأسي.

المفهوم الأساسي خط التقارب المائل

إذا كان $f(x) = \frac{p(x)}{q(x)}$ وكان $a(x)$ و $b(x)$ دالتين كثيرتي الحدود ليس بينهما أي عوامل مشتركة سوى 1 وكانت $b(x) \neq 0$ فإن $f(x)$ لها خط تقارب مائل إذا كانت درجة $a(x)$ أعلى من درجة $b(x)$ بمقدار واحد فقط. ويكون معادلة خط التقارب هي $y = \frac{p(x)}{q(x)}$ بقوى



مثال $f(x) = \frac{x^2 + 3x}{x - 1}$ خط التقارب الرأسى، $x = 1$ خط التقارب المائل، $y = x + 3$

التدريس المتمايز

التوسع تحدى الطلاب لشرح قواعد إيجاد خطوط التقارب الأفقية والمائلة. على الرغم من توضيح الوحدة للطلاب كيفية إيجادها، يمكن ترك شرح سبب عمل القواعد للطلاب الأكثر قدرة. ادعم جهودات الطلاب عن طريق الطلب منهم بأن يخصصوا تمثيلات بيانية ذات درجات متفاوتة في البسط والمقام والبحث عن أنماط عامة في خطوط التقارب.





مثال 3 حدد خط التفراب المائل

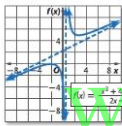
مثى $f(x) = \frac{x^2 + 4x + 4}{2x - 1}$ بيانيا.
الخطوة 1 أوجد الأسمار.

$x^2 + 4x + 4 = 0$ اجعل $d(x) = 0$.
 $(x + 2)^2 = 0$ عامل.
 $x + 2 = 0$ يأخذ الجذر التربيعي لكل طرف.
 $x = -2$ اطرح كل طرف 2 من كل طرف.
 يوجد صفر عند $x = -2$.

الخطوة 2 أوجد خط التفراب.

$2x - 1 = 0$ اجعل $d(x) = 0$.
 $2x = 1$ اجمع إلى كل طرف.
 $x = \frac{1}{2}$ اقسم كل طرف على 2.
 يوجد خط تفراب رأسي عند $x = \frac{1}{2}$.

حيث إن درجة البسط أكبر من درجة المقام، إذا يوجد خط تفراب أفقي.
 حيث إن الفرق بين درجة البسط ودرجة المقام يساوي 1.
 إذا يوجد خط تفراب مائل.
 انقسم البسط على المقام لتحديد معادلة خط التفراب المائل.
 إن معادلة خط التفراب هي ناتج القسمة باستثناء أي باق.
 وبالتالي، فإن خط التفراب المائل هو الخط $f(x) = \frac{1}{2}x + \frac{9}{4}$.



الخطوة 3 ارسم خط التفراب، ثم استخدم قيم الجدول لتمثيل الدالة بيانيا.

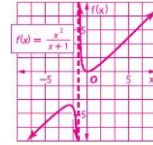
Micro-World Education | حياطة الطبخ | حياطة الطبخ | حياطة الطبخ | حياطة الطبخ

نصيحة دراسية

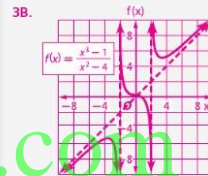
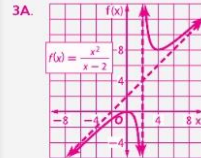
خط التفراب المائل يقع النسبية التي تشكل على بسط كثير الحدود أعلى درجة واحدة من مقام كثير الحدود.

مثال إضافي

مثى $f(x) = \frac{x^2}{x + 1}$ بيانيا.



إجابات إضافية (تمرين موجه)



تمرين موجه

مثى كل دالة بيانيا. 3A, 3B. انظر الهامش.

3A. $f(x) = \frac{x^2}{x - 2}$

3B. $f(x) = \frac{x^2 - 1}{x^2 - 4}$

وفي بعض الحالات، قد يحتوي التمثيل البياني للدوال النسبية على نقطة اتصال، والتي تشبه الفجوة في التمثيل البياني، ويرجع ذلك إلى أن الدالة تكون غير محددة في هذه النقطة.

التدريس المتميز OL

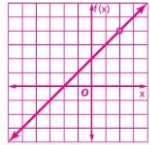
المتعلمون أصحاب النهج اللغوي/اللغوي اطلب من الطلاب كتابة قائمة بالتصائح لمساعدة شخص ما في رسم التمثيلات البيانية لدوال نسبية.





مثال إضافي

4. مثل $f(x) = \frac{x^2 - 4}{x - 2}$ بيانياً.



3 التمرين

التقييم التكويني

استخدم التمارين من 1 إلى 7 للتحقق من استيعاب الطلاب.

استخدم المخطط أسفل هذه الصفحة لتخصيص واجبات الطلاب.

تدريس الممارسات الرياضية

الاستنتاج يستوعب الطلاب المتفوقون في الرياضيات الكميات وعلاقتها في النواظف المذكورة في المسائل. يستنبح التفكير الكمي عادات. مثل وضع الطالب شيئاً منطقياً للمسألة التي يحلها، والتفكير في الوحدات المستخدمة في المسألة، والأرقام صحيحة الكميات، وليس فقط كيفية حسابها، ومعرفة الخصائص المختلفة للعمليات والأشياء واستخدامها بسهولة.

ملاحظات لحل التمرين

ورق مربعات بالنسبة للتمرين 1 إلى 42 و 51 إلى 53 سيحتاج الطلاب إلى ورق مربعات.

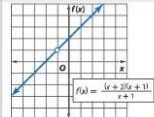
المتابعة

لقد استكثف الطلاب التعبيرات والدوال النسبية.

أسأل:

- كيف تنعكس خواص دالة تسمية في تشيلها البياني؟
- الإجابة النموذجية: تحدث خطوط التقارب الرأسية عند القيم التي تجعل المقام 0، وتحدث خطوط التقارب الأفقية عندما تكون درجة البسط أقل من أو مساوية لدرجة المقام؛ وتحدث خطوط التقارب المائلة عندما تختلف درجات البسط والمقام بعدد 1؛ وتحدث الفجوات عندما يتشارك البسط والمقام في عامل ذو حدين.

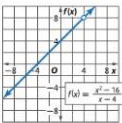
المفهوم الأساسي نقطة الانصال



إذا كانت $f(x) = \frac{a(x)}{b(x)}$ فإن $a(x) \neq 0$ و $b(x) \neq 0$ عند $x = c$ فنقل من $a(x)$ و $b(x)$ فسيوجد نقطة الانصال عند $x = c$

مثال $f(x) = \frac{(x+2)(x+1)}{x+1} = x+2, x \neq -1$

مثال 4 مثل بيانياً مع نقطة الانصال



مثل $f(x) = \frac{x^2 - 16}{x - 4}$

لاحظ أن $\frac{x^2 - 16}{x - 4} = \frac{(x+4)(x-4)}{x-4} = x+4$

وبالتالي، فإن التمثيل البياني هو التمثيل البياني $f(x) = x+4$ مع فجوة عند $x = 4$

تمرين **موجه** 4A، 4B. انظر الهامش. مثل كل دالة بيانياً.

4A. $f(x) = \frac{x^2 + 4x - 5}{x + 5}$

4B. $f(x) = \frac{x^2 + 2x^2 - 9x - 18}{x^2 - 9}$

تنبيه!

الفجوات تذكر أن العامل المشترك بين البسط والمقام يمكن أن يشير بوجود فجوة.

التحقق من فهمك

مثل كل دالة بيانياً. 1، 2 انظر ملحق إجابات الوحدة 9.

1. $f(x) = \frac{x^2 - 2}{x^2 - 1}$

2. $f(x) = \frac{x^3}{x+2}$

3. اشرح كيف تحلل موقع المهاجم بفرق كرة القدم. اشرح لماذا. وفي هذا التمرين، حقق على 7 من 11 كعباً ووجدت نسبة الأهداف المأخوذة، 0.63. هل كل ما يأخذك تحقيقاً، هل هذا متساوياً، يمكن تحديد نسبة الأهداف المأخوذة باستخدام الدالة $f(x) = \frac{x}{11+x}$ ؟

- a. مثل الدالة بيانياً.
- b. أي جزء من التمثيل البياني يعتبر ذي معنى في سياق المسألة؟ الجزء الموجود في الربع الأول 63.6%.
- c. اذكر معنى تقاطع المحاور الرأسي.
- d. ما معادلة خط التقارب الأفقي؟ اشرح معناها فيما يتعلق بنسبة أهداف حسن. $y = 1$ ويمثل هذا نسبة 100% والتي تعذر عليه تحقيقها نظراً لتفاوته 4 أهداف بالذم.

مثل كل دالة بيانياً. 4-7. انظر ملحق إجابات الوحدة 9.

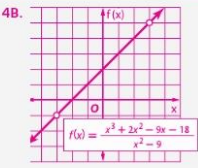
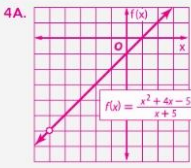
4. $f(x) = \frac{6x^2 - 3x + 2}{x}$

5. $f(x) = \frac{x^2 + 8x + 20}{x + 2}$

6. $f(x) = \frac{x^2 - 4x - 5}{x + 1}$

7. $f(x) = \frac{x^2 + x - 12}{x + 4}$

إجابات إضافية (تمرين موجه)





تمرين وحل المسائل

- مثال 1
 8. $f(x) = \frac{x^4}{6x + 12}$
 9. $f(x) = \frac{x^3}{8x - 4}$
 10. $f(x) = \frac{x^4 - 16}{x^2 - 1}$
 11. $f(x) = \frac{x^3 + 64}{16x - 24}$
 12a. $c(t) = \frac{9.5t - 75}{t - 15}$

انظر إلى الهامش للاطلاع على التمثيل البياني.
 12. الروح المدرسية بصحتها رئيسة فيجلس الطلاب. أمرت بديرة ببيع فئسان لتجيب طلاب تشجيعي. ويكلف كل فئس AED 9.50. كما يوجد رسوم إدارية يبلغ AED 75 ويحفظ مجلس الطلاب لبيع الفئسان. ولكن سيحصل كل من أعضاء مجلس الطلاب البالغ عددهم 15 طائفاً على فئس مجاناً. هـ. اكتب دالة فيتوسط تكلفة الفئس الذي سيبيع. ممل العالفة بيانياً. ط. ما متوسط التكلفة إذا تم طلب 200 فئس؟ وإذا تم طلب 500 فئس؟
 ج. كم عدد الفئسان التي يجب طلبها ليصبح متوسط التكلفة أقل من 9.75 AED أكثر من 895

- المثلة 2-3
 مثال كل دالة بيانياً. 13-26. انظر ملحق إجابات الوحدة 9.
 13. $f(x) = \frac{x}{x+2}$
 14. $f(x) = \frac{5}{(x-1)(x+4)}$
 15. $f(x) = \frac{4}{(x-2)^2}$
 16. $f(x) = \frac{x-3}{x+1}$
 17. $f(x) = \frac{1}{(x+4)^2}$
 18. $f(x) = \frac{2x}{(x+2)(x-5)}$
 19. $f(x) = \frac{(x-4)^2}{x+2}$
 20. $f(x) = \frac{(x+3)^2}{x-5}$
 21. $f(x) = \frac{x^3+1}{x^2-4}$
 22. $f(x) = \frac{4x^3}{2x^2+x-1}$
 23. $f(x) = \frac{3x^2+8}{2x-1}$
 24. $f(x) = \frac{2x^2+5}{3x+4}$
 25. $f(x) = \frac{x^4-2x^2+1}{x^3+2}$
 26. $f(x) = \frac{x^4-x^2-12}{x^3-6}$

27. المتطابقة يوضح النياز بالأمبير في دائرة كهربائية بها ثلاثة أجهزة مقاومة موصولين على التوالي من خلال المتعادلة $V = R_1 + R_2 + R_3$ حيث إن V هو الجهد بالفولت في الدائرة وكل من R_1 و R_2 و R_3 هي مقاومات أجهزة المقاومة الثلاثة بالأمبير.
 هـ. اترصد أن R_1 هو البصير المتصل بالبطارية أن R_2 هو البصير الذي يترك العالفة بيانياً إذا كان فولت $V = 120$ و $R_1 = 25$ و $R_2 = 75$ و $R_3 = 100$ و R_1 و R_2 و R_3 هي مقاومات أجهزة المقاومة الثلاثة بالأمبير. ط. اترصد ملحق إجابات الوحدة 9.
 ج. اترصد ملحق إجابات الوحدة 9.
 د. اترصد ملحق إجابات الوحدة 9.
 هـ. اترصد ملحق إجابات الوحدة 9.
 1.2. R_1 و R_2 و R_3 هي مقاومات أجهزة المقاومة الثلاثة بالأمبير. اترصد ملحق إجابات الوحدة 9.

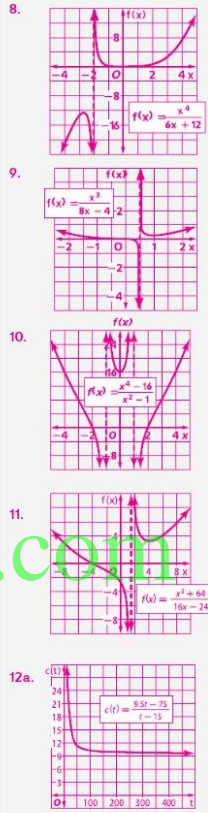
- مثال 4
 28. $f(x) = \frac{x^2 - 2x - 8}{x - 4}$
 29. $f(x) = \frac{x^2 + 4x - 12}{x - 2}$
 30. $f(x) = \frac{x^2 - 25}{x + 5}$
 31. $f(x) = \frac{x^2 - 64}{x - 8}$
 32. $f(x) = \frac{(x-4)(x^2-4)}{x^2 - 6x + 8}$
 33. $f(x) = \frac{(x+5)(x^2+2x-3)}{x^2 + 8x + 15}$
 34. $f(x) = \frac{3x^4 + 6x^3 + 3x^2}{x^2 + 2x + 1}$
 35. $f(x) = \frac{2x^4 + 10x^3 + 12x^2}{x^2 + 5x + 6}$

650 | الدرس 9-4 | التمثيل البياني للدوال النسبية

خيارات الواجب المنزلي المتميزة

| المستوى | الواجب | خيار اليومين |
|----------|---------------------------|---|
| AL مبتدئ | 8-35, 42, 44-61, 62 | 47-50 فردي و 9-35 و 42, 51-62 زوجي |
| OL أساسي | 9-35, 36-39, 41-42, 44-62 | 8-35, 47-50 فردي و 36-42, 44-46, 51-62 زوجي |
| BL متقدم | 62 (اختياري), 36-61 | |

إجابات إضافية



43. أوجه التشابه: يشتمل كلاهما على خطوط تقارب رأسية عند $x = 0$. يقرب كلاهما من 0 حيث تقرب x من $-\infty$ وتقرب من 0 حيث تقرب x من ∞ . أوجه الاختلاف: $f(x)$ لديها فجوات عند $x = 1$ و $x = -1$ بينما $g(x)$ تشتمل على خطوط تقارب رأسية عند $x = \sqrt{2}$ و $x = -\sqrt{2}$ و $x = 1$ و $x = -1$ تشتمل $f(x)$ على أصفار. ولكن $g(x)$ تشتمل على أصفار عند $x = 1$ و $x = -1$.

650 | الدرس 9-4 | التمثيل البياني للدوال النسبية



إجابة إضافية

46. الإجابة النموذجية: يمكنك تحديد خطوط التقارب لدالة نسبية من خلال التحليل إلى العوامل مقام دالة نسبية وتحديد القيم التي تجعل كل عامل مساوي لصفر. بعد التحليل إلى العوامل كل من بسط ومقام دالة نسبية، في حال وجود عامل مشترك $x - c$ ، إذا توجد نقطة انفصال عند $x = c$.

36. **الأعمال التجارية** اشترى علي كاسحة تلوح مغاليل AED 4500 ويعمل على إزالة الثلوج من مواقف السيارات للشركات المحلية، وفي كل مرة يزول الثلوج من موقف سيارات، يتكبد تكلفة قدرها AED 50 كيلترين والخصيانه.

- 37c. **الإجابة النموذجية: لا يمكن أن يكون عدد الشهور أو متوسط التكلفة قيمة سالبة.**
37. **المعرفة العالمية** اشترت هانا هاتفاً جديداً بتوفر فيه الوصول إلى الإنترنت، وقد كانت تكلفه الهاتف AED 150، وقد كانت تكلفه الاستخدام الشهريه AED 30 بالإضافة إلى AED 10 لكلمة الوصول إلى الإنترنت.
38. **التبرير المنطقي** تلعب سالي رياضة الكرة اللينة لمدرسة الفرشاه الثانوية، وأثناء هذا الموسم جعدت حتى الآن 4 ضربات من 12 من موقع الضارب، وهي عامرة على تحسين متوسط ضرباتها، فإذا كان بإمكانها الحصول على 3 ضربية متتالية، يمكن تحديد متوسط ضرباتها باستخدام $B(x) = \frac{4+x}{12+x}$ ، C تمثل متوسط ضربات الأصلي لها وهي 333.

- 38d. **هذا 100% وهي نسبة لا يمكنها تحقيقها حيث إنها أصعبت فرصة تحقيق ضربات 8 مرات.**
39. **معرفة العالم** اشترت هانا هاتفاً جديداً بتوفر فيه الوصول إلى الإنترنت، وقد كانت تكلفه الهاتف AED 150، وقد كانت تكلفه الاستخدام الشهريه AED 30 بالإضافة إلى AED 10 لكلمة الوصول إلى الإنترنت.
40. **التبرير المنطقي** تلعب سالي رياضة الكرة اللينة لمدرسة الفرشاه الثانوية، وأثناء هذا الموسم جعدت حتى الآن 4 ضربات من 12 من موقع الضارب، وهي عامرة على تحسين متوسط ضرباتها، فإذا كان بإمكانها الحصول على 3 ضربية متتالية، يمكن تحديد متوسط ضرباتها باستخدام $B(x) = \frac{4+x}{12+x}$ ، C تمثل متوسط ضربات الأصلي لها وهي 333.

41. **معرفة العالم** اشترت هانا هاتفاً جديداً بتوفر فيه الوصول إلى الإنترنت، وقد كانت تكلفه الهاتف AED 150، وقد كانت تكلفه الاستخدام الشهريه AED 30 بالإضافة إلى AED 10 لكلمة الوصول إلى الإنترنت.
42. **مسائل مهارات التفكير العليا** استخدم مهارات التفكير العليا
43. **مسألة غير محددة الإجابة** ارسم التمثيل البياني للدالة النسبية حدد تقارب أفقي $y = 1$ وخط تقارب رأسي $x = -2$. **انظر ملحق إجابات الوحدة 9.**
44. **التبرير** ما الفرق بين التمثيلين البيانيين للدالة $f(x) = x - 2$ و $g(x) = \frac{x(x+3)(x-2)}{x+3}$ ؟
45. **البيانات** دالة نسبية تعطى بالصيغة $\frac{a(x)}{b(x)}$ حيث إن $a(x)$ و $b(x)$ دالتان كثيرتا الحدود و $b(x) \neq 0$ ، برهن أن $f(x) = \frac{x}{a-b} + c$ دالة نسبية، $\rightarrow \frac{x+ca-b}{a-b}$ **45. $f(x) = \frac{x}{a-b} + \frac{ca-b}{a-b}$**
46. **الكتابة في الرياضيات** كيف يمكن استخدام التحليل إلى العوامل لتحديد خط التقارب الرأسي أو نقطة الانفصال لدالة النسبية؟ **انظر الهامش.**

39. $f(x) = \frac{x+1}{x^2+6x+5}$ 40. $f(x) = \frac{x^2-10x-24}{x+2}$ 41. $f(x) = \frac{6x^2+4x+2}{x+2}$

مسائل مهارات التفكير العليا

42. **مسألة غير محددة الإجابة** ارسم التمثيل البياني للدالة النسبية حدد تقارب أفقي $y = 1$ وخط تقارب رأسي $x = -2$. **انظر ملحق إجابات الوحدة 9.**
43. **التبرير** ما الفرق بين $f(x) = \frac{x}{x+2}$ و $g(x) = \frac{x}{x+2} + \frac{1}{x+2}$ ؟ **انظر الهامش.**
44. **التبرير** ما الفرق بين التمثيلين البيانيين للدالة $f(x) = x - 2$ و $g(x) = \frac{x(x+3)(x-2)}{x+3}$ ؟
45. **البيانات** دالة نسبية تعطى بالصيغة $\frac{a(x)}{b(x)}$ حيث إن $a(x)$ و $b(x)$ دالتان كثيرتا الحدود و $b(x) \neq 0$ ، برهن أن $f(x) = \frac{x}{a-b} + c$ دالة نسبية، $\rightarrow \frac{x+ca-b}{a-b}$ **45. $f(x) = \frac{x}{a-b} + \frac{ca-b}{a-b}$**
46. **الكتابة في الرياضيات** كيف يمكن استخدام التحليل إلى العوامل لتحديد خط التقارب الرأسي أو نقطة الانفصال لدالة النسبية؟ **انظر الهامش.**



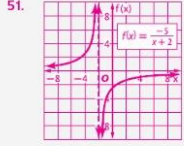
جميع الحقوق محفوظة © مؤسسة الامانة للتعليم الإلكتروني



4 التقييم

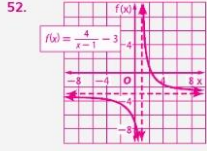
تعيين مصطلح الرياضيات اطلب من الطلاب كتابة الأمثلة الخاصة بهم للدوال النسبية وتمثيلها بيانياً. مع توضيح أي خطوط تقارب أو نقاط انحناء.

إجابات إضافية



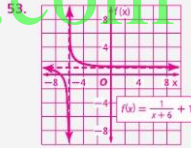
$$D = \{x \mid x \neq -2\},$$

$$R = \{f(x) \mid f(x) \neq 0\}$$



$$D = \{x \mid x \neq 3\},$$

$$R = \{f(x) \mid f(x) \neq -3\}$$



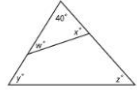
$$D = \{x \mid x \neq -6\},$$

$$R = \{f(x) \mid f(x) \neq 1\}$$

تدريب على الاختبارات المعيارية

49. **إجابة شكية** تقع خمس نقاط مختلفة في مستوى بحيث كان 3 من النقاط على المستقيم f و 3 على g من النقاط على مستقيم آخر m . ما إجمالي عدد المستقيبات التي يمكن رسمها بحيث يمر كل مستقيم بخطوتين من النقاط الخمس؟

50. **هندسة** في الشكل أدناه، ما قيمة $w + x + y + z$ ؟



- A 140
- B 280
- C 320
- D 360

47. **الاحتمالات** من بين الفترات الست التي يقدمها قسم الموسيقى في مدرسة خولة، يجب أن تختار خولة اثنين بالضبط منها، فكم عدد التوافيق المحتملة للفترتين التي ستختارهما خولة إذا لم تكن هناك قيود على الفترات التي يمكنها اختيارها؟

- A 48
- B 18
- C 15
- D 12

48. يتم تقديم التذاكر المتوفرة للعبة من خلال المعادلة $S(p) = \frac{3000}{2p + 5}$ حيث إن $S(p)$ هو عدد التذاكر المتبقية بالذات، و p هو سعر التذكرة بالدرهم و p هو الثمن. إذا تم بيع 100,000 تذكرة مقابل 10 AED للعبة، فكم عدد التذاكر التي سيتم بيعها بمقابل 20 AED للعبة؟

- F 20,000
- G 50,000
- H 60,000
- J 150,000

مراجعة شاملة

مثل كل دالة بيانياً، واذكر المجال والمدى. (الدرس 9:3) 51-53. **انظر الهامش.**

51. $f(x) = \frac{-5}{x+2}$ 52. $f(x) = \frac{4}{x-1} - 3$ 53. $f(x) = \frac{1}{x+6} + 1$

حوّل كل تعبير لأبسط صورة. (الدرس 9:2)

54. $\frac{m}{m^2-4} + \frac{2}{3m+6} = \frac{5m-8}{3(m+2)(m-2)}$ 55. $\frac{y}{y+3} - \frac{6y}{y^2-9} = \frac{y(y-9)}{(y+3)(y-3)}$

56. $\frac{5}{x^2-3x-28} + \frac{7}{2x-14} = \frac{7x+38}{2(x-7)(x+4)}$ 57. $\frac{d-4}{d^2+2d-8} - \frac{d+2}{d^2-16} = \frac{-8d+20}{(d-4)(d+4)(d-2)}$

حوّل كل تعبير لأبسط صورة.

58. $\frac{5}{y^3} \cdot \frac{y^2}{y^2} \cdot \frac{y^2}{y^2}$ 59. $\frac{3}{x^2} \cdot \frac{4}{x^2} \cdot \frac{4}{x^2}$ 60. $\left(\frac{1}{3}\right)^{\frac{1}{2}}$ 61. $\left(\frac{1}{3}\right)^{\frac{1}{2}}$

مراجعة المهارات

62. **الاتصال** يأخذ كل من السيد فيد وجرية انضمام إلى الكلية. يوضح الجدول مسافتيهم من المنزل بعد أرمدة مختلفة.

a. أوجد متوسط معدل التغيير في مسافتيهم من المنزل بين ساعة واحدة إلى 3 ساعات بعد مغادرة المنزل. 55 km/h

b. أوجد متوسط معدل التغيير في مسافتيهم من المنزل بين 0 ساعة واحدة إلى 5 ساعات بعد مغادرة المنزل. 45 km/h

| الزمن (h) | المسافة (km) |
|-----------|--------------|
| 0 | 0 |
| 1 | 55 |
| 2 | 110 |
| 3 | 165 |
| 4 | 165 |
| 5 | 225 |

652 | الدرس 9-4 | التمثيل البياني للدوال النسبية

التدريس المتميز

التوسع ارسم خطأ مستقيماً على اللوحة، ولكن اترك فجوة في المستقيم لبعض القيم الحقيقية للرمز x . على سبيل المثال، ارسم المستقيم ليبتل $y = x - 2$ ، ولكن اترك الفجوة عند النقطة $(-1, -1)$. اطلب من الطلاب كتابة دوال نسبية محتملة يمكن وصفها من خلال التمثيل البياني. توجد عدة إجابات ممكنة، طالما $x = 1$ تعبر قيمة مستقيمة وتكون الصيغة المحولة لأبسط صورة للدالة هي $f(x) = x - 2$.

الإجابة النموذجية: $f(x) = \frac{x^2 - 3x + 2}{x - 1}$ أو $f(x) = \frac{(x-1)(x-2)}{x-1}$.

652 | الدرس 9-4 | التمثيل البياني للدوال النسبية

1 التركيز

الهدف استخدام حاسبة التمثيل البياني لاستكشاف التمثيلات البيانية للدوال النسبية.

المواد الخاصة لكل مجموعة

- حاسبة التمثيل البياني

نصيحة للتدريس

قد يجد الطلاب أنه من الضروري أن يجربوا من خلال خاصية ضغط التمثيل البياني الموجودة على يسار المعادلة في محرر الدالة (قائمة Y=). يمكنهم البدء باستخدام النمط المستقيم المعتاد، الموضح بواسطة رمز الخط المائل العكسي. يبطن نمط المسار التمثيل البياني وبالتالي يمكن للطلاب تتبعه بشكل أكثر سهولة. فالرمز الخاص به عبارة عن خط للألة الحاسبة، علامة سالب تلمس الصفر.

2 التدريس

العمل في مجموعات تعاونية

- اطلب من الطلاب العمل في مجموعات ثنائية لإكمال النشاطين 1 و 2.
- قد يحتاج الطلاب إلى تتبع تمثيل بياني أعلى من النافذة الحالية من أجل تحديد خطوط التقارب بالتحديد.
- التمثيل البياني بواسطة الآلة الحاسبة في وضع المتصل قد يبدو وكأنه يرسم تقريباً بيانياً لخط تقارب رأسي عندما يقوم بمجرد وصل بيكسلين متتاليين على تمثيل بياني. والتحول لوضع التنظيف سيزيل هذه الإمكانية.

تمرين اطلب من الطلاب إضام التمارين من 1 إلى 6.

3 التمرين

التقييم التكويني

استخدم التمارين من 1 إلى 3 لتقييم ما إذا كان يمكن للطلاب استخدام حاسبة التمثيل البياني في التمثيل البياني لدوال الجذر التوحي.




مختبر تقنية التمثيل البياني 9-4 التمثيل البياني للدوال النسبية

يمكن استخدام حاسبة التمثيل البياني لاستكشاف التمثيل البياني للدوال النسبية. تحتوي هذه التمثيلات البيانية على بعض الخواص التي لا تظهر مطلقاً على التمثيل البياني للدوال كثرات الحدود.

نشاط 1 مثل بيانياً مع خطوط التقارب

مثل $y = \frac{8x-5}{2x}$ بيانياً في نافذة العرض القياسية. أوجد معادلات أي خطوط تقارب. اذكر المجال وال المدى للذالة.



[-10,10] x [-10,10] scl: 1

الخطوة 1 أدخل المعادلة في القائمة Y= ثم مثل بيانياً خطوات العملية على الحاسبة: $Y= \left(\frac{8 \times T, \theta, n}{2} - 5 \right) \div 2$ ZOOM 6

الخطوة 2 نتحقق التمثيل البياني. بالنظر إلى المعادلة، يمكننا تحديد ما إذا كان $x = 0$ فإن الدالة غير محددة. تكون معادلة خط التقارب الرأسي هي $x = 0$ لاحظ ما يحدث قيم x بينما تزيد x . وبمسا تعديل x فنحرب قيمة y من 4. إذا، فمعادلة خط التقارب الأفقي $y = 4$ يساوي المجال ($x \neq 0$)، و مساوي المدى جميع الأعداد الحقيقية.

النشاط 2 مثل بيانياً مع نقطة الإنفصال

مثل $y = \frac{x^2-16}{x+4}$ بيانياً في النافذة [-5, 4.43] في [-10, 23] بعوامل قياس 1.



[-5,4.43] x [-10,23] scl: 1

الخطوة 1 حيث إن الدالة غير منصلة، ضع الحاسبة على النمط DOT خطوات العملية على الحاسبة: MODE ENTER

الخطوة 2 نتحقق التمثيل البياني. يبدو هذا التمثيل البياني كمنحني بدون فجوة في الانفصال $x = -4$ ويحدث ذلك لأن المقام يكون 0 عندما يكون $x = -4$ وبالتالي تكون الدالة غير محددة عندما يكون $x = -4$ إذا تتبعتم التمثيل البياني عندما نصل إلى $x = -4$ فسنجد أنه لا يوجد قيمة مطابقة لـ y .

تمارين

استخدم حاسبة التمثيل البياني لتمثيل كل دالة بيانياً. اكتب الإحداثي x لأي نقاط انفصال وأومعادلات أي خط تقارب. اذكر المجال وال المدى.

- $f(x) = \frac{1}{x}, x = 0, y = 0; D = \{x | x \neq 0\}, R = \{y | y \neq 0\}$
- $f(x) = \frac{x}{x+2}, x = -2, y = 1; D = \{x | x \neq -2\}, R = \{y | y \neq 1\}$
- $f(x) = \frac{2}{x-4}, x = 4, y = 0; D = \{x | x \neq 4\}, R = \{y | y \neq 0\}$
- $f(x) = \frac{2x}{3x-6}, x = 2, y = \frac{2}{3}; D = \{x | x \neq 2\}, R = \{y | y \neq \frac{2}{3}\}$
- $f(x) = \frac{4x+2}{x-1}, x = 1, y = 4; D = \{x | x \neq 1\}, R = \{y | y \neq 4\}$
- $f(x) = \frac{x^2-9}{x+3}, x = -3$ نقطة التقاطع عند $x = -3$ $R, D = \{x | x \neq -3\}$ (جميع الأعداد الحقيقية)

653

توسيع المفهوم

عند الأعداد لدراسة تغير عكسي، اطلب من الطلاب تمثيل بياني بيانياً لـ $y = \frac{1}{x}$ و $y = \frac{2}{x}$ و $y = \frac{3}{x}$. و على نفس الشاشة وصف التشابهات بينهما. تعتبر محاور الإحداثي خطوط تقارب للتمثيلات البيانية لكافة الدوال الأربعة.

من الملموس إلى المجرد

تمرين 5 اطلب من الطلاب تطبيق استنتاجاتهم لرسم التمثيل البياني لدالة نسبية عامة.



دوال التغير 9-5



لماذا؟
عند بناء منحدرات الترفع، حدد مازن أن أحضان المنحدرات كانت التي زاد فيها طول أعمال المنحدر عن ارتفاع المنحدر بـ 15 ضعف. وكما هو موضح في الجدول، فإن طول أعمال المنحدر يمتد، على ارتفاع المنحدر، ويزيد الطول كلما زاد الارتفاع، ولكن تظل النسبة كما هي أي تكون ثابتة. ويمكن كتابة المعادلة $\frac{h}{l} = 15$ في الصورة $h = 15l$. وبالتالي فإن الطول يتغير طرديًا مع ارتفاع المنحدر.

الحالي
1 التعرف على مسائل التغير الطردي والمشتك وحلها.
2 التعرف على مسائل التغير العكسي والمركب وحلها.

السابق
• كتبت وملتت المعادلات الخطية بيانًا.
• التعرف على مسائل التغير العكسي والمركب وحلها.

1 التركيز

التخطيط الرأسي

- قبل الدرس 9-5 كتابة ورسم تمثيل بياني لمعادلات خطية
- الدرس 9-5 التعرف على مسائل التغير الطردي والمشتك وحلها. التعرف على مسائل التغير العكسي والمركب وحلها.
- بعد الدرس 9-5 تمثيل الدوال الزائدية بيانيًا.

2 التدريس

أسئلة داعمة

- اطلب من الطلاب قراءة قسم **لماذا؟** الوارد في هذا الدرس.
- اسأل:**
 - إذا كان ارتفاع منحدر التزلج يزيد، فماذا يحدث لعمق قبة المنحدر التزلج؟ **يزيد.**
 - إذا كانت h تنقص، فماذا يحدث لـ l ؟ **تنقص.**
 - أي قيمة تظل ثابتة؟ **النسبة $\frac{h}{l}$ التي تساوي 15.**

التغير الطردي والمشتك تعبر العلاقة المبسطة بـ $l = 15h$ مثلاً على التغير الطردي. يمكن التعبير عن **التغير الطردي** في الصورة $l = ky$. وفي هذه المعادلة، يطلق على k **ثابت التغير**.

لاحظ أن التمثيل البياني لـ $l = 15h$ هو خط مستقيم يمر بنقطة الأصل. يعتبر التغير الطردي حالة خاصة لمعادلة مكتوبة في صيغة الميل والقطع $l = mx + b$ عندما يكون $b = 0$ ، أي $l = 15h$ فإن h فإن ميل معادلة التغير الطردي هو ثابت التغير الخاص بها.

وللتعبير عن التغير العكسي، نقول إن l تتغير طرديًا مع x . بعبارة أخرى، عندما تزيد x ، تزيد l أو تنقص بمعدل ثابت.

المفهوم الأساسي: التغير الطردي

الشرح: l تتغير طرديًا مع x إذا كان هناك ثابت k موجب بحيث يكون $l = kx$ و k يطلق عليها **ثابت التغير**.

مثال: إذا كان $l = 3x$ و $x = 7$ ، فإن $l = 3(7) = 21$.

إذا عرفت أن l تتغير طرديًا مع x ومجموعة واحدة من القيم، يمكنك استخدام التناسب لإيجاد المجموعة الأخرى من القيم البديلة.

مثال: إذا كان $l = 3x$ و $l = 21$ ، فإن $x = 7$. بالمثل، إذا كان $l = 3x$ و $x = 7$ ، فإن $l = 21$.

بإستخدام خواص المساواة، يمكنك إيجاد العديد من علاقات التناسب الأخرى التي تربط بين نفس قيم x و l .

- مفردات جديدة**
- التغير الطردي
 - direct variation
 - ثابت التغير
 - constant of variation
 - التغير المشترك
 - joint variation
 - التغير العكسي
 - inverse variation
 - التغير المركب
 - combined variation

- ممارسات في الرياضيات**
- 1 فهم طبيعة المسائل والمثابرة في حلها.
 - 4 استخدام النماذج الرياضية.



1 التغير الطردي والتغير المشترك

المثال 1 يوضح كيفية استخدام التناسب لتحليل تغير طردي بسيط. **المثال 2** يوضح كيفية حل معادلة تغير مشترك.

التقييم التكويني

استخدم أسئلة "تصنيف موجّه" الموجودة بعد كل مثال للوقوف على استيعاب الطلاب للمفاهيم.

أمثلة إضافية

- إذا كان y يتغير طرديًا مع x و $-15 = y$ حيث يكون $x = 5$. فأوجد y حيث يكون $x = 3$.
- افترض أن y يتغير بشكل مشترك مع x و z . أوجد y حيث تكون $x = 10$ و $z = 5$. إذا كانت $y = 12$ حيث تكون $z = 8$ و $x = 52$.

انتبه!

تجنب الأخطاء ناقش مع الطلاب كيفية كتابة معادلات التغير التي تشمل على ثابت التغير.

التركيز على محتوى الرياضيات

التغير الطردي والعكسي يمكن في بعض الأحيان تحديد نوع التغير الموجود من جدول القيم للحصول على x و y . إذا كان لناتج القسمة $\frac{y}{x}$ قيمة ثابتة، فإن y يتغير طرديًا مع x . إذا كان لناتج الضرب xy قيمة ثابتة، فإن y يتغير عكسيًا مع x .

مثال 1 التغير الطردي

إذا تغيرت y طرديًا مع x و $y = 15$ عندما يكون $x = -5$ ، أوجد y عندما يكون $x = 7$. استخدم التناسب الذي يربط هذه القيم ببعضها البعض.

$$\frac{y_1}{x_1} = \frac{y_2}{x_2}$$

$$\frac{15}{-5} = \frac{y_2}{7}$$

$$15(7) = -5(y_2)$$

$$105 = -5y_2$$

$$-21 = y_2$$

التغير الطردي

$$y_1 = 15, x_1 = -5, x_2 = 7$$

اضرب ضربًا تقاطعيًا.

بسط.

اقسم كل طرف على -5 .

تدريب موجّه

1. إذا كان r تغير طرديًا مع t و $r = -20$ عندما يكون $t = 4$ ، فأوجد r عندما يكون $t = -6$.

من أنواع التغير الأخرى التغير المشترك. يحدث **التغير المشترك** عندما تغير كمية واحدة طرديًا مع ناتج ضرب لثنتين أو أكثر من الكميات الأخرى.

المفهوم الأساسي التغير المشترك

الشرح y يتغير بشكل مشترك مع x إذا كان هناك ثابت غير صفري k بحيث يكون $y = kxz$. **مثال** إذا كان $y = 5xz$ و $x = 6$ و $z = -2$ ، إذا $y = 5(6)(-2) = -60$.

نصيحة دراسية التغير المشترك يتغير مع علماء الرياضيات التغير المشترك نوعًا خاصًا من التغير المركب.

إذا عرفت أن y يتغير بشكل مشترك مع x و z ومجموعة واحدة من القيم، يمكنك استخدام التناسب لإيجاد المجموعة الأخرى من القيم المتطابقة.

$$y_1 = kx_1z_1 \quad \text{و} \quad y_2 = kx_2z_2$$

$$\frac{y_1}{x_1z_1} = \frac{y_2}{x_2z_2} \quad \text{وبالتالي} \quad \frac{y_1}{x_1z_1} = k \quad \text{و} \quad \frac{y_2}{x_2z_2} = k$$

مثال 2 التغير المشترك

افترض أن y يتغير بشكل مشترك مع x و z . أوجد y عندما تكون $x = 9$ و $z = 2$ إذا كانت $y = 20$ عندما تكون $x = 5$ و $z = 3$. استخدم التناسب الذي يربط هذه القيم ببعضها البعض.

$$\frac{y_1}{x_1z_1} = \frac{y_2}{x_2z_2}$$

$$\frac{20}{(5)(3)} = \frac{y_2}{(9)(2)}$$

$$20(9)(2) = 5(3)(y_2)$$

$$360 = 15y_2$$

$$24 = y_2$$

$$y_1 = 20, x_1 = 5, z_1 = 3, x_2 = 9, z_2 = 2$$

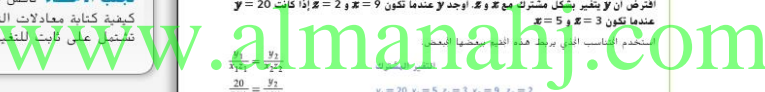
اضرب ضربًا تقاطعيًا.

بسط.

اقسم كل طرف على 15.

تدريب موجّه

2. افترض أن r يتغير بشكل مشترك مع t و s . أوجد r عندما يكون $t = 2$ و $s = 8$ إذا كان $r = 70$ عندما يكون $t = 4$ و $s = 28$.





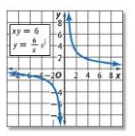
2 التغيير العكسي والمركب نوعان آخران من أنواع التغيير. إذا كانت الكمية x و y بينهما علاقة تغير عكسي فإن ناتج ضربهما يساوي الثابت k .

وتوصف علاقة التغيير العكسي في أغلب الأحيان بأنها زيادة إحدى الكميات مع تناقص الكمية الأخرى فعلى سبيل المثال، يتغير كل من السرعة والزمن والمسافة ثابتة عكسياً مع بعضها البعض، وكلما زادت سرعتك، قل الزمن الذي تستغرقه للوصول.

المفهوم الأساسي للتغيير العكسي

الشرح
 y تتغير عكسياً مع x إذا كان هناك ثابت غير صفري k بحيث يكون $xy = k$ أو $y = \frac{k}{x}$ حيث يكون $x \neq 0$ و $y \neq 0$.

مثال
 إذا كان $xy = 2$ و $x = 6$ فإن $y = \frac{2}{6}$ أو $y = \frac{1}{3}$



افترض أن y تتغير عكسياً مع x بحيث يكون $xy = 6$ أو $y = \frac{6}{x}$. ووضوح التمثيل البياني لهذه المعادلة على المحاور، حيث إن k قيمة موجبة، ومع تزايد قيمة x ، تتناقص قيمة y . لاحظ أن التمثيل البياني للتغيير العكسي يكون دالة عكسية.

ويتم استخدام التناسب مع التغيير العكسي لحل المسائل التي تكون فيها الكميات معروفة، وتعتبر علاقة التناسب التبادلية واحدة من علاقات التناسب المتعددة التي يمكن تشكيلها.

$x_1 y_1 = k$ و $x_2 y_2 = k$

عكسية التعميم في المعادلة: $x_1 y_1 = x_2 y_2$

أقسم كل طرف على $y_1 y_2$: $\frac{x_1}{y_2} = \frac{x_2}{y_1}$

نصيحة دراسية
التغيير الطردي والعكسي
 يمكنك تحديد نوع التغيير بالأطلاع على جدول قيم كل من x و y . إذا كان ناتج قسمة y يساوي قيمة ثابتة، فإن y تتغير طردياً مع x . إذا كان ناتج ضرب y يساوي قيمة ثابتة، فإن y تتغير عكسياً مع x .

2 التغيير العكسي والتغير المركب

المثال 3 يوضح كيفية استخدام تناسب لحل مسألة تغير عكسي. **المثال 4** يقدم مثالا على التطبيق السياقي للتغيير العكسي. **المثال 5** يوضح كيفية حل معادلة تغير مركب.

مثال إضافي

3 إذا كان r يتغير عكسياً مع t و $r = -6$ حيث يكون $t = 2$. **المثال 4** فأوجد r حيث يكون $t = -7$.

نصيحة للمعلمين الجدد

طريقة بديلة في المثال 3، قد يرغب الطلاب في حل المسألة باستخدام المعادلة $a_1 b_1 = a_2 b_2$.

نصيحة للمعلمين الجدد

الاستنتاج المنطقي ساعد الطلاب على استيعاب الفرق بين نوعي التغيير باستخدام مثال السرعة والمسافة ووقت القيادة، عند القيادة على معدل محدد، تزيد المسافة بزيادة وقت القيادة (طردي)، ومع ذلك، لسافة محددة، يقل الوقت اللازم بزيادة السرعة (عكسي).

مثال 3 التغيير العكسي

إذا كانت h تتغير عكسياً مع g و $g = 28$ و $h = -2$ ، فأوجد h عندما يكون $g = -10$.

استخدم التناسب الذي يربط هذه القيم ليبحثوا الجواب.

$\frac{g_1}{h_1} = \frac{g_2}{h_2}$ **تغيير عكسي**

$\frac{28}{-2} = \frac{g_2}{-10}$ **استبدال القيم المعروفة**

$28(-2) = -10(g_2)$ **الضرب ضرباً تبادلياً**

$-56 = -10(g_2)$ **بسط**

$5\frac{6}{5} = g_2$ **أقسم كل طرف على -10**

تمرين موجّه
 3. إذا كانت x تتغير عكسياً مع y وكانت $x = 24$ عندما كانت $y = 4$ ، فأوجد x عندما يكون $y = 12$.

يستخدم التغيير العكسي في أغلب الأحيان في مواقف من الحياة اليومية.

Copyright © Glencoe/McGraw-Hill, a division of The McGraw-Hill Companies, Inc.



أمثلة إضافية

- 4 الضياء** استخدم المعلومات الآتية من التبرين الموجه وحقيقة أن كوكب الزهرة يبعد مسافة 107.8 مليون كيلو متر عن الشمس. كم سيبدو قطر الشمس أكبر على الزهرة منه من الأرض؟ أكبر بنحو 1.39 مرة.
- 5** افترض أن f بتغير طردياً مع g و f بتغير عكسياً مع h . أوجد g حيث يكون $f = 6$ و $h = -5$. إذا كان $g = 18$ حيث يكون $h = 3$ و $f = 5$.

التدريس باستخدام التكنولوجيا

التسجيل الصوتي قم بعمل تسجيل لعدد من أمثلة التغير مقروء بصوت عال. قم بتشغيل التسجيلات للصف (أو حبلهم على مشغلات الوسائط المتنقلة الخاصة بالطلاب) واطلب من الطلاب كتابة وحل مسائل التغير.

مثال 4 من الحياة اليومية: اكتب علاقة التغير العكسي وحلها

الموسيقى بتغير طول أوت الكمان عكسياً مع تردد اهتزازاته. ويهتز وتر كمان طوله 25.4 بوصات بتردد 512 دورة في الثانية. أوجد تردد وتر كمان طوله 20.3 بوصات. افترض أن $v_1 = 25.4$ و $f_1 = 512$ و $v_2 = 20.3$. أوجد الحل لإيجاد قيمة f_2 .

$$v_1 f_1 = v_2 f_2$$

المعادلة الأصلية

$$25.4 \cdot 512 = 20.3 \cdot f_2$$

$$\frac{13004.8}{20.3} = f_2$$

$$640.6 = f_2$$

القسمة كل طرف على 20.3.

يهتز وتر الكمان الذي يبلغ طوله 20.3 سنتيمترات بتردد 640 دورة في الثانية.



الربط بالحياة اليومية

عندما تفرق وتر الأوت الموسيقية، تبدأ في الاهتزاز هناك وإنتاج وتنتج ذلك في الشكل الطاقة المتذبذبة. عند اهتزاز وتر موسيقى موجات وتنتج على عدد البرات التي تستخدم بها الموجات بسيطة الآن في الثانية كدنيا التردد ولكنما زاد عدد الموجات في الثانية. كلما زادت حدة الصوت.

تبرين هوجته

4 يتناسب الطول الظاهر لأحد الأجسام عكسياً مع المسافة التي يبعدها الشخص عن الجسم. ويعد كوكب الأرض بنحو 150 مليون كيلومتر عن الشمس. ويعد البشري 778.3 مليون كيلومتر عن الشمس. أوجد كم سيبدو محيط الشمس أكبر من على الأرض مما هو عليه من البشري. **5.2 أضعاف أكبر.**

من أنواع التغير الأخرى التغير المركب، يحدث **التغير المركب** عندما تختلف كمية واحدة طردياً و/ أو عكسياً مع الشئين أو أكثر من الكميات الأخرى. إذا عرفت أن y تتغير طردياً مع x وتتغير x عكسياً مع z ومجموعة واحدة من القيم، يمكنك استخدام التناسب لإيجاد المجموعة الأخرى من القيم المتعاقلة.

$$y_1 = \frac{kx_1}{z_1} \quad \text{و} \quad y_2 = \frac{kx_2}{z_2}$$

$$\frac{y_1 z_1}{x_1} = \frac{y_2 z_2}{x_2} \quad \text{و} \quad \frac{y_1 z_1}{x_1} = k \quad \text{و} \quad \frac{y_2 z_2}{x_2} = k$$

مثال 5 التغير المركب

افترض أن f تتغير طردياً مع g وأن f تتغير عكسياً مع h . أوجد g عندما يكون $f = 18$ و $h = -3$. إذا كان $g = 24$ عندما يكون $h = 2$ و $f = 6$.

أولاً احسب التناسب الصحيح للبيانات المقدمة.

$$f_1 = \frac{gh_1}{h_1} \quad \text{و} \quad f_2 = \frac{gh_2}{h_2}$$

إذا تأتي g في البسط، h تتغير عكسياً مع f . إذا تأتي h في المقام، أوجد الحل لإيجاد g .

$$k = \frac{f_1 h_1}{g_1} = \frac{f_2 h_2}{g_2}$$

اجعل علاقات التناسب متساوية.

$$\frac{6(2)}{24} = \frac{18(-3)}{g_2}$$

$$f_1 = 6, g_1 = 24, h_1 = 2, f_2 = 18, h_2 = -3$$

اضرب ضرباً تقاطعياً.

$$-1296 = 12g_2$$

القسمة كل طرف على 12.

$$-108 = g_2$$

عندما تكون $f = 18$ و $h = -3$ ، ستكون قيمة g تساوي -108 .

تبرين هوجته

5 افترض أن m تتغير طردياً مع r وأن r تتغير عكسياً مع t . أوجد t عندما تكون $r = 10$ و $m = -5$. إذا كانت $t = 20$ عندما يكون $r = 4$ و $m = 2$. **-80**

نصيحة دراسية

التغير المركب تتغير الكميات التي تتغير طردياً في البسط وتغير الكميات التي تتغير عكسياً في المقام.

www.almanahj.com





التحقّق من فهمك

1. إذا كانت y تتغير طردياً مع x وكانت $y = 12$ عندما $x = 8$ فأوجد y حيث $x = 14$. **21**
2. افترض أن y تتغير بشكل مشترك مع x و z . أوجد y عندما تكون $x = 9$ و $z = -3$ إذا كانت $y = -50$ عندما تكون z تساوي 5 و x تساوي -10 . **-27**
3. إذا كانت y تتغير عكسياً مع x وكانت $y = -18$ عندما $x = 16$ فأوجد x عندما تكون $y = 9$. **-32**
4. **المصدر** زسبت خريطة لولاية إلينوي يوضح رسم بحيث تمثل كل سنتيمترين **15 km**. فكم تبعد شيكاغو وروكفورد إذا كانت المسافة بينهما على الخريطة **12 cm**؟ **90 km**
5. افترض أن a تتغير طردياً مع b وأن d تتغير عكسياً مع c أوجد a عندما تكون $b = 8$ وتكون $c = -3$. إذا كانت $b = 16$ عندما تكون $c = 2$ وتكون $a = 4$. **-48**
6. افترض أن d تتغير طردياً مع f وأن e تتغير عكسياً مع g أوجد d عندما تكون $e = 6$ وتكون $f = -7$. إذا كانت $g = 12$ عندما تكون $e = 9$ وتكون $f = 3$. **-42**

التبرين وحل المسائل

1. إذا كانت x تتغير طردياً مع y فأوجد x عندما تكون $y = 8$
7. $x = 6$ عندما تكون $y = 32$ **1.5**
8. $x = 11$ عندما تكون $y = -3$ **$-\frac{88}{3}$**
9. $x = 14$ عندما تكون $y = -2$ **-56**
10. $x = -4$ عندما تكون $y = 10$ **-3.2**
11. **المصدر** كان وزن رائد الفضاء نيل آرمسترونغ أول من مشى على سطح القمر. على الأرض **163.3 kg** وهذا يحمل جميع معداته. بينما كان وزنه على القمر **27.2 kg**. اكتب معادلة تربط بين الوزن على القمر والوزن على الأرض $m = \frac{1}{6}w$.
2. إذا كانت a تتغير بشكل مشترك مع b ومع c فأوجد a عندما تكون $b = 4$ وتكون $c = -3$.
12. $a = -96$ عندما تكون $b = 3$ وتكون $c = -8$ **-48**
13. $a = -60$ عندما تكون $b = 5$ وتكون $c = 4$ **-36**
14. $a = -108$ عندما تكون $b = 2$ وتكون $c = 9$ **72**
15. $a = 24$ عندما تكون $b = 8$ وتكون $c = 12$ **-3**
16. **التمثيل بالتمادج** وقد اشركت تيلسن فإن متوسط مشاهدة المواطنين الأمريكي للتلغاز هي 4 ساعات يومياً.
- هـ. اكتب معادلة لتمثيل متوسط عدد الساعات الذي يقضي في مشاهدة التلغاز من قبل عدد m من أفراد الأسرة أثناء فترة من t أيام. **$f = 4mt$**
- و. افترض أن أفراد الأسرة الذين يتابعون التلغاز كل يوم يتبع نفس متوسط مشاهدة المواطن الأمريكي.
- تكمّل الجدول التالي الذي يوضح عدد أفراد الأسرة الذين يمشون في مشاهدة التلغاز اليومية.
- الإجابة النموذجية لأربعة أفراد من أفراد الأسرة: 12 ساعة**
3. إذا كانت f تتغير عكسياً مع g فأوجد f عندما تكون $g = -6$.
17. $f = 15$ عندما تكون $g = 9$ **-22.5**
18. $f = 4$ عندما تكون $g = 28$ **$-\frac{56}{3}$**
19. $f = -12$ عندما تكون $g = 19$ **38**
20. $f = 0.6$ عندما تكون $g = -21$ **2.1**
21. **الخدمة المجتمعية** جمع طلاب مدرسة الفاسية الثانوية كل عام المنتجات البعلية لخدمة من الطعام المحلية. ويحفظون قنوز المنتجات الدعائية على المنازل بالحي طابقين من السكان المتبرع. وفي العام الماضي، تمكن 12 طائفاً من توزيع 1000 منشور دعائي في أربع ساعات.
- هـ. اكتب معادلة تربط بين عدد الطلاب s ومقدار الزمن t المستغرق لتوزيع 1000 منشور دعائي. **$s = \frac{48}{t}$**
- ب. كم سيبلغ الزمن المستغرق في توزيع 15 طائفاً نفس العدد من المنشورات هذا العام؟ **3.2 h**

658 | الدرس 9-5 | دوال التغير

3 التبرين

التقييم التكويني

استخدم التبرين 1-6 للتحقق من استيعاب الطلاب.

استخدم المخطط أسفل هذه الصفحة لتخصيص واجبات الطلاب.

تدريس الممارسات الرياضية

استخدم النماذج يستطيع الطلاب المتفوقون في الرياضيات تطبيق الرياضيات التي يعرفونها لحل المسائل الناشئة في الحياة اليومية، وتحليل العلاقات من منطلق الرياضيات لاستخلاص الاستنتاجات، وتفسير نتائج الرياضيات في سياق الحال.

المتابعة

لقد استكشف الطلاب الدوال المتغيرة.

أسأل:

- كيف يمكن أن يساعدك تحليل الدالة النسبية جبرياً وبيانياً على رؤية "الصورة كاملة"؟ الإجابة النموذجية: يمكن للتحليل الجبري أن يساعدك في تحديد نقاط التقاطع التي قد تكون غير واضحة أو غير ملحوظة عند مشاهدة التمثيل البياني للدالة. يمكن للتحليل البياني أن يساعدك في رؤية خطوط التذبذب والسلوك الكارثي للدالة.

خيارات الواجب المنزلي المتميزة

| المستوى | الواجب | خيار اليوميين |
|----------|------------------------|-----------------------------|
| AL مهتدي | 7-24, 48, 50-72 | زوجي 8-24, 48, 50-52, 57-72 |
| OL أساسي | 7-43, 44-48, 50-72 | زوجي 25-48, 50-52, 57-72 |
| BL متقدم | (72-67 اختياري), 25-66 | |

658 | الدرس 9-5 | دوال التغير





تدريس الممارسات الرياضية

الدقة يحاول الطلاب المتفوقون في الرياضيات استخدام تعريفات واضحة في استنتاجاتهم وسيحسبون بدقة وكفاءة وسيستفيدون جيداً من التعريفات.

إجابة إضافية



22. الطيور عندما تهاجر مجموعة من أوز الثلج، تتغير المسافة التي تطيرها طردياً مع مقدار الزمن الذي تنصيه في الطيران.

a. هاجرت مجموعة من أوز الثلج بمسافة 375 km في 7.5 h. اكتب معادلة تغير طردية تثل هذه الحالة.

$$d = 50t$$

b. في كل عام، يهاجر الأوز 3000 km من موطنهم في الشتاء بجنوب غرب الولايات المتحدة الأمريكية إلى موطنهم في الصيف بالقرب الشمالي الكندي. قدر عدد ساعات الطيران المستغرقة في جرة الأوز.

23. افترض أن a تتغير طردياً مع b وأن a تتغير عكسياً مع c . أوجد b عندما تكون $a = 5$ ويكون $-4 = c$. إذا كانت $b = 12$ عندما تكون $c = 3$ ويكون $a = 8$.

24. افترض أن x تتغير طردياً مع z وأن x تتغير عكسياً مع y . أوجد z عندما تكون $x = 10$ ويكون $-7 = y$. إذا كانت $z = 20$ عندما تكون $x = 6$ ويكون $y = 14$.

حدد إن كانت كل علاقة توضح تغيراً طردياً أم عكسياً أم لا توضح أي منها.

25.

| x | y |
|----|----|
| 4 | 12 |
| 8 | 24 |
| 16 | 48 |
| 32 | 96 |

26.

| x | y |
|----|----|
| 8 | 2 |
| 4 | 4 |
| -2 | -8 |
| -8 | -2 |

27.

| x | y |
|---|----|
| 2 | 4 |
| 3 | 9 |
| 4 | 16 |
| 5 | 25 |

25. طردية
26. عكسية
27. لا هذاً ولا ذاك

28. إذا كان y يتغير عكسياً مع x و $y = 6$ حيث $x = 519$ فأوجد y حيث $x = 57$.

29. إذا كانت x تتغير عكسياً مع z وكانت $x = 16$ عندما كانت $z = 5$ ، فأوجد x عندما تكون $z = 20$.

30. افترض أن a تتغير طردياً مع b وأن a تتغير عكسياً مع c . أوجد b عندما تكون $a = 7$ ويكون $-8 = c$. إذا كانت $b = 15$ عندما تكون $c = 2$ ويكون $a = 4$.

31. افترض أن x تتغير طردياً مع z وأن x تتغير عكسياً مع y . أوجد z عندما تكون $x = 8$ ويكون $-6 = y$. إذا كانت $z = 26$ عندما تكون $x = 8$ ويكون $y = 13$.

32. طردية: 2.75

33. عكسي: -2

34. مشترك: 3

35. مركب: 10

36. طردية: -11

37. طردية: 4

38. مركب: 9

39. طردية: -2

اذكر إذا كانت كل معادلة تثل تغيراً طردياً أم مشتركاً أم عكسياً أم مركباً. ثم عين ثابت التغير.

$$32. \frac{x}{y} = 2.75$$

$$33. \frac{y}{x} = -2$$

$$34. a = 3bc$$

$$35. 10 = \frac{xy}{z}$$

$$36. y = -11x$$

$$37. \frac{a}{b} = 4$$

$$38. 9n = pr$$

$$39. -2y = z$$

$$40. a = 27b$$

$$41. c = \frac{7}{d}$$

$$42. -10 = gh$$

$$43. m = 20cd$$

$$44. \frac{xy}{z} = 10$$

www.almanahj.com

a. يبلغ حجم أحد الفلزات 8 L وبلغ درجة حرارة 275 كلفن وبلغ ضغطه 1.25 بمتاس الغلاف الجوي. فإذا تم ضغط الغاز إلى 6 L وبخصنيه إلى درجة حرارة 300 كلفن، فكم سيكون ضغطه؟

ب. إذا غل الحجم بمثل مقدار، وبمسا انخفاض الضغط إلى النصف، فما الذي قد حدث في درجة الحرارة؟ انخفضت إلى النصف.

45. العجلات بتغير الزمن الذي يستغرقه سائق وأخوه في الوصول إلى حور دبي عكسياً مع متوسط معدل سرعته.

a. إذا كنا على بعد 800 m، فاذكب معادلة تربط بين زمن السفر ومتوسط معدل سرعته ثم أتلها بياناً. أنظر الهامس.

b. ما أدنى قيمة لمتوسط السرعة تسمح لهم بالوصول خلال 18 h؟ 44.4 mi/h

659

التدريس المتميز

كان الطلاب يواجهون صعوبة في الحفاظ على الصيغ الخاصة بدوال التغير المختلفة مستقيمة.

اطلب من الطلاب كتابة الصيغ باستخدام ألوان مختلفة لكل متغير ولون آخر للرمز k . على سبيل المثال: التغير الطردية: $Kx = y$ ، التغير المشترك: $Kxz = y$ ، والتغير العكسي: $y = \frac{k}{x}$.





انتبه!

تجنب المفاهيم الخاطئة

تأكد من استيعاب الطلاب للفروق الأساسية بين التغير الطردي والعكسي، على سبيل المثال، أسألهم إذا كان عدد الشموع في كعكة عيد ميلاد يختلف طردياً أو غير طردي مع عمر الشخص صاحب عيد الميلاد، ثم أسأل عن كيفية اختلاف الوقت الذي تستغرقه الشمعة للاحتراق مع طول الشمعة المتبقي.

4 التقسيم

بطاقة التحقّق من استيعاب الطلاب

اطلب على قطعة ورق صغيرة، اطلب من جميع الطلاب كتابة معادلة لبعض التغير في الحياة اليومية (الوقت المستغرق في الدراسة وساعات النوم، إلخ). عند الصف الدراسي، اطلب من جميع الطلاب أن يقولوا ما هو نوع التغير الذي تناقشه المعادلة.

إجابة إضافية

| العام | الطول |
|-------|-------|
| 1 | 10 |
| 2 | 13 |
| 3 | 16 |
| 4 | 19 |

661

تدريب على الاختبارات المصيرية

55. إجابة موهبة يبلغ طول شعر طفل أماني 7 cm ويتوقع أن ينمو بنمو متوسط معدل 3 cm في العام.
- أ. انظر الحاشية.
- ب. ضع جدولاً يوضح الطول المتوقع لشعر أماني بعد كل من السنوات الأربع الأولى.
- ج. اكتب دالة يمكن استخدامها لتحديد طول شعرها بعد كل عام $f(x) = 3x + 7$.
- د. إذا لم تقص أماني شعرها على الإطلاق، فحدد طول شعرها بعد 9 سنوات. 34 in
56. أي مما يلي يساوي مجموع عددين صحيحين زوجيين متتاليين؟
- A 144 C 147
B 146 D 148
57. SAT/ACT غادر عيسى من منزل الطلاب وقاد في اتجاه أحد الأكواد بنموذج سرعة 40 km/h وغادر عدنان في وقت متأخر عنه في نفس الاتجاه بنموذج سرعة 48 km/h بعد القيادة لمدة خمس ساعات، فحدد عدنان بعض شكك البعد التي قادها عيسى قبل أن يلحق به عدنان؟
- A ساعة D 6 ساعات
B ساعات E 8 ساعات
C 4 ساعات
54. إذا كان 75% من $88 = 60\%$ من عدد، فما ذلك العدد؟
- F 100
G 105
H 108
J 110

مراجعة شاملة

حدد خطوط التقارب الرأسية والمخروط في التمثيل البياني لكل دالة.

57. $f(x) = \frac{1}{x^2 + 5x + 6}$ خطوط التقارب: $x = -2, x = -3$
58. $f(x) = \frac{x+2}{x^2 + 3x - 4}$ خطوط التقارب: $x = -4, x = 1$
59. $f(x) = \frac{x^2 + 4x + 3}{x + 3}$ الخطوط: $x = -3$

60. التصوير الفوتوغرافي يمكن استخدام العائون $\frac{1}{f} = \frac{1}{p} + \frac{1}{q}$ في تحديد المسافة التي ينبغي أن تتصل بين الفيلم وعدسة الكاميرا لتقديم أفضل صورة فوتوغرافية. ويمثل التغير q المسافة من العدسة إلى الفيلم، ويمثل الطول البؤري للعدسة. وتمثل p المسافة من الجسم إلى العدسة. (الفرد 9.3)

- أ. أوجد حل العائون لإيجاد $\frac{1}{p} = \frac{1}{q} + \frac{1}{f}$ في صورة تعبير نسبي واحد.
- ب. اكتب التعبير الذي يحتوي على f و q في صورة تعبير نسبي واحد.
- ج. إذا كان الطول البؤري للكاميرا يبلغ 8 cm، وبلغت المسافة بين الفيلم والعدسة 10 cm، فكم ينبغي أن تكون المسافة بين الجسم والعدسة بحيث تكون الصورة في مركز العدسة؟
- أوجد حل كل من المعادلات التالية. تحقّق من حلولك.

61. $\log_3 42 - \log_3 n = \log_3 7$
62. $\log_2(5x) + \log_2 5 = \log_2 30$
63. $2 \log_8 x = \log_8 9$
64. $\log_{10} \theta + \log_{10} (\theta + 2) = 2$
65. $2x^3 - 5x^2 - 28x + 15; x = 5$
66. $3x^3 + 10x^2 - x - 12; x = 3$
 $x + 3, x - \frac{1}{2}$ أو $2x - 1$
 $x - 1, x + \frac{1}{2}$ أو $3x + 4$

مراجعة المهارات

أوجد المضاعف المشترك الأصغر لكل مجموعة من كميات الحدود.

67. $a, 2a, a + 1$ $2a(a + 1)$
68. $x, 4y, x - y$ $4xy(x - y)$
69. $8, 24x, 12$ $24x$
70. $x^4, 3x^2, 2xy$ $6x^4y$
71. $12a, 15, 4b^2$ $60ab^2$
72. $x + 2, x - 3, x^2 - x - 6$ $x^2 - x - 6$

661

التدريس المتمايز

التوسع اكتب المعادلة $y = kx^3$ على السبورة، اطلب من الطلاب وصف نوع التغير الذي تعبر عنه هذه المعادلة. اطلب منهم وصف ما يحدث لقيمة y عندما تكون قيمة x مضاعفة أو ثلاثة أضعاف أو نصف. إلخ. وبالنسبة لهذه المعادلة، y تختلف طردياً مع مكعب x . عندما يكون y مضاعفاً، x يكون مضروباً في 8. عندما يكون x ثلاثة أضعاف، y يكون مضروباً في 27. عندما يكون x منقسفاً، y يكون منقسوماً على 8.



حل المعادلات والمعادلات النسبية 9-6



• بلغ تكلفة العضوية لأحد النوادي الرياضية 20 AED في الشهر وسعى على الأصدقاء كتملكه ولم 5 AED في كل مرة يودون فيها التاني، فإذا زار أحد الأصدقاء النادي 4 مرات في شهر واحد فستكون تكلفة هذا الشهر $20 + 5x$. وستكون التكلفة الفعلية لكل زيارة $20 + \frac{5x}{x}$ لتحديد عدد الزيارات التي يتعين القيام بها لتصبح تكلفة الزيارة 6 AED. فاستخرج إلى حل المعادلة $20 + \frac{5x}{x} = 6$.

لماذا؟

الحالي

السابق

- 1. حل المعادلات النسبية.
- 2. حل المعادلات النسبية.

حل المعادلات النسبية تُعرف المعادلات التي تحتوي على تجميع نسبي واحد أو أكثر باسم **المعادلات النسبية**. وتكون هذه المعادلات في أغلب الأحيان أسهل في الحل ما أن يتم التخلص من الكسور، ويمكن التخلص من الكسور بضرب كل طرف في المقام المشترك الأصغر.

مثال 1 حل معادلة نسبية

حلّ $\frac{4}{x+3} + \frac{5}{6} = \frac{23}{18}$. ثم تحقق من صحة الحل.

يساوي المقام المشترك الأصغر $(x+3) \cdot 6 = 18$ المعادلة الأصلية.

اضرب في المقام المشترك الأصغر.

$$18(x+3)\left(\frac{4}{x+3}\right) + 18(x+3)\left(\frac{5}{6}\right) = 18(x+3)\left(\frac{23}{18}\right)$$

اختصر العوامل المشتركة.

$$18(x+3)\left(\frac{4}{1}\right) + 18(x+3)\left(\frac{5}{6}\right) = 18(x+3)\left(\frac{23}{1}\right)$$

$$72 + 15x + 45 = 23x + 69$$

$$15x + 117 = 23x + 69$$

$$48 = 8x$$

$$6 = x$$

التحقق

المعادلة الأصلية

$$\frac{4}{6+3} + \frac{5}{6} = \frac{23}{18}$$

$$\frac{4}{9} + \frac{5}{6} = \frac{23}{18}$$

$$\frac{8}{18} + \frac{15}{18} = \frac{23}{18}$$

$$\frac{23}{18} = \frac{23}{18}$$

اجمع

تعرين موجّه

حلّ كل من المعادلات التالية. ثم تحقق من صحة الحل.

- 1A. $\frac{2}{x+3} + \frac{3}{2} = \frac{19}{10}$ 2 1B. $\frac{7}{12} + \frac{9}{x-4} = \frac{55}{48}$ 20

مفردات جديدة

- معادلة نسبية rational equation
- المتوسط الحسابي weighted average
- متباينة نسبية rational inequality

ممارسات في الرياضيات
6 مرعاة الدقة

1 التركيز

التخطيط الرئيسي

قبل الدرس 9-6 تحويل التعبيرات النسبية إلى أبسط صورة.

بعد الدرس 9-6 حل المعادلات النسبية. حل المتباينات النسبية.

بعد الدرس 9-6 حل معادلات تتضمن الأسس النسبية.

2 التدريس

أسئلة داعمة

اطلب من الطلاب قراءة قسم **لماذا؟** الوارد في هذا الدرس.

أسأل:

- ما تكلفة الزيارة إذا أجرى فرد 10 زيارات في شهر محدد؟ 7 AED
- إذا أجرى فرد 10 زيارات للنادي في شهر محدد، فكيف تملك رسوم العضوية الشهرية بالإضافة إلى تكلفة كل زيارة؟ تضيف الرسوم 2 AED لكل زيارة.
- إذا أجرى فرد عدد x من الزيارات في شهر محدد، فكيف ستضيف رسوم العضوية الشهرية لتكلفة كل زيارة؟ تضيف الرسوم $\frac{20}{x}$ AED لكل زيارة.





1 حل المعادلات النسبية

المثال 1 يوضح كيفية حل معادلة نسبية. المثال 2 يوضح كيفية حل معادلة نسبية واختزال أي حلول دخيلة. الأمثلة 3-5 توضح كيفية استخدام معادلات نسبية لحل مشكلات التوزيع والمسافة والعمل.

التقييم التكويني

استخدم أسئلة "تصريح موجّه" الموجودة بعد كل مثال للوقوف على استيعاب الطلاب للمفاهيم.

أمثلة إضافية

1 حل $\frac{5}{24} + \frac{2}{3-x} = \frac{1}{4}$ تحقق من حلك. $x = -45$

2 حل $\frac{p^2-p-5}{p+1} = \frac{p^2-7}{p-1} + p$ تحقق من حلك. $p = -3, -2, 2$

التركيز على محتوى الرياضيات

حل المعادلات النسبية خلال عملية الحل، عادةً ما يتم تحويل المعادلة النسبية إلى نوع آخر من المعادلات في خطوات حل معادلة نسبية. حل معادلة خطية أو تربيعية أو نوعاً آخرًا من المعادلات.

قد يؤدي ضرب كل طرف من المعادلة في المقام المشترك الأصغر للمتغيرات النسبية إلى نتائج لا تعتبر حلولاً للمعادلة الأصلية. وضمن هذه الحلول الدخيلة.

مثال 2 حل معادلة نسبية

حل $\frac{2x}{x+5} - \frac{x^2-x-10}{x^2+8x+15} = \frac{3}{x+3}$ ثم تحقق من صحة الحل.

المقام المشترك الأصغر للحدود هو $(x+3)(x+5)$

المعادلة الأصلية

أضرب في المقام المشترك الأصغر.

$$\frac{(x+3)(x+5)(2x)}{x+5} - \frac{(x+3)(x+5)(x^2-x-10)}{x^2+8x+15} = \frac{(x+3)(x+5)3}{x+3}$$

اقسم العوامل المشتركة

$$\frac{(x+3)(2x)}{1} - \frac{(x+3)(x^2-x-10)}{x^2+8x+15} = \frac{(x+5)3}{1}$$

بسّط.

$$(x+3)(2x) - (x^2-x-10) = 3(x+5)$$

وزع.

$$2x^2 + 6x - x^2 + x + 10 = 3x + 15$$

بسّط.

$$x^2 + 7x + 10 = 3x + 15$$

اطرح $3x + 15$

$$x^2 + 4x - 5 = 0$$

عامل.

$$(x+5)(x-1) = 0$$

خاصية ناتج الضرب الصفري

$$x+5=0 \quad \text{أو} \quad x-1=0$$

$$x=-5 \quad \quad \quad x=1$$

التحقق جرب $x = -5$

$$\frac{2x}{x+5} - \frac{x^2-x-10}{x^2+8x+15} = \frac{3}{x+3}$$

$$\frac{2(-5)}{-5+5} - \frac{(-5)^2-(-5)-10}{(-5)^2+8(-5)+15} = \frac{3}{-5+3}$$

$$\frac{-10}{0} - \frac{25+5-10}{25-40+15} = \frac{3}{-2}$$

جرب $x = 1$

$$\frac{2x}{x+5} - \frac{x^2-x-10}{x^2+8x+15} = \frac{3}{x+3}$$

$$\frac{2(1)}{1+5} - \frac{1^2-1-10}{1^2+8(1)+15} = \frac{3}{1+3}$$

$$\frac{2}{6} - \frac{-10}{24} = \frac{3}{4}$$

$$\frac{2}{6} + \frac{10}{24} = \frac{3}{4}$$

$$\frac{4}{12} + \frac{10}{24} = \frac{3}{4}$$

$$\frac{4+10}{24} = \frac{3}{4}$$

$$\frac{14}{24} = \frac{3}{4}$$

$$\frac{7}{12} = \frac{3}{4}$$

عند حل المعادلة النسبية، إن أي حل محتمل يؤدي إلى صفر في المقام يجب استثناءه من قائمة الحلول. حيث إن $x = -5$ يؤدي إلى صفر في المقام، فهي حل دخيل استبعد -5 من قائمة الحلول. الحل يساوي 1

مراجعة المصطلحات

حل دخيل (extraneous solution) هو حل لا يحقق المعادلة الأصلية.

تمرين هوجت

لا يوجد حلول

2A. $\frac{5}{y-2} + 2 = \frac{17}{6}$ 8

2B. $\frac{2}{z+1} - \frac{1}{z-1} = \frac{-2}{z^2-1}$

2C. $\frac{7n}{3n+3} - \frac{5}{4n-4} = \frac{3n}{2n+2} - \frac{1}{2}$ 3

2D. $\frac{1}{p-2} = \frac{2p+1}{2+2} + \frac{2}{p+4} - \frac{7}{3}$

الربط بتاريخ الرياضيات
برون تايلور (1685-1731)
عالج الرياضيات التي وضع نظرية استخدامات في المتناهي والتكامل وتعرف بنظرية تايلور وتعتمد على التالى بعد العمليات الحسابية على المتغيرات النسبية.

أنتبه!
تجنب المفاهيم الخاطئة. ذكر الطلاب أنه يجب دوماً التحقق من الحل المحتمل في المعادلة الأصلية بدلاً من أي من الخطوات الموجودة في الحل. ومع ذلك، لا يُسمح باستبدال الحل بتغيير ومن ثم ضرب كلا جانبي المعادلة في المقام المشترك الأصغر لأنه يتم اختيار حقيقة المعادلة.



المتوسط الحسابي المرجح هو طريقة لإيجاد المتوسط الحسابي لمجموعة من الأعداد يكون فيض العناصر فيها أهمية أكبر أو ترحح عن الأخرى. تتضمن العديد من مسائل الحياة اليومية المرح والعمل والمسافات والعائدات والتي يمكن حلها باستخدام المعادلات النسبية.

مثال 3 من الحياة اليومية - مسائل المرح

الكيمياء تضيف مها محلول حمضي بنسبة 70% إلى 12 ml نسبة المحلول الحمضي فيه 15%. كم ينبغي إضافته من المحلول الحمضي بنسبة 70% لعمل محلول حمضي بنسبة 60%؟

الفهم تحتاج مها إلى أن تعرف مقدار اللازم إضافته من المحلول للمحلول الأصلي ليعتد محلول جديد.

التخطيط يحتوي كل محلول على نسبة معينة من الحمض، يجب أن تكون نسبة الحمض في المحلول الأخير مساوية لمقدار الحمض مضروباً على إجمالي المحلول.

| الكمية | النسبة | المضاف | الأصلي |
|-----------------|--------|--------|----------|
| 0.15(12) + 0.7x | 0.7(x) | x | 0.15(12) |
| 12 + x | 12 | | |

نسبة الحمض في المحلول = إجمالي المحلول

الحل اكتب معادلة تناسب.

$$\frac{0.15(12) + 0.7x}{12 + x} = \frac{0.60}{100}$$

عوض.

$$\frac{60}{100} = \frac{1.8 + 0.7x}{12 + x}$$

بسط.

يساوي المقام المشترك الأصغر 100(12 + x) 100(12 + x) = 100(12 + x) 1.8 + 0.7x

أضرب في المقام المشترك الأصغر.

$$100(12 + x) \frac{60}{100} = 100(12 + x) \frac{1.8 + 0.7x}{12 + x}$$

أقسم العوامل المشتركة.

$$(12 + x)60 = 100(1.8 + 0.7x)$$

بسط.

$$720 + 60x = 180 + 70x$$

وزع

اطرح 60x و 180.

$$540 = 10x$$

أقسم على 10.

$$54 = x$$

التحقق

المعادلة الأصلية

$$\frac{60}{100} = \frac{0.15(12) + 0.7x}{12 + x}$$

$$\frac{60}{100} = \frac{0.15(12) + 0.7(54)}{12 + 54}$$

بسط.

$$\frac{60}{100} = \frac{37.8}{66}$$

بسط.

$$0.6 = 0.6$$

تحتاج مها إلى إضافة 54 ml من المحلول الحمضي بنسبة 70%.

تمرين موجّه

3. يضيف منصور محلول حمض فوسفوري بنسبة 55% إلى 15 ml من شراب حمض فوسفوري بنسبة 10% ليعتد محلولاً بنسبة 65%. كم ينبغي إضافته من محلول حمض فوسفوري بنسبة 65% ليعتد محلولاً بنسبة 65%؟

نصيحة دراسية
التبديل بالمعنى يكون الجداول مثل المذكور في المثال 3 مفيدة في ترتيب وحل مسائل المرح وأفضل والمتوسط الحسابي المرح والمساواة.

مثال إضافي

3 **محلول ملحي** أضاف أحمد 80% من محلول ملحي (البلع والمياه) إلى 16 أوقية من المحلول الذي يحتوي على 10% محلول ملحي. كم من المحلول ينبغي إضافته لعمل محلول يحتوي على 50% محلول ملحي؟ $21\frac{1}{3}$ أوقية

التمثيل باستخدام الرياضيات

يمقدور الطلاب المتفوقين في الرياضيات تحديد الكميات المهمة في موقف عملي ورسم مخطط بالعلاقات باستخدام أدوات مثل الرسوم التخطيطية. والجداول بمدخلين، والتنشيلات البيانية والمخططات الانشائية والمعادلات. شجع الطلاب على استخدام التنشيلات المتعددة في تحليل الدوال تحليلاً أفضل.

Copyright © 2013 by Education.com. All rights reserved. www.education.com



مثال إضافي

4 السباحة تسبح ليلي لمدة 5

ساعات في جدول ذو تيار بسرعة 1 mi/h. وقد تركت الرصيف البحري وسبحت ضد التيار لمسافة 2 mi ومن ثم سبحت عادة للرصيف. ما سرعتها في السباحة في المياه الراكدة؟ حوالي 1.5 mi/h

انتبه!

تجنب المفاهيم الخاطئة في المثال 4. تأكد من أن الطلاب استوعبوا الفرق بين الحلول في المعادلة التربيعية (التي يوجد منها اثنان) وحل المسألة (الذي لا يوجد منه إلا واحد فقط).

تجنب الأخطاء عند حل المعادلات النسبية. غالبًا ما ينسى الطلاب أنه يجب ضرب كافة حدود المعادلة في المقام المشترك الأصغر. ذكرهم بالقيام بذلك من أجل الحصول على معادلات متكافئة.

يمكن استخدام القانون الذي يربط بين المسافة والسرعة والزمن لحل المعادلات النسبية. ويعتبر الاستخدام الأكثر شيوعًا هو $d = rt$ ، ومع ذلك يمكن تبسيطها عن طريق $t = \frac{d}{r}$ و $r = \frac{d}{t}$.

مثال 4 من الحياة اليومية مسائل المسافة

التجديف يتجديف ناصر على زورق في خور دبي. ويبلغ معدل سرعته في المياه الراكدة 6 mi/h. ويستغرق ناصر 3 ساعات ليتم برحلة ذهاب وإياب بمسافة 10 mi. افترض أن ناصر قام بالتجديف بمعدل ثابت للسرعة. حدد معدل التيار.

الفهم الآن لدينا سرعة ناصر في المياه الراكدة والزمن الذي يستغرقه لتتحرك مع التيار وضد، ونحتاج إلى تحديد سرعة التيار.

التخطيط تحرك ناصر 5 mi في اتجاه التيار و 5 mi عكسه. ويعتبر القانون الذي يربط بين المسافة والسرعة والزمن هو $d = rt$ أو $t = \frac{d}{r}$.

| إجمالي الزمن | الزمن المستغرق عكس التيار | الزمن المستغرق في اتجاه التيار |
|--------------|---------------------------|--------------------------------|
| 3 ساعات | $\frac{5}{6-r}$ | $\frac{5}{6+r}$ |

نصيحة دراسية
مسائل المسافة عندما تتضمن المسافة رحلة ذهاب وعودة تساوي المسافة في اتجاه الذهاب المسافة في الاتجاه العكس.

الحل اكتب المعادلة:

$$\frac{5}{6+r} + \frac{5}{6-r} = 3$$

المقام المشترك الأصغر = $(6+r)(6-r)$

أضرب في المقام المشترك الأصغر

$$(6+r)(6-r) \left(\frac{5}{6+r} + \frac{5}{6-r} \right) = (6+r)(6-r) \cdot 3$$

$$(6-r)5 + (6+r)5 = (6+r)(6-r) \cdot 3$$

$$(6-r)5 + (6+r)5 = (36-r^2)3$$

$$30 - 5r + 30 + 5r = 108 - 3r^2$$

$$60 = 108 - 3r^2$$

$$0 = -3r^2 + 48$$

$$0 = -3(r+4)(r-4)$$

$$0 = (r+4)(r-4)$$

خاصية ناتج الضرب العكسي

$r = 4$ أو -4

التحقق المعادلة الأصلية

$$\frac{5}{6+r} + \frac{5}{6-r} = 3$$

$$\frac{5}{6+4} + \frac{5}{6-4} = 3$$

$$\frac{5}{10} + \frac{5}{2} = 3$$

$$\frac{1}{2} + \frac{5}{2} = 3$$

$$\frac{6}{2} = 3$$

حيث إنه لا يمكن أن تكون السرعة سالبة، تكون سرعة التيار 4 mi/h

تدبرين هويجه

4. **الطيران** تبلغ سرعة الرياح 20 mi/h. فإذا استغرقت طائرة 7 h لتقطع رحلة ذهاب وعودة بمسافة 3398 mi، فحدد سرعة الطائرة في الهواء الساكن.

www.almanahj.com





يمكن حل المسائل من الحياة اليومية التي تتضمن المعدل باستخدام المعادلات النسبية.

مثال 5 من الحياة اليومية مسائل المعدل

الخدمة المجتمعية في كل عام، يمتي طلاب الصفين الثاني والثالث الثانوي في مدرسة المنذر الثانوية منزلاً لكي فإذا احتاج طلاب الصف الثالث الثانوي 24 يوماً لإكمال منزل و 18 يوماً إذا قاموا بالعمل مع طلاب الصف الثاني الثانوي، فكم سيستغرق الصف الثاني الثانوي لإكمال منزل إذا قاموا بالعمل وحدهم؟

الفهم تلتخص البطيئات التي لديها في الأمدة المستغرقة عندما يعمل طلاب الصف الثالث الثانوي وحدهم والوقت المستغرق عندما يعمل الصفين معاً، وحتاج لتحديد الأمدة المستغرقة عند عمل طلاب الصف الثاني وحدهم.

التخطيط يستطيع طلاب الصف الثالث الثانوي إكمال منزل واحد في 24 يوماً، وبالتالي يكون معدل إنجازهم $\frac{1}{24}$ منزل في اليوم.

ويبلغ معدل إنجاز الصف الثاني الثانوي $\frac{1}{18}$

ويبلغ المعدل المركب لكلا الصفين $\frac{1}{18}$

| معدل طلاب الصف الثاني | معدل طلاب الصف الثالث الثانوي | المعدل المركب |
|-----------------------|-------------------------------|----------------|
| $\frac{1}{24}$ | $\frac{1}{18}$ | $\frac{1}{18}$ |

اكتب المعادلة: $\frac{1}{24} + \frac{1}{18} = \frac{1}{18}$

القيام المشترك الأصغر = 72 $72 \cdot \frac{1}{24} + 72 \cdot \frac{1}{18} = 72 \cdot \frac{1}{18}$

أضرب في المقام المشترك الأصغر. $72 \cdot \frac{1}{24} + 72 \cdot \frac{1}{18} = 72 \cdot \frac{1}{18}$

أضرب العوامل المشتركة. $3j + 72 = 4j$

وَأَع $72 = j$

اطرح 3j

التحقق يوجد طريقتان مختلفتان.

الطريقة 1 التقويض عن الجواب.

المعادلة الأصلية $\frac{1}{24} + \frac{1}{18} = \frac{1}{18}$

$\frac{1}{24} + \frac{1}{72} = \frac{1}{18}$ $j = 72$

لنقارن النتيجة بالأصغر = 72

$\frac{3}{72} + \frac{1}{72} = \frac{4}{72}$ $\frac{4}{72} = \frac{4}{72}$ **بسيط**

سيستغرق طلاب الصف الثاني الثانوي 72 يوماً لإكمال المنزل وحدهم.

تكوين موجّه

- 5A. استغرق عدنان وطارق 6 ساعات لحرق الأورمان معاً في العام الماضي وفي العام الماضي استغرق طارقي 10 ساعات ليحرق بذلك وحده، فكم سيستغرق عدنان من الزمن ليحرق بذلك وحده هذا العام؟ **15 ساعة**
- 5B. يقوم عمر وعلي بطلاء المنازل معاً، إذا تمكن عمر من طلاء أحد المنازل في 6 أيام ويمكن علي من طلاء نفس المنزل في 5 أيام، فكم سيستغرق طلاء المنزل إذا قاما بالطلاء معاً؟ **2 1/11 يوم**



الربط بالحياة اليومية
منذ 1997، يفتي طلاب مدرسة وراك بويت في بوليفيا بحرمات أسبوع في خدمة المجتمعات في جميع أنحاء العالم، وأثناء العمل مع مؤسسة هانيلت، طور هومانيتي يفتي الطلاب الزمن في وقت تينيسي، حيث يداؤن ويكلمون سلف منزل من منازل هانيلت في أسبوع واحد **الهدوء** بين أمتد أسبوع واحد **تربطت** هانيلت

اقتبه!

تجنب الأخطاء افترض في حال وجود مسألة تتضمن إكمال جزء من مهمة أثناء العمل معاً، أن يفكر الطلاب في أي جزء من العمل تم إنجازه في يوم واحد أو سنة واحدة أو وحدة وقت واحدة.


مثال إضافي

5 قص العشب يقص عمر وسعيد العشب معاً، عندما يعمل عمر وحده يمكنه إنجاز مهمة محددة في 4.5 ساعات ويمكن لسعيد وحده إنجازها في 3.7 ساعات، كم سيستغرقون من الوقت لإنجاز المهمة معاً؟ **نحو ساعتين**

نصيحة للمعلمين الجدد

طريقة بديلة يجب أيضاً حل المعادلة في المثال 5 من خلال أولاً طرح $\frac{1}{24}$ من كلا الطرفين، ثم إيجاد الضرب التبادلي والحل.

Copyright © 2013 Pearson Education, Inc. All rights reserved. This material is intended solely for the personal use of the individual user and is not to be disseminated broadly.



www.almanahj.com

التدريس المتمايز OL BL

المتعلمون أصحاب النمط المنطقي اطلب من الطلاب التفكير في الفرق بين الرياضيات "البيحتة"، مثل حل معادلة، والرياضيات "التطبيقية"، مثل حل مسألة من الحياة اليومية. اطلب منهم ذكر بعض الطرق التي يتشابه فيها هذان النوعان وبعض الطرق التي يختلفان فيها.



2 حل المتباينات النسبية
المثال 6 يوضح كيفية حل متباينة نسبية.

مثال إضافي

6 حل $\frac{1}{3k} + \frac{2}{9k} < \frac{2}{3}$

$k < \frac{5}{6}$ أو $k > 0$

انتبه!
تجنب الأخطاء اقترح أن يقوم الطلاب أيضا بالتأكد مما إذا كان الحد المُشار إليه في حل المعادلة موجوداً أو غير موجود في حل المتباينة.

التدريس باستخدام التكنولوجيا
كاميرا المستندات اختر طالباً لشرح وتوضيح كيفية حل متباينة نسبية. تأكد من توضيح الطالب لكيفية استخدام نقاط الاختيار ومخطط العلامات لإيجاد مجموعة الحل.

2 حل المتباينات النسبية لحل المتباينات النسبية وهي المتباينات التي تحتوي على تعبير نسبي أو أكثر. فاع هذه الخطوات.

- المفهوم الأساسي حل المتباينات النسبية**
- الخطوة 1:** اذكر القيم المستثناة. وهي القيم التي تجعل المقام يساوي 0.
 - الخطوة 2:** حل المعادلة ذات الصلة.
 - الخطوة 3:** استخدم القيم المحددة بواسطة الخطوات السابقة لفنسية خط الأعداد إلى فترات.
 - الخطوة 4:** اختر إحدى القيم في كل فترة لتحديد أي الفترات تحتوي على قيم تحقق المتباينة.

مثال 6 حل متباينة نسبية

حل $\frac{x}{3} - \frac{1}{x-2} < \frac{x+1}{4}$

الخطوة 1: القيمة المستثناة لهذه المتباينة هي 2.

الخطوة 2: حل المعادلة ذات الصلة.

المعادلة ذات الصلة

يساوي المقام المشترك الأصفر $(x-2)$

اضرب في المقام المشترك الأصفر.

واع:

اطرح $3x^2 - 3x - 6$

عامل:

خاصية حاصل الضرب الصفري

$x = 6$ or -1

الخطوة 3: ارمس مستقيماً رأسية عند القيم المستثناة وعند الحلول لتقسيم خط الأعداد إلى فترات.

الخطوة 4: الآن اختر إحدى القيم من كل فترة لتحديد ما إذا كانت القيم في الفترة تحقق المتباينة أم لا.

اختبر $x = -3$

اختبر $x = 0$

اختبر $x = 1$

اختبر $x = 8$

اختبر $x = 3$

اختبر $x = 4$

اختبر $x = 5$

اختبر $x = 6$

اختبر $x = 7$

اختبر $x = 8$

اختبر $x = 9$

اختبر $x = 10$

اختبر $x = 11$

اختبر $x = 12$

اختبر $x = 13$

اختبر $x = 14$

اختبر $x = 15$

اختبر $x = 16$

اختبر $x = 17$

اختبر $x = 18$

اختبر $x = 19$

اختبر $x = 20$

اختبر $x = 21$

اختبر $x = 22$

اختبر $x = 23$

اختبر $x = 24$

اختبر $x = 25$

اختبر $x = 26$

اختبر $x = 27$

اختبر $x = 28$

اختبر $x = 29$

اختبر $x = 30$

اختبر $x = 31$

اختبر $x = 32$

اختبر $x = 33$

اختبر $x = 34$

اختبر $x = 35$

اختبر $x = 36$

اختبر $x = 37$

اختبر $x = 38$

اختبر $x = 39$

اختبر $x = 40$

اختبر $x = 41$

اختبر $x = 42$

اختبر $x = 43$

اختبر $x = 44$

اختبر $x = 45$

اختبر $x = 46$

اختبر $x = 47$

اختبر $x = 48$

اختبر $x = 49$

اختبر $x = 50$

اختبر $x = 51$

اختبر $x = 52$

اختبر $x = 53$

اختبر $x = 54$

اختبر $x = 55$

اختبر $x = 56$

اختبر $x = 57$

اختبر $x = 58$

اختبر $x = 59$

اختبر $x = 60$

اختبر $x = 61$

اختبر $x = 62$

اختبر $x = 63$

اختبر $x = 64$

اختبر $x = 65$

اختبر $x = 66$

اختبر $x = 67$

اختبر $x = 68$

اختبر $x = 69$

اختبر $x = 70$

اختبر $x = 71$

اختبر $x = 72$

اختبر $x = 73$

اختبر $x = 74$

اختبر $x = 75$

اختبر $x = 76$

اختبر $x = 77$

اختبر $x = 78$

اختبر $x = 79$

اختبر $x = 80$

اختبر $x = 81$

اختبر $x = 82$

اختبر $x = 83$

اختبر $x = 84$

اختبر $x = 85$

اختبر $x = 86$

اختبر $x = 87$

اختبر $x = 88$

اختبر $x = 89$

اختبر $x = 90$

اختبر $x = 91$

اختبر $x = 92$

اختبر $x = 93$

اختبر $x = 94$

اختبر $x = 95$

اختبر $x = 96$

اختبر $x = 97$

اختبر $x = 98$

اختبر $x = 99$

اختبر $x = 100$

تكون العبارة صحيحة لكل من $x = -3$ و $x = 4$ وبالتالي فالحل هو $x < -1$ أو $2 < x < 6$.

نصيحة دراسية
المتباينات النسبية من المحتمل أن تكون جميع الفترات إلى الفترات كما قد لا تكون منطقياً إلى عبارة صحيحة.

www.almanahi.com

3 التمرين

التقييم التكويني

استخدم التمارين من 1 إلى 15 للتحقق من الاستيعاب.

استخدم النخطط أسفل هذه الصفحة لتخصيص واجبات الطلاب.

تدريس الممارسات الرياضية

البنية: يدقق الطلاب المتوقفون في مادة الرياضيات لتمييز نمط أو بنية، ويمكنهم رؤية الأشياء المعقدة، مثل بعض التعبيرات الجبرية، كأشياء مفردة أو تتألف من عدة أشياء.

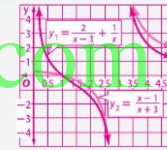
ملاحظات لحل التمرين

ورق مربعات بالنسبة للتمارين 33 و 47 إلى 49. سيحتاج الطلاب إلى ورق مربعات.

التمثيلات المتعددة

في التمرين 33، سيستخدم الطلاب التمثيلات البيانية للدوال ذات الصلة للتحقق من حلول المعادلات النسبية.

إجابات إضافية



36. الإجابة النموذجية:

$$38. \frac{4}{x} = \frac{x}{7} + 2$$

الإجابة النموذجية: $x = 3$ أو $x = -2$

و 3 هما قيمتان غير معرفتان. في التمثيل البياني للدالة $f(x)$ ستكون هناك خطوط تقارب رأسية عند هاتين القيمتين.

39. الإجابة النموذجية: يمكن أن يؤدي ضرب كلا طرفي المعادلة أو

المتباينة النسبية في المقام المشترك الأصغر إلى ظهور حلول دخيلة. وبالتالي، ينبغي عليك التحقق من كافة الحلول للتأكد من مناسبتها للمعادلة أو المتباينة الأصلية.

التحقق من فهمك

المثالان 1-2

خُصّل كل من المعادلات التالية، وتحقق من صحة الحل.

1. $\frac{4}{7} + \frac{3}{x-3} = \frac{53}{56}$ 11

2. $\frac{7}{5} - \frac{3}{x-8} = \frac{19}{12}$ 9

3. $\frac{10}{2x+1} + \frac{4}{3} = 2$ 7

4. $\frac{11}{4} - \frac{5}{y+3} = \frac{23}{12}$ 3

5. $\frac{8}{x-5} - \frac{9}{x-4} = \frac{5}{x^2 - 9x + 20}$ 8

6. $\frac{14}{x+3} + \frac{10}{x-2} = \frac{122}{x^2 + x - 6}$ 5

7. $\frac{14}{x-8} - \frac{5}{x-6} = \frac{82}{x^2 - 14x + 48}$ 14

8. $\frac{5}{x+2} - \frac{3}{x-2} = \frac{12}{x^2 - 4}$ 14

مثال 3:

9. البنية: لدى تورا 10 كيلوجرامات من الفاكهة المجففة وتبيع كل كيلوجرام منها مقابل AED 6.25. ونود أن نعرف كم تحتاج من كيلوجرامات مزيج الفيكسرات المباعية مقابل AED 450 لكي يوزن مزيجها من الفيكسرات والفاكهة المجففة بياض مقابل AED 5 كيلوجرام.

ا. افترض أن $m =$ عدد كيلوجرامات مزيج الفيكسرات. أكمل الجدول التالي.

| الكمية الإجمالية | الكمية لكل كيلوجرام | الكمية الإجمالية | الكمية لكل كيلوجرام |
|------------------|---------------------|------------------|-------------------------|
| 51 (4.5) | 51 | 4.5 | الفاكهة المجففة |
| 4.5m | AED 4.50 | m | مزيج الفيكسرات |
| 5(10 + m) | AED 5.00 | m + 10 | مزيج الفيكسرات والفاكهة |

b. اكتب معادلة نسبية مستخدماً العمود الأخير من الجدول. $62.5 + 4.5m = 50 + 5m$

c. خُصّل المعادلة لتحديد عدد كيلوجرامات مزيج الفيكسرات اللازم. 25

10. المسافة: يبلغ متوسط سرعة قيادة موزة لدرجاتها 115 كيلومتراً في الساعة. وتقوم برحلة ذهاب وعودة بمسافة 40 كيلومتراً. وستغرق ساعة و 20 دقيقة في نفس اتجاه الرياح وساعتين و 30 دقيقة عكس اتجاه الرياح.

a. اكتب تعبيراً يمثل الزمن الذي قضته موزة في اتجاه الريح. $\frac{20}{11.5 - x}$

b. اكتب تعبيراً يمثل الزمن الذي قضته موزة عكس اتجاه الريح. $\frac{20}{11.5 + x}$

c. كم يستغرق إكمال الرحلة؟ 3 h و 50 min

d. اكتب معادلة نسبية لتحديد سرعة الرياح وأوجد حلها. $\frac{20}{11.5 + x} + \frac{20}{11.5 - x} = \frac{23}{6}$

مثال 4

مثال 5

مثال 6

11. العمل: يعمل أوب وفارس في تلميع السيارات. ويستطيع أوب تلميع إحدى السيارات في 60 دقيقة بينما يستطيع فارس تلميع نفس السيارة في 80 دقيقة. ويخطط الاثنان إلى تلميع نفس السيارة معاً ويود معرفة كم من الزمن سيستغرق ذلك.

a. ما الحد الذي سيكمل أوب في دقيقة؟ $\frac{1}{60}$

b. ما الحد الذي سيكمل أوب في x دقيقة؟ $\frac{x}{60}$

c. ما الحد الذي سيكمل فارس في y دقيقة؟ $\frac{y}{80}$

d. ما الحد الذي سيكمل فارس في x دقيقة؟ $\frac{x}{80}$

e. اكتب معادلة نسبية تمثل عمل أوب وفارس معاً على السيارة. $\frac{x}{60} + \frac{x}{80} = 1$

f. خُصّل المعادلة لتحديد الزمن المستغرق لإكمال تلميع السيارة. حوالي 3.43 nim

جميع الحقوق محفوظة © مؤسسة المنهج للتعليم الإلكتروني

www.almanahj.com

668 | الدرس 9-6 | حل المعادلات والمتباينات النسبية

خيارات الواجب المنزلي المتباينة

| المستوى | الواجب | الخيار اليومي |
|----------|---------------------|--|
| AL مبتدئ | 16-30, 36, 38-54 | 36, 38, 39, 44-54 زوجي 16-30 |
| OL أساسي | 17-29, 31-36, 38-54 | 16-30, 40-43 فردي 31-36, 38, 39, 44-54 |
| BL متقدم | 31-51 (اختياري) | |

668 | الدرس 9-6 | حل المعادلات والمتباينات النسبية





تدريس المهارات الرياضية

الأدوات عند إنشاء ضاوح الرياضيات، يدرك الطلاب المتفوقون في الرياضيات أن التكنولوجيا قد تتيح لهم تصور نتائج الافتراضات المختلفة، واستكشاف عواقبها، ومقارنة التوقعات مع البيانات، ويمكنهم استعمال الأدوات التكنولوجية لاستكشاف المفاهيم وتعميق فهمهم لها.

التبرين وحل المسائل

- المثالان 1-2** حَسِّلْ كل من المعادلات التالية، وتحقق من حلولك.
16. $\frac{9}{x-7} - \frac{7}{x-6} = \frac{13}{x^2 - 13x + 42}$ **9**
17. $\frac{13}{y+3} - \frac{12}{y+4} = \frac{13}{y^2 + 7y + 12}$ **2**
18. $\frac{14}{x-2} - \frac{18}{x+1} = \frac{22}{x^2 - x - 2}$ **7**
19. $\frac{11}{a+2} - \frac{10}{a+5} = \frac{36}{a^2 + 7a + 10}$ **1**
20. $\frac{x}{2x-1} + \frac{3}{x+4} = \frac{21}{2x^2 + 7x - 4}$ **-12, 2**
21. $\frac{2}{y-5} + \frac{y-1}{2y+1} = \frac{2}{2y^2 - 9y - 5}$ **0**
- الأمثلة 3-5** **الكيمياء** كم عدد ميليلترات محلول حمضي بتركيز 20% التي يجب إضافتها إلى 30 mL من محلول حمضي بتركيز 75% للحصول على محلول حمضي بتركيز 53%؟ **180 mL**
- البيانات** اشترت سالي 1.4 kg من الفوز مقابل AED 7.35 للكيلوجرام، فكم عدد كيلوجرام الفئاح التي باعته ببيع AED 10.20 للكيلوجرام التي يجب أن تشتريها بحيث تكون تكلفة كيلوجرام الفئاح 8.15؟ **AED 4.07 kg**
- البيانات** تستطيع مجموعة بدر التطوعية بناء مرآب في 12 ساعة، وتنتج مجموعة شياء بناء مرآب في 16 ساعة، كم من الزمن سيستغرقان إذا عملاً معاً؟ **حوالي 6.86 ساعات.**
- مثال 6** حَسِّلْ كل من المتباينات التالية، وتحقق من حلولك.
25. $3 - \frac{4}{x} > \frac{5}{4x}$ **أو $x < 0$ أو $x > 1.75$**
26. $\frac{5}{3x} - \frac{3}{4x} > \frac{5}{6}$ **أو $0 < x < 11$**
27. $\frac{x-2}{x+2} + \frac{1}{x-2} > \frac{x-4}{x-2}$ **أو $2 < x < 14$ أو $x < -2$**
28. $\frac{3}{x} - \frac{1}{x-3} > \frac{x}{x+4}$ **أو $x < -3$ أو $4 < x < \frac{17}{3}$**
29. $\frac{2}{3} + \frac{2}{3} < \frac{3}{x-4}$ **أو $x < -5$**
30. $\frac{x}{x+2} + \frac{1}{x-1} < \frac{2}{x-2}$ **أو $2 < x < 5$ أو $x < -5$**
- المسألة 31** حَسِّلْ حَسِّنْ سرعة إحدى الطائرات 20 ساعة لتطير إلى وجهتها، يمكن اتجاه الريح تستغرق رحلة العودة 16 ساعة، إذا كان متوسط سرعة الطائرة في الهواء الساكن 500 كيلومتر في الساعة، فما متوسط سرعة الريح أثناء الرحلة؟ **55.56 mi/h**
- المعرفة العامة 32** ارتفعت هدى في استثمار AED 10,000 في حسابين مختلفين، ويمكن لحساب المحوّل بالمخاطر أن يجني فائدة 9% بينما يجني الحساب الآخر فائدة 5%، ونور أن هدى فائدة AED 750 هذا العام، من بين الجداول أو التمثيل البياني أو المعادلات، اختر أفضل طريقة لتمثيل توزيعها لتحديد العدد المعتبر استثماره في كل حساب.
- 33** **التبيلات المتعددة** فَرِّقْ من $\frac{x-1}{x-3} + \frac{1}{x} = \frac{2}{x-3}$ **AED 6250 بفائدة 9% و AED 3750 بفائدة 5%**
- a. الصيغ الجبرية** حَسِّلْ المعادلة لإيجاد x هل كانت أي من قيم x دجيلة؟ **نعم؛ 3**
- b. التمثيل البياني** مثل $y = \frac{2}{x-3} + \frac{1}{x}$ و $y = \frac{x-1}{x-3}$ 2 ما بيانياً على نفس التمثيل البياني لـ $0 < x < 5$. **انظر الحاشية.**
- c. التحليلات** بأي قيم x تتقاطع؟ هل تتقاطع القيم عندما تكون x دجيلة بالنسبة لحل المعادلة الأصلية؟ **نعم؛ 1**
- d. الصيغ اللغوية** استخدم المعرفة فذكر كيفية استخدام تمثيل بياني لتحديد إن كانت الحل المحتملة لمعادلة نسبية دجيلة أم لا. **مثل بيانياً كل من طرفي**
- المسألة 34** حَسِّلْ كل من المعادلات التالية، وتحقق من حلولك.
- المعادلة في النقاط التي يتقاطع عندها التمثيل البياني، لا يوجد حل، فإذا لم تتقاطع، يكون الحل المحتمل دجلاً.**
34. $\frac{x}{y+1} - \frac{3}{4-y} = \frac{2y-2}{y^2-9} - 1$
35. $\frac{2}{y+2} - \frac{2}{2-y} = \frac{y^2+4}{y^2-4}$
- مسائل مهارات التفكير العليا**
36. **مسألة غير محددة الإجابة** قدم مثلاً على معادلة نسبية يمكن حلها بضرب كل طرف من طرفي المعادلة في $(x+3)(x-4)$. **انظر الحاشية.**
37. **التحدي** حَسِّلْ $\frac{1}{1-\frac{20}{x^2}} = \frac{x+4}{x-5}$. **جميع الأعداد الحقيقية عدا 5، -5، 0.**
38. **الأدوات** عند استخدام خاصية Table على حاسبة التمثيل البياني لاستكشاف **انظر الحاشية.**
- $f(x) = \frac{1}{x^2 - x - 6}$ ، سطر القيم -2 و 3 على الحاسبة "ERROR". **وضح دلالتها.**
- 39** **الكتابة في الرياضيات** أحياناً ينبغي عليك التحقق من حلولك للمعادلات والمتباينات النسبية؟ **انظر الحاشية.**

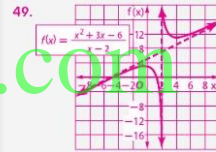
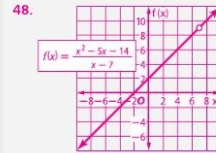
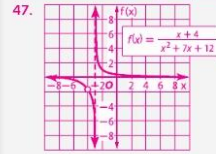
www.almanahj.com

جميع الحقوق محفوظة © مؤسسة المنهج للتعليم الإلكتروني

4 التقييم

تعيين مصطلح الرياضيات اطلب من الطلاب كتابة مسائل من الحياة اليومية تشبه تلك التي رأوها في هذا الدرس ولكن باستخدام البيانات الخاصة بهم. اطلب من الطلاب حل المسائل.

إجابات إضافية



تدريب على الاختبارات المعيارية

40. يحتوي 9 kg من مزيج الكسرات على 55% من الدول السوداني مزوجاً بـ 6 kg من نوع آخر من مزيج الكسرات يحتوي على 40% من الدول السوداني. كم نسبة الدول السوداني في المزيج الجديد؟
A 58% B 51% C 49% D 47%
41. يقدر واحد، يستطع سائح جفر حفرة 3 m في 3 m في خمس ساعات، ويستطع حسن جفر نفس الحفرة في ست ساعات، كم من الزمن سيستغرقان إذا عملاً معاً؟
F 15 h H 25.2 h
G 2.34 h J 37.2 h
42. اصطفت حاملة طائرات في رحلة إلى مدينة ما ثم عادت، وقد استغرقت رحلة الذهاب ثلاث ساعات ورحلة العودة أربع ساعات، وقد كان متوسط السرعة في رحلة العودة 6 km/h. أوجد متوسط سرعة الرجعة إلى عجا.
A 6 km/h B 8 km/h
C 10 km/h D 12 km/h
43. **إجابة قصيرة** إذا كان التسييم f متناظراً على قطعة مستقيمة CD في نقطة F و $F = FD$ ، $CF = FD$ ، فكم عند التقاطع على التسييم f التي تكون مسافلتها من النقطة C نفس مسافلتها من النقطة D جميع النقاط.

مراجعة شاملة

- حدد إن كانت كل علاقة توضح تغيراً طردياً أم عكسياً أم لا توضح أي منها. (الدرس 9-5)
44.

| x | y |
|----|----|
| 12 | 18 |
| 24 | 36 |
| 36 | 18 |
| 72 | 9 |

 لا هذا ولا ذلك
45.

| x | y |
|-----|-----|
| 0.2 | 24 |
| 0.6 | 72 |
| 1.8 | 216 |
| 5.4 | 648 |

 طردي
46.

| x | y |
|-----|-------|
| 14 | 3 |
| 28 | 15 |
| 56 | 0.75 |
| 112 | 0.375 |

 لا هذا ولا ذلك
- مُن كل دالة بياناً. (الدرس 9-4) 49-49. انظر الحاشية.
47. $f(x) = \frac{x+4}{x^2+7x+12}$
48. $f(x) = \frac{x^2-5x-14}{x-7}$
49. $f(x) = \frac{x^2+3x-6}{x-2}$
50. المتاح بصر عن الضغط الجوي P ، بأخبار الارتفاع معين عن الأرض من خلال التباين $P = a + e^{-bx}$ ، في التباين a تمثل الضغط على سطح الأرض، والذي يبلغ نحو 1 بار، ويمثل b الارتفاع الذي نود إيجاد الضغط عنده بالكيلومترات بينما يبلغ 7 km H دالتا. a ، أوجد الضغط عند ارتفاع 2 km و 4 km و 7 km. b ، ما الذي تلاحظه حول الضغط مع تزايد الارتفاع؟
51. أجهزة الكمبيوتر منذ أن تو اختراع أجهزة الكمبيوتر، تضاعفت السرعة الحاسوبية بعامل من 4 كل ثلاث سنوات. a ، إذا كان جهاز الحاسب يعمل بسرعة حاسوبية 5 اليوم، فكم عدد السنوات التي تتوقع أن يعمل بها جهاز حاسب مكافئ بعد x سنوات من ثلاث سنوات 3^x و 4^x ؟ b ، اشرح كيف يمكن أن يكون هذا صحيحاً.
52. $52, 12, 13$ نعم
53. $60, 80, 100$ نعم
54. 54 نعم
55. $7, 24, 25$ نعم

مراجعة المهارات

- حدد ما إذا كان التالي أطوال محتملة لأضلاع مثلث قائم.

670 | الدرس 9-6 | حل المعادلات والتباينات النسبية

التدريس المتمايز

التوسع يطلق على المعادلة $\frac{1}{f} = \frac{1}{d} + \frac{1}{i}$ أحياناً "معادلة العدسة". توضح كيفية اتصال الطول البؤري f لعدسة ما بالمسافات d و i من العدسة إلى شيء ما ومن صورة الشيء كما تم رؤيته عبر العدسة. على التوالي، اطلب من الطلاب إيجاد الطول البؤري لعدسة ما، بالنسبة لشيء محدد، إذا كان يبلغ قياس 20 cm و يبلغ قياس i 12 cm . اطلب منهم حل معادلة العدسة لإيجاد f بالنسبة إلى d و i . $f = \frac{di}{d+i}$ 7.5 cm

670 | الدرس 9-6 | حل المعادلات والتباينات النسبية



دليل الدراسة

المفاهيم الأساسية

التعبير النسبية (الدرس 9-1 و 9-2)
 ضرب التعبيرات النسبية وقسمتها وعملتها مشابهتان لضرب الكسور وقسمتها.
 تحويل الكسور المركبة إلى أبسط صورة، يمكن تبسيط كل من البسط والمقام على حدة، ثم تبسيط التعبير الناتج.

الدوال النسبية ودوال المتلوب (الدرس 9-3 و 9-4)

تأخذ دالة المتلوب الصيغة $f(x) = \frac{a}{b(x)}$ حيث $a(x)$ دالة خطية و $b(x) \neq 0$.
 تأخذ الدالة النسبية الصيغة $f(x) = \frac{a(x)}{b(x)}$ حيث $a(x)$ و $b(x)$ دالتان كثيرتا الحدود و $b(x) \neq 0$.

التغير الطردي والمشتك والعكسي (الدرس 9-5)

التغير الطردي، يكون هناك عدد غير صفري k بحيث تكون $y = kx$.
 التغير المشترك، يكون هناك عدد غير صفري k بحيث تكون $y = kxz$.
 التغير العكسي، يكون هناك عدد غير صفري k بحيث يكون $xy = \frac{k}{z}$ أو $xy = 0$ حيث $x \neq 0$ و $y \neq 0$.

المعادلات والمتباينات النسبية (الدرس 9-6)

تخلص من الكسور في المعادلات النسبية عبر ضرب كل طرف من طرفي المعادلة بالمتام المشترك الأصغر.
 يجب ألا نحل المعادلات النسبية التي تحتوي على قيم غير صحيحة في المقام.

مطويات منظم الدراسة



يؤكد من إدراج المفاهيم الأساسية في المطوية.

التقييم التكويني

المفردات الأساسية تشير مراجع الصفحة بعد كل كلمة إلى المكان الذي ذكر فيه المصطلح لأول مرة. إذا واجه الطلاب صعوبة في الإجابة عن الأسئلة 1-10، فذكرهم باستخدام هذه الصفحات المرجعية لإعناش ذاكرتهم بشأن المفردات.

مطويات منظم الدراسة

مطويات ديننا زايبك

اطلب من الطلاب إلقاء نظرة على الوحدة للتأكد من أنهم قد أضافوا بعض الأمثلة إلى مطوياتهم. اقترح على الطلاب الاحتفاظ بمطوياتهم بجانبهم أثناء إنجاز صفحات دليل الدراسة والمراجعة. وبين لهم أن المطويات تمثل أداة مراجعة سريعة عند المذاكرة لاختبار الوحدة.

المفردات الأساسية

| | |
|------------------------------------|------------------------------------|
| التغير المركب combined variation | نقطة الانفصال point discontinuity |
| كسر مركب complex fraction | معادلة نسبية rational equation |
| ثابت التغير constant of variation | التعبير النسبي rational expression |
| التغير الطردي direct variation | دالة نسبية rational function |
| خط تقارب أفقي horizontal asymptote | متباينة نسبية rational inequality |
| قطع قطع hyperbola | دالة المتلوب reciprocal function |
| تغير عكسي inverse variation | خط تقارب رأسي vertical asymptote |
| تغير مشترك joint variation | خط تقارب مائل oblique asymptote |
| خط تقارب مائل oblique asymptote | المتوسط المرجح weighted average |

مراجعة المفردات

اختر من القائمة أعلاه المصطلح الذي يكمل كل جملة أو عبارة بأفضل شكل.

- هو تعبيرٌ نسبي يحتوي ببسطه و/ أو مقامه على تعبير نسبي.
- إذا أظهرت كسبتان _____، فإن ناهُ ضربهما يساوي يساوي ناتجًا. **تغير عكسي (inverse variation)**
- خط التقارب _____ هو خط تقارب خطي ليس أفقيًا ولا رأسيًا. **المائل**
- يمكن التعبير عن _____ بأصيغة $ax + y$.
- عروض المعادلات التي تحتوي على تعبير نسبي في المقام أو أكثر تسمى **المعادلات النسبية (rational equation)**.
- يحتوي التمثيل البياني لكرد $y = \frac{a}{x}$ على _____ عند $x = -2$.
- يحدث _____ عندما تختلف كمية واحدة بشكل مباشر بوضوح ناهُ ضرب لاثنتين أو أكثر من الكميات الأخرى. **التغير المشترك**
- تدعى نسبة تعبيرين كثيري الحدود باسم **التعبير النسبي (rational expression)**.
- تبدو _____ مثل فجوة في التمثيل البياني لأن التمثيل البياني غير معرف عند تلك النقطة. **نقطة الانفصال**
- يحدث _____ عندما تختلف كمية واحدة بشكل مباشر و/ أو عكسي مثل الثنتين أو أكثر من الكميات الأخرى.



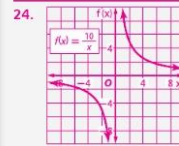
9 دليل الدراسة والمراجعة تابع

مراجعة درس بدرس

مراجعة درس بدرس

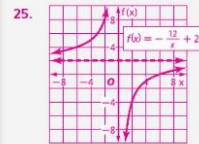
التدخل التقييمي إذا كانت الأمثلة البعظية غير كافية لعرض الموضوعات التي تتناولها الأسئلة، فذكر الطلاب بأن مراجع الدروس ترشدكم إلى مكان مراجعة الموضوع في كتبهم المدرسية.

إجابات إضافية



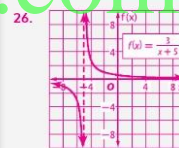
$$D = \{x \mid x \geq 0\}$$

$$R = \{f(x) \mid f(x) \geq 0\}$$



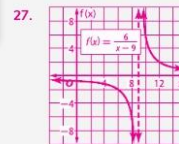
$$D = \{x \mid x \neq 0\}$$

$$R = \{f(x) \mid f(x) \neq 2\}$$



$$D = \{x \mid x \neq -5\}$$

$$R = \{f(x) \mid f(x) \neq 0\}$$



$$D = \{x \mid x \neq 9\}$$

$$R = \{f(x) \mid f(x) \neq 0\}$$

9-1 ضرب التعبيرات النسبية وقسمتها

حوّل كل تعبير لأبسط صورة.

مثال 1

$$\frac{4a \cdot 9b^4}{3b \cdot 2a^2} = \frac{2 \cdot 2 \cdot a \cdot 3 \cdot 3 \cdot b^4 \cdot b \cdot b}{3 \cdot b \cdot 2 \cdot a \cdot a}$$

$$= \frac{6a^2}{a}$$

مثال 2

حوّل كل تعبير لأبسط صورة.

$$\frac{r^2 + 5r}{2r} \cdot \frac{r^2 - 25}{6r - 12} = \frac{r^2 + 5r}{2r} \cdot \frac{r^2 - 25}{6r - 12}$$

$$= \frac{r(r+5)}{2r} \cdot \frac{(r+5)(r-5)}{6r-12}$$

$$= \frac{(r+5)}{2} \cdot \frac{(r+5)(r-5)}{6r-12}$$

$$= \frac{(r+5)(r-5)}{2(6r-12)}$$

$$= \frac{(r+5)(r-5)}{12r-24}$$

$$= \frac{(r+5)(r-5)}{12(r-2)}$$

11. $\frac{-16xy}{27z} \cdot \frac{15z^3}{8z^2} \cdot \frac{10yz^2}{9x}$

12. $\frac{x^2 - 2x - 8}{x^2 + x - 12} \cdot \frac{x^2 + 2x + 15}{x^2 + 7x + 10} \cdot \frac{x-4}{x+4}$

13. $\frac{x^3 - 1}{x^2 - 4} \cdot \frac{x^2 - 5x - 14}{x^2 - 6x - 7} \cdot \frac{x-1}{x-2}$

14. $\frac{x+y}{15x} \cdot \frac{x^2 - y^2}{3x^2} \cdot \frac{x}{5(x-y)}$

15. $\frac{x^2 + 3x - 18}{x+4} \cdot \frac{x-3}{x^2 + 7x + 6} \cdot \frac{x-3}{x+1}$

16. الهندسة: شغل مساحة مثلث $3x^2 + 9x - 54$ سنتيمترا مربعا. إذا كان ارتفاع المثلث $6x - 18$ cm، أوجد طول القاعدة.

9-2 جمع التعبيرات النسبية وطرحها

حوّل كل تعبير لأبسط صورة.

مثال 3

$$\frac{3a}{a^2 - 4} - \frac{2}{a - 2} = \frac{3a}{(a-2)(a+2)} - \frac{2}{a-2}$$

$$= \frac{3a - 2(a+2)}{(a-2)(a+2)}$$

$$= \frac{3a - 2a - 4}{(a-2)(a+2)}$$

$$= \frac{a - 4}{(a-2)(a+2)}$$

17. $\frac{9}{4ab} + \frac{5a}{6b^2} + \frac{27b + 10a^2}{12ab^2}$

18. $\frac{3}{4x-8} - \frac{x-1}{x^2-4} = \frac{-x+10}{4(x-2)(x+2)}$

19. $\frac{y}{2} + \frac{4y}{3x^2} - \frac{5}{6xy^2} = \frac{3xy^3 + 8y^3 - 5x}{6x^2y^2}$

20. $\frac{x^2 - 3x - 10}{x^2 - 4} = \frac{4x - 18}{(x-5)(x+2)(x-2)}$

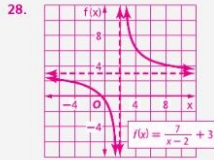
21. $\frac{3}{3x^2 + 2x - 8} - \frac{x-1}{2x^2 + 6x + 4} = \frac{-2x^2 + 3}{2(x+2)(3x-4)(x+1)}$

22. $\frac{3}{2x+3} + \frac{x-1}{x+1} = \frac{-2x^2 + 3}{4x^2 + 11x + 5}$

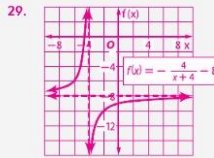
23. الهندسة: ما محيط المستطيل؟

$$\frac{10x + 20}{(x + 6)(x + 1)}$$

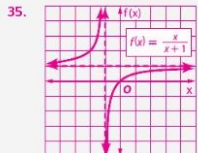
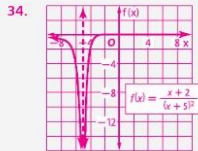
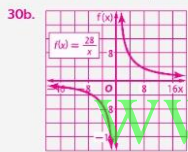

إجابات إضافية



$D = \{x \mid x \neq 2\}$
 $R = \{f(x) \mid f(x) \neq 3\}$



$D = \{x \mid x \neq -4\}$
 $R = \{f(x) \mid f(x) \neq -8\}$



9-3 تمثيل دوال المتكوب بيانياً

مثال 4

مثل كل دالة بيانياً، واذكر المجال والمدى.

24. $f(x) = \frac{10}{x}$ 25. $f(x) = -\frac{12}{x} + 2$
 26. $f(x) = \frac{3}{x+5}$ 27. $f(x) = \frac{6}{x-9}$
 28. $f(x) = \frac{7}{x-2} + 3$ 29. $f(x) = \frac{4}{x+4} - 8$

30. **المحظف** يزور مجلس الطلاب 28 شجرة لمشروع خدمي، ويعتقد عدد الأشجار التي سيزرعها كل شخص على عدد أعضاء مجلس الطلاب.

a. اكتب دالة لتمثيل هذه الحالة. $f(x) = \frac{28}{x}$
 b. ارسم الدالة بيانياً. **انظر الهامش.**

9-4 التمثيل البياني للدوال النسبية

مثال 5

حدد معادلات خطوط التفراب الرأسية وقيم x لأي فجوات في التمثيل البياني لكل دالة نسبية.

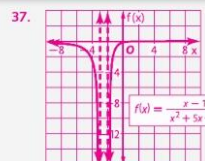
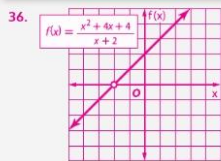
31. $f(x) = \frac{3}{x^2+4x}$ $x = -4, x = 0$
 32. $f(x) = \frac{x+2}{x^2+6x+8}$ $x = -4, x = -2$
 33. $f(x) = \frac{x^2-9}{x^2-5x-24}$ $x = 3, x = 8$

مثل كل دالة نسبية بيانياً.

34. $f(x) = \frac{x+2}{(x+5)^2}$ 35. $f(x) = \frac{x}{x+1}$
 36. $f(x) = \frac{1}{6x(x-1)}$ 37. $f(x) = \frac{x-1}{x^2+5x+6}$

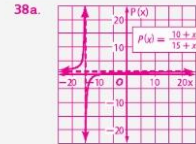
38. **الهيئات** تتبع أمل الشركات لإحدى المجالات، من أول 15 منزلاً، باعت الشركات في 10 منها لتفترض أن أمل ذهبت إلى مجموعة أخرى من المنازل يبلغ عددها x وباعت الشركات فيها جميعاً، يمكن تحديد نسبة المنازل التي باعت فيها من إجمالي المنازل باستخدام $\frac{10+x}{15+x}$.

a. ارسم الدالة بيانياً. **انظر الهامش في الصفحة 584.**
 b. ما قيم المجال والمدى التي لها معنى في سياق المسألة؟
 $D = \{x \geq 0\}$, $R = \{0 \leq P(x) \leq 1.0\}$



9 دليل الدراسة والمراجعة تابع

إجابة إضافية



9-5 دوال التغير

سؤال 7
إذا كانت y تتغير عكسياً مع x وكانت $x = 24$ عندما $y = -8$ ، فأوجد x عندما $y = 15$.

تغير عكسي
 $\frac{x_1}{y_1} = \frac{x_2}{y_2}$
 $\frac{24}{-8} = \frac{x_2}{15}$
 $24(-8) = 15x_2$
 $-192 = 15x_2$
 $-12\frac{4}{5} = x_2$
 عندما تكون $y = 15$ فإن قيمة x تكون $-12\frac{4}{5}$.

39. إذا كانت a تتغير طردياً مع b وكانت $b = 18$ عندما $a = 27$ ، فأوجد a عندما $b = 10$.
 40. إذا كانت y تتغير عكسياً مع x وكانت $y = 15$ عندما $x = 35$ ، فأوجد y عندما $x = -5$.
 41. إذا كانت y تتغير عكسياً مع x وكانت $y = -3$ عندما $x = 9$ ، فأوجد y عندما $x = 81$.
 42. إذا كانت z تتغير بشكل مشترك مع x وكانت $x = 8$ و $z = 3$ عندما $y = 72$ ، فأوجد y عندما $x = -5$ و $z = 30$.
 43. إذا كانت y تتغير بشكل مشترك مع x وكانت $x = 18$ و $y = 6$ عندما $x = 15$ و $z = 4$ ، فأوجد y عندما $x = 12$ و $z = 48$ و $y = 5$.
 44. أعمال بتصر: دخل بيتي طردياً مع عدد ساعات رعايتها للأطفال. إذا كانت كلفة 68 AED لكل 8 ساعات من رعاية الأطفال، فأوجد مقدار ما كسبته بعد 5 ساعات من رعاية الأطفال. **AED 42.50**

9-6 حل المعادلات والمتباينات النسبية

سؤال 8
حَسِّبْ المعادلة: $\frac{3}{x+2} + \frac{1}{x} = 0$
 المقام المشترك الأصغر هو $x(x+2)$.
 $\frac{3}{x+2} + \frac{1}{x} = 0$
 $x(x+2)\left(\frac{3}{x+2} + \frac{1}{x}\right) = x(x+2)(0)$
 $3x + x + 2 = 0$
 $4x + 2 = 0$
 $4x = -2$
 $x = -\frac{1}{2}$

- حل كل معادلة أو متباينة. تحقق من حلولك.
 45. $\frac{1}{3} + \frac{4}{x-2} = 6$ $x = \frac{46}{17}$
 46. $\frac{6}{x+5} - \frac{3}{x-3} = \frac{6}{x^2+2x-15}$ $x = 13$
 47. $\frac{2}{x^2-9} - \frac{1}{x^2-2x-1} = \frac{1}{x}$
 48. $\frac{2}{2x-3} + \frac{x}{x+1} = \frac{6}{2x^2-x-3}$ $x = \frac{1}{2}, -4$
 49. $\frac{x}{x+4} - \frac{28}{x^2+x-12} = \frac{1}{x-3}$ $x = 8$
 50. $\frac{x}{2} + \frac{1}{x-1} < \frac{x}{4} < x < 1$
 51. $\frac{1}{2x} - \frac{4}{5x} > \frac{1}{3} - \frac{9}{10} < x < 0$
 52. أعمال الحديثة: تستطيع ياسمين أن تزرع حديقة خلال 3 ساعات، وتستطيع هالة زراعة الحديقة نفسها خلال 4 ساعات. كم من الزمن سيستغرقان إذا عملاً معاً؟ $1\frac{5}{7} h$



تدريب على الاختبار

الوحدة 9 تدريب على الاختبار

إجابات إضافية

5. $\frac{x+7}{3(2x+1)}$
6. $\frac{-x+3}{2(x-1)(x+1)}$
7. $\frac{4y^2+14y-21}{14y^2}$
9. $x = -2; f(x) = -5;$
 $D = \{x \mid x \neq -2\}.$
 $R = \{f(x) \mid f(x) \neq -5\}$

حُل كل معادلة أو متباينة.

19. $\frac{-1}{x+4} = 6 - \frac{x}{x+4}, x = -5$
20. $\frac{1}{3} = \frac{5}{m+3} + \frac{3}{21}, m = -108$
21. $7 + \frac{2}{x} < -\frac{5}{x} - 1 < x < 0$
22. $r + \frac{6}{r} - 5 = 0, r = 2, 3$
23. $\frac{6}{7} - \frac{3m}{2m-1} = \frac{11}{7}, m = \frac{5}{31}$
24. $\frac{r+2}{3r} = \frac{r+4}{r-2} - \frac{2}{3}, r = -\frac{1}{4}$

25. إذا كانت y تغير عكسيا مع x وكانت $y = 18$ عندما $x = -\frac{1}{2}$ فأوجد x عندما $y = -30$.
26. إذا كانت m تغير طرديا مع n وكانت $m = 24$ عندما $n = -3$ فأوجد n عندما $m = 30$.
27. افترض أن t تغير بشكل مشترك مع s و z . إذا كانت $z = 20$ عندما $t = 140$ و $r = -5$ ، فأوجد s عندما $r = 7$ و $t = 2.5$ و $z = -2$.
28. ركوب الدراجات عندما تترك سها دراجتها، تغير المسافة التي تقطعها طرديا مع مقدار وقت ركوبها للدراجة. افترض أنها تقطع بالدراجة مسافة 50 km خلال 2.5 ساعة. وفي هذا الفعل، كم ساعة سيستغرقها قطع مسافة 80 km بالدراجة؟

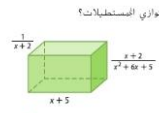
4 ساعات

29. **الطلاء** يستطیع عمر طلاء منزل خلال 10 ساعات. ويستطیع عامر طلاء المنزل نفسه خلال 9 ساعات. كم من الزمن سيستغرقان إذا عملا معا؟

حوالي 4.7 ساعات.

30. **الاختبار من متعدد** كم عدد لترات محلول حمضي بتركيز 25% التي يجب إضافتها إلى 30 L من محلول حمضي بتركيز 80% للحصول على محلول حمضي بتركيز 450%؟

جوابي: F 18, G 30, H 36, J 66



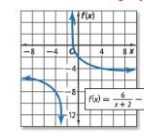
31. ما حجم متوازي المستطيلات؟

وحدات مكعبة. $\frac{1}{x+1}$

حول كل تعبير لأبسط صورة. 5-7. انظر الهامش.

1. $\frac{x^2+x}{2x} \div \frac{x+1}{16x^2}, 8x^2$
2. $\frac{m^2-4}{3m^2} - \frac{6m}{2-m} - \frac{2(m+2)}{m}$
3. $\frac{m^2+m-6}{m^2-9} \div \frac{m-2}{n+3} + \frac{m+3}{n-3}$
4. $\frac{x^2+4x+3}{x^2-2x-15} - \frac{x+4}{x-1} - \frac{x^2-1}{x^2-x-20}$
5. $\frac{x+4}{6x+3} + \frac{1}{2x+1}$
6. $\frac{x^2+4x+3}{x^2-1} - \frac{3}{2x+2}$
7. $\frac{1}{y} + \frac{2}{7} - \frac{3}{2y^2}$
8. $\frac{2+\frac{1}{x}}{5-\frac{1}{x}} - \frac{2x+1}{5x-1}$

9. انكر خطوط التناوب للدالة المثلثة بيانيا وجانها ومداهما.



10. **اختيار من متعدد** ما معادلة خط التناوب الرأسي للدالة الأسية

- $f(x) = \frac{x+1}{x^2+3x+2}$ A
 A $x = -2$
 B $x = -1$
 C $x = 1$
 D $x = 2$

مثل كل دالة بيانية. 11-16. انظر ملحق إجابات الوحدة 9.

11. $f(x) = \frac{8}{x} - 9$
12. $f(x) = \frac{2}{x+4}$
13. $f(x) = \frac{3}{x-1} + 8$
14. $f(x) = \frac{5x}{x+1}$
15. $f(x) = \frac{x}{x-5}$
16. $f(x) = \frac{x^2+5x-6}{x-1}$
17. حدد معادلات أي خطوط التناوب الرأسية وقم x لأي فجوات في التمثيل البياني للدالة $f(x) = \frac{x+5}{x^2-2x-35}$.
18. حدد معادلات أي خطوط التناوب المائلة في التمثيل البياني للدالة $f(x) = \frac{x^2+x-5}{x+3}$.

ملحق الإجابات والتمرين © مجموعة النشر العالمية للمناهج التعليمية

9 التحضير للاختبارات المعيارية

التخمين والتحقق

من المفهم جدا أن نتابع سرعتك وتتابع معها مقدار الوقت الذي يكون متاحا لك عند إجراء اختبار معياري. إذا كان الوقت ينقذ، أو إذا كنت غير متأكد من كيفية حل إحدى المسائل، فإن إستراتيجية التخمين والتحقق قد تساعدك على تحديد الإجابة الصحيحة بسرعة.



إستراتيجيات للتخمين والتحقق

الخطوة 1

أبمن النظر في كل اختبار إجابة ممكنة، وقومته بفرقة مدى صحته. ألق الإجابات الخاطئة.

اسأل نفسك:

- هل هناك أي خيارات إجابة غير صحيحة بشكل واضح؟
- هل أي من خيارات الإجابة ليست بالشكل الصحيح؟
- هل توجد أي خيارات إجابة لا تحتوي الوحدات المناسبة للإجابة الصحيحة؟

الخطوة 2

لخيارات الإجابة البتنية، استخدام أسلوب التخمين والتحقق.

- **المعادلات:** إذا كنت تحل معادلة، فاستبدل خيار الإجابة بالتفسير وانظر ما إذا كان هذا يؤدي إلى جملة عديدة صحيحة.
- **نظام المعادلات:** في نظام المعادلات، استبدل خيار الإجابة بجميع المتغيرات وتأكد أن جميع المعادلات تؤدي إلى جملة عديدة صحيحة.

الخطوة 3

- اختر خيار إجابة وانظر ما إذا كان يفي بظروف بيان المسألة. حدّد الإجابة الصحيحة.
- إذا كان خيار الإجابة الذي تختاره لا يحل المسألة، فانتقل إلى التخمين المتعول التالي. وتحقق منه.
- عندما تصل إلى خيار الإجابة الصحيح، توقف.

مثال على الاختبار المعياري

اقرأ المسألة. حدد ما تحتاج إلى معرفته، ثم استخدم معطيات المسألة لحلها.

$$\frac{2}{x-3} - \frac{4}{x+3} = \frac{8}{x^2} - 9$$

- أوجد حل، و
- | | |
|------|-----|
| A -1 | C 5 |
| B 1 | D 7 |

1 التركيز

الهدف استخدام إستراتيجية الحل بترتيب عكسي لحل مسائل الاختبار المعيارية.

2 التدريس

أسئلة داعمة

اسأل:

- لماذا تعتبر طريقة التخمين والتحقق إستراتيجية جيدة لاستخدامها في الاختبارات المعيارية؟
- الإجابة النموذجية: أنت تعرف أن الإجابة الصحيحة موجودة ضمن الخيارات المقدمة. بمجرد إجراء تخمين منطقي، يمكنك التحقق منه في مقابل المعلومات الموجودة في المسألة لتحديد ما إذا كانت صحيحة أو ما إذا كان ينبغي عليك الانتقال للتخمين المنطقي التالي. ومن ثم يمكنك الوثوق في إجابتك.
- متى ينبغي عليك استخدام إستراتيجية التخمين والتحقق؟ الإجابة النموذجية: يمكنك التخمين والتحقق في أي وقت من الاختبار المعيارية من الأمر المتعددة للغاية عندما يكون لخيارات الإجابة أن تحل محل المعلومات الواردة في المسألة، على سبيل المثال، عندما تكون الخيارات قيم يمكن أن تحل محل متغير في تعبير أو معادلة.



مسائل إضافية

تبرهن على الاختيار المعياري افترض أن y تتغير بشكل مشترك مع x و z . أوجد y عندما تكون $x = 12$ و $z = 7$. إذا كانت $y = 40$ عندما تكون $x = 28$ و $z = 15$.

- A 8
- B 20
- C 80
- D 200

3 التقييم

استخدم التمارين من 1 إلى 4 لتقويم استيعاب الطلاب.

حل المعادلة النسبية سيكون عددا حقيقيا، وما أن جميع خيارات الإجابة الأربعة أعداد حقيقية، فهي جميعا إجابات صحيحة ممكنة ويجب التحقق منها. ابدأ بخيار الإجابة الأول وتحقق منه في المعادلة النسبية. تابع حتى تجد خيار الإجابة الذي ينتج عنه جملة عددية صحيحة.

التحقق

$$\frac{2}{(-1)-3} - \frac{4}{(-1)+2} = \frac{8}{(-1)^2-9}$$

التحقق -1: $\frac{2}{-4} - \frac{4}{1} = \frac{8}{-10}$
 $-\frac{1}{2} - 4 = -\frac{8}{5}$ $\neq -1$ X

التحقق

$$\frac{2}{1-3} - \frac{4}{1+3} = \frac{8}{(1)^2-9}$$

التحقق 1: $\frac{2}{-2} - \frac{4}{4} = \frac{8}{-8}$
 $-1 - 1 = -2$ $\neq -1$ X

التحقق

$$\frac{2}{5-3} - \frac{4}{5+3} = \frac{8}{(5)^2-9}$$

التحقق 5: $\frac{2}{2} - \frac{4}{8} = \frac{8}{16}$
 $1 - \frac{1}{2} = \frac{1}{2}$ ✓

إذا كانت $x = 5$ ، فالنتيجة جملة عددية صحيحة، فإن الإجابة الصحيحة هي C.

تمارين

3. حدد النقطة (أو النقاط) التي تتقاطع عندها الدالة النسبية التالية مع المحور x .

$$f(x) = \frac{2}{x-1} - \frac{x+4}{3}$$

- A -5
- B 4
- C 3 أو 2
- D -5 أو 2

اقرأ كل مسألة. حدد ما تحتاج إلى معرفته، ثم استخدم معطيات المسألة لحلها.

1. أوجد حل: $\frac{2}{5x} - \frac{1}{2x} = -\frac{1}{2}$

- A 10
- B 1
- C 4
- D 2

4. بيع شركة البسبح التي يملكها عيسى الهنداكر بقيمة 10 AED. وبهذا السعر بيعون 400 تذكرة، يتدّر عيسى بأن المبيعات ستتخصص ببيدادر 40 تذكرة مع كل زيادة في السعر تبلغ 2 AED. ما السعر الذي سيحقق عنه أكبر مقدار من الإيرادات؟ H

- F 10
- G 13
- H 15
- J 20

2. مجموع أعمار خالد وأسماء ونورا يساوي 40. أسماء أكثر بعام واحد من مثلي نورا، خالد أكثر من أسماء بثلاثة أعوام. كم عمر أسماء؟ H

- F 7
- G 14
- H 15
- J 18





9 الوحدة | تدريب على الاختبارات المعيارية

الوحدة 9 تدريب على الاختبارات المعيارية

تشخيص أخطاء الطلاب
اطلع على إجابات الطلاب عن كل سؤال. قد تشير توجيهات الصف إلى وجود أخطاء أو سوء فهم شائعين بين الطلاب.

- A. كتب بالخطأ ساعة واحدة و45 دقيقة في شكل 1.45
B. جمع المقامات بالخطأ
C. صحيح
D. ضمن
F. 2. وجد الاختلاف الصحيح، لكنه جمعه عندما كان ينبغي عليه الضرب فيه
G. صحيح
H. قسم على الفارق الصحيح بدلاً من الضرب فيه
J. استخدم الضرب ولكن ليس الفارق الصحيح
3. A. صحيح
B. فسر بشكل خاطئ العدد 2 باعتبارها التقاطع x
C. لم يستخدم علامة + للإشارة لاتجاه التحول
D. فسر بشكل خاطئ العدد 2 باعتبارها التقاطع x
F. 4. تجاهل كلمة ليس في السؤال
G. تجاهل كلمة ليس في السؤال
H. تجاهل كلمة ليس في السؤال
J. صحيح
5. A. لم يحلل العامل $x^2 - 16$ بشكل صحيح
B. حوّل الكسر لأبسط صورة بشكل غير صحيح
C. صحيح
D. حوّل الكسر الحوّل لأبسط صورة بشكل خاطئ
6. F. فسر التمثيل البياني بشكل خاطئ
G. صحيح
H. فسر التمثيل البياني بشكل خاطئ
J. فسر التمثيل البياني بشكل خاطئ
7. A. صحيح
B. في هذه الدالة عندما تكون x سالبة، تكون y سالبة
C. في هذه الدالة عندما تكون x سالبة، تكون y غير معرفة
D. في هذه الدالة عندما تكون x سالبة، تكون y سالبة

اختبار من متعدد

اقرأ كل سؤال. ثم اكتب الإجابة الصحيحة في ورقة الإجابة التي قدمها المعلم أو ورقة أخرى.

1. يستطيع والد صالح جز العشب على آلة جز العشب البعثة المزكوب في 45 دقيقة، ويستغرق الأمر من صالح ساعة و45 دقيقة باستخدام آلة جز العشب المتطورة. باءية t المعادلات النسبية التالية يمكن حلها لاختساب عدد الدقائق اللازمة لجز العشب إذا تعاون الاثنان معاً?
C

A $\frac{t}{45} + \frac{t}{145} = 1$ C $\frac{t}{45} + \frac{t}{105} = 1$
B $\frac{t}{150} = 1$ D $\frac{t + 45}{t + 105} = 1$

2. تحللت التكلفة الإجمالية لمجز موقع تجزيم بشكل مباشر حسب عدد ياباني استنجاز البوفج. كنا هو موضح بالجدول

| الأيام | التكلفة الإجمالية |
|--------|-------------------|
| 1 | AED 24 |
| 2 | AED 48 |
| 3 | AED 72 |
| 4 | AED 96 |

أي معادلة تمثل الاختلاف الجياشر؟ G

F $y = x + 24$ H $y = \frac{24}{x}$
G $y = 24x$ J $y = 96x$

3. في أي اتجاه يجب إزاحة التمثيل البياني لـ $y = \frac{1}{x}$ لينتج التمثيل البياني لـ A $y = \frac{1}{x} + 2$ ؟

A. الأعلى

B. الأسفل

C. اليمين

D. اليسار

نصيحة عند حل الاختبار

المسألة 2 تحذف من الإجابة من خلال التمييز عن x بالأعداد 1 و 2 و 3 و 4 والتأكد من الحصول على القيم الموجودة بالجدول.

4. أي مما يلي ليس خطاً تقاربياً لدالة النسبية $f(x) = \frac{1}{x^2 - 4}$ ؟ J

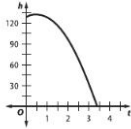
F $f(x) = 0$ H $x = 7$
G $x = -7$ J $f(x) = 1$

5. حوّل الكسر البعج لأبسط صورة، C

$$\frac{(y+3)^2}{\frac{y^2-16}{x+3}}$$

A $\frac{x+3}{x+4}$ C $\frac{x+3}{x-4}$
B $\frac{1}{x-4}$ D $\frac{x-4}{x+3}$

6. تم قذف كرة أعلى بسرعة ابتدائية 16 ft/s من أعلى شابة ارتفاعها 128 ft ارتداعها h بالقدم فوق سطح الأرض بعد t ثانية سيكون $h = 128 + 16t - 16t^2$.



فما الاستنتاج الأمثل عن حركة الكرة؟

F. ظلت الكرة فوق ارتفاع 128 ft لأكثر من 3 s

G. عادت الكرة إلى سطح الأرض في أقل من 4 s

H. خرجت الكرة لأعلى مسافة أكثر من 3.4 ft أثناء تحركها لأسفل.

J. تحركت الكرة أعلى من 128 ft في 3.4 s.

7. أي هذه المعادلات تصف علاقة تناظر فيها كل عدد حقيقي سائب x عدداً حقيقياً غير سالب y ؟ A

A $y = -x$ C $y = \sqrt{x}$
B $y = x$ D $y = x^3$

www.almanahj.com



ورقة إجابات التمارين

اطلب من الطلاب المحاكاة عن طريق إجراء اختبار معياري من خلال تسجيل إجاباتهم في أوراق تسجيل التمرين.

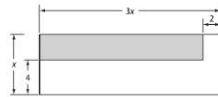
إجابات إضافية

14a. الإجابة المتوقعة:

خطوط تقارب رأسية عند $x = -4$ و $x = 4$ ، خط تقارب أفقي عند $y = 0$

$$14b. y = \frac{1}{x^2 - 16}$$

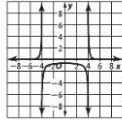
12. ما مساحة المنطقة المظللة من المستطيل المبرهن عنها ككثيرة حدود في أبسط صورة؟ $3x^2 - 14x + 8$



13. إجابة شكية افترض أن y تتناسب عكسياً مع x حيث $y = 4$ عندما $x = 12$ ، $y = 6$ عندما $x = 8$ ، فما قيمة y عندما $x = 15$ ؟ قرب إلى أقرب جزء من عشرة. **9.6**

الإجابة الموضوعة

14a, b. اكتب إجاباتك على ورقة. اكتب الحل هنا. **انظر الهامش.**



14. استخدم التمثيل البياني للكتابة التسمية الموضحة لحل كل معادلة.

a. صف خطي التقارب الرأسى والأفقي لتمثيل البياني.

b. اكتب معادلة الدالة العكسية. اشرح كيف توصلت لإجاباتك.

15. فكّر في الدالة كثيرة الحدود

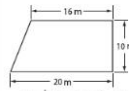
$$f(x) = 3x^4 + 19x^3 + 7x^2 - 11x - 2$$

- ما دورته الدنيا؟
- ما المعامل الرئيسي للدالة؟
- وجد قيم $f(2)$ ، $f(1)$ ، $f(-1)$ ، $f(-2)$. اكتب الحل هنا.

$$16; -56; 48a^4 + 152a^3 + 28a^2 - 22a - 2$$

الإجابة المختصرة/الإجابة الشكية

اكتب الإجابات في ورقة الإجابة التي قدمها المعلم أو ورقة أخرى.



8. تحيط سعاد الجديدة بالبوحة في الصورة بمرحلي كم عدد مترات الحجار والأرصة تقريباً؟ **56.8 m**

9. إجابة شكية ادخرت هدى بعض المال لفصله مدتها أسبوعاً. أنفقت في اليوم الأول من الفصل 125 AED على الطعام والمشروبات، وفي اليوم الثاني أنفقتها 80 AED كمشروبات، وحينما تبقى لدى فاطمة 635 AED باقي الفصل. حكم درهماً كان لديها في بداية الفصل؟ **680**

10. يريد سالم طباعة 800 منشور من صفحة واحدة لعمله في المناظر الطبيعية، وفيه طباعة بيكتها طباعة 8 صفحات في الدقيقة، وفي شركته في العمل طباعة أخرى بيكتها طباعة 10 صفحات في الدقيقة.

- كم تستغرق طباعة سالم لطباعة جميع المنشورات؟ كم تستغرق طباعة شركته؟ **100 min; 80 min**
- ضع معادلة نسبية يمكن استخدامها لإيجاد عدد الدقائق t اللازمة لطباعة جميع المنشورات وبعدها 800 في حالة استخدام الطابعتين في الوقت ذاته.
- حل المعادلة التي كتبت في الجزء b، كم تستغرق طباعة جميع المنشورات في حالة استخدام الطابعتين في الوقت ذاته؟ قرب إلى أقرب دقيقة. **حوالي 44 min**

11. إجابة شكية يمكن تمثيل عدد سكان دولة بالاعتماد على عدد الأعمار منذ 2005 حتى سيكون عدد السكان 400 مليون؟ **2120**

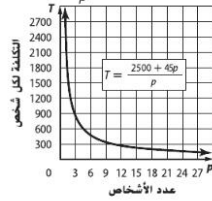
$$10b. \frac{t}{100} + \frac{t}{80} = 1$$





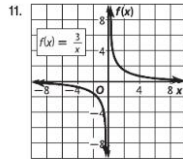
الدرس 9-2

$$4. T = \frac{2500 + 45p}{p}$$



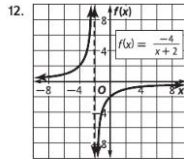
لن يصل المجال للصفر لأنه يجب أن يتواجد شخص ما في الحملة. لن يصل المدى للصفر لأنه حتى وإن وجد آلاف الأشخاص هناك، فإنهم سينكبذون بعض التكاليف. لن تكون أي قيمة سالبة لأنه لا يمكن وجود تكلفة سالبة أو عدد سالب من الأشخاص.

الدرس 9-3



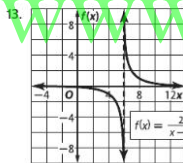
$$D = \{x \mid x \neq 0\};$$

$$R = \{f(x) \mid f(x) \neq 0\}$$



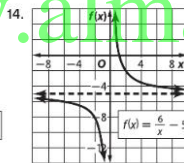
$$D = \{x \mid x \neq -2\};$$

$$R = \{f(x) \mid f(x) \neq 0\}$$



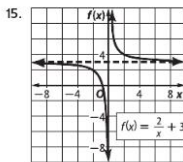
$$D = \{x \mid x \neq 6\};$$

$$R = \{f(x) \mid f(x) \neq 0\}$$



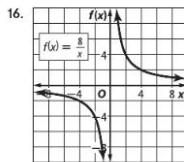
$$D = \{x \mid x \neq 5\};$$

$$R = \{f(x) \mid f(x) \neq 0\}$$



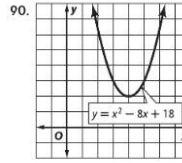
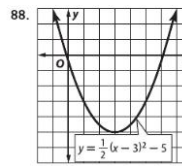
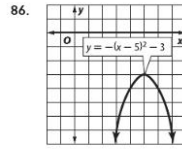
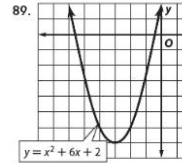
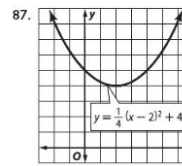
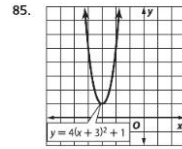
$$D = \{x \mid x \neq -3\};$$

$$R = \{f(x) \mid f(x) \neq 0\}$$

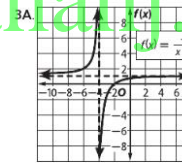


$$D = \{x \mid x \neq 0\};$$

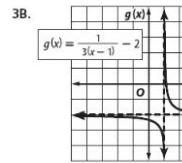
$$R = \{f(x) \mid f(x) \neq 0\}$$



الدرس 9-3 (تمرين موجه)

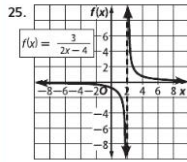


$$D = \{x \mid x \neq -4\}; R = \{f(x) \mid f(x) \neq 1\}$$

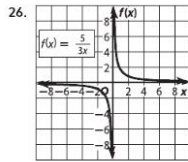


$$D = \{x \mid x \neq 1/3\}; R = \{g(x) \mid g(x) \neq -2\}$$

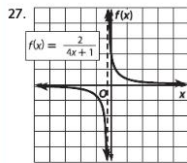




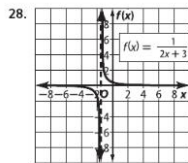
$D = \{x \mid x \neq 2\};$
 $R = \{f(x) \mid f(x) \neq 0\}$



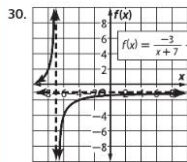
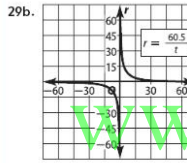
$D = \{x \mid x \neq 0\};$
 $R = \{f(x) \mid f(x) \neq 0\}$



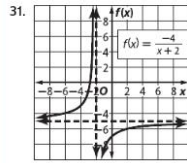
$D = \{x \mid x \neq -\frac{1}{4}\};$
 $R = \{f(x) \mid f(x) \neq 0\}$



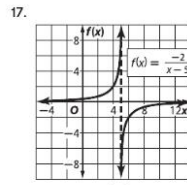
$D = \{x \mid x \neq -\frac{3}{2}\};$
 $R = \{f(x) \mid f(x) \neq 0\}$



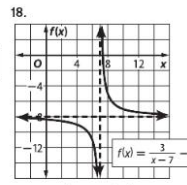
$D = \{x \mid x \neq -7\}; R = \{f(x) \mid f(x) \neq -1\}; x = -7, f(x) = -1$



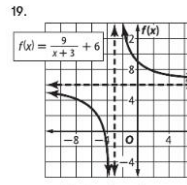
$D = \{x \mid x \neq -2\}; R = \{f(x) \mid f(x) \neq -5\}; x = -2, f(x) = -5$



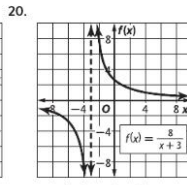
$D = \{x \mid x \neq 5\};$
 $R = \{f(x) \mid f(x) \neq 0\}$



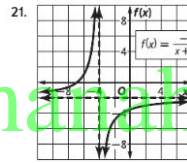
$D = \{x \mid x \neq 7\};$
 $R = \{f(x) \mid f(x) \neq -8\}$



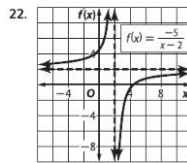
$D = \{x \mid x \neq -3\};$
 $R = \{f(x) \mid f(x) \neq 6\}$



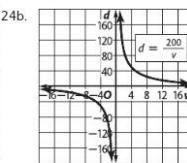
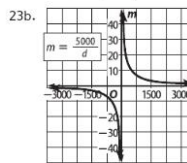
$D = \{x \mid x \neq -3\};$
 $R = \{f(x) \mid f(x) \neq 0\}$



$D = \{x \mid x \neq -4\}; R = \{f(x) \mid f(x) \neq -2\}$



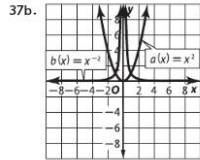
$D = \{x \mid x \neq 2\}; R = \{f(x) \mid f(x) \neq 2\}$



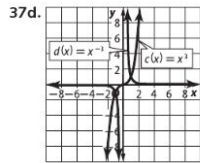


37a.

| x | a(x) = x ² | b(x) = x ⁻² | c(x) = x ³ | d(x) = x ⁻³ |
|----|-----------------------|------------------------|-----------------------|------------------------|
| -4 | 16 | 1/16 | -64 | -1/64 |
| -3 | 9 | 1/9 | -27 | -1/27 |
| -2 | 4 | 1/4 | -8 | -1/8 |
| -1 | 1 | 1 | -1 | -1 |
| 0 | 0 | غير معرفة | 0 | غير معرفة |
| 1 | 1 | 1 | 1 | 1 |
| 2 | 4 | 1/4 | 8 | 1/8 |
| 3 | 9 | 1/9 | 27 | 1/27 |
| 4 | 16 | 1/16 | 64 | 1/64 |

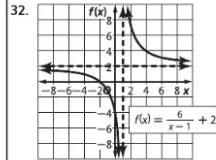


37c. $a(x) = x^2$: R = {كافة الأعداد الحقيقية}، D = {كافة الأعداد الحقيقية}، $a(x) \rightarrow \infty$ في $x \rightarrow \infty$ ، $a(x) \rightarrow \infty$ في $x \rightarrow -\infty$ ، $a(x) = 0$ عند $x = 0$.
 $b(x) = x^{-2}$: R = {كافة الأعداد الحقيقية}، D = {كافة الأعداد الحقيقية}، $b(x) \rightarrow 0$ في $x \rightarrow \infty$ ، $b(x) \rightarrow 0$ في $x \rightarrow -\infty$ ، $b(x) = 0$ غير معرّف عند $x = 0$.
 $c(x) = x^3$: R = {كافة الأعداد الحقيقية}، D = {كافة الأعداد الحقيقية}، $c(x) \rightarrow \infty$ في $x \rightarrow \infty$ ، $c(x) \rightarrow -\infty$ في $x \rightarrow -\infty$ ، $c(x) = 0$ عند $x = 0$.
 $d(x) = x^{-3}$: R = {كافة الأعداد الحقيقية}، D = {كافة الأعداد الحقيقية}، $d(x) \rightarrow 0$ في $x \rightarrow \infty$ ، $d(x) \rightarrow 0$ في $x \rightarrow -\infty$ ، $d(x) = 0$ غير معرّف عند $x = 0$.

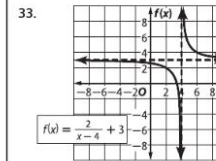


37e. $c(x) = x^3$: R = {كافة الأعداد الحقيقية}، D = {كافة الأعداد الحقيقية}، $c(x) \rightarrow \infty$ في $x \rightarrow \infty$ ، $c(x) \rightarrow -\infty$ في $x \rightarrow -\infty$ ، $c(x) = 0$ عند $x = 0$.
 $d(x) = x^{-3}$: R = {كافة الأعداد الحقيقية}، D = {كافة الأعداد الحقيقية}، $d(x) \rightarrow 0$ في $x \rightarrow \infty$ ، $d(x) \rightarrow 0$ في $x \rightarrow -\infty$ ، $d(x) = 0$ غير معرّف عند $x = 0$.
 37f. بالنسبة للدالتين الأسيتين $g(x) = ax^n$ و $f(x) = ax^m$ ، $f(x)$ و $g(x)$ هي معكوسات ضربية. تشابه السلوكيات فيما عدا $x = 0$ في $f(x)$ و $g(x)$ ، علاوة على ذلك، عندما تحتوي $f(x)$ على صفر، تكون $g(x)$ غير معرفة.

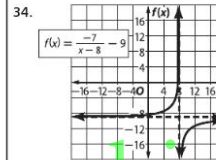
39a. يشتمل التمثيل البياني الأول على خط تقارب رأسي عند $x = 0$ وعلى خط تقارب أفقي عند $y = 0$. يزاغ التمثيل البياني الثاني 7 وحدات أعلى ويشتمل على خط تقارب رأسي عند $x = 0$ وعلى خط تقارب رأسي عند $y = 7$.



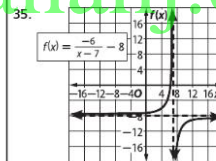
D = {x | x ≠ 1}; R = {f(x) | f(x) ≠ 2}; x = 1, f(x) = 2



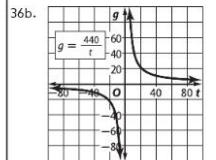
D = {x | x ≠ 4}; R = {f(x) | f(x) ≠ 3}; x = 4, f(x) = 3



D = {x | x ≠ 8}; R = {f(x) | f(x) ≠ -9}; x = 8, f(x) = -9

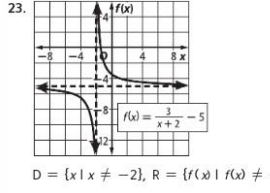
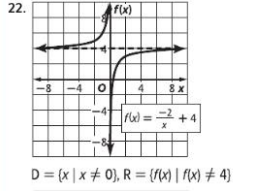
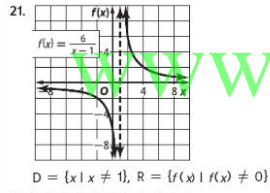
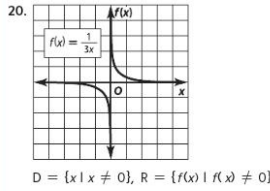
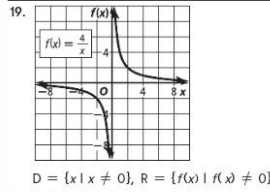


D = {x | x ≠ 7}; R = {f(x) | f(x) ≠ -8}; x = 7, f(x) = -8



القيمة العظمى النسبية عند $x = 0$ القيمة الصغرى النسبية عند $x = -2$ وعند $x = 2$, $D = \{ \text{كافة الأعداد الحقيقية} \}$, $R = \{ f(x) \mid f(x) \geq -6 \}$

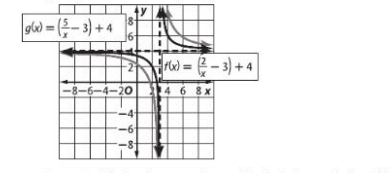
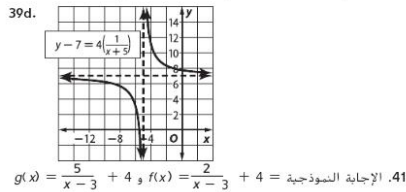
اختيار منتصف الوحدة



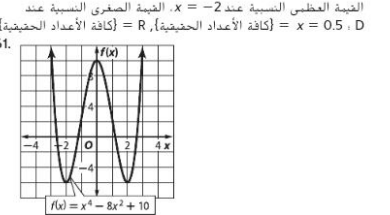
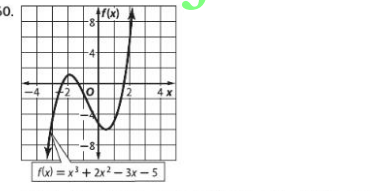
681D

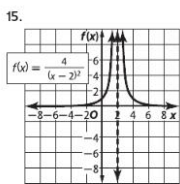
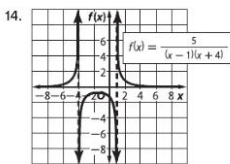
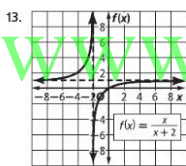
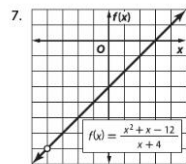
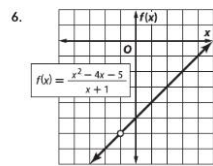
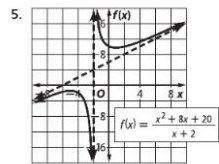
39b. يشمل كلا التمثيل البياني على خط تقارب رأسي عند $x = 0$ وعلى خط تقارب أفقي عند $y = 0$. التمثيل البياني الثاني متسع حسب العامل 4.

39c. يشمل التمثيل البياني الأول على خط تقارب رأسي عند $x = 0$ وعلى خط تقارب أفقي عند $y = 0$. نزح التمثيل البياني الثاني 5 وحدات لأعلى ويشتمل على خط تقارب رأسي عند $x = -5$ وعلى خط تقارب رأسي عند $y = 0$.

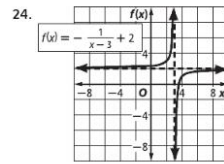


42. يمكن استخدام الدالة النسبية لتحديد ما يحتاج كل شخص إلى بيعة إذا كانت تكلفة الرحلة وعدد الأشخاص الذاهبين إلى الرحلة وبيع الحلوى يساوي 5. يجب أن يكون كل من عدد الأشخاص الذين يقومون بالبيع وعدد خواتم لكل شخص أعداد غير سالبة، كما يجب أن يكون كلاهما أعدادا صحيحة. وبالتالي، فإن الجزء التبيعي الأول من التمثيل البياني يعبرو معنى في سياق المسألة.



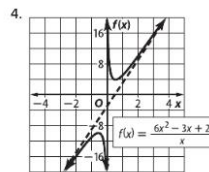
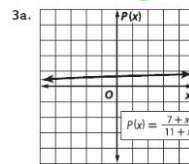
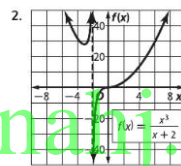
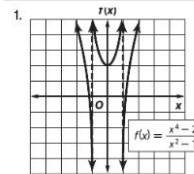


جميع الحقوق محفوظة © مجموعة المناهج التعليمية - McGraw-Hill Education



$D = \{x \mid x \neq 3\}, R = \{f(x) \mid f(x) \neq 2\}$

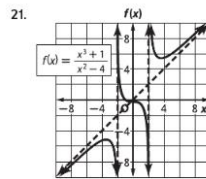
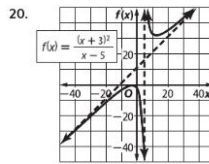
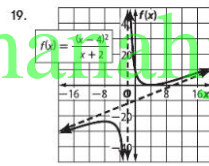
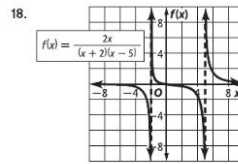
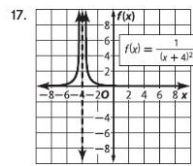
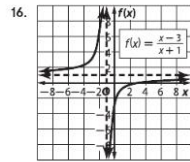
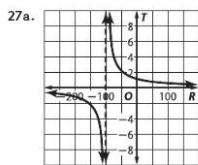
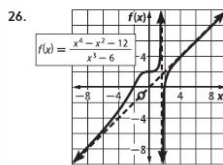
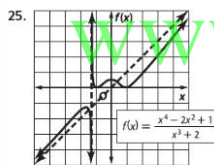
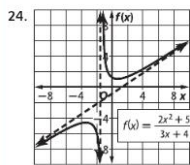
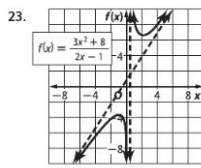
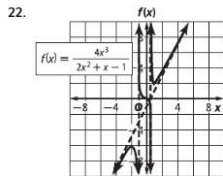
الدرس 9-4



www.almanahj.com

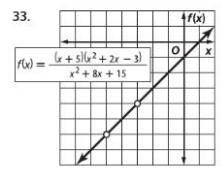
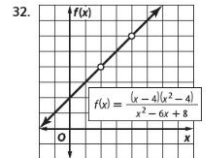
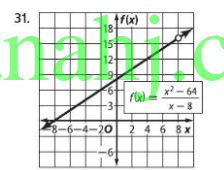
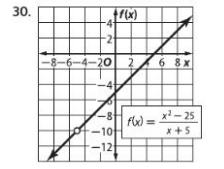
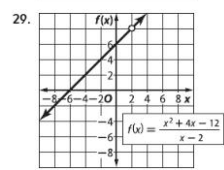
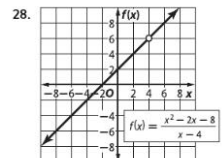
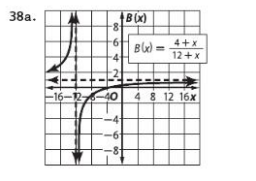
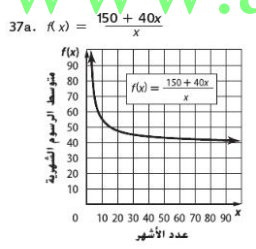
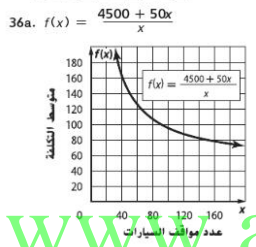
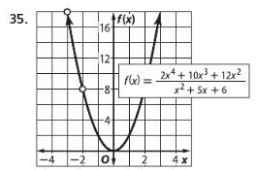
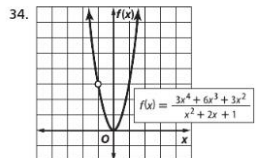
ملحق إجابات الوحدة 9





681F




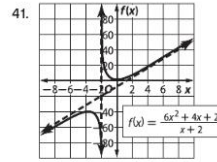
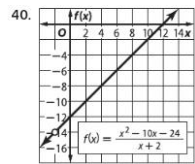
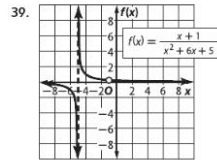
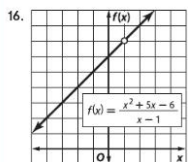
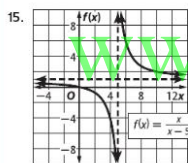
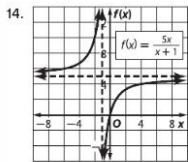
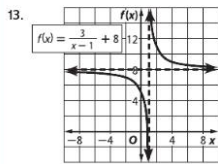
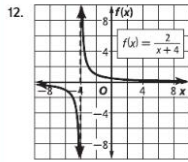


جميع الحقوق محفوظة © مجموعة المناهج التعليمية - MacGraw-Hill Education

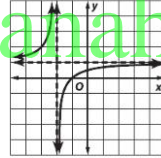
www.almanahj.com

ملحق إجابات الوحدة 9





42. التمثيل البياني النموذجي:



تدريب على الاختبار

