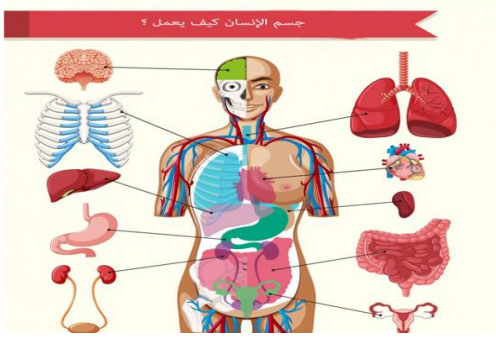




حفظ الطاقة القسم 3 (الشغل والآلات)



www.2manahj.com للعام الدراسي 2018/2017

الصف التاسع

اعداد المعلم / سامي حنيش

الفصل الدراسي الثاني

القسم 3 (حفظ الطاقة)

قانون حفظ الطاقة

في العربات الإفعوانية :-

1 - عندما يتغير إرتفاعك عن سطح الأرض

تتغير طاقة الوضع

2 - عندما تتغير سرعة العربة تتغير طاقة الحركة

تلاحظ بالقرب من سطح الأرض

أ - تقل طاقة الوضع ب - تزداد طاقة الحركة

قانون حفظ الطاقة :-

الطاقة لا تفنى ولا تستحدث من العدم وإنما يمكن أن من شكل لأخر

تحولات الطاقة

الطاقة الميكانيكية

هي ناتج جمع الطاقة الحركية وطاقة الوضع للأجسام في نظام ما

الطاقة الميكانيكية تشمل :-

1- الطاقة الحركية للأجسام

2- طاقة الوضع المرورية

3- طاقة الوضع الجذبية

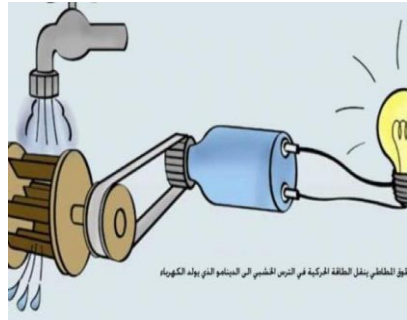

غالباً ما تبقى الطاقة الميكانيكية لأي نظام ثابتة أو شبه ثابتة

الطاقات الأخرى غير الميكانيكية

1- الطاقة النووية

2- الطاقة الحرارية

3- طاقة الوضع الكيميائية



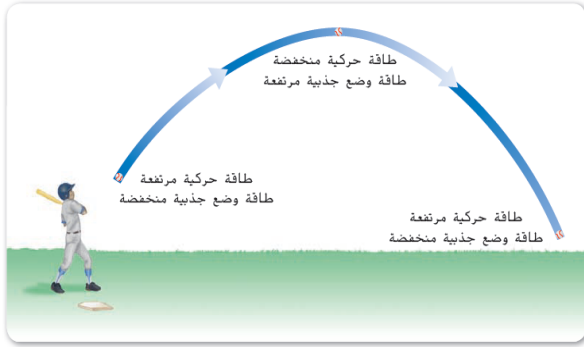
الأجسام الساقطة



تأمل شجرة التفاح والأرض تلاحظ

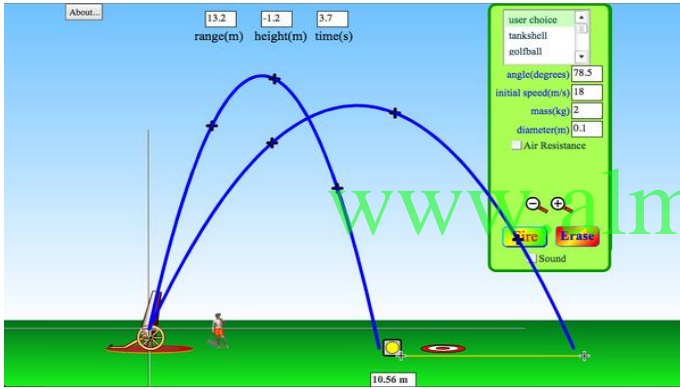
- 1- التفاحة على الشجرة :: لها وضع جذبية أعلى ما يمكن و طاقة حركية صفر لأنها ساكنة
- 2- أثناء سقوط التفاحة أ- تتحول طاقة الوضع تدريجياً إلى طاقة حركية تلاحظ أن ما يفقد من طاقة الوضع يزداد في طاقة الحركة يقال أن النظام (الأرض - التفاحة) ثابت أو شبه ثابت

حركة المقذوفات



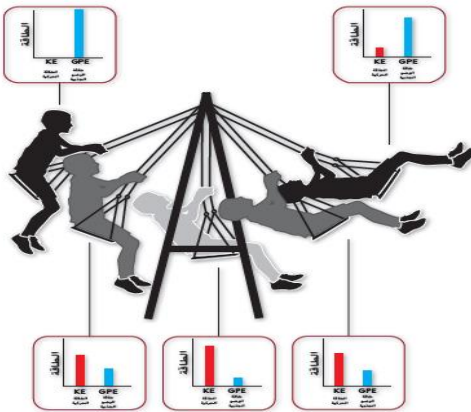
تحدث تحولات الطاقة أثناء حركة المقذوفات

- 1- أثناء انطلاق الكرة من المضرب تكون سرعتها عالية جداً (الطاقة الحركية أعلى ما يمكن)
- 2- بزيادة ارتفاع الكرة تقل السرعة والطاقة الحركية
- 3- تزداد طاقة الوضع
- 4- عند أعلى نقطة في المسار (أقصى ارتفاع)
 - أ- تكون طاقة الوضع الجذبية أعلى ما يمكن
 - ب- طاقة الحركة أقل ما يمكن أو صفر
- 5- عند سقوط الكرة من أعلى على أسفل
 - أ- تقل طاقة الوضع ب- تزداد طاقة الحركة
- 6- تظل الطاقة الميكانيكية ثابتة أثناء الإرتفاع والإنخفاض



تحويلات الطاقة

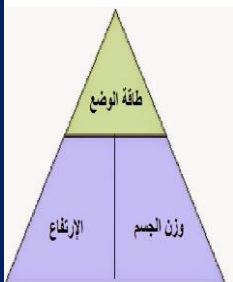
دورة الأرجوحة طريقة تحويل الطاقة الحركية إلى طاقة وضع ثم إلى طاقة حركية ثانية.



الأراجيح

هي تطبيق عملي على تحولات الطاقة

- أ- في بداية الحركة :: يتم نقل الطاقة الحركية إلى الراكب
 - ب- مع إرتفاع الأرجوحة :: تقل السرعة ويزداد الإرتفاع تتحول الطاقة الحركية إلى طاقة وضع جذبية
 - ج- عند أعلى نقطة تكون طاقة الوضع الجذبية أكبر ما يمكن
 - د- مع عودة الأرجوحة للأسفل يحدث العكس
- هـ عند سطح الأرض تكون طاقة الحركة أعلى ما يمكن وطاقة الوضع أقل ما يمكن



- يحول الاحتكاك ومقاومة الهواء جزءاً من الطاقة الميكانيكية إلى طاقة حرارية
الطاقة الحرارية :- هي الطاقة التي تنتج عن الحرارة والأجسام الساخنة
- 1- مع حركة الأرجوحة :- تزداد درجة حرارة الحطافات والهواء بصورة طفيفة
 - 2- الطاقة الميكانيكية :- تحولت لطاقة حرارية ثم انتقلت الحرارة للهواء المحيط

سؤال ص 250 :- استدل على السبب في ارتفاع درجة حرارة العجلات عندما تتحرك السيارة
لأن الطاقة الميكانيكية تتحول إلى طاقة حرارية بفعل الاحتكاك
نظام الأرض والأرجوحة :-

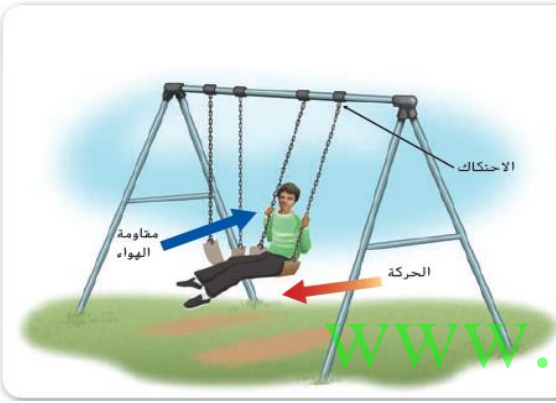
1- تتحول طاقة الوضع الكيميائية إلى

في الطعام الذي تتناوله إلى طاقة ميكانيكية

سؤال ص 250 صف تغير الطاقة الحركية وطاقة الوضع
الجاذبية لنظام الأرض والأرجوحة بمرور الزمن ؟

عندما تتحرك الأرجوحة إلى الأمام والخلف

تتحول الطاقة باستمرار من الطاقة الحركية إلى طاقة الوضع الجاذبية والعكس
وعندما تقل الحركة يتحول إجمالي الطاقة الغير مستخدمة إلى طاقة حرارية



- 1- الفرن الكهربائي : يحول الطاقة الكهربائية إلى حرارية
- 2- التلفزيون :- يحول الطاقة الكهربائية إلى طاقة صوتية وإشعاعية
- 3- المحرك الكهربائي في الغسالة :- يحول الطاقة الكهربائية إلى طاقة ميكانيكية
- 4- المصباح الكهربائي يحول الطاقة الكهربائية إلى إشعاعية

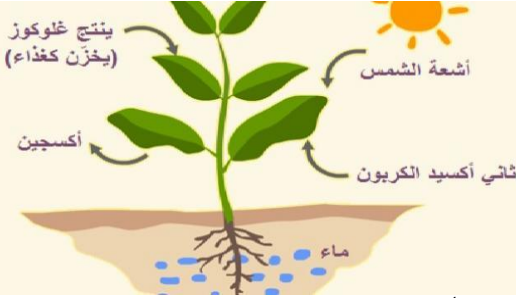


تحول طاقة الوضع الكيميائية



المواد التي تخزن الطاقة الكيميائية مثل
1- **البنزين** : طاقة وضع كيميائية

محرك السيارة يحول طاقة الوضع الكيميائية إلى طاقة حرارية
ثم إلى طاقة ميكانيكية
نلاحظ أن معظم الطاقة الكيميائية
تتحول إلى حرارية ثم ميكانيكية



2- **في النباتات** تتحول الطاقة الإشعاعية للشمس إلى طاقة وضع كيميائية
(لا يصاحبها صوت أو حرارة أو ضوء)



3- **الطعام**

به طاقة وضع كيميائية تستخدم في أداء وظائف بالجسم

القدرة - سرعة تغير الطاقة

القدرة : هي المعدل الذي يتم به تحويل الطاقة

$$\frac{\text{الطاقة (بالجول)}}{\text{الزمن (بالثانية)}} = \text{القدرة (بالواط)}$$

$$P = \frac{E}{t}$$

الوحدة الدولية لقياس القدرة هي : الواط

الواط الواحد = 1 جول في الثانية

رمز القدرة (P) رمز الطاقة (E)

الزمن (t)

سؤال : ما المقصود بأن مصباح كهربائي قدرته 35 واط ؟

بأنه يحول 35 جول في الثانية من الطاقة الكهربائية إلى طاقة إشعاعية



مثال 6

إيجاد قيمة القدرة إذا كنت تحوّل 950 J من الطاقة الكيميائية إلى طاقة ميكانيكية لتدفع أريكة، وإذا استغرقت في ذلك 5.0 s لتحريك الأريكة، فكم كانت قدرتك؟

تحديد المجهول:

القدرة: P

وضع قائمة بالمعلوم

الطاقة التي تحولت: E = 950 J

الزمن: t = 5.0 s

إعداد المسألة:

$$P = \frac{E}{t}$$

$$P = \frac{950 \text{ J}}{5.0 \text{ s}} = 190 \text{ W}$$

حل المسألة:

حل تطبيق ص 252

1- اذا كانت قدرة احدى العداءات تساوي 400 w أثناء الجري فما مقدار الطاقة الميكانيكية التي تحولها الأشكال أخرى خلال 10 دقائق

الحل

الطاقة = القدرة X الزمن

$$E = P \times t$$
$$E = 10 * 60 * 400 = 240000 \text{ J}$$

2- إن قدرة الحصان هي وحدة من وحدات قياس القدرة وتساوي 746 واط . ما مقدار الطاقة التي يمكن أن يحولها محرك قدرته 150 حصان ميكانيكي خلال 10 ثانية ؟

الحل

$$E = P \times t$$

$$E = 150 * 746 * 10 = 1119000 \text{ j}$$

القسم 3 مراجعة www.almanahj.com

1. يحوّل هبوط التل طاقة الوضع الجذبية إلى طاقة حركية. ويحوّل استخدام المكابح الطاقة الحركية إلى طاقة حرارية.
2. إنّ طاقة الوضع المرّونية وطاقة الوضع الجذبية من أشكال الطاقة الميكانيكية. أمّا طاقة الوضع الكيميائية، فليست من أشكال الطاقة الميكانيكية.
3. يحوّل الاحتكاك الطاقة الميكانيكية إلى طاقة حرارية.
4. تكون الطاقة الحركية الناتجة عن حركة العربة الأفعوانية أكبر عندما تصبح العربة الأفعوانية على قمة التل الأقل ارتفاعًا.

تطبيق مفاهيم رياضية

5. J 20,000 تقريبًا

6. J 4,000