

الاسم:
الصف والشعبة

آسيا طبيعياً

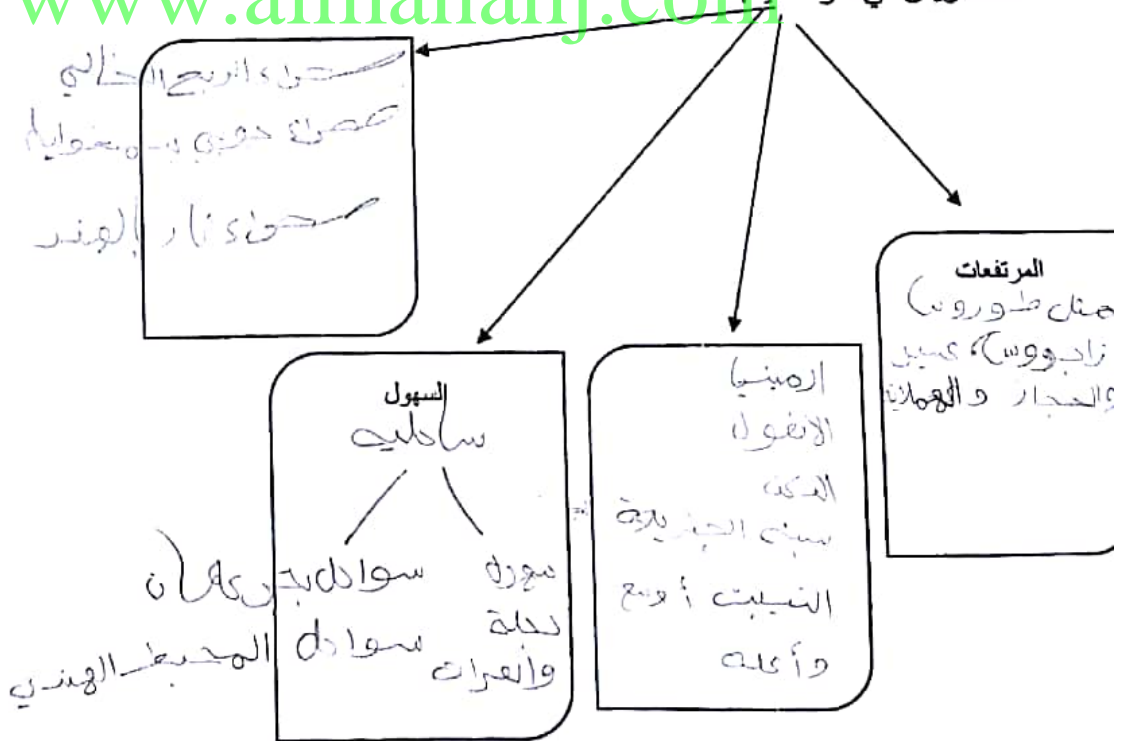
الموقع والخصائص العامة :-

- معنى الاسم : الأرض المشمسة
- المساحة : (60.000.000 كم²)
- الموقع على خطوط الطول : خط عرض 35° شمالاً وخط طول 100° شرقاً
- الموقع على دوائر العرض : 12° جنوبية إلى 88° شرقية
- أبرز المسطحات المائية التي تشرف عليها : المحيط الهندي

البحر الأبيض المتوسط
المحيط الهندي
المحيط الهندي

أكملي المخطط الذهني التالي بما يناسبه :

التضاريس في قارة آسيا :



- تعد قارة آسيا أكثر القارات سكاناً

- العوامل المؤثرة في توزيع السكان في قارة آسيا :

طبيعية : ... الموقع .. بالنسبة
 ... للبيئات الحضرية .. القضاة
 ... المناخ .. البشرية

الحيوية .. مثل المواصلات
 المواصلات
 الحروب

يتركز ويزدهم سكان آسيا في مناطق محددة مثل : ... الهند و الصين
 الأنشطة البشرية في آسيا : تنوعت بسبب تنوع ... الصناعة و الزراعة

ومن أبرزها :

التجارة :

أ- ... الداخلية
 ب- ... الخارجية
 الصادرات ... الحديد
 الواردات : ... النفط
 ... الصين
 ... اليابان

الصناعة : يعمل بها 21.5%
 أهم الصناعات :
 ...
 ...
 ...

الأبقار نسبتها 7.9%
 الأغنام 2.4%
 الماعز 1.6%
 الإبل 1.1%
 الخيول والدواجن

الزراعة : يعمل بها 74.7%
 أهم المحاصيل :
 ...
 ...
 ...
 ...

فسري : التجارة الداخلية محدودة بين دول آسيا : ؟؟؟؟؟؟؟؟؟؟؟

1- تنوع الموارد الطبيعية 2- تنوع أنشطة السكان

أهم الدول الآسيوية في التجارة الدولية : أ- الصين ب- اليابان

اسم الطالبة : 3

الشعبة : 3

وزارة التربية و التعليم

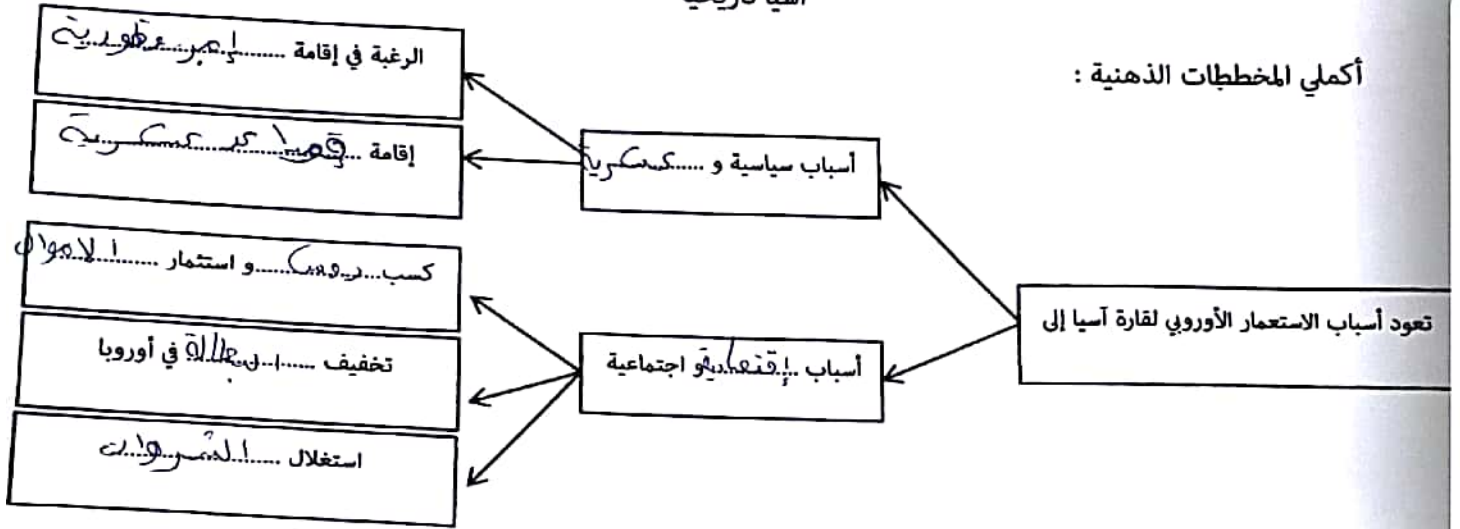
دائرة التعليم و المعرفة

مدرسة الريم للتعليم البنات حلقة ثانية

ورقة عمل مادة الدراسات الإجتماعية
و التربية الوطنية

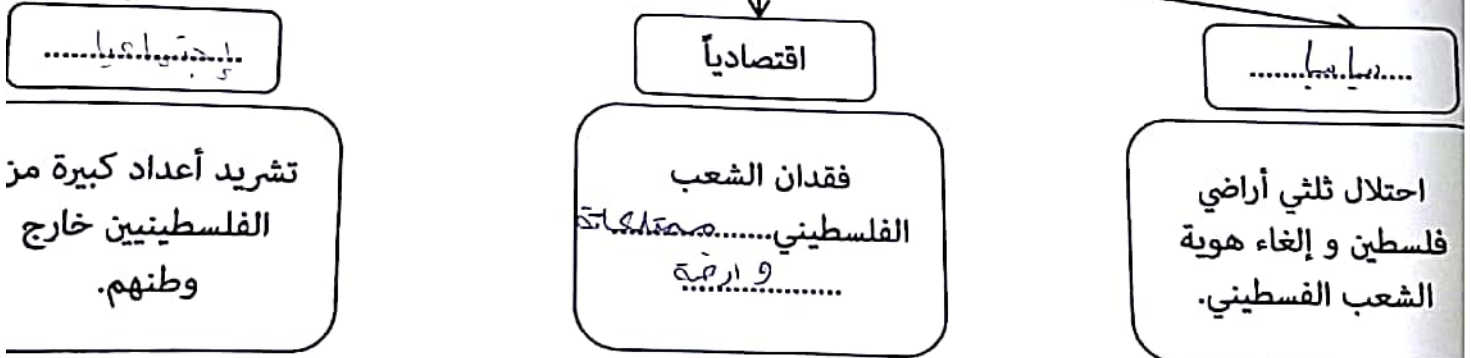
آسيا تاريخياً

أكملي المخططات الذهنية :



أسفرت حرب فلسطين عام 1948 عن تحطيم البنية السياسية و الاقتصادية و الإجتماعية للشعب الفلسطيني :

www.almanahj.com



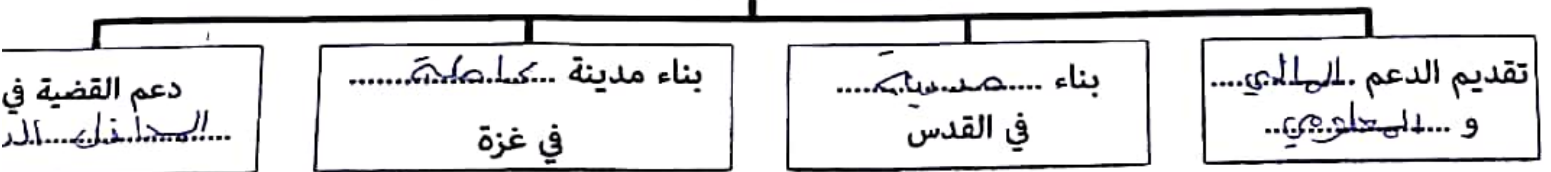
4

أبرز تطورات القضية الفلسطينية

العام	الحدث
1947	1. أعلنت بريطانيا تدويل القضية (نقلها إلى الأمم المتحدة). 2. قررت الأمم المتحدة إلغاء الانتداب البريطاني و أصدرت.....
.....1948	1. خروج القوات البريطانية من فلسطين. 2. إعلان قيام "إسرائيل" بعد هزيمة القوات العربية (حرب فلسطين).
1967	إحتلال إسرائيل للضفة الغربية و قطاع غزة في عدوان.....
.....1973	شارك جيش التحرير الفلسطيني مع سوريا و مصر في حرب أكتوبر.
1978	انتفاضة الشعب الفلسطيني (.....)
.....1997	توقيع اتفاق الحكم الذاتي في واشنطن و إعلان قيام السلطة الفلسطينية.

www.almanahj.com

مظاهر دعم دولة الإمارات للقضية الفلسطينية



اسم الطالبة:
الشعبة: SP

وزارة التربية و التعليم
دائرة التعليم و المعرفة
مدرسة الريم للتعليم البنات حلقة ثانية

ورقة عمل لمادة الدراسات الإجتماعية
و التربية الوطنية

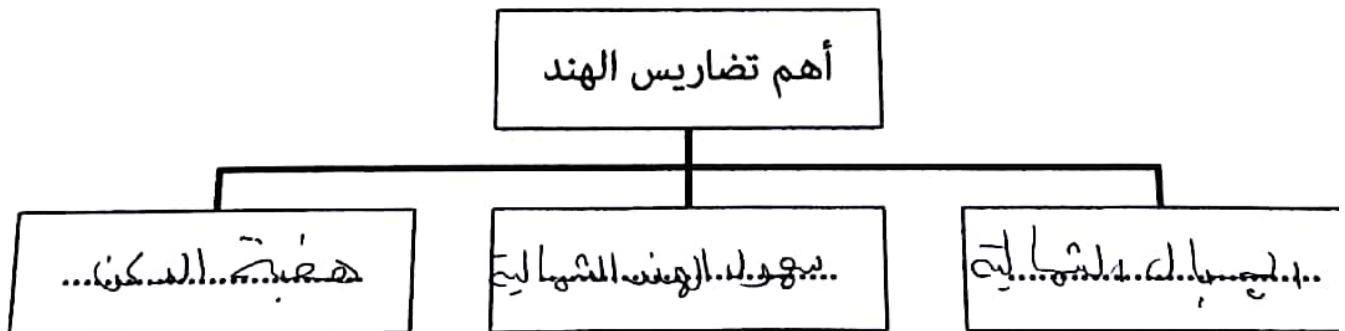
انظري إلى الخريطة ثم أجبني على الأسئلة التالية:



www.almanahj.com

- أ. حددي موقع الهند بالنسبة إلى قارة آسيا :.....
ب. أذكرى الدول و المسطحات المائية المجاورة لها:.....


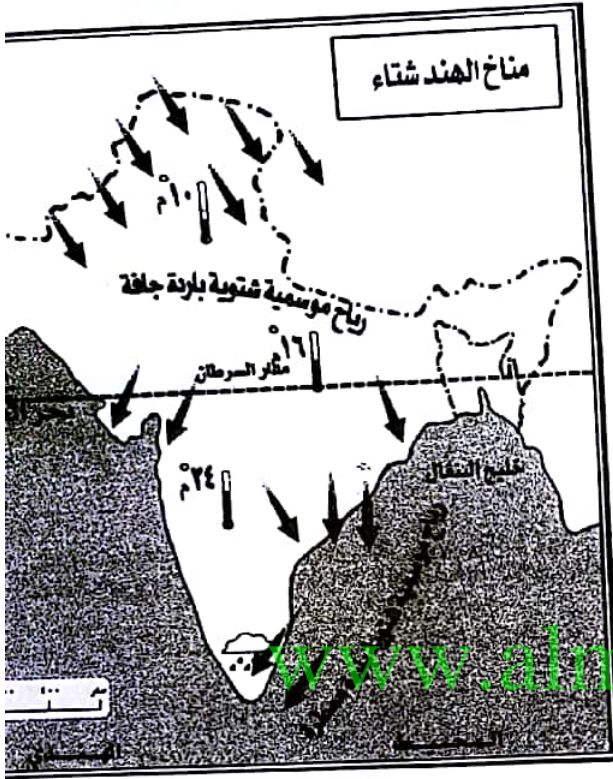
سؤال الثاني :



السؤال الثالث :

أكمل الجدول بالاستعانة بالخرائط التالية:

(6)



وجه المقارنة	صيفاً	شتاء
الحرارة	حرارة مرتفعة وباردة	حرارة منخفضة وحرارة
الأمطار	سقوط أمطار كثيرة	يسود الجفاف معظم
الرياح	الرياح الموسمية الجنوبية	الرياح الشمسية الشمالية

اسم الطالبة:

الشعبة:

ورقة عمل مادة الدراسات الإجتماعية
و التربية الوطنية

جمهورية الهند

الملامح البشرية

سكان الهند.

◆ تحتل الهند المرتبة الثانية بعد الصين من حيث الكثافة السكانية و الكثافة السكانية في العالم و هم يمثلون ما نسبته من سكان العالم.

◆ يتركز السكان في المدن الكبيرة مثل دلهي و مومباي و بنجلور و حيدرآباد

الآثار السلبية للكثافة السكانية و الازدحام في الهند

www.almanahj.com

تعدد اللغات

ارتفاع نسبة البطالة

انخفاض دخل الفرد

الإنفجار السكاني

نتائجه

أسبابه


نقص المياه

البطالة

ضغط التضخمات

الفقر والامية

ارتفاع نسبة الزواج في سن مبكرة



من أبرز الأنشطة الاقتصادية

الطاقة و الثروة المعدنية

من أهم مصادر الطاقة التقليدية
من أهم مصادر الطاقة الغير تقليدية
و
و

الثروة الحيوانية

أهم الحيوانات
و
و
و
و

الزراعة

تعتمد على أشهر محاصيلها الزراعية
الحيوية

الصناعة

هي من الدول العشرين الناشئة في الصناعة و من الدول المصدرة للصناعات
و تمتلك مقومات الصناعات
مثل :
1. ...
2. ...
3. ...
و من أهم الصناعات :
الديجيتال
و

التجارة

أهم الواردات :
أهم الصادرات :

السياحة

أهم مقوماتها في الهند :
أ. ...
ب. الطبيعة .
ج. ...
د. مصبات الأنهار
من أشهر معالمها السياحية :
أ. ...
ب. ...
ج. ...

الدول المصدرة للصناعة

9

النشاط الإقتصادي في الهند:

تشتهر الهند بثروتها الاقتصادية المتنوعة. و تصنف عالميا في المرتبة العاشره في ناتجها المحلي الإجمالي.

لاقة مع دولة الإمارات:

◆ زار الشيخ زايد رحمه الله الهند عام 1975

◆ قام الشيخ محمد بن زايد بزيارة الهند أيضا و اتفقت دولة الإمارات على

أ. بناء شراكة تقوم على التعاون الاستثمار والتعاون

ب. التعاون في الطاقة والاستثمار و تنمية والنسبة الإقتصادية

تعتبر دولة الإمارات أكبر بلد عربي مستثمر في الهند

تتركز الاستثمارات الاماراتية في الهند في قطاعات رئيسية هي النفط والبناء و الطاقة و

صناعة و برامج خطوط برنامج الكمبيوتر
المدينة

www.almanahj.com

15

اسم الطالبة :
الشعبة :

وزارة التربية و التعليم
دائرة التعليم و المعرفة
مدرسة الريم للتعليم البنات حلقة ثانية

ورقة عمل مادة الدراسات الإجتماعية و التربية الوطنية

الصين طبيعياً

أكملي الجمل الآتية بما يناسب:

الموقع الجغرافي :

تقع الصين في الجزء من نصف الكرة الأرضية , و تحتل القسم الشرقي من قارة

مساحتها الصين تبلغ كم مربع, و هي أكبر دولة مساحة بعد روسيا و

أكملي المخططات الذهنية الآتية : www.almanahj.com

تضاريس الصين



أبرزها سهول بكين (الأولى)

أبرزها الهضاب التبتية التي تحدها

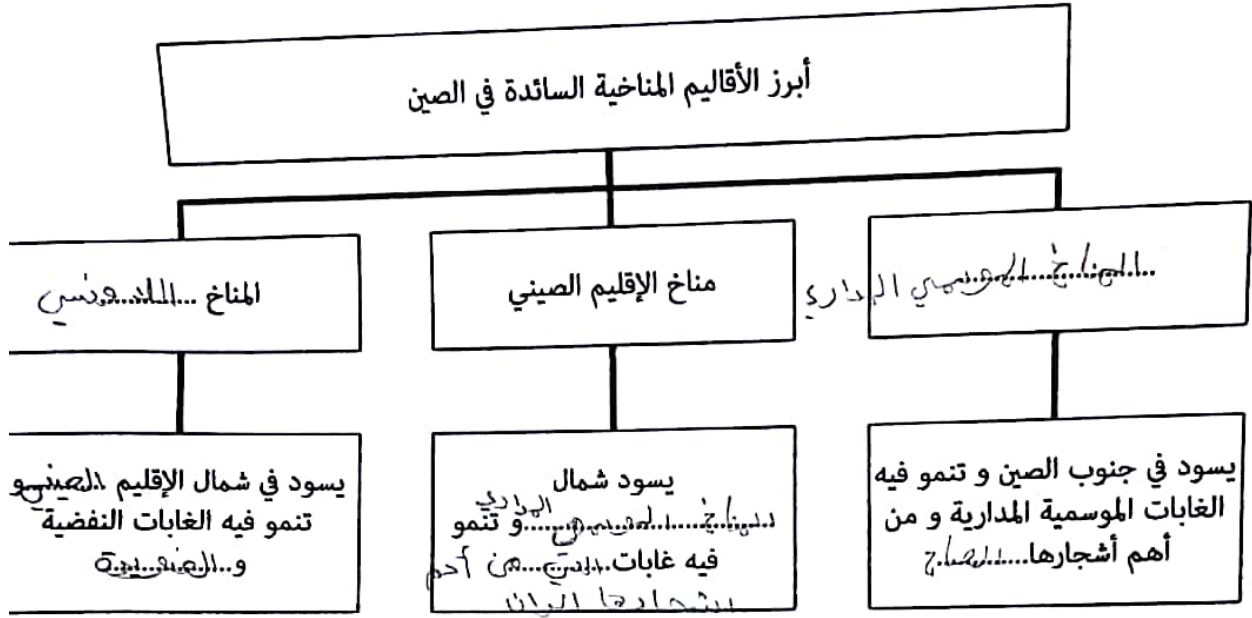
أبرزها الجبال الهيمالايا

سهول الصين العظيم
سهول يانجستي

عظيم هضاب العالم
مساحة و عتاشا ارتفاع
ويبلغ منها عدة أنهار
مثل هوانجو أو ينجستي

أبرزها جبال الهيمالايا
في القرب التي تقع
بها أعلى قمة في
العالم

١١



www.almanahj.com

اسم الطالبة :

الشعبة :

12

وزارة التربية و التعليم

دائرة التعليم و المعرفة

مدرسة الريم للتعليم البنات حلقة ثانية

ورقة عمل مادة الدراسات الإجتماعية
و التربية الوطنية

جمهورية الصين الشعبية

الملاحح البشرية

سكان الصين.

(حلي نشاط الكتاب صفحة 43)

أكملي الجمل الآتية بما يناسب

◆ يعيش على أراضي الصين أكبر عدد من سكان العالم و يتعايش فيها 56 قومية.

◆ اللغة الرسمية هي لغة

◆ تطبق الصين سياسة حرية الدينية

◆ تراجعت بنسبة الزيادة السكانية في الصين لأنها تبنت سياسة في أواخر السبعينيات من القرن العشرين .

النشاط البشري: www.almanahj.com

أكملي الجملة التالية بما يناسب.

◆ هي من أكبر عشر دول من حيث الإنتاج المحلي الإجمالي

من أبرز الأنشطة التي يمارسها سكان الصين :

الزراعة

..... القطن والفواكه و نخيل الزيد
..... جوجو خضرا الهند و البطاط و الشاي

..... القمح
..... الأرز و الذرة

تحتل الصين المركز الأول
عالميا في زراعة القمح
والأرز و الثانية في
الذرة

الثروة الحيوانية

أكملي الجمل الآتية
أعنة


- ◆ الصين من ~~أهم~~ دول العالم بـ... الادخار... و... الجواميس... و... المانين... و... الغنم...
- ◆ تعد الدولة الأولى في العالم في إنتاج... اللايهاك...
- ◆ تقوم بتربية... حوي... الخنزير... لإنتاج... الحرير... خاصة في جزيرة... شانجوج...

الثروة المعدنية

أكملي الجملة الآتية بما يناسب .

- ◆ أهم المعادن في الصين هي... المقصود... و... الحديد...

www.almanahj.com



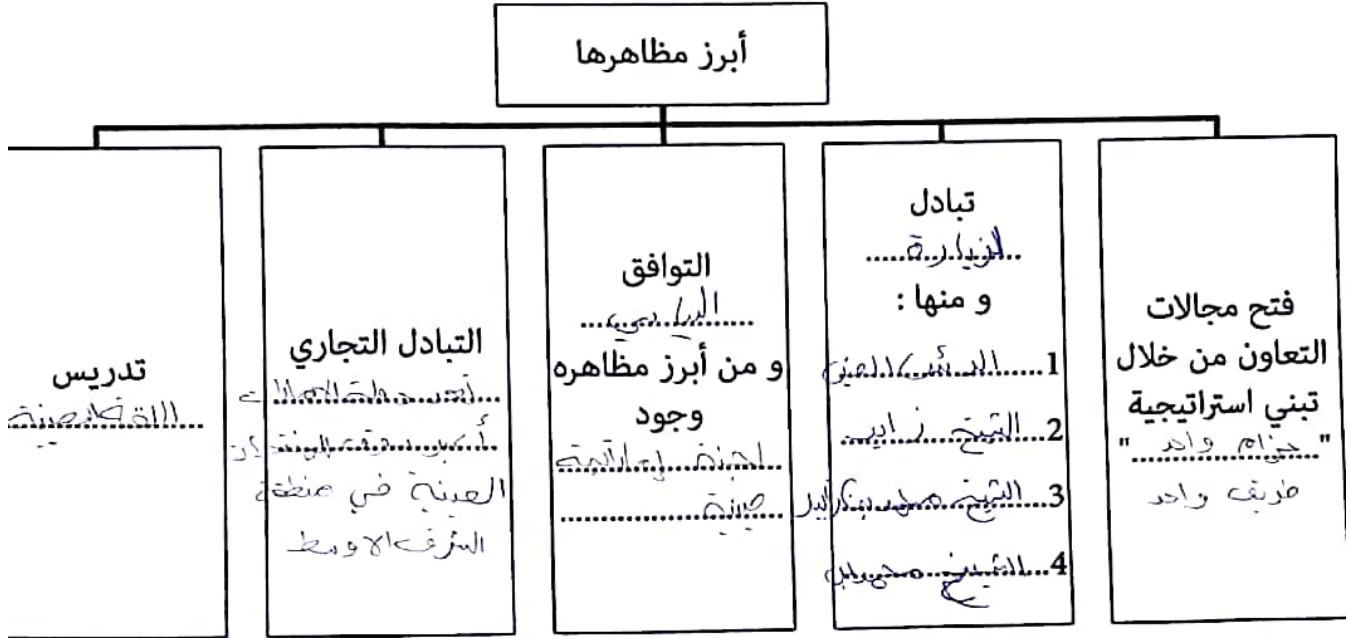
أكملي المخطط الذهني التالي.

الصناعة

أكملي الجملة الآتية بما يناسب .

- ◆ تعد الصين الدولة الخامسة عالمياً في... الإنتاج... و... الأولى عالمياً في صناعة... السيارات... مثل... السيارات... و... الصناعات...

14



www.almanahj.com

وزارة التربية و التعليم م

دائرة التعليم و المعرفة

مدرسة الريم للتعليم البنات حلقة ثانية

اسم الطالبة :

الشعبة :

ورقة عمل مادة الدراسات الإجتماعية
و التربية الوطنية

جمهورية كوريا الجنوبية

الملامح الطبيعية

أكملي الجمل الآتية بما يناسب

◆ تقع جمهورية كوريا الجنوبية في شرق قارة آسيا.

◆ تعد من البلدان المتقدمة ذات التنوع جداً

شهدت شبه الجزيرة الكورية الكثير من النزاعات و الحروب منها :

حرب بين و عام 1950
و انتهت ب..... في عام 1953.

احتلال لليابان عام 1910
دام سنة

تم التواصل إلى عام
.....

الموقع الجغرافي (جمهورية كوريا الجنوبية)

أكملي الجمل الآتية .

◆ تقع في من شبه الجزيرة الكورية .

◆ تزيد مساحتها عن ألف كم مربع .

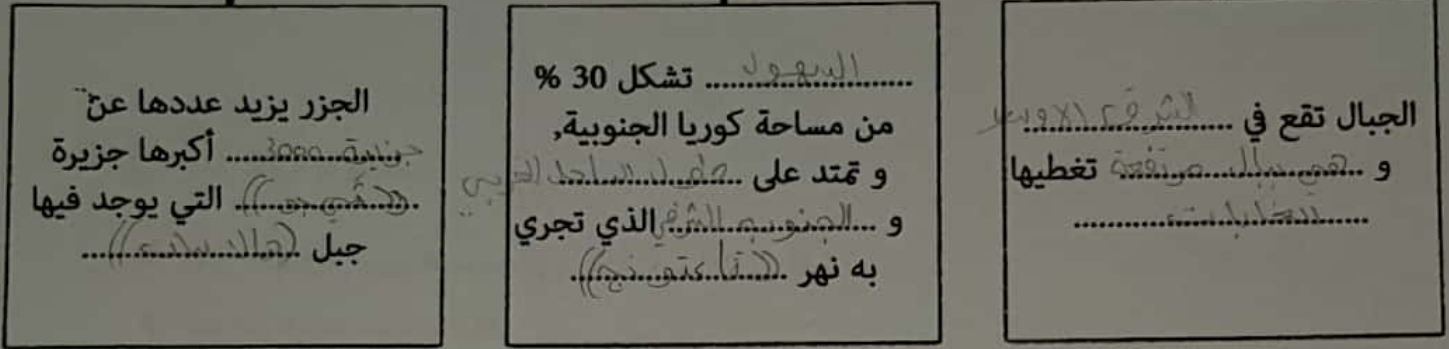
◆ تجاورها مسطحات مائية و دول .

حلي النشاط صفحة 53 من الكتاب المدرسي

أكمل المخطط الذهني التالي.

16

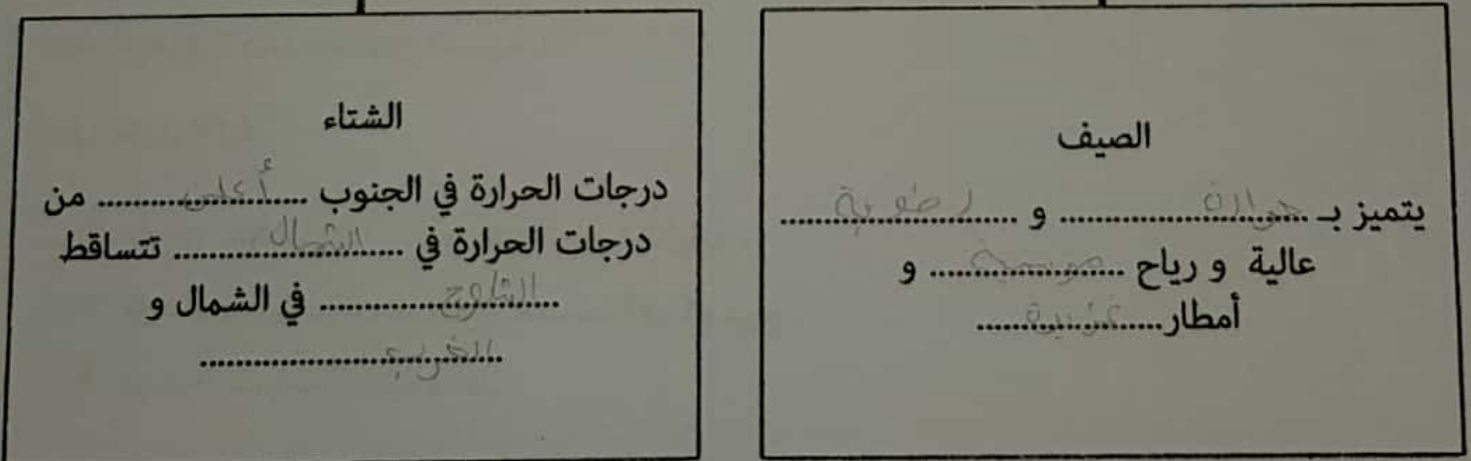
التضاريس



www.almanahj.com

أكمل المخطط الذهني التالي.

المناخ و النبات الطبيعي



اسم الطالبة:
فاطمة محمد

الشعبة:
6D

وزارة التربية و التعليم م

دائرة التعليم و المعرفة

مدرسة الريم للتعليم البنات حلقة ثانية

ورقة عمل لمادة الدراسات الإجتماعية
و التربية الوطنية

جمهورية كوريا الجنوبية

الملامح البشرية

أكملي الجمل الآتية بما يناسب

◆ السكان: يعتقد أنهم من سلالة.....
التي أتت من الشرق

◆ يعيش معظم السكان في.....
السهول الخصبة الضارح

◆ تعد العاصمة.....
أكثر المدن سكاناً.

www.almanahj.com

العوامل المؤثرة في قوة اقتصاد كوريا الجنوبية:

السياسة.....

التقارب بين الشعب
و الحكومة.....

السياسة الخارجية.....

التكنولوجيا

19

ثالثاً العلاقة مع دولة الامارات

مجال التجارة
توقيع:
تقايمة التجار الفني والإداري
المستبدل في المسائل الجمركية
بين الجانبين

مجال الطرقة
مشروع بركة
أسباب اختيار موقع بركة للمشروع
النووي السلمي
1. البعد عن المناطق السكنية
2. تأريخ الزلازل في المنطقة
3. تقوية مواد البناء والعمارة
4. عدم تخطف الدمار البيئي