



مدرسة الحكمة الخاصة
قسم الإعدادي والثانوي بنين

أسئلة عامة لمادة الدراسات الاجتماعية للصف التاسع الفصل الدراسي الأول

www.almanahj.com

إعداد:

سما بنت
مهاجر
مهاجر
مهاجر

مدير المدرسة أ/ عصام أبو سل

منسقة المادة أ/ وفاء حسانين

أسئلة الفصل الدراسي الاول لمادة الدراسات الاجتماعية

السؤال الاول : - اختر الإجابة الصحيحة من بين البدائل لكل عبارة فيما يأتي :

- 1- تساير الحدود السياسية :
أ - خطوط الطول ب - دوائر العرض ج مظاهر السطح د - خطوط الطول ودوائر العرض
- 2 - التكوينات الكلسية الصخرية الصوانية التي تعرضت لعوامل النحت تسمى
أ - الحماد ب - الانكسارات ج - العرق د - الرق
- 3- أعلى قمة جبلية في شبه الجزيرة العربية قمة جبل :
أ - جبير ب - النبي شعيب ج - طوبقال د - هلكرد
- 4- يسود الاقليم المداري في الوطن العربي بشكل عام في المناطق :
أ - الشمالية ب - الشرقية ج - الغربية د - الجنوبية
- 5- من العوامل الداخلية التي أثرت في تضاريس الوطن العربي :
أ - درجة الحرارة ب - البراكين ج - الرياح د - المياه
- 6- المسطح المائي الذي يصل جناحي الوطن العربي هو :
أ - قناة السويس ب - البحر المتوسط ج - الخليج العربي د - البحر الاحمر
- 7- عدد دوائر العرض التي يمتد عليها الوطن العربي :
أ - 50 ب - 39 ج - 49 د - 37
- 8- جبال نتجت عن حركات بطيئة أصابت الصخور فأدت لارتفاع بعضها وانخفاض البعض الآخر هي الجبال:
أ - الالتوائية ب - البركانية ج - الانكسارية د - الشمالية
- 9- أعلى قمة جبلية في دولة الامارات جبل :
أ - حفيت ب - مسافي ج - الحجر د - جيس
- 10 - دائرة العرض الرئيسة التي تقطع أراضي الوطن العربي من الجنوب :
أ - مدار السرطان ب - خط جرينتش ج - خط الاستواء د - مدار الجدي
- 11- يقسم خط الاستواء الأرض إلى قسمين :
أ - شمالي وجنوبي ب - شرقي وغربي ج - شرقي وشمالي د - شرقي وجنوبي

12- التكوينات الرملية مثل بحر الرمال العظيم في مصر يطلق عليها :

أ - الحماد ب - الانكسارات ج -العرق د - الرق

13 - عدد خطوط الطول التي يمتد عليها الوطن العربي :

أ - 88 ب - 77 ج - 66 د - 55
14- يسود اقليم البحر المتوسط في الوطن العربي بشكل عام في المناطق :

أ - الشمالية ب - الشرقية ج - الغربية د - الجنوبية

15- من العوامل الخارجية التي أثرت في تضاريس الوطن العربي :

أ - الزلازل ب - البراكين ج - الالتواءات د - المياه

16 - المسطح المائي الذي يصل جناحي الوطن العربي هو :

أ - قناة السويس ب - البحر المتوسط ج - الخليج العربي د - البحر الاحمر

17 - المسطح المائي الذي يحد الوطن العربي من جهة الغرب :

أ - البحر الاحمر ب - الخليج العربي ج المحيط الاطلنطي د - المحيط الهندي

18- أخفض نقطة عن مستوى البحر في الوطن العربي هو :

أ - الخليج العربي ب - بحر العرب ج - البحر الميت د - المحيط الأطلنطي

19- أعلى قمة جبلية في الوطن العربي جبل :

أ - حفيت ب - طوبقال ج - زاجروس د - جيس

20 - دائرة العرض الرئيسة التي تقطع أراضي الوطن العربي من الوسط :

أ - مدار السرطان ب - خط جرينتش ج - خط الاستواء د - مدار الجدي

21- من امثلة الجبال الانكسارية في الوطن العربي

أ - جبال البحر الاحمر ب جبال اطلس ج - الجبل الاخضر

22- يوجد منخفض القطارة والفيوم في هضبة :

أ - شبه الجزيرة العربية ب - بادية الشام ج - افريقيا الشمالية

23- - من امثلة الجبال الالتوائية في الوطن العربي

أ - جبال البحر الاحمر ب جبال اطلس ج - جبال الامارات

24- يحد الوطن العربي من الشرق الخليج العربي وبحر عمان وجبال :

أ - زاجروس ب- اطلس ج- جبال اللاذقية

25- اصغر دول الوطن العربي مساحة :

أ- جزر القمر ب- البحرين ج- لبنان

26 - اكبر دول الجناح الاسيوي مساحة :

أ- الامارات ب- اليمن ج- السعودية

27- اصغر دول الجناح الأفريقي مساحة :

أ- جزر القمر ب- البحرين ج- لبنان

28- تبلغ مساحة الوطن العربي ما يزيد عنمليون كم:

أ- 10م كم ٢ ب- 14م كم ٢ ج- 9م كم ٢

29- يقع الوطن العربي في نصف الكرة الارضية:

أ- الشمالي ب- الغربي ج- الشرقي

30- من الرياح المحلية التي تهب على جمهورية مصر العربية :

أ- الكوس ب- السموم ج- الخماسين

31- من الرياح المحلية التي تهب على دولة الامارات العربية المتحدة :

أ- الكوس ب- الهبوب ج- الخماسين

32- من العوامل المؤثرة في مناخ الوطن العربي :

أ- الموقع الفلكي ب- التضاريس ج- كل ما سبق صحيح

33- يسود إقليم البحر المتوسط في الوطن العربي في :

أ- الصحراء الكبرى ب- جنوب السودان ج- سواحل بلاد المغرب وبلاد الشام

34- من امثلة السهول الفيضية في الوطن العربي :

أ- سهول البحر المتوسط ب- سهول النيل ج- سهول الخليج العربي

35- من امثلة السهول الساحلية في الوطن العربي :

أ- سهول دجلة والفرات ب- سهول النيل ج- سهول جوبا وشبيلي

36- تنتشر في دولة الامارات نباتات حولية ومعمرة مثل :

أ- القطن ب- الغاف والسدر ج- الكاكو

37- يقع الوطن العربي في نصف الكرة الأرضية الشمالي باستثناء الجز الجنوبي من الصومال و جزر:

أ- السعديات ب- القمر ج- داس

38- من مزايا التجارة الداخلية :

أ- سهولة انتقال عناصر الإنتاج ب- وحدة النظام النقدي ج- كل ما سبق صحيح

39- عمليات البيع والشراء بين المنتجين والمستهلكين من خلال شبكة الانترنت يسمى :

أ- التجارة الداخلية ب- التجارة الالكترونية ج- التجارة الدولية

40- من امثلة البضائع الدولية :

أ- النفط ب- السيارات ج- الملابس الوطنية

41- من العملات التي تحظى بقبول عام لدى دول العالم :

أ- الروبية الهندية ب- الدولار الأمريكي ج- الليرة السورية

42- من العملات التي لا تحظى بقبول عام لدى دول العالم :

أ- اليورو الاوروبي ب- الدولار الأمريكي ج- البيسو الفلبيني

43- السلعة التي تأتي في المرتبة الأولى في السلع المستوردة غير النفطية في دولة الإمارات هي:

أ- الذهب الخام ونصف المشغول ب- الهواتف ج- السيارات

44- من مزايا التجارة الدولية :

أ- تشغيل الأيدي العاملة ب- قدرة الدول على تصريف المنتجات الزائدة ج- أ و ب معا

45- ظهرت التكتلات الاقتصادية بعد الحرب العالمية

46 أ- الأولى ب- الثالثة ج- الثانية

47- من اشهر المناطق الحرة في دولة الامارات عالميا :

أ- جبل علي ب- الحميرية ج- ميناء خليفة

48- اقرت الاتفاقية الاقتصادية الموحدة لدول مجلس التعاون عام :

أ- 1980 ب- 1982 ج- 1981

49- من اشكال التكتلات الاقتصادية :

أ- الاتحاد الأوربي ب- السوق المشتركة ج- اتفاقية الجات

50- اقرت الاتفاقية الاقتصادية الموحدة لدول مجلس التعاون عام 1981 في مدينة :

أ- جدة ب- ابوظبي ج- الرياض

51- اقرت اتفاقية الاتحاد الأوربي عام :

أ- 1990 ب- 1991 ج- 1981

- 52- الدولة التي انفصلت عن الاتحاد الأوربي نتيجة للاستفتاء الذي اجري عام 2016 :
- أ- فرنسا ب- 1 ألمانيا ج- المملكة المتحدة
- 53- عدد الدول الأعضاء في منظمة التجارة العالمية :
- أ- 135 ب- 125 ج- 129
- 54- اقرت اتفاقية الاتحاد الأوربي في مدينة :
- أ- ماستريخت ب- باريس ج- لوكسمبورج
- 55- انضمت دولة الامارات الى اتفاقية الجات عام :
- أ- 1990 ب- 1991 ج- 1995
- 56- اصبح اليورو العملة الرسمية للاتحاد الأوربي عام :
- أ- 2000 ب- 2001 ج- 2002
- 57- صدر دستور دولة الامارات العربية المتحدة في الثاني من ديسمبر عام :
- أ- 1971 ب- 1972 ج- 1973
- 58- اصبح دستور دولة الامارات العربية المتحدة في عام 1996م :
- أ- دائما ب- مؤقتا ج- ليتغير كل سنة
- 59- يتكون الدستور من (125) مادة موزعة على عدد من الأبواب تبلغ :
- أ- 10 ب- 12 ج- 20
- 60- حدثت حرب أكتوبر 1973م بين إسرائيل و :
- أ- ليبيا وتونس ب- مصر وسوريا ج- العراق والكويت
- 61- شاركت دولة الامارات في عملية إعادة الامل لدولة :
- أ- السودان ب- المغرب ج- اليمن
- 62- دولة خليجية شاركت دول مجلس التعاون الخليجي في حفظ السلام واستقرار امنها عام 2011م :
- أ- مملكة البحرين ب- اليمن ج- مصر
- 63- تعرضت الكويت عام 1990م للغزو :
- أ- الفرنسي ب- العراقي ج- الإنجليزي
- 64- تم اطلاق مدينة الملك عبدالله الاقتصادية في :
- أ- دبي ب- أبو ظبي ج- جدة

65- تحلية المياه والتقنيات من مشاريع :

أ- التجارة ب- الطاقة ج- السياحة

66- وقعت دولة الامارات والسعودية على محضر المجلس التنسيقي الاماراتي السعودي في مدينة :

أ- جدة ب- الشارقة ج- الرياض

67- شارك الشيخ محمد بن زايد في افتتاح المركز العالمي لمكافحة الفكر المتطرف في مدينة الرياض الذي اطلق

عليه اسم:

أ- اعتدال ب- أنصاف ج- أفعال

68- من مقومات السياحة في الامارات والسعودية:

أ- الأمن والاستقرار ب- الموقع الجغرافي ج- أوب معا

69- صاحب مقولة النفط العربي ليس بأعلى من الدم العربي:

أ- الشيخ محمد بن راشد ب- الشيخ زايد بن سلطان ج- الشيخ خليفة بن زايد

70- الخدمات التي تؤدي للغير تسمى :

أ- الصادرات غير المنظورة ب- الواردات غير المنظورة ج- التجارة الداخلية

71- يمتد الوطن العربي في قارتي : www.almanahj.com

أ- أوروبا واسيا ب- اسيا وافريقيا ج- افريقيا وأوروبا

72- تقع دولة الامارات بين دائرتي عرض (.....) درجة شمال خط الاستواء

أ- (22 - 26.5) ب- (25 - 26.5) ج- (27 - 26.5)

73- تقع دولة الامارات بين خطي طول (.....) درجة شرق خط جرينتش

أ- (55 - 56.5) ب- (51 - 56.5) ج- (57 - 66.5)

74- تقع دولة الامارات ضمن إقليم المناخ :

أ- البحر المتوسط ب- الاستوائي ج- الصحراوي الحار

75- تسقط الامطار على دولة الإمارات شتاء بسبب هبوب الرياح

أ- التجارية الجنوبية الشرقية ب- الشمالية الباردة الجاف ج- العكسية الشمالية الغربية القادمة من البحر المتوسط

76- يقع إقليم برقة في طرابلس ضمن إقليم المناخ :

أ- البحر المتوسط ب- المداري ج- الصحراوي الحار

77- أي من التالي ليست من مزايا التجارة الدولية :

أ- تشغيل عدد كبير من الايدي العاملة ب- قدرة الدولة على تصريف المنتجات الزائدة ج- وحدة النظام النقدي

78- المنطقة الحرة تنظيم اقتصادي يهدف إلى تبادل السلع بين الدول :

أ- المنتجة ب- المصدرة ج- الأعضاء في التنظيم د - المستوردة

97- أي من التالي ليست من مزايا التجارة الداخلية :

أ- سهولة انتقال عناصر الإنتاج ب- قدرة الدولة على تصريف المنتجات الزائدة ج- وحدة النظام النقدي

80- السلعة التي تأتي في المرتبة الثانية في السلع المستوردة غير النفطية في دولة الإمارات هي:

أ- الذهب الخام ونصف المشغول ب- الهواتف ج- السيارات د - الطائرات

81- قارن بين كل من حسب معطيات الجدول التالي :

أوجه المقارنة	الجمال الالتوائية	الجمال الانكسارية
المفهوم		
مثال من الوطن العربي		

أوجه المقارنة	التجارة الداخلية	التجارة الدولية
المفهوم		
اهم المميزات		

قارن بين كل من حسب معطيات الجدول التالي

وجه المقارنة	مناخ البحر المتوسط	المناخ المداري	المناخ الصحراوي
الجهات التي يسود فيها			
المميزات المناخية			
نوع النبات الطبيعي			

أوجه المقارنة	السوق المشتركة	المنطقة الحرة
المفهوم		
اهم المميزات		

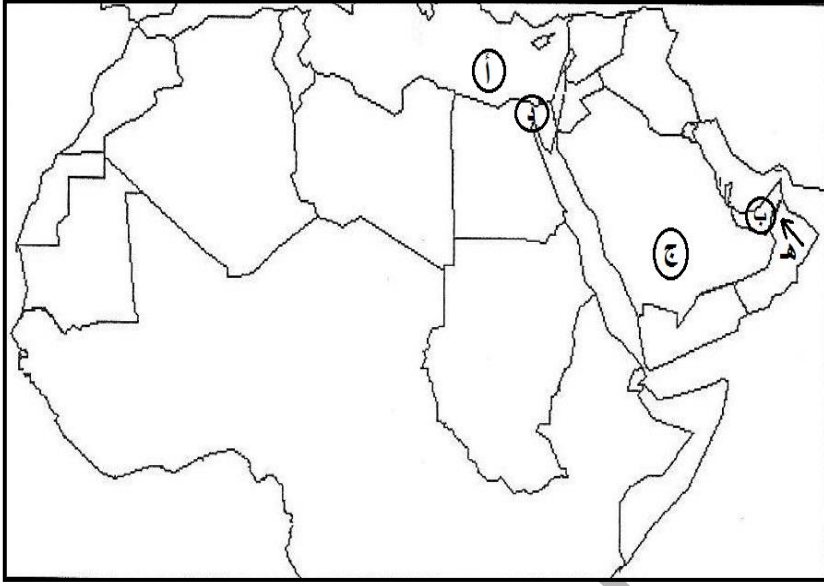
أوجه المقارنة	اتفاقية الجات	الاتفاقية الاقتصادية الموحدة
أوجه التشابه		
أوجه الاختلاف		

82- اختر اسم المصطلح العلمي المناسب من بين الأقواس واكتبه أمام العبارة المناسبة مما يلي :

- (الموقع الفلكي — الحماد — الحدود السياسية — الرق — السهول الساحلية — الإقليم المناخي — العرق)
 (الوطن العربي — الجبال الانكسارية — السهول الفيضية — الرياح المحلية — التجارة الدولية — الضريبة — الدستور)
 (التجارة الداخلية — المعاهدة التجارية — المطقة الحرة — السوق المشتركة — التضامن العربي)

المصطلحات	التعريف
	تلك المساحة التي تقع في جنوب غرب قارة اسيا و شمال قارة افريقيا
	الحدود التي تساير خطوط الطول ودوائر العرض وهي من صنع البشر
	موقع المكان بالنسبة لدوائر العرض وخطوط الطول
	الجبال التي نتجت عن حركات بطيئة اصابها الصخور الصلبة فأدت لارتفاع بعضها وانخفاض الاخر
	التكوينات الكلسية الصخرية الصوانية التي تعرضت لعوامل التعرية
	التكوينات الحصوية كما في شرق ليبيا ووسط صحراء الجزائر
	اشرطة رملية متعرجة من الكثبان الرملية مثل بحر الرمال العظيم في مصر
	السهول التي تكونت بفعل الارسابات النهرية
	الاراضي المنبسطة المطلة على المسطحات المائية
	جزء من سطح الارض له خصائص مناخية تميزه عن غيره
	رياح ذات طابع واثر محلي تتكون نتيجة لاختلاف الحرارة بين اليابس والماء
	تبادل السلع والخدمات عبر الحدود الدولية
	تبادل السلع والخدمات داخل الدولة
	تنظيم اقتصادي يهدف الى حرية تبادل المنتجات الوطنية بين الدول الاعضاء ودول اخرى
	مبلغ نقدي تفرضه الدول على بعض السلع لمحاربة السلع الضارة كالسجائر
	منظمة اقتصادية اقليمية تأسسها حكومات الدول لوضع ضوابط تسهل المعاملات التجارية
	مجموعة من القواعد والقوانين التي تحدد نظام الحكم في الدولة وتنظم السلطات العامة في الدولة
	تعاون ومساندة الدول بعضها البعض لما فيه مصلحتها المشتركة عن طريق الاتفاقيات المختلفة

83- اكتب دلالات الأحرف الموضحة على خريطة الوطن العربي في الفراغات التالية :



أ - مسطح مائي

ب - دولة عربية

ج - هضبة

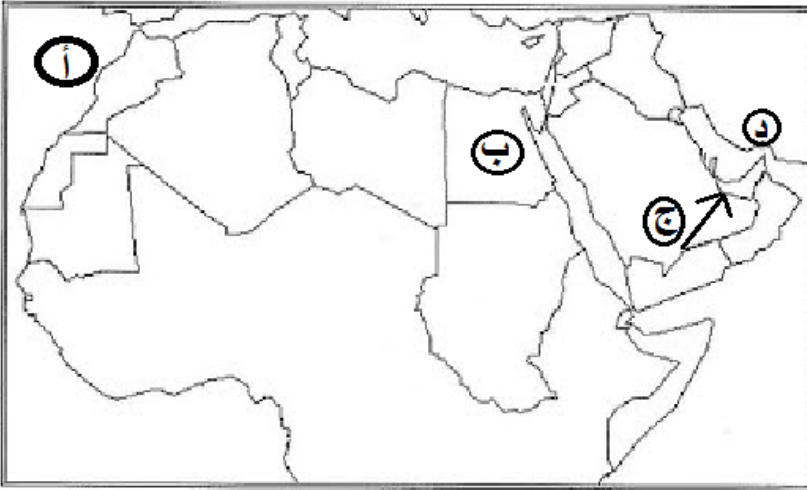
د - قناة

هـ - رياح محلية

و - ارسم مدار السرطان على الخريطة

www.almanahj.com

84- اكتب دلالات الأحرف الموضحة على خريطة الوطن العربي في الفراغات التالية :



أ - مسطح مائي

ب - دولة عربية

ج - رياح محلية

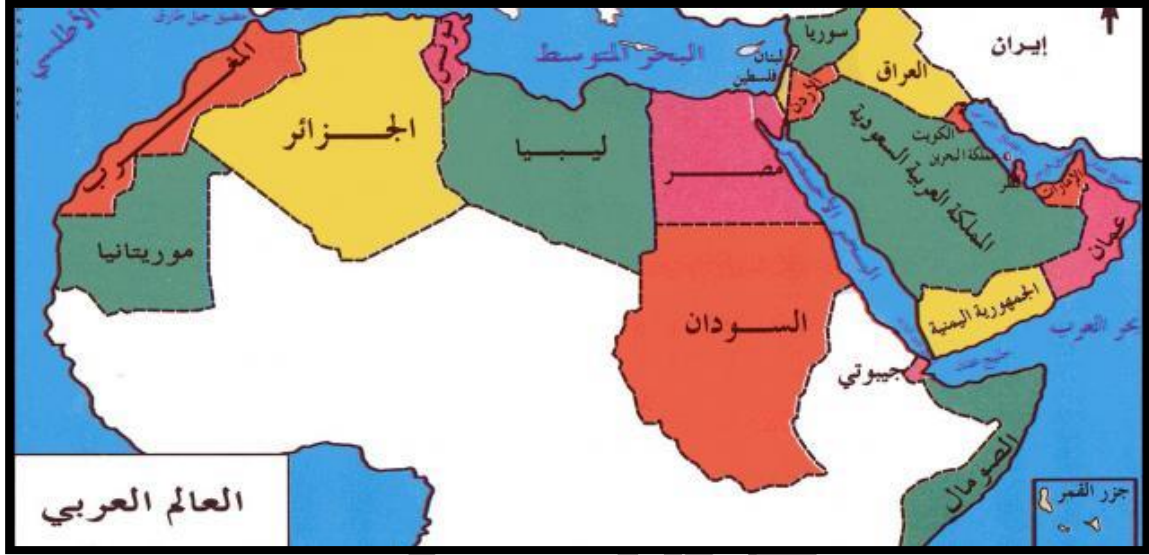
د - مضيق

هـ - ارسم خط الاستواء على الخريطة

— استخلص من خريطة الوطن العربي نتيجتين اثنتين ترتبنا على اتساع مساحة الوطن العربي؟

.....
.....

85- تأمل خريطة الوطن العربي التي امامك ثم اجب عن الأسئلة التي تليها :



- يحد الوطن العربي من الشمال وجبال
- يحد الوطن العربي من الجنوب المحيط وجزء من الصحراء
- المضيق الذي يربط الخليج العربي وبحر عمان يسمى مضيق
- المسطح المائي الذي يصل جناحي الوطن العربي هو
- يحد الوطن العربي من الغرب المحيط
- تقع دولة الامارات بالنسبة للوطن العربي جهة
- عدد الدول العربية في الجناح الاسيوي دولة
- عدد الدول العربية في الجناح الافريقي دولة
- يحد الوطن العربي من الشرق بحر عمان و الخليج وجبال
- دائرة العرض التي تقطع أراضي الوطن العربي من الجنوب
- دائرة العرض التي تقطع أراضي الوطن العربي من الوسط
- من خلال الخريطة وضح أهمية الوطن العربي؟
-
-
-

من مزايا التجارة الالكترونية

سرعة انجاز المعاملات

من مجالات التجارة الالكترونية

الملابس

من عوامل التخصص في الإنتاج

اختلاف توزيع الموارد

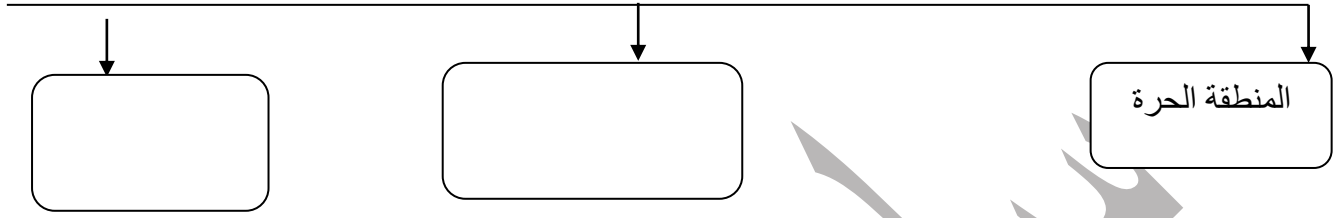
تأخذ حركة انتقال الافراد عبر الحدود السياسية عدة اشكال منها

الحرفيون من المهن
المختلفة

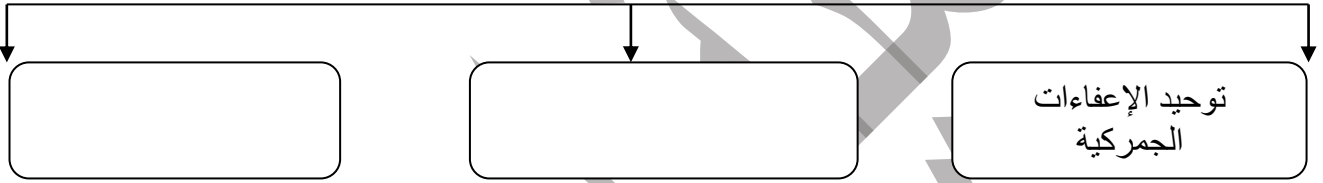
من اشكال التبادل التجاري

تبادل السلع والخدمات

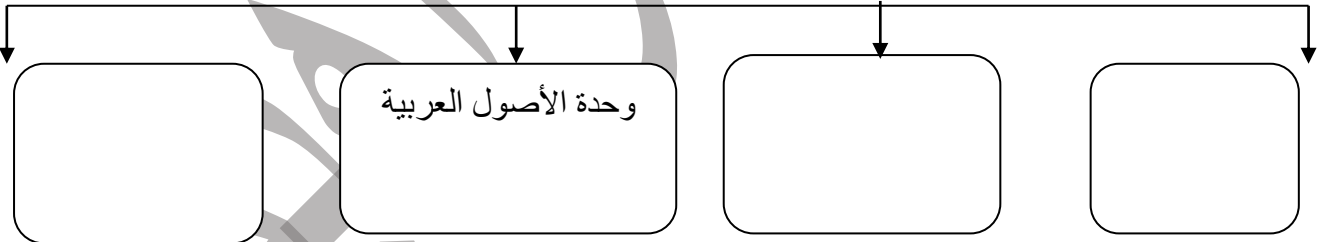
من اشكال التكتلات الاقتصادية



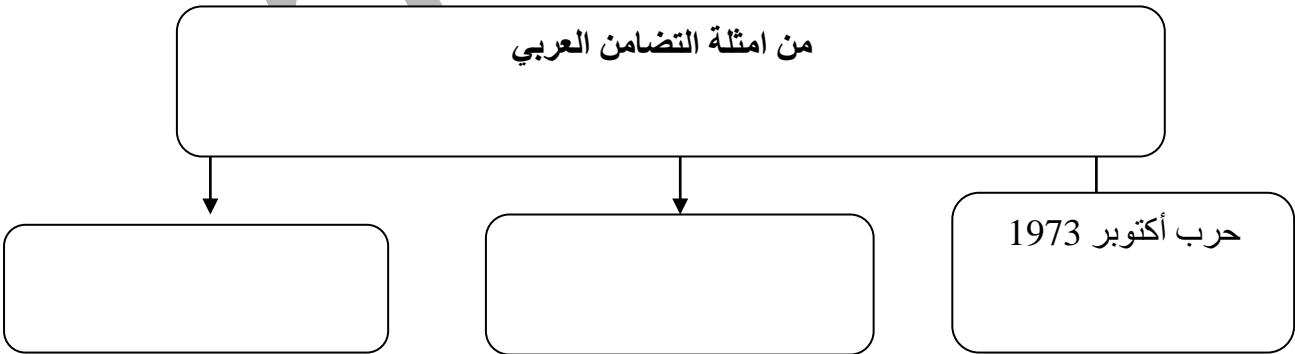
من اهم بنود المعاهدة التجارية



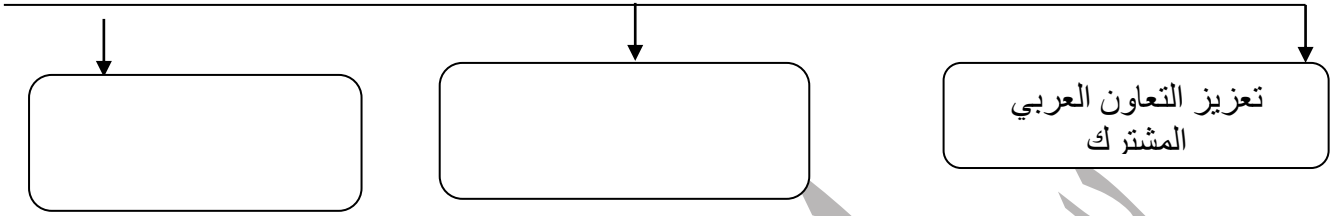
من اهم مقومات الاقتصادية بين دول مجلس التعاون



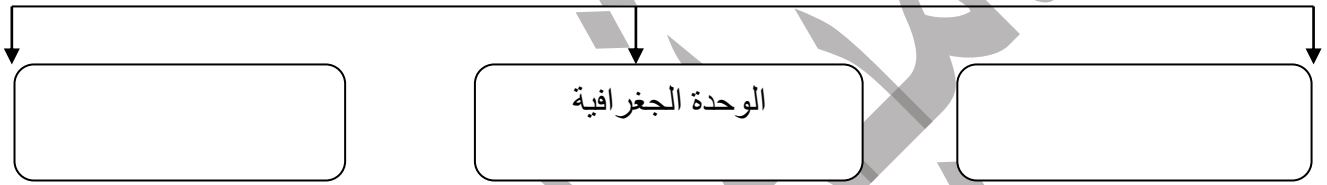
من امثلة التضامن العربي



من اهداف التضامن العربي

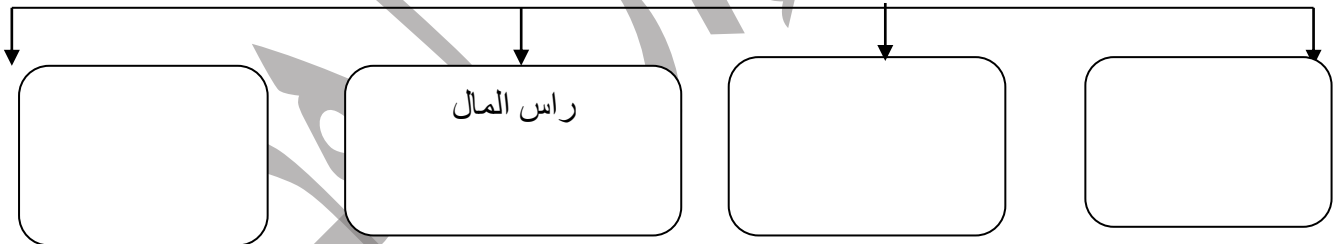


من عوامل التضامن العربي

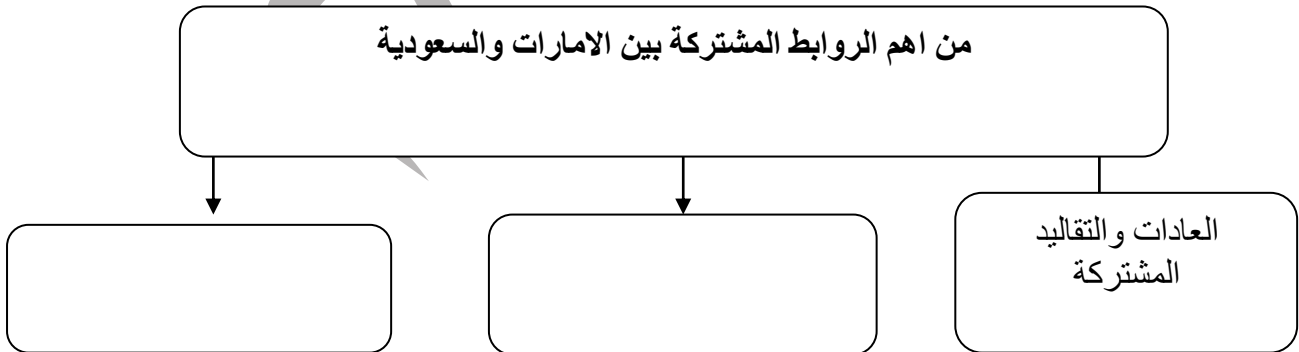


من اهم مقومات السياحة في دولة الامارات والمملكة العربية السعودية

www.almanahj.com



من اهم الروابط المشتركة بين الامارات والسعودية



87 - أفسر الآتي : (أذكر سببا) :

- غنى الوطن العربي بالثروات المعدنية ؟

- تنوع مناخ الوطن العربي ؟

- سقوط الامطار على دولة الإمارات العربية المتحدة شتاء ؟

- أهمية الوطن العربي الاقتصادية ؟

- تعد تضاريس الوطن العربي عاملا من عوامل التكامل الجغرافي في الوطن العربي ؟

www.almanahj.com

- وقوع الجزء الأكبر من الوطن العربي ضمن المناخ الصحراوي ؟

- تنوع الموارد والثروات الاقتصادية في الوطن العربي ؟

- يعد الوطن العربي طريقا هاما للتجارة الدولية ؟

- تعد ارض الوطن العربي وحدة واحدة لا انقطاع بينها ؟

- سقوط الامطار على اليمن صيفا ؟

88— أفسر الآتى : (أذكر سببا) :

— عدم قدرة الدولة بمفردها على تحقيق الاكتفاء الذاتي لاحتياجاتها كلها ؟

— صعوبة انتقال عناصر الإنتاج بين الدول

— أهمية التجارة الدولية ؟

— تزايد الرغبة الى انشاء التكتلات الاقتصادية بين الدول بعد الحرب العالمية الثانية ؟

— وضع ضوابط من قبل الدولة على المناطق الحرة ؟

— اهتمام دولة الامارات بإقامة مناطق تجارية حرة على أراضيها ؟

— يعد الاتحاد الأوروبي من اهم التكتلات الاقتصادية المعاصرة ؟

— انضمام دولة الامارات لاتفاقية الجات

— أهمية الدستور في الدولة

— اعتبار اللغة العربية اللغة الرسمية للدولة ؟

— قيام الشراكة الاقتصادية الإماراتية السعودية ؟

— اطلاق عاصفة الحزم ؟

89 أجب عن الأسئلة التالية:

- من نتائج حرب أكتوبر 1973م

..... —

- من مخططات اعداء الامة العربية لإعاقة العمل العربي ؟

..... —

- اهداف الشراكة الامنية بين الامارات والسعودية ؟

..... —

- اهمية الدستور للدولة

..... —

www.almanahj.com

- اهمية الدستور للمواطن ؟

..... —

- (المواطنة مسؤولية :المواطن الصالح يمتلك حسا اجتماعيا عاليا يتضمن ذلك :) ؟

..... —

- ايهما يعتبر مصدرا للآخر الدستور ام القوانين

..... —

- ما هي حقوقي في الدستور ؟

..... —

- ما هي واجباتي تجاه الدستور ؟

..... —

90- : اقرأ النص الآتي ثم أجب عن الأسئلة التي تليه:

الحياة فرص ، والفرص الكبيرة من يريد لها عليه ان ينتزعها لشعبه وعلى النسان ان يتسلح بروح القوة وصلابة الارادة والعزيمة والرغبة في انتزاع الفرص الكبية كل ما وصلنا لأشيء بالنسبة لرؤيتي كل ما ترونه ليس الا بداية الطريق وكل ما ترونه مجرد لبنات القاعدة التأسيسية لما هو قادم سنصنع **الصرح الكبير** الذي اريده لشعبي لكي نبني التنمية المتميزة وهذه يد الامارات بيدكم فلنبدأ اعرف ان الطريق الى ما نخطط له من التنمية والتحديث والبناء شاق واعرف انه طويل واعرف ان المراحل القادمة اصعب واطول واهم ولكنني أومن بربي ثم أثق بشعبي وبحكمة قيادتي وبمستقبل امتي وانا واثق من اننا سنحقق كل اهدافنا بإذن الله رؤيتنا واضحة وطريقنا ممهد والساعة تدق ولم

- أحدد الفكرة الرئيسية في النص
حد المقصود (الصرح الكبير) الذي أراده الشيخ محمد بن راشد - رعاه الله

استنتج الهدف الذي يسعى لتحقيقه الشيخ محمد بن راشد . - رعاه الله

- استخلص ثلاث صفات يتمتع بها صاحب السمو الشيخ محمد بن راشد - رعاه الله

حل النص الآتي ثم اجب عن الأسئلة التي تليه
www.almanahj.com

كان الوطن العربي مسرحا للعديد من الاحداث والاطماع الاجنبية ومنها بريطانيا التي استعمرت كلا من مصر وقد دخلتها سنة 1882م وخرج منها آخر جندي بريطاني سنة 1954م والعراق وقد دخلتها سنة 1918م وخرجت منها سنة 1921م واليمن الجنوبي بعد قيام ثورة أكتوبر 1963م ومنطقة الخليج العربي الذي تواجد فيه الاحتلال البريطاني حتى السبعينيات من القرن لماضي والصومال خرج منها الاستعمار البريطاني سنة 1960م والسودان دخلها الاستعمار وانتهى بإعلان الاستقلال سنة 1956م

- استنتج الفكرة الرئيسية في النص

مثل بيانيا (بطريقة الاعمدة) سنوات التحرر لكل من
(مصر - العراق - اليمن - الصومال)

