

صلي المصطلح بالمعنى المناسب:-

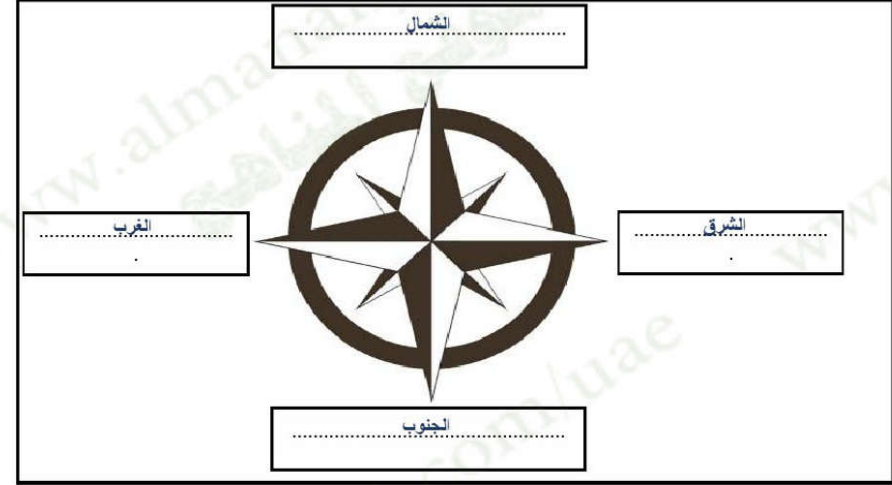
أي موقع جسم ما على سطح الكرة الأرضية.	الموقع النسبي
موقع المكان بالنسبة لخطوط الطول ودوائر العرض.	الموقع الجغرافي
هو خط الطول الرئيسي [خط الصفر] ويقسم العالم إلى نصفين متساويين.	خطوط الطول
هي عبارة عن خطوط وهمية ترسم على نموذج الكرة الأرضية وتبدو على شكل دوائر تامة.	خط جرينيتش
هو دائرة العرض الرئيسية، وتقسم العالم إلى نصفين	الموقع الفلكي
هي خطوط طولية يوازي بعضها البعض.	دوائر العرض
موقع المكان بالنسبة لليابسة والماء.	خط الاستواء

ضعي إشارة (✓) عند الإجابة الصحيحة وإشارة (x) عند الإجابة الخاطئة:

1. ( ✓ ) اللون الأخضر يمثل اليابسة في الكرة الأرضية.
2. ( ✓ ) اللون الأزرق يمثل البحار والمحيطات في الكرة الأرضية.
3. ( x ) المجموعة الشمسية: هي جميع الأجسام التي تدور حول القمر.
4. ( ✓ ) تقسم الخطوط الطولية للأرض إلى 180 خطاً شرقاً و 180 غرباً.
5. ( ✓ ) يقسم العالم إلى 24 منطقة زمنية اعتماداً على خط جرينيتش.
6. ( x ) يقع مدار السرطان في جنوب خط الاستواء عند دائرة عرض 23.5 جنوباً.
7. ( x ) يقع مدار الجدي في شمال خط الاستواء عند دائرة عرض 23.5 شمالاً.

ضعي الإجابة الصحيحة ما بين القوسين في المكان المناسب في الرسم التالية: (الشمال – الشرق –

الغرب – الجنوب)



إختاري الإجابة الصحيحة:

1. هي نقاط الاستدلال الجغرافية الأربع وهي الشمال والجنوب والشرق والغرب.  
(الموقع النسبي – خطوط الطول – الجهات الأصلية)
2. تقسم خطوط الطول على الأرض إلى ..... خط طول.  
(360 – 180 – 120)
3. يقسم ..... العالم إلى نصفين متساويين.  
(الموقع النسبي – خطوط الطول – خط جرينيتش)
4. هي عبارة عن خطوط وهمية ترسم على نموذج الكرة الأرضية وتبدو على شكل دوائر تامة.  
(الموقع النسبي – خطوط الطول – دوائر العرض)

5. .... هو دائرة العرض الرئيسية، وتقسّم العالم إلى نصفين.

(الموقع النسبي - خط الاستواء - خط جرينتش)

6. يقع مدار السرطان عند دائرة عرض .....

(23.5 شمالاً - 23.5 جنوباً - 90 شمالاً - 90 جنوباً)

7. يقع مدار الجدي عند دائرة عرض .....

(23.5 شمالاً - 23.5 جنوباً - 90 شمالاً - 90 جنوباً)

#### عددي الجهات الفرعية؟

1. .... الشمال الشرقي.....	2. .... الشّمال الغربي.....
3. .... الجنوب الشرقي.....	4. .... الجنوب الغربي.....

لوني الإجابة الصحيحة:- يقسم خط جرينتش العالم إلى نصفين متساويين هما:

شمالي	شرقي
غربي	جنوبي

لوني الإجابة الصحيحة:- يقسم خط الاستواء العالم إلى نصفين متساويين هما:

شمالي	شرقي
غربي	جنوبي



- أَلَوْنُ القَارَاتِ بِاللُّوْنِ ● وَالْبَحَارَ وَالْمُحِيطَاتِ بِاللُّوْنِ ● عَلَى خَرِيطَةِ العَالَمِ.



- اَسْتَكْمِلْ أَسْمَاءَ القَارَاتِ وَالْمُحِيطَاتِ وَفُقِّ الجَدُولِ الآتِي:

العَدَدُ	القَارَاتُ	المُحِيطَاتُ
1	القَارَةُ القُطْبِيَّةُ الجَنُوبِيَّةُ	المُحِيطُ المَتَجَمِّدُ السَّمَالِي
2	قارة آسيا	المحيط الهادي
3	قارة أوروبا	المحيط الهندي
4	قارة أفريقيا	المحيط الأطلسي
5	قارة أمريكا الشمالية	
6	قارة أمريكا الجنوبية	
7	قارة أستراليا	
المجموع	عَدَدُ القَارَاتِ 7.....	عَدَدُ المُحِيطَاتِ 4.....



## أدرج وأستكشف

- أتاَمَلْ الخَرِيْطَةَ السِّيَاسِيَّةَ لِقَارَةِ آسِيَا، ثُمَّ أَجِيبْ عَمَّا تَأْتِي:



خَرِيْطَةُ آسِيَا السِّيَاسِيَّةِ

- 1- تَقَعُ اليابَانُ فِي قَارَةِ آسِيَا.....
- 2- يَجِدُ قَارَةَ آسِيَا مِنْ جِهَةِ الشَّمَالِ المُحِيْطَ المُتَّجِدَ الشَّمَالِي
- 3- تَطُلُّ الهِنْدُ مِنْ جِهَةِ الجَنُوبِ عَلى المُحِيْطِ الهِنْدِي.....
- 4- تُجاوِزُ دَوْلَةُ الصِّينِ مِنْ جِهَةِ الشَّمَالِ دَوْلَةَ مَنغُولِيَا.....

- أَشْتَتِيحُ أَهْمِيَّةَ الخَرِيْطَةِ السِّيَاسِيَّةِ:

لتعرف على أسماء الدول وحدودهاز



## أخبرني معلومات

- أَشْتَكْمِلُ الأشْكَالَ الآتِيَةَ بِالْكَلِمَاتِ المُناسِبَةِ لَهَا: [جرينتش - الطول - الموقع الفلكي]



يُطلَقُ عَلَيْهَا خُطُوطُ  
الاستواء

## أحدد وألون

- أَحَدِّدْ عَلى الخَرِيْطَةِ:  
خُطَّ الطُّولِ الرَّئِيسِ بِاللَّوْنِ

## أفكر وأحسب

- أَتَوَصَّلُ إِلَى العَمَلِيَّةِ الحِسابِيَّةِ الآتِيَةِ:  
- أَحْمَعُ خُطُوطَ الطُّولِ: 180 خطًا شرقًا

180 خطًا غربًا

المجموع 360 خطًا طولًا

## ما أهمية خطوط الطول؟


تساعدنا في تحديد المواقع الجغرافية والزمن.





ضعي الإجابة الصحيحة ما بين القوسين في المكان المناسب في الرسم التالية: (دوائر العرض - خط

الاستواء)



دوائر العرض

خط الاستواء

ما أهمية دراسة دوائر العرض؟

نستطيع من خلالها أن نحدد مواقع الدول والمناطق المختلفة، ونتعرف على المناخ والنبات الطبيعي.



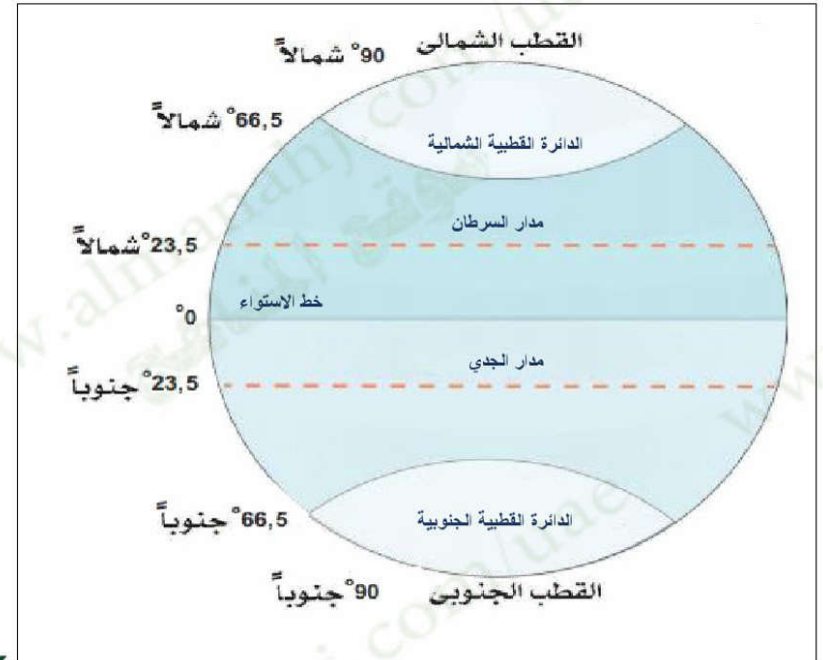
الأجظ وأجيب

- أضع علامة (✓) أمام العبارة الصحيحة وعلامة (x) أمام العبارات غير الصحيحة فيما يلي:

- 1- يقع مدار السرطان في نصف الكرة الجنوبي. [ x ]
- 2- يُقسّم خط الاستواء الكرة الأرضية إلى نصفين شمالي وجنوبي. [ ✓ ]
- 3- مدار الجدي يقع شمال خط الاستواء. [ x ]
- 4- تُعرف دائرة العرض الرئيسية بخط جرينتش. [ x ]
- 5- يُمثّر خط الاستواء عند دائرة عرض صفر. [ ✓ ]
- 6- القطب الشمالي عند دائرة عرض 23,5 شمالاً. [ x ]

ضعي الإجابة الصحيحة ما بين القوسين في المكان المناسب في الرسم التالية: (مدار السرطان- مدار

الجدي - الدائرة القطبية الشمالية - الدائرة القطبية الجنوبية - خط الاستواء)



أختبر معلوماتي  
- أَسْتَكْمِلُ الْمُحَظَّظَ الذَّهَبِيَّ الْآتِي:

المَوْجِعُ الجُغْرَائِيُّ

المَوْجِعُ الفَلَكِيُّ هُوَ:  
مَوْجِعُ المَكَانِ بِالنَّسْبَةِ إِلَى

المَوْجِعِ النَّسْبِيِّ هُوَ:  
مَوْجِعُ المَكَانِ بِالنَّسْبَةِ إِلَى



القارات

الدول



خطوط الطول

دوائر العرض